



آکادمی آنلاین تیزلاین قوی ترین پلتفرم آموزشی تیز هوشان

برگزار کننده کلاس های آنلاین و حضوری تیز هوشان ✓

و المپیاد از پایه چهارم تا دوازدهم

آزمون های آنلاین و حضوری ✓

مشاوره تخصصی ✓

با اسکن QR کد روبرو
وارد صفحه اینستاگرام
آکادمی تیزلاین شو و از
محتواهای آموزشی
رایگان لذت ببر



برای ورود به صفحه اصلی سایت آکادمی تیزلاین کلیک کنید

برای دانلود دفترچه آزمون های مختلف برای هر پایه کلیک کنید

برای مطالعه مقالات بروز آکادمی تیزلاین کلیک کنید





۱- جاهای خالی را کامل کنید.

- الف- ۴ هزار تایی، ۶ یکی، ۹ ده تایی و ۰ صدتایی می شود :.....
- ب- با می توانیم زاویه ی راست را تشخیص دهیم .
- پ- ۴۵۰۰ ریال همان تومان است .
- ج- ۶۷۰۰ گرم یعنی کیلو گرم و گرم
- د- ۱۲۸ سانتی متر یعنی متر و سانتی متر

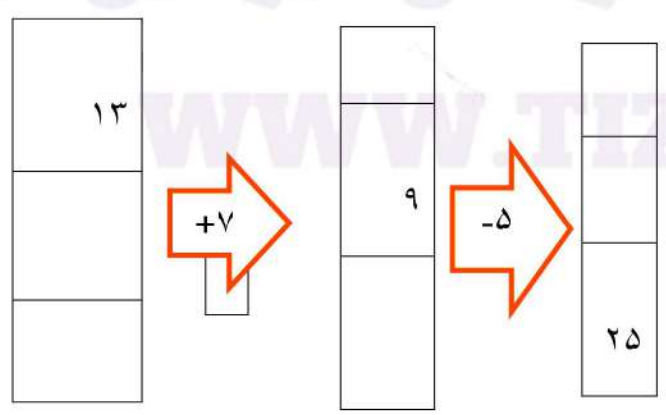
۲- الگوهای زیر را ادامه بدهید.

۴، ۸، ۱۲،،،،
 ۱۱۰۰، ۲۱۰۰، ۳۱۰۰،،،
،، ۵۶۰۰، ۵۸۰۰، ۶۰۰۰،

۳- جدول زیر را کامل کنید.

زمان	۱۵		بیست و ربع	۲۳:۳۰۰
بعد از ظهر			۲:۳۰	

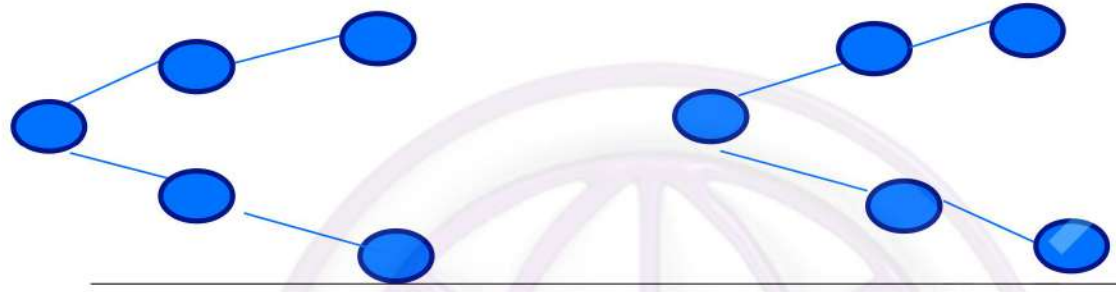
۴- در جاهای خالی عدد مناسب بنویسید.



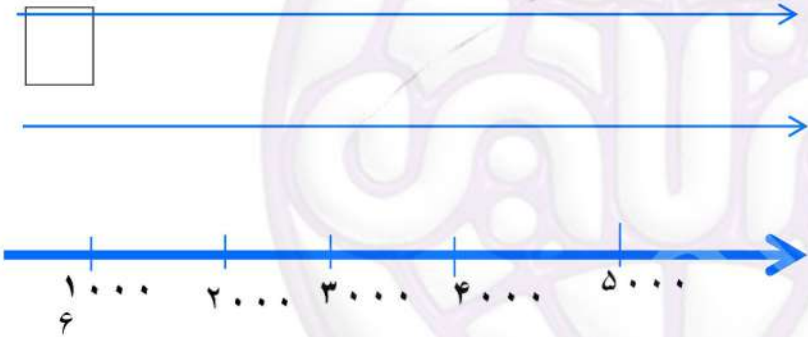
ادامه سوالات در صفحه بعد



۵- تمام عددهای ۳ رقمی که رقم صدگان آن ۸ و ۲ و رقم دهگان آن ۸ و ۰ و رقم یکان آن ۴ باشد را بنویسید.



۶- عددها را روی محور نشان دهید.




۲ واحد کامل و $\frac{3}{4}$

$\frac{1}{4}$ واحد مانده به عدد ۳

عدد ۴۸۰۰ و ۲۲۰۰

۷- امیر $\frac{4}{8}$ پول خود را و رضا $\frac{2}{6}$ پول خود را صدقه دادند. با کشیدن شکل نشان دهید کدام یک از آنها پول بیشتری صدقه دادند.

۸- شکل های زیر را دو نوع دسته بندی کنید و برای آنها دو ضرب بنویسید.







۱۰- جاهای خالی را پر کنید.

$6 \times 5 = (4 \times 5) + (\dots \times 5) = \dots + \dots = \dots$

$5 \times 9 = (5 \times \dots) + (5 \times \dots) \dots + \dots = \dots$

$(6 + 4) + (4 \times 7) = \dots + \dots = \dots$



۱۱- خط تقارن شکل های زیر را بکشید.

۱۲- جدول ضرب را کامل کنید.

x	۳	۷	۸
۵			
۶			
۹			





۱- جاهای خالی را کامل کنید.

- الف- ۴ هزارتایی، ۶ یکی، ۹ ده تایی، ۰ صدتایی می شود: 40900
- ب- با 1000 می توانیم زاویه ی راست را تشخیص دهیم.
- پ- ۴۵۰۰ ریال همان 45000 تومان است.
- ج- ۶۷۰۰ گرم یعنی 67000 کیلوگرم و 67000 گرم
- د- ۱۲۸ سانتی متر یعنی 128000 متر و 128000 سانتی متر

۲- الگوهای زیر را ادامه دهید.

$4000, 1200, 400, 20, 2, 0.2, 0.02, 0.002, \dots$
 $11000, 21000, 31000, 41000, 51000, 61000, 71000, 81000, \dots$
 $1000, 10000, 100000, 1000000, 10000000, 100000000, \dots$
 $300, 3000, 30000, 300000, 3000000, 30000000, \dots$

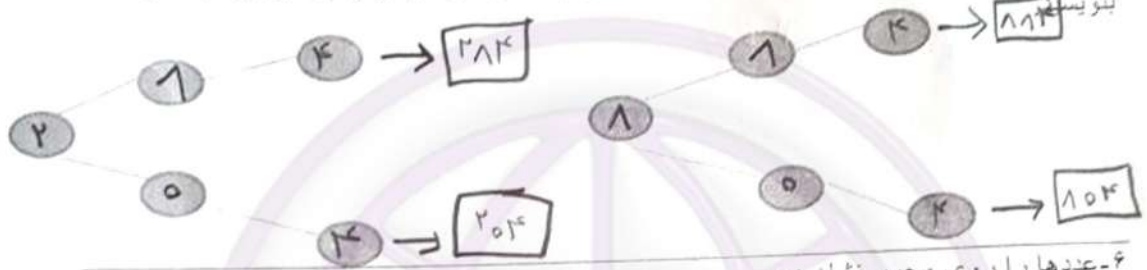
۳- جدول زیر را کامل کنید.

	زمان	۱۵	۱۳:۳۰	بیست و ربع	۲۳:۳۰
	بعد از ظهر	۳	۲:۳۰	۱۵:۲۰	۱۱:۳۰

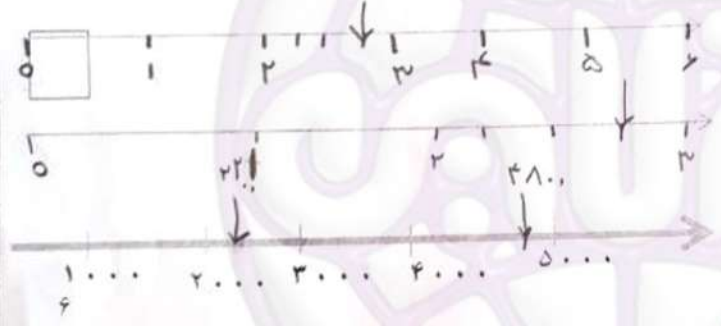
۴- در جاهای خالی عدد مناسب بنویسید.

$$\begin{array}{|c|} \hline 13 \\ \hline 2 \\ \hline 23 \\ \hline \end{array} \xrightarrow{+7} \begin{array}{|c|} \hline 20 \\ \hline 9 \\ \hline 29 \\ \hline \end{array} \xrightarrow{-5} \begin{array}{|c|} \hline 15 \\ \hline 4 \\ \hline 25 \\ \hline \end{array}$$

۵- تمام عددهای ۳ رقمی که رقم صدگان آن ۸ و ۲ و رقم دهگان آن ۸ و ۰ و رقم یکان آن ۴ باشد را بنویسید

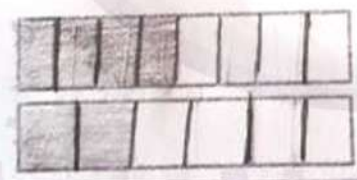


۶- عددها را روی محور نشان دهید.



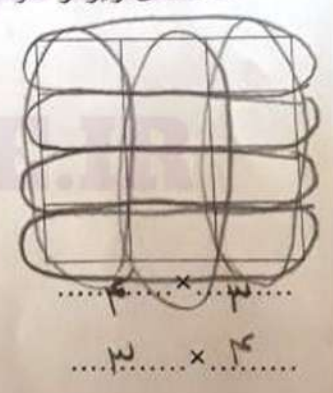

۲ واحد کامل و $\frac{3}{4}$
 $\frac{1}{4}$ واحد مانده به عدد ۳
عدد ۲۲۰۰ و ۴۸۰۰

۷- امیر $\frac{4}{8}$ پول خود را و رضا $\frac{2}{6}$ پول خود را صدقه دادند. با کشیدن شکل نشان دهید کدام یک از آنها پول بیشتری صدقه دادند.



امیر $\frac{4}{8}$ رضا $\frac{2}{6}$

۸- شکل های زیر را دو نوع دسته بندی کنید و برای آنها دو ضرب بنویسید.





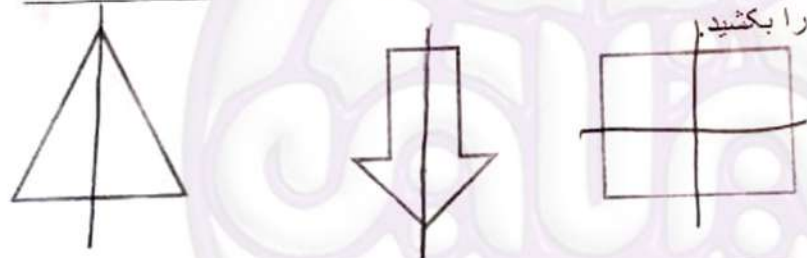
۱۰- جاهای خالی را پر کنید.

$$7 \times 5 = (4 \times 5) + (\dots \times 5) = \dots + \dots = \dots$$

$$5 \times 9 = (5 \times \dots) + (5 \times \dots) = \dots + \dots = \dots$$

$$(6+6) + (4 \times 7) = \dots + \dots = \dots$$

۱۱- خط تقارن شکل های زیر را بکشید.



۱۲- جدول ضرب را کامل کنید.

x	۳	۷	۸
۵	۱۵	۳۵	۴۰
۶	۱۸	۴۲	۴۸
۹	۲۷	۶۳	۷۲

