



آکادمی آنلاین تیزلاین قوی ترین پلتفرم آموزشی تیز هوشان

برگزار کننده کلاس های آنلاین و حضوری تیز هوشان ✓

و المپیاد از پایه چهارم تا دوازدهم

آزمون های آنلاین و حضوری ✓

مشاوره تخصصی ✓

با اسکن QR کد روبرو
وارد صفحه اینستاگرام
آکادمی تیزلاین شو و از
محتوای آموزشی
رایگان لذت ببر



برای ورود به صفحه اصلی سایت آکادمی تیزلاین کلیک کنید

برای دانلود دفترچه آزمون های مختلف برای هر پایه کلیک کنید

برای مطالعه مقالات بروز آکادمی تیزلاین کلیک کنید





به نام خداوند مهربان

۱- الگوهای عددی زیر را ادامه دهید.

۳-۶-۹-.....-.....-.....

۵۶۰۰-۵۸۰۰-۶۰۰۰-.....-.....

۱-۳-۶-۱۰-.....-.....

.....-.....-.....-۷۳۰۰-۸۳۰۰-۹۳۰۰

۲- جاهای خالی را با عدد مناسب پر کنید.

۱۹		۲۳		۱۵	۱۷
<div style="border: 1px solid black; border-radius: 50%; width: 60px; height: 60px; margin: 0 auto; display: flex; align-items: center; justify-content: center;"> -۱۲ </div>					
	۱۶		۱۳		

۳- مغازه داری نوعی خودکار را ۴۰۰ ریال می خرد و ۴۵۰ ریال می فروشد. با کامل کردن جدول به سوالات زیر پاسخ دهید.

الف) سود را به دست آورید.

ب) چند خودکار بفروشد تا ۲۰۰ ریال سود کند؟

ج) چند خودکار بفروشد تا با سود آن بتواند یک خودکار بخرد؟

تعداد خودکار	۱	۲	۳	۴	۵	۶	۷	۸
سود								

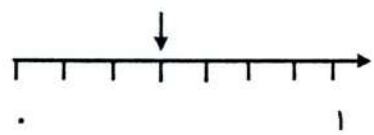
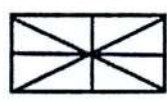
۴- امروز شنبه و اولین روز مهرماه است. تا آخر ماه مهر شنبه ها چه روز هایی از ماه هستند؟

۵- جدول زیر را کامل کنید.

زمان	۱۵		۱۹	۲۲:۳۰	
بعد از ظهر		۲:۴۵			۴

۶- تمام اعداد ۳ رقمی که رقم صدگان آن ۸، رقم دهگان آن ۰ و رقم یکان آن ۶ باشد را بنویسید.

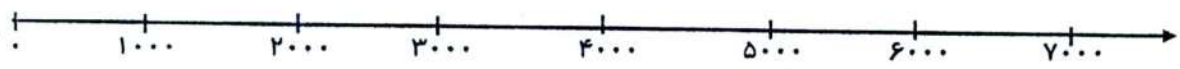
۷- برای هر کدام از شکل های زیر، یک کسر مناسب بنویسید.





۳۸۰۰-۶۵۰۰-۴۱۲۳-۵۰۰

۸- عدد های رو به رو را به صورت تقریبی روی محور نشان دهید.



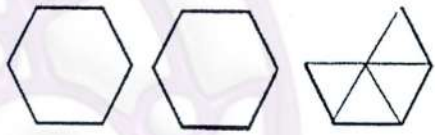
۹- کسر های زیر را مقایسه کنید.

$\frac{3}{8} \square \frac{3}{5}$

$\frac{1}{2} \square$ ربع

۴ واحد و $\frac{2}{5}$ واحد \square ۴ واحد $\frac{4}{5}$ واحد

۱۰- شکل زیر چه کسری کم دارد تا ۳ واحد کامل شود؟



۱۱- کسر زیر را روی محور نشان دهید.

ربع واحد مانده به عدد ۲

۱۲- جا های خالی را کامل کنید.

* ۷۶۰۰ گرم یعنی کیلوگرم و گرم.

* ۲۱۸ سانتی متر متر و سانتی متر است.

* یک سانتی متر میلی متر و ۸ سانتی متر میلی متر است.

* فاصله مشهد تا تهران ۱۰۰۰ است.

* طول مداد ۱۲ است.

* ۳ کیلومتر و ۷ متر یعنی متر.

* ۴۵۰۰ ریال همان تومان است.

* کسر را خمس و کسر را نیم می گوئیم.

* مربع و مستطیل هر کدام ۴ زاویه دارند.

* بهترین وسیله برای تشخیص زاویه راست است.

* ۸۵۰۲ به حروف می شود.....

* ۴ هزار تایی و ۶ یکی و ۹ ده تایی می شود.....

موفق باشید





به نام خداوند مهربان

۱- الگوهای عددی زیر را ادامه دهید.

۱۸ - ۱۵ - ۱۲
۹ - ۶ - ۳
۲۸ - ۲۱ - ۱۵
۱۰ - ۶ - ۳ - ۱
۹۶۰۰ - ۹۴۰۰ - ۹۲۰۰
۶۰۰۰ - ۵۸۰۰ - ۵۶۰۰
۹۳۰۰ - ۸۳۰۰ - ۷۳۰۰
۶۳۰۰ - ۵۳۰۰ - ۴۳۰۰

۲- جاهای خالی را با عدد مناسب پر کنید.

۱۹	۲۸	۳۳	۳۵	۱۵	۱۷
-۱۲					
۷	۱۶	۱۱	۱۳	۳	۵

۳- مغازه داری نوعی خودکار را ۴۰۰ ریال می خرد و ۴۵۰ ریال می فروشد. با کامل کردن جدول به سوالات زیر پاسخ دهید.

الف) سود را به دست آورید.
ب) چند خودکار بفروشد تا ۲۰۰ ریال سود کند؟
ج) چند خودکار بفروشد تا با سود آن بتواند یک خودکار بخرد؟

تعداد خودکار	۱	۲	۳	۴	۵	۶	۷	۸
سود	۵۰	۱۰۰	۱۵۰	۲۰۰	۲۵۰	۳۰۰	۳۵۰	۴۰۰

۴- امروز شنبه و اولین روز مهرماه است. تا آخر ماه مهر شنبه ها چه روز هایی از ماه هستند؟

شنبه شنبه شنبه شنبه شنبه
۱ → ۸ → ۱۵ → ۲۲ → ۲۹
+۷

۵- جدول زیر را کامل کنید.

زمان	۱۵	۱۴:۴۵	۱۹	۲۲:۳۰	۱۶
بعد از ظهر	۳	۲:۴۵	۷	۱۵:۳۰	۴

۶- تمام اعداد ۳ رقمی که رقم صدگان آن ۸، رقم دهگان آن ۰ و رقم یکان آن ۶ باشد را بنویسید.

۷- برای هر کدام از شکل های زیر، یک کسر مناسب بنویسید.

$\frac{3}{4} = 1$

$\frac{5}{8}$

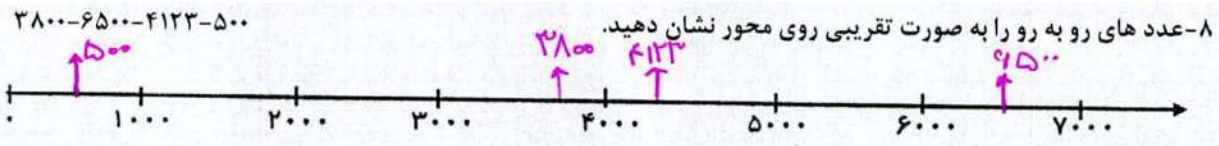
$\frac{2}{8}$

$\frac{3}{5}$



مجموعه مهارت‌های کلاس و آزمون در سراسر کشور

با حضور اساتید برگزیده کشوری تیزهوشان و کنکور



۹- کسر های زیر را مقایسه کنید.

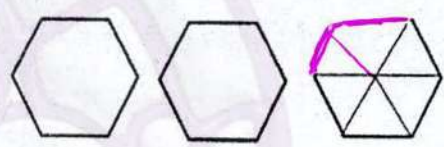
$\frac{3}{8} < \frac{3}{5}$

$\frac{1}{2} > \frac{1}{4}$ ربع

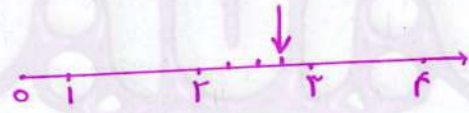
$\frac{4}{5}$ واحد و $\frac{2}{5}$ واحد $>$ ۴ واحد و $\frac{4}{5}$ واحد

۱۰- شکل زیر چه کسری کم دارد تا ۳ واحد کامل شود؟

$\frac{2}{6}$



۱۱- کسر زیر را روی محور نشان دهید.



ربع واحد مانده به عدد ۲

۱۲- جا های خالی را کامل کنید.

* ۷۶۰۰ گرم یعنی ۷ کیلوگرم و ۹۰۰ گرم.

* ۲۱۸ سانتی متر ۲ متر و سانتی متر است.

* یک سانتی متر میلی متر و ۸ سانتی متر میلی متر است.

* فاصله مشهد تا تهران ۱۰۰۰ کیلومتر است.

* طول مداد ۱۲ سانتی متر است.

* ۳ کیلومتر و ۷ متر یعنی ۳۷۰۰ متر.

* ۴۵۰۰ ریال همان ۴۵۰ تومان است.

* کسر $\frac{5}{8}$ را خمس و کسر $\frac{1}{4}$ را نیم می گوئیم.

* مربع و مستطیل هر کدام ۴ زاویه **راست** دارند.

* بهترین وسیله برای تشخیص زاویه راست **گونیا** است.

* ۸۵۰۲ به حروف می شود **هشتصد و پنجاه و دو**

* ۴ هزار تایی و ۶ یکی و ۹ ده تایی می شود **۴۰۹۶**

موفق باشید

www.tizline.ir

www.tizline.tv

۰۲۱-۹۱۳۰۲۲۰۲ * ۰۲۱-۴۴۱۳۶۹۷۵

Tizline.ir

۰۹۳۳۳۸۴۰۲۰۲

تیزلاین منبع معتبر تیزهوشان

سامانه پیامکی: ۹۰۰۰۱۶۲۰