



آکادمی آنلاین تیزلاین قوی ترین پلتفرم آموزشی تیز هوشان

برگزار کننده کلاس های آنلاین و حضوری تیز هوشان ✓

و المپیاد از پایه چهارم تا دوازدهم

آزمون های آنلاین و حضوری ✓

مشاوره تخصصی ✓

با اسکن QR کد روبرو
وارد صفحه اینستاگرام
آکادمی تیزلاین شو و از
محتوای آموزشی
رایگان لذت ببر

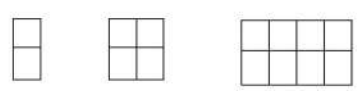


برای ورود به صفحه اصلی سایت آکادمی تیزلاین کلیک کنید

برای دانلود دفترچه آزمون های مختلف برای هر پایه کلیک کنید

برای مطالعه مقالات بروز آکادمی تیزلاین کلیک کنید





.....
 ۸۱۲ ، ۸۲۰ ، ۸۲۸ ، ، ،
 ۲۳۲۱ ، ۲۳۲۳ ، ۲۳۲۶ ، ، ،
 ۷۸۰۰ ، ۷۷۰۰ ، ۷۶۰۰ ، ، ،

۱- عزیزم الگوها را ادامه بده.

..... ، چهار هزار و هفتصد و سی ، چهار هزار و هفتصد و پنجاه ،

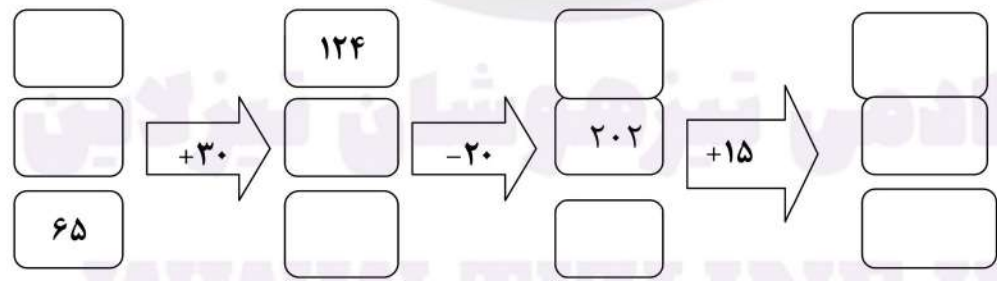
۲- دخترم با سه کارت ۷ ، ۳ ، ۱ تمام عددهای سه رقمی بدون تکرار را بنویس. کوچکترین و بزرگترین اعداد بدست آمده را بنویس.
 ، ، ،

کوچکترین عدد : بزرگترین عدد :

۳- دخترم باز شده ی عدد ها را بنویس. و عبارت ها را پاسخ بده.

$2036 = \dots + \dots + \dots + \dots$ $5760 = \dots + \dots + \dots + \dots$
 $1000 + 800 + 5 = \dots$ $9000 + 7000 + 4 + 800 + 1 = \dots$ $200 + 8000 + 6 + 70 = \dots$

۴- جاهای خالی را کامل کن.



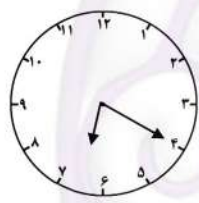
۵- خط تقارن شکل ها را بکش و بگو کدام شکل خط تقارن ندارد.



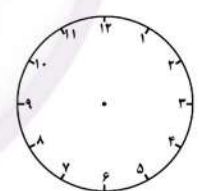
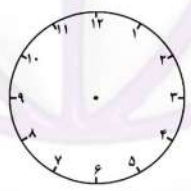
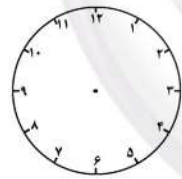


۶- یک میوه فروش یک کیلو را ۵۴۰ تومان می خرد و به قیمت ۶۰۰ تومان می فروشد. این میوه فروش برای هر کتاب چند تومان سود می کند؟
.....
الف) چند کیلو سیب باید بفروشد که ۳۰۰ تومان سود کند؟
.....
ب) او چند کیلو سیب باید بفروشد که بتواند با سود آن یک کیلو سیب بخرد؟
.....

سیب به کیلو							
سود							



۷- ساعت چند است؟ : بعد از ظهر یا : شبانه روز
۱ ساعت و ۱۵ دقیقه بعد چه ساعتی می شود؟ : بعد از ظهر
یا : شبانه روز یعنی دقیقه مانده به ساعت است.
۵- ساعت های داده شده را روی ساعت ها نشان بده.



۳:۳۵ بعد از ظهر یا : ۲۱:۲۵ یا : بعد از ظهر ۲:۵۰ بعد از ظهر یا :
۸- جمع و تفریق ها را با روش شکل حل کن.
 $3529 + 2043 = \dots\dots\dots$
 $5796 - 2587 = \dots\dots\dots$

۹- مقایسه کنید.
 $1 \square \frac{3}{3}$ $\frac{1}{5} \square \frac{1}{2}$ $\frac{3}{8} \square \frac{5}{8}$
۳ واحد و $\frac{8}{10}$ واحد \square ۵ واحد و $\frac{1}{9}$ واحد ۲ واحد و $\frac{3}{4}$ واحد \square ۲ واحد و $\frac{3}{6}$ واحد



۱۰- دخترم ۵۸۷ سانتی متر، برابر است با متر و سانتی متر.

۴ متر و ۸۰۰ سانتی متر، برابر است با سانتی متر. ۹۰۰۰ متر چند کیلومتر است؟

۸ کیلومتر و ۲۰۳ متر برابر است با متر. ۲۰۰ ریال و ۶۰ تومان چند تومان است؟



۶۰۷۲ گرم، برابر است با کیلو گرم و گرم. ۸۲۴ تومان چند ریال است؟

۱۱- جمع عددهایی که حاصل جمع آنها ۱۱ باشد را به صورت نظام دار بنویس و بگو چند جمع می توان برای عدد ۱۱ نوشت؟


.....

.....

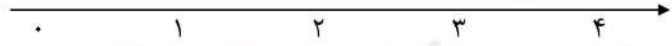
۱۲- کسر شکلها را بنویس و برای کسرها شکل بکش.

$\frac{3}{8}$ | واحد ۲ و واحد ۴ |  | 


۱۳- عددها و واحد ها را روی محور نشان بده. (۴۰۵، ۲۱۳۸، ۴۳۸۰، ۵۹۰۰)



$\frac{4}{6}$ واحد بعد از عدد ۲



$\frac{3}{4}$ واحد مانده به عدد ۴



۱۴- یک زمین مستطیل شکل را ۲ قسمت کرده اند و یک قسمت را سبزی کاشته اند و قسمت دیگر را ۳ قسمت کردند، در ۱ قسمت هویج و در ۲ قسمت دیگر آن گوجه کاشته اند.

الف) چه کسری از زمین را سبزی کاشته اند؟ _____

ب) چه کسری از زمین را هویج کاشته اند؟ _____

ج) چه کسری از زمین را گوجه کاشته اند؟ _____

« موفق باشی عزیزم »





۶- یک میوه فروش یک کیلو را ۵۴۰ تومان می خرد و به قیمت ۶۰۰ تومان می فروشد. این میوه فروش برای هر کتاب چند تومان سود می کند؟ ۶۰ تومان

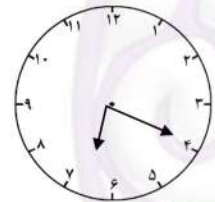
$$540 + 60 = 600$$

الف) چند کیلو گرم سیب باید بفروشد که ۳۰۰ تومان سود کند؟ ۵ کیلو گرم

ب) او چند کیلو گرم سیب باید بفروشد که بتواند با سود آن یک کیلو سیب بخرد؟

سیب به کیلو	1	2	3	4	5	6	7	8	9
سود	60	120	180	240	300	360	420	480	540

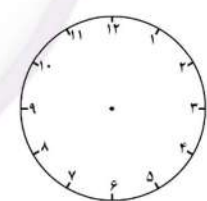
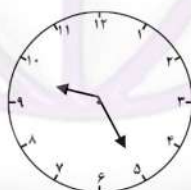
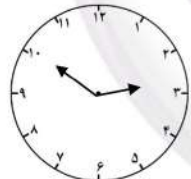
۷- ساعت چند است؟ ۶:۲۰ بعد از ظهر یا ۱۸:۲۰ شبانه روز



۱ ساعت و ۱۵ دقیقه بعد چه ساعتی می شود؟ ۷:۳۵ بعد از ظهر

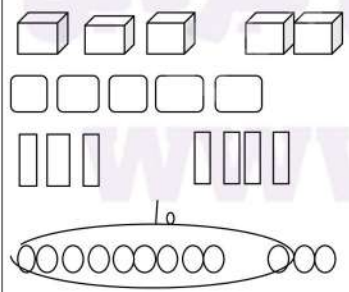
یا ۱۹:۳۵ شبانه روز یعنی ۲۵ دقیقه مانده به ساعت ۲۰ است.

۵- ساعت های داده شده را روی ساعت ها نشان بده.



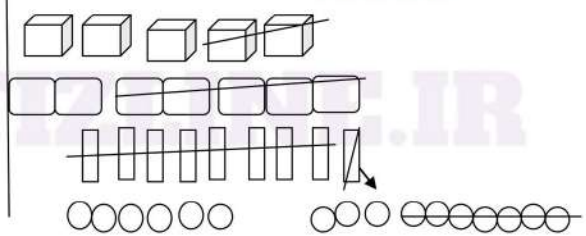
۵:۳۵ بعد از ظهر یا ۱۷:۳۵ ۲۱:۲۵ یا ۹:۲۵ بعد از ظهر ۲:۵۰ بعد از ظهر یا ۱۴:۵۰

$$3539 + 2043 = \dots 5 \dots 5 \dots 8 \dots 2 \dots$$



۸- جمع و تفریق ها را با روش شکل حل کن.

$$5796 - 2587 = \dots 3 \dots 2 \dots 0 \dots 9 \dots$$



۹- مقایسه کنید.

$1 \square = \frac{3}{3}$ $\frac{1}{5} \square \frac{1}{2}$ $\frac{3}{8} \square \frac{5}{8}$

۲ واحد و $\frac{3}{4}$ واحد ۳ واحد و $\frac{1}{9}$ واحد ۸ واحد و $\frac{8}{10}$ واحد



۱۰- دخترم ۵۸۷ سانتی متر ، برابر است با ۵ متر و ۸۷ سانتی متر.

۴ متر و ۸۰۰ سانتی متر، برابر است با ۱۲۰۰ سانتی متر. ۹۰۰۰ متر چند کیلومتر است؟ ۹ کیلو متر

۸ کیلومتر و ۲۰۳ متر برابر است با۸۲۰۳... متر. ۲۰۰ ریال و ۶۰ تومان چند تومان است؟ ۸۰ تومان

۶۰۷۲ گرم ، برابر است با ۶... کیلو گرم و۷۲... گرم. ۸۲۴ تومان چند ریال است؟ ۸۲۴۰ ریال

۱۱- جمع عددهایی که حاصل جمع آنها ۱۱ باشد را به صورت نظام دار بنویس و بگو چند جمع می توان برای عدد ۱۱ نوشت؟ ۱۲ جمع ...

.....۰+۱۱.....۳+۸.....۶+۵.....۹+۲.....

.....۱+۱۰.....۴+۷.....۷+۴.....۱۰+۱.....

.....۲+۹.....۵+۶.....۸+۳.....۱۱+۰.....

۱۲- کسر شکلها را بنویس و برای کسرها شکل بکش.

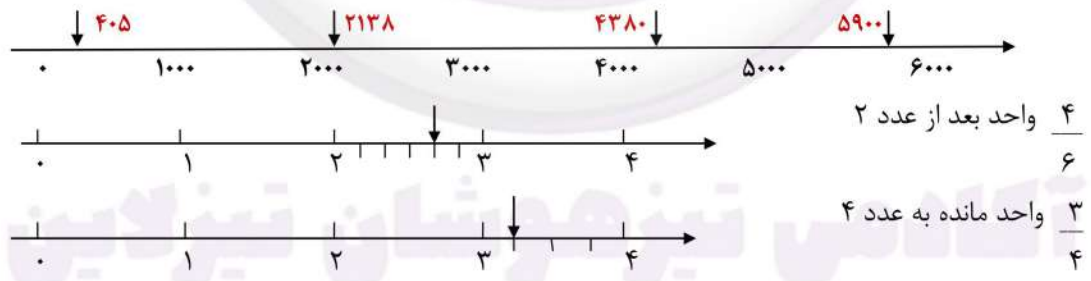
$\frac{3}{8}$

۲ واحد و ۲ واحد

$\frac{3}{4}$

$\frac{4}{12}$

۱۳- عددها و واحد ها را روی محور نشان بده. (۵۹۰۰، ۴۳۸۰، ۲۱۳۸، ۴۰۵)



۱۴- یک زمین مستطیل شکل را ۲ قسمت کرده اند و یک قسمت را سبزی کاشته اند و قسمت دیگر را ۳ قسمت کردند، در ۱ قسمت هویج و در ۲ قسمت دیگر آن گوجه.



کاشته اند.

الف) چه کسری از زمین را سبزی کاشته اند؟ $\frac{3}{6}$ (ب) چه کسری از زمین را هویج کاشته اند؟ $\frac{1}{6}$

ج) چه کسری از زمین را گوجه کاشته اند؟ $\frac{2}{6}$

« موفق باشی عزیزم »