



آکادمی آنلاین تیزلاین قوی ترین پلتفرم آموزشی تیز هوشان

برگزار کننده کلاس های آنلاین و حضوری تیز هوشان ✓

و المپیاد از پایه چهارم تا دوازدهم

آزمون های آنلاین و حضوری ✓

مشاوره تخصصی ✓

با اسکن QR کد روبرو
وارد صفحه اینستاگرام
آکادمی تیزلاین شو و از
محتواهای آموزشی
رایگان لذت ببر



برای ورود به صفحه اصلی سایت آکادمی تیزلاین کلیک کنید

برای دانلود دفترچه آزمون های مختلف برای هر پایه کلیک کنید

برای مطالعه مقالات بروز آکادمی تیزلاین کلیک کنید






ردیف	سوالات	بارم
۱	<p>جاهای خالی را کامل کنید.</p> <p>۲ هزارتایی و ۶ یکی و ۵ ده تایی و ۰ صدتایی میشود.....</p> <p>۷۰۸۶ به حروف میشود.....</p> <p>دو هزار و سیصد و هفت و شش به رقم میشود.....</p> <p>مکعب ازمربع درست شده است.</p> <p>یک سانتی متر میلی متر است.</p> <p>۴۵۰۰ متر..... کیلومتر متر است.</p> <p>..... وسیله ای برای تشخیص زاویه راست است. مربع..... زاویه راست است.</p> <p>..... نصف قطر است. دایره قطر است</p> <p>ساعت ۲۰ میشود ساعت..... بعد از ظهر.</p> <p>ساعت ۳ بعد از ظهر میشود ساعت.....</p>	
2	<p>تمام عدد های سه رقمی که رقم صدگان آن ۲ و ۳ و دهگان آن ۵ و رقم یکان آن ۴ باشد</p>	





WWW.TIZLINE.IR



مجری همایش کلاس و آزمون در سراسر کشور

با حضور اساتید برگزیده کشوری تیزهوشان و کنکور



۳	<p>ساعت یک ربع مانده به ۸ را نشان دهید.</p> 
۴	<p>عدد داده شده را روی محور نشان دهید</p> <p>$\frac{2}{3}$ واحد بعد از 1</p> 
۵	<p>کسر های زیر را با زدن علامت (<=>) مقایسه کنید.</p> <p>۵ واحد و $\frac{2}{8}$ واحد \bigcirc ۴ واحد و $\frac{1}{8}$ واحد</p> <p>$\frac{1}{3} \bigcirc \frac{1}{2}$ $\frac{2}{3} \bigcirc \frac{1}{2}$</p>
۶	<p>محیط شکل های زیر را بدست آورید.</p> 
۷	<p>دایره ای به شعاع ۲ سانتی متر رسم کنید.</p> <p>بهترین وسیله برای رسم دایره چیست؟</p> 
۸	<p>حاصل ضرب هارا به روش های خواسته شده به دست آورید.</p> <p>بارسم شکل 3×4</p> <p>با محور 2×6</p>

www.tizline.ir www.tizline.tv

 ۰۲۱-۹۱۳۰۲۲۰۲ * ۰۲۱-۴۴۱۳۶۹۷۵
 Tizline.ir
 ۰۹۳۳۳۸۴۰۲۰۲

تیزلاین منبع معتبر تیزهوشان

سامانه پیامکی: ۹۰۰۰۱۶۲۰



مجری همایش کلاس و آزمون در سراسر کشور

با حضور اساتید برگزیده کشوری تیزهوشان و کنکور

	<p>دخترم عدد هارا باهم مقایسه کنید.</p> <p>۸۵۰۰ ○ ۶۸۰۰ ۳۵۸۹ ○ ۳۵۲۰</p>	۹
	<p>فاطمه ۲۷ کیک خرید او میخواهد کیک هارا به ۹نفر از دوستانش بدهد به هر نفر چند کیک میرسد؟</p>	۱۰
	<p>زهرا ۸ سال و مادرش ۳۲ سال دارد سن مادر زهرا چندبرابر سن او است؟</p>	۱۱

آکادمی تیزهوشان تیزلاین

WWW.TIZLINE.IR

www.tizline.tv

www.tizline.ir

☎ ۰۲۱-۴۴۱۳۶۹۷۵ * ۰۲۱-۹۱۳۰۲۲۰۲

📷 Tizline.ir

📞 ۰۹۳۳۳۸۴۰۲۰۲

تیزلاین منبع معتبر تیزهوشان


سامانه پیامکی: ۹۰۰۰۱۶۲۰

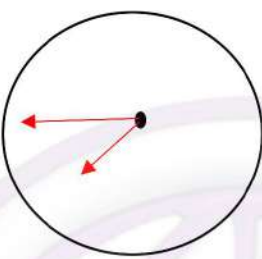
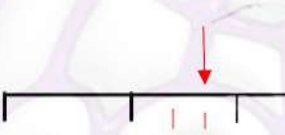






ردیف	سوالات	بارم
۱	<p>جاهای خالی را کامل کنید.</p> <p>۲ هزارتایی و ۶ یکی و ۵ ده تایی و ۰ صدتایی میشود.....۲۰۵۶...</p> <p>۷۰۸۶ به حروف میشود هفت هزار و هشتاد و شش.....</p> <p>دو هزار و سیصد و هفت و شش به رقم میشود.....۲۳۷۶.....</p> <p>مکعب از ۶.....مربع درست شده است.</p> <p>یک سانتی متر۱۰..... میلی متر است.</p> <p>۴۵۰۰ متر.....۴..... کیلومتر۵۰۰..... متر است.</p> <p>گونیا..... وسیله ای برای تشخیص زاویه راست است.مربع.....۴..... زاویه راست است.</p> <p>شعاع..... نصف قطر است.دایره بی نهایت... قطر دارد.</p> <p>ساعت ۲۰ میشود ساعت.....۸..... بعداز ظهر.</p> <p>ساعت ۳ بعداز ظهر میشود ساعت.....۱۵.....</p>	
2	<p>تمام عدد های سه رقمی که رقم صدگان آن ۲ و ۳ و دهگان آن ۵ و رقم یکان آن ۴ باشد</p> <p>۲۵۴ - ۳۵۴</p>	

WWW.TIZLINE.IR



	<p>ساعت یک ربع مانده به ۸ را نشان دهید.</p> 	۳
	<p>عدد داده شده را روی محور نشان دهید</p>  <p>$\frac{2}{3}$ واحد بعد از 1</p>	۴
	<p>کسر های زیر را با زدن علامت (\leq) مقایسه کنید.</p> <p>$\frac{1}{3} < \frac{1}{2}$ $\frac{2}{3} > \frac{1}{2}$ 5 واحد و $\frac{2}{8}$ واحد $<$ 4 واحد و $\frac{1}{8}$ واحد</p>	۵
	<p>محیط شکل های زیر را بدست آورید.</p> 	۶
	<p>دایره ای به شعاع ۲ سانتی متر رسم کنید.</p>  <p>بهترین وسیله برای رسم دایره چیست؟</p>	۷



مجری همایش کلاس و آزمون در سراسر کشور

با حضور اساتید برگزیده کشوری تیزهوشان و کنکور



	<p>حاصل ضرب هارا به روش های خواسته شده به دست آورید.</p> <p>بارسم شکل 3×4</p> <p>با محور 2×6</p>	۸
	<p>دخترم عدد هارا باهم مقایسه کنید.</p> <p>$8500 > 6800$ $3089 > 3020$</p>	۹
	<p>فاطمه ۲۷ کیک خرید او میخواهد کیک هارا به ۹ نفر از دوستانش بدهد به هر نفر چند کیک میرسد؟</p> <p>$27 \div 9 = 3$</p>	۱۰
	<p>زهرا ۸ سال و مادرش ۳۲ سال دارد سن مادر زهرا چندبرابر سن او است؟</p> <p>$32 \div 8 = 4$</p>	۱۱

آکادمی تیزهوشان تیزلاین

WWW.TIZLINE.IR

www.tizline.ir www.tizline.tv

☎ ۰۲۱-۴۴۱۳۶۹۷۵ * ۰۲۱-۹۱۳۰۲۲۰۲

📷 Tizline.ir

📞 ۰۹۳۳۳۸۴۰۲۰۲

تیزلاین منبع معتبر تیزهوشان

سامانه پیامکی: ۹۰۰۰۱۶۲۰