



آکادمی آنلاین تیزلاین قوی ترین پلتفرم آموزشی تیز هوشان

برگزار کننده کلاس های آنلاین و حضوری تیز هوشان ✓

و المپیاد از پایه چهارم تا دوازدهم

آزمون های آنلاین و حضوری ✓

مشاوره تخصصی ✓

با اسکن QR کد روبرو
وارد صفحه اینستاگرام
آکادمی تیزلاین شو و از
محتوای آموزشی
رایگان لذت ببر

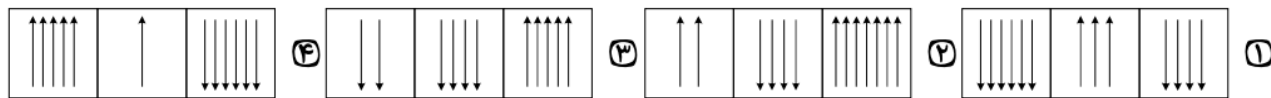


برای ورود به صفحه اصلی سایت آکادمی تیزلاین کلیک کنید

برای دانلود دفترچه آزمون های مختلف برای هر پایه کلیک کنید

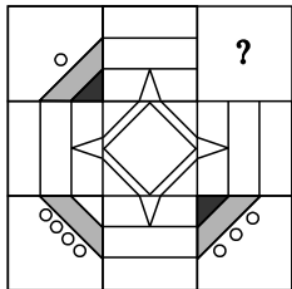
برای مطالعه مقالات بروز آکادمی تیزلاین کلیک کنید

۱- کدام گزینه با بقیه متفاوت است؟

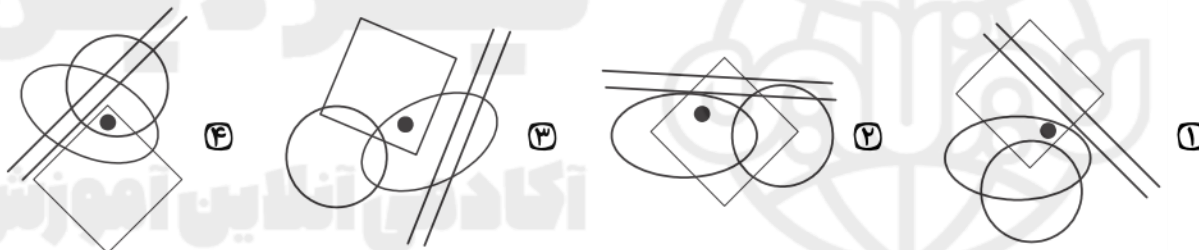


در پرسش زیر کدام گزینه (بدون چرخاندن) برای قرار گرفتن در محل علامت سوال مناسب تر است؟

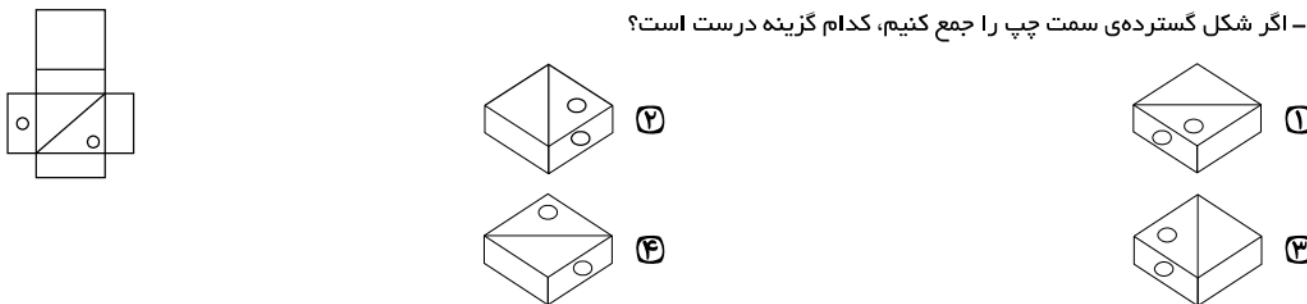
۲-



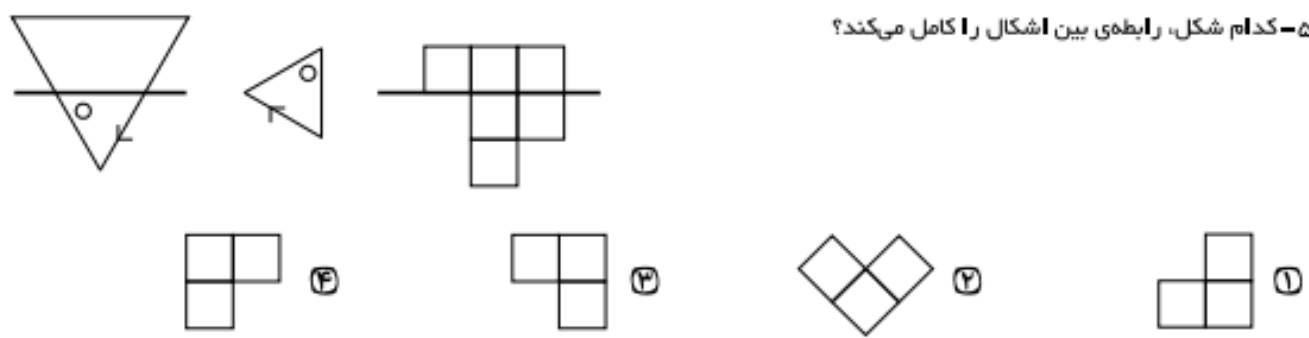
۳- با توجه به جایگاه نقطه در شکل، کدام گزینه بیشترین تفاوت را با بقیه دارد؟



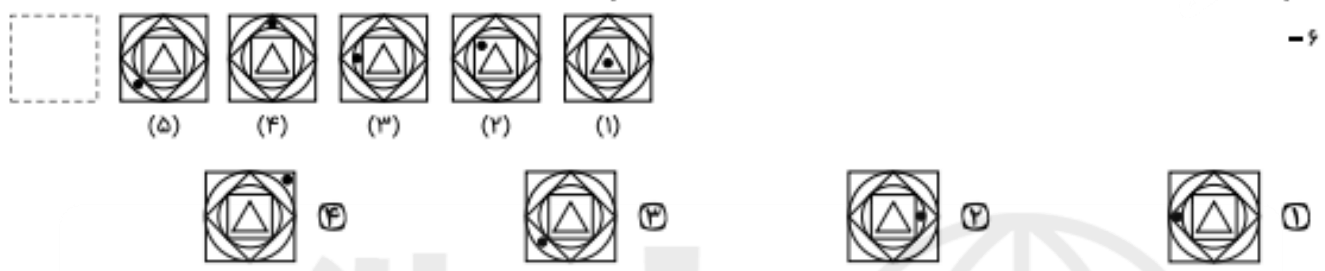
۴- اگر شکل گسترده‌ی سمت چپ را جمع کنیم، کدام گزینه درست است؟



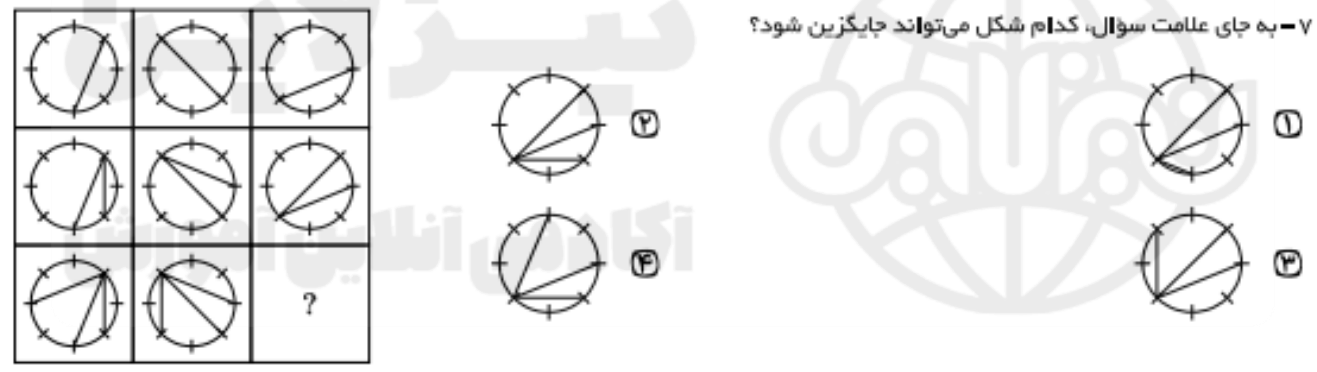
۵- کدام شکل، رابطه ی بین اشکال را کامل می کند؟



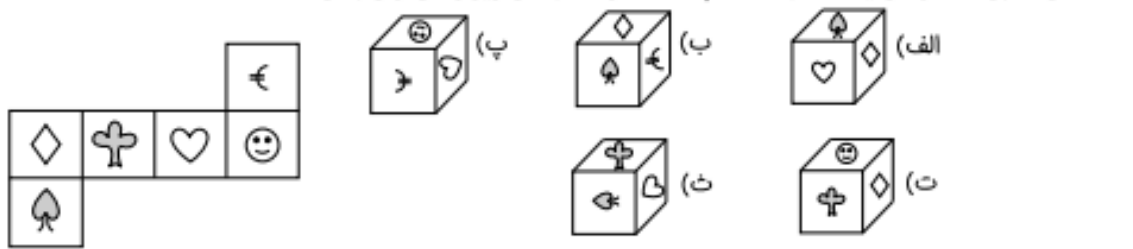
در پرسش زیر، با توجه به تصاویر داده شده، گزینه ی مناسب تر را برای پر کردن جای خالی انتخاب کنید.



۷- به جای علامت سوال، کدام شکل می تواند جایگزین شود؟



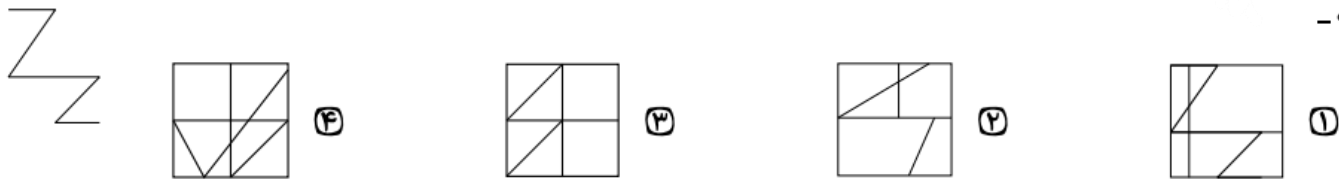
۸- شکل مقابل، گسترده ی یک مکعب است. چند عدد از مکعب های زیر را می توان با آن ساخت؟




- ۱ فقط مکعب شماره ی (پ) را می توان ساخت.
- ۲ مکعب های (الف) و (پ) و (ت) را می توان ساخت.
- ۳ مکعب های (الف) و (ب) و (ت) را نمی توان ساخت.
- ۴ مکعب های (ب) و (ت) و (ث) را نمی توان ساخت.

در سؤال زیر، شکل سمت چپ در کدام گزینه، به همان اندازه و همان جهت وجود دارد؟

۹-



۱۰- قرینه‌ی شکل مقابل نسبت به خط رسم شده کدام است؟



تیزلاین
آکادمی آنلاین آموزشی



تیزلاین

آکادمی آنلاین آموزشی

1. گزینه ۲
2. گزینه ۳
3. گزینه ۴
4. گزینه ۴
5. گزینه ۳
6. گزینه ۴
7. گزینه ۱
8. گزینه ۳
9. گزینه ۱
10. گزینه ۲

