



آکادمی آنلاین تیزلاین قوی ترین پلتفرم آموزشی تیز هوشان

برگزار کننده کلاس های آنلاین و حضوری تیز هوشان ✓

و المپیاد از پایه چهارم تا دوازدهم

آزمون های آنلاین و حضوری ✓

مشاوره تخصصی ✓


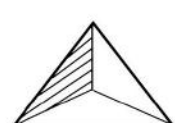
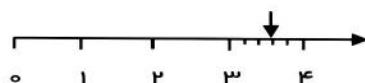
با اسکن QR کد روبرو
وارد صفحه اینستاگرام
آکادمی تیزلاین شو و از
محتوای آموزشی
رایگان لذت ببر



برای ورود به صفحه اصلی سایت آکادمی تیزلاین کلیک کنید

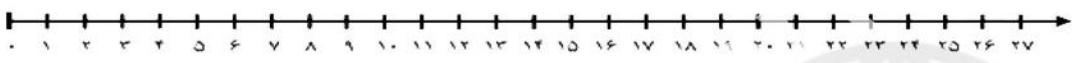
برای دانلود دفترچه آزمون های مختلف برای هر پایه کلیک کنید

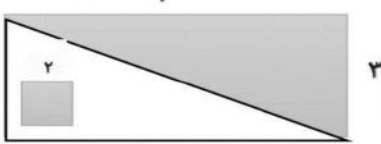
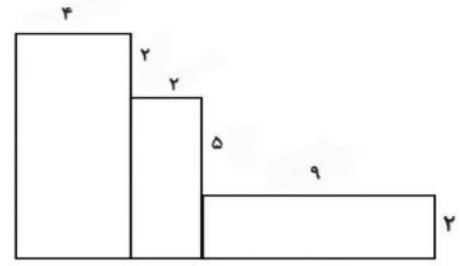
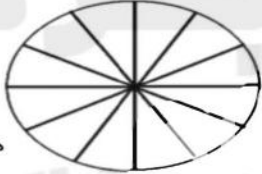
برای مطالعه مقالات بروز آکادمی تیزلاین کلیک کنید


ردیف	سؤالات	نمره																								
۱	<p>جاهای خالی را با کلمات مناسب پر کنید.</p> <p>۲۱۶ میلی متر یعنی متر و سانتی متر.</p> <p>۷ کیلومتر یعنی متر (یا تا ۱۰۰ متر)</p> <p>۴۲۰۸ گرم یعنی کیلوگرم و گرم.</p> <p>مثلی که سه ضلع مساوی دارد..... نام دارد.</p> <p>ربع عدد ۲۴ می شود.....</p> <p>حاصل ضرب هر عدد در یک برابر است با</p> <p>شعاع قطر است.</p> <p>خط های یکدیگر را قطع نمی کنند.</p>																									
۲	<p>جدول های زیر را با اعداد مناسب پر کنید.</p> <div style="display: flex; align-items: center; justify-content: center;"> <table border="1" style="margin-right: 20px;"> <tr><td>۶۴</td></tr><tr><td> </td></tr><tr><td> </td></tr><tr><td> </td></tr></table> $\xrightarrow{\div 8}$ <table border="1" style="margin-right: 20px;"> <tr><td> </td></tr><tr><td> </td></tr><tr><td>۷</td></tr><tr><td> </td></tr></table> $\xrightarrow{+7}$ <table border="1" style="margin-right: 20px;"> <tr><td> </td></tr><tr><td> </td></tr><tr><td>۱۳</td></tr><tr><td> </td></tr><tr><td> </td></tr><tr><td>۱۰</td></tr></table> </div> <table border="1" style="margin-left: 20px;"> <tr> <td>زمان</td> <td>۲۳:۲۰</td> <td> </td> <td>۱۸</td> <td> </td> </tr> <tr> <td>بعدازظهر</td> <td> </td> <td>۹:۰۹</td> <td> </td> <td>۲:۲۲</td> </tr> </table>	۶۴						۷				۱۳			۱۰	زمان	۲۳:۲۰		۱۸		بعدازظهر		۹:۰۹		۲:۲۲	
۶۴																										
۷																										
۱۳																										
۱۰																										
زمان	۲۳:۲۰		۱۸																							
بعدازظهر		۹:۰۹		۲:۲۲																						
۳	<p>با توجه به عدد داده شده به سوالات زیر پاسخ دهید.</p> <p>۵۹۰۸</p> <p>الف : عدد را در جدول ارزش مکانی قرار دهید.</p> <p>ب : گسترده ی عدد را بنویسید.</p> <p>ج : بزرگ ترین رقم دارای چه مرتبه ای است ؟</p> <p>د : کدام رقم دارای کمترین مرتبه است ؟</p>																									
۴	<p>کسر مربوط به هر شکل را بنویسید.</p> <div style="display: flex; justify-content: space-around;"> <div style="text-align: center;">  <p>.....</p> </div> <div style="text-align: center;">  <p>.....</p> </div> <div style="text-align: center;">  <p>.....</p> </div> </div>																									



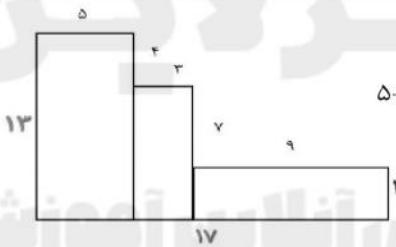

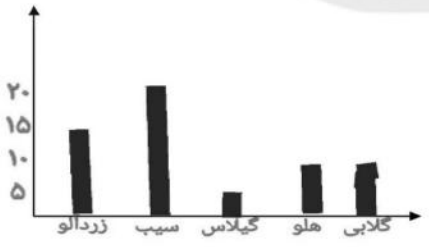


	<p>برای شکل های زیر عملیات های خواسته شده را بنویسید. الف : جمع آن را بنویسید.+.....+.....+.....+.....+.....+.....+.....=.....</p> <p>ب : دو تساوی ضرب و دو تساوی تقسیم بنویسید.×.....=.....÷.....=.....×.....=.....÷.....=.....</p> <p>ج : تساوی ضرب را روی محور نشان بده.</p> 	۵
	<p>حاصل جمع و تفریق زیر را بنویسید.</p> <div style="display: flex; justify-content: space-around; align-items: center;"> <div style="text-align: center;"> $\begin{array}{r} 4652 \\ + 3247 \\ \hline \end{array}$ <p>← کفرآیندی</p> </div> <div style="text-align: center;"> $\begin{array}{r} 5802 \\ - 2369 \\ \hline \end{array}$ <p>← تکنیکی</p> </div> </div>	۶
	<p>مقایسه کنید و علامت $<=>$ بگذارید.</p> <p>$\frac{2}{5} \bigcirc \frac{4}{5}$ ♥ $2000 + 2500 \bigcirc 1500 + 3000$ ♥ $\frac{1}{6} \bigcirc \frac{1}{4}$</p> <p>$4 \times 1 \bigcirc 8 \times 0$ ♥ نصف \bigcirc نیم ♥ $24 + 4 \bigcirc 15 + 3$ ♥ $30 \times 30 \bigcirc 60 \times 10$</p>	۷
	<p>باغچه ای مستطیل شکل به طول ۸ متر و عرض ۴ متر و باغچه ای مربع شکل به ضلع ۶ متر داریم. می خواهیم دور تا دور آن ها را نرده بکشیم. برای دور آن ها به چند متر نرده نیاز داریم ؟</p>	۸

	<p>مساحت قسمت های رنگ شده را حساب کنید.</p> 	۹												
	<p>محیط شکل زیر را به دست آورید.</p> 	۱۰												
	<p>در باغ مشهدی رضا درختان زیر کاشته شده است. با توجه به جدول نمودارها را کامل کنید.</p> <table border="1" data-bbox="266 848 768 930"> <thead> <tr> <th>درخت</th> <th>زردآلو</th> <th>سیب</th> <th>گیلاس</th> <th>هلو</th> <th>کلابی</th> </tr> </thead> <tbody> <tr> <td>تعداد</td> <td>۱۵</td> <td>۲۰</td> <td>۵</td> <td>۱۰</td> <td>۱۰</td> </tr> </tbody> </table>  <p>هر قسمت = ۵ درخت</p>	درخت	زردآلو	سیب	گیلاس	هلو	کلابی	تعداد	۱۵	۲۰	۵	۱۰	۱۰	۱۱
درخت	زردآلو	سیب	گیلاس	هلو	کلابی									
تعداد	۱۵	۲۰	۵	۱۰	۱۰									
	<p>حاصل ضرب و تقسیم زیر را به دست آورید.</p> $\begin{array}{r} 236 \\ \times 4 \\ \hline \end{array}$ $\begin{array}{r} 32 \quad \quad 6 \\ \hline \end{array}$	۱۲												
	<p>قیمت ۴ کیک و ۳ آبمیوه ۴۵۰۰ تومان است. اگر قیمت هر کیک ۹۰۰ تومان باشد، قیمت هر آبمیوه چقدر است؟ و چند ریال است؟</p>	۱۳												

ردیف	راهنمای تصحیح	محل مهر یا امضاء مدیر																						
۱	<p>۲ متر و ۱۶ سانتی متر ۷۰۰۰ متر یا ۷۰ تا ۱۰۰ متر ۴ کیلو گرم و ۲۰۸ گرم متساوی الاضلاع ۶ خود عدد نصف موازی</p>																							
۲	<table border="1" style="display: inline-table; margin-right: 20px;"> <tr><td>۶۴</td></tr><tr><td>۴۸</td></tr><tr><td>۵۶</td></tr><tr><td>۲۴</td></tr></table> $\div 8$ <table border="1" style="display: inline-table; margin-right: 20px;"> <tr><td>۸</td></tr><tr><td>۶</td></tr><tr><td>۷</td></tr><tr><td>۲</td></tr></table> $+ 7$ <table border="1" style="display: inline-table; margin-right: 20px;"> <tr><td>۱۵</td></tr><tr><td>۱۳</td></tr><tr><td>۱۴</td></tr><tr><td>۱۰</td></tr></table> <table border="1" style="display: inline-table;"> <tr><td>زمان</td><td>۲۳:۲۰</td><td>۲۱:۰۹</td><td>۱۸</td><td>۱۴:۲۲</td></tr><tr><td>بعدازظهر</td><td>۱۱:۲۰</td><td>۹:۰۹</td><td>۶</td><td>۲:۲۲</td></tr></table>	۶۴	۴۸	۵۶	۲۴	۸	۶	۷	۲	۱۵	۱۳	۱۴	۱۰	زمان	۲۳:۲۰	۲۱:۰۹	۱۸	۱۴:۲۲	بعدازظهر	۱۱:۲۰	۹:۰۹	۶	۲:۲۲	
۶۴																								
۴۸																								
۵۶																								
۲۴																								
۸																								
۶																								
۷																								
۲																								
۱۵																								
۱۳																								
۱۴																								
۱۰																								
زمان	۲۳:۲۰	۲۱:۰۹	۱۸	۱۴:۲۲																				
بعدازظهر	۱۱:۲۰	۹:۰۹	۶	۲:۲۲																				
۳	<p>الف : ب : ۵۰۰۰+۹۰۰+۸ ج : صدگان د : ۸</p>	<table border="1"> <tr> <td>یکان</td> <td>دهگان</td> <td>صدگان</td> <td>هزارگان</td> </tr> <tr> <td>۸</td> <td>۰</td> <td>۹</td> <td>۵</td> </tr> </table>	یکان	دهگان	صدگان	هزارگان	۸	۰	۹	۵														
یکان	دهگان	صدگان	هزارگان																					
۸	۰	۹	۵																					
۴	<p>$\frac{3}{5}$ و 3</p>	<p>$\frac{6}{6} = 1$</p> <p>$\frac{1}{6}$</p>																						
۵	<p>الف : $2+2+2+2+2+2+2+2+2+2=24$ ب : $8 \times 3 = 24$ $24 \div 3 = 8$</p> <p>$3 \times 8 = 24$ $24 \div 8 = 3$</p> 																							



$\begin{array}{r} 236 \\ \times 4 \\ \hline 944 \end{array}$	$\begin{array}{r} 582 \\ - 2369 \\ \hline 2423 \end{array}$	6												
$\frac{2}{5} < \frac{4}{5}$ ♥ $2000 + 2500 > 1500 + 3000$ ♥ $\frac{1}{6} < \frac{1}{4}$ $4 \times 1 > 8 \times 0$ ♥ نصف = نیم ♥ $24 + 4 > 15 + 3$ ♥ $30 \times 30 > 60 \times 10$			7											
$16 + 8 = 23$ $4 \times 2 = 8$ $2 \times 8 = 16$ 31 متر نرده نیاز داریم $23 + 8 = 31$ $4 \times 6 = 8$			8											
$2 \times 2 = 4$ $18 \div 2 = 9$ $3 \times 6 = 18$ $9 + 4 = 13$			9											
	$5 + 4 + 3 + 7 + 9 + 2 + 17 + 13 = 60$	10												
<table border="1" data-bbox="203 1205 674 1277"> <thead> <tr> <th>درخت</th> <th>زردآلو</th> <th>سیب</th> <th>گیلاس</th> <th>هلو</th> <th>کلابی</th> </tr> </thead> <tbody> <tr> <td>تعداد</td> <td>15</td> <td>20</td> <td>5</td> <td>10</td> <td>10</td> </tr> </tbody> </table>  <p>هر قسمت = 5 درخت</p>	درخت	زردآلو	سیب	گیلاس	هلو	کلابی	تعداد	15	20	5	10	10		11
درخت	زردآلو	سیب	گیلاس	هلو	کلابی									
تعداد	15	20	5	10	10									
$\begin{array}{r} 236 \\ \times 4 \\ \hline 944 \end{array}$	$\begin{array}{r} 32 \\ - 30 \\ \hline 2 \end{array}$	12												
$900 \div 3 = 300$ قیمت هر آبمیوه تومان $4500 - 3600 = 900$ $900 \times 4 = 3600$ ریال 3000			13											

