



آکادمی آنلاین تیزلاین قوی ترین پلتفرم آموزشی تیز هوشان

برگزار کننده کلاس های آنلاین و حضوری تیز هوشان ✓

و المپیاد از پایه چهارم تا دوازدهم

آزمون های آنلاین و حضوری ✓

مشاوره تخصصی ✓

با اسکن QR کد روبرو
وارد صفحه اینستاگرام
آکادمی تیزلاین شو و از
محتواهای آموزشی
رایگان لذت ببر

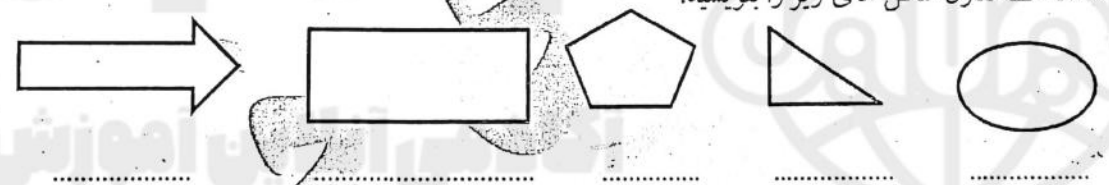



برای ورود به صفحه اصلی سایت آکادمی تیزلاین کلیک کنید

برای دانلود دفترچه آزمون های مختلف برای هر پایه کلیک کنید

برای مطالعه مقالات بروز آکادمی تیزلاین کلیک کنید



ردیف	سوالات
۱	با توجه به عدد مقابل به سوالات زیر پاسخ دهید: ۵۹۸۴ الف) بزرگترین رقم در کدام ارزش مکانی قرار دارد؟ ب) کمترین ارزش مکانی مربوط به کدام رقم است؟ ج) عدد را به حروف بنویسید
۲	در جاهای خالی عدد مناسب بنویسید. ۸ کیلومتر برابر است با متر ۵ متر برابر است با میلی متر ۲۳۴۸ متر برابر است با کیلومتر و متر ۳۵۰۰ گرم برابر است با کیلوگرم و گرم
۳	با رقم های (۴، ۲، ۰، ۵) بزرگترین و کوچکترین عدد چهار رقمی بنویس سپس اختلاف آنها را بدست بیاور. کوچکترین: (.....) بزرگترین: (.....) اختلاف: (.....)
۴	تعداد خط تقارن شکل های زیر را بنویسید. 
۵	بادکنک فروشی یک عدد بادکنک ۳۰۰ ریالی را به مبلغ ۳۳۰ ریال می فروشد ابتدا سود حاصل از فروش هر بادکنک را به دست آورید سپس به سوالات زیر پاسخ دهید (با رسم جدول حل شود) الف) اگر بادکنک فروش ، ۵ عدد بادکنک بفروشد چه قدر سود می برد؟ ب) چند بادکنک بفروشد تا ۱۸۰ ریال سود کند؟
۶	کسرهای خواسته شده را روی محور نشان دهید. $\frac{1}{2}$ واحد بعد از عدد ۲ $\frac{3}{4}$ واحد مانده به ۱



<p>۶×۵ =</p> <p>۴×۳ =</p> <p>۲×۷ =</p>	<p>۷ پاسخ ضرب های زیر را با روش خواسته شده بنویسید</p> <p>با روش جمع:</p> <p>با روش محور:</p> <p>با روش شکل:</p>
	<p>۸ مغازه داری ۳ جعبه بیسکویت ۱۰ تایی را در یک کارتن قرار می دهد اگر ۷ کارتن بیسکویت داشته باشد چه تعداد بیسکویت وجود دارد؟</p>
<p>×۳۲۵</p> <p>۴</p>	<p>۹ ضرب های زیر را با روش گسترده نویسی همراه با رسم شکل انجام دهید.</p> <p>× ۲۲</p> <p>۳</p>
	<p>۱۰ محیط و مساحت مستطیلی به طول ۲۰ و عرض ۱۰ سانتی متر را پیدا کنید.</p>
<p>۳۶ ۴</p> <p>۵۹ ۸</p> <p>۸۱ ۹</p>	<p>۱۱ حاصل تقسیم های زیر را بدست آورید.</p>

۱۲- دایره ای به قطر ۴ سانتی متر رسم کنید. (با پرگار)

شعاع دایره چند سانتی متر است؟

دایره را به ۶ قسمت مساوی تقسیم کنید و دو قسمت آن را رنگ کنید

چه کسری از دایره رنگ شده است؟

چه کسری از دایره رنگ نشده است؟



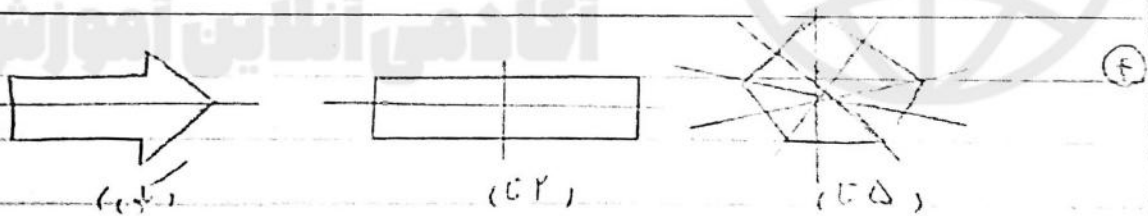
Subject: Year _____ Month _____ Date _____


ریاضی سوالات مدرسه متعلقه خود

① سیده زینب بی بی عالی
 ۱۲ هزارگان
 به ۳۰۰ کیلوگرم میخ است
 ج ۱ پنج هزار و نهصد و هشتاد و چهار

② ۸ کیلو متر برابر است با ۸۰۰۰ متر
 ۵ متر برابر است با ۵۰۰۰ میلی متر
 ۲۴۸ متر برابر است با ۲ کیلومتر و ۴۸ متر

③ اقلترین ← ۲۰۴۵
 بزرگترین ← ۵۴۲۰
 اختلاف ← $5420 - 2045 = 3375$

④ 
 (۳) (۴) (۱۰)

بی شمار → 

⑤

تعداد	۱	۲	۳	۴	۵	۶
سود	۳۰	۶۰	۹۰	۱۲۰	۱۵۰	۱۸۰



Subject: Year: Month: Class:

رایج سوگ عدسه منظوم خود

①

اسید زینب بن جالی

②

③

④

⑤

⑥

⑦

⑧

⑨

⑩

⑪

⑫

⑬

⑭

⑮

⑯

⑰

⑱

⑲

⑳

㉑

㉒

㉓

㉔

㉕

㉖

㉗

㉘

㉙

㉚

㉛

㉜

㉝

㉞

㉟

㊱

㊲

㊳

㊴

㊵

㊶

㊷

㊸

㊹

㊺

㊻

㊼

㊽

㊾

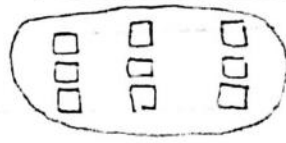
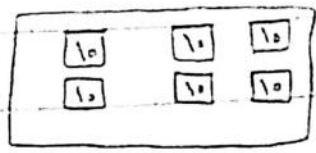
㊿



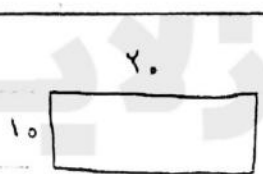
Subject: _____ Year: _____ Month: _____ Date: _____

ریاضی مسأله درسه نظام خرد
 • سید زینت بی جالی

$$\begin{array}{r} 22 \\ \times 2 \\ \hline 44 \\ + 9 \\ \hline 53 \end{array}$$



9



$$\begin{aligned} \text{مساحت} &= 20 \times 10 = 200 \\ \text{حجم} &= 2 \times (20 + 10) = 60 \end{aligned}$$

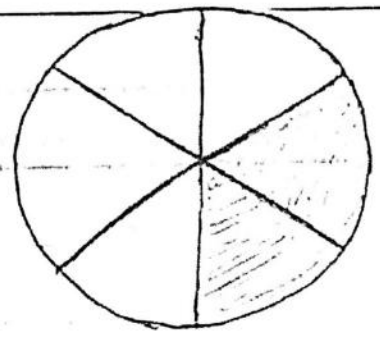
10

$$\begin{array}{r} 34 \overline{) 14} \\ - 34 \\ \hline 00 \end{array}$$

$$\begin{array}{r} 56 \overline{) 1} \\ - 56 \\ \hline 2 \end{array}$$

$$\begin{array}{r} 81 \overline{) 9} \\ - 81 \\ \hline 00 \end{array}$$

11



شعاع دایره ← ۲ سانتی متر
 $\frac{2}{6}$ دایره یک شه / $\frac{2}{6}$ دایره یک شه است