



# آکادمی آنلاین تیزلاین قوی ترین پلتفرم آموزشی تیز هوشان

برگزار کننده کلاس های آنلاین و حضوری تیز هوشان ✓

و المپیاد از پایه چهارم تا دوازدهم

آزمون های آنلاین و حضوری ✓

مشاوره تخصصی ✓

با اسکن QR کد روبرو  
وارد صفحه اینستاگرام  
آکادمی تیزلاین شو و از  
محتوای آموزشی  
رایگان لذت ببر



برای ورود به صفحه اصلی سایت آکادمی تیزلاین کلیک کنید

برای دانلود دفترچه آزمون های مختلف برای هر پایه کلیک کنید

برای مطالعه مقالات بروز آکادمی تیزلاین کلیک کنید




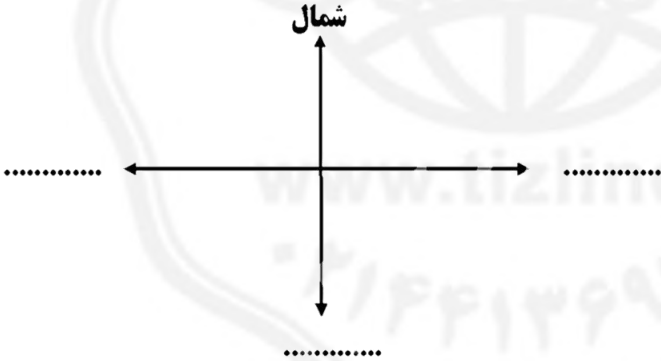
ردیف	سؤالات	نوع
۱	<p>گزینه ی درست را با (✓) و گزینه‌ی نا درست را با (X) مشخص کنید.</p> <p>۱-شناسنامه هر کس نشان می دهد که او کیست؟ و از کدام خانواده است؟</p> <p>۲-شکل و قیافه ی ما با هم فرق ندارد .</p> <p>۳-خانواده با ازدواج زن و مرد به وجود می آید .</p> <p>۴-مقررات به ما می گوید، چه کارهایی را باید انجام دهیم یا انجام ندهیم .</p> <p>۵- نفت ماده‌ی اولیه ی بعضی از وسایل زندگی ما است.</p> <p>۶-پس انداز کردن در زندگی کار درستی نیست .</p> <p>۷-بعضی از زباله ها را می توان بازیافت کرد .</p> <p>۸-افراد از راه کار کردن، پول بدست می آورند به این پول پس انداز می گوئیم.</p> <p>۹-از گاز مسافرتی برای گرم کردن هوای خانه یا حمام استفاده کنیم.</p> <p>۱۰-هر روز صبح خورشید از جهت مغرب طلوع و در زمان غروب در جهت مشرق غروب می کند.</p> <p>۱۱-در مناطق پرباران سقف خانه ها را گنبدی و در مناطق گرم شیب دار می سازند.</p> <p>۱۲-رنگ مورنگ پوست و چشم و قیافه و هیكل افراد به یکدیگر شباهت دارند.</p> <p>۱۳-با ازدواج فرزندان و بچه دار شدن آنها پدر مادر صاحب نوه می شوند.</p> <p>۱۴-فلزاتی مثل آهن و مس را از معدن استخراج می کنیم.</p> <p>۱۵-هنگام شب برای عبور از کوچه و خیابان،لباس روشن بپوشیم یا از شبرنگ و کاغذ سفید استفاده کنیم.</p>	
۲	<p>گزینه‌ی درست را انتخاب کن .</p> <p>۱-امروزه به کمک کدام یک از موارد زیر می توان در زمان کوتاهی به یکدیگر نامه فرستاد؟</p> <p>الف) پست پیشتیاز      ب) هواپیما      ج) ایمیل</p> <p>۲- کدام مورد جزء جهت های اصلی نمی باشد؟</p> <p>الف) شمال      ب) غرب      ج) جنوب شرقی</p>	



۲	<p>۳- کدام گزینه نشانی دقیق خانه را نشان می دهد؟                  الف) نام شهر - نام محله - شماره ی خانه                  ب) نام شهر - نام محله - نام خیابان - نام کوچه - پلاک                  ج) نام خیابان - نام کوچه - نام محله - پلاک - واحد                  د) نام محله - نام کوچه - پلاک</p> <p>۴- مواد اولیه ی کدام یک از وسایل برای تولید به کارخانه ی پتروشیمی منتقل نمی شود؟                  الف) لاستیک                  ب) مواد شوینده                  ج) قابلمه</p> <p>۵- معنی " اسراف " در کدام گزینه دیده می شود؟                  الف) کم مصرف کردن                  ب) زیاد مصرف کردن                  ج) درست مصرف کردن</p> <p>۶- هنگام تولد به چه نوع غذایی نیاز داشتید؟                  الف) غذای کمکی                  ب) گوشت                  ج) شیر</p> <p>۷- به پولی که افراد از راه کار کردن به دست می آورند، چه می گویند؟                  الف) دلار                  ب) ارز                  ج) درآمد                  د) مالیات</p> <p>۸- کدام یک از موارد زیر تفاوت های میان ما انسان ها نمی باشد؟                  الف) رنگ مو                  ب) قیافه                  ج) قد و هیكل                  د) نیاز به غذا و آب</p> <p>۹- کدام یک از موارد زیر موجب ایجاد تغییر در اندازه ی خانواده نمی شود؟                  الف) تولد یک بچه                  ب) مرگ یکی از افراد خانواده                  ج) مهاجرت یکی از افراد خانواده                  د) جابه جایی منزل</p> <p>۱۰- از شناسنامه برای انجام دادن چه کاری استفاده نمی شود؟                  الف) ثبت نام مدرسه                  ب) گرفتن دفترچه بهداشتی                  ج) رفتن به بیمارستان                  د) ازدواج و کار</p>
۳	<p>جاهای خالی را با کلمات مناسب کامل کنید.</p> <p>۱- دست کاری وسایل برقی و پریز و کلیدها موجب ..... می شود.</p> <p>۲- هر خانه غیر از نشانی به یک ..... نیاز دارد.</p> <p>۳- برای کشاورزی به ..... و ..... نیاز داریم.</p> <p>۴- تمبر را در ..... پاکت نامه ، می چسبانیم.</p> <p>۵- لباس ما، معمولا از نخ درست شده است. نخ از ..... به دست می آید.</p> <p>۶- با ..... تعداد اعضای خانواده زیاد می شود.</p> <p>۷- به خاک ، آب ، گیاهان ، جانوران ، نفت و فلزات ..... می گویند.</p> <p>۸- عشایر مردمی هستند که شغل آنها ..... است .</p> <p>۹- هر روز صبح خورشید از طرف ..... طلوع می کند و در پایان روز در جهت ..... غروب می کند.</p> <p>۱۰- ..... یعنی چه کارهایی بکنیم یا نکنیم تا از خطر دور بمانیم.</p> <p>۱۱- شعله ی بخاری باید به رنگ ..... بسوزد.</p>





	<p>در چراغ راهنمایی و رانندگی، هر یک از رنگ های زیر به چه معناست؟</p> <p>سبز:..... قرمز:..... زرد:.....</p>	۴
	<p>کدامیک از افراد زیر کالا تولید و کدامیک خدمت می کنند؟</p> <p>معلم ..... خلبان ..... خیاط ..... نجار..... آتش نشانی.....</p>	۵
	<p>هر کدام از تابلوهای زیر به چه معناست؟</p> <div style="display: flex; justify-content: space-around; align-items: center;">    </div> <p>.....</p>	۶
	<p>چهار جهت اصلی را در شکل زیر بنویسید.</p> <div style="text-align: center;"> <p>شمال</p>  </div> <p>.....</p>	۷



۱	۱-ص ۲ غ-۳ص ۴-ص ۵-ص ۶ غ-۷ص ۸ غ-۹ غ-۱۰ غ-۱۱ غ-۱۲ غ-۱۳ ص-۱۴ ص-۱۵ ص
۲	۱-ج ۲-ج ۳-ب ۴-ج ۵-ب ۶-ج ۷-ج ۸-د ۹-د ۱۰-ج
۳	۱-برق گرفتگی ۲-کدپستی ۳-آب و خاک ۴-بالا سمت راست ۵-پنبه ۶-تولد فرزندان ۷-منابع طبیعی ۸-دامپروری ۹-شرق-غرب ۱۰-نکات ایمنی ۱۱-آبی
۴	حرکت-ایست-به آرامی
۵	خدماتی-خدماتی-تولیدی-تولیدی-خدماتی
۶	بوق زدن ممنوع-ورود ممنوع-محل عبور عابر پیاده
۷	شرق شمال جنوب غرب

