



# آکادمی آنلاین تیز لاین

## قوی ترین پلتفرم آموزشی تیز هوشان

برگزار کننده کلاس های آنلاین و حضوری تیز هوشان ✓

و المپیاد از پایه چهارم تا دوازدهم

آزمون های آنلاین و حضوری ✓

مشاوره تخصصی ✓


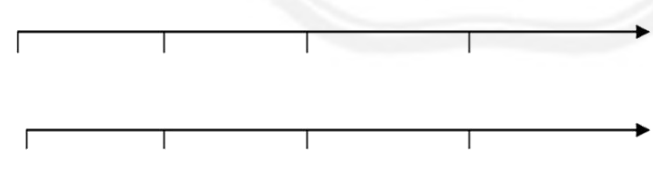
با اسکن QR کد روبرو  
وارد صفحه اینستاگرام  
آکادمی تیز لاین شو و از  
محتوای آموزشی  
رایگان لذت ببر






برای ورود به صفحه اصلی سایت آکادمی تیز لاین کلیک کنید

برای دانلود دفترچه آزمون های مختلف برای هر پایه کلیک کنید

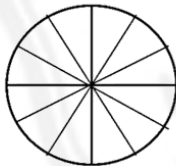

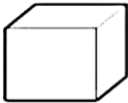


برای مطالعه مقالات بروز آکادمی تیز لاین کلیک کنید

ردیف	سوالات	بارم
۱-	الگوهای زیر را ادامه بده.  .....، ۶۸، ۶۴، ۶۰	
۲-	برنامه تلویزیونی عموپورنگ ساعت ۱۹:۳۰ پخش می‌شود، زمان پخش این برنامه ساعت چند بعدازظهر است؟	
۳-	با توجه به عدد (۸۰۶۳) به سوالات زیر پاسخ دهید. الف) عدد را به حروف بنویس. .... ب) رقم صفر در چه مرتبه‌ای (ارزش مکانی) قرار دارد؟ ج) بزرگترین عدد در چه مرتبه‌ای قرار دارد؟	
۴-	جاهای خالی را پر کنید. • عدد ..... یعنی ۲ یکی، ۷ صدتایی، ۵ هزارتایی و ۴ دهتایی. • اندازه‌ی در هر شکل را ..... می‌نامند. • ۶۴۰۰ گرم یعنی ..... کیلوگرم و ..... گرم. • خط‌های ..... هیچ وقت یکدیگر را قطع نمی‌کنند. • ..... سانتی‌متر یعنی ۱ متر و ۳۷ سانتی متر.	
۵-	کسرهای زیر را روی محور نشان دهید. 	




<p>۶- برای کسر زیر شکل بکش.</p> $\frac{4}{6}$	<p>تساوی کسره‌های زیر را با شکل نشان بده.</p> $\frac{1}{4} = \frac{2}{8}$
<p>۷- برای شکلهای روبرو عملیات‌های خواسته شده را بنویس.</p> <p>..... + ..... + ..... + ..... + ..... + ..... = .....</p> <p>..... × ..... = .....</p> <p>..... ÷ ..... = .....</p> <p>_____ → ÷ =</p>	
<p>۸- محیط شکل زیر را پیدا کنید.</p>  <p>(روش جمع)</p>	 <p>(روش ضرب)</p>
<p>۹- سن سارا ۳۰ سال است. اگر سن برادرش ۶ سال باشد، سن سارا چند برابر برادرش است؟</p>	
<p>۱۰- باغچه‌ای به شکل مستطیل به طول ۸ و عرض ۵ داریم. می‌خواهیم دور تا دور آن را نرده بکشیم، برای دور تا دور آن به چند متر نرده نیاز داریم؟ مساحت این باغچه را به دست آورید.</p>	
<p>۱۱- حاصل جمع و تفریق‌های زیر را بدست آورید.</p> $\begin{array}{r} 4652 \\ + 3247 \\ \hline \end{array}$ <p>← فرآیندی</p>	$\begin{array}{r} 5802 \\ - 2369 \\ \hline \end{array}$ <p>← تکنیکی</p>



	<p>۱۲- مقایسه کن و علامت ( &lt; = &gt; ) بگذار.</p> <p> <math>0 \times 4 \square 8 \times 0</math>      <math>\frac{4}{4} \square 2</math>      نیم <input type="checkbox"/>      نصف <input type="checkbox"/></p> <p> <math>100 \times 2 \times 4 \square 40 \times 30 \times 1</math>      <math>2000 + 2500 \square 1500 + 3000</math></p> <p> <math>\frac{2}{6} \square \frac{4}{6}</math>      <math>12 \div 2 \square 15 \div 3</math>      <math>\frac{2}{5} \square \frac{2}{3}</math></p>												
	<p>۱۳- یک دستگاه جوراب بافی در هر ساعت ۳۵ جفت جوراب می‌بافد، این دستگاه در ۸ ساعت چند جفت جوراب می‌بافد؟</p>												
	<p>۱۴- در باغ مشهدی یحیی درختان زیر کاشته شده است. با توجه به جدول نمودارها را کامل کن و به سوالات پاسخ بده.</p> <p>درختان هلو چه کسری از کل درختان است؟ کدام درخت بیشتر در این باغ کاشته شده است؟</p> <table border="1" data-bbox="358 936 784 1073"> <thead> <tr> <th>نوع درخت</th> <th>سیب</th> <th>گیلاس</th> <th>پرتقال</th> <th>هلو</th> <th>گلایی</th> </tr> </thead> <tbody> <tr> <td>تعداد</td> <td>۱۵</td> <td>۲۰</td> <td>۵</td> <td>۱۰</td> <td>۱۰</td> </tr> </tbody> </table> <p> (هر قسمت = ۵ درخت)</p>	نوع درخت	سیب	گیلاس	پرتقال	هلو	گلایی	تعداد	۱۵	۲۰	۵	۱۰	۱۰
نوع درخت	سیب	گیلاس	پرتقال	هلو	گلایی								
تعداد	۱۵	۲۰	۵	۱۰	۱۰								
	<p>۱۵- حاصل ضرب و تقسیم‌های زیر را به دست بیاورید.</p> <p> <math display="block">\begin{array}{r} 436 \\ \times 4 \\ \hline \end{array}</math> <math display="block">\begin{array}{r} 72 \\ \times 5 \\ \hline \end{array}</math> <math display="block">\begin{array}{r} 34 \\ \times 4 \\ \hline \end{array}</math> <math display="block">\begin{array}{r} 76 \\ \times 8 \\ \hline \end{array}</math> </p>												
	<p>۱۶- نام شکلهای زیر را بنویس.</p> <p>                    </p>												





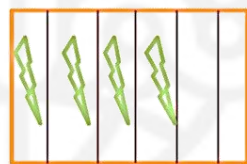
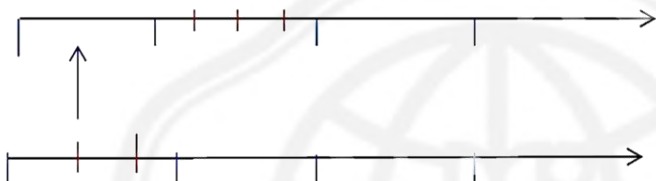
(۱) 72-76

(۲) 7:30 — 19:30

(۳) الف-هشت هزار و شصت و سه. ب-صدگان. ج-هزارگان

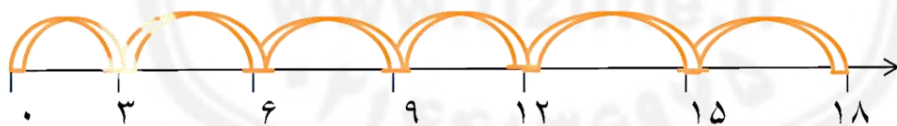
(۴) ۵۷۴۲، محیط، ۶ کیلو گرم و ۴۰۰ گرم، موازی، ۳۷

(۵)



(۶)

(۷)  $18 \div 6 = 3$      $6 * 3 = 18$      $3+3+3+3+3+3=18$



(۸)  $3 * 3 = 9$      $1+2+1+1+2+3=10$

(۹)  $30 \div 6 = 5$

(۱۰) محیط:  $8+5+8+5=26$     مساحت:  $5 * 8 = 40$



۰۲۱-۹۱۳۰۲۲۰۲ \* ۰۲۱-۴۴۱۳۶۹۷۵

Tizline.ir

۰۹۳۳۳۸۴۰۲۰۲

تیزلاین منبع معتبر تیزهوشان

سامانه پیامکی: ۹۰۰۰۱۶۲۰

$$\begin{array}{r} 5802 \\ - 2369 \\ \hline 3433 \end{array}$$

$$\begin{array}{r} 4652 \\ + 3247 \\ \hline 7899 \end{array}$$

(۱۱)

$$\begin{array}{r} 4652 \\ + 247 \\ \hline 7899 \end{array}$$

$$\begin{array}{r} 7899 \\ + 47 \\ \hline 7899 \end{array}$$

$$\begin{array}{r} 7899 \\ + 7 \\ \hline 7899 \end{array}$$

$$\frac{1}{2} = \text{نصف}$$

$$2 > \frac{4}{4}$$

$$0.8 = 0.4(12)$$

$$1500 + 3000 = 2000 + 2500$$


$$1 * 3 * 4 < 4 * 2 * 100$$

$$\frac{3}{2} > \frac{5}{2}$$


$$15 \div 3 < 12 \div 2$$

$$\frac{6}{4} > \frac{6}{2}$$

$$35 * 8 = 280 (13)$$



(۱۴) ۱ پرتغال - ۳ سیب - ۲ هلو - ۴ گیلان - ۲ گلابی



$$\begin{array}{r} 76 \overline{) 8} \\ - 72 \\ \hline 04 \end{array}$$

$$\begin{array}{r} 34 \overline{) 4} \\ - 32 \\ \hline 02 \end{array}$$

$$72 * 5 = 360$$

$$436 * 4 = 1744 (15)$$





۱۶) هشت ضلعی، مخروط، مکعب، استوانه

