



# آکادمی آنلاین تیز لاین

## قوی ترین پلتفرم آموزشی تیز هوشان

برگزار کننده کلاس های آنلاین و حضوری تیز هوشان ✓

و المپیاد از پایه چهارم تا دوازدهم

آزمون های آنلاین و حضوری ✓

مشاوره تخصصی ✓

با اسکن QR کد روبرو  
وارد صفحه اینستاگرام  
آکادمی تیز لاین شو و از  
محتوای آموزشی  
رایگان لذت ببر



برای ورود به صفحه اصلی سایت آکادمی تیز لاین کلیک کنید

برای دانلود دفترچه آزمون های مختلف برای هر پایه کلیک کنید

برای مطالعه مقالات بروز آکادمی تیز لاین کلیک کنید

۱- جاهای خالی را با کلمات مناسب پر کنید .

- به دو خطی که هیچ وقت یکدیگر را قطع نمی کنند ..... می گویند .
- در مستطیل طول روبرو و عرض های روبرو با هم ..... هستند .
- مربع دارای ..... قطر است .
- مثلثی که هر سه ضلع آن برابرند ..... نام دارد .
- هر دو جین مداد ..... عدد مداد است .

---

۲- دختر نمونه گزینه درست را انتخاب کنید .

- مادر پانینسا برای هر پیراهن ۵ دکمه می دوزد ، ۱۵ دکمه را به چند پیراهن می دوزد ؟

الف ( ۱۰ )       ب ( ۶ )       ج ( ۳ )       د ( ۸ )

- حاصل تقسیم  $48 \div 8 = ?$  می شود ؟

الف ( ۷ )       ب ( ۶ )       ج ( ۹ )       د ( ۳ )

- به خطی که بتوان از دو طرف ادامه داد ..... می گویند .

الف ( پاره خط )       ب ( نیم خط )       ج ( خط خمیده )       د ( خط راست )

- یک ۵ ضلعی دارای ..... قطر است .

الف ( ۱۰ )       ب ( ۹ )       ج ( ۵ )       د ( ۷ )

- طول مستطیلی ۶ و عرض آن ۴ سانتی متر می باشد، مساحت این مستطیل می شود ؟

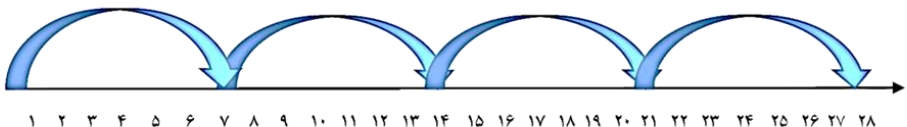
الف ( ۲۴ س )       ب ( ۲۸ س )       ج ( ۳۲ )       د ( ۴۵ س )





۳- به سوالات زیر دختر زیبای من با دقت جواب بده .


☆ برای محور زیر یک تقسیم بنویسد .



..... ÷ ..... = .....

---

☆ دخترم مساحت قسمت رنگی را پیدا کنید .




---

☆ جمع و تفریق زیر را به روش فرایندی به دست آورید .

|   |   |
|---|---|
| $\begin{array}{r} 7538 \\ - \\ \hline 6421 \end{array}$ | $\begin{array}{r} 6024 \\ + \\ \hline 2523 \end{array}$ |
|---|---|

---

☆ بارقم های ۵ ، ۱ ، ۳ ، ۹ بزرگترین و کوچکترین عدد ۴ رقمی را بسازید و اختلاف آن را به دست آورید.

جدول زیر میزان علاقه مندی دانش آموزان مدرسه را به کتاب های مختلف نشان می دهد.

| نوع کتاب | علمی | مذهبی | تاریخی | هنری |
|----------|------|-------|--------|------|
| تعداد    | ۳۰   | ۶۰    | ۸۰     | ۹۰   |

☆ دخترم اطلاعات داده شده را روی نمودار به صورت ستونی نشان بده .



☆ تساوی های داده شده را به دست آورید.

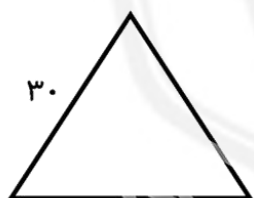
$$200 \times 400 = \dots\dots\dots$$

$$50 \times 20 = \dots\dots\dots$$

$$40 \times 20 \times 10 = \dots\dots\dots$$

$$20 \times 3 \times 10 = \dots\dots\dots$$

☆ محیط مثلث متساوی الاضلاع زیر چند سانتی متر است ؟



☆ علامت < = > بگذار .

$$450 + 200 \quad \bigcirc \quad 650$$

$$1020 + 200 \quad \bigcirc \quad 1500 + 200$$

$$428 \quad \bigcirc \quad 4028$$



☆ دختر زیبای من حاصل ضرب و تقسیم زیر را به دست آورید .

$$\begin{array}{r} 124 \\ \times 6 \\ \hline \end{array}$$

$$54 \overline{) 8}$$

☆ می خواهیم ۴ بسته ی ۱۰ تایی مداد را بین ۵ نفر تقسیم کنیم. به هر نفر چند مداد می رسد؟

☆ با توجه به اندازه های نوشته شده طول پاره خط (?) را پیدا کنید و محیط شکل را به دست آورید.



?

www.tizline.ir



۰۲۱-۹۱۳۰۲۲۰۲ \* ۰۲۱-۴۴۱۳۶۹۷۵

Tizline.ir

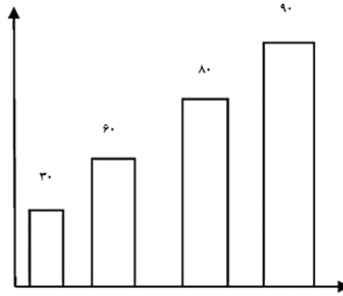
۰۹۳۳۳۸۴۰۲۰۲

تیزلاین منبع معتبر تیزهوشان

سامانه پیامکی: ۹۰۰۰۱۶۲۰

|   |
|---|
| <p>۱- خط موازی<br/>- مساوی<br/>۲-<br/>- متساوی الاضلاع<br/>۱۲-</p>    |
| <p>۲-<br/>- (ج)<br/>- (ب)<br/>- (د) خط راست<br/>- (ج)<br/>- (الف)</p> |
| <p>۳- محور<br/><math>28 \div 7 = 4</math></p>                         |
| <p>☆ (۱۸)</p>   |
| <p>☆ (۸۵۴۷) + (۱۱۱۶) -</p>  |
| <p>☆ بزرگترین (۹۵۳۱)<br/>کوچکترین (۱۳۵۹)<br/>اختلاف (۸۱۷۲)</p>        |



|   |                 |
|---|-----------------|
| <p>نمودار</p>  |                 |
| (۸۰۰۰۰)   | (۱۰۰۰) *        |
| (۸۰۰۰)  | (۶۰۰)           |
|   | (۹۰) *          |
|   | علامت *         |
| (=)   | مساوی           |
| (≥)   | سمت راست بزرگتر |
| (≤)   | سمت راست بزرگتر |
| * (۷۴۴)   | (۶) *           |
|   | (۴۰) - (۸) *    |
|   | (۳۶) *          |

