



آکادمی آنلاین تیزلاین قوی ترین پلتفرم آموزشی تیز هوشان

برگزار کننده کلاس های آنلاین و حضوری تیز هوشان ✓

و المپیاد از پایه چهارم تا دوازدهم

آزمون های آنلاین و حضوری ✓

مشاوره تخصصی ✓



با اسکن QR کد روبرو
وارد صفحه اینستاگرام
آکادمی تیزلاین شو و از
محتواهای آموزشی
رایگان لذت ببر



برای ورود به صفحه اصلی سایت آکادمی تیزلاین کلیک کنید

برای دانلود دفترچه آزمون های مختلف برای هر پایه کلیک کنید

برای مطالعه مقالات بروز آکادمی تیزلاین کلیک کنید

	<p>۱ با توجه به عدد ۱۳۵۲ به سوالات زیر پاسخ دهید . عدد چند رقمی است؟ عدد را در جدول ارزش مکانی قرار دهید. عدد را به حروف بنویسید. عدد را به صورت گسترده بنویسید؟</p> <table border="1" data-bbox="308 378 722 493"> <tr> <td>یکان</td> <td>دهگان</td> <td>صدگان</td> <td>هزارگان</td> </tr> <tr> <td></td> <td></td> <td></td> <td></td> </tr> </table>	یکان	دهگان	صدگان	هزارگان				
یکان	دهگان	صدگان	هزارگان						
	<p>۲ خط تقارن شکل‌ها را رسم کنید ؟</p> <div style="display: flex; justify-content: space-around; align-items: center;">   </div>								
	<p>۳ اخبار سراسری ساعت ۲۱ از تلویزیون پخش می‌شود یعنی ساعت بعد از ظهر. ساعت ۲ بعد از ظهر همان ساعت است.</p>								
	<p>۴ برای کسر شکل بکش و برای شکل کسر بنویس.</p> <div style="display: flex; align-items: center; justify-content: center;"> <table border="1" data-bbox="300 987 430 1102" style="margin-right: 20px;"> <tr><td></td><td></td><td></td><td></td></tr> <tr><td style="background-color: #cccccc;"></td><td style="background-color: #cccccc;"></td><td style="background-color: #cccccc;"></td><td style="background-color: #cccccc;"></td></tr> </table> $\frac{2}{5}$ </div>								
	<p>۵ جواد ۱۸ شکلات دارد. اگر ۳ تا ۳ تا شکلات‌هایش را بسته بندی کند؛ چند بسته شکلات خواهد داشت؟ شکل را رسم کنید بعد تقسیم را بنویسید.</p>								
	<p>۶ عدد‌ها را مقایسه کنید و در مربع‌ها علامت $< = >$ قرار دهید.</p> <div style="display: flex; justify-content: space-around; align-items: flex-start;"> <div style="text-align: center;"> <p>۱۰۰۰ گرم <input type="checkbox"/> ۲ کیلوگرم</p> <p>۶ ÷ ۲ <input type="checkbox"/> ۹ ÷ ۳</p> </div> <div style="text-align: center;"> <p>۲ × ۴ <input type="checkbox"/> ۵ × ۲</p> <p>ساعت ۱ <input type="checkbox"/> ساعت ۱۳</p> </div> <div style="text-align: center;"> <p>۲۰۰ ریال <input type="checkbox"/> ۲۰ تومان</p> <p>$\frac{2}{5}$ <input type="checkbox"/> $\frac{3}{5}$</p> </div> </div>								



۰۲۱-۹۱۳۰۲۲۰۲ * ۰۲۱-۴۴۱۳۶۹۷۵



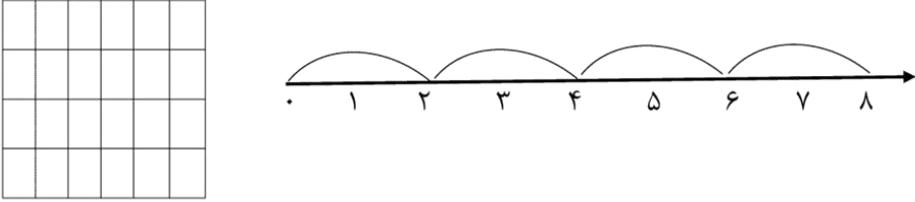


Tizline.ir



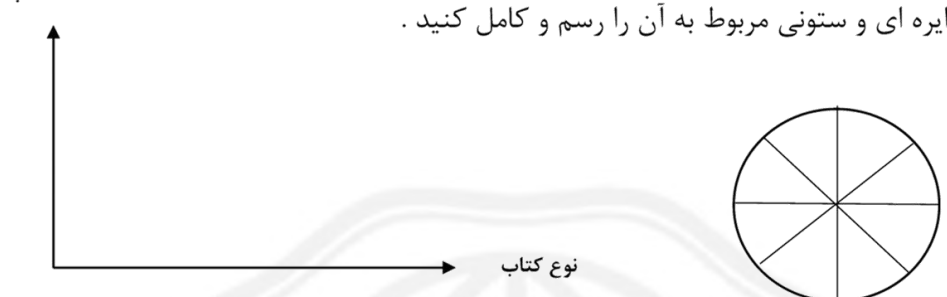
۰۹۳۳۳۸۴۰۲۰۲

تیزلاین منبع معتبر تیزهوشان

سامانه پیامکی: ۹۰۰۰۱۶۲۰


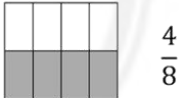

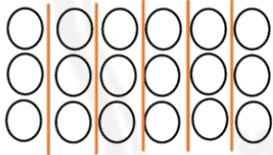
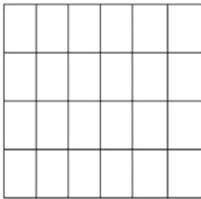
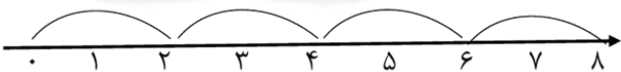
	<p>۷ برای شکل و محور هر کدام یک ضرب بنویس.</p>  <p>.....</p>
	<p>۸ اسم این شکل چیست؟ آیا می توان آن را اندازه گیری کرد؟ چرا؟</p> 
	<p>۹ محیط شکل ها را حساب کنید.</p> 
	<p>۱۰ زمینی داریم به شکل مستطیل به طول ۶ متر و عرض ۴ متر. مساحت این زمین چند متر مربع است؟</p>
	<p>۱۱ جمع و تفریق عددها را به روش خواسته شده انجام دهید.</p> <p>فرآیندی تکنیکی و سریع</p> $\begin{array}{r} 1429 \\ + 2661 \\ \hline \end{array}$ $\begin{array}{r} 5685 \\ - 1302 \\ \hline \end{array}$
	<p>۱۲ یک تاس را می اندازیم چند حالت ممکن است اتفاق بیفتد؟ چرا؟</p>



	<p>تعداد کتاب های مدرسه ای در جدول زیر مشخص و نوشته شده است .</p> <table border="1" data-bbox="706 378 1339 493"> <tr> <td>نوع کتاب</td> <td>علمی</td> <td>داستان</td> <td>مذهبی</td> <td>غیر درسی</td> </tr> <tr> <td>تعداد کتاب</td> <td>۴۰</td> <td>۲۰</td> <td>۱۰</td> <td>۱۰</td> </tr> </table> <p>نمودار دایره ای و ستونی مربوط به آن را رسم و کامل کنید .</p> 	نوع کتاب	علمی	داستان	مذهبی	غیر درسی	تعداد کتاب	۴۰	۲۰	۱۰	۱۰
نوع کتاب	علمی	داستان	مذهبی	غیر درسی							
تعداد کتاب	۴۰	۲۰	۱۰	۱۰							
	<p>پاسخ ضرب های زیر را بنویس .</p> $\begin{array}{r} 124 \\ \times 5 \\ \hline \end{array}$ $\begin{array}{r} 13 \\ \times 3 \\ \hline \end{array}$ $50 \times 40 =$ $8 \times 300 =$										
	<p>تقسیم ها را انجام دهید .</p> $36 \overline{) 7}$ $25 \overline{) 4}$										



پاسخنامه آزمون

۱	عدد چهار رقمی هزار و سیصد و پنجاه و دو $1000 + 300 + 50 + 2 = 1352$	<table border="1"> <thead> <tr> <th>یکان</th> <th>دهگان</th> <th>صدگان</th> <th>هزارگان</th> </tr> </thead> <tbody> <tr> <td>۲</td> <td>۵</td> <td>۳</td> <td>۱</td> </tr> </tbody> </table>	یکان	دهگان	صدگان	هزارگان	۲	۵	۳	۱
یکان	دهگان	صدگان	هزارگان							
۲	۵	۳	۱							
۲										
۳	اخبار سراسری ساعت ۲۱ از تلویزیون پخش می شود یعنی ساعت ۹ بعد از ظهر. ساعت ۲ بعد از ظهر همان ساعت ۱۴ است.									
۴	 									
۵	 $18 \div 3 = 6$ ۶ دسته داریم									
۶	$1000 \text{ گرم} > 2 \text{ کیلوگرم}$ $9 \div 3 = 6 \div 2$ $5 \times 2 > 2 \times 4$ ساعت ۱ = ساعت ۱۳ $\frac{3}{5} > \frac{2}{5}$ $200 \text{ ریال} = 20 \text{ تومان}$									
۷	  $4 \times 2 = 8$ $6 \times 4 = 24$									
۸	نیم خط، خیره؛ این شکل یک طرف آن بسته و طرف دیگر آن باز است بنابراین از یک سمت قابل ادامه دادن است و قابل اندازه گیری نمی باشد.									



۰۲۱-۹۱۳۰۲۲۰۲ * ۰۲۱-۴۴۱۳۶۹۷۵



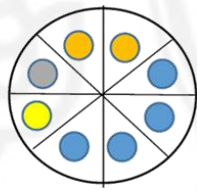
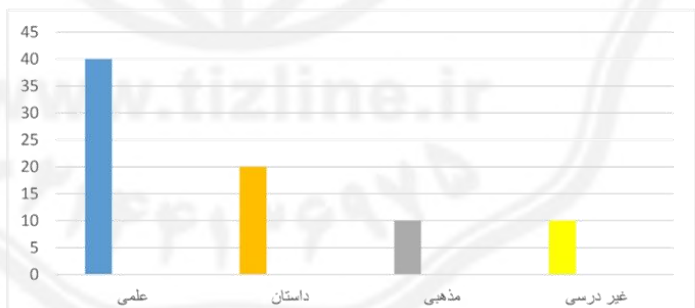
Tizline.ir



۰۹۳۳۳۸۴۰۲۰۲

تیزلاین منبع معتبر تیزهوشان

سامانه پیامکی: ۹۰۰۰۱۶۲۰

<p>محیط مثلث: $4 + 4 + 4 = 12$ محیط مربع: $3 + 3 + 3 + 3 = 12$</p>	<p>۹</p>
<p>متر مربع $6 \times 4 = 24$ مساحت</p>	<p>۱۰</p>
<div style="display: flex; justify-content: space-around;"> <div style="text-align: center;"> $\begin{array}{r} 1429 \\ + 2661 \\ \hline 4090 \end{array}$ </div> <div style="text-align: center;"> $\begin{array}{r} 5685 \\ - 1302 \\ \hline 4383 \\ - 302 \\ \hline 4081 \\ - 02 \\ \hline 4079 \end{array}$ </div> </div>	<p>۱۱</p>
<p>۱۲ ۶ حالت ممکن است رخ دهد، زیرا یک تاس شش شماره دارد.</p>	
<div style="text-align: center;">  </div> <div style="text-align: center;">  </div>	<p>۱۳</p>
<div style="display: flex; justify-content: space-around;"> <div style="text-align: center;"> $\begin{array}{r} 124 \\ \times 5 \\ \hline 620 \end{array}$ </div> <div style="text-align: center;"> $\begin{array}{r} 13 \\ \times 3 \\ \hline 39 \end{array}$ </div> <div style="text-align: center;"> $50 \times 40 = 2000$ </div> <div style="text-align: center;"> $8 \times 300 = 2400$ </div> </div>	<p>۱۴</p>
<div style="display: flex; justify-content: space-around;"> <div style="text-align: center;"> $\begin{array}{r} 36 \\ - 35 \\ \hline 01 \end{array}$ </div> <div style="text-align: center;"> $\begin{array}{r} 25 \\ - 24 \\ \hline 01 \end{array}$ </div> </div>	<p>۱۵</p>

