



# آکادمی آنلاین تیزلاین قوی ترین پلتفرم آموزشی تیز هوشان

برگزار کننده کلاس های آنلاین و حضوری تیز هوشان ✓

و المپیاد از پایه چهارم تا دوازدهم

آزمون های آنلاین و حضوری ✓

مشاوره تخصصی ✓

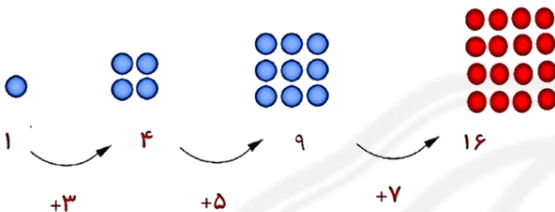
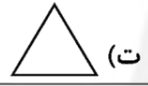
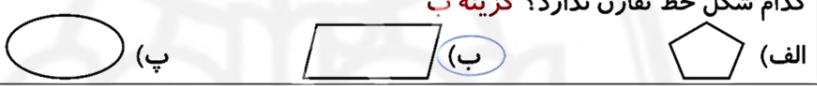
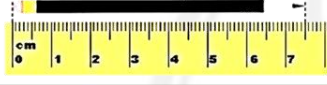


با اسکن QR کد روبرو  
وارد صفحه اینستاگرام  
آکادمی تیزلاین شو و از  
محتوای آموزشی  
رایگان لذت ببر



برای ورود به صفحه اصلی سایت آکادمی تیزلاین کلیک کنید

برای دانلود دفترچه آزمون های مختلف برای هر پایه کلیک کنید


برای مطالعه مقالات بروز آکادمی تیزلاین کلیک کنید

<p>الف) عدد ۷۰۲۳ را در جدول ارزش مکانی قرار بده.</p> <table border="1" data-bbox="251 304 609 388"> <tr> <td>ه</td> <td>ص</td> <td>د</td> <td>ی</td> </tr> <tr> <td>۷</td> <td>.</td> <td>۲</td> <td>۳</td> </tr> </table>	ه	ص	د	ی	۷	.	۲	۳	<p>ب) این عدد را به حروف بنویس. هفت هزار و بیست و سه ج) ارزش مکانی عدد ۷ چیست؟ یکان هزار</p>
ه	ص	د	ی						
۷	.	۲	۳						
<p>۴۴۰ - ۴۵۱ - ۴۶۲ - ۴۷۳ - ۴۸۴ - ۴۹۵ - ۵۰۶</p>	<p>۲ الگوی عددی و شکلی زیر را ادامه بده.</p> 								
	<p>۳ کدام شکل خط تقارن ندارد؟ گزینه ب</p> 								
	<p>۴ طول مداد ۷ سانتی متر و یک دوم یا نیم سانتی متر است.</p>								
	<p>۵ اعداد زیر را روی محور نشان بده. دو سوم واحد بعد از عدد ۱ <math>\frac{3}{4}</math> واحد مانده به عدد ۳</p> 								
<p><math>9 \times 100 = 900</math> <math>400 \times 5 = 2000</math></p>	<p>۶ حاصل ضربهای زیر را بنویس. <math>30 \times 40 = 1200</math> <math>7 \times 9 = 63</math> <math>2 \times 20 \times 20 = 800</math></p>								
<p>۷ حاصل جمع و تفریق زیر را حساب کن.</p> $\begin{array}{r} 6082 \\ + 4884 \\ \hline 10966 \end{array}$	$\begin{array}{r} 5000 \\ - 3209 \\ \hline 1791 \end{array}$								




۸ با توجه به جدول زیر نمودار ستونی و دایره ای را کامل کن.

نوع درخت	افرا	کاج	چنار	بلوط
تعداد	۲۰	۵	۱۰	۲۵





۹ مساحت زمینی مربعی شکل به ضلع ۵۰ متر چند متر مربع است؟  
متر مربع  $۲۵۰۰ = ۵۰ \times ۵۰ =$  خودش  $\times$  اندازه ی ضلع = مساحت مربع



۱۰ تقسیم های زیر را انجام بده.

$$۳۶ \div ۶ = ۶$$

$$۵۶ \div ۷ = ۸$$


۱۱ در یک رستوران ۶ ردیف ۷ تایی صندلی و ۶ ردیف ۴ تایی میز چیده شده است. این رستوران چند میز و صندلی دارد؟ ۶۶ میز و صندلی

$$(۶ \times ۷) + (۶ \times ۴) = ۴۲ + ۲۴ = ۶۶$$

۱۲ اگر مساحت مستطیلی ۷۲ سانتی متر مربع باشد و طول این مستطیل ۹ سانتی متر باشد، عرض آن را حساب کن.  
محیط این مستطیل چقدر می شود؟  $۳۴ = ۹ + ۸ + ۹ + ۸ =$  محیط مستطیل  
مساحت مستطیل = طول  $\times$  عرض  $۷۲ \div ۹ = ۸ =$  عرض



۱۳ با استفاده از رقم های (۰، ۱، ۲، ۳، ۴، ۵، ۶، ۷، ۸، ۹)  
الف) کوچکترین عدد چهاررقمی غیر تکراری را بنویس. ۱۰۲۳  
ب) بزرگترین عدد چهاررقمی غیر تکراری زوج را بنویس. ۹۸۷۶

۱۴ کیانا ۳۵ شکلات دارد. اگر این تعداد شکلات، ۵ برابر تعداد شکلاتهای خواهرش باشد، کیانا و خواهرش روی هم چند شکلات دارند؟  
تعداد شکلاتهای خواهرش  $۳۵ \div ۵ = ۷ =$   
تعداد شکلاتهای کیانا و خواهرش با هم  $۳۵ + ۷ = ۴۲ =$

