



آکادمی آنلاین تیزلاین قوی ترین پلتفرم آموزشی تیز هوشان

برگزار کننده کلاس های آنلاین و حضوری تیز هوشان ✓

و المپیاد از پایه چهارم تا دوازدهم

آزمون های آنلاین و حضوری ✓

مشاوره تخصصی ✓

با اسکن QR کد روبرو
وارد صفحه اینستاگرام
آکادمی تیزلاین شو و از
محتواهای آموزشی
رایگان لذت ببر



برای ورود به صفحه اصلی سایت آکادمی تیزلاین کلیک کنید



برای دانلود دفترچه آزمون های مختلف برای هر پایه کلیک کنید

برای مطالعه مقالات بروز آکادمی تیزلاین کلیک کنید





۱	<p>صحیح یا غلط بودن جمله های زیر را با علامت ص یا غ مشخص کنید.</p> <p>الف) کسری که صورت و مخرجش برابر باشد، مساوی با صفر است. ()</p> <p>ب) حاصلضرب تقریبی 42×39 برابر است با ۱۵۰۰. ()</p> <p>پ) رقم یکان میلیون در عدد ۳۸۵۲۷۰۵ عدد ۲ می باشد. ()</p>								
۲	<p>نازنینم جاهای خالی را با عبارات مناسب پر کن.</p> <p>الف) اگر دو کسر صورت برابر داشته باشند، کسری بزرگتر است که مخرج آن باشد.</p> <p>ب) در تقسیم اگر باقی مانده صفر باشد یعنی مقسوم بر مقسوم علیه است.</p>								
۳	<p>دختر خوبم، گزینه ی درست را انتخاب کن.</p> <p>الف) ربع دانش آموزان کلاس ۲۰ نفری چهارم مدرسه ی خوارزمی در مسابقه ی نقاشی شرکت کرده اند. چند نفر از این کلاس در مسابقه ی نقاشی شرکت کرده اند؟</p> <table style="width: 100%; text-align: center;"> <tr> <td>۱۰ نفر (۱)</td> <td>۲۰ نفر (۲)</td> <td>۴ نفر (۳)</td> <td>۵ نفر (۴)</td> </tr> </table> <p>ب) در یک گل فروشی ۱۲ گلدان قرار دارد. اگر در هر گلدان ۲۵ شاخه گل باشد، در این گل فروشی در مجموع چند شاخه گل قرار دارد؟</p> <table style="width: 100%; text-align: center;"> <tr> <td>۳۷ (۱)</td> <td>۸۴ (۲)</td> <td>۲۵۰ (۳)</td> <td>۳۰۰ (۴)</td> </tr> </table>	۱۰ نفر (۱)	۲۰ نفر (۲)	۴ نفر (۳)	۵ نفر (۴)	۳۷ (۱)	۸۴ (۲)	۲۵۰ (۳)	۳۰۰ (۴)
۱۰ نفر (۱)	۲۰ نفر (۲)	۴ نفر (۳)	۵ نفر (۴)						
۳۷ (۱)	۸۴ (۲)	۲۵۰ (۳)	۳۰۰ (۴)						
۴	<p>دخترم محاسبات زیر را با دقت انجام بده و رابطه های تقسیم را بنویس.</p> $\begin{array}{r} 898 \\ \times 21 \\ \hline \end{array}$								
۵	<p>مربعی به ضلع ۹ سانتی متر وارد ماشین محیطیاب مربع شد. خروجی این ماشین را به دست آورید.</p>								
	یادداشت معلم :								
	نظر اولیاء:								
	<p>مقیاس نگاره ای - توصیفی: کار خیلی خوب است و هیچ نیازی به نظارت ندارد (خ) کار خوب است و به ندرت نیاز به نظارت دارد (خ ن) کار خوب است گاه گاه نیاز به نظارت دارد (خ گ) کار قابل قبول است اما احتیاج به نظارت دارد (ق) کار ضعیف است.</p>								

 ۰۲۱-۹۱۳۰۲۲۰۲ * ۰۲۱-۴۴۱۳۶۹۷۵
 Tizline.ir
 ۰۹۳۳۳۸۴۰۲۰۲



۶ فرزند پرتلاشم، عددهای زیر را مقایسه کن.

$$\frac{8}{9} \square 1\frac{1}{2}$$

$$\frac{2}{7} \square \frac{2}{4}$$

$$15 \times 14 \square 600 \div 3$$

$$1502304 \square 150234$$

۷ دختر دانا، عدد ۱۰۶۴۳۵۸۲ را در جدول ارزش مکانی قرار داده و سپس به سوالات زیر پاسخ بده.
الف) این عدد را به حروف بنویس.
ب) کوچکترین رقم در کدام مرتبه قرار دارد؟

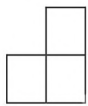
۸ فرزانه ۱۲ سال دارد. پدر فرزانه از سه برابر سن او ۴ سال بیشتر سن دارد. پدر فرزانه چند ساله است؟

۹ نازنینم، کسرهای زیر را ساده کن.

$$\frac{25}{50} =$$

$$\frac{63}{81} =$$

۱۰ دخترم با توجه به الگوی زیر، بگو شکل پنجم از چند مربع تشکیل شده است؟ آن را رسم کن.



۱



۲



۳





<p>۱ صحیح یا غلط بودن جمله های زیر را با علامت ص یا غ مشخص کنید. الف) کسری که صورت و مخرجش برابر باشد، مساوی با صفر است. (غ) ب) حاصلضرب تقریبی 42×39 برابر است با ۱۵۰۰. (ع) پ) رقم یکان میلیون در عدد ۳۸۵۲۷۰۵ عدد ۲ می باشد. (ع)</p>	<p>۱</p>
<p>۲ نازنینم جاهای خالی را با عبارات مناسب پر کن. الف) اگر دو کسر صورت برابر داشته باشند، کسری بزرگتر است که مخرج آن باشد. ب) در تقسیم اگر باقی مانده صفر باشد یعنی مقسوم بر مقسوم علیه است.</p>	<p>۲</p>
<p>۳ دختر خوبم، گزینه ی درست را انتخاب کن. الف) ربع دانش آموزان کلاس ۲۰ نفره ی چهارم مدرسه ی خوارزمی در مسابقه ی نقاشی شرکت کرده اند. چند نفر از این کلاس در مسابقه ی نقاشی شرکت کرده اند؟ ب) در یک گل فروشی ۱۲ گلدان قرار دارد. اگر در هر گلدان ۲۵ شاخه گل باشد، در این گل فروشی در مجموع چند شاخه گل قرار دارد؟</p>	<p>۳</p> <p>الف) ۱۰ نفر (۱) ۲۰ نفر (۲) ۴ نفر (۳) ۵ نفر (۴)</p> <p>ب) ۳۷ (۱) ۸۴ (۲) ۲۵۰ (۳) ۳۰۰ (۴)</p>
<p>۴ دخترم محاسبات زیر را با دقت انجام بده و رابطه های تقسیم را بنویس. $\begin{array}{r} 345 \\ \times 201 \\ \hline 49005 \\ 69000 \\ 69000 \\ \hline 69345 \end{array}$</p>	<p>۴</p> <p>$\begin{array}{r} 898 \overline{) 21} \\ \underline{-84} \\ 58 \\ \underline{-42} \\ 16 \end{array}$</p>
<p>۵ مربعی به ضلع ۹ سانتی متر وارد ماشین محیطیاب مربع شد. خروجی این ماشین را به دست آورید. $9 \times 4 = 36$</p>	<p>۵</p>
<p>یادداشت معلم:</p>	
<p>نظر اولیاء:</p>	
<p>مقیاس نگاره ای - توصیفی: کار خیلی خوب است و هیچ نیازی به نظارت ندارد (خ) کار خوب است و به ندرت نیاز به نظارت دارد (خ ن) کار خوب است گاه گاه نیاز به نظارت دارد (خ گ) کار قابل قبول است اما احتیاج به نظارت دارد (ق) کار ضعیف است.</p>	





۶ فرزند پرتلاشم، عددهای زیر را مقایسه کن.

$\frac{8}{9} \square \frac{1}{2}$

$\frac{3}{7} \square \frac{3}{4}$

$15 \times 14 \square 600 \div 3$

$1502304 \square 150234$

۷

دختر دانا، عدد ۱۰۶۴۳۵۸۲ را در جدول ارزش مکانی قرار داده و سپس به سوالات زیر پاسخ بده.

میلیون	هزار	صدها	دهها	یکها	صدها	دهها	یکها
۱	۰	۶	۴	۳	۵	۸	۲

الف) این عدد را به حروف بنویس. (ده میلیون و شصت و چهار هزار و شصت و سه)
 ب) کوچکترین رقم در کدام مرتبه قرار دارد؟ (صدها و دو)

مکان میلیون

۸

فرزانه ۱۲ سال دارد. پدر فرزانه از سه برابر سن او ۴ سال بیشتر سن دارد. پدر فرزانه چند ساله است؟

$$\begin{array}{r} \times 12 \\ 3 \\ \hline 36 \end{array}$$

$$\begin{array}{r} + 36 \\ 4 \\ \hline 40 \end{array}$$
 پدر فرزانه چهل ساله است.

۹

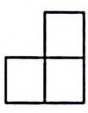
نازنینم، کسرهای زیر را ساده کن.

$\frac{35 \div 5}{50 \div 5} = \frac{7}{11}$

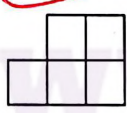
$\frac{63}{81} = \frac{7}{9}$

۱۰

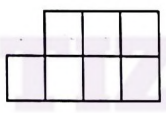
دخترم با توجه به الگوی زیر، بگو شکل پنجم از چند مربع تشکیل شده است؟ آن را رسم کن. (۱۱ مربع)



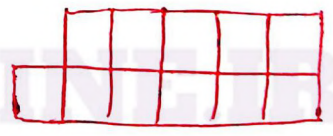
۱



۲



۳



(۵)

☆ رمز موفقیت در یک کلمه خلاصه شده است: تلاش ☆

☎ ۰۲۱-۴۴۱۳۶۹۷۵ * ۰۲۱-۹۱۳۰۲۲۰۲
 📷 Tizline.ir
 📞 ۰۹۳۳۳۳۸۴۰۲۰۲