



آکادمی آنلاین تیزلاین قوی ترین پلتفرم آموزشی تیز هوشان

برگزار کننده کلاس های آنلاین و حضوری تیز هوشان ✓

و المپیاد از پایه چهارم تا دوازدهم

آزمون های آنلاین و حضوری ✓

مشاوره تخصصی ✓

با اسکن QR کد روبرو
وارد صفحه اینستاگرام
آکادمی تیزلاین شو و از
محتوای آموزشی
رایگان لذت ببر



برای ورود به صفحه اصلی سایت آکادمی تیزلاین کلیک کنید

برای دانلود دفترچه آزمون های مختلف برای هر پایه کلیک کنید

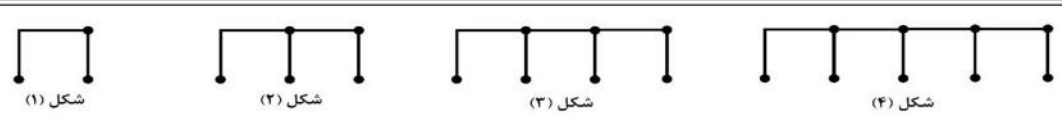

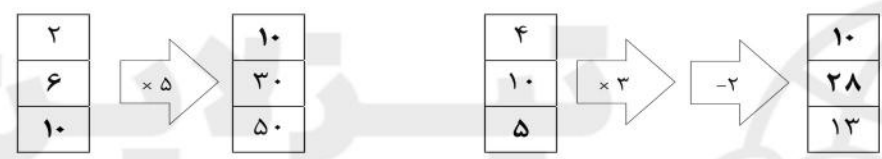
برای مطالعه مقالات بروز آکادمی تیزلاین کلیک کنید





ردیف	دخترای کلم به سوالات زیر پاسخ دهید.	بارم
۱	ارزشیابی سه ماهه اول (دی ماه) تاریخ: ۱۴۰۰/۱۰/۲۵ نام و نام خانوادگی: به نام خدا دبستان: دخترانه گل یاس ریاضی پایه چهارم الگوهای زیر را پیدا کنید. الف) شکل (۶) را پیدا کنید. ب) <input type="text" value="۱۱۰"/> <input type="text" value="۱۲۰"/> <input type="text" value="۱۳۰"/>	
۲	جاهای خالی ماشین ورودی - خروجی را پر کنید. 	
۳	۱۰ نیمکت در یک کلاس، ۱۱۰ کلاس در یک مدرسه و ۱۰ مدرسه در یک محله جا می شود. در مدرسه چند نیمکت جا می شود. در محله چند نیمکت جا می شود.	
۴	حاصل جمع و تفریق های زیر را بنویسید. $\frac{3}{7} + \frac{3}{7} = \underline{\hspace{2cm}}$ $\frac{3}{8} + \frac{5}{8} = \underline{\hspace{2cm}}$ $\frac{7}{7} - \frac{6}{7} = \underline{\hspace{2cm}}$ $\frac{7}{8} - \frac{2}{8} = \underline{\hspace{2cm}}$	
۵	حاصل ضرب های زیر را بدست آورید. $\begin{array}{r} 75 \\ \times 500 \\ \hline \end{array}$ $\begin{array}{r} 625 \\ \times 800 \\ \hline \end{array}$ $\begin{array}{r} 1392 \\ \times 70 \\ \hline \end{array}$ $\begin{array}{r} 375 \\ \times 502 \\ \hline \end{array}$	
۶	تقسیم های زیر را انجام دهید. $231 \overline{) 65}$ $570 \overline{) 28}$ $7533 \overline{) 31}$	



ردیف	شرح پاسخنامه
<p>به نام خدا</p> <p>پاسخنامه درس ریاضی پایه چهارم سه ماهه اول (دی ماه) تاریخ: ۱۴۰۰/۱۰/۲۵</p> <p>دبستان: دخترانه گل یاس</p>	
۱	<p>(الف)</p>  <p>شکل (۱) شکل (۲) شکل (۳) شکل (۴)</p>  <p>شکل (۵) شکل (۶)</p> <p>در شکل (۶): ۱۳ چوب کبریت قرار گرفته است.</p> <p>(ب)</p> <p>۱۳۰ ۱۴۰ ۱۵۰ ۱۶۰ ۱۷۰ ۱۸۰ ۱۹۰ ۲۰۰ ۱۲۰ ۱۱۰</p>
۲	
۳	<p>نیمکت در محله $10 \times 100 = 1000$</p>
۴	<p>حاصل جمع و تفریق های زیر را بنویسید.</p> $\frac{3}{7} + \frac{3}{7} = \frac{6}{7}$ $\frac{7}{7} - \frac{6}{7} = \frac{1}{7}$ $\frac{3}{8} + \frac{5}{8} = \frac{8}{8}$ $\frac{7}{8} - \frac{2}{8} = \frac{5}{8}$
۵	<p>حاصل ضرب های زیر را بدست آورید.</p> $\begin{array}{r} 75 \\ \times 500 \\ \hline 37,500 \end{array}$ $\begin{array}{r} 625 \\ \times 800 \\ \hline 500,000 \end{array}$ $\begin{array}{r} 1392 \\ \times 70 \\ \hline 97,440 \end{array}$ $\begin{array}{r} 375 \\ \times 502 \\ \hline 188,250 \end{array}$
۶	<p>تقسیم های زیر را انجام دهید.</p> $\begin{array}{r} 231 \overline{) 65} \\ - 195 \\ \hline 036 \end{array}$ $\begin{array}{r} 570 \overline{) 28} \\ - 560 \\ \hline 010 \end{array}$ $\begin{array}{r} 7533 \overline{) 31} \\ - 6200 \\ \hline 1333 \\ - 1240 \\ \hline 0093 \\ - 93 \\ \hline 00 \end{array}$