



# آکادمی آنلاین تیزلاین قوی ترین پلتفرم آموزشی تیز هوشان

برگزار کننده کلاس های آنلاین و حضوری تیز هوشان ✓

و المپیاد از پایه چهارم تا دوازدهم

آزمون های آنلاین و حضوری ✓

مشاوره تخصصی ✓

با اسکن QR کد روبرو  
وارد صفحه اینستاگرام  
آکادمی تیزلاین شو و از  
محتواهای آموزشی  
رایگان لذت ببر



برای ورود به صفحه اصلی سایت آکادمی تیزلاین کلیک کنید

برای دانلود دفترچه آزمون های مختلف برای هر پایه کلیک کنید

برای مطالعه مقالات بروز آکادمی تیزلاین کلیک کنید

۱- ۹ هفته برابر با چند ساعت است؟

- ① ۱۴۸۰      ② ۱۵۱۲      ③ ۲۰۰۰      ④ ۲۰۱۰

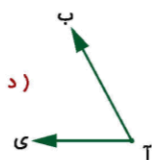
۲- ۲۵ دی چندمین روز سال است؟

- ① ۳۰۱      ② ۳۰۲      ③ ۳۰۰      ④ ۳۰۳

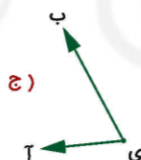
۳- کدام زمان از همه کوتاه‌تر است؟

- ① ۳۸۱۳۰ دقیقه      ② ۵۲۰ ساعت      ③ ۴ هفته      ④ ۳۰ روز

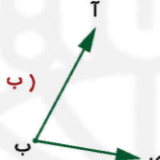
۴- در کدام گزینه، زاویه‌ی (آ ی ب) رسم شده است؟



د)



ج)



ب)



الف)

- ① الف  
② ب  
③ ج  
④ د

۵- در شهریور، جمع مدتی که گربه تنبله خوابید دقیقاً سه هفته‌ی کامل شد. گربه تنبله در شهریور چند دقیقه بیدار بود؟

- ①  $(31 - 7) \times 3 \times 24 \times 60$       ②  $(31 - 7 \times 3) \times 24 \times 60$   
③  $(30 - 7 \times 3) \times 24 \times 60$       ④  $(31 - 7) \times 24 \times 60$



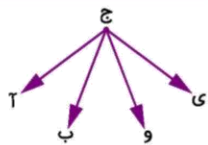
۰۲۱-۹۱۳۰۲۲۰۲ \* ۰۲۱-۴۴۱۳۶۹۷۵

Tizline.ir

۰۹۳۳۳۸۴۰۲۰۲

تیزلاین منبع معتبر تیزهوشان

سامانه پیامکی: ۹۰۰۰۱۶۲۰



۶- در شکل روبه‌رو چند زاویه‌ی کمتر از نیم‌صفحه وجود دارد؟

- ۱) ۶  
 ۲) ۵  
 ۳) ۴  
 ۴) ۷

۷- ۲ سال برابر با چند دقیقه است؟

- ۱) ۱۰۵۱۲۰۰  
 ۲) ۱۱۲۰۰۳۰  
 ۳) ۹۹۰۴۵۱  
 ۴) ۱۰۰۰۰۰۰

۸- کدام‌یک از گزینه‌های زیر کمترین زمان را نشان می‌دهد؟

- ۱) ۳ روز  
 ۲) ۱ هفته  
 ۳) ۲۳۰ ساعت  
 ۴) ۱۲۰ ساعت

۹- ۱۶۳۲ ساعت، چند روز است؟

- ۱) ۷۱  
 ۲) ۷۰  
 ۳) ۶۰  
 ۴) ۶۸

۱۰- ۵۶۴۰ دقیقه، چند ساعت است؟

- ۱) ۷۲  
 ۲) ۸۵  
 ۳) ۹۴  
 ۴) ۱۰۰

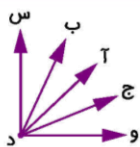
۱۱- ۸۶۱ روز، چند هفته است؟

- ۱) ۱۳۲  
 ۲) ۱۲۵  
 ۳) ۱۳۰  
 ۴) ۱۲۳



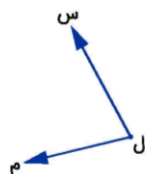
۱۲- زاویه‌ی \* داخل چند زاویه قرار دارد؟

- ۱) ۷  
 ۲) ۸  
 ۳) ۵  
 ۴) ۶



۱۳- در شکل مقابل چند زاویه دیده می‌شود؟

- ۱) ۸  
۲) ۱۱  
۳) ۹  
۴) ۱۰



۱۴- کدام نامگذاری برای زاویه‌ی مقابل اشتباه است؟

- ۱) (س ل م)  
۲) (م ل س)  
۳) (ل)  
۴) (م س ل)

۱۵- عبارت کدام گزینه اشتباه است؟

- ۱) هر زاویه یک رأس دارد.  
۲) هر زاویه را تنها به دو صورت مختلف می‌توان خواند.  
۳) هر زاویه دو ضلع دارد.  
۴) ۱ ساعت برابر ۶۰ دقیقه است.



پاسخنامه کلیدی

- |       |       |       |        |        |
|-------|-------|-------|--------|--------|
| ۱ - ۲ | ۴ - ۳ | ۷ - ۱ | ۱۰ - ۳ | ۱۳ - ۴ |
| ۲ - ۱ | ۵ - ۲ | ۸ - ۱ | ۱۱ - ۴ | ۱۴ - ۴ |
| ۳ - ۲ | ۶ - ۱ | ۹ - ۴ | ۱۲ - ۲ | ۱۵ - ۲ |



# آکادمی تیزلاین برگزار می کند:



تیزلاینی - شو

ترم یک  
دوره سالانه

کلاس آنلاین ریاضی  
پیشرفته پنجم



استاد وحید گوران  
۱۳ جلسه  
۶۵۰ هزار تومان

یکشنبه ها  
۱۸:۱۵ تا ۱۹:۳۰  
شروع از ۱۷ مهر

تیزلاینی ها ۸۰۰ هزار تومان

دوره سالانه

کلاس آنلاین علوم پیشرفته  
و هوش طبیعی پنجم



استاد مرضیه میراحسنی  
۲۰ جلسه  
یک میلیون تومان

چهارشنبه ها  
۱۶:۳۰ تا ۱۷:۴۵  
شروع از ۴ آبان

تیزلاینی ها ۶۰۰ هزار تومان

دوره سالانه

کلاس آنلاین فارسی و  
هوش کلامی پنجم



استاد حسن ربانی  
۱۵ جلسه  
۷۵۰ هزار تومان

شنبه ها  
۱۶:۳۰ تا ۱۷:۴۵  
شروع از ۷ آبان

ترم یک  
دوره سالانه

کلاس آنلاین ریاضی  
پیشرفته چهارم



استاد وحید گوران  
۱۳ جلسه  
۶۵۰ هزار تومان

یکشنبه ها  
۱۶:۳۰ تا ۱۷:۴۵  
شروع از ۱۷ مهر

تیزلاینی ها ۷۰۰ هزار تومان

دوره سالانه

کلاس آنلاین علوم  
پیشرفته چهارم



استاد زهرا گیاه تازه  
۱۸ جلسه  
۹۰۰ هزار تومان

سه شنبه ها  
۱۶:۳۰ تا ۱۷:۴۵  
شروع از ۱۰ آبان

ثبت نام در سایت رسمی آکادمی تیزلاین



www.tizline.tv  
www.tizline.ir



@tizline.ir



09333840202



021-44136975  
021-91302202