



آکادمی آنلاین تیزلاین قوی ترین پلتفرم آموزشی تیز هوشان

برگزار کننده کلاس های آنلاین و حضوری تیز هوشان ✓

و المپیاد از پایه چهارم تا دوازدهم

آزمون های آنلاین و حضوری ✓

مشاوره تخصصی ✓

با اسکن QR کد روبرو
وارد صفحه اینستاگرام
آکادمی تیزلاین شو و از
محتوای آموزشی
رایگان لذت ببر

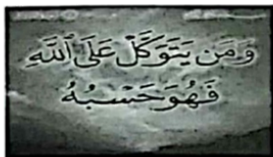


برای ورود به صفحه اصلی سایت آکادمی تیزلاین کلیک کنید

برای دانلود دفترچه آزمون های مختلف برای هر پایه کلیک کنید

برای مطالعه مقالات بروز آکادمی تیزلاین کلیک کنید

سوالات از من تا خدا (ویژه مدرسی که این کتاب تدریس می شود) - پایه هفتم



۱- پیام آیه ذکر شده در تصویر چیست؟

- ۱) تلاش برای به دست آوردن رزق حلال
- ۲) امید داشتن در سایه توکل بر خدا
- ۳) برهیز از بدگمانی نسبت به دیگران
- ۴) صبر در برابر مشکلات زندگی

۲- کدام گزینه، مفهوم این بیت از شعر می باشد؟

- «در سَرم همیشه بال می زندی، صد هزار پرسش عجیب آرامش دنیا و آخرت، فقط در بندگی خدا پیدا می شود.
- ۱) وقتی چیزی را نمی دانیم بهتر است که بپرسیم.
 - ۲) وقتی چیزی را نمی دانیم بهتر است که بپرسیم.
 - ۳) وقتی چیزی را نمی دانیم بهتر است که بپرسیم.
 - ۴) وقتی چیزی را نمی دانیم بهتر است که بپرسیم.

نام تو، پاسخ تمام این سؤال هاست: أَيُّهَا الْمُجِيبُ»

- ۱) افراد دانا، پاسخ تمام سؤالات را می دانند.
- ۲) افراد دانا، پاسخ تمام سؤالات را می دانند.
- ۳) خوب پرسیدن، نیمی از دانش است.
- ۴) خوب پرسیدن، نیمی از دانش است.

۳- در آیه "وَ إِذَا سَأَلَكَ عِبَادِي عَنِّي فَإِنِّي قَرِيبٌ أَجِيبْ دَعْوَةَ الدَّاعِ إِذَا دَعَانِ فَلْيَسْتَجِيبُوا لِي وَلْيُؤْمِنُوا بِي لَعَلَّهُمْ يَرْشُدُونَ" ، شرط اینکه ما بتوانیم راه درست را پیدا کنیم و به مقصد برسیم، چیست؟

- ۱) همیشه یاد و ذکر خدا را بر لب داشته باشیم.
- ۲) داناایان مشورت کنیم تا دچار لغزش و خطا نشویم.
- ۳) باید دعوت خدا را بپذیریم و به او ایمان بیاوریم.
- ۴) همواره به یاد آخرت باشیم و اعمال صالح انجام دهیم.

۴- محتوای مطرح شده با موضوع، در کدام گزینه صحیح نیست؟

- ۱) هدف آفرینش: " وَ مَا خَلَقْتُ الْجِنَّ وَالْإِنْسَ إِلَّا لِيَعْبُدُونِ "
- ۲) شیوه های هدایت: خدا به ما عقل داد و نیز پیامبر، کتاب آسمانی و امامان را تعیین کرد تا راهها و بیراهه های زندگی را به ما نشان دهند.
- ۳) از نشانه های بلوغ شرعی: رسیدن به سن بلوغ که برای پسران پایان پانزده سال قمری و برای دختران پایان نه سال شمسی است.
- ۴) نتیجه حسابت زیاد در احکام دین: گوش دادن به حرف شیطان / دوری از خدا / و اینکه بعضی گمان می کنند دین دار بودن سخت است و از آن گریزان می شوند.

۵- حدیث و سخن حکیمانه ذکر شده، به ترتیب با کدام گزینه تکمیل می شوند؟

• امام سجّاد علیه السلام: از بهترین راه های رسیدن به خدا نوشیدن دو جرعه است: جرعه که با بُردباری و جُرعه که با صبوری فُرو خوری.

• آیت الله بهجت رحمه الله علیه: بالاترین ذکر این است که انسان نیت کند، اگر خدا به او صد سال هم عُمر داد، حتی یک بار هم از روی آگاهی و عمد و اختیار گناه نکند، به این می گویند:

- ۱) اندوه زیاد / حس کینه / ذکر عملی
- ۲) خشم / مصیبت / ذکر عملی
- ۳) اندوه زیاد / حس کینه / ذکر قلبی
- ۴) خشم / مصیبت / ذکر قلبی

۶- پیامبر اکرم فرمود: "خداوند فرموده اند: ای فرزند آدم! از دستورات من اطاعت کن و چیزی را که به صلاح توست، به من یاد نده (زیرا من بهتر از تو می دانم چه چیزی برایت خوب است)

این حدیث پیامبر اکرم با کدام آیه قرآنی ارتباط معنایی دارد؟

- ۱) " وَ يَرْزُقُهُ مِنْ حَيْثُ لَا يَحْتَسِبُ وَمَنْ يَتَوَكَّلْ عَلَى اللَّهِ فَهُوَ حَسْبُهُ "
- ۲) " يَا أَيُّهَا الَّذِينَ آمَنُوا مَا لَكُمْ إِذَا قِيلَ لَكُمْ اتَّقُوا اللَّهَ فَمَا اتَّقَلْتُمْ إِلَى الْأَرْضِ "
- ۳) " بَلَى مَنْ أَسْلَمَ وَجْهَهُ لِلَّهِ وَهُوَ مُحْسِنٌ فَلَهُ أَجْرُهُ عِنْدَ رَبِّهِ وَلَا خَوْفٌ عَلَيْهِمْ وَلَا هُمْ يَحْزَنُونَ "
- ۴) " عَسَى أَنْ تَكْرَهُوا شَيْئًا وَهُوَ خَيْرٌ لَكُمْ وَعَسَى أَنْ تُحِبُّوا شَيْئًا وَهُوَ شَرٌّ لَكُمْ وَاللَّهُ يَعْلَمُ وَأَنْتُمْ لَا تَعْلَمُونَ "


۷- همه گزینه ها در مورد "مرجع تقلید" درست است، به جز

- ۱) عادل باشد؛ یعنی واجبات الهی را انجام داده و کارهای حرام را ترک کرده باشد.
- ۲) اعلم باشد؛ یعنی از بقیه مجتهدان داناتر باشد.
- ۳) مراجع تقلید، همان متخصصان احکام دینی هستند که ما باید به عالم ترینشان مراجعه کنیم.
- ۴) از مهم ترین شرایط این است که مجتهد باشد؛ یعنی در همه زمینه ها اهل تلاش و کوشش باشد.

۸- در آیه "إِنَّهُ كَانَ عَبْدًا شَكُورًا" ، کدام پیامبر به عنوان "بندۀ شکرگزار" معرفی شده است؟

- ۱) حضرت ابراهیم علیه السلام
- ۲) حضرت موسی علیه السلام
- ۳) حضرت نوح علیه السلام
- ۴) حضرت محمد صلی الله علیه و آله





آزمون پایش سال هفتم مرحله ۱
سال ۱۴۰۳

مجموعه سوابق دانش و آزمون در سراسر کشور

www.tizline.tv

www.tizline.ir

- ۹- کدام گزینه از بزرگ ترین و مهم ترین سرمایه های انسان برای رشد است، از نشانه های ایمان محسوب می شود و دنیا و آخرت انسان را آباد می کند؟
- (۱) امیدواری (۲) ثروت حلال (۳) استداد خدادادی (۴) دوستان خوب
- ۱۰- شیطان را نشانه موفقیت خود می داند.
- (۱) غیبت کردن (۲) ناسپاسی (۳) دروغ گویی (۴) ناسزاگویی

سوالات پیام های آسمان - پایه هفتم

- ۱- کدام گزینه بیانگر ساده ترین نوع شکرگزاری از خداوند متعال است؟
- (۱) نفیسه هوش بالایی دارد و از آن برای یادگیری قرآن و مطالب درسی استفاده می کند.
(۲) بهزاد همیشه بعد از نماز خود به سجده می رود و ذکر الحمد لله را می گوید.
(۳) محمد در زندگی خود از فرمایش های پیامبران و امامان پیروی می کند.
(۴) آنوسا اصلا در زندگی خود به دیگران دروغ نمی گوید چون این کار را ناپسند می داند.
- ۲- در کدام قسمت از آیه (بَا أَيُّهَا الَّذِينَ آمَنُوا إِن تَنصُرُوا اللَّهَ يَنصُرْكُمْ وَ يَثِّبْ أَعْدَانَكُمْ) خداوند به کسانی که ایمان آورده اند، وعده یاری داده است؟
- (۱) إِنْ تَنصُرُوا اللَّهَ (۲) يَنصُرْكُمْ (۳) يَثِّبْ أَعْدَانَكُمْ (۴) يَنصُرْكُمْ وَ يَثِّبْ أَعْدَانَكُمْ
- ۳- اگر بخواهیم از "داستان زیرک" برای داشتن آخرتی بهتر، الگو بگیریم باید بدانیم که
- (۱) فرشتگان هنگام رفتن ما از دنیا اجازه توبه کردن به ما خواهند داد. (۲) ما در آخرت در مکانی که دیگران برایمان ساخته اند زندگی خواهیم کرد.
(۳) اگر روزی وارد دنیا نمی شدیم هرگز نمی توانستیم در بهشت جای بگیریم. (۴) در دنیا با عقل خود و بدون راهنما می توانیم مسیر درست را انتخاب کنیم.
- ۴- کدام گزینه با آیه (وَلَوْ تَرَىٰ إِذْ يَتَوَلَّىٰ الَّذِينَ كَفَرُوا الْمَلَائِكَةَ يَضْرِبُونَ وُجُوهَهُمْ وَأَدْبَارَهُمْ وَذُوقُوا عَذَابَ الْحَرِّ) ارتباط معنایی ندارد؟
- (۱) پارسا، در زندگی خود فقط به تفریح در دنیا می پردازد و به فکر دنیای آخرت نیست.
(۲) فیهمه مرگ را پایان خوشی ها می داند و عقیده دارد تا می توان باید در این دنیا خوشی کرد.
(۳) قاسم عقیده دارد که روبرو شدن با مرگ مثل رفتن به مراسم هدای جایزه است.
(۴) صدیقه اصلا دوست ندارد از این دنیا برود چون می داند پایان خوشی و آغاز سختی هاست.
- ۵- با توجه به احادیث و روایات اهل بیت علیهم السلام، یکی از کارهایی که باعث می شود عذاب فشار قبر (مثل سعد بن معاذ) را نداشته باشیم، چیست؟
- (۱) با همسایگان خود مهربان باشیم. (۲) با خانواده خود خوش اخلاق باشیم.
(۳) به فقیران جامعه خود کمک کنیم. (۴) بیوند خود را با بستگان محکم کنیم.
- ۶- همه گزینه ها تاثیر رفتار محبت آمیز پیامبر صلی الله علیه و آله وسلم را بیان می کند، به جز
- (۱) ایشان بین مردم به پیامبر رحمت معروف شد. (۲) مردم او را برای خود پدری مهربان می دانستند.
(۳) مردم در مشکلات خود به ایشان پناه می بردند. (۴) ایشان در بین مردم به محمد امین مشهور شدند.
- ۷- طبق تعریف کلمه "فداکار"، کدام گزینه بیانگر فداکاری نمی باشد؟
- (۱) شهدای هشت سال دفاع مقدس (۲) پرستاران در زمان همه گیری بیماری کرونا
(۳) امام علی علیه السلام در شب لیلۃ المیت (۴) عمروبن عبیدود در جنگ خندق
- ۸- کدام آیه، مصداق عمل حضرت فاطمه سلام الله علیها در بخشش گردن بندشان به فقیر را به خوبی بیان کرده است؟
- (۱) "وَمَا أَرْسَلْنَاكَ إِلَّا رَحْمَةً لِّلْمَآءِنِ"
(۲) "عَزِيزٌ عَلَيْهِ مَا عَنِتُّمْ حَرِيصٌ عَلَيْكُمْ"
(۳) "لَنْ تَأْلَوْا الْبِرَّ حَتَّىٰ تَتَّقُوا مِمَّا تَحِبُّونَ"
(۴) "وَاللَّهُ يَعْلَمُ وَأَنْتُمْ لَا تَعْلَمُونَ"
- ۹- جمله "حضرت فاطمه سلام الله علیها در شب های قدر به فرزندانشان غذای سبک می دادند تا بتوانند برای عبادت خدا شب را بیدار بمانند"، گویای کدام ویژگی حضرت است؟
- (۱) توجه به تربیت فرزندان (۲) ساده زیستی (۳) ایثار و بخشندگی (۴) حضور در اجتماع

۰۲۱-۹۱۳۰۲۲۰۲ * ۰۲۱-۴۴۱۳۶۹۷۵

Tizline.ir

۰۹۳۳۳۳۸۴۰۲۰۲

۱۰- کدام گزینه در مورد تکالیف شرعی درست است؟

- ۱) انجام تکالیف شرعی قبل از بلوغ واجب است تا آمادگی کافی را در خود ایجاد کنیم.
- ۲) دلیل وجوب تکالیف، برای این است که ما توان مقابله با شیطان و رسیدن به پاداش را داشته باشیم.
- ۳) مسلمانان باید فروع دین را بر اساس فهم و درک درست بنا کنند و از تقلید بپرهیزند.
- ۴) تنها راه دستیابی به نحوه صحیح انجام وظایف دینی مراجعه به متخصص در احکام دین است.

سوالات فارسی - پایه هفتم

۱۱- در کدام گزینه برای هیچ یک از واژه‌های «راحت»، «شکرگزار»، «همدم»، «کتاب‌ها»، «فراغ»، «پرحرفی» و «خردسالی» مترادفی نیامده است؟

- ۱) نگفت آسایشم یک لحظه دمساز / گهی از گربه ترسیدم که از باز
- ۲) جوجه گنجشک گفت می‌خواهم / فارغ از سنگ بچه‌ها باشم
- ۳) گاهی در برخی مطوعات و رساله‌ها از تحریفی می‌گویند آن را نمی‌پذیرم.
- ۴) یاد دارم در ایام طفولیت، متعبد و شب‌خیز بودم.

۱۲- کدام گزینه غلط املائی ندارد؟

- ۱) بر آن باش هر چه نیت کنی / نظر در سلاح رعیت کنی
- ۲) از نبی درخواست مردی پر نیاز / تا گزارد در مصلابی نماز
- ۳) از در خویشم مران، کاین نه طریق وفاست / در همه شهری قریب، در همه ملکی گداست
- ۴) گفت سدی صبر کن یا سیم و زر ده یا گریز / عشق را با مال باید یا صبوری یا صفر

۱۳- کدام اثر، به شیوه‌ی خاطره‌نویسی نوشته شده است؟

- ۱) «قصه‌سار و سب» نوشته نادر ابراهیمی
- ۲) «الهی‌نامه» نوشته‌ی خواجه عبدالله انصاری
- ۳) «شما که غریبه نیستید» نوشته هوشنگ مرادی کرمانی
- ۴) «هفت پیکر» نوشته حکیم ابو محمد یوسف نظامی

۱۴- نقش دستوری واژه مشخص شده در کدام گزینه، متفاوت است؟

- ۱) غنچه هم گفت: «گرچه دل تنگم / مثل لیخند باز خواهم شد»
- ۲) زنگ تفریح را که زنجره زد / باز هم در کلاس غوغا شد
- ۳) هر چه سرما و هر چه دل‌سردی / پر زد آهسته از نظر کم شد
- ۴) نمودش بس که دور آن راه نزدیک / شدش گیتی به پیش چشم تاریک

۱۵- این متن، بخشی از نوشته‌ی نادر ابراهیمی است. کدام گزینه درباره‌ی این نوشته درست است؟

- یوآش‌یوآش داشتیم می‌فهمیدم که یک قلب کوچک کوچک، چقدر می‌تواند بزرگ باشد؛ بنابراین، یک شب که به یاد آن روزها و شب‌های خیلی سخت آن جنگ افتادم، یک دفعه فریاد زدم: «باقی قلبم را می‌بخشم به همه‌ی آن‌هایی که جنگیدند و دشمن را از خاک ما، از سرزمین ما و از خانه‌ی ما انداختند بیرون...»

- ۱) این نوشته، هشت جمله دارد.
- ۲) در این نوشته مانا آمده است.
- ۳) «ما» در این نوشته، نقش نهاد دارد.
- ۴) نقش دستوری همه‌ی بخش‌های مشخص شده یکسان است.

۱۶- در کدام گزینه واژه کوتاه شده (مخفف) نیامده است؟

- ۱) مرا آموخت علم زندگانی (۲) فتاد از پای کرد از عجز فریاد
- ۲) گهی از گربه ترسیدم که از باز (۴) پرید از شاخکی بر شاخساری

۱۷- کدام بخش مشخص شده، نقش متفاوت دارد؟

- وقتی جوان‌های ما خرمشهر را بازپس گرفته بودند، اوایل ریاست جمهوری بنده بود. یک هیئت جهانی به ایران آمد و رئیس آن به من گفت: «امروز در دنیا وضع شما با یک سال پیش، از زمین تا آسمان تفاوت کرده است». راست می‌گفت. دنیا باور نمی‌کرد جوانان ما، بسیجیان ما و ارتش ما بتوانند خرمشهر را با آن همه استحکاماتی که دشمن و پشتیبانانش درست کرده بودند، پس بگیرند.

- ۱) یک هیئت جهانی (۲) وضع شما (۳) دنیا (۴) استحکامات

۱۸- کدام گزینه درباره‌ی این شعر مولانا درست است؟

- ای خدا! ای فضل تو حاجت روا
قطره دانش که بخشیدی ز پیش
صدهزاران دام و دانه است ای خدا
۱) واژه «نبوده» بر وزن «خود» خوانده می‌شود.
۲) «هوا» در این شعر، مترادف «خوراک» است.
۳) «هوا» در این شعر، مترادف «خوراک» است.
۴) «هوا» و «هوا» در بیت نخست، هم‌قافیه هستند.
- با تو یسار هیچ کس نبود روا
متصل گردان به دریاهای خویش
ما چو مرغان حریصی بی‌نوا



۱۹- آرایه به کار رفته در این نوشته در کدام گزینه نیامده است؟

«در یک لحظه، پیشانی درهم کشیده‌اش گشوده شد و لبخند بر صورت پُف‌کرده‌اش نشست.»

- | | |
|--------------------------------|----------------------------|
| ۱) به فصل خزان در نینسی درخت | که بی‌برگ ماند ز سرمای سخت |
| ۲) هجـوم فتنه‌های آسمانی | مرا آموخت علم زندگانی |
| ۳) نار خندان، باغ را خندان کند | صحبت مردانست از مردان کند |
| ۴) بازبان عفریک می‌گفت عمر | می‌روم، بشنو صدای پای من |

۲۰- آرایه‌های «مراعات‌نظیر»، «تضاد»، «تشبیه» و «تشخیص» به ترتیب در کدام بیت‌ها به کار رفته است؟

- | | |
|-----------------------------------|--------------------------------------|
| الف: از ظلمت خود رهایی‌ام ده | بنا نور خود آشنایی‌ام ده |
| ب: بچه‌ها در کلاس جنگل سبز | جمع بودند دور هم خوشحال |
| ج: منتظران بهار را فصل شکفتن رسید | مژده به گل‌ها برید، یار به گلشن رسید |
| د: به دریا بنگرم دریا تو بینم | به صحرا بنگرم، صحرا تو بینم |
- ۱) د، الف، ج، ب ۲) الف، د، ج، ب ۳) د، الف، ب، ج ۴) ج، د، ب، الف

۲۱- با توجه به این شعر از بوستان سعدی، مشخص کنید کدام گزینه درست است؟

- | | |
|-------------------------------|------------------------------|
| همی یادم آید ز عهد صغر | که عیدی برون آمدم با پدر |
| به بازیچه مشغول مردم شدم | در آشوب خلق از پدر گم شدم |
| برآوردم از بی‌قراری خروش | پدر ناگهانم بمالید گوش |
| که ای شوخ چشم آخرت چند بار | بگفتم که دستم ز دامن مدار |
| به تنها ندانند شدن طفل خرد | که نتواند او راه نادیده بُرد |
| تو هم طفل راهی به سعی ای فقیر | برو دامن راه‌دانان بگیر |
- ۱) «شدن» معنی «رفتن» می‌دهد.
۲) «خرد»، مترادف «عقل» است.
۳) «آخرت»، مترادف «قیامت» است.
۴) «فقیر»، مترادف «بی‌پول» است.

۲۲- براساس این بیت‌ها از لیلی و مجنون نظامی گنجوی، کدام گزینه درست است؟

- | | |
|---------------------------|---------------------------|
| ای نام تو بهترین سـراغـاز | بی نام تو نامه کی کنم باز |
| ای یاد تو مونس روانم | جز نام تو نیست بر زبانم |
| ای کارگشای هر چه هستند | نام تو کلید هر چه بستند |
| ای هست کن اساس هستی | کوتـه ز درت درازدستی |
| هم قصه ناموده دانسی | هم نامه نانوشته خوانی |
| هم تو به عنایت الهی | آن جا قدم رسان که خواهی |
| از ظلمت خود رهایی‌ام ده | بنا نور خود آشنایی‌ام ده |

- ۱) مفهوم مصراع «کوتـه ز درت درازدستی»، «ظالم بودن خدا» است.
۲) شاعر در مصراع «از ظلمت خود رهایی‌ام ده»، خواستار رهایی از ستم خودش است.
۳) مفهوم مصراع «آن جا قدم رسان که خواهی»، «رها کردن شاعر به حال خودش» است.
۴) در مصراع «هم قصه ناموده دانسی» می‌توان به اهمیت «داستان‌سرای» پی برد.

۲۳- مفهوم بیت «برگ درختان سبز در نظر هوشیار / هر ورقش دفتری است معرفت کردگار» با کدام گزینه تناسب بیشتری دارد؟

- ۱) من چرا گرد جهان گردم که دوست / در میان جان شیرین من است
۲) چو شاخ برهنه برآیم دست / که بی‌برگ از این بیش توان نست
۳) از آتش ظلم و دود مظلوم / احوال همه تو راست معلوم
۴) جهان جمله فروغ روی حق دان / حق اندر وی ز بیلایی است پنهان



۰۲۱-۹۱۳۰۲۲۰۲ * ۰۲۱-۴۴۱۳۶۹۷۵

Tizline.ir

۰۹۳۳۳۸۴۰۲۰۲

تیزلاین منبع معتبر تیزهوشان

سامانه پیامکی: ۹۰۰۰۱۶۲۰



۲۴- این نوشته از عباس اقبال آشتیانی با مفهوم کدام گزینه قرابت کمتری دارد؟
«کسی در زندگی موفق است که اکنون و فرصت حال را دریابد و همیشه فکر کند که بهترین فرصت من امروز است. امروز را به فردا افکندن و به امید نشستن، کار درستی نیست. همچنان که امروز را به یادآوری گذشته‌های ازدست‌رفته، گذراندن و افسوس خوردن نیز شایسته نیست.»

- ۱) بر نامنده و گذشته بنیاد مکن
۲) باز زبان غریبک می‌گفت عمر
۳) سعدیای رفت و فرنا همچنان موجود نیست
۴) یک امروز است ما را تقدیر ایام
- حالی خوش باش و عمر بر باد مکن
می‌روم بشنو صدای پای من
در میان این و آن فرصت شمار امروز را
بر او هم اعتمادی نیست تا شام

۲۵- مفهوم عبارت «حرم، دل او را آرام می‌کرد و مدرسه، اندیشه‌اش را» کدام گزینه است؟
۱) آن را که جای نیست همه شهر جای اوست
۲) عاشق که به مشاهده دوست دست یافت
۳) بگذر هر چه داری و بگذر که هیچ نیست
۴) از دست دوست هر چه بستی (نگیری) بگذر بگذر

درویش هر کجا که شب آید سرای اوست
در هر چه بعد از آن نگر، ازدهای اوست
این پنج روز عمر که مرگ از قفای اوست
سعدی رضای خود مطلبه چون رضای اوست

سوالات عربی - پایه هفتم

۲۶- در رابطه با اسم اشاره کدام گزینه خطاست؟
۱) تلك الشجرة كبراً. ۲) هذه الجبل مرتفع.

۳) ذلك الصوت جميل. ۴) هاتان الصورتان كبيرتان.

۲۷- در کدام گزینه تمامی مترادفها و متضادها صحیح هستند؟
۱) حى - حياء / موت - حى / ميت - حى
۲) صديق ≠ عدو / عداوة ≠ صداقة / صداقة ≠ عدو
۳) صبر ≠ كبر / واقف = جليس / جميل ≠ قبح
۴) عدوان = عداوة / قبح ≠ جمال / حياء = غيش

۲۸- حدیث شریف "الوحدۃ خیر من جلس الیه" با کدام بیت ارتباط و قرابت معنایی ندارد؟
۱) با بدان کم نشین که بدمانی
۲) مکن هم‌نشینی به هر بد سرشت
۳) نازنینی چو تو پاکیزه دل و پاک نهاد
۴) میار دوستان دغسل روز حاجت است

خوب‌ذیر است نفس انسانی
که دزد ازو طبع تو خوی زشت
بهتر آنست که با مردم بد نشینی
فرضی برای تجربه از دوستان طلب

۲۹- ترجمه صحیح عبارت "حديقة الغیب فی قرية صغيرة قريبة من مدينتهم" کدام است؟
۱) روستایی در نزدیکی شهر وجود دارد که درختان زیادی دارد.
۲) در روستای کوچک در نزدیکی شهر آنها باغ انگور وجود دارد.
۳) در روستای نزدیک شهر کوچکتان، باغهای انگوری وجود دارد.

۳۰- در کدام گزینه تمامی کلمات از نظر نوع اسم شبیه یکدیگر هستند؟
۱) مخلصین، مخلصین، ساکنین، طالبین
۲) لسان، انسان، نیان، کنزان
۳) بومان، رأبان، کاتبان، ناجحان
۴) أصوات، صابرات، مجاهدات، أمهات

۳۱- کدام پرسش و پاسخ درست است؟
۱) هل هو سائق سيارة؟ نعم، هو طبّاح.
۲) من أنت يا ولد؟ أنا صديقة حامد.
۳) لمن هذا القلم؟ القلم للمعلمي.
۴) من أين أنت؟ أمام البيت.

۳۲- کدام حدیث با عبارت مقابل آن قرابت معنایی ندارد؟
۱) المؤمن قليل الكلام كثير العمل؛ دو حد گفته چون نیم کردار نیست
۲) سكوت اللسان سلامة الإنسان؛ کم آواز هرگز نبینی خجل/ جوی مشک بهتر از یک توده گل
۳) الإنسان عبد الإحسان؛ ای که دستت می‌رسد کاری بکن.
۴) الذهر بومان؛ بوم لک و بوم غلیک؛ چو بد کردی مشو ایمن ز افات/ که واجب شد طبیعت را مکافات



۳۳- کدام گزینه ترجمه صحیح عبارت "هؤلاء الطلابُ ناجِحونٌ" است؟

- (۱) این‌ها دانش‌آموزان موفق هستند
(۲) این دانش‌آموزان موفق هستند
(۳) این‌ها دانش‌آموزانی موفق هستند
(۴) این‌ها دانش‌آموزان موفق هستند

۳۴- با توجه به عبارت "حَفِظْتُ آيَاتٍ مِنْ أَسْعَارِ هَذَا الْكِتَابِ." کدام گزینه در رابطه با عدد و معدود است؟

- (۱) ثمانية (۲) ثمانی (۳) ثامن (۴) ثابته

۳۵- برای تکمیل عبارت "..... القصص مفيدة." اسم اشاره مناسب را انتخاب کنید.

- (۱) هذه (۲) ذلك (۳) هنا (۴) هؤلاء

سوالات ریاضی - پایه هفتم

۳۶- با توجه به عبارات زیر، کدام گزینه درست است؟

$A = (-19 + 3)(-17 + 5)(-15 + 7) \dots (-1 + 21)$ $B = 7 - 7(5 - 4(2 + 1))$
 (۱) $A = B$ (۲) $A < B$ (۳) $A > B$ (۴) $A = 2B$

۳۷- در دهکده‌ای ۴۰۰ خانه وجود دارد روی هر ۴ خانه حداقل ۳ آنتن وجود دارد و روی هر ۳ آنتن حداقل ۵ کبوتر نشسته است. این دهکده حداقل چند کبوتر آنتن نشین دارد؟

- (۱) ۳۰۰ (۲) ۷۹۷ (۳) ۱۵۰۰ (۴) ۳۹۹

۳۸- سورنا و سیاوش پسرخاله اند. در بلندترین شب سال، شب یلدا، در کنار هم سوالات زیبایی از ریاضی حل می‌کردند. وقتی نوبت به سورنا رسید، دنباله ای نوشت و از سیاوش خواست که عدد بعدی را بدست آورد. سورنا به سیاوش گفت: «برای پیدا کردن عدد بعدی فقط باید شمردن بلد باشی.» کدام گزینه پاسخ درستی است که سیاوش انتخاب می‌کند؟

3, 13, 1113, 3113, 132113

- (۱) ۱۱۳۱۳۳۳۱ (۲) ۱۱۳۱۳۳۱۱۳ (۳) ۳۱۱۳۳۱۱۳ (۴) ۱۱۳۳۱۱۱۳

۳۹- علی در کتاب ریاضیات و سرگرمی، مثلث قائم الزاویه ای مطابق شکل مقابل پیدا کرد، که قسمتی از آن مانند شکل مقابل بریده شده بود. کدام گزینه تعداد مثلث های کوچک بکار رفته در شکل را مشخص می‌کند؟



- (۱) ۶۰ (۲) ۷۰ (۳) ۲۵ (۴) ۵۰

۴۰- اگر در عبارت زیر، جاهای خالی را با علامت های + و - پر کنیم، کمترین مقدار و بیشترین مقدار بدست آمده برابر است با

$48 \square - 58 \square - 128 \square = 67$

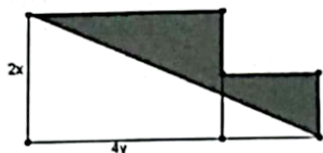
- (۱) ۲۰۵ و ۳۰۱ (۲) ۳۰۱ و ۱۰۵- (۳) ۳۰۱ و ۲۰۵- (۴) ۵۰۶ و ۳۰۱-

۴۱- یکی از دختران تلاشگر کلاس هفتم، مثلث زیر را با ایده گرفتن از مثلث خیام طراحی کرد و اعداد را تا سطر چهارم نوشت. بزرگترین عدد بدست آمده در سطر دهم برابر کدام گزینه است؟




- (۱) ۲۵ (۲) ۵۵ (۳) ۵۰۵ (۴) ۵۰

۴۲- دو مستطیل مانند شکل زیر کنار هم قرار گرفته اند. اندازه طول و عرض مستطیل کوچکتر، نصف اندازه طول و عرض مستطیل بزرگتر است. مساحت قسمت رنگی برابر است با؟



- (۱) $2xy$ (۲) $6xy$ (۳) $10xy$ (۴) $2xy + 2$



آزمون پایش سال هفتم مرحله ۱
سال ۱۴۰۳

مجموعه سوابق کلاس و آزمون در سراسر کشور

www.tizline.tv

www.tizline.ir

۴۳- حسام به فروشگاهی جهت خرید نوشت افزار برای اهدا به جشن عاطفه ها رفت. فروشنده خوش ذوق مسئله زیر را طراحی کرده بود که با حل آن، ۵ درصد تخفیف به خرید مشتری تعلق می گرفت. با انتخاب گزینه درست به حسام کمک کنید تا تخفیف به او تعلق بگیرد. «قیمت ۵ خودکار با قیمت ۳ دفتر و قیمت ۴ دفتر با قیمت ۶ مایک برابر است. قیمت هر مایک چند برابر قیمت خودکار است؟»

- (۱) $\frac{1}{9}$
- (۲) $\frac{1}{11}$
- (۳) $\frac{2}{5}$
- (۴) $\frac{5}{7}$

۴۴- حیاط مدرسه فرزندان مستطیل شکل است که مطابق شکل زیر به ۶ مربع تقسیم شده است. اگر ضلع کوچکترین مربع، ۲ متر باشد، طول ضلع بزرگترین مربع برابر با متر است.



- (۱) ۷
- (۲) ۱۴
- (۳) ۲۱
- (۴) ۲۸

۴۵- پدر مهدی و مریم روی کاغذ یک صفحه ساعت کشید. از مریم خواست تعداد زاویه هایی که راس آنها در مرکز صفحه ساعت قرار دارد و دو ضلع آن از اعداد زوج می گذرد را پیدا کند. از مهدی خواست تعداد مثلث هایی که با اعداد فرد روی ساعت می توان ساخت را بیابد. مریم جواب داد: ۱۵ و مهدی جواب داد: ۲۰ با توجه به جواب های مریم و مهدی کدام گزینه درست است؟



- (۱) پاسخ مریم درست و پاسخ مهدی نادرست است
- (۲) پاسخ مریم نادرست و پاسخ مهدی درست است
- (۳) پاسخ هر دو نفر درست است
- (۴) پاسخ هر دو نفر نادرست است

۴۶- بین دو نقطه A و B، ۴ نقطه مشخص می کنیم. سپس پاره خط AB را امتداد داده تا به نقطه C برسیم. این بار روی پاره خط BC نقاطی را مشخص می کنیم. اگر تعداد ۶ پاره خط روی BC ایجاد شود، تعداد کل پاره خطهایی که با همه نقاط روی AC می توان شمرد، چند تاست؟

- (۱) ۴۵
- (۲) ۵۵
- (۳) ۲۸
- (۴) ۳۶

۴۷- در مثلث MNP، زاویه M، ۲۴ واحد کمتر از زاویه N و زاویه P دو برابر زاویه N است. اندازه زاویه کوچکتر کدام است؟

- (۱) ۲۷
- (۲) ۵۱
- (۳) ۱۰۲
- (۴) ۴۲

۴۸- یک بازی اینطور طراحی شده است که چند نفر کنار هم می نشینند و هر کدام روی کاغذ سوالی را نوشته و به نفر بعد می دهد. نفر بعدی به آن سوال پاسخ داده و بر اساس آن مجددا سوالی طرح می کند و کاغذ را به نفر بعد می دهد. این بازی در کلاس هفتم انجام شد. مهتاب اعداد اول کوچکتر از ۲۰ را روی کاغذ نوشت و از سحر خواست تا مجموع ۷ تای اول آنها را به دست آورده و A بنامد. سحر پاسخ مهتاب را نوشت و به فاطمه گفت شماره های A را بنویسد. فاطمه پاسخ را نوشت و از زهرا خواست مجموع شماره های اول A را به دست آورد. اگر همه مراحل درست انجام شده باشد، پاسخ زهرا چیست؟

- (۱) ۹
- (۲) ۳۱
- (۳) ۱۱
- (۴) ۲۵

۴۹- عدد a را نسبت به A یک عدد شگفت انگیز می نامیم، در صورتی که a حداقل یکی از شماره های اول A را داشته باشد. اگر بدانیم، a یک عدد شگفت انگیز است و $a > A$ ، در اینصورت (a و 36) چند جواب دارد؟

- (۱) ۸
- (۲) ۹
- (۳) ۶
- (۴) ۴



- (۱) ۴
- (۲) ۷
- (۳) ۵
- (۴) ۶

۵۰- دانش آموزان علامه حلی می خواهند در یک مسابقه دوچرخه سواری شرکت کنند. روی نقشه مسیر حرکت آنها چند لکه جوهر ریخته و ایستگاهها مشخص نیستند. آنها سعی در بازیابی اطلاعات نقشه دارند. می دانیم فاصله هر دو ایستگاه بیشتر از ۱۲ کیلومتر است و فاصله ایستگاه ها با هم برابرند. به غیر از ایستگاه های A و B و C، چند ایستگاه دیگر در کل مسیر وجود دارد؟

۰۲۱-۹۱۳۰۲۲۰۲ * ۰۲۱-۴۴۱۳۶۹۷۵
Tizline.ir
۰۹۳۳۳۳۸۴۰۲۰۲

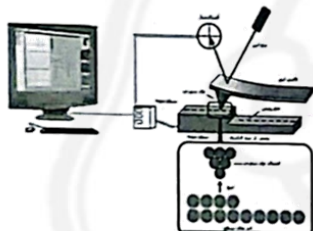
سوالات علوم تجربی - پایه هفتم

۵۱- متن زیر را بخوانید و بگویید کدام عبارت در مورد متن درست است؟

«جوان که بودم به جستجو و مطالعه تاثیر زهر زنبور عسل بر روی رشد سلول‌های غیرطبیعی پرداختم. پس از مطالعات بسیار، به اتفاق پدرم یک روز به روستایی که زنبور عسل به فراوانی یافت می‌شد، رفتم. در راه با خود می‌اندیشیدم، آیا زهر زنبور واقعاً بر روی رشد سلول‌های غیرطبیعی تاثیر دارد؟ به پدرم یک توری شکار حشره، که خودم ساخته بودم دادم. پدر، تعداد زیادی از زنبورها را شکار کرد. من آنها را در کیسه فریزر گذاشتم. سپس در یک فلاسک پلاستیکی قرار دادم تا حرکت آنها کند شود. آنها را به دانشگاه منتقل کردم و اثر زهر آنها را اندازه‌گیری و داده‌های به دست آمده را جمع‌آوری کردم. نتیجه این شد که زهر زنبورها بر روی سلول‌های غیرطبیعی اثر سمی داشت ولی روی سلول‌های معمولی تاثیر کمتری داشت. این کار علمی در یک مجله بین‌المللی به چاپ رسید.» (بخشی از دهنوشته‌های دکتر سید وحید شتاب: متخصص سم شناسی - پژوهشگر)

- ۱) تحقیق و مطالعه اثر زهر زنبور عسل بر روی رشد سلول‌های غیرطبیعی یک فناوری علمی محسوب می‌شود.
- ۲) متن مورد نظر یک روش علمی را شرح می‌دهد که نتیجه آن نمی‌تواند به صورت یک نظریه علمی مطرح شود.
- ۳) در این متن به یکی از مراحل روش علمی اشاره‌ای نشده است.
- ۴) در هیچ یک از مراحل روش علمی متن مورد نظر به داشتن مهارت اشاره‌ای نکرده است.

۵۲- میکروسکوپ نیروی اتمی (AFM):



- (الف) یک فناوری است.
 - (ب) بر اساس مشاهده مستقیم سطوح اتمی ساخته شده است.
 - (ج) ناهمواری‌های سطوح اتمی را همانند ناهمواری‌های کف اقیانوس‌ها با استفاده از فناوری رادار، ترسیم می‌کند.
 - (د) با استفاده از این میکروسکوپ نمی‌توان هیچ اتمی را مشاهده کرد.
- کدام عبارت‌ها در مورد میکروسکوپ نیروی اتمی درست است؟

- ۱) الف و د
- ۲) ب و ج
- ۳) ب و د
- ۴) الف و ج

۵۳- پژوهشگری تصمیم دارد مواد موجود در آزمایشگاه خود را مرتب کند. او می‌خواهد عنصرها و ترکیب‌ها را از یکدیگر جدا کند. اگر مجموعه موادی که در اختیار دارد به صورت زیر باشد، چند درصد از این مجموعه را به ترتیب عنصر مولکولی و ترکیب مولکولی تشکیل می‌دهد؟ (از راست به چپ) اندازه و شکل اتم‌ها فرضی هستند.



- ۱) ۵۰-۲۵
- ۲) ۲۵-۵۰
- ۳) ۴۰-۳۰
- ۴) ۳۰-۴۰

۵۴- نوعی قرص نعنای حاوی جوش شیرین با فرمول شیمیایی NaHCO_3 است که می‌تواند اسید معده را خنثی کند. نسبت تعداد اتم‌ها به نوع اتم‌های موجود در این ماده چقدر است؟

- ۱) $\frac{2}{3}$
- ۲) $\frac{3}{2}$
- ۳) $\frac{5}{7}$
- ۴) $\frac{7}{5}$

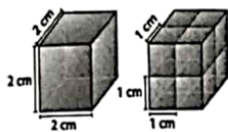
۵۵- همان طور که می‌دانید برخی گلبول‌های سفید با ترشح مواد پروتئینی به نام پادتن، میکروب‌ها را غیرفعال نموده و به دستگاه دفاعی بدن کمک می‌کنند.

به نظر شما کدام اجزا یا اندامک‌های سلولی به ترتیب در فرآیند تولید پادتن‌ها نقش دارند؟

- ۱) ریبوزوم - جسم گلزی - شبکه آندوپلاسمی
- ۲) هسته - شبکه آندوپلاسمی - واکوئل
- ۳) ریبوزوم - واکوئل - جسم گلزی
- ۴) هسته - ریبوزوم - جسم گلزی

۵۶- معلم علوم خطاب به دانش آموزانش گفت: بچه ها! در جهان هستی حتی اندازه و ابعاد سلول های بدن موجودات کوچک و بزرگی هم حکیمانه خلق شده است و جمله خود را به کمک تصویر زیر توجیه نمود.

کدام یک از عبارات یا عبارتهای زیر گفته های معلم را تایید می کند؟



الف- برای مبادله بهتر مواد غذایی و دفعی از طریق غشای سلول با محیط بیرون، سلول باید بزرگ و از حجم بالایی برخوردار باشد.

ب- وجود اندامک های غشاداری مانند میتوکندری و کلروپلاست در سلول های پروکاریوت، باعث افزایش نسبت سطح به حجم می شود.

پ- در جانداران پرسلولی و حتی تک سلولی، افزایش ابعاد سلول باعث کاهش نسبت سطح به حجم شده و موجود قادر به تامین نیازهای خود نخواهد بود.

ت- وجود ریزپرزها و چین خوردگی ها در اندامی مانند باریک روده، باعث افزایش جذب موادغذایی از دیواره روده به داخل خون می شود.

الف - ب - ت (۱) پ - ت (۲) الف - ت (۳) ب - پ (۴)

۵۷- زمین تنها سیاره منظومه شمسی است که دارای مقادیر زیاد آب در شکلهای متنوع می باشد.

چند مورد از جملات زیر درباره اشکال مختلف آب های کره ی زمین نادرست است؟

* رودخانه های کامل در دره های بسیار پهن جریان داشته و مسیرهای نعل اسبی در حاشیه آنها نشانه شیب زیاد مسیر رودخانه است.

* چگالی آب دریا همزمان با تغییرات میزان شوری، دما و مقدار مواد معلق از نقطه ای به نقطه دیگر، جریان های ثقلی را ایجاد می کند.

* دریاچه ها، آب های زیرزمینی و یخچال ها به ترتیب بیشترین ذخایر آب شیرین کره زمین هستند.

* حرکات قائم سریع قطرات باران و برخورد آنها با یک توده هوای بسیار سرد، باعث به وجود آمدن گلیز یا باران بسیار سرد می شود.

الف - یک مورد (۱) دو مورد (۲) سه مورد (۳) چهار مورد (۴)

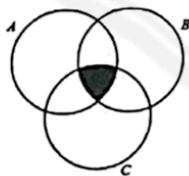
۵۸- موجودات زنده به ۵ گروه بزرگ باکتری ها، آغازیان، قارچ ها، گیاهان و جانوران تقسیم می شوند. در نمودار زیر حرر A، B، C و نماینده سه گروه از این موجودات هستند.

A: یک موجود پریاخته، ساده و رشته ای که هر یاخته می تواند مستقل از یاخته های دیگر زندگی کند.

B: موجودی که اندازه دندان های پیش، آسیای کوچک و آسیای بزرگ او متوسط یا نسبتا بزرگ است و دندان های نیش بسیار بلند و محکم دارد.

C: موجودی دارای یاخته های منظم که با اتصال زیر واحدهای گلوکز به یکدیگر، یک پلیمر ذخیره ای می سازد.

با توجه به اطلاعات ذکر شده، بخش هاشور خورده نمودار مقابل کدام یک از ویژگی های زیر می تواند باشد؟



۱) توانایی تولید اکسیژن

۲) مشخص بودن جایگاه هسته به کمک غشای مخصوص

۳) توانایی ساخت غذا از مواد با منشا معدنی

۴) دریافت مواد آلی از طریق خوردن جانداران دیگر

۵۹- ما کیستیم؟

پاسخ عبارتهای زیر به ترتیب در کدام گزینه، به درستی ذکر شده است؟

الف- یک ویتامین محلول در آب هستم که رنگ آبی تیره لوگول حاصل از شناسایی نشاسته را بی رنگ می کنم.

ب- کربوهیدرات مرکب بدون انرژی اما مفیدی هستم که در دیواره سلولی یاخته های گیاهی به کار می روم.

پ- عمده ترین ماده سازنده غشای پلاسمایی هستم و نقش ضربه گیر اندام ها را به عهده دارم.

۱) ویتامین C - سلولز - لیپید

۲) ویتامین B - گلیکوژن - پروتئین

۳) ویتامین C - سلولز - پروتئین

۴) ویتامین B - گلیکوژن - لیپید



۰۲۱ - ۴۴۱۳۶۹۷۵ * ۰۲۱ - ۹۱۳۰۲۲۰۲



Tizline.ir



۰۹۳۳۳۳۸۴۰۲۰۲

۶۰- به متن زیر که درباره لوله گوارش انسان و اندام های اطراف آن است دقت کنید.

" گوارش از دهان و با جویدن غذا آغاز می‌شود. در اغلب موارد در دهان یک کودک ۵ ساله عدد دندان وجود دارد. هنگام قورت دادن آب دهان، پایین آمده و راه نای را می‌بندد. کیسه صفرا و ترشحات خود را به صورت مشترک به ابتدای باریک روده می‌ریزند. تنها بخش دستگاه گوارش است که برخلاف بقیه اندام های بدن، یک سیاهرگ غیرعادی به آن وارد می‌شود."

دانش آموز عزیزم! واژه‌های کدام گزینه می‌توانند به ترتیب جاهای خالی این متن را کامل کنند؟

۱) ۲۰- زبان کوچک - معده - لوزالمعده
 ۲) ۲۲- زبان کوچک - لوزالمعده - کبد
 ۳) ۲۰- ابی گلوت - معده - لوزالمعده
 ۴) ۲۰- ابی گلوت - لوزالمعده - کبد

۶۱- دانش‌آموز محقق؛ در شکل جانوران خیالی را می‌بینی که در سیارات مختلف زندگی می‌کنند. جدول زیر وزن هر یک از آنها در سیاره مربوط به خود را نشان می‌دهد.



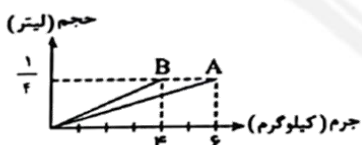
جانور خیالی	جرم (گرم)	وزن (نیوتن)
۱	۴۰۰۰	۸۰
۲	۲۰۰۰	۲۰
۳	۱۰۰۰	۱/۴
۴	۲۰۰۰	۸

- جانور ۲ روی کره زمین قرار دارد.
- جانور ۲ و ۴ روی یک سیاره قرار دارند.
- جانور ۳ هنگام پریدن در سیاره خود باید مراقب باشد چون هنگام برخورد به خاک سیاره ضربه محکم تری خواهد خورد.
- جانور ۴ اگر به کره زمین بیاید وزنش از همه کمتر خواهد بود.
- اگر جانور ۱ به زمین بیاید وزنش حدودا ۵ برابر می‌شود.

با توجه به جدول چند عبارت صحیح است؟

- ۱) یک عبارت ۲) دو عبارت ۳) سه عبارت ۴) چهار عبارت

۶۲- چگالی جسم A، دو برابر چگالی جسم B است. اگر بدانیم جسم A می‌تواند در مایعی مثل روغن فرو رود، کدام گزینه زیر، همواره صحیح است؟



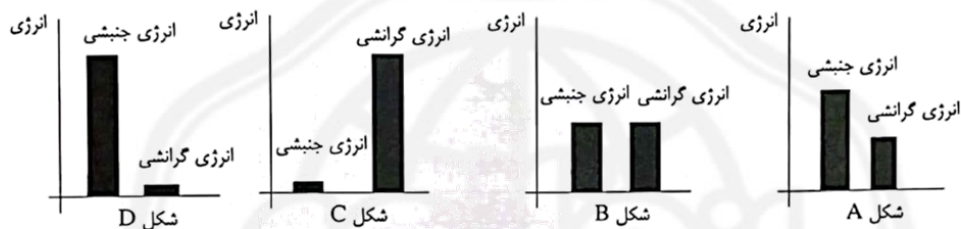
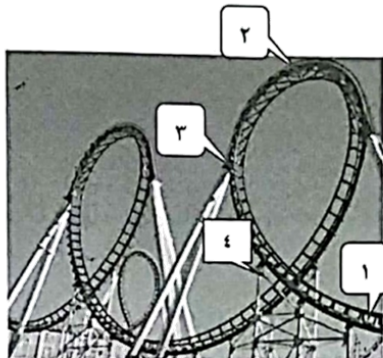
- ۱) نمودار حجم - جرم این دو جسم می‌تواند به صورت روبه رو باشد:
 ۲) اگر جسم B را داخل روغن بیندازیم، قطعا در آن فرو می‌رود.
 ۳) در صورت برابر بودن جرم دو جسم، حجم جسم A، ۱/۴ حجم جسم B است.
 ۴) اگر نمودار جرم- حجم این دو جسم را رسم کنیم شیب نمودار A بیشتر از نمودار B است.

۶۳- اگر بچه‌های کلاس شما برای تمیز کردن آزمایشگاه بخواهند به اندازه ۷۰ سانتیمتر کمد وسایل شیشه‌ای ۲۰۰ کیلوگرمی را جابجا کنند، باید حدود ۶۰ نیوتن نیرو وارد کنند. بچه‌ها برای جابجایی این کمد چقدر کار انجام داده‌اند؟



- ۱) ۱۸۲۰۰ ژول
 ۲) ۱۸۲ ژول
 ۳) ۴۲ ژول
 ۴) ۴۲۰۰ ژول

۶۴- با توجه به مسیر حرکت این ترن هوایی که در مسیری بدون اصطکاک در نظر گرفته شده است، با توجه به نمودارهای ستونی هر بخش، کدام گزینه صحیح است؟



۱) نمودار B، نقطه ۲ در ترن هوایی و نمودار D، نقطه ۱ در ترن هوایی است.
 ۲) نمودار C، نقطه ۲ در ترن هوایی و نمودار B، نقطه ۳ در ترن هوایی است.
 ۳) نمودار C، نقطه ۴ در ترن هوایی و نمودار A، نقطه ۱ در ترن هوایی است.
 ۴) نمودار A نقطه ۴ در ترن هوایی و نمودار D، نقطه ۳ در ترن هوایی است.

۶۵- دقت اندازه‌گیری در کدام گزینه یا سایر گزینه‌ها متفاوت است؟

- ۱) ۸۵ میلی متر ۲) ۰/۰۰۲ متر ۳) ۵/۲ سانتی متر ۴) ۸۴ میلی متر

سوالات زبان انگلیسی - پایه هفتم

۶۶. She is Jalili. She has a son and two daughters.
 ۱) Mr. ۲) Miss ۳) Sir ۴) Mrs.
۶۷. Which of the following is an example of a greeting?
 ۱) This is my teacher. ۲) Thank you.
 ۳) Mr. Alavi ۴) Good morning
۶۸. A:? B: Mohseni
 ۱) What's your first name? ۲) How do you spell your first name?
 ۳) What's your last name? ۴) How do you spell your last name?
۶۹. Parsa's father is a, he works in a library.
 ۱) teacher ۲) employee ۳) librarian ۴) officer
۷۰. Your father's father is your sister's
 ۱) uncle ۲) grandfather ۳) grandmother ۴) aunt

۷۱. Matin is a student. His birthday is Mehr. His father works a bank and his mother is a clerk a paint company.

- ۱) in/at/at ۲) in/in/in ۳) at/ in/in ۴) at/at/at

- Read the following text and answer the questions ۷۲ to ۷۵.

Our English teacher's name is Miss Samimi. She is my aunt. She's from Semnan. She is an English teacher of grades seven and nine. She has been a teacher for ten years. She is a very good teacher and all students like her very much. She likes her students, too. I hope she will be our teacher again next year.

۷۲. Miss Samimi has been a teacher for years.

- ۱) ۵ ۲) ۱۰ ۳) ۳ ۴) ۷

۷۳. Which of the following is true according to the text?

- ۱) Miss Samimi is a teacher for all grades.
۲) All students dislike Miss Samimi.
۳) She is from Semnan and teaches grades seven and nine.
۴) She will stop teaching next year.

۷۴. I hope she will be our teacher again year.

- ۱) in ۲) next ۳) for ۴) until

۷۵. What is the relationship between the writer and Miss Samimi?

- ۱) She is the writer's neighbor. ۲) She is the writer's aunt.
۳) She is the writer's cousin. ۴) She is the writer's friend.

سوالات مطالعات اجتماعی - پایه هفتم

۷۶- کدام گزینه به ترتیب "حق، مسئولیت، حق، مسئولیت" را نشان می دهد؟

- ۱) کار و تلاش برای تامین نیاز، حفظ پاکیزگی محل، آزاد بودن، شناخت استعدادهای خود
۲) تبعه یک کشور بودن، تشکیل خانواده، داشتن شناسنامه، شکرگزاری
۳) سواد و تحصیل، مراقبت از اعضای بدن، عبادت خدا، ادامه راه خون شهیدان
۴) دفاع از استقلال میهن، اطاعت از والدین، داشتن لباس، تلاش برای آبادی محیط زندگی

۷۷- کدام یک از موارد زیر در رابطه با حقوق یا مسئولیت های هر شخص دقیق تر بیان شده است؟

- ۱) هر انسان در محیط جامعه و پیرامون خود مسئولیت دارد آزاد باشد، چرا که خداوند انسان ها را آزاد آفریده است.
۲) شناسنامه هر شخص نشان می دهد که او فرزند چه کسی است، متعلق به کدام کشور بوده و چه تحصیلاتی دارد.
۳) اگر شخصی کار اشتباه یا خطرناکی در جامعه انجام دهد، سایرین باید به هر روشی که ممکن است او را باز دارند.
۴) افراد در نقش های مختلف، مسئولیت های مختلفی دارند و هیچ فردی نیست که هیچ مسئولیتی نداشته باشد.

۷۸- از کدام گزینه چرایی نیاز ما انسان ها به قوانین و مقررات برداشت نمی شود؟

- ۱) کارگاه تولید پارچه ای برای تجهیز خط تولید خود به مشکل مالی برخورد است.
۲) در بخش صندوق یک فروشگاه زنجیره ای، افراد برای نوشتن بحث می کنند.
۳) ایجاد مزاحمت برای بانوان در خیابانی از شهر، آن ها را ناراحت و نگران ساخته است.
۴) در حالیکه چراغ قرمز است موتورسواران بر روی خط کشی عابر پیاده توقف کرده اند.





۷۹- در کدام گزینه همه موارد ذکر شده، با بخش مشخص شده مرتبط است؟

- ۱) شورای نگهبان: تایید صلاحیت نامزدهای انتخاباتی، تصویب و تایید قانون اساسی، برگزاری انتخابات کشور.
- ۲) مجلس شورای اسلامی: تصویب و تایید قوانین اساسی، نظارت بر انتخابات کشور، انتخاب توسط مردم.
- ۳) مجلس شورای اسلامی: انتخاب توسط مردم، ادای سوگند در شروع کار، بررسی صلاحیت نامزدهای انتخاباتی.
- ۴) شورای نگهبان: تایید یا رد قوانین تصویبی، بررسی صلاحیت نامزدهای انتخاباتی، نظارت بر برگزاری انتخابات.

۸۰- در کدام گزینه الگوی (همدلی - همیاری - همیاری - همدلی) رعایت شده است؟

- ۱) تامین هزینه داروهای یک بیمار خاص - گفت‌وگو با بیماران دیالیزی - شنیدن درد دل یک دوست - اجرای تئاتر عروسکی در بخش اطفال بیمارستان
- ۲) شنیدن صحبت‌های یک سالمند در خانه سالمندان - کمک به حمل خریدهای شخصی کم‌توان - بازسازی زمین‌های سیل گرفته - دعا برای شفای بیماران
- ۳) درک شرایط مستمندان - شنیدن صدای مظلومین جهان - کمک به بازسازی مناطق جنگ‌زده - ناراحتی از وضعیت کودکان فلسطینی
- ۴) انگیزه دادن به فرد ناامید - خرید دفتر برای دانش‌آموز مستمند - گفت‌وگو با سیل‌زدگان - دادن آب و غذا به مسافر در راه مانده

۸۱- در کدام گزینه از نظر قانون، تفاوت در نوع بیمه مشاهده می‌شود؟

- ۱) آقای کشاورز قصد دارد برای بیمه شخص ثالث خودروی جدید خود، به یکی از شرکت‌های بیمه مراجعه کند.
- ۲) بیمه، هزینه‌های درمان آقای رجبی که در حین کار در کارگاه نساجی مصدوم شده است، را پرداخت می‌کند.
- ۳) خانم حسینی جهت ساختن آینده ای بهتر و مطمئن تر برای فرزندان خود، آنها را بیمه عمر و پس انداز می‌کند
- ۴) بیمه، مستمری آقای محمدی را که بر اثر مصدومیت در کارخانه فولاد از کارافتاده است، پرداخت می‌کند.

۸۲- کدام گزینه، یک اصل اساسی در بیمه به شمار می‌رود؟

- ۱) رقابت
- ۲) حسن نیت
- ۳) تبلیغات
- ۴) سودآوری

۸۳- پدر مهرسام یک مخترع است. کدام گزینه به درستی بیانگر حقوق ایشان است؟

- ۱) اختراع به دست آمده از فرایند تفکر او تنها در کشور ایران محترم شمرده می‌شود.
- ۲) او می‌تواند به صورت انحصاری و بدون محدودیت زمانی از منافع مادی اختراع خود بهره‌مند شود.
- ۳) حقوق مخترع تنها در صورتی محترم شمرده می‌شود که اختراع او در ایران ثبت شود.
- ۴) او می‌تواند در زمان مشخصی به صورت انحصاری از منافع مادی اختراعش بهره‌مند گردد.

۸۴- در کدام گزینه، نوع عوامل تولید با یکدیگر متفاوت هستند؟

- ۱) در یک کارخانه فولاد: سنگ آهن، آب‌های زیرزمینی، زمین، گاز طبیعی
- ۲) در یک کارخانه خودرو سازی: پیچ و مهره، سالن تولید، دستگاه برش فولاد
- ۳) در یک شرکت تولید لبنیات: تجهیزات بسته بندی، مخازن نگهداری شیر، هزینه خرید مقوا
- ۴) در یک کارگاه تولید پوشاک: طراح دوخت، کارگر نیمه ماهر، خیاط حرفه‌ای

۸۵- کدام یک از اقدامات علی از اهمیت دادن او به حفظ محیط زیست حکایت می‌کند؟

- ۱) در هنگام خرید تلفن همراه، ضمانت نامه را از فروشنده تحویل می‌گیرد.
- ۲) در هنگام خرید میوه و سبزی از کیسه‌های پارچه‌ای استفاده می‌کند.
- ۳) در هنگام خرید شیر و ماست به تاریخ مصرف محصول توجه می‌کند.
- ۴) در هنگام خرید یک شامپوی خارجی به قاچاق نبودن کالا توجه می‌کند.

۸۶- کدام گزینه در رابطه با وسایل شناخت محیط درست نیست؟

- ۱) نقشه تقسیمات کشوری قادر است محل دقیق تمام پدیده‌های انسانی را به ما نشان دهد.
- ۲) با استفاده از عکس‌های هوایی می‌توانیم نقشه‌های جغرافیایی را تهیه و تنظیم نماییم.
- ۳) با کره جغرافیایی می‌توان قرارگیری کشوری در نیمکره شمالی یا جنوبی زمین را تشخیص داد.
- ۴) پایگاه‌های اینترنتی می‌تواند اطلاعات را به صورت فیلم، متن یا تصویر به ما نشان دهد.



۰۲۱ - ۴۴۱۳۶۹۷۵ * ۰۲۱ - ۹۱۳۰۲۲۰۲




Tizline.ir



۰۹۳۳۳۳۸۴۰۲۰۲

۸۷- اگر فاصله شهر تهران تا شهر بیرجند بر روی نقشه‌ای ۴/۵ سانتی‌متر باشد. با توجه به مقیاس خطی زیر فاصله واقعی این دو شهر چقدر است؟



- ۱) ۴۵۰۰ متر
- ۲) ۲۵۰ کیلومتر
- ۳) ۲۵۰۰ متر
- ۴) ۴۵۰ کیلومتر

۸۸- کدام گزینه درباره نواحی مرتفع در شمال ایران نادرست است؟

- ۱) رشته‌کوه‌های البرز در شمال مانند دیواری دریای خزر را از نواحی غربی کشور جدا کرده است.
- ۲) قله‌های سه‌پند و سیلان از قله‌های آتشفشانی کوه‌های آذربایجان در شمال غربی ایران هستند.
- ۳) دامنه‌های جنوبی البرز کم رطوبت است و فقط در فصل زمستان برف و باران دارد.
- ۴) در دامنه‌های شمالی رشته کوه البرز برف و باران فراوانی می‌بارد و پوشیده از جنگل‌های انبوه است.

۸۹- کدام گزینه، یکی از وظایف اصلی محیط‌بان‌ها محسوب می‌شود؟

- ۱) پژوهش در خصوص گونه‌های گیاهی و جانوری
- ۲) آموزش حفاظت از محیط زیست به مردم محلی
- ۳) ایجاد مناطق حفاظت شده جدید در محله‌ها
- ۴) شناسایی فعالیت‌های موجب تخریب محیط زیست

۹۰- در به هم خوردن تعادل طبیعت کدام عامل پایه‌ای‌تر است؟

- ۱) از بین رفتن جانوران یک منطقه
- ۲) مصرف‌گرایی و تولید زباله
- ۳) شکار بیش از حد و صید بی‌رویه
- ۴) نابود کردن درختان جنگلی



کلید اولیه پایش عملکرد یادگیری پایه هفتم - مرحله اول

دبیرستان‌های دوره اول استعدادهای درخشان سراسر کشور در سال تحصیلی ۱۴۰۴-۱۴۰۳

سوال	پاسخ
.۹۷	
.۹۸	
.۹۹	
.۱۰۰	
.۱۰۱	
.۱۰۲	
.۱۰۳	
.۱۰۴	
.۱۰۵	
.۱۰۶	
.۱۰۷	
.۱۰۸	
.۱۰۹	
.۱۱۰	
.۱۱۱	
.۱۱۲	
.۱۱۳	
.۱۱۴	
.۱۱۵	
.۱۱۶	
.۱۱۷	
.۱۱۸	
.۱۱۹	
.۱۲۰	

سوال	پاسخ
.۷۳	۳
.۷۴	۲
.۷۵	۲
.۷۶	۱
.۷۷	۴
.۷۸	۱
.۷۹	۴
.۸۰	۲
.۸۱	۳
.۸۲	۲
.۸۳	۴
.۸۴	۱
.۸۵	۲
.۸۶	۱
.۸۷	۴
.۸۸	۱
.۸۹	۴
.۹۰	۴
.۹۱	
.۹۲	
.۹۳	
.۹۴	
.۹۵	
.۹۶	

سوال	پاسخ
.۴۹	۱
.۵۰	۱
.۵۱	۳
.۵۲	۱
.۵۳	۱
.۵۴	۲
.۵۵	۴
.۵۶	۲
.۵۷	۳
.۵۸	۲
.۵۹	۱
.۶۰	۴
.۶۱	۱
.۶۲	۴
.۶۳	۳
.۶۴	۲
.۶۵	۱
.۶۶	۴
.۶۷	۴
.۶۸	۳
.۶۹	۳
.۷۰	۲
.۷۱	۲
.۷۲	۲

سوال	پاسخ
.۲۵	۲
.۲۶	۲
.۲۷	۴
.۲۸	۴
.۲۹	۳
.۳۰	۳
.۳۱	۳
.۳۲	۴
.۳۳	۲
.۳۴	۱
.۳۵	۱
.۳۶	۲
.۳۷	۲
.۳۸	۲
.۳۹	۴
.۴۰	۳
.۴۱	۲
.۴۲	۱
.۴۳	۱
.۴۴	۲
.۴۵	۳
.۴۶	۴
.۴۷	۱
.۴۸	۲

سوال	پاسخ
.۱	۲
.۲	۱
.۳	۴
.۴	۳
.۵	۲
.۶	۴
.۷	۴
.۸	۳
.۹	۱
.۱۰	۲
.۱۱	۳
.۱۲	۲
.۱۳	۳
.۱۴	۲
.۱۵	۱
.۱۶	۴
.۱۷	۴
.۱۸	۳
.۱۹	۱
.۲۰	۳
.۲۱	۱
.۲۲	۱
.۲۳	۴
.۲۴	۲

