



# آکادمی آنلاین تیزلاین قوی ترین پلتفرم آموزشی تیز هوشان

برگزار کننده کلاس های آنلاین و حضوری تیز هوشان ✓

و المپیاد از پایه چهارم تا دوازدهم

آزمون های آنلاین و حضوری ✓

مشاوره تخصصی ✓

با اسکن QR کد روبرو  
وارد صفحه اینستاگرام  
آکادمی تیزلاین شو و از  
محتواهای آموزشی  
رایگان لذت ببر



برای ورود به صفحه اصلی سایت آکادمی تیزلاین کلیک کنید

برای دانلود دفترچه آزمون های مختلف برای هر پایه کلیک کنید

برای مطالعه مقالات بروز آکادمی تیزلاین کلیک کنید



پایه های چهارم تا دوازدهم

با حضور اساتید برگزیده کشوری تیزهوشان و کنکور

مجموعه مهارت کلاس و آزمون در سراسر کشور

www.tizline.tv

www.tizline.ir

259/4

2(4)

5(3)

9(2)

4(1)

980(4)

453(3)

533(2)

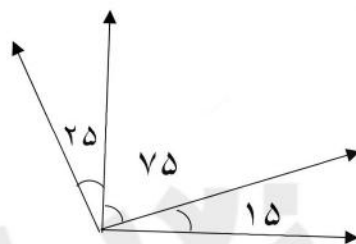
943(1)

9(4) رقمی

8(3) رقمی

7(2) رقمی

6(1) رقمی



125(4)

115(3)

90(2)

75(1)

بزرگترین زاویه ی شکل مقابل چند درجه است؟

اگر  $\frac{3}{8}$  از کتابی را مطالعه کرده باشیم، چه کسری از آن را هنوز نخوانده ایم؟

$\frac{4}{8}$  (4)

$\frac{5}{8}$  (3)

$\frac{8}{8}$  (2)

$\frac{3}{8}$  (1)

اختلاف بزرگترین عدد 7 رقمی زوج و کوچکترین عدد 5 رقمی بدون تکرار را بنویسید.

3- حاصل عبارت زیر را بدست آورید:

$$\left( 3 \times \frac{2}{8} \right) + \left( \frac{3}{4} - \frac{1}{2} \right) =$$



021-44136975 \* 021-91302202



Tizline.ir



093333840202

تیزلاین منبع معتبر تیزهوشان

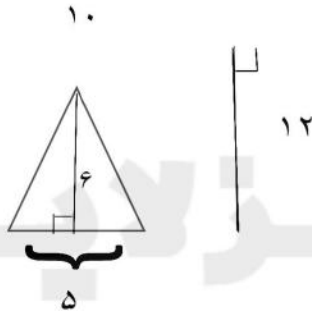
سامانه پیامکی: 90001620

۴- حاصلضرب و تقسیم زیر را بدست آورید:

$$\begin{array}{r} 450 \\ \times 21 \\ \hline \end{array}$$

$$\begin{array}{r} 5891 \quad | \quad 32 \\ \hline \end{array}$$

۵- مساحت قسمت رنگی را بدست آورید:



۶- دانش آموزی ساعت ۴:۵۰ به کلاس می رود و ساعت ۶:۲۰ از کلاس بر می گردد. او چند ساعت و چند دقیقه در کلاس بوده است؟

۷- یک تاس را ۱۰ بار می اندازیم. حدس می زنید اعداد زوج بیشتر می آیند یا اعداد فرد؟ چرا؟

« موفق باشید گل های مریم »



۱-

- پاسخ گزینه ۱ (۴)
- پاسخ گزینه ۳ (۴۵۳)
- پاسخ گزینه ۴ (۹رقمی)
- پاسخ گزینه ۳ (۱۱۵)
- پاسخ گزینه ۳ ( $\frac{5}{8}$ )

۲-

$$\begin{array}{r} 9999998 \\ - 10234 \\ \hline 9989764 \end{array}$$

تیزلاین  
آکادمی آنلاین آموزشی




۳-

$$= \frac{6}{8} + \frac{2}{8} = \frac{8}{8} = 1$$

۴-

$$\begin{array}{r} 45. \\ \times 21 \\ \hline 45 \\ - 90. \\ \hline 945. \end{array}$$

$$\begin{array}{r} - 891 \quad | \quad 32 \\ 3200 \quad | \quad 184 \\ \hline 2691 \\ - 2560 \\ \hline 131 \\ - 128 \\ \hline 3 \end{array}$$



۵-

$$12 \times 10 = 120$$

$$(6 \times 5) \div 2 = 15$$

$$120 - 15 = 105 \quad \text{مساحت قسمت رنگی}$$

۶- او ۱ ساعت و ۳۰ دقیقه در کلاس بوده است.

$$6:20$$

$$- 4:50$$

$$1:30$$

۷- احتمال آمدن اعداد زوج یا اعداد فرد برابر است. چون تاس ۶ طرف دارد، ۳ عدد فرد و ۳ عدد زوج دارد.



۰۲۱-۴۴۱۳۶۹۷۵ \* ۰۲۱-۹۱۳۰۲۲۰۲



Tizline.ir



۰۹۳۳۳۸۴۰۲۰۲