



آکادمی آنلاین تیزلاین قوی ترین پلتفرم آموزشی تیز هوشان

برگزار کننده کلاس های آنلاین و حضوری تیز هوشان ✓

و المپیاد از پایه چهارم تا دوازدهم

آزمون های آنلاین و حضوری ✓

مشاوره تخصصی ✓

با اسکن QR کد روبرو
وارد صفحه اینستاگرام
آکادمی تیزلاین شو و از
محتوای آموزشی
رایگان لذت ببر



برای ورود به صفحه اصلی سایت آکادمی تیزلاین کلیک کنید

برای دانلود دفترچه آزمون های مختلف برای هر پایه کلیک کنید

برای مطالعه مقالات بروز آکادمی تیزلاین کلیک کنید

نام درس : علوم تجربی

نام دبیر : مهسا یارمسنینی

تاریخ امتحان : ۳ / ۳ / ۱۴۰۰

ساعت امتحان : ۹:۰۰ صبح / عصر

مدت امتحان : ۴۵ دقیقه

جمهوری اسلامی ایران

اداره ی کل آموزش و پرورش شهر تهران

اداره ی آموزش و پرورش شهر تهران منطقه ۴ تهران

دبستان غیردولتی دفترانه سرای دانش وامد الضدیر

ارزشیابی توصیفی ترم دوم سال تحصیلی ۱۴۰۰-۱۳۹۹

نام:

نام خانوادگی:

مقطع و رشته : پنجم ابتدایی

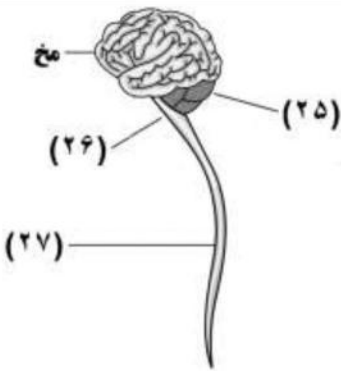

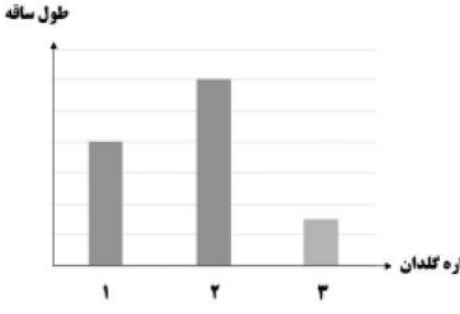

تعداد صفحه سوال : ۳

ردیف	سوالات	بارم
۱	درستی یا نادرستی جملات زیر را مشخص کنید . برای مشاهده دقیق باید از مواس پنج گانه استفاده کرد .	۳ نمره
۲	فاصله ی کانون تا عدسی در تمام عدسی ها یکسان است .	<input type="checkbox"/> درست <input type="checkbox"/> نادرست
۳	با فرسایش خاک ، حاصلخیزی آن بیشتر می شود .	<input type="checkbox"/> درست <input type="checkbox"/> نادرست
۴	هرچه تعداد گیرنده های لمسی بیشتر شود ، پوست آن بخش حساس تر است .	<input type="checkbox"/> درست <input type="checkbox"/> نادرست
۵	از سطح شیبدار و کوه برای جا به جا کردن اجسام استفاده می شود .	<input type="checkbox"/> درست <input type="checkbox"/> نادرست
۶	الکتنگ و ترازو انواعی از اهرم های نوع دوم هستند .	<input type="checkbox"/> درست <input type="checkbox"/> نادرست
۷	جای خالی را کامل کنید . در تغییر ، ساختار مولکولی ، جنس ماده و فاصیبت آن ها ، دچار تغییر می شود .	۳ نمره
۸	اجسام مانند چوب ، نور را از خود عبور نمی دهند .	
۹	گیاهان هوا را از طریق دریافت می کنند .	
۱۰	فاک هایی که بیشتری دارند ، آب بیشتری را در خود نگه می دارند .	
۱۱	تشخیص مزه ی غذا به عهده ی است .	
۱۲	فاک باغچه به دلیل داشتن از فاک بیابان حاصلخیز تر است .	
۱۳	گزینه ی صحیح را انتخاب کنید . در طبیعت کدام ماده زیر برای تشکیل فسیل مناسب تر است ؟	۳ نمره
۱۴	کدام یک از اندام های بدن ، در حرکت ما نقش دارند ؟	

مجموعی همایش کلاس و آزمون در سراسر کشور

با حضور اساتید برجسته ی کشوری تیز هوشان و کنکور

	<p>۱۵ فارمی ترین بخش گوش کدام است ؟ <input type="checkbox"/> الف (پرده ی گوش) <input type="checkbox"/> ب (لاله ی گوش) <input type="checkbox"/> ج (مجرای شنوایی) <input type="checkbox"/> د (بخش ملزونی)</p> <p>۱۶ در کدام ماشین ، سطح شیبدار به کار رفته است ؟ <input type="checkbox"/> الف (دستگیره ی در) <input type="checkbox"/> ب (تیر) <input type="checkbox"/> ج (نردبان) <input type="checkbox"/> د (فرمان ماشین)</p> <p>۱۷ کدام آب برای آبیاری گیاهان مناسب تر است ؟ <input type="checkbox"/> الف (آب چشمه) <input type="checkbox"/> ب (آب دریا) <input type="checkbox"/> ج (آب مقطر) <input type="checkbox"/> د (آب شور)</p> <p>۱۸ در کدام ... بخش از گیاه ، آوند های پوپی و آبکش دیده می شود ؟ <input type="checkbox"/> الف (ساقه) <input type="checkbox"/> ب (ریشه) <input type="checkbox"/> ج (برگ) <input type="checkbox"/> د (همه ی موارد)</p>																
<p>۲ نمره</p>	<p>وصل کنید . (یک کلمه اضافی است .)</p> <p>۱۹ * ممل ذخیره ی مواد غذایی در نیشکر * آوند</p> <p>۲۰ * ممل قرار گرفتن تارهای کشنده * ساقه ی زیر زمینی</p> <p>۲۱ * ممل ذخیره ی مواد غذایی در کلم * ریشه</p> <p>۲۲ * وسیله ی نقل و انتقال مواد در گیاه * برگ</p> <p>* ساقه</p>																
<p>۲ نمره</p>	<p>جدول زیر را کامل کنید .</p> <table border="1" data-bbox="294 1503 1277 1937"> <thead> <tr> <th>نام گیاه</th> <th>نوع برگ</th> <th>نوع ریشه</th> <th>تعداد گلبرگ ها</th> <th>نوع دانه</th> </tr> </thead> <tbody> <tr> <td>زنابق</td> <td>باریک با رگبرگ های موازی</td> <td>.....</td> <td>۳ یا مضرب ۳</td> <td>.....</td> </tr> <tr> <td>لاله عباسی</td> <td>.....</td> <td>راست</td> <td>.....</td> <td>دو لپه</td> </tr> </tbody> </table>	نام گیاه	نوع برگ	نوع ریشه	تعداد گلبرگ ها	نوع دانه	زنابق	باریک با رگبرگ های موازی	۳ یا مضرب ۳	لاله عباسی	راست	دو لپه	
نام گیاه	نوع برگ	نوع ریشه	تعداد گلبرگ ها	نوع دانه													
زنابق	باریک با رگبرگ های موازی	۳ یا مضرب ۳													
لاله عباسی	راست	دو لپه													

<p>۱/۵ نمره</p>		<p>به جای علامت سوال نام بفتش های فواسته شده را بنویسید .</p> <p>..... : ۲۵</p> <p>..... : ۲۶</p> <p>..... : ۲۷</p>
<p>۱/۵ نمره</p>		<p>با تومچه به اهرم زیر به سوالات زیر پاسخ دهید .</p> <p>۲۸ الف) نام این اهرم و نوع آن را بنویسید .</p> <p>۲۹ ب) تکیه گاه در کجا قرار گیرد تا نیروی کمتری برای جا به جا کردن جسم سنگین اعمال شود ؟</p>
<p>۲ نمره</p>		<p>شادی و هم گروهی هایش می خواهند آزمایش اثر نوع خاک بر روی رشد گیاه لوبیا را بررسی کنند :</p> <p>با تومچه به نمودار به سوالات زیر پاسخ دهید .</p> <p>۳۰ الف) چه چیزی را باید تغییر دهند ؟</p> <p>۳۱ ب) گلدان شماره ۳ چه نوع فاکتی دارد ؟</p> <p>۳۲ ج) مناسب ترین خاک برای رشد گیاه کدام است ؟ چرا ؟</p>
<p>۲ نمره</p>		<p>با تومچه به شکل پوست ، به سوالات پاسخ دهید .</p> <p>۳۳ الف) پیاز مو در کدام بفتش قرار گرفته است ؟</p> <p>۳۴ ب) وظیفه ی سلول های زنده ی پوست بیرونی چیست ؟</p> <p>۳۵ ج) فراوان ترین و نزدیک ترین گیرنده ها به سطح پوست کدامند ؟</p> <p>۳۶ د) لایه ی چربی زیر پوست ، چه وظیفه ای دارد ؟</p>