



آکادمی آنلاین تیزلاین قوی ترین پلتفرم آموزشی تیز هوشان

برگزار کننده کلاس های آنلاین و حضوری تیز هوشان ✓

و المپیاد از پایه چهارم تا دوازدهم

آزمون های آنلاین و حضوری ✓

مشاوره تخصصی ✓

با اسکن QR کد روبرو
وارد صفحه اینستاگرام
آکادمی تیزلاین شو و از
محتوای آموزشی
رایگان لذت ببر



برای ورود به صفحه اصلی سایت آکادمی تیزلاین کلیک کنید



برای دانلود دفترچه آزمون های مختلف برای هر پایه کلیک کنید

برای مطالعه مقالات بروز آکادمی تیزلاین کلیک کنید

آکادمی آموزشی تیزلاین <

مجری همایش کلاس و آزمون در سراسر کشور

با حضور اساتید برگزیده ی کشوری تیزهوشان و کنکور

باسمه تعالی			
سؤالات ارزشیابی هماهنگ استانی درس : علوم تجربی	پایه : نهم	ساعت شروع : ۸ صبح	مدت امتحان : ۷۰ دقیقه
نام و نام خانوادگی :	شماره داوطلب :	تاریخ امتحان : ۱۳۹۸/۳/۱۱	تعداد صفحات : ۴
دانش آموزان، داوطلبان آزاده، طرح جامع و نیمسال دوم مدارس آموزش از راه دور (دوره ی اول متوسطه)		اداره سنجش آموزش و پرورش استان البرز Sanjesh.alborz.medu.ir	
نوبت صبح خرداد ماه ۱۳۹۸			
ردیف	تذکره: پاسخ سؤالات را با استفاده از خودکار مشکی یا آبی در مقابل آن بنویسید.	نمره	
۱	هر یک از جمله های زیر را با کلمه های مناسب داخل پرانتز کامل کنید. (الف) قدیمی ترین گیاهان روی زمین،..... هستند. (خزه ها- سرخس ها) (ب) یکای اندازه گیری.....، نیوتون بر کیلوگرم است. (شتاب- سرعت) (ج) شکل پای پرندگان نشان دهنده ی..... آن ها است. (محل زندگی- نوع تغذیه) (د) کهکشان ما (کهکشان راه شیری)، خود بخش بسیار کوچکی از..... است. (کیهان- منظومه شمسی)	۱	
۲	جملات صحیح را با علامت (ص) و جملات غلط را با علامت (غ) مشخص کنید. (الف) هیدروکربن C_2H_4 آسان تر از هیدروکربن $C_{12}H_{22}$ جاری می شود. () (ب) بافت آوندی که دارای آوندهای جویی و آبکشی است، در سراسر پیکر گیاه وجود دارد. () (ج) هوا در سطح زمین متراکم تر از ارتفاع های بالاتر است. () (د) چرخ دنده ها با هم تماس دارند و با فرض آنکه روی هم نمی لغزند (سُر نمی خورند)، وقتی چرخ دنده بزرگ به اندازه یک دنده می چرخد، چرخ دنده کوچک نیز یک دنده می چرخد. () 	۲	
۳	پاسخ صحیح را با علامت ضربدر <input checked="" type="checkbox"/> مشخص کنید. (در هر سؤال فقط یک گزینه درست است). ۱-۳) درون ظرف آب مقابل از کدام ماده حل کنیم تا محلول رسانا شود و لامپ روشن شود؟ (الف) شکر <input type="checkbox"/> (ب) اتانول <input checked="" type="checkbox"/> (ج) کات کبود <input type="checkbox"/> (د) ضد یخ <input type="checkbox"/> ۲-۳) اگر نیروهای وارد بر جسم در توازن باشند؛ یعنی نیروی خالص صفر باشد، تبدی جسم..... (الف) تغییر نمی کند <input type="checkbox"/> (ب) زیاد می شود <input type="checkbox"/> (ج) کم می شود <input type="checkbox"/> (د) نمی توان نظر داد <input type="checkbox"/> ۳-۳) در کدام دسته بندی، تعداد جانداران بیشتری وجود دارد؟ (الف) راسته <input type="checkbox"/> (ب) تیره <input type="checkbox"/> (ج) رده <input type="checkbox"/> (د) گونه <input type="checkbox"/> ۴-۳) کدام یک از جانوران زیر با بقیه در یک گروه قرار ندارد؟ (الف) کرم <input type="checkbox"/> (ب) عروس دریایی <input type="checkbox"/> (ج) هشت پا <input type="checkbox"/> (د) وزغ <input type="checkbox"/> 	۳	
«ادامه ی سؤالات در صفحه ی دوم»			
نمره یا عدد ←			نوعه بررسی از موارد تغلف در ارزشیابی دوره اول متوسطه عبارتند از : (الف) همراه داشتن کتاب، جزوه، یادداشت، تلفن همراه و مانند آن اگرچه به موضوع امتحان مربوط نباشد و مورد استفاده قرار نگرفته باشد. (ب) استفاده از کتاب، جزوه و وسایل دیگر برای پاسخگویی به سؤالات امتحانی، استفاده از اطلاعات دیگران به هر نحو یا دادن اطلاعات درسی خود به دیگران اعم از اینکه در جلسه امتحان یا در هنگام توضیح ورقه با بعد از آن معلوم گردد. (پ) فرستادن شخص دیگری به جای خود به جلسه امتحان و همچنین شخصی که ورقه امتحانی اش توسط فرد دیگری نوشته شده باشد. (ت) اختلال در نظم حوزه یا جلسه امتحانی به هر نحو.
نمره یا حروف ←			
نام و نام خانوادگی	تصحیح دبیر متوسط	تجدیدنظر در صورت اعتراض	مصاحح سوم در صورت مغایرت
و امضای دبیر ←			

(صفحه ی ۱ از ۴)

آکادمی آموزشی تیزلاین <

باسمه تعالی

سؤالات ارزشیابی هماهنگ استانی درس : علوم تجربی	پایه : نهم	ساعت شروع : ۸ صبح	مدت امتحان : ۷۰ دقیقه								
نام و نام خانوادگی :	شماره داوطلب :	تاریخ امتحان : ۱۳۹۸/۳/۱۱	تعداد صفحات : ۴								
دانش آموزان، داوطلبان آزاد، طرح جامع و نیمسال دوم مدارس آموزش از راه دور (دوره ی اول متوسطه)		اداره سنجش آموزش و پرورش استان البرز Sanjesh.alborz.medu.ir									
نوبت صبح خرداد ماه ۱۳۹۸											
ردیف	تذکره: پاسخ سؤالات را با استفاده از خودکار مشکی یا آبی در مقابل آن بنویسید. . .										
۴	<p>به سؤالات زیر پاسخ کوتاه بدهید.</p> <p>الف) در پالایشگاه های نفت اجزای نفت خام را بر چه اساسی از یکدیگر جدا می کنند؟</p> <p>ب) ترمز هیدرولیکی خودرو بر چه اساسی کار می کند؟</p> <p>ج) مهم ترین نقش گیاهان در زندگی ما و جانوران خشکی زی، مربوط به چیست؟</p> <p>د) کمپاب ترین گروه بندپایان چه نام دارند؟</p>										
۵	<p>یک تفاوت قورباغه بالغ با نوزاد قورباغه را که سبب سازگاری این دوزیست برای فعالیت در خشکی می شود را بنویسید.</p>										
۶	<p>متحرکی $\frac{3}{4}$ مسیر دایره ای شکل را مطابق شکل پیموده است. بردار جابجایی این متحرک را در شکل با <u>خط جهت دار</u> رسم کنید.</p> 										
۷	<p>میلیون ها سال بعد از تشکیل کره ی زمین، خشکی بزرگ پانگه آ به دو خشکی کوچک تر تقسیم شد که بین آنها را دریای تتیس پر کرده بود. نام این دو خشکی را بنویسید. و</p>										
۸	<p>در چه صورتی بدن جاندار به طور کامل به فسیل تبدیل می شود؟ با مثال توضیح دهید.</p>										
۹	<p>هر یک از توضیحات زیر، توصیف کدام بخش از گیاهان می باشد؟</p> <p>الف) سوراخ هایی برای خروج بخار آب:</p> <p>ب) سلول های طویل جاذب آب و املاح:</p>										
۱۰	<p>هر یک از مواردی که در ستون (الف) آمده، به کدام یک از موارد ستون (ب) مربوط می شود؟ به هم وصل کنید.</p> <table border="1" data-bbox="359 1545 1181 1747"> <tr> <td>(الف)</td> <td>(ب)</td> </tr> <tr> <td>الف) در تهیه کودهای شیمیایی و مواد منفجره کاربرد دارد.</td> <td>NH_۳</td> </tr> <tr> <td>ب) از یون ها تشکیل شده است.</td> <td>NaCl</td> </tr> <tr> <td>ج) از رسیدن پرتوهای خطرناک به زمین جلوگیری می کند.</td> <td>O_۳</td> </tr> </table>			(الف)	(ب)	الف) در تهیه کودهای شیمیایی و مواد منفجره کاربرد دارد.	NH _۳	ب) از یون ها تشکیل شده است.	NaCl	ج) از رسیدن پرتوهای خطرناک به زمین جلوگیری می کند.	O _۳
(الف)	(ب)										
الف) در تهیه کودهای شیمیایی و مواد منفجره کاربرد دارد.	NH _۳										
ب) از یون ها تشکیل شده است.	NaCl										
ج) از رسیدن پرتوهای خطرناک به زمین جلوگیری می کند.	O _۳										

مجری همایش کلاس و آزمون در سراسر کشور

با حضور اساتید برگزیده ی کشوری تیزهوشان و کنکور

باسمه تعالی

ردیف	تذکر: پاسخ سوالات را با استفاده از خودکار مشکی یا آبی در مقابل آن بنویسید.	نمره
<p>سوالات ارزشیابی هماهنگ استانی درس: علوم تجربی پایه: نهم ساعت شروع: ۸ صبح مدت امتحان: ۷۰ دقیقه</p> <p>نام و نام خانوادگی: شماره داوطلب: تاریخ امتحان: ۱۳۹۸/۳/۱۱ تعداد صفحات: ۴</p> <p>دانش آموزان، داوطلبان آزاد، طرح جامع و نیمسال دوم مدارس آموزش از راه دور (دوره ی اول متوسطه) اداره سنجش آموزش و پرورش استان البرز نوبت صبح خرداد ماه ۱۳۹۸ Sanjesh.alborz.medu.ir</p>		
۱۱	الف) صورت فلکی را تعریف کنید. ب) دو کاربرد صورت های فلکی را بنویسید.	۱
۱۲	چرا در مناطق کوهستانی، قسمتی از جاده ها را به صورت پیچ های شیبدار می سازند؟	۰/۵
۱۳	چرا بیشتر شخانه ها در اقیانوس ها سقوط می کنند؟	۰/۲۵
۱۴	الف) کدام یک از شکل های زیر می تواند مربوط به ساختار سلولی باکتری ها باشد؟ ب) برای پاسخ خود دو دلیل بنویسید.(۱)(۲)	۰/۷۵
	 	
۱۵	عامل بیماری های میکروبی زیر چه موجوداتی هستند؟ الف) سرما خوردگی: ب) زخم پوست بین انگشتان پا:	۰/۵
۱۶	با توجه به نمونه (الف) که برای اسفنج توضیحی کوتاه نوشته، یک توضیح برای تصاویر ب و ج بنویسید. الف) اسفنج: جانورانی با بدن سوراخ دار ب) عروس دریایی: ج) کرم نواری (کدو):	۰/۵
	  	
۱۷	بین جانداران در هر بوم سازگان سه نوع ارتباط را می توان تشخیص داد. نقشه مفهومی زیر انواع این روابط را نشان می دهد. آن را کامل کنید.	۰/۷۵
	<p>ارتباط بین جانداران</p> <pre> graph TD A[ارتباط بین جانداران] --> B[.....(ب).....] A --> C[.....(ج).....] A --> D[.....(الف).....] </pre>	

« ادامه ی سوالات در صفحه ی چهارم »

(صفحه ی ۳ از ۴)

باسمه تعالی			
سؤالات ارزشیابی هماهنگ استانی درس : علوم تجربی	پایه : نهم	ساعت شروع : ۸ صبح	مدت امتحان : ۷۰ دقیقه
نام و نام خانوادگی :	شماره داوطلب :	تاریخ امتحان : ۱۳۹۸/۳/۱۱	تعداد صفحات : ۴
دانش آموزان، داوطلبان آزاد، طرح جامع و نیمسال دوم مدارس آموزش از راه دور (دوره ی اول متوسطه) اداره سنجش آموزش و پرورش استان البرز نوبت صبح خرداد ماه ۱۳۹۸ Sanjesh.alborz.medu.ir			
ردیف	تذکره: پاسخ سؤالات را با استفاده از خودکار مشکی یا آبی در مقابل آن بنویسید.	نمره	-
۱۸	در شکل زیر یک شبکه غذایی ساده رسم شده است. با استفاده از کلمات داده شده، جاندار مناسب را در قسمت های خالی بنویسید تا شبکه کامل شود. (به خاطر داشته باشید که جهت پیکان ها نشان دهنده انتقال انرژی از تولید کننده انرژی به مصرف کننده آن است.) انتقال انرژی از تولید کننده انرژی به مصرف کننده آن است.) عقاب - روباه - ذرت نور خورشید → (۱) → خرگوش → (۲) → (۳)	۰/۷۵	
۱۹	در شکل زیر نام قسمت های مشخص شده را بنویسید. الف) ب) بخش های مشخص شده در شکل: باریک تنه، کله، کبد، نخاع، مغز، قلب، آبشش، روده، مثانه، کسه صغری، کسه صغری، مثانه، روده.	۰/۵	
۲۰	اصطلاحات زیر را تعریف کنید. الف) پوست اندازی: ب) جفت:	۱	
توجه: در حل مسئله زیر نوشتن فرمول و یکا الزامی است.			
۲۱	یک مکعب مستطیل به ابعاد ۲، ۳ و ۴ متر و وزن ۶۰۰ نیوتن را مطابق شکل روی زمین قرار داده ایم. فشاری که مکعب در این حالت به سطح زیرین خود وارد می کند، چند پاسکال است؟ شکل مکعب مستطیل با ابعاد ۲m، ۳m و ۴m.	۰/۷۵	
۲۲	در شکل زیر اهرم در حال تعادل است و طول اهرم ۲ متر است. مقدار نیروی F_1 را به دست آورید. (نیروی اصطکاک ناچیز فرض شود.) شکل اهرم با نیروی ۳۰N در فاصله ۵۰cm از تکیهگاه و نیروی F_1 در فاصله ۲m از تکیهگاه.	۰/۷۵	
۱۵	جمع نمرات		« موفق باشید »

آکادمی آموزشی تیزلاین <

مجری همایش کلاس و آزمون در سراسر کشور

با حضور اساتید برگزیده ی کشوری تیزهوشان و کنکور



ششم

استاد مسعود بیگدلی
ترم دو دوره سالانه
ریاضی تیزهوشان
از ۲۹ دی ، دوشنبه ها
۱۶:۳۰ تا ۱۷:۴۵ | ۱۲ جلسه
۳۵۰.۰۰۰



استاد مسعود بیگدلی
ترم دو دوره سالانه
هوش و خلاقیت
از ۲۹ دی ، دوشنبه ها
۲۱:۱۵ - ۲۰:۰۰ | ۱۲ جلسه
۳۵۰.۰۰۰



ششم

دکتر قربانی
ترم دو دوره سالانه
علوم تیزهوشان
از ۱ بهمن ، چهارشنبه ها
۱۸:۱۵ - ۱۹:۳۰ | ۱۲ جلسه
۳۵۰.۰۰۰



ششم

استاد حسن ربانی
دوره سالانه
فارسی تیزهوشان
از ۱ آذر ، شنبه ها
۲۱:۱۵ - ۲۰:۰۰ | ۱۵ جلسه
۴۵۰.۰۰۰

برنامه کلاس های دوره ابتدایی آکادمی تیزلاین



پنجم

استاد وحید گوران
ترم دو دوره سالانه
ریاضی پیشرفت
از ۲۸ دی ، یکشنبه ها
۱۸:۱۵ - ۱۹:۳۰ | ۱۲ جلسه
۳۵۰.۰۰۰



استاد پیمان لایق
ترم دو دوره سالانه
ساینس (علوم به لاتین)
از ۲۹ دی ، دوشنبه ها
۲۱:۱۵ - ۲۰:۰۰ | ۱۲ جلسه
۳۵۰.۰۰۰
ظرفیت ۱۵ نفر



استاد سعید موساوند
زبان انگلیسی، ترم زمستان
سه شنبه ها از ۳۰ دی
۲۱:۱۵ - ۲۰:۰۰
جمعه ها از ۳ بهمن
۱۷:۴۵ - ۱۶:۳۰
۲۱:۱۵ - ۲۰:۰۰ | ۱۰ جلسه
۴۰۰.۰۰۰
ظرفیت هر گروه: ۱۰ نفر



چهارم

استاد وحید گوران
ترم دو دوره سالانه
ریاضی پیشرفت
از ۲۸ دی ، یکشنبه ها
۱۶:۳۰ - ۱۷:۴۵ | ۱۲ جلسه
۳۵۰.۰۰۰

تیزلاینی - شو

آزمون های آکادمی تیزلاین

شبیه سازترین
آزمون تیزهوشان

هشتم
۶+۱
مرحله

چهارم
۱+۵
مرحله

هفتم
۶+۱
مرحله

ششم
۱۰+۱
مرحله

پنجم
۸+۱
مرحله

چهارم تا دهم

با طراحی اساتید برجسته تیزهوشان کشور
استاد مسعود بیگدلی، استاد فرزاد تندرو، استاد میثم بهرامی
دکتر میثم کوهگرد، استاد مهدی مهدی زاده، دکتر قربانی و ...



ثبت نام در سایت رسمی آکادمی تیزلاین

www.Tizline.ir | ۰۲۱ ۴۴۱۳ ۶۹۷۵ | ۰۹۳۳۳ ۳۸۴ ۰۲۰۲

آنلاین و حضوری
در نمایندگی ها



www.Tizline.ir



@Bigbest23



۰۹۳۳۳ ۳۸۴ ۰۲۰۲



۵۰۰۰۲۶۹۱۳۲۴



۰۲۱ ۴۴۱۳ ۶۹۷۵

برنامه کلاس های آکادمی تیزلاین: پایه هفتم



دکتر قربانی
ترم دو دوره سالانه
علوم تیز هوشان هفتم
از ۱ بهمن، چهارشنبه ها
۱۲ جلسه
۲۱:۱۵ - ۲۰:۰۰
۳۵۰.۰۰۰



استاد مسعود بیگدلی
ترم دو دوره سالانه
هوش و استعداد تحلیلی
از ۲ بهمن، پنج شنبه ها
۱۲ جلسه
۲۱:۱۵ - ۲۰:۰۰
۳۵۰.۰۰۰



استاد مسعود بیگدلی
ترم دو دوره سالانه
ریاضی تیز هوشان هفتم
از ۲۹ دی، دوشنبه ها
۱۲ جلسه
۱۹:۳۰ - ۱۸:۱۵
۳۵۰.۰۰۰



استاد مجید غلامی
دوره سالانه
از ۲۹ دی، دوشنبه ها
۱۰ جلسه
۲۱:۱۵ - ۲۰:۰۰
۳۰۰.۰۰۰



استاد پیمان لایق
از ۲۹ دی
ساینس (علوم به لاتین)
دوشنبه ها
۱۲ جلسه
۲۱:۱۵ - ۲۰:۰۰
۳۵۰.۰۰۰



دکتر کاظم غریبی
دوره سالانه
فارسی تیز هوشان هفتم
از ۱ آذر، شنبه ها
۱۵ جلسه
۲۱:۱۵ - ۲۰:۰۰
۴۵۰.۰۰۰



استاد سعید موسی وند
زبان انگلیسی
سه شنبه ها از ۳۰ دی
جمعه ها از ۳ بهمن
۱۷:۴۵ - ۱۶:۳۰
۲۱:۱۵ - ۲۰:۰۰
۱۰ جلسه
۴۰۰.۰۰۰



دکتر قربانی
المپیاد زیست شناسی
از ۴ آذر
سه شنبه ها
۱۵ جلسه
۱۹:۳۰ - ۱۸:۱۵
۴۵۰.۰۰۰



دکتر میثم کوهگرد
المپیاد فیزیک
از ۶ آذر
پنج شنبه ها
۱۵ جلسه
۲۱:۱۵ - ۲۰:۰۰
۴۵۰.۰۰۰



استاد بهزاد اسداله
استاد حسین حسین زاده
المپیاد ریاضی
از ۲ آذر، یکشنبه ها
۱۵ جلسه
۲۱:۱۵ - ۲۰:۰۰
۴۵۰.۰۰۰

تیزلاینی - شو

ثبت نام در سایت رسمی آکادمی تیزلاین

www.Tizline.ir

دوره سالانه شامل دو ترم ۱۲ جلسه ای با ویدیو قابل دانلود و جزوه قابل پرینت است.
دوره زبان فارسی تیز هوشان به صورت سالانه ۱۵ جلسه است.

آنلاین

☎ ۰۲۱ ۴۴۱۳ ۶۹۷۵

📍 ۰۹۳۳ ۳۸۴ ۰۲۰۲

✉ ۵۰۰۰۲۶۹۱۳۲۴

برنامه کلاس های آکادمی تیزلاین: پایه هشتم



دکتر قربانی
ترم دو دوره سالانه
علوم تیز هوشان هشتم
از ۲۸ دی، یکشنبه ها
۱۸:۱۵ - ۱۹:۳۰
۱۲ جلسه
۳۵۰.۰۰۰



استاد مسعود بیگدلی
ترم دو دوره سالانه
هوش و استعداد تحلیلی
از ۲ بهمن، پنجشنبه ها
۲۰:۰۰ - ۲۱:۱۵
۱۲ جلسه
۳۵۰.۰۰۰



استاد میثم بهرامی جویا
ترم دو دوره سالانه
ریاضی تیز هوشان هشتم
از ۱ بهمن، چهارشنبه ها
۲۰:۰۰ - ۲۱:۱۵
۱۲ جلسه
۳۵۰.۰۰۰



استاد مهدی مهدی زاده
دوره سالانه
فارسی تیز هوشان هشتم
از ۱ آذر، شنبه ها
۱۸:۱۵ - ۱۹:۳۰
۱۵ جلسه
۴۵۰.۰۰۰



استاد پیمان لایق
از ۲۹ دی
ساینس (علوم به لاتین)
دو شنبه ها
۲۰:۰۰ - ۲۱:۱۵
۱۲ جلسه
۳۵۰.۰۰۰



استاد سعید موساوند
زبان انگلیسی
سه شنبه ها از ۳۰ دی
جمعه ها از ۳ بهمن
۲۰:۰۰ - ۲۱:۱۵
۱۶:۳۰ - ۱۷:۴۵
۲۰:۰۰ - ۲۱:۱۵
۱۰ جلسه
۴۰۰.۰۰۰



استاد بهراد اسدالله
استاد حسین حسین زاده
المپیاد ریاضی
از ۲ آذر، یکشنبه ها
۲۰:۰۰ - ۲۱:۱۵
۱۵ جلسه
۴۵۰.۰۰۰



دکتر میثم کوهگرد
المپیاد فیزیک
از ۶ آذر
پنجشنبه ها
۲۰:۰۰ - ۲۱:۱۵
۱۵ جلسه
۴۵۰.۰۰۰



دکتر قربانی
المپیاد زیست شناسی
از ۴ آذر
سه شنبه ها
۱۸:۱۵ - ۱۹:۳۰
۱۵ جلسه
۴۵۰.۰۰۰

ثبت نام در سایت رسمی آکادمی تیزلاین
#تیزلاینی_شو www.Tizline.ir

دوره سالانه شامل دو ترم ۱۲ جلسه ای با ویدیو قابل دانلود و جزوه قابل پرینت است.
دوره زبان فارسی تیز هوشان به صورت سالانه ۱۵ جلسه است.

آنلاین

☎ ۰۲۱ ۴۴۱۳ ۶۹۷۵


📍 ۰۹۳۳ ۳۸۴ ۰۲۰۲

✉ ۵۰۰۰۲۶۹۱۳۲۴


📷 mathmovie6

📷 Tizline.ir


برنامه کلاس های آکادمی تیزلاین: پایه نهم



استاد فرزاد تندرو
ترم دو دوره سالانه
ریاضی تیزهوشان نهم
از ۱ بهمن، چهارشنبه ها
۲۱:۱۵ - ۲۰:۰۰
۱۲ جلسه
۳۵۰.۰۰۰




استاد مسعود بیگدلی
ترم دو دوره سالانه
هوش و استعداد تحلیلی
از ۲ بهمن، پنجشنبه ها
۲۱:۱۵ - ۲۰:۰۰
۱۲ جلسه
۳۵۰.۰۰۰



دکتر قربانی
ترم دو دوره سالانه
علوم تیزهوشان نهم
از ۲۸ دی، یکشنبه ها
۲۱:۱۵ - ۲۰:۰۰
۱۲ جلسه
۳۵۰.۰۰۰



استاد مجید غلامی
دوره سالانه
از ۲۹ دی، دوشنبه ها
۲۱:۱۵ - ۲۰:۰۰
۱۰ جلسه
۳۰۰.۰۰۰



استاد پیمان لایق
از ۲۹ دی
ساینس (علوم به لاتین)
دوشنبه ها
۲۱:۱۵ - ۲۰:۰۰
۱۲ جلسه
۳۵۰.۰۰۰



استاد سعید موساوند
زبان انگلیسی
جمعه ها از ۳ بهمن
۱۷:۴۵ - ۱۶:۳۰
۲۱:۱۵ - ۲۰:۰۰
۱۰ جلسه
۴۰۰.۰۰۰




استاد مهدی مهدی زاده
دوره سالانه
فارسی تیزهوشان نهم
از ۱ آذر، شنبه ها
۲۱:۱۵ - ۲۰:۰۰
۱۵ جلسه
۴۵۰.۰۰۰



استاد بهزاد اسداله
استاد حسین حسین زاده
المپیاد ریاضی
از ۲ آذر، یکشنبه ها
۲۱:۱۵ - ۲۰:۰۰
۱۵ جلسه
۴۵۰.۰۰۰



دکتر قربانی
المپیاد زیست شناسی
از ۴ آذر
سه شنبه ها
۱۹:۳۰ - ۱۸:۱۵
۱۵ جلسه
۴۵۰.۰۰۰



دکتر میثم کوهگرد
المپیاد فیزیک
از ۶ آذر
پنجشنبه ها
۲۱:۱۵ - ۲۰:۰۰
۱۵ جلسه
۴۵۰.۰۰۰

ثبت نام در سایت رسمی آکادمی تیزلاین

#تیزلاینی - شو www.Tizline.ir

دوره سالانه شامل دو ترم ۱۲ جلسه ای با ویدیو قابل دانلود و جزوه قابل پرینت است.
دوره زبان فارسی تیزهوشان به صورت سالانه ۱۵ جلسه است.

آنلاین

☎ ۰۲۱ ۴۴۱۳ ۶۹۷۵ 📍 ۰۹۳۳ ۳۸۴ ۰۲۰۲ ✉ ۵۰۰۰۲۶۹۱۳۲۴

برنامه کلاس های آکادمی تیزلاین:

پایه دهم



دکتر میثم کوهگرد
ترم دو دوره سالانه
فیزیک پیشرفته دهم
از ۲۹ دی، دوشنبه ها

۲۰:۰۰ - ۲۱:۱۵
۱۲ جلسه
۳۵۰.۰۰۰



دکتر قربانی
ترم دو دوره سالانه
شیمی پیشرفته دهم
از ۲۷ دی، شنبه ها

۲۰:۰۰ - ۲۱:۱۵
۱۲ جلسه
۳۵۰.۰۰۰

تیزلاینی - شو



استاد فرزاد تندرو
ترم دو دوره سالانه
ریاضی پیشرفته دهم
از ۱ بهمن، چهارشنبه ها

۱۸:۱۵ - ۱۹:۳۰
۱۲ جلسه
۳۵۰.۰۰۰



دکتر قربانی
ترم دو دوره سالانه
زیست شناسی پیشرفته دهم
از ۳۰ دی، سه شنبه ها

۲۰:۰۰ - ۲۱:۱۵
۱۲ جلسه
۳۵۰.۰۰۰

ثبت نام در سایت رسمی آکادمی تیزلاین



www.Tizline.ir

دوره سالانه شامل دو ترم ۱۲ جلسه ای با ویدیو قابل دانلود و جزوه قابل پرینت است.

☎ ۰۲۱ ۴۴۱۳ ۶۹۷۵

📍 ۰۹۳۳ ۳۸۴ ۰۲۰۲

✉ ۵۰۰۰۲۶۹۱۳۲۴

📷 @mathmovie6

📷 Tizline.ir