



# آکادمی آنلاین تیز لاین

## قوی ترین پلتفرم آموزشی تیز هوشان


برگزار کننده کلاس های آنلاین و حضوری تیز هوشان ✓

و المپیاد از پایه چهارم تا دوازدهم

آزمون های آنلاین و حضوری ✓

مشاوره تخصصی ✓

با اسکن QR کد روبرو  
وارد صفحه اینستاگرام  
آکادمی تیز لاین شو و از  
محتواهای آموزشی  
رایگان لذت ببر



برای ورود به صفحه اصلی سایت آکادمی تیز لاین کلیک کنید

برای دانلود دفترچه آزمون های مختلف برای هر پایه کلیک کنید

برای مطالعه مقالات بروز آکادمی تیز لاین کلیک کنید

«به نام خالق زیبایی ها»

نام: ..... مدیریت آموزش و پرورش منطقه ۴ تهران  
 نام خانوادگی: ..... امتحان هماهنگ درس علوم تجربی پایه ششم ابتدایی تاریخ: ۱۳۹۸ / ۳ /  
 کلاس: ..... خرداد ماه سال تحصیلی ۱۳۹۷-۱۳۹۸ نوبت: | صفحه: ۱

## الف) پاسخ صحیح را با علامت (x) مشخص کنید.

۱- به فرضه ای که از راه های گوناگون درست درآمده است ----- می گویند.

- الف) مشاهده  ب) نظریه  ج) پیش بینی کردن  د) آزمایش کردن

۲- کدام یک از مواد زیر طبیعی است؟

- الف) پنبه  ب) کاغذ  ج) پلاستیک  د) کف

۳- مخمر جزء کدام یک از گروه جانداران می باشد؟

- الف) جلبک ها  ب) گیاهان  ج) قارچ ها  د) باکتری ها

۴- رابطه غذایی کدام دوحیوان زیر با همدیگر براساس هم یاری است؟

- الف) کرکس و شیر  ب) شته و مورچه  ج) اسب و مگس  د) پشه و انسان

۵- در فتوسنتز علاوه بر غذا ، چه چیزی تولید می شود؟

- الف) آب  ب) گرین دی اکسید  ج) دود  د) اکسیژن

## ب) جاهای خالی را با کلمات مناسب کامل کنید.

۱- هر چه شهاب سنگ ها با سرعت بیشتری به زمین برخورد کند ، قطر دهانه ی گودال ایجاد شده ----- خواهد بود .

۲- اولین میکروسکوپ توسط ----- ساخته شد که با آن توانست قطعه ای از چوب پنبه را مشاهده کرد.

۳- واحد (یکای) اندازه گیری انرژی ----- نام دارد.

۴- در سوختن چوب انرژی ----- به انرژی گرمایی و نورانی تبدیل می شود .

نام و نام خانوادگی: ..... درس علوم تجربی خردادماه ۱۳۹۸ صفحه ۲

۵

۵- نیرویی که سبب کند شدن حرکت جسم می شود نیروی ----- نام دارد.

**دستور کار پ) جملات صحیح را با (ص) و جملات غلط را با (غ) مشخص کنید.**

ص	غ
<input type="radio"/>	<input type="radio"/>
<input type="radio"/>	<input type="radio"/>
<input type="radio"/>	<input type="radio"/>

۱- استحکام ساختمان ها در خرابی حاصل از زمین لرزه دخالت دارد .

۲- به آتش فشان هایی که فقط گاز از دهانه ی آن خارج می شود، آتش فشان فعال می گویند.

۳- در لامپ روشن انرژی الکتریکی به انرژی نورانی تبدیل می شود .

**دستور کار ت) باتوجه به جدول سمت راست پاسخ های صحیح را از قسمت ب انتخاب کرده وبه آنها وصل کنید.**

۱- وسیله ای است که انرژی الکتریکی را به انرژی حرکتی تبدیل می کند.	آتش فشان
۲- بخش عمده ی انرژی که مصرف می کنیم از این منبع فراهم می شود.	کاغذ پی اچ
۳- بارش باران های اسیدی یکی از ضررهای این پدیده طبیعی می باشد.	نور خورشید
۴- وسیله شناسایی اسید ها می باشد.	فتوسنتز
۵- به عمل غذاسازی گیاهان توسط نور خورشید می گویند .	موتور الکتریکی
	زلزله

**دستور کار ن) مفاهیم زیر را تعریف کنید .**

۱- زنجیره ی غذایی :

۲- نیروی مقاومت هوا:

۳- بیماری های واگیر :

## دستور کار (چ) به سوالات زیر پاسخ کامل دهید.

۱- دو ناز مراپای استفاده از وسایل ارتباط شخصی امروزی مانند موبایل را بیان کنید.

۲- چه جانورانی ناقل بیماری می گویند؟

۳- گنبول های سفید چگونه با میکروب ها مبارزه می کنند؟


۴- با یک آزمایش نشان دهید چگونه رنگ زرد چوب را از بین می برند؟

۵- اثرات نیرو را نام ببرید .

۶- برای کم کردن اصطکاک چه راههایی پیشنهاد می کنید؟

۷- محیط طبیعی چیست؟ مثال بزنید .

۸- اجزای مشخص شده میکروسکوپ را بنویسید .



## پاسخ نامه

«به نام خالق زبانی ها»

نام: ..... مدیریت آموزش و پرورش منطقه ۴ تهران  
 نام خانوادگی: ..... امتحان هماهنگ درس علوم تجربی پایه ششم ابتدایی تاریخ: ۱۳۹۸ / ۳ /  
 کلاس: ..... خرداد ماه سال تحصیلی ۱۳۹۸-۱۳۹۷ نوبت: | صفحه: ۱

### الف) پاسخ صحیح را با علامت (۰) مشخص کنید.

۱- به فرضه ای که از راه های گوناگون درست درآمده است ----- می گویند

- الف) مشاهده  ب) نظریه  ج) پیش بینی کردن  د) آزمایش کردن

۲- کدام یک از مواد زیر طبیعی است ؟

- الف) پنبه  ب) کاغذ  ج) پلاستیک  د) گف

۳- مخمر جزء کدام یک از گروه جانداران می باشد؟

- الف) جلبک ها  ب) گیاهان  ج) فارج ها  د) باکتری ها

۴- رابطه غذایی کدام دو حیوان زیر با همدیگر براساس هم یاری است ؟

- الف) کرگس و شتر  ب) شنه و مورچه  ج) اسب و مگس  د) شنه و انسان

۵- در فتوسنتز علاوه بر غذا، چه چیزی تولید می شود ؟

- الف) آب  ب) کربن دی اکسید  ج) دود  د) اکسیژن

### ب) جاهای خالی را با کلمات مناسب کامل کنید.

۱- هرچه شهاب سنگ ها با سرعت بیشتری به زمین برخورد کند، قطر دهانه ی حفره ای ایجاد شده ----- خواهد بود.

۲- اولین میکروسکوپ توسط ----- ساخته شد که با آن توانست قطعه ای از جوب پنبه را مشاهده کرد.

۳- واحد (یکای) اندازه گیری انرژی ----- نام دارد.

۴- در سوختن جوب انرژی ----- به گرمایی و نورانی تبدیل می شود.

# آکادمی آموزشی تیزلاین <

مجری همایش کلاس و آزمون در سراسر کشور

با حضور اساتید برگزیده ی کشوری تیزهوشان و کنکور

۲- نیرویی که سبب گند شدن توکته نسیم می شود نیروی اصطکاک نام دارد.

دستور نگار پ (جبرانات مستقیم) را با (ص) و جبرانات غلط را با (ع) مشخص کنید.

ص	<input checked="" type="checkbox"/>
ع	<input type="checkbox"/>
ص	<input type="checkbox"/>
ع	<input checked="" type="checkbox"/>
ص	<input checked="" type="checkbox"/>
ع	<input type="checkbox"/>

- ۱- استحکام ساختمان ها در خرابی حاصل از زمین لرزه دخالت دارد.
- ۲- به آتش فشان هایی که فقط گاز از دهانه ی آن خارج می شود، آتش فشان فعال می گویند.
- ۳- در لامپ روشن انرژی الکتریکی به انرژی نورانی تبدیل می شود.

دستور کار ت (با توجه به جدول سمت راست پاسخ های صحیح را از قسمت ب انتخاب کرده و به آنها وصل کنید.

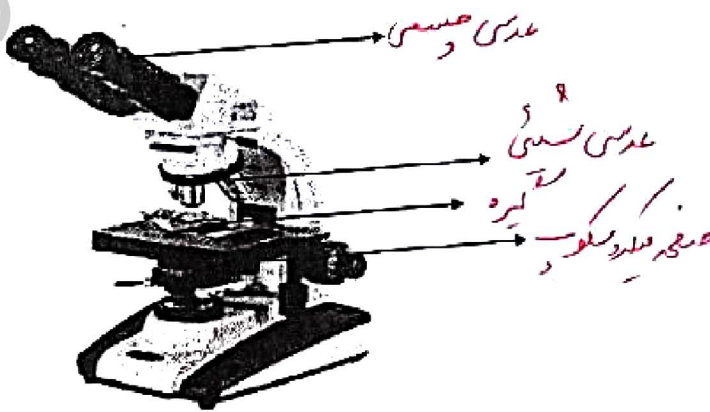
آتش فشان ۳	۱- وسیله ای است که انرژی الکتریکی را به انرژی حرکتی تبدیل می کند.
کاغذ پی اچ ۴	۲- بخش عمده ی انرژی که مصرف می کنیم از این منبع فراهم می شود.
نور خورشید ۲	۳- بارش باران های اسیدی یکی از ضررهای این پدیده طبیعی می باشد.
فتوستیز ۵	۴- وسیله تناسلی اسید ها می باشد. <u>قاعده پی اچ</u>
موتور الکتریکی ۱	۵- به عمل غذاسازی گیاهان توسط نور خورشید می گویند. <u>سنتز</u>
زلزله	

دستور کار ت) مفاهیم زیر را تعریف کنید.

- ۱- زنجیره ی غذایی: رابطه ی غذایی بین موجودات زنده ی یک سیستم
- ۲- نیروی مقاومت هوا: نیروی از طرف هوا که جسم در حال حرکت در خلاف جهت وارد می شود
- ۳- بیماری های واگیر: عامل این بیماری مضر است و از فردی به فرد دیگر منتقل می شود

## دستور کار (ج) به سوالات زیر پاسخ کامل دهید.

- ۱- دو تا از مزایای استفاده از وسایل ارتباط شخصی امروزی مانند موبایل را بیان کنید.  
**سرچ - امکان تماس صوتی و تصویری و تبادل - موارد وسیع دیگر نیز متداول است**
- ۲- چه جانورانی نامل بیماری می گویند؟  
**جانورانی که مملو است در بدن آنها زوئوس می باشد و می توان با ماسهکل کرد**
- ۳- گلبول های سفید چگونه با میکروب ها مبارزه می کنند؟  
**با ساختن خوراکی و تولید آنتی**
- ۴- آیا یک آزمایش نشان دهید چگونه رنگ زرد چوب را از بین می برند؟  
**با موار رنگ بری مثل آب سرد یا کار صابون**
- ۵- اثرات نیرو را نام ببرید. تغییر سرعت - تغییر جهت - تغییر شکل و جابجایی - هم حرکت در آمدن یا متوقف شدن
- ۶- برای کم کردن اصطکاک چه راههایی پیشنهاد می کنید؟  
**استفاده از چرخ و روغن کاری**
- ۷- محیط طبیعی چیست؟ مثال بزنید.  
**محیطی که بدون دخالت انسان وجود داشته باشد**
- ۸- اجزای مشخص شده میکروسکوپ را بنویسید.



# آکادمی آموزشی تیزلاین <

مجری همایش کلاس و آزمون در سراسر کشور

با حضور اساتید برگزیده ی کشوری تیزهوشان و کنکور



ششم

استاد مسعود بیگدلی  
ترم دو دوره سالانه  
ریاضی تیزهوشان  
از ۲۹ دی ، دوشنبه ها  
۱۶:۳۰ تا ۱۷:۴۵ ۱۲ جلسه  
۳۵۰.۰۰۰



استاد مسعود بیگدلی  
ترم دو دوره سالانه  
هوش و خلاقیت  
از ۲۹ دی ، دوشنبه ها  
۲۱:۱۵ - ۲۰:۰۰ ۱۲ جلسه  
۳۵۰.۰۰۰



ششم

دکتر قربانی  
ترم دو دوره سالانه  
علوم تیزهوشان  
از ۱ بهمن ، چهارشنبه ها  
۱۸:۱۵ - ۱۹:۳۰ ۱۲ جلسه  
۳۵۰.۰۰۰



ششم

استاد حسن ربانی  
دوره سالانه  
فارسی تیزهوشان  
از ۱ آذر ، شنبه ها  
۲۱:۱۵ - ۲۰:۰۰ ۱۵ جلسه  
۴۵۰.۰۰۰

## برنامه کلاس های دوره ابتدایی آکادمی تیزلاین



پنجم

استاد وحید گوران  
ترم دو دوره سالانه  
ریاضی پیشرفت  
از ۲۸ دی ، یکشنبه ها  
۱۸:۱۵ - ۱۹:۳۰ ۱۲ جلسه  
۳۵۰.۰۰۰



استاد پیمان لایق  
ترم دو دوره سالانه  
ساینس (علوم به لاتین)  
از ۲۹ دی ، دوشنبه ها  
۲۱:۱۵ - ۲۰:۰۰ ۱۲ جلسه  
۳۵۰.۰۰۰  
ظرفیت ۱۵ نفر



استاد سعید موساوند  
زبان انگلیسی، ترم زمستان  
سه شنبه ها از ۳۰ دی  
۲۱:۱۵ - ۲۰:۰۰  
جمعه ها از ۳ بهمن  
۱۷:۴۵ - ۱۶:۳۰  
۲۱:۱۵ - ۲۰:۰۰ ۱۰ جلسه  
۴۰۰.۰۰۰  
ظرفیت هر گروه: ۱۰ نفر



چهارم

استاد وحید گوران  
ترم دو دوره سالانه  
ریاضی پیشرفت  
از ۲۸ دی ، یکشنبه ها  
۱۶:۳۰ - ۱۷:۴۵ ۱۲ جلسه  
۳۵۰.۰۰۰

# تیزلاینی - شو

### آزمون های آکادمی تیزلاین

شبیه سازترین  
آزمون تیزهوشان

هشتم  
۶+۱  
مرحله

چهارم  
۱+۵  
مرحله

هفتم  
۶+۱  
مرحله

ششم  
۱۰+۱  
مرحله

پنجم  
۸+۱  
مرحله

### چهارم تا دهم

با طراحی اساتید برجسته تیزهوشان کشور  
استاد مسعود بیگدلی، استاد فرزاد تندرو، استاد میثم بهرامی  
دکتر میثم کوهگرد، استاد مهدی مهدی زاده، دکتر قربانی و...

دهم  
۷+۱  
مرحله

نهم  
۱۰+۱  
مرحله



آنلاین و حضوری  
در نمایندگی ها

ثبت نام در سایت رسمی آکادمی تیزلاین

www.Tizline.ir ۰۲۱ ۴۴۱۳ ۶۹۷۵ ۰۹۳۳ ۳۸۴ ۰۲۰۲



www.Tizline.ir



@Bigbest23



۰۹۳۳ ۳۸۴ ۰۲۰۲



۵۰۰۰۲۶۹۱۳۲۴



۰۲۱ ۴۴۱۳ ۶۹۷۵



## برنامه کلاس های آکادمی تیزلاین: پایه هفتم



دکتر قربانی  
ترم دو دوره سالانه  
علوم تیز هوشان هفتم  
از ۱ بهمن، چهارشنبه ها  
۱۲ جلسه  
۲۱:۱۵ - ۲۰:۰۰  
۳۵۰.۰۰۰



استاد مسعود بیگدلی  
ترم دو دوره سالانه  
هوش و استعداد تحلیلی  
از ۲ بهمن، پنج شنبه ها  
۱۲ جلسه  
۲۱:۱۵ - ۲۰:۰۰  
۳۵۰.۰۰۰



استاد مسعود بیگدلی  
ترم دو دوره سالانه  
ریاضی تیز هوشان هفتم  
از ۲۹ دی، دوشنبه ها  
۱۲ جلسه  
۱۹:۳۰ - ۱۸:۱۵  
۳۵۰.۰۰۰



استاد مجید غلامی  
دوره سالانه  
از ۲۹ دی، دوشنبه ها  
۱۰ جلسه  
۲۱:۱۵ - ۲۰:۰۰  
۳۰۰.۰۰۰



استاد پیمان لایق  
از ۲۹ دی  
ساینس (علوم به لاتین)  
دوشنبه ها  
۱۲ جلسه  
۲۱:۱۵ - ۲۰:۰۰  
۳۵۰.۰۰۰



دکتر کاظم غریبی  
دوره سالانه  
فارسی تیز هوشان هفتم  
از ۱ آذر، شنبه ها  
۱۵ جلسه  
۲۱:۱۵ - ۲۰:۰۰  
۴۵۰.۰۰۰



استاد سعید موسی وند  
زبان انگلیسی  
سه شنبه ها از ۳۰ دی  
جمعه ها از ۳ بهمن  
۱۷:۴۵ - ۱۶:۳۰  
۲۱:۱۵ - ۲۰:۰۰  
۱۰ جلسه  
۴۰۰.۰۰۰



دکتر قربانی  
المپیاد زیست شناسی  
از ۴ آذر  
سه شنبه ها  
۱۵ جلسه  
۱۹:۳۰ - ۱۸:۱۵  
۴۵۰.۰۰۰



دکتر میثم کوهگرد  
المپیاد فیزیک  
از ۶ آذر  
پنج شنبه ها  
۱۵ جلسه  
۲۱:۱۵ - ۲۰:۰۰  
۴۵۰.۰۰۰



استاد بهزاد اسداله  
استاد حسین حسین زاده  
المپیاد ریاضی  
از ۲ آذر، یکشنبه ها  
۱۵ جلسه  
۲۱:۱۵ - ۲۰:۰۰  
۴۵۰.۰۰۰

# تیزلاینی - شو

ثبت نام در سایت رسمی آکادمی تیزلاین

[www.Tizline.ir](http://www.Tizline.ir)

دوره سالانه شامل دو ترم ۱۲ جلسه ای با ویدیو قابل دانلود و جزوه قابل پرینت است.  
دوره زبان فارسی تیز هوشان به صورت سالانه ۱۵ جلسه است.

آنلاین

☎ ۰۲۱ ۴۴۱۳ ۶۹۷۵

📍 ۰۹۳۳ ۳۸۴ ۰۲۰۲

✉ ۵۰۰۰۲۶۹۱۳۲۴

## برنامه کلاس های آکادمی تیزلاین: پایه هشتم



دکتر قربانی  
ترم دو دوره سالانه  
علوم تیز هوشان هشتم  
از ۲۸ دی، یکشنبه ها  
۱۸:۱۵ - ۱۹:۳۰  
۱۲ جلسه  
۳۵۰.۰۰۰



استاد مسعود بیگدلی  
ترم دو دوره سالانه  
هوش و استعداد تحلیلی  
از ۲ بهمن، پنجشنبه ها  
۲۰:۰۰ - ۲۱:۱۵  
۱۲ جلسه  
۳۵۰.۰۰۰



استاد میثم بهرامی جویا  
ترم دو دوره سالانه  
ریاضی تیز هوشان هشتم  
از ۱ بهمن، چهارشنبه ها  
۲۰:۰۰ - ۲۱:۱۵  
۱۲ جلسه  
۳۵۰.۰۰۰



استاد مهدی مهدی زاده  
دوره سالانه  
فارسی تیز هوشان هشتم  
از ۱ آذر، شنبه ها  
۱۸:۱۵ - ۱۹:۳۰  
۱۵ جلسه  
۴۵۰.۰۰۰



استاد پیمان لایق  
از ۲۹ دی  
ساینس (علوم به لاتین)  
دو شنبه ها  
۲۰:۰۰ - ۲۱:۱۵  
۱۲ جلسه  
۳۵۰.۰۰۰



استاد سعید موساوند  
زبان انگلیسی  
سه شنبه ها از ۳۰ دی  
جمعه ها از ۳ بهمن  
۲۰:۰۰ - ۲۱:۱۵  
۱۶:۳۰ - ۱۷:۴۵  
۲۰:۰۰ - ۲۱:۱۵  
۱۰ جلسه  
۴۰۰.۰۰۰



استاد بهزاد اسدالله  
استاد حسین حسین زاده  
المپیاد ریاضی  
از ۲ آذر، یکشنبه ها  
۲۰:۰۰ - ۲۱:۱۵  
۱۵ جلسه  
۴۵۰.۰۰۰



دکتر میثم کوهگرد  
المپیاد فیزیک  
از ۶ آذر  
پنجشنبه ها  
۲۰:۰۰ - ۲۱:۱۵  
۱۵ جلسه  
۴۵۰.۰۰۰



دکتر قربانی  
المپیاد زیست شناسی  
از ۴ آذر  
سه شنبه ها  
۱۸:۱۵ - ۱۹:۳۰  
۱۵ جلسه  
۴۵۰.۰۰۰

ثبت نام در سایت رسمی آکادمی تیزلاین  
#تیزلاینی شو [www.Tizline.ir](http://www.Tizline.ir)

دوره سالانه شامل دو ترم ۱۲ جلسه ای با ویدیو قابل دانلود و جزوه قابل پرینت است.  
دوره زبان فارسی تیز هوشان به صورت سالانه ۱۵ جلسه است.

آنلاین

☎ ۰۲۱ ۴۴۱۳ ۶۹۷۵

📍 ۰۹۳۳ ۳۸۴ ۰۲۰۲

✉ ۵۰۰۰۲۶۹۱۳۲۴

📷 mathmovie6

📷 Tizline.ir

## برنامه کلاس های آکادمی تیزلاین: پایه نهم



استاد فرزاد تندرو  
ترم دو دوره سالانه  
ریاضی تیزهوشان نهم  
از ۱ بهمن، چهارشنبه ها

۲۰:۱۵ - ۲۱:۱۵  
۱۲ جلسه  
۳۵۰.۰۰۰



استاد مسعود بیگدلی  
ترم دو دوره سالانه  
هوش و استعداد تحلیلی  
از ۲ بهمن، پنجشنبه ها

۲۰:۱۵ - ۲۱:۱۵  
۱۲ جلسه  
۳۵۰.۰۰۰



دکتر قربانی  
ترم دو دوره سالانه  
علوم تیزهوشان نهم  
از ۲۸ دی، یکشنبه ها

۲۰:۱۵ - ۲۱:۱۵  
۱۲ جلسه  
۳۵۰.۰۰۰



استاد مجید غلامی  
دوره سالانه  
از ۲۹ دی، دوشنبه ها

۲۰:۱۵ - ۲۱:۱۵  
۱۰ جلسه  
۳۰۰.۰۰۰



استاد پیمان لایق  
از ۲۹ دی  
ساینس (علوم به لاتین)  
دوشنبه ها

۲۰:۱۵ - ۲۱:۱۵  
۱۲ جلسه  
۳۵۰.۰۰۰



استاد مهدی مهدی زاده  
دوره سالانه  
فارسی تیزهوشان نهم  
از ۱ آذر، شنبه ها

۲۰:۱۵ - ۲۱:۱۵  
۱۵ جلسه  
۴۵۰.۰۰۰



استاد سعید موساوند  
زبان انگلیسی  
جمعه ها از ۳ بهمن  
سه شنبه ها از ۳۰ دی

۱۶:۳۰ - ۱۷:۴۵  
۲۰:۱۵ - ۲۱:۱۵  
۱۰ جلسه  
۴۰۰.۰۰۰



استاد بهزاد اسداله  
استاد حسین حسین زاده  
المپیاد ریاضی

از ۲ آذر، یکشنبه ها

۲۰:۱۵ - ۲۱:۱۵  
۱۵ جلسه  
۴۵۰.۰۰۰



دکتر میثم کوهگرد  
المپیاد فیزیک  
از ۶ آذر

پنجشنبه ها

۲۰:۱۵ - ۲۱:۱۵  
۱۵ جلسه  
۴۵۰.۰۰۰



دکتر قربانی  
المپیاد زیست شناسی  
از ۴ آذر

سه شنبه ها  
۱۸:۱۵ - ۱۹:۳۰  
۱۵ جلسه  
۴۵۰.۰۰۰

ثبت نام در سایت رسمی آکادمی تیزلاین

#تیزلاینی - شو [www.Tizline.ir](http://www.Tizline.ir)

دوره سالانه شامل دو ترم ۱۲ جلسه ای با ویدیو قابل دانلود و جزوه قابل پرینت است.

دوره زبان فارسی تیزهوشان به صورت سالانه ۱۵ جلسه است.

آنلاین

☎ ۰۲۱ ۴۴۱۳ ۶۹۷۵

📍 ۰۹۳۳ ۳۸۴ ۰۲۰۲

✉ ۵۰۰۰۲۶۹۱۳۲۴

## برنامه کلاس های آکادمی تیزلاین:

### پایه دهم



دکتر میثم کوهگرد  
ترم دو دوره سالانه  
فیزیک پیشرفته دهم  
از ۲۹ دی ، دوشنبه ها

۱۲ جلسه ۲۱:۱۵ - ۲۰:۰۰  
۳۵۰.۰۰۰



دکتر قربانی  
ترم دو دوره سالانه  
شیمی پیشرفته دهم  
از ۲۷ دی، شنبه ها

۱۲ جلسه ۲۱:۱۵ - ۲۰:۰۰  
۳۵۰.۰۰۰

### # تیزلاینی - شو



استاد فرزاد تندرو  
ترم دو دوره سالانه  
ریاضی پیشرفته دهم  
از ۱ بهمن، چهار شنبه ها

۱۲ جلسه ۱۹:۳۰ - ۱۸:۱۵  
۳۵۰.۰۰۰



دکتر قربانی  
ترم دو دوره سالانه  
زیست شناسی پیشرفته دهم  
از ۳۰ دی، سه شنبه ها

۱۲ جلسه ۲۱:۱۵ - ۲۰:۰۰  
۳۵۰.۰۰۰

ثبت نام در سایت رسمی آکادمی تیزلاین



[www.Tizline.ir](http://www.Tizline.ir)

دوره سالانه شامل دو ترم ۱۲ جلسه ای با ویدیو قابل دانلود و جزوه قابل پرینت است .

☎ ۰۲۱ ۴۴۱۳ ۶۹۷۵

📍 ۰۹۳۳ ۳۸۴ ۰۲۰۲

✉ ۵۰۰۰۲۶۹۱۳۲۴

📷 @mathmovie6

📷 Tizline.ir