



# آکادمی آنلاین تیز لاین قوی ترین پلتفرم آموزشی تیز هوشان


برگزار کننده کلاس های آنلاین و حضوری تیز هوشان ✓

و المپیاد از پایه چهارم تا دوازدهم

آزمون های آنلاین و حضوری ✓

مشاوره تخصصی ✓

با اسکن QR کد روبرو  
وارد صفحه اینستاگرام  
آکادمی تیز لاین شو و از  
محتواهای آموزشی  
رایگان لذت ببر



برای ورود به صفحه اصلی سایت آکادمی تیز لاین کلیک کنید


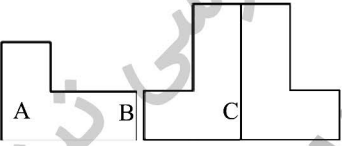
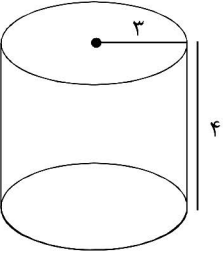
برای دانلود دفترچه آزمون های مختلف برای هر پایه کلیک کنید

برای مطالعه مقالات بروز آکادمی تیز لاین کلیک کنید

# آکادمی آموزشی تیزلاین <

نام و نام خانوادگی: نام پدر: پایه: هفتم نام درس: ریاضی	به نام خدا آموزش و پرورش شهرستان مهریز دبیرستان ..... (دوره اول) امتحان هماهنگ خرداد ماه ۹۸-۹۷	تاریخ امتحان: ۹۸/۰۳/۰۲ زمان: ۹۰ دقیقه نمره با عدد: نمره با حروف: امضاء	مهر مدرسه
---	---	--	-----------

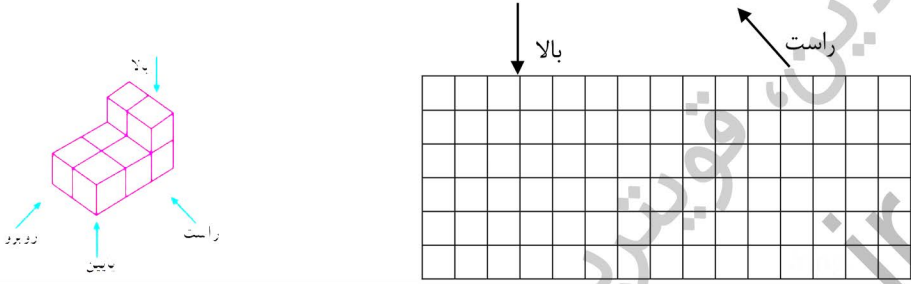
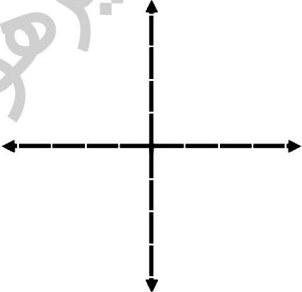
سؤال	بارم
۱ درستی یا نادرستی هر عبارت را مشخص کنید. الف) در دوران ۱۸۰ درجه لازم نیست جهت دوران را مشخص کنیم. ب) هر عدد حداقل دو شمارنده دارد. ج) از نمودار خط شکسته برای نشان دادن تغییرات استفاده می‌شود. د) یک منشور ۵ پهلو ۱۰ یال دارد.	۱ <input type="radio"/> صحیح <input type="radio"/> غلط <input type="radio"/> صحیح <input type="radio"/> غلط <input type="radio"/> صحیح <input type="radio"/> غلط <input type="radio"/> صحیح <input type="radio"/> غلط
۲ جمله‌های زیر را با عدد یا کلمه مناسب کامل کنید. الف) ک.م.م دو عدد ۳۶، ب.م.م آنها ۶ می‌باشد. اگر یکی از اعداد ۱۲ باشد؛ عدد دیگر ..... می‌باشد. ب) تنها چهارضلعی منتظم ..... است. ج) دو بردار در صورتی مساویند که هم اندازه و ..... باشند.	۱
۳ گزینه صحیح را انتخاب کنید. الف) جمله‌ی nام الگوی عددی ..... و ۱۷ و ۱۵ و ۱۳ برابر است با؟ ب) نقطه‌ای به مختصات $\begin{bmatrix} ۲۰ \\ -۵۰ \end{bmatrix}$ در کدام ناحیه است؟ د) $\sqrt{۳۶}$ برابر است با؟ د) مختصات قرینه $\begin{bmatrix} -۳ \\ ۵ \end{bmatrix}$ نسبت به محور طول‌ها؟	۱ الف) $۲n+۱۰$ <input type="radio"/> ب) $۴n+۱۰$ <input type="radio"/> ج) $۲n+۱۱$ <input type="radio"/> د) $۴n+۱۱$ <input type="radio"/> الف) اول <input type="radio"/> ب) دوم <input type="radio"/> ج) سوم <input type="radio"/> د) چهارم <input type="radio"/> الف) ۶ <input type="radio"/> ب) -۶ <input type="radio"/> ج) $\sqrt{۶}$ <input type="radio"/> د) هیچ کدام <input type="radio"/> الف) $\begin{bmatrix} -۳ \\ -۵ \end{bmatrix}$ <input type="radio"/> ب) $\begin{bmatrix} +۳ \\ -۵ \end{bmatrix}$ <input type="radio"/> ج) $\begin{bmatrix} +۳ \\ +۵ \end{bmatrix}$ <input type="radio"/> د) $\begin{bmatrix} -۳ \\ +۵ \end{bmatrix}$ <input type="radio"/>
۴ مجموع سن سه نفر ۱۸ و حاصل ضرب سن آن‌ها ۱۱۰ می‌باشد. سن بزرگترین نفر چند است؟	۱
۵ الف) حاصل عبارت زیر را به دست آورید.	۰/۷۵ $(-۷) + (-۴ - ۳) \times (-۲۷ \div ۳) =$

مهر مدرسه	تاریخ امتحان: ۹۸/۰۳/۰۲ زمان: ۹۰ دقیقه نمره با عدد: نمره با حروف: امضاء	به نام خدا آموزش و پرورش شهرستان مهریز دبیرستان ..... (دوره اول) امتحان هماهنگ خرداد ماه ۹۸-۹۷	نام و نام خانوادگی: نام پدر: پایه: هفتم نام درس: ریاضی						
۰/۵	(ب) دمای هوای شهر یزد ۱۲ درجه بالای صفر، دمای هوای اصفهان ۶ درجه سردتر از شهر یزد است. (۱) دمای هوای اصفهان چند درجه است؟ (۲) میانگین دمای این دو شهر را به دست آورید.								
۱/۵	(الف) جدول زیر را کامل کنید. (ب) معادله زیر را حل کنید. $10x + 2 = +22$ <table style="margin-left: auto; margin-right: auto; border-collapse: collapse;"> <tr> <td style="border-right: 1px solid black; padding: 5px;">x</td> <td style="padding: 5px;">-1</td> <td style="padding: 5px;">.</td> </tr> <tr> <td style="border-right: 1px solid black; padding: 5px;">3x-2</td> <td style="padding: 5px;"></td> <td style="padding: 5px;"></td> </tr> </table>			x	-1	.	3x-2		
x	-1	.							
3x-2									
۰/۵	(الف) پاره خط $\overline{AB}$ به ۴ قسمت مساوی تقسیم شد؛ تساوی‌های زیر را کامل کنید.  $\overline{AB} - \overline{DB} =$ $\overline{AC} = \dots \overline{AB}$ (عدد مناسب قرار دهید) (ب) نوع تبدیل‌های زیر را مشخص کنید.								
۰/۷۵	 $A \rightarrow B \rightarrow C$								
۰/۷۵	(۲۲ و ۴۲)								
۰/۲۵	[۲۰ و ۴۰]								
۲	(الف) حجم و مساحت جانبی شکل زیر را به دست آورید. (نوشتن فرمول الزامی است) 								

# آکادمی آموزشی تیزلاین <

با حضور اساتید برگزیده ی کشوری تیزهوشان و کنکور

مجری همایش کلاس و آزمون در سراسر کشور

مهر مدرسه	تاریخ امتحان: ۹۸/۰۳/۰۲ زمان: ۹۰ دقیقه نمره با عدد: نمره با حروف: امضاء	به نام خدا آموزش و پرورش شهرستان مهریز دبیرستان ..... (دوره اول) امتحان هماهنگ خرداد ماه ۹۸-۹۷	نام و نام خانوادگی: نام پدر: پایه: هفتم نام درس: ریاضی														
۰/۵	<p>(ب) حجم مقابل از جهت‌های مشخص شده به چه شکل دیده می‌شود؟</p> 																
۰/۵	<p>۱۰ (الف) یک کاغذ را ۵ بار تا زده‌ایم وقتی آن را باز می‌کنیم، به چند قسمت تقسیم می‌شود؟</p>																
۰/۵	<p>(ب) حاصل عبارت زیر را به دست آورید.</p> $2^3 - 5 \times 7^0 =$																
۰/۷۵	<p>(ج) عبارات زیر را به صورت یک عدد تواندار بنویسید.</p> $(1/2)^7 \times \left(\frac{6}{5}\right)^3 =$																
۱/۲۵	<p>(د) جذر تقریبی عدد ۲۷ را به دست آورید؛</p>																
۱/۵	<p>۱۱ (الف) نقاط <math>A = \begin{bmatrix} 4 \\ -3 \end{bmatrix}</math> و <math>B = \begin{bmatrix} -3 \\ 2 \end{bmatrix}</math> را در دستگاه زیر رسم کنید</p>  <p>(ب) بردار AB را رسم کنید و مختصات آن را بنویسید</p> <p>(ج) جمع متناظر با AB را بنویسید.</p>																
۰/۵	<p>۱۲ در تساوی زیر X و Y را به دست آورید؛</p> $\begin{bmatrix} -7 \\ 2 \end{bmatrix} + \begin{bmatrix} x \\ 3 \end{bmatrix} = \begin{bmatrix} -4 \\ y \end{bmatrix}$																
۱/۵	<p>۱۳ میانگین دمای یزد در شش ماه اول سال گذشته به صورت زیر است.</p> <table border="1" data-bbox="459 1966 1129 2065"> <tr> <td>شهریور</td> <td>مرداد</td> <td>تیر</td> <td>خرداد</td> <td>اردیبهشت</td> <td>فروردین</td> <td>ماه</td> </tr> <tr> <td>۲۴</td> <td>۳۵</td> <td>۲۸</td> <td>۲۶</td> <td>۱۸</td> <td>۱۴</td> <td>دما</td> </tr> </table>			شهریور	مرداد	تیر	خرداد	اردیبهشت	فروردین	ماه	۲۴	۳۵	۲۸	۲۶	۱۸	۱۴	دما
شهریور	مرداد	تیر	خرداد	اردیبهشت	فروردین	ماه											
۲۴	۳۵	۲۸	۲۶	۱۸	۱۴	دما											

# آکادمی آموزشی تیزلاین <

<p>مهر مدرسه</p>	<p>تاریخ امتحان: ۹۸/۰۳/۰۲                  زمان: ۹۰ دقیقه                  نمره با عدد:                  نمره با حروف:                  امضاء</p>	<p>به نام خدا                  آموزش و پرورش شهرستان مهریز                  دبیرستان ..... (دوره اول)                  امتحان هماهنگ خرداد ماه ۹۸-۹۷</p>	<p>نام و نام خانوادگی:                  نام پدر:                  پایه: هفتم                  نام درس: ریاضی</p>
	<p>الف) نمودار خط شکسته آن را رسم کنید.                  ب) بیشترین تغییر در میانگین دمای هوا مربوط به کدام دو ماه متوالی می باشد؟</p>		
<p>۱</p>	<p>۱۴ یک تاس را پرتاب می کنیم؛ چقدر احتمال دارد؛                  الف) عدد زوج بیاید.                  ب) عدد کوچکتر از ۷ بیاید.</p>		
<p>۱</p>	<p>۱۵ برای هر مورد یک مثال بنویس؛                  الف) اتفاقی که رخ دادن آن صفر باشد.                  ب) اتفاقی که احتمال رخ دادن آن <math>\frac{1}{4}</math> باشد.</p>		
<p>موفق باشید</p>			

# آکادمی آموزشی تیزلاین <

مجری همایش کلاس و آزمون در سراسر کشور

با حضور اساتید برگزیده ی کشوری تیزهوشان و کنکور



ششم

استاد مسعود بیگدلی  
ترم دو دوره سالانه  
ریاضی تیزهوشان  
از ۲۹ دی، دوشنبه ها  
۱۶:۳۰ تا ۱۷:۴۵ | ۱۲ جلسه  
۳۵۰.۰۰۰



استاد مسعود بیگدلی  
ترم دو دوره سالانه  
هوش و خلاقیت  
از ۲۹ دی، دوشنبه ها  
۲۱:۱۵ - ۲۰:۰۰ | ۱۲ جلسه  
۳۵۰.۰۰۰



ششم

دکتر قربانی  
ترم دو دوره سالانه  
علوم تیزهوشان  
از ۱ بهمن، چهارشنبه ها  
۱۸:۱۵ - ۱۹:۳۰ | ۱۲ جلسه  
۳۵۰.۰۰۰



ششم

استاد حسن ربانی  
دوره سالانه  
فارسی تیزهوشان  
از ۱ آذر، شنبه ها  
۲۱:۱۵ - ۲۰:۰۰ | ۱۵ جلسه  
۴۵۰.۰۰۰

## برنامه کلاس های دوره ابتدایی آکادمی تیزلاین



پنجم

استاد وحید گوران  
ترم دو دوره سالانه  
ریاضی پیشرفت  
از ۲۸ دی، یکشنبه ها  
۱۸:۱۵ - ۱۹:۳۰ | ۱۲ جلسه  
۳۵۰.۰۰۰



استاد پیمان لایق  
ترم دو دوره سالانه  
ساینس (علوم به لاتین)  
از ۲۹ دی، دوشنبه ها  
۲۱:۱۵ - ۲۰:۰۰ | ۱۲ جلسه  
۳۵۰.۰۰۰ نفر



استاد سعید موساوند  
زبان انگلیسی، ترم زمستان  
سه شنبه ها از ۳۰ دی  
۲۱:۱۵ - ۲۰:۰۰  
جمعه ها از ۳ بهمن  
۱۷:۴۵ - ۱۶:۳۰  
۲۱:۱۵ - ۲۰:۰۰ | ۱۰ جلسه  
۴۰۰.۰۰۰ نفر  
طرفیت هر گروه: ۱۰ نفر



چهارم

استاد وحید گوران  
ترم دو دوره سالانه  
ریاضی پیشرفت  
از ۲۸ دی، یکشنبه ها  
۱۶:۳۰ - ۱۷:۴۵ | ۱۲ جلسه  
۳۵۰.۰۰۰

# تیزلاینی - شو

### آزمون های آکادمی تیزلاین

شبیه سازترین  
آزمون تیزهوشان

هشتم  
۶+۱  
مرحله

چهارم  
۱+۵  
مرحله

هفتم  
۶+۱  
مرحله

ششم  
۱۰+۱  
مرحله

پنجم  
۸+۱  
مرحله

### چهارم تا دهم

با طراحی اساتید برجسته تیزهوشان کشور  
استاد مسعود بیگدلی، استاد فرزاد تندرو، استاد میثم بهرامی  
دکتر میثم کوهگرد، استاد مهدی مهدی زاده، دکتر قربانی و ...

# تیزلاینی - شو

آنلاین و حضوری  
در نمایندگی ها

ثبت نام در سایت رسمی آکادمی تیزلاین

www.Tizline.ir | ۰۲۱ ۴۴۱۳ ۶۹۷۵ | ۰۹۳۳۳ ۳۸۴ ۰۲۰۲



www.Tizline.ir



@Bigbest23



۰۹۳۳۳ ۳۸۴ ۰۲۰۲



۵۰۰۰۲۶۹۱۳۲۴



۰۲۱ ۴۴۱۳ ۶۹۷۵

## برنامه کلاس های آکادمی تیزلاین: پایه هفتم



دکتر قربانی  
ترم دو دوره سالانه  
علوم تیز هوشان هفتم  
از ۱ بهمن، چهارشنبه ها  
۱۲ جلسه ۲۱:۱۵ - ۲۰:۰۰  
۳۵۰.۰۰۰



استاد مسعود بیگدلی  
ترم دو دوره سالانه  
هوش و استعداد تحلیلی  
از ۲ بهمن، پنج شنبه ها  
۱۲ جلسه ۲۱:۱۵ - ۲۰:۰۰  
۳۵۰.۰۰۰



استاد مسعود بیگدلی  
ترم دو دوره سالانه  
ریاضی تیز هوشان هفتم  
از ۲۹ دی، دوشنبه ها  
۱۲ جلسه ۱۹:۳۰ - ۱۸:۱۵  
۳۵۰.۰۰۰



استاد مجید غلامی  
دوره سالانه  
از ۲۹ دی، دوشنبه ها  
۱۰ جلسه ۲۱:۱۵ - ۲۰:۰۰  
۳۰۰.۰۰۰



استاد پیمان لایق  
از ۲۹ دی  
ساینس (علوم به لاتین)  
دوشنبه ها  
۱۲ جلسه ۲۱:۱۵ - ۲۰:۰۰  
۳۵۰.۰۰۰



استاد سعید موسی وند  
زبان انگلیسی  
سه شنبه ها از ۳۰ دی  
جمعه ها از ۳ بهمن  
۱۷:۴۵ - ۱۶:۳۰  
۲۱:۱۵ - ۲۰:۰۰  
۱۰ جلسه ۴۰۰.۰۰۰



دکتر کاظم غریبی  
دوره سالانه  
فارسی تیز هوشان هفتم  
از ۱ آذر، شنبه ها  
۱۵ جلسه ۲۱:۱۵ - ۲۰:۰۰  
۴۵۰.۰۰۰



دکتر میثم کوهگرد  
المپیاد فیزیک  
از ۶ آذر  
پنج شنبه ها  
۱۵ جلسه ۲۱:۱۵ - ۲۰:۰۰  
۴۵۰.۰۰۰



استاد بهزاد اسداله  
استاد حسین حسین زاده  
المپیاد ریاضی  
از ۲ آذر، یکشنبه ها  
۱۵ جلسه ۲۱:۱۵ - ۲۰:۰۰  
۴۵۰.۰۰۰



دکتر قربانی  
المپیاد زیست شناسی  
از ۴ آذر  
سه شنبه ها  
۱۵ جلسه ۱۹:۳۰ - ۱۸:۱۵  
۴۵۰.۰۰۰

# تیزلاینی - شو

ثبت نام در سایت رسمی آکادمی تیزلاین

[www.Tizline.ir](http://www.Tizline.ir)

دوره سالانه شامل دو ترم ۱۲ جلسه ای با ویدیو قابل دانلود و جزوه قابل پرینت است.  
دوره زبان فارسی تیز هوشان به صورت سالانه ۱۵ جلسه است.

آنلاین

☎ ۰۲۱ ۴۴۱۳ ۶۹۷۵

📍 ۰۹۳۳ ۳۸۴ ۰۲۰۲

✉ ۵۰۰۰۲۶۹۱۳۲۴

## برنامه کلاس های آکادمی تیزلاین: پایه هشتم



دکتر قربانی  
ترم دو دوره سالانه  
علوم تیز هوشان هشتم  
از ۲۸ دی، یکشنبه ها  
۱۸:۱۵ - ۱۹:۳۰  
۱۲ جلسه  
۳۵۰.۰۰۰



استاد مسعود بیگدلی  
ترم دو دوره سالانه  
هوش و استعداد تحلیلی  
از ۲ بهمن، پنجشنبه ها  
۲۰:۰۰ - ۲۱:۱۵  
۱۲ جلسه  
۳۵۰.۰۰۰



استاد میثم بهرامی جویا  
ترم دو دوره سالانه  
ریاضی تیز هوشان هشتم  
از ۱ بهمن، چهارشنبه ها  
۲۰:۰۰ - ۲۱:۱۵  
۱۲ جلسه  
۳۵۰.۰۰۰



استاد مهدی مهدی زاده  
دوره سالانه  
فارسی تیز هوشان هشتم  
از ۱ آذر، شنبه ها  
۱۸:۱۵ - ۱۹:۳۰  
۱۵ جلسه  
۴۵۰.۰۰۰



استاد پیمان لایق  
از ۲۹ دی  
ساینس (علوم به لاتین)  
دو شنبه ها  
۲۰:۰۰ - ۲۱:۱۵  
۱۲ جلسه  
۳۵۰.۰۰۰



استاد سعید موساوند  
زبان انگلیسی  
سه شنبه ها از ۳۰ دی  
جمعه ها از ۳ بهمن  
۲۰:۰۰ - ۲۱:۱۵  
۱۶:۳۰ - ۱۷:۴۵  
۲۰:۰۰ - ۲۱:۱۵  
۱۰ جلسه  
۴۰۰.۰۰۰



استاد بهزاد اسداله  
استاد حسین حسین زاده  
المپیاد ریاضی  
از ۲ آذر، یکشنبه ها  
۲۰:۰۰ - ۲۱:۱۵  
۱۵ جلسه  
۴۵۰.۰۰۰



دکتر میثم کوهگرد  
المپیاد فیزیک  
از ۶ آذر  
پنجشنبه ها  
۲۰:۰۰ - ۲۱:۱۵  
۱۵ جلسه  
۴۵۰.۰۰۰



دکتر قربانی  
المپیاد زیست شناسی  
از ۴ آذر  
سه شنبه ها  
۱۸:۱۵ - ۱۹:۳۰  
۱۵ جلسه  
۴۵۰.۰۰۰

ثبت نام در سایت رسمی آکادمی تیزلاین  
#تیزلاینی\_شو [www.Tizline.ir](http://www.Tizline.ir)

دوره سالانه شامل دو ترم ۱۲ جلسه ای با ویدیو قابل دانلود و جزوه قابل پرینت است.  
دوره زبان فارسی تیز هوشان به صورت سالانه ۱۵ جلسه است.

آنلاین

☎ ۰۲۱ ۴۴۱۳ ۶۹۷۵

📍 ۰۹۳۳ ۳۸۴ ۰۲۰۲

✉ ۵۰۰۰۲۶۹۱۳۲۲۴

📷 mathmovie6

📷 Tizline.ir



## برنامه کلاس های آکادمی تیزلاین: پایه نهم



استاد فرزاد تندرو  
ترم دو دوره سالانه  
ریاضی تیزهوشان نهم  
از ۱ بهمن، چهارشنبه ها

۲۰:۱۵ - ۲۱:۱۵  
۱۲ جلسه  
۳۵۰.۰۰۰



استاد مسعود بیگدلی  
ترم دو دوره سالانه  
هوش و استعداد تحلیلی  
از ۲ بهمن، پنجشنبه ها

۲۰:۱۵ - ۲۱:۱۵  
۱۲ جلسه  
۳۵۰.۰۰۰



دکتر قربانی  
ترم دو دوره سالانه  
علوم تیزهوشان نهم  
از ۲۸ دی، یکشنبه ها

۲۰:۱۵ - ۲۱:۱۵  
۱۲ جلسه  
۳۵۰.۰۰۰



استاد مجید غلامی  
دوره سالانه  
از ۲۹ دی، دوشنبه ها

۲۰:۱۵ - ۲۱:۱۵  
۱۰ جلسه  
۳۰۰.۰۰۰



استاد پیمان لایق  
از ۲۹ دی  
ساینس (علوم به لاتین)  
دوشنبه ها

۲۰:۱۵ - ۲۱:۱۵  
۱۲ جلسه  
۳۵۰.۰۰۰



استاد مهدی مهدی زاده  
دوره سالانه  
فارسی تیزهوشان نهم  
از ۱ آذر، شنبه ها

۲۰:۱۵ - ۲۱:۱۵  
۱۵ جلسه  
۴۵۰.۰۰۰



استاد سعید موساوند  
زبان انگلیسی  
جمعه ها از ۳ بهمن  
سه شنبه ها از ۳۰ دی

۱۶:۳۰ - ۱۷:۴۵  
۲۰:۱۵ - ۲۱:۱۵  
۱۰ جلسه  
۴۰۰.۰۰۰



استاد بهزاد اسداله  
استاد حسین حسین زاده  
المپیاد ریاضی

از ۲ آذر، یکشنبه ها

۲۰:۱۵ - ۲۱:۱۵  
۱۵ جلسه  
۴۵۰.۰۰۰



دکتر میثم کوهگرد  
المپیاد فیزیک  
از ۶ آذر

۲۰:۱۵ - ۲۱:۱۵  
۱۵ جلسه  
۴۵۰.۰۰۰



دکتر قربانی  
المپیاد زیست شناسی  
از ۴ آذر

۱۸:۱۵ - ۱۹:۳۰  
۱۵ جلسه  
۴۵۰.۰۰۰

ثبت نام در سایت رسمی آکادمی تیزلاین

#تیزلاینی - شو [www.Tizline.ir](http://www.Tizline.ir)

دوره سالانه شامل دو ترم ۱۲ جلسه ای با ویدیو قابل دانلود و جزوه قابل پرینت است.

دوره زبان فارسی تیزهوشان به صورت سالانه ۱۵ جلسه است.

آنلاین

☎ ۰۲۱ ۴۴۱۳ ۶۹۷۵

📍 ۰۹۳۳ ۳۸۴ ۰۲۰۲

✉ ۵۰۰۰۲۶۹۱۳۲۴

## برنامه کلاس های آکادمی تیزلاین:

### پایه دهم



دکتر میثم کوهگرد  
ترم دو دوره سالانه  
فیزیک پیشرفته دهم  
از ۲۹ دی، دوشنبه ها

۲۱:۱۵ - ۲۰:۰۰  
۱۲ جلسه  
۳۵۰.۰۰۰



دکتر قربانی  
ترم دو دوره سالانه  
شیمی پیشرفته دهم  
از ۲۷ دی، شنبه ها

۲۱:۱۵ - ۲۰:۰۰  
۱۲ جلسه  
۳۵۰.۰۰۰

### # تیزلاینی - شو



استاد فرزاد تندرو  
ترم دو دوره سالانه  
ریاضی پیشرفته دهم  
از ۱ بهمن، چهارشنبه ها

۱۹:۳۰ - ۱۸:۱۵  
۱۲ جلسه  
۳۵۰.۰۰۰



دکتر قربانی  
ترم دو دوره سالانه  
زیست شناسی پیشرفته دهم  
از ۳۰ دی، سه شنبه ها

۲۱:۱۵ - ۲۰:۰۰  
۱۲ جلسه  
۳۵۰.۰۰۰

ثبت نام در سایت رسمی آکادمی تیزلاین

 [www.Tizline.ir](http://www.Tizline.ir)

دوره سالانه شامل دو ترم ۱۲ جلسه ای با ویدیو قابل دانلود و جزوه قابل پرینت است.

☎ ۰۲۱ ۴۴۱۳ ۶۹۷۵

📍 ۰۹۳۳ ۳۸۴ ۰۲۰۲

✉ ۵۰۰۰۲۶۹۱۳۲۴

📷 @mathmovie6

📷 Tizline.ir