



# آکادمی آنلاین تیزلاین

## قوی ترین پلتفرم آموزشی تیزهوشان

برگزار کننده کلاس های آنلاین و حضوری تیزهوشان ✓

و المپیاد از پایه چهارم تا دوازدهم

آزمون های آنلاین و حضوری ✓

مشاوره تخصصی ✓

با اسکن QR کد روبرو  
وارد صفحه اینستاگرام  
آکادمی تیزلاین شو و از  
محتوای آموزشی  
رایگان لذت ببر



برای ورود به صفحه اصلی سایت آکادمی تیزلاین کلیک کنید

برای دانلود دفترچه آزمون های مختلف برای هر پایه کلیک کنید

برای مطالعه مقالات بروز آکادمی تیزلاین کلیک کنید





به نام خدا





نام و نام خانوادگی.....

دبستان غیر دولتی علم آفرین

آزمون ریاضی ترم ۲

<p>الف- ۱۰۰۰ تا ۱۰۰۰۰ برابر یک میلیون است.</p> <p>ب- در هر مربع اندازه ی ضلع با اندازه ی مساحت متناسب است.</p> <p>ج- متوازی الاضلاع مرکز تقارن دارد.</p> <p>د- <math>\frac{1}{4}</math> الیتر همان ۱۲۵۰ سی سی است.</p>	<table border="1"> <tr> <td>ص</td> <td>غ</td> </tr> <tr> <td>ص</td> <td>غ</td> </tr> <tr> <td>ص</td> <td>غ</td> </tr> <tr> <td>ص</td> <td>غ</td> </tr> </table>	ص	غ	ص	غ	ص	غ	ص	غ	<p>۱</p>
ص	غ									
ص	غ									
ص	غ									
ص	غ									
<p>الف- ۶ روز و سه ماه و ۸ سال بعد از روز ۲۷ مهر ۱۳۸۰ چه روزی است؟</p> <p>ب- کدام گزینه با <math>\frac{27}{15}</math> برابر نیست؟</p> <p>ج- ضرب متناظر با شکل کدام گزینه است؟</p>	<p>○ ۳(۱) دی ماه ۱۳۸۸    ○ ۳۳(۲) دی ماه ۱۳۸۸    ○ ۳(۳) بهمن ۱۳۸۸    ○ ۶(۴) بهمن ۱۳۸۸</p> <p>○ <math>\frac{7}{5}</math>(۴)    ○ <math>\frac{54}{30}</math>(۳)    ○ <math>1\frac{4}{5}</math>(۲)    ○ <math>\frac{9}{5}</math>(۱)</p> <p>○ <math>\frac{3}{4} \times 4</math>(۴)    ○ <math>4 \times \frac{3}{4}</math>(۳)    ○ <math>4 \times \frac{4}{3}</math>(۲)    ○ <math>\frac{4}{3} \times 4</math>(۱)</p>	<p>۲</p>								
<p>الف- در الگوی اعداد مربعی دهمین عدد برابر..... است.</p> <p>ب- شکل مقابل دارای ..... خط تقارن است.</p> <p>ج- اگر شعاع دایره ای را ۶ برابر کنیم، محیط آن ..... برابر می شود.</p>	<p>○</p>	<p>۳</p>								
<p>الف- عدد <math>14/08</math> را به حروف بنویسید.</p> <p>ب- گسترده ی این عدد را بنویسید.</p>	<p>۴</p>									
<p>باتوجه به عدد ۲۸۰۰۰۴۳۷۱۶۹ به سوالات زیر پاسخ دهید.</p> <p>الف- ارقام طبقه ی میلیارد را بنویسید.</p> <p>ج- اگر این عدد را ۱۰ برابر کنیم رقم ۷ در چه مرتبه ای قرار می گیرد؟</p> <p>د- این عدد را با تقریب کم تر از یک میلیون بنویسید.</p>	<p>۵</p>									
<p>حاصل عبارات زیر را به دست آورید.</p> <p><math>12 + 7/5 + 0/15 =</math></p> <p><math>1\frac{3}{5} \times \frac{5}{7} =</math></p> <p><math>7 - 1\frac{1}{4} =</math></p> <p><math>\frac{1}{8} \div 2 =</math></p>	<p>۶</p>									
<p>زهره در آزمون های ۴ ماه اول سال امتیازهای روبرو را کسب کرده است.</p> <p>الف- میانگین امتیازهای او را حساب کنید.</p> <p>ب- او در ماه پنجم چه امتیازی بگیرد تا میانگین او تغییر نکند؟</p>	<p>۷</p>									



	<p>۸ چرخنده ی روبرو را می چرخانیم. احتمال ایستادن عقربه روی هر یک از شکل های زیر را با یک عبارت مناسب بیان کنید.</p> <p style="text-align: center;">□                      Δ                      •</p>										
<table border="1" data-bbox="247 537 470 815"> <thead> <tr> <th>روز هفته</th><th>دما</th></tr> </thead> <tbody> <tr> <td>شنبه</td><td>۱۸</td></tr> <tr> <td>یک شنبه</td><td>۱۲</td></tr> <tr> <td>دوشنبه</td><td>۱۲</td></tr> <tr> <td>سه شنبه</td><td>۱۴</td></tr> </tbody> </table>	روز هفته	دما	شنبه	۱۸	یک شنبه	۱۲	دوشنبه	۱۲	سه شنبه	۱۴	<p>۹ دانش آموزی دمای هوای ۴ روز شهر خود را با توجه به اخبار هواشناسی در جدول یادداشت کرده است. الف- نمودار خط شکسته ی مربوط به این داده ها را رسم کنید. ب- نمودار را توصیف کنید.</p>
روز هفته	دما										
شنبه	۱۸										
یک شنبه	۱۲										
دوشنبه	۱۲										
سه شنبه	۱۴										
	<p>۱۰ اندازه های خواسته شده در هر شکل را حساب کنید. نیمساز</p> 										
	<p>۱۱ الف- مساحت لوزی را حساب کنید که قطر های آن ۸ و ۵ سانتی متر هستند. ب- محیط شکل داده شده را بدست آورید. (عرض مستطیل = ۵۰ س طول مستطیل = ۱۰۰ س)</p>										
	<p>۱۲ الف- ظرفی شیشه ای به شکل مقابل است. حجم این ظرف چند سانتی متر مکعب است؟ ب- گنجایش این ظرف چند لیتر است؟</p>										
<p>۱۳ ۵۰٪ عددی ۲۰۰ و ۶۰٪ عددی ۲۴۰ است. الف- عدد اول چند است؟ ب- عدد دوم را حساب کنید. ج- نسبت این دو عدد را بنویسید.</p>											

