



آکادمی آنلاین تیز لاین

قوی ترین پلتفرم آموزشی تیز هوشان

برگزار کننده کلاس های آنلاین و حضوری تیز هوشان ✓

و المپیاد از پایه چهارم تا دوازدهم

آزمون های آنلاین و حضوری ✓

مشاوره تخصصی ✓

با اسکن QR کد روبرو
وارد صفحه اینستاگرام
آکادمی تیز لاین شو و از
محتواهای آموزشی
رایگان لذت ببر

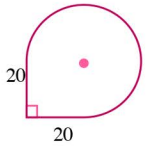


برای ورود به صفحه اصلی سایت آکادمی تیز لاین کلیک کنید

برای دانلود دفترچه آزمون های مختلف برای هر پایه کلیک کنید

برای مطالعه مقالات بروز آکادمی تیز لاین کلیک کنید

ریاضی پنجم فصل ششم محیط دایره



۱۴۴٫۲ (۴)

۱۰۴٫۲ (۳)

۹۴٫۲ (۲)

۱۳۴٫۲ (۱)

۱. محیط شکل زیر در کدام آمده است؟

۲. قطر یک تشک کشتی تقریباً ۸ متر است. محیط آن تقریباً چند متر است؟

۳۰ متر (۴)

۲۵ متر (۳)

۲۰ متر (۲)

۱۶ متر (۱)

۳. با سه برابر شدن قطر دایره، محیط دایره چند برابر می‌شود؟

۳ (۴)

۹ (۳)

۶ (۲)

۲ (۱)

۴. پدرام در مرکز یک حوض دایره‌ای شکل ایستاده است. اردوان روی لبه‌ی حوض ایستاده است. اگر

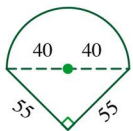
فاصله‌ی پدرام و اردوان ۴ متر باشد، طول دور تا دور حوض چند متر است؟

۱۰۰٫۴۸ (۴)

۵۰٫۲۴ (۳)

۲۵٫۱۲ (۲)

۱۲٫۵۶ (۱)



۲۸۰٫۶ (۴)

۲۳۵٫۶ (۳)

۱۸۰٫۶ (۲)

۱۲۵٫۶ (۱)

۵. محیط شکل زیر چند میلی‌متر است؟ (اندازه‌ها به میلی‌متر هستند.)

۶. اگر چرخ‌ی با شعاع ۲۰ سانتی‌متر، ۲۰ دور بزند، چند متر را طی می‌کند؟

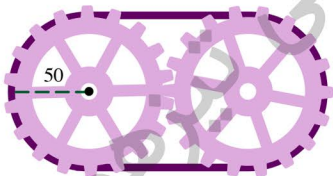
۲۵٫۱۲ (۴)

۲۵۱۲ (۳)

۱۲٫۵۶ (۲)

۱۲۵۶ (۱)

۷. طول تسمه‌ی که دو چرخ را به هم وصل کرده چند میلی‌متر است؟ (شعاع چرخ = ۵۰ میلی‌متر)



۴۱۴ (۲)

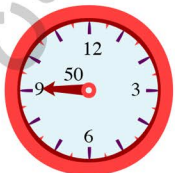
۳۱۴ (۱)

۶۱۴ (۴)

۵۱۴ (۳)

۸. اگر اندازه‌ی عقربه‌ی ساعت‌شمار ۵۰ سانتی‌متر باشد، نوک این عقربه، از ساعت ۹ صبح تا ۳ بعد از ظهر

تقریباً چند سانتی‌متر را طی می‌کند؟

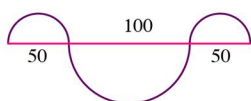


۳۱۴ (۲)

۱۵۷ (۱)

۳٫۱۴ (۴)

۱٫۵۷ (۳)



۹. محیط شکل مقابل چقدر است؟

۶۱۴ (۲)

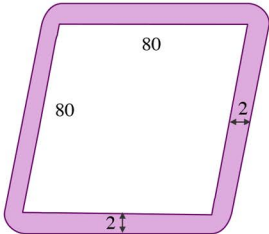
۳۱۴ (۱)

۵۱۴ (۴)

۴۱۴ (۳)

ریاضی پنجم فصل ششم محیط دایره

۱۰. شکل زیر یک لوزی به ضلع ۸۰ سانتی‌متر را نشان می‌دهد که یک مسیر ثابت به عرض ۲ سانتی‌متر دور تا دور آن را در بر گرفته است. طول مسیر بیرونی شکل چند سانتی‌متر است؟ (عدد پی = π)

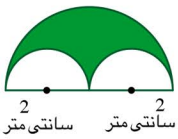


۱ $320 + \pi$

۲ $320 + (2 \times \pi)$

۳ $640 + (2 \times \pi)$

۴ $320 + (4 \times \pi)$



۱۱. محیط ناحیه رنگی چقدر است؟

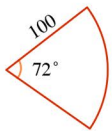
۲ $25,12$ سانتی‌متر

۱ $37,68$ سانتی‌متر

۴ $6,28$ سانتی‌متر

۳ $50,24$ سانتی‌متر

۱۲. شکل مقابل، قسمتی از یک دایره است. محیط این شکل چقدر است؟



۴ $225,6$

۳ $628,6$

۲ $125,6$

۱ $325,6$

۱۳. یک مورچه به دور مثلثی با ضلع‌های ۵، ۶ و ۷ سانتی‌متر راه می‌رود به طوری که همیشه یک سانتی‌متر بیرون از مثلث بایستد. وقتی این مورچه برای اولین بار به نقطه‌ی شروع می‌رسد و یک دور کامل را با فاصله‌ی یک سانتی‌متری طی کرده است، چه مقدار پیاده‌روی کرده است؟ (عدد پی = π)

۴ $18 + (2 \times \pi)$ سانتی‌متر

۳ $18 + \pi$ سانتی‌متر

۲ 24 سانتی‌متر

۱ 19 سانتی‌متر

۱۴. اگر شعاع دایره‌ای نصف شود، محیط آن چه تغییری می‌کند؟


۴ $\frac{1}{4}$ برابر می‌شود.

۳ $\frac{1}{2}$ برابر می‌شود.

۲ ۲ برابر می‌شود.

۱ ۴ برابر می‌شود.

۱۵. در شکل زیر دو دایره‌ی مساوی به شعاع ۲۰ سانتی‌متر رسم شده است. محیط قسمت رنگی چند سانتی‌متر است؟



۲ $58,2$

۱ 172

۴ $55,7$

۳ $102,8$

ریاضی پنجم فصل ششم محیط دایره

پاسخنامه کلیدی

۱	۱	۴	۲	۷	۳	۱۰	۴	۱۳	۴
۲	۴	۵	۴	۸	۱	۱۱	۲	۱۴	۴
۳	۴	۶	۴	۹	۴	۱۲	۱	۱۵	۴

آکادمی آموزشی تیزلاین

مجری همایش کلاس و آزمون در سراسر کشور

با حضور اساتید برگزیده ی کشوری تیزهوشان و کنکور



ششم

استادمسعودبیگدلی
ترم دو دوره سالانه
ریاضی تیزهوشان
از ۲۹ دی ، دوشنبه ها
۱۶:۳۰ تا ۱۷:۴۵ | ۱۲ جلسه
۳۵۰.۰۰۰



استادمسعودبیگدلی
ترم دو دوره سالانه
هوش و خلاقیت
از ۲۹ دی ، دوشنبه ها
۲۱:۱۵ - ۲۰:۰۰ | ۱۲ جلسه
۳۵۰.۰۰۰



ششم

دکتر قربانی
ترم دو دوره سالانه
علوم تیزهوشان
از ۱ بهمن ، چهارشنبه ها
۱۸:۱۵ - ۱۹:۳۰ | ۱۲ جلسه
۳۵۰.۰۰۰



ششم

استادحسن ربانی
دوره سالانه
فارسی تیزهوشان
از ۱ آذر ، شنبه ها
۲۱:۱۵ - ۲۰:۰۰ | ۱۵ جلسه
۴۵۰.۰۰۰

برنامه کلاس های دوره ابتدایی آکادمی تیزلاین



پنجم

استاد وحید گوران
ترم دو دوره سالانه
ریاضی پیشرفت
از ۲۸ دی ، یکشنبه ها
۱۸:۱۵ - ۱۹:۳۰ | ۱۲ جلسه
۳۵۰.۰۰۰



استاد پیمان لایق
ترم دو دوره سالانه
ساینس (علوم به لاتین)
از ۲۹ دی ، دوشنبه ها
۲۱:۱۵ - ۲۰:۰۰ | ۱۲ جلسه
۳۵۰.۰۰۰ نفر



استاد سعید موساوند
زبان انگلیسی، ترم زمستان
سه شنبه ها از ۳۰ دی
۲۱:۱۵ - ۲۰:۰۰
جمعه ها از ۳ بهمن
۱۷:۴۵ - ۱۶:۳۰
۲۱:۱۵ - ۲۰:۰۰ | ۱۰ جلسه
۴۰۰.۰۰۰ نفر
طرفیت هر گروه: ۱۰ نفر



چهارم

استاد وحید گوران
ترم دو دوره سالانه
ریاضی پیشرفت
از ۲۸ دی ، یکشنبه ها
۱۶:۳۰ - ۱۷:۴۵ | ۱۲ جلسه
۳۵۰.۰۰۰

تیزلاینی - شو

آزمون های آکادمی تیزلاین

شبیه سازترین
آزمون تیزهوشان

هشتم
۶ + ۱
مرحله

هفتم
۶ + ۱
مرحله

ششم
۱۰ + ۱
مرحله

پنجم
۸ + ۱
مرحله

چهارم
۱ + ۵
مرحله

نهم
۱۰ + ۱
مرحله

دهم
۷ + ۱
مرحله

چهارم تا دهم

با طراحی اساتید برجسته تیزهوشان کشور
استادمسعودبیگدلی، استاد فرزاد تندرو، استاد میثم بهرامی
دکتر میثم کوهگرد، استاد مهدی مهدی زاده، دکتر قربانی و ...



آنلاین و حضوری
در نمایندگی ها

ثبت نام در سایت رسمی آکادمی تیزلاین

www.Tizline.ir | ۰۲۱ ۴۴۱۳ ۶۹۷۵ | ۰۹۳۳۳ ۳۸۴ ۰۲۰۲



www.Tizline.ir



@Bigbest23



۰۹۳۳۳ ۳۸۴ ۰۲۰۲



۵۰۰۰۲۶۹۱۳۲۴



۰۲۱ ۴۴۱۳ ۶۹۷۵

برنامه کلاس های آکادمی تیزلاین: پایه هفتم



دکتر قربانی
ترم دو دوره سالانه
علوم تیز هوشان هفتم
از ۱ بهمن، چهارشنبه ها
۱۲ جلسه
۲۱:۱۵ - ۲۰:۰۰
۳۵۰.۰۰۰



استاد مسعود بیگدلی
ترم دو دوره سالانه
هوش و استعداد تحلیلی
از ۲ بهمن، پنج شنبه ها
۱۲ جلسه
۲۱:۱۵ - ۲۰:۰۰
۳۵۰.۰۰۰



استاد مسعود بیگدلی
ترم دو دوره سالانه
ریاضی تیز هوشان هفتم
از ۲۹ دی، دوشنبه ها
۱۲ جلسه
۱۹:۳۰ - ۱۸:۱۵
۳۵۰.۰۰۰



استاد مجید غلامی
دوره سالانه
از ۲۹ دی، دوشنبه ها
۱۰ جلسه
۲۱:۱۵ - ۲۰:۰۰
۳۰۰.۰۰۰



استاد پیمان لایق
از ۲۹ دی
ساینس (علوم به لاتین)
دوشنبه ها
۱۲ جلسه
۲۱:۱۵ - ۲۰:۰۰
۳۵۰.۰۰۰



دکتر کاظم غریبی
دوره سالانه
فارسی تیز هوشان هفتم
از ۱ آذر، شنبه ها
۱۵ جلسه
۲۱:۱۵ - ۲۰:۰۰
۴۵۰.۰۰۰



استاد سعید موسی وند
زبان انگلیسی
سه شنبه ها از ۳۰ دی
جمعه ها از ۳ بهمن
۱۷:۴۵ - ۱۶:۳۰
۲۱:۱۵ - ۲۰:۰۰
۱۰ جلسه
۴۰۰.۰۰۰



دکتر قربانی
المپیاد زیست شناسی
از ۴ آذر
سه شنبه ها
۱۵ جلسه
۱۹:۳۰ - ۱۸:۱۵
۴۵۰.۰۰۰



دکتر میثم کوهگرد
المپیاد فیزیک
از ۶ آذر
پنج شنبه ها
۱۵ جلسه
۲۱:۱۵ - ۲۰:۰۰
۴۵۰.۰۰۰



استاد بهزاد اسداله
استاد حسین حسین زاده
المپیاد ریاضی
از ۲ آذر، یکشنبه ها
۱۵ جلسه
۲۱:۱۵ - ۲۰:۰۰
۴۵۰.۰۰۰

تیزلاینی - شو

ثبت نام در سایت رسمی آکادمی تیزلاین

www.Tizline.ir

دوره سالانه شامل دو ترم ۱۲ جلسه ای با ویدیو قابل دانلود و جزوه قابل پرینت است.
دوره زبان فارسی تیز هوشان به صورت سالانه ۱۵ جلسه است.

آنلاین

☎ ۰۲۱ ۴۴۱۳ ۶۹۷۵

📍 ۰۹۳۳ ۳۸۴ ۰۲۰۲

✉ ۵۰۰۰۲۶۹۱۳۲۴

برنامه کلاس های آکادمی تیزلاین: پایه هشتم



دکتر قربانی
ترم دو دوره سالانه
علوم تیز هوشان هشتم
از ۲۸ دی، یکشنبه ها

۱۲ جلسه
۱۹:۳۰ - ۱۸:۱۵
۳۵۰.۰۰۰



استاد مسعود بیگدلی
ترم دو دوره سالانه
هوش و استعداد تحلیلی
از ۲ بهمن، پنجشنبه ها

۱۲ جلسه
۲۱:۱۵ - ۲۰:۰۰
۳۵۰.۰۰۰



استاد میثم بهرامی جویا
ترم دو دوره سالانه
ریاضی تیز هوشان هشتم
از ۱ بهمن، چهارشنبه ها

۱۲ جلسه
۲۱:۱۵ - ۲۰:۰۰
۳۵۰.۰۰۰



استاد مهدی مهدی زاده
دوره سالانه
فارسی تیز هوشان هشتم
از ۱ آذر، شنبه ها

۱۵ جلسه
۱۹:۳۰ - ۱۸:۱۵
۴۵۰.۰۰۰



استاد پیمان لایق
از ۲۹ دی
ساینس (علوم به لاتین)
دو شنبه ها

۱۲ جلسه
۲۱:۱۵ - ۲۰:۰۰
۳۵۰.۰۰۰



استاد سعید موساوند
زبان انگلیسی
سه شنبه ها از ۳۰ دی
جمعه ها از ۳ بهمن

۱۰ جلسه
۲۱:۱۵ - ۲۰:۰۰
۴۰۰.۰۰۰



استاد بهزاد اسداله
استاد حسین حسین زاده
المپیاد ریاضی
از ۲ آذر، یکشنبه ها

۱۵ جلسه
۲۱:۱۵ - ۲۰:۰۰
۴۵۰.۰۰۰



دکتر میثم کوهگرد
المپیاد فیزیک
از ۶ آذر
پنجشنبه ها

۱۵ جلسه
۲۱:۱۵ - ۲۰:۰۰
۴۵۰.۰۰۰



دکتر قربانی
المپیاد زیست شناسی
از ۴ آذر
سه شنبه ها

۱۵ جلسه
۱۹:۳۰ - ۱۸:۱۵
۴۵۰.۰۰۰

ثبت نام در سایت رسمی آکادمی تیزلاین
#تیزلاینی شو www.Tizline.ir

دوره سالانه شامل دو ترم ۱۲ جلسه ای با ویدیو قابل دانلود و جزوه قابل پرینت است.
دوره زبان فارسی تیز هوشان به صورت سالانه ۱۵ جلسه است.

آنلاین

☎ ۰۲۱ ۴۴۱۳ ۶۹۷۵

📍 ۰۹۳۳ ۳۸۴ ۰۲۰۲

✉ ۵۰۰۰۲۶۹۱۳۲۴

📷 mathmovie6

📷 Tizline.ir

برنامه کلاس های آکادمی تیزلاین: پایه نهم



استاد فرزاد تندرو
ترم دو دوره سالانه
ریاضی تیزهوشان نهم
از ۱ بهمن، چهارشنبه ها

۲۰:۱۵ - ۲۱:۱۵
۱۲ جلسه
۳۵۰.۰۰۰



استاد مسعود بیگدلی
ترم دو دوره سالانه
هوش و استعداد تحلیلی
از ۲ بهمن، پنجشنبه ها

۲۰:۱۵ - ۲۱:۱۵
۱۲ جلسه
۳۵۰.۰۰۰



دکتر قربانی
ترم دو دوره سالانه
علوم تیزهوشان نهم
از ۲۸ دی، یکشنبه ها

۲۰:۱۵ - ۲۱:۱۵
۱۲ جلسه
۳۵۰.۰۰۰



استاد مجید غلامی
دوره سالانه
از ۲۹ دی، دوشنبه ها

۲۰:۱۵ - ۲۱:۱۵
۱۰ جلسه
۳۰۰.۰۰۰



استاد پیمان لایق
از ۲۹ دی
ساینس (علوم به لاتین)
دوشنبه ها

۲۰:۱۵ - ۲۱:۱۵
۱۲ جلسه
۳۵۰.۰۰۰



استاد مهدی مهدی زاده
دوره سالانه
فارسی تیزهوشان نهم
از ۱ آذر، شنبه ها

۲۰:۱۵ - ۲۱:۱۵
۱۵ جلسه
۴۵۰.۰۰۰



استاد سعید موساوند
زبان انگلیسی
جمعه ها از ۳ بهمن
سه شنبه ها از ۳۰ دی

۱۶:۳۰ - ۱۷:۴۵
۲۰:۱۵ - ۲۱:۱۵
۱۰ جلسه
۴۰۰.۰۰۰



استاد بهزاد اسداله
استاد حسین حسین زاده
المپياد ریاضی

از ۲ آذر، یکشنبه ها

۲۰:۱۵ - ۲۱:۱۵
۱۵ جلسه
۴۵۰.۰۰۰



دکتر میثم کوهگرد
المپیاد فیزیک
از ۶ آذر

۲۰:۱۵ - ۲۱:۱۵
۱۵ جلسه
۴۵۰.۰۰۰



دکتر قربانی
المپیاد زیست شناسی
از ۴ آذر

۱۸:۱۵ - ۱۹:۳۰
۱۵ جلسه
۴۵۰.۰۰۰

ثبت نام در سایت رسمی آکادمی تیزلاین

#تیزلاینی - شو

www.Tizline.ir

دوره سالانه شامل دو ترم ۱۲ جلسه ای با ویدیو قابل دانلود و جزوه قابل پرینت است.

دوره زبان فارسی تیزهوشان به صورت سالانه ۱۵ جلسه است.

آنلاین

☎ ۰۲۱ ۴۴۱۳ ۶۹۷۵

📍 ۰۹۳۳ ۳۸۴ ۰۲۰۲

✉ ۵۰۰۰۲۶۹۱۳۲۴

برنامه کلاس های آکادمی تیزلاین:

پایه دهم



دکتر میثم کوهگرد
ترم دو دوره سالانه
فیزیک پیشرفته دهم
از ۲۹ دی، دوشنبه ها

۱۲ جلسه
۳۵۰.۰۰۰ ۲۱:۱۵ - ۲۰:۰۰



دکتر قربانی
ترم دو دوره سالانه
شیمی پیشرفته دهم
از ۲۷ دی، شنبه ها

۱۲ جلسه
۳۵۰.۰۰۰ ۲۱:۱۵ - ۲۰:۰۰

تیزلاینی - شو



استاد فرزاد تندرو
ترم دو دوره سالانه
ریاضی پیشرفته دهم
از ۱ بهمن، چهارشنبه ها

۱۲ جلسه
۳۵۰.۰۰۰ ۱۹:۳۰ - ۱۸:۱۵



دکتر قربانی
ترم دو دوره سالانه
زیست شناسی پیشرفته دهم
از ۳۰ دی، سه شنبه ها

۱۲ جلسه
۳۵۰.۰۰۰ ۲۱:۱۵ - ۲۰:۰۰

ثبت نام در سایت رسمی آکادمی تیزلاین

 www.Tizline.ir

دوره سالانه شامل دو ترم ۱۲ جلسه ای با ویدیو قابل دانلود و جزوه قابل پرینت است.

☎ ۰۲۱ ۴۴۱۳ ۶۹۷۵

📍 ۰۹۳۳ ۳۸۴ ۰۲۰۲

✉ ۵۰۰۰۲۶۹۱۳۲۴

📷 @mathmovie6

📷 Tizline.ir