



آکادمی آنلاین تیز لاین

قوی ترین پلتفرم آموزشی تیز هوشان

برگزار کننده کلاس های آنلاین و حضوری تیز هوشان ✓

و المپیاد از پایه چهارم تا دوازدهم

آزمون های آنلاین و حضوری ✓

مشاوره تخصصی ✓

با اسکن QR کد روبرو
وارد صفحه اینستاگرام
آکادمی تیز لاین شو و از
محتواهای آموزشی
رایگان لذت ببر



برای ورود به صفحه اصلی سایت آکادمی تیز لاین کلیک کنید

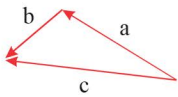
برای دانلود دفترچه آزمون های مختلف برای هر پایه کلیک کنید

برای مطالعه مقالات بروز آکادمی تیز لاین کلیک کنید

ریاضی هشتم فصل پنجم جمع بردارها

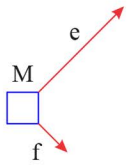
۱. مقدار x را طوری پیدا کنید که دو بردار $\begin{bmatrix} x-6 \\ 6 \end{bmatrix}$ و $\begin{bmatrix} x \\ -3 \end{bmatrix}$ موازی باشند.

- ۱) -۲ ۲) ۳ ۳) -۳ ۴) +۲



۲. مطابق شکل روبه‌رو جمع بردارهای \vec{a} , \vec{b} , \vec{c} برابر است با:

- ۱) بردار صفر ۲) $2\vec{c}$ ۳) $-2\vec{c}$ ۴) $2\vec{a}$



۳. جسم M توسط دو نیروی e و f کشیده می‌شود، جهت حرکت جسم چگونه خواهد بود؟

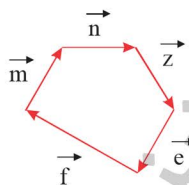
- ۱) ۲) ۳) ۴)

۴. رابطه $\vec{h} = \vec{d} - \vec{n}$ در کدام یک از شکل‌های زیر درست است؟

- ۱) ۲) ۳) ۴)

۵. اگر $\vec{a} = \begin{bmatrix} -1 \\ -3 \end{bmatrix}$ و $\vec{b} = \begin{bmatrix} 1 \\ 3 \end{bmatrix}$ باشد می‌توان گفت:

- ۱) $\vec{a} + \vec{b} = \vec{0}$ ۲) $\vec{a} = -\vec{b}$ ۳) $\vec{b} = -\vec{a}$ ۴) هر ۳ گزینه درست است.



۶. مجموع برداری شکل مقابل برابر کدام است؟

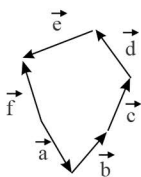
- ۱) \vec{f} ۲) $-\vec{e}$ ۳) \vec{m} ۴) $\vec{0}$

۷. شکل بردار حاصل جمع $\vec{a} + \vec{b} + \vec{c} + \vec{d} - \vec{e} = \vec{0}$ کدام است؟

- ۱) ۲) ۳) ۴)

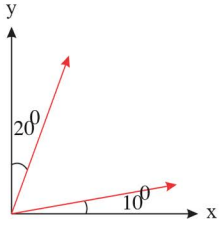
۸. حاصل جمع بردارهای شکل روبه‌رو کدام گزینه است؟

- ۱) $2\vec{f}$ ۲) \vec{a} ۳) \vec{f} ۴) \vec{e}



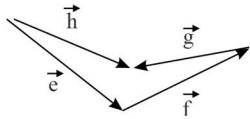
ریاضی هشتم فصل پنجم جمع بردارها

۹. دو بردار \vec{x} و \vec{y} هم‌اندازه هستند. بردار مجموع آنها چه زاویه‌ای با محور طول‌ها می‌سازد؟



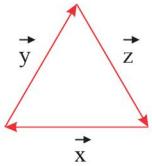
- ۱) 35°
- ۲) 45°
- ۳) 40°
- ۴) 55°

۱۰. حاصل جمع بردارهای روبه‌رو برابر است با:



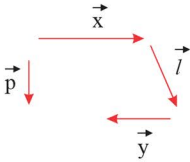
- ۱) \vec{g}
- ۲) $2\vec{h}$
- ۳) \vec{f}
- ۴) \vec{e}

۱۱. در شکل مقابل حاصل $\vec{x} + \vec{y} + \vec{z}$ کدام گزینه است؟



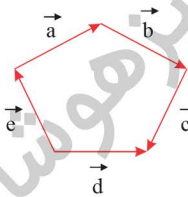
- ۱) $2\vec{x}$
- ۲) $2\vec{z}$
- ۳) $\vec{0}$
- ۴) $\vec{x} = (\vec{y} + \vec{z})$

۱۲. حاصل جمع بردارهای مقابل برابر کدام گزینه است؟



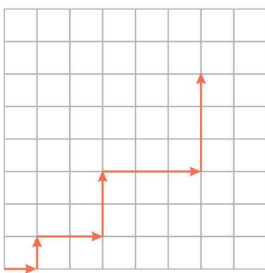
- ۱)
- ۲)
- ۳)
- ۴)

۱۳. کدام رابطه برای شکل مقابل صحیح است؟



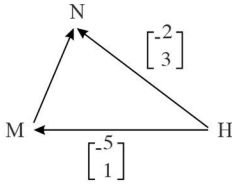
- ۱) $\vec{c} + \vec{b} + \vec{a} + \vec{e} = \vec{d}$
- ۲) $\vec{a} + \vec{b} + \vec{d} + \vec{e} = \vec{c}$
- ۳) $\vec{c} + \vec{b} + \vec{a} + \vec{d} = \vec{e}$
- ۴) $\vec{d} + \vec{c} + \vec{e} + \vec{a} = \vec{b}$

۱۴. یک ربات طوری برنامه‌ریزی شده است که مطابق با الگوی زیر از مبدأ شروع به حرکت می‌کند. پس از حرکت یکمصد و یکم، روبات به کدام نقطه می‌رسد؟



- ۱) $\begin{bmatrix} 1326 \\ 1275 \end{bmatrix}$
- ۲) $\begin{bmatrix} 1275 \\ 1326 \end{bmatrix}$
- ۳) $\begin{bmatrix} 1275 \\ 1275 \end{bmatrix}$
- ۴) $\begin{bmatrix} 1326 \\ 1326 \end{bmatrix}$

ریاضی هشتم فصل پنجم جمع بردارها



۱۵. با توجه شکل مقابل، مختصات \vec{MN} کدام گزینه است؟

$\begin{bmatrix} -2 \\ 3 \end{bmatrix}$ (۲)

$\begin{bmatrix} -2 \\ -4 \end{bmatrix}$ (۴)

$\begin{bmatrix} 3 \\ 2 \end{bmatrix}$ (۱)

$\begin{bmatrix} -7 \\ 2 \end{bmatrix}$ (۳)

آکادمی آموزشی تیزلاین >

ریاضی هشتم فصل پنج
جمع بردارها

پاسخنامه کلیدی

۱ . ۴	۴ . ۳	۷ . ۳	۱۰ . ۲	۱۳ . ۱
۲ . ۴	۵ . ۴	۸ . ۱	۱۱ . ۳	۱۴ . ۱
۳ . ۴	۶ . ۴	۹ . ۳	۱۲ . ۲	۱۵ . ۱

مجری همایش کلاس و آزمون در سراسر کشور

با حضور اساتید برگزیده ی کشوری تیزهوشان و کنکور

@mathmovie6

Tizline.ir

www.Tizline.ir

@tizline

۰۹۳۳ ۳۸۴ ۰۲۰۲

۵۰۰۰۲۶۹۱۳۲۴

۰۲۱ ۴۴۱۳ ۶۹۷۵

آکادمی آموزشی تیزلاین <

مجری همایش کلاس و آزمون در سراسر کشور

با حضور اساتید برگزیده ی کشوری تیزهوشان و کنکور



ششم

استادمسعودبیگدلی
ترم دو دوره سالانه
ریاضی تیزهوشان
از ۲۹ دی ، دوشنبه ها
۱۶:۳۰ تا ۱۷:۴۵ ۱۲ جلسه
۳۵۰.۰۰۰



استادمسعودبیگدلی
ترم دو دوره سالانه
هوش و خلاقیت
از ۲۹ دی ، دوشنبه ها
۲۱:۱۵ - ۲۰:۰۰ ۱۲ جلسه
۳۵۰.۰۰۰



ششم

دکتر قربانی
ترم دو دوره سالانه
علوم تیزهوشان
از ۱ بهمن ، چهارشنبه ها
۱۸:۱۵ - ۱۹:۳۰ ۱۲ جلسه
۳۵۰.۰۰۰



ششم

استادحسن ربانی
دوره سالانه
فارسی تیزهوشان
از ۱ آذر ، شنبه ها
۲۱:۱۵ - ۲۰:۰۰ ۱۵ جلسه
۴۵۰.۰۰۰

برنامه کلاس های دوره ابتدایی آکادمی تیزلاین



پنجم

استاد وحید گوران
ترم دو دوره سالانه
ریاضی پیشرفت
از ۲۸ دی ، یکشنبه ها
۱۸:۱۵ - ۱۹:۳۰ ۱۲ جلسه
۳۵۰.۰۰۰



استاد پیمان لایق
ترم دو دوره سالانه
ساینس (علوم به لاتین)
از ۲۹ دی ، دوشنبه ها
۲۱:۱۵ - ۲۰:۰۰ ۱۲ جلسه
۳۵۰.۰۰۰
ظرفیت ۱۵ نفر



استاد سعید موساوند
زبان انگلیسی، ترم زمستان
سه شنبه ها از ۳۰ دی
۲۱:۱۵ - ۲۰:۰۰
جمعه ها از ۳ بهمن
۱۷:۴۵ - ۱۶:۳۰
۲۱:۱۵ - ۲۰:۰۰ ۱۰ جلسه
۴۰۰.۰۰۰
ظرفیت هر گروه: ۱۰ نفر



چهارم

استاد وحید گوران
ترم دو دوره سالانه
ریاضی پیشرفت
از ۲۸ دی ، یکشنبه ها
۱۶:۳۰ - ۱۷:۴۵ ۱۲ جلسه
۳۵۰.۰۰۰

تیزلاینی - شو

آزمون های آکادمی تیزلاین

شبیه سازترین
آزمون تیزهوشان

هشتم
۶+۱
مرحله

چهارم
۱+۵
مرحله

هفتم
۶+۱
مرحله

ششم
۱۰+۱
مرحله

پنجم
۸+۱
مرحله

چهارم تا دهم

با طراحی اساتید برجسته تیزهوشان کشور
استادمسعودبیگدلی، استاد فرزاد تندرو، استاد میثم بهرامی
دکتر میثم کوهگرد، استاد مهدی مهدی زاده، دکتر قربانی و...

دهم
۷+۱
مرحله

نهم
۱۰+۱
مرحله



آنلاین و حضوری
در نمایندگی ها

ثبت نام در سایت رسمی آکادمی تیزلاین

www.Tizline.ir ۰۲۱ ۴۴۱۳ ۶۹۷۵ ۰۹۳۳۳ ۳۸۴ ۰۲۰۲



www.Tizline.ir



@Bigbest23



۰۹۳۳۳ ۳۸۴ ۰۲۰۲



۵۰۰۰۲۶۹۱۳۲۴



۰۲۱ ۴۴۱۳ ۶۹۷۵

برنامه کلاس های آکادمی تیزلاین: پایه هفتم



دکتر قربانی
ترم دو دوره سالانه
علوم تیز هوشان هفتم
از ۱ بهمن، چهارشنبه ها
۱۲ جلسه
۲۱:۱۵ - ۲۰:۰۰
۳۵۰.۰۰۰



استاد مسعود بیگدلی
ترم دو دوره سالانه
هوش و استعداد تحلیلی
از ۲ بهمن، پنج شنبه ها
۱۲ جلسه
۲۱:۱۵ - ۲۰:۰۰
۳۵۰.۰۰۰



استاد مسعود بیگدلی
ترم دو دوره سالانه
ریاضی تیز هوشان هفتم
از ۲۹ دی، دوشنبه ها
۱۲ جلسه
۱۹:۳۰ - ۱۸:۱۵
۳۵۰.۰۰۰



استاد مجید غلامی
دوره سالانه
از ۲۹ دی، دوشنبه ها
۱۰ جلسه
۲۱:۱۵ - ۲۰:۰۰
۳۰۰.۰۰۰



استاد پیمان لایق
از ۲۹ دی
ساینس (علوم به لاتین)
دوشنبه ها
۱۲ جلسه
۲۱:۱۵ - ۲۰:۰۰
۳۵۰.۰۰۰



دکتر کاظم غریبی
دوره سالانه
فارسی تیز هوشان هفتم
از ۱ آذر، شنبه ها
۱۵ جلسه
۲۱:۱۵ - ۲۰:۰۰
۴۵۰.۰۰۰



استاد سعید موسی وند
زبان انگلیسی
سه شنبه ها از ۳۰ دی
جمعه ها از ۳ بهمن
۱۷:۴۵ - ۱۶:۳۰
۲۱:۱۵ - ۲۰:۰۰
۱۰ جلسه
۴۰۰.۰۰۰



دکتر قربانی
المپیاد زیست شناسی
از ۴ آذر
سه شنبه ها
۱۵ جلسه
۱۹:۳۰ - ۱۸:۱۵
۴۵۰.۰۰۰



دکتر میثم کوهگرد
المپیاد فیزیک
از ۶ آذر
پنج شنبه ها
۱۵ جلسه
۲۱:۱۵ - ۲۰:۰۰
۴۵۰.۰۰۰



استاد بهزاد اسداله
استاد حسین حسین زاده
المپیاد ریاضی
از ۲ آذر، یکشنبه ها
۱۵ جلسه
۲۱:۱۵ - ۲۰:۰۰
۴۵۰.۰۰۰

تیزلاینی - شو

ثبت نام در سایت رسمی آکادمی تیزلاین

www.Tizline.ir

دوره سالانه شامل دو ترم ۱۲ جلسه ای با ویدیو قابل دانلود و جزوه قابل پرینت است.
دوره زبان فارسی تیز هوشان به صورت سالانه ۱۵ جلسه است.

آنلاین

☎ ۰۲۱ ۴۴۱۳ ۶۹۷۵

📍 ۰۹۳۳ ۳۸۴ ۰۲۰۲

✉ ۵۰۰۰۲۶۹۱۳۲۴

برنامه کلاس های آکادمی تیزلاین: پایه هشتم



دکتر قربانی
ترم دو دوره سالانه
علوم تیز هوشان هشتم
از ۲۸ دی، یکشنبه ها

۱۲ جلسه
۱۹:۳۰ - ۱۸:۱۵
۳۵۰.۰۰۰



استاد مسعود بیگدلی
ترم دو دوره سالانه
هوش و استعداد تحلیلی
از ۲ بهمن، پنجشنبه ها

۱۲ جلسه
۲۱:۱۵ - ۲۰:۰۰
۳۵۰.۰۰۰



استاد میثم بهرامی جویا
ترم دو دوره سالانه
ریاضی تیز هوشان هشتم
از ۱ بهمن، چهارشنبه ها

۱۲ جلسه
۲۱:۱۵ - ۲۰:۰۰
۳۵۰.۰۰۰



استاد مهدی مهدی زاده
دوره سالانه
فارسی تیز هوشان هشتم
از ۱ آذر، شنبه ها

۱۵ جلسه
۱۹:۳۰ - ۱۸:۱۵
۴۵۰.۰۰۰



استاد پیمان لایق
از ۲۹ دی
ساینس (علوم به لاتین)
دو شنبه ها

۱۲ جلسه
۲۱:۱۵ - ۲۰:۰۰
۳۵۰.۰۰۰



استاد سعید موساوند
زبان انگلیسی
سه شنبه ها از ۳۰ دی
جمعه ها از ۳ بهمن

۱۰ جلسه
۲۱:۱۵ - ۲۰:۰۰
۴۰۰.۰۰۰

۱۶:۳۰ - ۱۷:۴۵
۲۱:۱۵ - ۲۰:۰۰



استاد بهزاد اسداله
استاد حسین حسین زاده
المپیاد ریاضی
از ۲ آذر، یکشنبه ها

۱۵ جلسه
۲۱:۱۵ - ۲۰:۰۰
۴۵۰.۰۰۰



دکتر میثم کوهگرد
المپیاد فیزیک
از ۶ آذر
پنجشنبه ها

۱۵ جلسه
۲۱:۱۵ - ۲۰:۰۰
۴۵۰.۰۰۰



دکتر قربانی
المپیاد زیست شناسی
از ۴ آذر
سه شنبه ها

۱۵ جلسه
۱۹:۳۰ - ۱۸:۱۵
۴۵۰.۰۰۰

ثبت نام در سایت رسمی آکادمی تیزلاین
#تیزلاینی شو www.Tizline.ir

دوره سالانه شامل دو ترم ۱۲ جلسه ای با ویدیو قابل دانلود و جزوه قابل پرینت است.
دوره زبان فارسی تیز هوشان به صورت سالانه ۱۵ جلسه است.

آنلاین

☎ ۰۲۱ ۴۴۱۳ ۶۹۷۵

📍 ۰۹۳۳ ۳۸۴ ۰۲۰۲

✉ ۵۰۰۰۲۶۹۱۳۲۲۴

📷 mathmovie6

📷 Tizline.ir

برنامه کلاس های آکادمی تیزلاین: پایه نهم



استاد فرزاد تندرو
ترم دو دوره سالانه
ریاضی تیزهوشان نهم
از ۱ بهمن، چهارشنبه ها

۲۰:۱۵ - ۲۱:۱۵
۱۲ جلسه
۳۵۰.۰۰۰



استاد مسعود بیگدلی
ترم دو دوره سالانه
هوش و استعداد تحلیلی
از ۲ بهمن، پنجشنبه ها

۲۰:۱۵ - ۲۱:۱۵
۱۲ جلسه
۳۵۰.۰۰۰



دکتر قربانی
ترم دو دوره سالانه
علوم تیزهوشان نهم
از ۲۸ دی، یکشنبه ها

۲۰:۱۵ - ۲۱:۱۵
۱۲ جلسه
۳۵۰.۰۰۰



استاد مجید غلامی
دوره سالانه
از ۲۹ دی، دوشنبه ها

۲۰:۱۵ - ۲۱:۱۵
۱۰ جلسه
۳۰۰.۰۰۰



استاد پیمان لایق
از ۲۹ دی
ساینس (علوم به لاتین)
دوشنبه ها

۲۰:۱۵ - ۲۱:۱۵
۱۲ جلسه
۳۵۰.۰۰۰



استاد مهدی مهدی زاده
دوره سالانه
فارسی تیزهوشان نهم
از ۱ آذر، شنبه ها

۲۰:۱۵ - ۲۱:۱۵
۱۵ جلسه
۴۵۰.۰۰۰



استاد سعید موساوند
زبان انگلیسی
جمعه ها از ۳ بهمن
سه شنبه ها از ۳۰ دی

۱۶:۳۰ - ۱۷:۴۵
۲۰:۱۵ - ۲۱:۱۵
۱۰ جلسه
۴۰۰.۰۰۰



استاد بهزاد اسداله
استاد حسین حسین زاده
المپیاد ریاضی

از ۲ آذر، یکشنبه ها

۲۰:۱۵ - ۲۱:۱۵
۱۵ جلسه
۴۵۰.۰۰۰



دکتر میثم کوهگرد
المپیاد فیزیک
از ۶ آذر

۲۰:۱۵ - ۲۱:۱۵
۱۵ جلسه
۴۵۰.۰۰۰



دکتر قربانی
المپیاد زیست شناسی
از ۴ آذر

۱۸:۱۵ - ۱۹:۳۰
۱۵ جلسه
۴۵۰.۰۰۰

ثبت نام در سایت رسمی آکادمی تیزلاین

#تیزلاینی - شو www.Tizline.ir

دوره سالانه شامل دو ترم ۱۲ جلسه ای با ویدیو قابل دانلود و جزوه قابل پرینت است.

دوره زبان فارسی تیزهوشان به صورت سالانه ۱۵ جلسه است.

آنلاین

☎ ۰۲۱ ۴۴۱۳ ۶۹۷۵

📍 ۰۹۳۳ ۳۸۴ ۰۲۰۲

✉ ۵۰۰۰۲۶۹۱۳۲۴

برنامه کلاس های آکادمی تیزلاین:

پایه دهم



دکتر میثم کوهگرد
ترم دو دوره سالانه
فیزیک پیشرفته دهم
از ۲۹ دی ، دوشنبه ها

۱۲ جلسه ۲۱:۱۵ - ۲۰:۰۰
۳۵۰.۰۰۰



دکتر قربانی
ترم دو دوره سالانه
شیمی پیشرفته دهم
از ۲۷ دی، شنبه ها

۱۲ جلسه ۲۱:۱۵ - ۲۰:۰۰
۳۵۰.۰۰۰

تیزلاینی - شو



استاد فرزاد تندرو
ترم دو دوره سالانه
ریاضی پیشرفته دهم
از ۱ بهمن، چهار شنبه ها

۱۲ جلسه ۱۹:۳۰ - ۱۸:۱۵
۳۵۰.۰۰۰



دکتر قربانی
ترم دو دوره سالانه
زیست شناسی پیشرفته دهم
از ۳۰ دی، سه شنبه ها

۱۲ جلسه ۲۱:۱۵ - ۲۰:۰۰
۳۵۰.۰۰۰

ثبت نام در سایت رسمی آکادمی تیزلاین



www.Tizline.ir

دوره سالانه شامل دو ترم ۱۲ جلسه ای با ویدیو قابل دانلود و جزوه قابل پرینت است .

☎ ۰۲۱ ۴۴۱۳ ۶۹۷۵

📍 ۰۹۳۳ ۳۸۴ ۰۲۰۲

✉ ۵۰۰۰۲۶۹۱۳۲۴

📷 @mathmovie6

📷 Tizline.ir