



آکادمی آنلاین تیزلاین قوی ترین پلتفرم آموزشی تیز هوشان


برگزار کننده کلاس های آنلاین و حضوری تیز هوشان ✓

و المپیاد از پایه چهارم تا دوازدهم

آزمون های آنلاین و حضوری ✓

مشاوره تخصصی ✓

با اسکن QR کد روبرو
وارد صفحه اینستاگرام
آکادمی تیزلاین شو و از
محتواهای آموزشی
رایگان لذت ببر



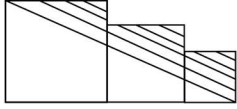
برای ورود به صفحه اصلی سایت آکادمی تیزلاین کلیک کنید

برای دانلود دفترچه آزمون های مختلف برای هر پایه کلیک کنید

برای مطالعه مقالات بروز آکادمی تیزلاین کلیک کنید

ریاضی ششم فصل پنج طول و سطح و مساحت دایره

۱. در شکل زیر سه مربع به ضلع‌های ۴، ۵ و ۶ سانتی‌متر در کنار هم قرار دارند. مساحت قسمت هاشورخورده برابر با کدام گزینه است؟

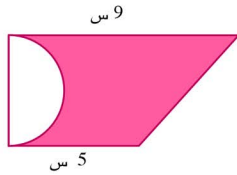


۱ $23cm^2$

۲ $52cm^2$

۳ $45cm^2$

۲. مساحت شکل روبه‌رو ۲۸ سانتی‌متر مربع است. مساحت قسمت هاشورخورده در کدام گزینه آمده است؟




۱ ۲۸۶

۲ ۱۴

۳ ۱۲,۵۶

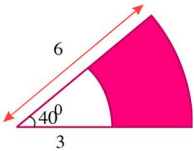
۳. در شکل مقابل نسبت اندازه‌ی مساحت قسمت رنگی به اندازه‌ی کل مساحت مربع برابر است با:



۱ ۰٫۵

۲ ۰٫۵۷

۳ ۰٫۵۳



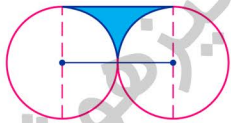
۴. مساحت قسمت رنگ شده را حساب کنید؟

۱ ۹٫۴۲

۲ ۱۲٫۵۶

۳ ۳٫۱۴

۵. در شکل مقابل، شعاع دایره‌های مساوی برابر ۳ سانتی‌متر می‌باشد. مساحت قسمت هاشورخورده چقدر است؟ ($\pi = 3$)




۱ ۳٫۵

۲ ۴٫۵

۳ ۶٫۵

۶. سارا می‌خواهد با مقوای رنگی و چسب، جعبه‌ای مکعب مستطیل شکل بسازد. او دو مستطیل (4×3) و دو مستطیل (6×3) بریده است. اکنون باید چند مستطیل و با چه ابعادی ببرد تا جعبه بسازد؟

۱ دو مستطیل (4×6) ۲ دو مستطیل (3×2) ۳ سه مستطیل (6×3) ۴ سه مستطیل (4×6)



۷. مساحت مربع روبه‌رو ۳۶ سانتی‌متر مربع است. مساحت دایره چقدر است؟

۱ $6 \times \pi$

۲ $9 \times \pi$

۳ $12 \times \pi$

۴ $36 \times \pi$

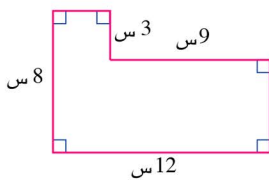
ریاضی ششم فصل پنجم طول و سطح و مساحت دایره

۸. محیط مربع $\frac{8}{4}$ سانتی متر است. اگر ضلع مربع $\frac{1}{5}$ برابر شود، مساحت آن چند برابر می شود؟

- ① ۰٫۰۴۰ ② ۰٫۰۲۴ ③ $\frac{2}{8}$ ④ ۰٫۴

۹. طول و عرض و ارتفاع مکعب مستطیلی به ترتیب ۴ دسی متر، ۵٫۵ سانتی متر و ۲۰ میلی متر است. مساحت کل آن چند سانتی متر مربع است؟

- ① ۴۴۰ ② ۵۱۲ ③ ۶۲۲ ④ ۷۴۴



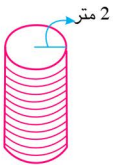
۱۰. مساحت شکل مقابل چند سانتی متر مربع است؟

- ① ۶۶ ② ۶۹ ③ ۸۱ ④ ۹۶

۱۱. طول مستطیلی را دو برابر و عرض آن را نصف می کنیم. مساحت چه تغییری می کند؟

- ① دو برابر می شود. ② تغییری نمی کند. ③ نصف می شود. ④ چهار برابر می شود.

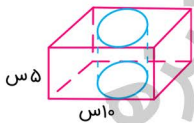
۱۲. طنابی را ۲۰ دور کنار هم دور این استوانه پیچیده ایم. طول طناب با تقریب کم تر از ۱۰ چند متر است؟



(شعاع استوانه ۲ متر است.)

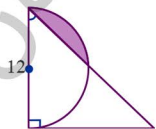
- ① ۲۵۰ متر ② ۲۵ متر ③ ۲۵۱ متر ④ ۳۰۰ متر

۱۳. از یک مکعب مستطیل توپُر، استوانه ای به قطر قاعده ۸ سانتی متر بیرون آورده ایم. مساحت کل شکل چند سانتی متر مربع است؟ (عدد پی را با تقریب کم تر از یک در نظر بگیرید.)



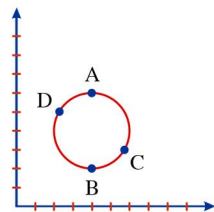
- ① ۴۶۰ ② ۳۶۴ ③ ۳۴۰ ④ ۲۴۴

۱۴. در شکل مقابل، مثلث قائم الزاویه متساوی الساقین است. مساحت قسمت رنگی چند سانتی متر مربع است؟ (عدد پی = ۳)



- ① ۱۸ ② ۱۳ ③ ۹ ④ ۴

۱۵. با توجه به شکل مساحت دایره کدام گزینه است؟



- ① ۲۸٫۲۶ ② ۱۲٫۵۶ ③ ۱۵٫۷ ④ ۱۹٫۶۲۵

آکادمی آموزشی تیزلاین >

ریاضی ششم فصل پنجم
طول و سطح و مساحت دایره

پاسخنامه کلیدی

۱ . ۴	۴ . ۱	۷ . ۲	۱۰ . ۲	۱۳ . ۲
۲ . ۴	۵ . ۲	۸ . ۱	۱۱ . ۲	۱۴ . ۳
۳ . ۲	۶ . ۱	۹ . ۳	۱۲ . ۱	۱۵ . ۲

مجری همایش کلاس و آزمون در سراسر کشور

با حضور اساتید برگزیده ی کشوری تیزهوشان و کنکور

@mathmovie6

@Tizline.ir

www.Tizline.ir

@tizline

۰۹۳۳ ۳۸۴ ۰۲۰۲

۵۰۰۰۲۶۹۱۳۲۴

۰۲۱ ۴۴۱۳ ۶۹۷۵

آکادمی آموزشی تیزلاین <

مجری همایش کلاس و آزمون در سراسر کشور

با حضور اساتید برگزیده ی کشوری تیزهوشان و کنکور



ششم

استاد مسعود بیگدلی
ترم دو دوره سالانه
ریاضی تیزهوشان
از ۲۹ دی ، دوشنبه ها
۱۶:۳۰ تا ۱۷:۴۵ | ۱۲ جلسه
۳۵۰.۰۰۰



استاد مسعود بیگدلی
ترم دو دوره سالانه
هوش و خلاقیت
از ۲۹ دی ، دوشنبه ها
۲۱:۱۵ - ۲۰:۰۰ | ۱۲ جلسه
۳۵۰.۰۰۰



ششم

دکتر قربانی
ترم دو دوره سالانه
علوم تیزهوشان
از ۱ بهمن ، چهارشنبه ها
۱۸:۱۵ - ۱۹:۳۰ | ۱۲ جلسه
۳۵۰.۰۰۰



ششم

استاد حسن ربانی
دوره سالانه
فارسی تیزهوشان
از ۱ آذر ، شنبه ها
۲۱:۱۵ - ۲۰:۰۰ | ۱۵ جلسه
۴۵۰.۰۰۰

برنامه کلاس های دوره ابتدایی آکادمی تیزلاین



پنجم

استاد وحید گوران
ترم دو دوره سالانه
ریاضی پیشرفت
از ۲۸ دی ، یکشنبه ها
۱۸:۱۵ - ۱۹:۳۰ | ۱۲ جلسه
۳۵۰.۰۰۰



استاد پیمان لایق
ترم دو دوره سالانه
ساینس (علوم به لاتین)
از ۲۹ دی ، دوشنبه ها
۲۱:۱۵ - ۲۰:۰۰ | ۱۲ جلسه
۳۵۰.۰۰۰ نفر



استاد سعید موساوند
زبان انگلیسی، ترم زمستان
سه شنبه ها از ۳۰ دی
۲۱:۱۵ - ۲۰:۰۰
جمعه ها از ۳ بهمن
۱۷:۴۵ - ۱۶:۳۰
۲۱:۱۵ - ۲۰:۰۰ | ۱۰ جلسه
۴۰۰.۰۰۰ نفر



چهارم

استاد وحید گوران
ترم دو دوره سالانه
ریاضی پیشرفت
از ۲۸ دی ، یکشنبه ها
۱۶:۳۰ - ۱۷:۴۵ | ۱۲ جلسه
۳۵۰.۰۰۰

تیزلاینی - شو

آزمون های آکادمی تیزلاین

شبیه سازترین
آزمون تیزهوشان

هشتم
۶+۱
مرحله

هفتم
۶+۱
مرحله

ششم
۱۰+۱
مرحله

پنجم
۸+۱
مرحله

چهارم
۱+۵
مرحله

نهم
۱۰+۱
مرحله

دهم
۷+۱
مرحله

چهارم تا دهم

با طراحی اساتید برجسته تیزهوشان کشور
استاد مسعود بیگدلی، استاد فرزاد تندرو، استاد میثم بهرامی
دکتر میثم کوهگرد، استاد مهدی مهدی زاده، دکتر قربانی و ...



آنلاین و حضوری
در نمایندگی ها

ثبت نام در سایت رسمی آکادمی تیزلاین

www.Tizline.ir | ۰۲۱ ۴۴۱۳ ۶۹۷۵ | ۰۹۳۳۳ ۳۸۴ ۰۲۰۲



www.Tizline.ir



@Bigbest23



۰۹۳۳۳ ۳۸۴ ۰۲۰۲



۵۰۰۰۲۶۹۱۳۲۴



۰۲۱ ۴۴۱۳ ۶۹۷۵

برنامه کلاس های آکادمی تیزلاین: پایه هفتم



دکتر قربانی
ترم دو دوره سالانه
علوم تیز هوشان هفتم
از ۱ بهمن، چهارشنبه ها
۱۲ جلسه ۲۱:۱۵ - ۲۰:۰۰
۳۵۰.۰۰۰



استاد مسعود بیگدلی
ترم دو دوره سالانه
هوش و استعداد تحلیلی
از ۲ بهمن، پنج شنبه ها
۱۲ جلسه ۲۱:۱۵ - ۲۰:۰۰
۳۵۰.۰۰۰



استاد مسعود بیگدلی
ترم دو دوره سالانه
ریاضی تیز هوشان هفتم
از ۲۹ دی، دوشنبه ها
۱۲ جلسه ۱۹:۳۰ - ۱۸:۱۵
۳۵۰.۰۰۰



استاد مجید غلامی
دوره سالانه
از ۲۹ دی، دوشنبه ها
۱۰ جلسه ۲۱:۱۵ - ۲۰:۰۰
۳۰۰.۰۰۰



استاد پیمان لایق
از ۲۹ دی
ساینس (علوم به لاتین)
دوشنبه ها
۱۲ جلسه ۲۱:۱۵ - ۲۰:۰۰
۳۵۰.۰۰۰



استاد سعید موسی وند
زبان انگلیسی
سه شنبه ها از ۳۰ دی
جمعه ها از ۳ بهمن
۱۷:۴۵ - ۱۶:۳۰
۲۱:۱۵ - ۲۰:۰۰
۱۰ جلسه ۴۰۰.۰۰۰



دکتر کاظم غریبی
دوره سالانه
فارسی تیز هوشان هفتم
از ۱ آذر، شنبه ها
۱۵ جلسه ۲۱:۱۵ - ۲۰:۰۰
۴۵۰.۰۰۰



استاد بهزاد اسداله
استاد حسین حسین زاده
المپیاد ریاضی
از ۲ آذر، یکشنبه ها
۱۵ جلسه ۲۱:۱۵ - ۲۰:۰۰
۴۵۰.۰۰۰



دکتر قربانی
المپیاد زیست شناسی
از ۴ آذر
سه شنبه ها
۱۵ جلسه ۱۹:۳۰ - ۱۸:۱۵
۴۵۰.۰۰۰



دکتر میثم کوهگرد
المپیاد فیزیک
از ۶ آذر
پنجشنبه ها
۱۵ جلسه ۲۱:۱۵ - ۲۰:۰۰
۴۵۰.۰۰۰

ثبت نام در سایت رسمی آکادمی تیزلاین

www.Tizline.ir

#تیزلاینی - شو

دوره سالانه شامل دو ترم ۱۲ جلسه ای با ویدیو قابل دانلود و جزوه قابل پرینت است.
دوره زبان فارسی تیز هوشان به صورت سالانه ۱۵ جلسه است.

آنلاین

☎ ۰۲۱ ۴۴۱۳ ۶۹۷۵

📍 ۰۹۳۳ ۳۸۴ ۰۲۰۲

✉ ۵۰۰۰۲۶۹۱۳۲۴

برنامه کلاس های آکادمی تیزلاین: پایه هشتم



دکتر قربانی
ترم دو دوره سالانه
علوم تیز هوشان هشتم
از ۲۸ دی، یکشنبه ها
۱۲ جلسه
۱۹:۳۰ - ۱۸:۱۵
۳۵۰.۰۰۰



استاد مسعود بیگدلی
ترم دو دوره سالانه
هوش و استعداد تحلیلی
از ۲ بهمن، پنجشنبه ها
۱۲ جلسه
۲۱:۱۵ - ۲۰:۰۰
۳۵۰.۰۰۰



استاد میثم بهرامی جویا
ترم دو دوره سالانه
ریاضی تیز هوشان هشتم
از ۱ بهمن، چهارشنبه ها
۱۲ جلسه
۲۱:۱۵ - ۲۰:۰۰
۳۵۰.۰۰۰



استاد مهدی مهدی زاده
دوره سالانه
فارسی تیز هوشان هشتم
از ۱ آذر، شنبه ها
۱۵ جلسه
۱۹:۳۰ - ۱۸:۱۵
۴۵۰.۰۰۰



استاد پیمان لایق
از ۲۹ دی
ساینس (علوم به لاتین)
دو شنبه ها
۱۲ جلسه
۲۱:۱۵ - ۲۰:۰۰
۳۵۰.۰۰۰



استاد سعید موساوند
زبان انگلیسی
سه شنبه ها از ۳۰ دی
جمعه ها از ۳ بهمن
۱۷:۴۵ - ۱۶:۳۰
۲۱:۱۵ - ۲۰:۰۰
۱۰ جلسه
۴۰۰.۰۰۰



استاد بهزاد اسداله
استاد حسین حسین زاده
المپیاد ریاضی
از ۲ آذر، یکشنبه ها
۱۵ جلسه
۲۱:۱۵ - ۲۰:۰۰
۴۵۰.۰۰۰



دکتر میثم کوهگرد
المپیاد فیزیک
از ۶ آذر
پنجشنبه ها
۱۵ جلسه
۲۱:۱۵ - ۲۰:۰۰
۴۵۰.۰۰۰



دکتر قربانی
المپیاد زیست شناسی
از ۴ آذر
سه شنبه ها
۱۵ جلسه
۱۹:۳۰ - ۱۸:۱۵
۴۵۰.۰۰۰

ثبت نام در سایت رسمی آکادمی تیزلاین
#تیزلاینی_شو www.Tizline.ir

دوره سالانه شامل دو ترم ۱۲ جلسه ای با ویدیو قابل دانلود و جزوه قابل پرینت است.
دوره زبان فارسی تیز هوشان به صورت سالانه ۱۵ جلسه است.

آنلاین

☎ ۰۲۱ ۴۴۱۳ ۶۹۷۵


📍 ۰۹۳۳ ۳۸۴ ۰۲۰۲

✉ ۵۰۰۰۲۶۹۱۳۲۴

📷 mathmovie6

📷 Tizline.ir


برنامه کلاس های آکادمی تیزلاین: پایه نهم



استاد فرزاد تندرو
ترم دو دوره سالانه
ریاضی تیزهوشان نهم
از ۱ بهمن، چهارشنبه ها
۲۱:۱۵ - ۲۰:۰۰
۱۲ جلسه
۳۵۰.۰۰۰




استاد مسعود بیگدلی
ترم دو دوره سالانه
هوش و استعداد تحلیلی
از ۲ بهمن، پنجشنبه ها
۲۱:۱۵ - ۲۰:۰۰
۱۲ جلسه
۳۵۰.۰۰۰



دکتر قربانی
ترم دو دوره سالانه
علوم تیزهوشان نهم
از ۲۸ دی، یکشنبه ها
۲۱:۱۵ - ۲۰:۰۰
۱۲ جلسه
۳۵۰.۰۰۰



استاد مجید غلامی
دوره سالانه
از ۲۹ دی، دوشنبه ها
۲۱:۱۵ - ۲۰:۰۰
۱۰ جلسه
۳۰۰.۰۰۰



استاد پیمان لایق
از ۲۹ دی
ساینس (علوم به لاتین)
دوشنبه ها
۲۱:۱۵ - ۲۰:۰۰
۱۲ جلسه
۳۵۰.۰۰۰



استاد سعید موساوند
زبان انگلیسی
جمعه ها از ۳ بهمن
۱۷:۴۵ - ۱۶:۳۰
۲۱:۱۵ - ۲۰:۰۰
۱۰ جلسه
۴۰۰.۰۰۰




استاد مهدی مهدی زاده
دوره سالانه
فارسی تیزهوشان نهم
از ۱ آذر، شنبه ها
۲۱:۱۵ - ۲۰:۰۰
۱۵ جلسه
۴۵۰.۰۰۰



استاد بهزاد اسداله
استاد حسین حسین زاده
المپیاد ریاضی
از ۲ آذر، یکشنبه ها
۲۱:۱۵ - ۲۰:۰۰
۱۵ جلسه
۴۵۰.۰۰۰



دکتر قربانی
المپیاد زیست شناسی
از ۴ آذر
سه شنبه ها
۱۹:۳۰ - ۱۸:۱۵
۱۵ جلسه
۴۵۰.۰۰۰



دکتر میثم کوهگرد
المپیاد فیزیک
از ۶ آذر
پنجشنبه ها
۲۱:۱۵ - ۲۰:۰۰
۱۵ جلسه
۴۵۰.۰۰۰

ثبت نام در سایت رسمی آکادمی تیزلاین

#تیزلاینی - شو www.Tizline.ir

دوره سالانه شامل دو ترم ۱۲ جلسه ای با ویدیو قابل دانلود و جزوه قابل پرینت است.
دوره زبان فارسی تیزهوشان به صورت سالانه ۱۵ جلسه است.

آنلاین

☎ ۰۲۱ ۴۴۱۳ ۶۹۷۵ 📍 ۰۹۳۳ ۳۸۴ ۰۲۰۲ ✉ ۵۰۰۰۲۶۹۱۳۲۴

برنامه کلاس های آکادمی تیزلاین:

پایه دهم



دکتر میثم کوهگرد
ترم دو دوره سالانه
فیزیک پیشرفته دهم
از ۲۹ دی ، دوشنبه ها

۱۲ جلسه ۲۱:۱۵ - ۲۰:۰۰
۳۵۰.۰۰۰



دکتر قربانی
ترم دو دوره سالانه
شیمی پیشرفته دهم
از ۲۷ دی، شنبه ها

۱۲ جلسه ۲۱:۱۵ - ۲۰:۰۰
۳۵۰.۰۰۰

تیزلاینی - شو



استاد فرزاد تندرو
ترم دو دوره سالانه
ریاضی پیشرفته دهم
از ۱ بهمن، چهار شنبه ها

۱۲ جلسه ۱۹:۳۰ - ۱۸:۱۵
۳۵۰.۰۰۰



دکتر قربانی
ترم دو دوره سالانه
زیست شناسی پیشرفته دهم
از ۳۰ دی، سه شنبه ها

۱۲ جلسه ۲۱:۱۵ - ۲۰:۰۰
۳۵۰.۰۰۰

ثبت نام در سایت رسمی آکادمی تیزلاین



www.Tizline.ir

دوره سالانه شامل دو ترم ۱۲ جلسه ای با ویدیو قابل دانلود و جزوه قابل پرینت است .

☎ ۰۲۱ ۴۴۱۳ ۶۹۷۵

📍 ۰۹۳۳ ۳۸۴ ۰۲۰۲

✉ ۵۰۰۰۲۶۹۱۳۲۴

📷 @mathmovie6

📷 Tizline.ir