



آکادمی آنلاین تیزلاین قوی ترین پلتفرم آموزشی تیز هوشان


برگزار کننده کلاس های آنلاین و حضوری تیز هوشان ✓

و المپیاد از پایه چهارم تا دوازدهم

آزمون های آنلاین و حضوری ✓

مشاوره تخصصی ✓

با اسکن QR کد روبرو
وارد صفحه اینستاگرام
آکادمی تیزلاین شو و از
محتواهای آموزشی
رایگان لذت ببر



برای ورود به صفحه اصلی سایت آکادمی تیزلاین کلیک کنید

برای دانلود دفترچه آزمون های مختلف برای هر پایه کلیک کنید

برای مطالعه مقالات بروز آکادمی تیزلاین کلیک کنید

ریاضی ششم فصل چهار مرکز تقارن و تقارن مرکزی

۱. کدام یک از گزینه‌های زیر نادرست است؟

- ۱ یک لوزی حداقل دو محور تقارن دارد.
 ۲ یک مثلث حداکثر سه محور تقارن دارد.
 ۳ یک دوزنقه حداکثر یک محور تقارن دارد.
 ۴ یک متوازی‌الاضلاع حداقل یک محور تقارن دارد.

۲. کدام یک از شکل‌های زیر فقط یک خط تقارن دارد؟



۳. تعداد محورهای تقارن کدام یک از شکل‌های زیر، کم‌تر است؟

- ۱ مستطیل
 ۲ دوزنقه متساوی‌الساقین
 ۳ مربع
 ۴ متوازی‌الاضلاع

۴. کدام یک از شکل‌های زیر بیش از دو خط تقارن دارد. ولی مرکز تقارن ندارد؟

- ۱ متوازی‌الاضلاع
 ۲ مربع
 ۳ پنج ضلعی منتظم
 ۴ شش ضلعی منتظم

۵. کدام شکل بیش‌ترین مقدار رنگ آمیزی را می‌خواهد تا دارای تقارن مرکزی شود؟



۶. کدام شکل مرکز تقارن ندارد؟

- ۱ مربع
 ۲ مثلث متساوی‌الاضلاع
 ۳ مستطیل
 ۴ لوزی

۷. کدام یک از تصویرهای زیر مرکز تقارن ندارد؟

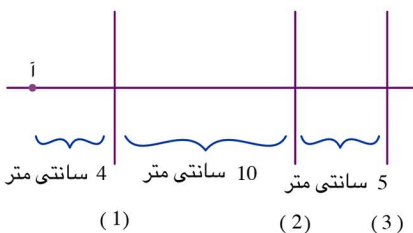


۸. سه خط عمودی ۱، ۲، ۳ که در آن فاصله‌ی خط ۱ از ۲، ۱۰ سانتی‌متر و فاصله‌ی خط ۲ از ۳، ۵ سانتی‌متر است

را در نظر بگیرید. ابتدا قرینه‌ی نقطه‌ی آ که فاصله‌اش تا خط (۱)، ۴ سانتی‌متر است را نسبت به خط (۱)

بدست آورده و نقطه‌ی (ب) می‌نامیم و سپس قرینه‌ی نقطه‌ی ب را نسبت به خط ۲ بدست آورده و نقطه‌ی (ج)

می‌نامیم. نقطه‌ی م یعنی قرینه‌ی نقطه‌ی (ج) نسبت به خط ۳ تا نقطه‌ی (آ) چند سانتی‌متر فاصله دارد؟



- ۱ ۳۲ سانتی‌متر
 ۲ ۲۲ سانتی‌متر
 ۳ ۲۰ سانتی‌متر
 ۴ ۱۸ سانتی‌متر

ریاضی ششم فصل چهار مرکز تقارن و تقارن مرکزی

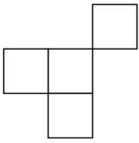
۹. کدام یک از شکل‌های زیر مرکز تقارن ندارند؟

- ۱ دایره ۲ مثلث متساوی‌الاضلاع ۳ متوازی‌الاضلاع ۴ لوزی

۱۰. کدام شکل محور تقارن ندارد؛ اما مرکز تقارن دارد؟

- ۱ مربع ۲ مستطیل ۳ مثلث متساوی‌الاضلاع ۴ متوازی‌الاضلاع

۱۱. در شکل مقابل می‌خواهیم حداقل یکی از خانه‌ها را رنگ بزنیم طوری که شکل فقط یک محور تقارن داشته باشد. به چند طریق می‌توان این کار را انجام داد؟



- ۱ ۲ ۲ ۴
۳ ۶ ۴ ۷

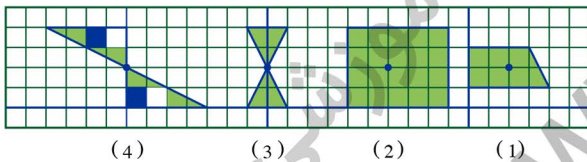
۱۲. در یک صفحه دو دایره با شعاع‌های نامساوی رسم می‌کنیم تا یک شکل ایجاد شود. این شکل حداقل و حداکثر چند محور تقارن دارد؟

- ۱ صفر - بی‌شمار ۲ یک - چهار ۳ یک - بی‌شمار ۴ صفر - چهار

۱۳. مرکز تقارن مربع در کجا قرار دارد؟

- ۱ روی طول آن ۲ روی عرض آن ۳ محل برخورد قطرهای ۴ هیچ‌کدام

۱۴. در کدام یک از شکل‌های زیر، نقطه مشخص شده مرکز تقارن شکل است؟



- ۱ ۱ ۲ ۲
۳ ۳ ۴ ۴

۱۵. حرف H تقارن محوری دارد یعنی با کشیدن خط تقارن، دو طرف آن بطور کامل روی هم قرار می‌گیرند.

چند حرف از حروف بزرگ الفبای انگلیسی، تقارن محوری دارند؟

- ۱ ۱۲ ۲ ۱۴ ۳ ۱۶ ۴ ۱۵

آکادمی آموزشی تیزلاین >

ریاضی ششم فصل چهار
مرکز تقارن و تقارن مرکزی

پاسخنامه کلیدی

۱ . ۴	۴ . ۳	۷ . ۴	۱۰ . ۴	۱۳ . ۳
۲ . ۳	۵ . ۲	۸ . ۴	۱۱ . ۴	۱۴ . ۳
۳ . ۴	۶ . ۲	۹ . ۲	۱۲ . ۳	۱۵ . ۴

مجری همایش کلاس و آزمون در سراسر کشور

با حضور اساتید برگزیده ی کشوری تیزهوشان و کنکور

@mathmovie6

Tizline.ir

www.Tizline.ir

@tizline

۰۹۳۳ ۳۸۴ ۰۲۰۲

۵۰۰۰۲۶۹۱۳۲۴

۰۲۱ ۴۴۱۳ ۶۹۷۵

آکادمی آموزشی تیزلاین

مجری همایش کلاس و آزمون در سراسر کشور

با حضور اساتید برگزیده ی کشوری تیزهوشان و کنکور



ششم

استادمسعودبیگدلی
ترم دو دوره سالانه
ریاضی تیزهوشان
از ۲۹ دی ، دوشنبه ها
۱۶:۳۰ تا ۱۷:۴۵ ۱۲ جلسه
۳۵۰.۰۰۰



استادمسعودبیگدلی
ترم دو دوره سالانه
هوش و خلاقیت
از ۲۹ دی ، دوشنبه ها
۲۱:۱۵ - ۲۰:۰۰ ۱۲ جلسه
۳۵۰.۰۰۰



ششم

دکتر قربانی
ترم دو دوره سالانه
علوم تیزهوشان
از ۱ بهمن ، چهارشنبه ها
۱۸:۱۵ - ۱۹:۳۰ ۱۲ جلسه
۳۵۰.۰۰۰



ششم

استادحسن ربانی
دوره سالانه
فارسی تیزهوشان
از ۱ آذر ، شنبه ها
۲۱:۱۵ - ۲۰:۰۰ ۱۵ جلسه
۴۵۰.۰۰۰

برنامه کلاس های دوره ابتدایی آکادمی تیزلاین



پنجم

استاد وحید گوران
ترم دو دوره سالانه
ریاضی پیشرفت
از ۲۸ دی ، یکشنبه ها
۱۸:۱۵ - ۱۹:۳۰ ۱۲ جلسه
۳۵۰.۰۰۰



استاد پیمان لایق
ترم دو دوره سالانه
ساینس (علوم به لاتین)
از ۲۹ دی ، دوشنبه ها
۲۱:۱۵ - ۲۰:۰۰ ۱۲ جلسه
۳۵۰.۰۰۰
ظرفیت ۱۵ نفر



استاد سعید موساوند
زبان انگلیسی، ترم زمستان
سه شنبه ها از ۳۰ دی
۲۱:۱۵ - ۲۰:۰۰
جمعه ها از ۳ بهمن
۱۷:۴۵ - ۱۶:۳۰
۲۱:۱۵ - ۲۰:۰۰ ۱۰ جلسه
۴۰۰.۰۰۰
ظرفیت هر گروه: ۱۰ نفر



چهارم

استاد وحید گوران
ترم دو دوره سالانه
ریاضی پیشرفت
از ۲۸ دی ، یکشنبه ها
۱۶:۳۰ - ۱۷:۴۵ ۱۲ جلسه
۳۵۰.۰۰۰

تیزلاینی - شو

آزمون های آکادمی تیزلاین

شبیه سازترین
آزمون تیزهوشان

هشتم
۶+۱
مرحله

هفتم
۶+۱
مرحله

ششم
۱۰+۱
مرحله

پنجم
۸+۱
مرحله

چهارم
۱+۵
مرحله

نهم
۱۰+۱
مرحله

دهم
۷+۱
مرحله

چهارم تا دهم

با طراحی اساتید برجسته تیزهوشان کشور
استادمسعودبیگدلی، استاد فرزاد تندرو، استاد میثم بهرامی
دکتر میثم کوهگرد، استاد مهدی مهدی زاده، دکتر قربانی و ...



آنلاین و حضوری
در نمایندگی ها

ثبت نام در سایت رسمی آکادمی تیزلاین

www.Tizline.ir ۰۲۱ ۴۴۱۳ ۶۹۷۵ ۰۹۳۳۳ ۳۸۴ ۰۲۰۲



www.Tizline.ir



@Bigbest23



۰۹۳۳۳ ۳۸۴ ۰۲۰۲



۵۰۰۰۲۶۹۱۳۲۴



۰۲۱ ۴۴۱۳ ۶۹۷۵

برنامه کلاس های آکادمی تیزلاین: پایه هفتم



دکتر قربانی
ترم دو دوره سالانه
علوم تیز هوشان هفتم
از ۱ بهمن، چهارشنبه ها
۱۲ جلسه ۲۱:۱۵ - ۲۰:۰۰
۳۵۰.۰۰۰



استاد مسعود بیگدلی
ترم دو دوره سالانه
هوش و استعداد تحلیلی
از ۲ بهمن، پنج شنبه ها
۱۲ جلسه ۲۱:۱۵ - ۲۰:۰۰
۳۵۰.۰۰۰



استاد مسعود بیگدلی
ترم دو دوره سالانه
ریاضی تیز هوشان هفتم
از ۲۹ دی، دوشنبه ها
۱۲ جلسه ۱۹:۳۰ - ۱۸:۱۵
۳۵۰.۰۰۰



استاد مجید غلامی
دوره سالانه
از ۲۹ دی، دوشنبه ها
۱۰ جلسه ۲۱:۱۵ - ۲۰:۰۰
۳۰۰.۰۰۰



استاد پیمان لایق
از ۲۹ دی
ساینس (علوم به لاتین)
دوشنبه ها
۱۲ جلسه ۲۱:۱۵ - ۲۰:۰۰
۳۵۰.۰۰۰



استاد سعید موسی وند
زبان انگلیسی
سه شنبه ها از ۳۰ دی
جمعه ها از ۳ بهمن
۱۷:۴۵ - ۱۶:۳۰
۲۱:۱۵ - ۲۰:۰۰
۱۰ جلسه ۴۰۰.۰۰۰



دکتر کاظم غریبی
دوره سالانه
فارسی تیز هوشان هفتم
از ۱ آذر، شنبه ها
۱۵ جلسه ۲۱:۱۵ - ۲۰:۰۰
۴۵۰.۰۰۰



دکتر میثم کوهگرد
المپیاد فیزیک
از ۶ آذر
پنج شنبه ها
۱۵ جلسه ۲۱:۱۵ - ۲۰:۰۰
۴۵۰.۰۰۰



استاد بهزاد اسدالله
استاد حسین حسین زاده
المپیاد ریاضی
از ۲ آذر، یک شنبه ها
۱۵ جلسه ۲۱:۱۵ - ۲۰:۰۰
۴۵۰.۰۰۰



دکتر قربانی
المپیاد زیست شناسی
از ۴ آذر
سه شنبه ها
۱۵ جلسه ۱۹:۳۰ - ۱۸:۱۵
۴۵۰.۰۰۰

تیز لاینی - شو

ثبت نام در سایت رسمی آکادمی تیز لاین

www.Tizline.ir

دوره سالانه شامل دو ترم ۱۲ جلسه ای با ویدیو قابل دانلود و جزوه قابل پرینت است.
دوره زبان فارسی تیز هوشان به صورت سالانه ۱۵ جلسه است.

آنلاین

☎ ۰۲۱ ۴۴۱۳ ۶۹۷۵

📍 ۰۹۳۳ ۳۸۴ ۰۲۰۲

✉ ۵۰۰۰۲۶۹۱۳۲۴

برنامه کلاس های آکادمی تیزلاین: پایه هشتم



دکتر قربانی
ترم دو دوره سالانه
علوم تیز هوشان هشتم
از ۲۸ دی، یکشنبه ها
۱۸:۱۵ - ۱۹:۳۰
۱۲ جلسه
۳۵۰.۰۰۰



استاد مسعود بیگدلی
ترم دو دوره سالانه
هوش و استعداد تحلیلی
از ۲ بهمن، پنجشنبه ها
۲۰:۰۰ - ۲۱:۱۵
۱۲ جلسه
۳۵۰.۰۰۰



استاد میثم بهرامی جویا
ترم دو دوره سالانه
ریاضی تیز هوشان هشتم
از ۱ بهمن، چهارشنبه ها
۲۰:۰۰ - ۲۱:۱۵
۱۲ جلسه
۳۵۰.۰۰۰



استاد مهدی مهدی زاده
دوره سالانه
فارسی تیز هوشان هشتم
از ۱ آذر، شنبه ها
۱۸:۱۵ - ۱۹:۳۰
۱۵ جلسه
۴۵۰.۰۰۰



استاد پیمان لایق
از ۲۹ دی
ساینس (علوم به لاتین)
دو شنبه ها
۲۰:۰۰ - ۲۱:۱۵
۱۲ جلسه
۳۵۰.۰۰۰



استاد سعید موساوند
زبان انگلیسی
سه شنبه ها از ۳۰ دی
جمعه ها از ۳ بهمن
۲۰:۰۰ - ۲۱:۱۵
۱۶:۳۰ - ۱۷:۴۵
۲۰:۰۰ - ۲۱:۱۵
۱۰ جلسه
۴۰۰.۰۰۰



استاد بهزاد اسداله
استاد حسین حسین زاده
المپیاد ریاضی
از ۲ آذر، یکشنبه ها
۲۰:۰۰ - ۲۱:۱۵
۱۵ جلسه
۴۵۰.۰۰۰



دکتر میثم کوهگرد
المپیاد فیزیک
از ۶ آذر
پنجشنبه ها
۲۰:۰۰ - ۲۱:۱۵
۱۵ جلسه
۴۵۰.۰۰۰



دکتر قربانی
المپیاد زیست شناسی
از ۴ آذر
سه شنبه ها
۱۸:۱۵ - ۱۹:۳۰
۱۵ جلسه
۴۵۰.۰۰۰

ثبت نام در سایت رسمی آکادمی تیزلاین
#تیزلاینی_شو www.Tizline.ir

دوره سالانه شامل دو ترم ۱۲ جلسه ای با ویدیو قابل دانلود و جزوه قابل پرینت است.
دوره زبان فارسی تیز هوشان به صورت سالانه ۱۵ جلسه است.

آنلاین

☎ ۰۲۱ ۴۴۱۳ ۶۹۷۵

📍 ۰۹۳۳ ۳۸۴ ۰۲۰۲

✉ ۵۰۰۰۲۶۹۱۳۲۲۴

📷 @mathmovie6

📷 Tizline.ir

برنامه کلاس های آکادمی تیزلاین: پایه نهم



استاد فرزاد تندرو
ترم دو دوره سالانه
ریاضی تیزهوشان نهم
از ۱ بهمن، چهارشنبه ها

۲۰:۱۵ - ۲۱:۱۵
۱۲ جلسه
۳۵۰.۰۰۰



استاد مسعود بیگدلی
ترم دو دوره سالانه
هوش و استعداد تحلیلی
از ۲ بهمن، پنجشنبه ها

۲۰:۱۵ - ۲۱:۱۵
۱۲ جلسه
۳۵۰.۰۰۰



دکتر قربانی
ترم دو دوره سالانه
علوم تیزهوشان نهم
از ۲۸ دی، یکشنبه ها

۲۰:۱۵ - ۲۱:۱۵
۱۲ جلسه
۳۵۰.۰۰۰



استاد مجید غلامی
دوره سالانه
از ۲۹ دی، دوشنبه ها

۲۰:۱۵ - ۲۱:۱۵
۱۰ جلسه
۳۰۰.۰۰۰



استاد پیمان لایق
از ۲۹ دی
ساینس (علوم به لاتین)
دوشنبه ها

۲۰:۱۵ - ۲۱:۱۵
۱۲ جلسه
۳۵۰.۰۰۰



استاد مهدی مهدی زاده
دوره سالانه
فارسی تیزهوشان نهم
از ۱ آذر، شنبه ها

۲۰:۱۵ - ۲۱:۱۵
۱۵ جلسه
۴۵۰.۰۰۰



استاد سعید موساوند
زبان انگلیسی
جمعه ها از ۳ بهمن
سه شنبه ها از ۳۰ دی

۱۷:۴۵ - ۱۶:۳۰
۲۱:۱۵ - ۲۰:۰۰
۱۰ جلسه
۴۰۰.۰۰۰



استاد بهزاد اسداله
استاد حسین حسین زاده
المپیاد ریاضی

از ۲ آذر، یکشنبه ها

۲۰:۱۵ - ۲۱:۱۵
۱۵ جلسه
۴۵۰.۰۰۰



دکتر میثم کوهگرد
المپیاد فیزیک
از ۶ آذر

۲۰:۱۵ - ۲۱:۱۵
۱۵ جلسه
۴۵۰.۰۰۰



دکتر قربانی
المپیاد زیست شناسی
از ۴ آذر

۱۸:۱۵ - ۱۹:۳۰
۱۵ جلسه
۴۵۰.۰۰۰

ثبت نام در سایت رسمی آکادمی تیزلاین

#تیزلاینی - شو www.Tizline.ir

دوره سالانه شامل دو ترم ۱۲ جلسه ای با ویدیو قابل دانلود و جزوه قابل پرینت است.

دوره زبان فارسی تیزهوشان به صورت سالانه ۱۵ جلسه است.

آنلاین

☎ ۰۲۱ ۴۴۱۳ ۶۹۷۵

📍 ۰۹۳۳ ۳۸۴ ۰۲۰۲

✉ ۵۰۰۰۲۶۹۱۳۲۴

برنامه کلاس های آکادمی تیزلاین:

پایه دهم



دکتر میثم کوهگرد
ترم دو دوره سالانه
فیزیک پیشرفته دهم
از ۲۹ دی، دوشنبه ها

۲۰:۰۰ - ۲۱:۱۵
۱۲ جلسه
۳۵۰.۰۰۰



دکتر قربانی
ترم دو دوره سالانه
شیمی پیشرفته دهم
از ۲۷ دی، شنبه ها

۲۰:۰۰ - ۲۱:۱۵
۱۲ جلسه
۳۵۰.۰۰۰

تیزلاینی - شو



استاد فرزاد تندرو
ترم دو دوره سالانه
ریاضی پیشرفته دهم
از ۱ بهمن، چهارشنبه ها

۱۸:۱۵ - ۱۹:۳۰
۱۲ جلسه
۳۵۰.۰۰۰



دکتر قربانی
ترم دو دوره سالانه
زیست شناسی پیشرفته دهم
از ۳۰ دی، سه شنبه ها

۲۰:۰۰ - ۲۱:۱۵
۱۲ جلسه
۳۵۰.۰۰۰

ثبت نام در سایت رسمی آکادمی تیزلاین



www.Tizline.ir

دوره سالانه شامل دو ترم ۱۲ جلسه ای با ویدیو قابل دانلود و جزوه قابل پرینت است.

☎ ۰۲۱ ۴۴۱۳ ۶۹۷۵

📍 ۰۹۳۳ ۳۸۴ ۰۲۰۲

✉ ۵۰۰۰۲۶۹۱۳۲۴

📷 @mathmovie6

📷 Tizline.ir