



# آکادمی آنلاین تیزلاین قوی ترین پلتفرم آموزشی تیز هوشان

برگزار کننده کلاس های آنلاین و حضوری تیز هوشان ✓

و المپیاد از پایه چهارم تا دوازدهم

آزمون های آنلاین و حضوری ✓

مشاوره تخصصی ✓

با اسکن QR کد روبرو  
وارد صفحه اینستاگرام  
آکادمی تیزلاین شو و از  
محتواهای آموزشی  
رایگان لذت ببر

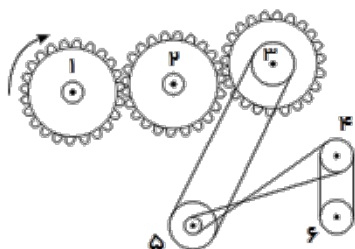


برای ورود به صفحه اصلی سایت آکادمی تیزلاین کلیک کنید

برای دانلود دفترچه آزمون های مختلف برای هر پایه کلیک کنید

برای مطالعه مقالات بروز آکادمی تیزلاین کلیک کنید





۱. کدام یک از چرخ‌های شماره‌گذاری شده، در یک جهت می‌چرخند؟

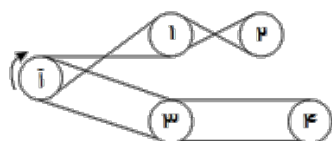
۱ و ۲

۱ و ۳

۳ و ۴

۲ و ۳

۲. چرخ‌های ۱، ۲، ۳ و ۴ با تسمه به چرخ (آ) متصل‌اند. وقتی چرخ (آ) در جهت نشان داده شده بچرخد، کدام یک از چرخ‌ها در جهت مخالف آن می‌چرخد؟



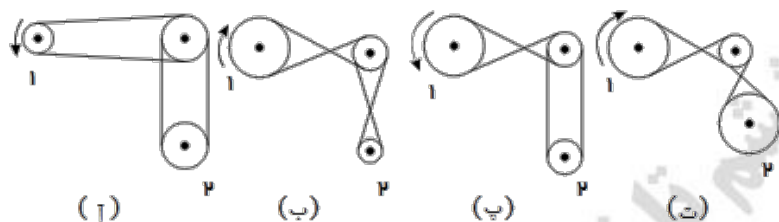
۲

۱

۴

۳

۳. اگر چرخ‌های شماره ۱ در جهت مشخص شده بچرخند، کدام چرخ شماره ۲ به طور ساعتگرد و از همه تندتر خواهد چرخید؟



چرخید؟

۱

۲

۳

۴

۴. در شکل زیر چرخ دنده ی «آ» به یک موتور الکتریکی متصل است و با چرخش آن چرخ دنده های «ب» و «پ» نیز به چرخش در می‌آیند و وزنه بالا یا پایین می‌رود. اگر وزنه در حال بالا رفتن باشد، جهت چرخش چرخ دنده های «آ» و «ب» به ترتیب از راست به چپ کدام است؟

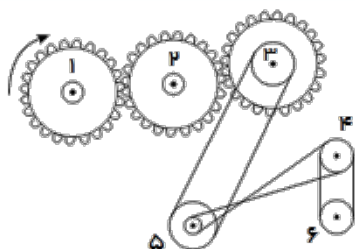


۱ جهت عقربه‌های ساعت، خلاف جهت عقربه‌های ساعت

۲ خلاف جهت عقربه‌های ساعت، خلاف جهت عقربه‌های ساعت

۳ جهت عقربه‌های ساعت، جهت عقربه‌های ساعت

۴ خلاف جهت عقربه‌های ساعت، جهت عقربه‌های ساعت



۱. کدام یک از چرخ‌های شماره‌گذاری شده، در یک جهت می‌چرخند؟

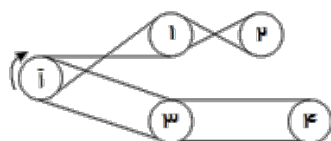
۱ و ۲

۱ و ۳

۳ و ۴

۲ و ۳

۲. چرخ‌های ۱، ۲، ۳ و ۴ با تسمه به چرخ (آ) متصل‌اند. وقتی چرخ (آ) در جهت نشان داده شده بچرخد، کدام یک از چرخ‌ها در جهت مخالف آن می‌چرخد؟



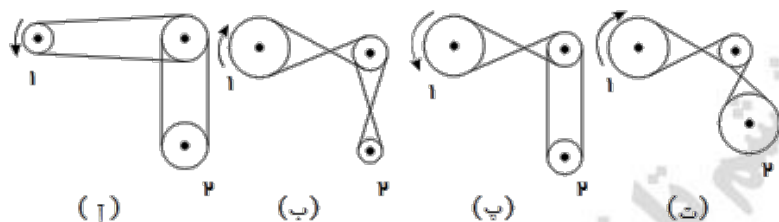
۲

۱

۴

۳

۳. اگر چرخ‌های شماره ۱ در جهت مشخص شده بچرخند، کدام چرخ شماره ۲ به طور ساعتگرد و از همه تندتر خواهد چرخید؟



چرخید؟

۱

۲

۳

۴

۴. در شکل زیر چرخ دنده ی «آ» به یک موتور الکتریکی متصل است و با چرخش آن چرخ دنده های «ب» و «پ» نیز به چرخش در می‌آیند و وزنه بالا یا پایین می‌رود. اگر وزنه در حال بالا رفتن باشد، جهت چرخش چرخ دنده های «آ» و «ب» به ترتیب از راست به چپ کدام است؟



۱ جهت عقربه‌های ساعت، خلاف جهت عقربه‌های ساعت


۲ خلاف جهت عقربه‌های ساعت، خلاف جهت عقربه‌های ساعت

۳ جهت عقربه‌های ساعت، جهت عقربه‌های ساعت

۴ خلاف جهت عقربه‌های ساعت، جهت عقربه‌های ساعت

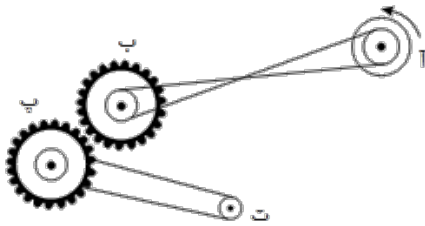


۵. اگر تسمه دندانه‌دار (ب) با سرعت ثابت به سمت چپ حرکت کند، تسمه دندانه‌دار (آ) چگونه حرکت می‌کند؟



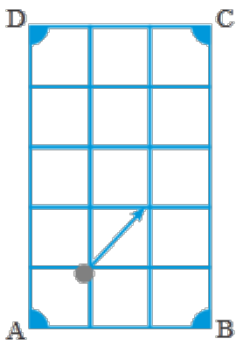
- ۱ با سرعت یکسان و به سمت چپ  
۲ کندتر و به سمت چپ  
۳ با سرعت یکسان و به سمت راست  
۴ کندتر و به سمت راست

۶. کدام چرخ یا چرخ‌ها در جهت حرکت چرخ (آ) می‌چرخد؟



- ۱ ت، پ  
۲ پ  
۳ ت  
۴ ت، ب

۷. در یک میز بیلیارد، با زاویه  $45^\circ$  به توپ از نقطه A ضربه می‌زنیم. مقصد نهایی توپ کجاست؟



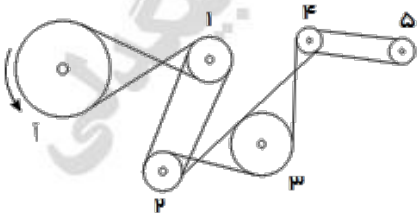
- ۱ D  
۲ A  
۳ B  
۴ C

۸. اتوبوس شرکت واحد زیر، در تهران مشاهده شده است. این اتوبوس در کدام جهت حرکت می‌کند؟




- ۱ چپ  
۲ راست  
۳ شمال شرقی  
۴ شمال غربی


۹. کدام یک از چرخ‌ها در جهت موافق چرخ (آ) می‌چرخد؟



- ۱ ۲  
۲ ۴  
۳ ۵  
۴ ۳

۱۰. با خطکشی به شکل  می‌توان اندازه‌های ۱ تا ۶ را مستقیماً اندازه‌گیری کرد. با کدام

خطکش زیر می‌توان به‌طور مستقیم اندازه‌هایی از ۱ تا ۱۲ سانتی‌متر را اندازه‌گیری کرد؟



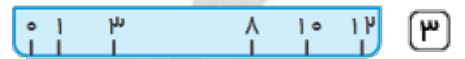
۲



۱



۴



۳

۱۱. در شکل‌های زیر، خانه‌ی رامک ۳ بار و خانه‌ی پوپک فقط یک بار کشیده شده است. خانه‌ی پوپک کدام است؟



۴



۳

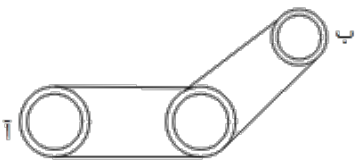


۲



۱

۱۲. اگر چرخ (آ) با سرعت ثابت به‌طور ساعتگرد بچرخد، چرخ (ب) چگونه می‌چرخد؟



ب


۲ ساعتگرد و سریع‌تر

۱ ساعتگرد و کندتر

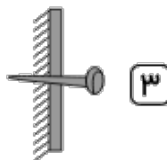
۴ پادساعتگرد و با سرعت یکسان

۳ پادساعتگرد و کندتر

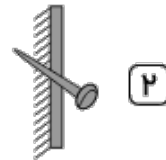
۱۳. از میخ‌های زیر که در دیوار فرو رفته‌اند، کدام یک سنگینی بیشتری را تحمل می‌کند؟




۴



۳



۲



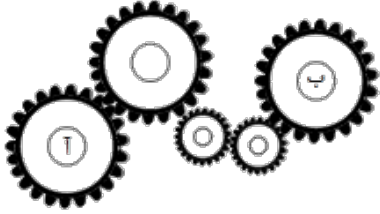
۱

پایه:

تاریخ: / /

نام و نام خانوادگی:

۱۴. اگر چرخ دنده (آ) با سرعت ثابت و به طور ساعتگرد بچرخد، چرخ دنده (ب) چگونه می‌چرخد؟



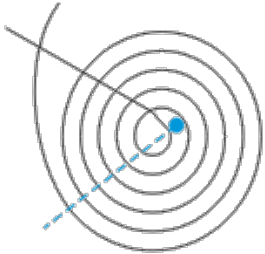
۱ ساعتگرد و با سرعتی برابر با چرخ دنده (آ)

۲ ساعتگرد و با نصف سرعت چرخ دنده (آ)

۳ پادساعتگرد و با نصف سرعت چرخ دنده (آ)

۴ ساعتگرد و با سرعتی دو برابر چرخ دنده (آ)

۱۵. اگر سیم پیچ مقابل را در مسیر خط چین قطع کنیم، چند قطعه سیم خواهیم داشت؟



۲ ۸

۱ ۷

۴ ۱۰

۳ ۹



MASOUD BIGDELI

@Mathmovie6

Bigbest23

@Mathmovie6



# آکادمی آموزشی تیزلاین <

مجری همایش کلاس و آزمون در سراسر کشور

با حضور اساتید برگزیده ی کشوری تیزهوشان و کنکور



ششم

استاد مسعود بیگدلی  
ترم دو دوره سالانه  
ریاضی تیزهوشان  
از ۲۹ دی ، دوشنبه ها  
۱۶:۳۰ تا ۱۷:۴۵ | ۱۲ جلسه  
۳۵۰.۰۰۰



استاد مسعود بیگدلی  
ترم دو دوره سالانه  
هوش و خلاقیت  
از ۲۹ دی ، دوشنبه ها  
۲۱:۱۵ - ۲۰:۰۰ | ۱۲ جلسه  
۳۵۰.۰۰۰



ششم

دکتر قربانی  
ترم دو دوره سالانه  
علوم تیزهوشان  
از ۱ بهمن ، چهارشنبه ها  
۱۸:۱۵ - ۱۹:۳۰ | ۱۲ جلسه  
۳۵۰.۰۰۰



ششم

استاد حسن ربانی  
دوره سالانه  
فارسی تیزهوشان  
از ۱ آذر ، شنبه ها  
۲۱:۱۵ - ۲۰:۰۰ | ۱۵ جلسه  
۴۵۰.۰۰۰

## برنامه کلاس های دوره ابتدایی آکادمی تیزلاین



پنجم

استاد وحید گوران  
ترم دو دوره سالانه  
ریاضی پیشرفت  
از ۲۸ دی ، یکشنبه ها  
۱۸:۱۵ - ۱۹:۳۰ | ۱۲ جلسه  
۳۵۰.۰۰۰



استاد پیمان لایق  
ترم دو دوره سالانه  
ساینس (علوم به لاتین)  
از ۲۹ دی ، دوشنبه ها  
۲۱:۱۵ - ۲۰:۰۰ | ۱۲ جلسه  
۳۵۰.۰۰۰  
ظرفیت ۱۵ نفر



استاد سعید موساوند  
زبان انگلیسی، ترم زمستان  
سه شنبه ها از ۳۰ دی  
۲۱:۱۵ - ۲۰:۰۰  
جمعه ها از ۳ بهمن  
۱۷:۴۵ - ۱۶:۳۰  
۲۱:۱۵ - ۲۰:۰۰ | ۱۰ جلسه  
۴۰۰.۰۰۰  
ظرفیت هر گروه ۱۰ نفر



چهارم

استاد وحید گوران  
ترم دو دوره سالانه  
ریاضی پیشرفت  
از ۲۸ دی ، یکشنبه ها  
۱۶:۳۰ - ۱۷:۴۵ | ۱۲ جلسه  
۳۵۰.۰۰۰

# تیزلاینی - شو

### آزمون های آکادمی تیزلاین

شبیه سازترین  
آزمون تیزهوشان

هشتم  
۶+۱  
مرحله

چهارم  
۱+۵  
مرحله

هفتم  
۶+۱  
مرحله

ششم  
۱۰+۱  
مرحله

پنجم  
۸+۱  
مرحله

### چهارم تا دهم

با طراحی اساتید برجسته تیزهوشان کشور  
استاد مسعود بیگدلی، استاد فرزاد تندرو، استاد میثم بهرامی  
دکتر میثم کوهگرد، استاد مهدی مهدی زاده، دکتر قربانی و ...

دهم  
۷+۱  
مرحله

نهم  
۱۰+۱  
مرحله



ثبت نام در سایت رسمی آکادمی تیزلاین

www.Tizline.ir | ۰۲۱ ۴۴۱۳ ۶۹۷۵ | ۰۹۳۳۳ ۳۸۴ ۰۲۰۲

آنلاین و حضوری  
در نمایندگی ها



www.Tizline.ir



@Bigbest23



۰۹۳۳۳ ۳۸۴ ۰۲۰۲



۵۰۰۰۲۶۹۱۳۲۴



۰۲۱ ۴۴۱۳ ۶۹۷۵



## برنامه کلاس های آکادمی تیزلاین: پایه هفتم



دکتر قربانی  
ترم دو دوره سالانه  
علوم تیز هوشان هفتم  
از ۱ بهمن، چهارشنبه ها  
۱۲ جلسه ۲۱:۱۵ - ۲۰:۰۰  
۳۵۰.۰۰۰



استاد مسعود بیگدلی  
ترم دو دوره سالانه  
هوش و استعداد تحلیلی  
از ۲ بهمن، پنج شنبه ها  
۱۲ جلسه ۲۱:۱۵ - ۲۰:۰۰  
۳۵۰.۰۰۰



استاد مسعود بیگدلی  
ترم دو دوره سالانه  
ریاضی تیز هوشان هفتم  
از ۲۹ دی، دوشنبه ها  
۱۲ جلسه ۱۹:۳۰ - ۱۸:۱۵  
۳۵۰.۰۰۰



استاد مجید غلامی  
دوره سالانه  
از ۲۹ دی، دوشنبه ها  
۱۰ جلسه ۲۱:۱۵ - ۲۰:۰۰  
۳۰۰.۰۰۰



استاد پیمان لایق  
از ۲۹ دی  
ساینس (علوم به لاتین)  
دوشنبه ها  
۱۲ جلسه ۲۱:۱۵ - ۲۰:۰۰  
۳۵۰.۰۰۰



استاد سعید موسی وند  
زبان انگلیسی  
سه شنبه ها از ۳۰ دی  
جمعه ها از ۳ بهمن  
۱۷:۴۵ - ۱۶:۳۰  
۲۱:۱۵ - ۲۰:۰۰  
۱۰ جلسه ۴۰۰.۰۰۰



دکتر کاظم غریبی  
دوره سالانه  
فارسی تیز هوشان هفتم  
از ۱ آذر، شنبه ها  
۱۵ جلسه ۲۱:۱۵ - ۲۰:۰۰  
۴۵۰.۰۰۰



دکتر میثم کوهگرد  
المپیاد فیزیک  
از ۶ آذر  
پنج شنبه ها  
۱۵ جلسه ۲۱:۱۵ - ۲۰:۰۰  
۴۵۰.۰۰۰



استاد بهزاد اسداله  
استاد حسین حسین زاده  
المپیاد ریاضی  
از ۲ آذر، یکشنبه ها  
۱۵ جلسه ۲۱:۱۵ - ۲۰:۰۰  
۴۵۰.۰۰۰



دکتر قربانی  
المپیاد زیست شناسی  
از ۴ آذر  
سه شنبه ها  
۱۵ جلسه ۱۹:۳۰ - ۱۸:۱۵  
۴۵۰.۰۰۰

# تیزلاینی - شو

ثبت نام در سایت رسمی آکادمی تیزلاین

[www.Tizline.ir](http://www.Tizline.ir)

دوره سالانه شامل دو ترم ۱۲ جلسه ای با ویدیو قابل دانلود و جزوه قابل پرینت است.  
دوره زبان فارسی تیز هوشان به صورت سالانه ۱۵ جلسه است.

آنلاین

☎ ۰۲۱ ۴۴۱۳ ۶۹۷۵

📍 ۰۹۳۳ ۳۸۴ ۰۲۰۲

✉ ۵۰۰۰۲۶۹۱۳۲۴

📷 mathmovie6

📷 Tizline.ir



## برنامه کلاس های آکادمی تیزلاین: پایه هشتم



دکتر قربانی  
ترم دو دوره سالانه  
علوم تیز هوشان هشتم  
از ۲۸ دی، یک شنبه ها  
۱۲ جلسه  
۱۹:۳۰ - ۱۸:۱۵  
۳۵۰.۰۰۰



استاد مسعود بیگدلی  
ترم دو دوره سالانه  
هوش و استعداد تحلیلی  
از ۲ بهمن، پنجشنبه ها  
۱۲ جلسه  
۲۱:۱۵ - ۲۰:۰۰  
۳۵۰.۰۰۰



استاد میثم بهرامی جویا  
ترم دو دوره سالانه  
ریاضی تیز هوشان هشتم  
از ۱ بهمن، چهارشنبه ها  
۱۲ جلسه  
۲۱:۱۵ - ۲۰:۰۰  
۳۵۰.۰۰۰



استاد سعید موساوند  
زبان انگلیسی  
سه شنبه ها از ۳۰ دی  
۲۱:۱۵ - ۲۰:۰۰  
۱۰ جلسه  
۴۰۰.۰۰۰



استاد پیمان لایق  
از ۲۹ دی  
ساینس (علوم به لاتین)  
دو شنبه ها  
۱۲ جلسه  
۲۱:۱۵ - ۲۰:۰۰  
۳۵۰.۰۰۰



استاد مهدی مهدی زاده  
دوره سالانه  
فارسی تیز هوشان هشتم  
از ۱ آذر، شنبه ها  
۱۵ جلسه  
۱۹:۳۰ - ۱۸:۱۵  
۴۵۰.۰۰۰



دکتر قربانی  
المپیاد زیست شناسی  
از ۴ آذر  
سه شنبه ها  
۱۵ جلسه  
۱۹:۳۰ - ۱۸:۱۵  
۴۵۰.۰۰۰



دکتر میثم کوهگرد  
المپیاد فیزیک  
از ۶ آذر  
پنج شنبه ها  
۱۵ جلسه  
۲۱:۱۵ - ۲۰:۰۰  
۴۵۰.۰۰۰



استاد بهراد اسداله  
استاد حسین حسین زاده  
المپیاد ریاضی  
از ۲ آذر، یک شنبه ها  
۱۵ جلسه  
۲۱:۱۵ - ۲۰:۰۰  
۴۵۰.۰۰۰

ثبت نام در سایت رسمی آکادمی تیزلاین  
#تیزلاینی شو [www.Tizline.ir](http://www.Tizline.ir)

دوره سالانه شامل دو ترم ۱۲ جلسه ای با ویدیو قابل دانلود و جزوه قابل پرینت است.  
دوره زبان فارسی تیز هوشان به صورت سالانه ۱۵ جلسه است.

آنلاین

☎ ۰۲۱ ۴۴۱۳ ۶۹۷۵

📍 ۰۹۳۳ ۳۸۴ ۰۲۰۲


✉ ۵۰۰۰۲۶۹۱۳۲۴

📷 @mathmovie6

📷 Tizline.ir



## برنامه کلاس های آکادمی تیزلاین: پایه نهم



استاد فرزاد تندرو  
ترم دو دوره سالانه  
ریاضی تیزهوشان نهم  
از ۱ بهمن، چهارشنبه ها  
۲۱:۱۵ - ۲۰:۰۰  
۱۲ جلسه  
۳۵۰.۰۰۰



استاد مسعود بیگدلی  
ترم دو دوره سالانه  
هوش و استعداد تحلیلی  
از ۲ بهمن، پنجشنبه ها  
۲۱:۱۵ - ۲۰:۰۰  
۱۲ جلسه  
۳۵۰.۰۰۰



دکتر قربانی  
ترم دو دوره سالانه  
علوم تیزهوشان نهم  
از ۲۸ دی، یکشنبه ها  
۲۱:۱۵ - ۲۰:۰۰  
۱۲ جلسه  
۳۵۰.۰۰۰



استاد مجید غلامی  
دوره سالانه  
از ۲۹ دی، دوشنبه ها  
۲۱:۱۵ - ۲۰:۰۰  
۱۰ جلسه  
۳۰۰.۰۰۰



استاد پیمان لایق  
از ۲۹ دی  
ساینس (علوم به لاتین)  
دوشنبه ها  
۲۱:۱۵ - ۲۰:۰۰  
۱۲ جلسه  
۳۵۰.۰۰۰



استاد سعید موساوند  
زبان انگلیسی  
جمعه ها از ۳ بهمن  
۱۷:۴۵ - ۱۶:۳۰  
۲۱:۱۵ - ۲۰:۰۰  
۱۰ جلسه  
۴۰۰.۰۰۰



استاد مهدی مهدی زاده  
دوره سالانه  
فارسی تیزهوشان نهم  
از ۱ آذر، شنبه ها  
۲۱:۱۵ - ۲۰:۰۰  
۱۵ جلسه  
۴۵۰.۰۰۰



استاد بهزاد اسداله  
استاد حسین حسین زاده  
المپیاد ریاضی  
از ۲ آذر، یکشنبه ها  
۲۱:۱۵ - ۲۰:۰۰  
۱۵ جلسه  
۴۵۰.۰۰۰



دکتر قربانی  
المپیاد زیست شناسی  
از ۴ آذر  
سه شنبه ها  
۱۹:۳۰ - ۱۸:۱۵  
۱۵ جلسه  
۴۵۰.۰۰۰



دکتر میثم کوهگرد  
المپیاد فیزیک  
از ۶ آذر  
پنجشنبه ها  
۲۱:۱۵ - ۲۰:۰۰  
۱۵ جلسه  
۴۵۰.۰۰۰

ثبت نام در سایت رسمی آکادمی تیزلاین  
#تیزلاینی\_شو [www.Tizline.ir](http://www.Tizline.ir)

دوره سالانه شامل دو ترم ۱۲ جلسه ای با ویدیو قابل دانلود و جزوه قابل پرینت است.  
دوره زبان فارسی تیزهوشان به صورت سالانه ۱۵ جلسه است.

آنلاین

☎ ۰۲۱ ۴۴۱۳ ۶۹۷۵ 📍 ۰۹۳۳ ۳۸۴ ۰۲۰۲ ✉ ۵۰۰۰۲۶۹۱۳۲۴



## برنامه کلاس های آکادمی تیزلاین:

### پایه دهم



دکتر میثم کوهگرد  
ترم دو دوره سالانه  
فیزیک پیشرفته دهم  
از ۲۹ دی، دوشنبه ها

۱۲ جلسه  
۳۵۰.۰۰۰ ۲۱:۱۵ - ۲۰:۰۰



دکتر قربانی  
ترم دو دوره سالانه  
شیمی پیشرفته دهم  
از ۲۷ دی، شنبه ها

۱۲ جلسه  
۳۵۰.۰۰۰ ۲۱:۱۵ - ۲۰:۰۰

### # تیزلاینی - شو



استاد فرزاد تندرو  
ترم دو دوره سالانه  
ریاضی پیشرفته دهم  
از ۱ بهمن، چهارشنبه ها

۱۲ جلسه  
۳۵۰.۰۰۰ ۱۹:۳۰ - ۱۸:۱۵



دکتر قربانی  
ترم دو دوره سالانه  
زیست شناسی پیشرفته دهم  
از ۳۰ دی، سه شنبه ها

۱۲ جلسه  
۳۵۰.۰۰۰ ۲۱:۱۵ - ۲۰:۰۰

ثبت نام در سایت رسمی آکادمی تیزلاین



[www.Tizline.ir](http://www.Tizline.ir)

دوره سالانه شامل دو ترم ۱۲ جلسه ای با ویدیو قابل دانلود و جزوه قابل پرینت است.

☎ ۰۲۱ ۴۴۱۳ ۶۹۷۵

📍 ۰۹۳۳ ۳۸۴ ۰۲۰۲

✉ ۵۰۰۰۲۶۹۱۳۲۴

📷 @mathmovie6

📷 Tizline.ir