



آکادمی آنلاین تیز لاین قوی ترین پلتفرم آموزشی تیز هوشان


برگزار کننده کلاس های آنلاین و حضوری تیز هوشان ✓

و المپیاد از پایه چهارم تا دوازدهم

آزمون های آنلاین و حضوری ✓

مشاوره تخصصی ✓

با اسکن QR کد روبرو
وارد صفحه اینستاگرام
آکادمی تیز لاین شو و از
محتواهای آموزشی
رایگان لذت ببر

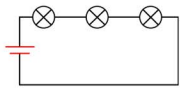


برای ورود به صفحه اصلی سایت آکادمی تیز لاین کلیک کنید

برای دانلود دفترچه آزمون های مختلف برای هر پایه کلیک کنید

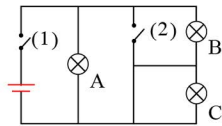
برای مطالعه مقالات بروز آکادمی تیز لاین کلیک کنید

علوم هشتم فصل نه الکتريسيته جاري



۱. در مدار زیر یکی از لامپها میسوزد و خاموش می شود. چه اتفاقی رخ می دهد؟

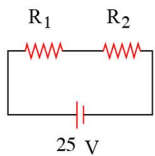
- ۱) نور دو لامپ دیگر بیشتر می شود.
 ۲) نور دو لامپ دیگر کمتر می شود.
 ۳) دو لامپ دیگر خاموش می شوند.
 ۴) یکی از دو لامپ دیگر نیز میسوزد.



۲. در شکل روبهرو با بستن کلید ۱ و ۲، کدام لامپها روشن خواهند شد؟

- ۱) A و B و C
 ۲) A
 ۳) C و B
 ۴) هیچ کدام روشن نخواهند شد.

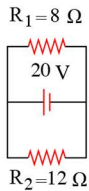
۳. اگر در مدار زیر جریان 2.5 آمپر از مقاومت (۱) عبور کند و ولتاژ دو سر مقاومت (۲) 10 ولت باشد، اندازه ی مقاومت (۱) را بیابید.



- ۱) 4Ω
 ۲) 6Ω
 ۳) 10Ω
 ۴) 2Ω

۴. سیمی به طول 1.6 متر و مقاومت 80 اهم داریم. اگر 40 سانتی متر از این سیم را جدا کنیم و به دو سر تکه ی باقی مانده یک باتری وصل کنیم، جریان عبوری از آن 1.5 آمپر می شود. در این صورت ولتاژ باتری چقدر است؟

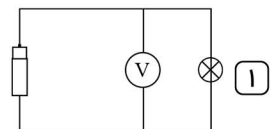
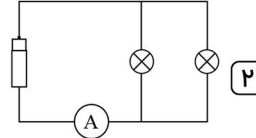
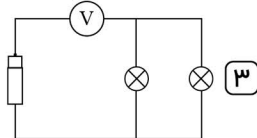
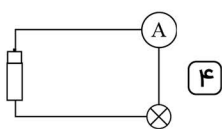
- ۱) $120V$
 ۲) $90V$
 ۳) $60V$
 ۴) $30V$



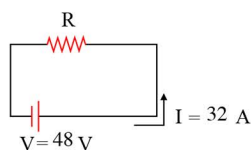
۵. در مدار روبهرو نسبت جریان مقاومت R_1 به مقاومت R_2 چقدر است؟

- ۱) ۱
 ۲) $\frac{3}{2}$
 ۳) $\frac{2}{3}$
 ۴) ۶

۶. اگر علامت ولتسنج و علامت آمپرسنج باشد، در کدام مدار شیوه ی بستن این وسایل درست نیست؟



۷. در شکل روبهرو، اندازه ی مقاومت چند اهم است؟



- ۱) $\frac{2}{3}$
 ۲) ۱۶
 ۳) ۱.۵
 ۴) ۸۰

علوم هشتم فصل نه الکتریسیته جاری

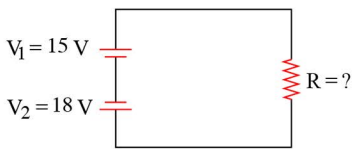
۸. در یک مدار که شدت جریان ۳ آمپر برقرار است، مقاومت ۸۰ اهمی قرار داده‌ایم. اختلاف پتانسیل بین دو سر مقاومت تقریباً چند ولت است؟

- ۱) ۲۴۰ ۲) ۲۷ ۳) $\frac{1}{27}$ ۴) ۸۰

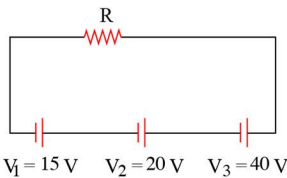
۹. در یک مدار در حال کار، کدام ابزار زیر به شکل موازی بسته می‌شود؟

- ۱) آمپرسنج ۲) اهم‌متر ۳) کلید ۴) ولت‌سنج

۱۰. در مدار روبه‌رو، اگر جریان عبوری مدار، ۳ آمپر باشد اندازه مقاومت چند اهم است؟



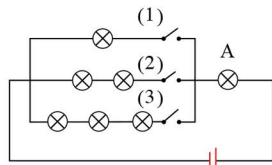
- ۱) ۱۱۰ ۲) ۶۰ ۳) ۵۰ ۴) ۱۰



۱۱. در مدار روبه‌رو، ولتاژ دو سر مقاومت چقدر است؟

- ۱) ۵۷ ۲) ۲۵۷ ۳) ۵۵۷ ۴) ۷۵۷

۱۲. در مدار زیر همهی لامپ‌ها یکسان هستند. با بستن کدام کلید، لامپ A پرنورتر خواهد بود؟

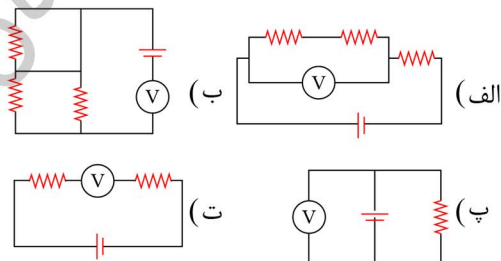


- ۱) ۳ ۲) ۲ ۳) تفاوتی نمی‌کند. ۴) ۱

۱۳. وسیله‌ای که شدت جریان الکتریکی را اندازه می‌گیرد نام دارد و به صورت در مدار بسته می‌شود.

- ۱) آمپرسنج - متوالی ۲) آمپرسنج - موازی ۳) ولت‌سنج - متوالی ۴) ولت‌سنج - موازی

۱۴. در کدام یک از مدارهای زیر ولت‌سنج درست بسته شده است؟



- ۱) الف و ب ۲) ب و پ ۳) الف و پ ۴) پ و ت

۱۵. در یک مدار ساده، یک باتری ۲۵ ولتی را به دو سر یک مقاومت ۴ اهمی وصل کرده‌ایم. جریان عبوری از داخل مقاومت چقدر است؟

- ۱) ۰٫۱۶ ۲) ۶٫۲۵ ۳) ۲۹ ۴) ۱۰۰

آکادمی آموزشی تیزلاین >

علوم هشتم فصل نه
الکتريسيته جاري

پاسخنامه کليدي

۱ . ۳	۴ . ۲	۷ . ۳	۱۰ . ۴	۱۳ . ۱
۲ . ۴	۵ . ۲	۸ . ۱	۱۱ . ۴	۱۴ . ۳
۳ . ۲	۶ . ۳	۹ . ۴	۱۲ . ۳	۱۵ . ۲

مجرى همایش کلاس و آزمون در سراسر کشور

با حضور اساتيد برگزيده ی کشورى تيزهوشان و کنکور

@mathmovie6

@Tizline.ir

www.Tizline.ir

@tizline

۰۹۳۳ ۳۸۴ ۰۲۰۲

۵۰۰۰۲۶۹۱۳۲۴

۰۲۱ ۴۴۱۳ ۶۹۷۵

آکادمی آموزشی تیزلاین <

مجری همایش کلاس و آزمون در سراسر کشور

با حضور اساتید برگزیده ی کشوری تیزهوشان و کنکور



ششم

استاد مسعود بیگدلی
ترم دو دوره سالانه
ریاضی تیزهوشان
از ۲۹ دی ، دوشنبه ها
۱۶:۳۰ تا ۱۷:۴۵ | ۱۲ جلسه
۳۵۰.۰۰۰



استاد مسعود بیگدلی
ترم دو دوره سالانه
هوش و خلاقیت
از ۲۹ دی ، دوشنبه ها
۲۱:۱۵ - ۲۰:۰۰ | ۱۲ جلسه
۳۵۰.۰۰۰



ششم

دکتر قربانی
ترم دو دوره سالانه
علوم تیزهوشان
از ۱ بهمن ، چهارشنبه ها
۱۸:۱۵ - ۱۹:۳۰ | ۱۲ جلسه
۳۵۰.۰۰۰



ششم

استاد حسن ربانی
دوره سالانه
فارسی تیزهوشان
از ۱ آذر ، شنبه ها
۲۱:۱۵ - ۲۰:۰۰ | ۱۵ جلسه
۴۵۰.۰۰۰

برنامه کلاس های دوره ابتدایی آکادمی تیزلاین



پنجم

استاد وحید گوران
ترم دو دوره سالانه
ریاضی پیشرفت
از ۲۸ دی ، یکشنبه ها
۱۸:۱۵ - ۱۹:۳۰ | ۱۲ جلسه
۳۵۰.۰۰۰



استاد پیمان لایق
ترم دو دوره سالانه
ساینس (علوم به لاتین)
از ۲۹ دی ، دوشنبه ها
۲۱:۱۵ - ۲۰:۰۰ | ۱۲ جلسه
۳۵۰.۰۰۰
ظرفیت ۱۵ نفر



استاد سعید موساوند
زبان انگلیسی، ترم زمستان
سه شنبه ها از ۳۰ دی
۲۱:۱۵ - ۲۰:۰۰
جمعه ها از ۳ بهمن
۱۷:۴۵ - ۱۶:۳۰
۲۱:۱۵ - ۲۰:۰۰ | ۱۰ جلسه
۴۰۰.۰۰۰
ظرفیت هر گروه: ۱۰ نفر



چهارم

استاد وحید گوران
ترم دو دوره سالانه
ریاضی پیشرفت
از ۲۸ دی ، یکشنبه ها
۱۶:۳۰ - ۱۷:۴۵ | ۱۲ جلسه
۳۵۰.۰۰۰

تیزلاینی - شو

آزمون های آکادمی تیزلاین

شبیه سازترین
آزمون تیزهوشان

هشتم
۶+۱
مرحله

چهارم
۱+۵
مرحله

هفتم
۶+۱
مرحله

ششم
۱۰+۱
مرحله

پنجم
۸+۱
مرحله

چهارم تا دهم

با طراحی اساتید برجسته تیزهوشان کشور
استاد مسعود بیگدلی، استاد فرزاد تندرو، استاد میثم بهرامی
دکتر میثم کوهگرد، استاد مهدی مهدی زاده، دکتر قربانی و ...

تیزلاینی - شو

ثبت نام در سایت رسمی آکادمی تیزلاین

www.Tizline.ir | ۰۲۱ ۴۴۱۳ ۶۹۷۵ | ۰۹۳۳۳ ۳۸۴ ۰۲۰۲

آنلاین و حضوری
در نمایندگی ها



www.Tizline.ir



@Bigbest23



۰۹۳۳۳ ۳۸۴ ۰۲۰۲



۵۰۰۰۲۶۹۱۳۲۴



۰۲۱ ۴۴۱۳ ۶۹۷۵

برنامه کلاس های آکادمی تیزلاین: پایه هفتم



دکتر قربانی
ترم دو دوره سالانه
علوم تیز هوشان هفتم
از ۱ بهمن، چهارشنبه ها
۱۲ جلسه ۲۱:۱۵ - ۲۰:۰۰
۳۵۰.۰۰۰



استاد مسعود بیگدلی
ترم دو دوره سالانه
هوش و استعداد تحلیلی
از ۲ بهمن، پنج شنبه ها
۱۲ جلسه ۲۱:۱۵ - ۲۰:۰۰
۳۵۰.۰۰۰



استاد مسعود بیگدلی
ترم دو دوره سالانه
ریاضی تیز هوشان هفتم
از ۲۹ دی، دوشنبه ها
۱۲ جلسه ۱۹:۳۰ - ۱۸:۱۵
۳۵۰.۰۰۰



استاد مجید غلامی
دوره سالانه
از ۲۹ دی، دوشنبه ها
۱۰ جلسه ۲۱:۱۵ - ۲۰:۰۰
۳۰۰.۰۰۰



استاد پیمان لایق
از ۲۹ دی
ساینس (علوم به لاتین)
دوشنبه ها
۱۲ جلسه ۲۱:۱۵ - ۲۰:۰۰
۳۵۰.۰۰۰



استاد سعید موسی وند
زبان انگلیسی
سه شنبه ها از ۳۰ دی
جمعه ها از ۳ بهمن
۱۷:۴۵ - ۱۶:۳۰
۲۱:۱۵ - ۲۰:۰۰
۱۰ جلسه ۴۰۰.۰۰۰



دکتر کاظم غریبی
دوره سالانه
فارسی تیز هوشان هفتم
از ۱ آذر، شنبه ها
۱۵ جلسه ۲۱:۱۵ - ۲۰:۰۰
۴۵۰.۰۰۰



دکتر میثم کوهگرد
المپیاد فیزیک
از ۶ آذر
پنج شنبه ها
۱۵ جلسه ۲۱:۱۵ - ۲۰:۰۰
۴۵۰.۰۰۰



استاد بهزاد اسدالله
استاد حسین حسین زاده
المپیاد ریاضی
از ۲ آذر، یکشنبه ها
۱۵ جلسه ۲۱:۱۵ - ۲۰:۰۰
۴۵۰.۰۰۰



دکتر قربانی
المپیاد زیست شناسی
از ۴ آذر
سه شنبه ها
۱۵ جلسه ۱۹:۳۰ - ۱۸:۱۵
۴۵۰.۰۰۰

تیزلاینی - شو

ثبت نام در سایت رسمی آکادمی تیزلاین

www.Tizline.ir

دوره سالانه شامل دو ترم ۱۲ جلسه ای با ویدیو قابل دانلود و جزوه قابل پرینت است.
دوره زبان فارسی تیز هوشان به صورت سالانه ۱۵ جلسه است.

آنلاین

☎ ۰۲۱ ۴۴۱۳ ۶۹۷۵

📍 ۰۹۳۳ ۳۸۴ ۰۲۰۲

✉ ۵۰۰۰۲۶۹۱۳۲۴

برنامه کلاس های آکادمی تیزلاین: پایه هشتم



دکتر قربانی
ترم دو دوره سالانه
علوم تیز هوشان هشتم
از ۲۸ دی، یکشنبه ها

۱۲ جلسه
۱۹:۳۰ - ۱۸:۱۵
۳۵۰.۰۰۰



استاد مسعود بیگدلی
ترم دو دوره سالانه
هوش و استعداد تحلیلی
از ۲ بهمن، پنجشنبه ها

۱۲ جلسه
۲۱:۱۵ - ۲۰:۰۰
۳۵۰.۰۰۰



استاد میثم بهرامی جویا
ترم دو دوره سالانه
ریاضی تیز هوشان هشتم
از ۱ بهمن، چهارشنبه ها

۱۲ جلسه
۲۱:۱۵ - ۲۰:۰۰
۳۵۰.۰۰۰



استاد مهدی مهدی زاده
دوره سالانه
فارسی تیز هوشان هشتم
از ۱ آذر، شنبه ها

۱۵ جلسه
۱۹:۳۰ - ۱۸:۱۵
۴۵۰.۰۰۰



استاد پیمان لایق
از ۲۹ دی
ساینس (علوم به لاتین)
دو شنبه ها

۱۲ جلسه
۲۱:۱۵ - ۲۰:۰۰
۳۵۰.۰۰۰



استاد سعید موساوند
زبان انگلیسی
سه شنبه ها از ۳۰ دی
جمعه ها از ۳ بهمن

۱۰ جلسه
۲۱:۱۵ - ۲۰:۰۰
۴۰۰.۰۰۰



استاد بهراد اسداله
استاد حسین حسین زاده
المپیاد ریاضی
از ۲ آذر، یکشنبه ها

۱۵ جلسه
۲۱:۱۵ - ۲۰:۰۰
۴۵۰.۰۰۰



دکتر میثم کوهگرد
المپیاد فیزیک
از ۶ آذر
پنجشنبه ها

۱۵ جلسه
۲۱:۱۵ - ۲۰:۰۰
۴۵۰.۰۰۰



دکتر قربانی
المپیاد زیست شناسی
از ۴ آذر
سه شنبه ها

۱۵ جلسه
۱۹:۳۰ - ۱۸:۱۵
۴۵۰.۰۰۰

ثبت نام در سایت رسمی آکادمی تیزلاین
#تیزلاینی_شو www.Tizline.ir

دوره سالانه شامل دو ترم ۱۲ جلسه ای با ویدیو قابل دانلود و جزوه قابل پرینت است.
دوره زبان فارسی تیز هوشان به صورت سالانه ۱۵ جلسه است.

آنلاین

☎ ۰۲۱ ۴۴۱۳ ۶۹۷۵

📍 ۰۹۳۳ ۳۸۴ ۰۲۰۲

✉ ۵۰۰۰۲۶۹۱۳۲۴

📷 mathmovie6

📷 Tizline.ir

برنامه کلاس های آکادمی تیزلاین: پایه نهم



استاد فرزاد تندرو
ترم دو دوره سالانه
ریاضی تیزهوشان نهم
از ۱ بهمن، چهارشنبه ها

۲۰:۱۵ - ۲۱:۱۵
۱۲ جلسه
۳۵۰.۰۰۰



استاد مسعود بیگدلی
ترم دو دوره سالانه
هوش و استعداد تحلیلی
از ۲ بهمن، پنجشنبه ها

۲۰:۱۵ - ۲۱:۱۵
۱۲ جلسه
۳۵۰.۰۰۰



دکتر قربانی
ترم دو دوره سالانه
علوم تیزهوشان نهم
از ۲۸ دی، یکشنبه ها

۲۰:۱۵ - ۲۱:۱۵
۱۲ جلسه
۳۵۰.۰۰۰



استاد مجید غلامی
دوره سالانه
از ۲۹ دی، دوشنبه ها

۲۰:۱۵ - ۲۱:۱۵
۱۰ جلسه
۳۰۰.۰۰۰



استاد پیمان لایق
از ۲۹ دی
ساینس (علوم به لاتین)
دوشنبه ها

۲۰:۱۵ - ۲۱:۱۵
۱۲ جلسه
۳۵۰.۰۰۰



استاد سعید موساوند
زبان انگلیسی
جمعه ها از ۳ بهمن
سه شنبه ها از ۳۰ دی

۱۶:۳۰ - ۱۷:۴۵
۲۰:۱۵ - ۲۱:۱۵
۱۰ جلسه
۴۰۰.۰۰۰



استاد مهدی مهدی زاده
دوره سالانه
فارسی تیزهوشان نهم
از ۱ آذر، شنبه ها

۲۰:۱۵ - ۲۱:۱۵
۱۵ جلسه
۴۵۰.۰۰۰



استاد بهزاد اسداله
استاد حسین حسین زاده
المپیاد ریاضی

از ۲ آذر، یکشنبه ها

۲۰:۱۵ - ۲۱:۱۵
۱۵ جلسه
۴۵۰.۰۰۰



دکتر میثم کوهگرد
المپیاد فیزیک
از ۶ آذر

۲۰:۱۵ - ۲۱:۱۵
۱۵ جلسه
۴۵۰.۰۰۰



دکتر قربانی
المپیاد زیست شناسی
از ۴ آذر

۱۸:۱۵ - ۱۹:۳۰
۱۵ جلسه
۴۵۰.۰۰۰

ثبت نام در سایت رسمی آکادمی تیزلاین

#تیزلاینی - شو www.Tizline.ir

دوره سالانه شامل دو ترم ۱۲ جلسه ای با ویدیو قابل دانلود و جزوه قابل پرینت است.

دوره زبان فارسی تیزهوشان به صورت سالانه ۱۵ جلسه است.

آنلاین

☎ ۰۲۱ ۴۴۱۳ ۶۹۷۵

📍 ۰۹۳۳ ۳۸۴ ۰۲۰۲

✉ ۵۰۰۰۲۶۹۱۳۲۴

برنامه کلاس های آکادمی تیزلاین:

پایه دهم



دکتر میثم کوهگرد
ترم دو دوره سالانه
فیزیک پیشرفته دهم
از ۲۹ دی، دوشنبه ها

۲۱:۱۵ - ۲۰:۰۰
۱۲ جلسه
۳۵۰.۰۰۰



دکتر قربانی
ترم دو دوره سالانه
شیمی پیشرفته دهم
از ۲۷ دی، شنبه ها

۲۱:۱۵ - ۲۰:۰۰
۱۲ جلسه
۳۵۰.۰۰۰

تیزلاینی - شو



استاد فرزاد تندرو
ترم دو دوره سالانه
ریاضی پیشرفته دهم
از ۱ بهمن، چهارشنبه ها

۱۹:۳۰ - ۱۸:۱۵
۱۲ جلسه
۳۵۰.۰۰۰



دکتر قربانی
ترم دو دوره سالانه
زیست شناسی پیشرفته دهم
از ۳۰ دی، سه شنبه ها

۲۱:۱۵ - ۲۰:۰۰
۱۲ جلسه
۳۵۰.۰۰۰

ثبت نام در سایت رسمی آکادمی تیزلاین

 www.Tizline.ir

دوره سالانه شامل دو ترم ۱۲ جلسه ای با ویدیو قابل دانلود و جزوه قابل پرینت است.

☎ ۰۲۱ ۴۴۱۳ ۶۹۷۵

📍 ۰۹۳۳ ۳۸۴ ۰۲۰۲

✉ ۵۰۰۰۲۶۹۱۳۲۴

📷 @mathmovie6

📷 Tizline.ir