



آکادمی آنلاین تیزلاین قوی ترین پلتفرم آموزشی تیز هوشان

برگزار کننده کلاس های آنلاین و حضوری تیز هوشان ✓

و المپیاد از پایه چهارم تا دوازدهم

آزمون های آنلاین و حضوری ✓

مشاوره تخصصی ✓

با اسکن QR کد روبرو
وارد صفحه اینستاگرام
آکادمی تیزلاین شو و از
محتواهای آموزشی
رایگان لذت ببر

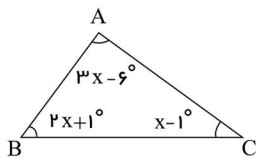


برای ورود به صفحه اصلی سایت آکادمی تیزلاین کلیک کنید

برای دانلود دفترچه آزمون های مختلف برای هر پایه کلیک کنید

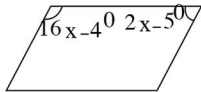
برای مطالعه مقالات بروز آکادمی تیزلاین کلیک کنید

ریاضی هفتم فصل سوم معادله



۱. در شکل مقابل، اندازه زاویه \hat{A} چند درجه است؟

- ۱) 63° ۲) 87°
۳) 30° ۴) 31°



۲. مقدار x در شکل مقابل برابر است با: (چهارضلعی متوازی الاضلاع است)

- ۱) $10,5^\circ$ ۲) $9,5^\circ$ ۳) $11,5^\circ$ ۴) 12°

۳. اگر $3x + 4 = -2$ باشد، مقدار a در معادله $ax - 5 = 3$ کدام گزینه است؟

- ۱) ۴ ۲) -۴ ۳) ۲ ۴) -۲

۴. اگر $x = -1$ جواب معادله زیر باشد، مقدار a کدام است؟

$$\frac{1-2x}{3} + \frac{7x+6}{5} = 2a$$

- ۱) $0,8$ ۲) $-0,8$ ۳) $0,4$ ۴) $-0,4$

۵. پدر در جواب این که پسرش چند سال دارد گفت اگر سن پسر را ۳ برابر کنید و ۴ برابر سن ۵ سال پیش او را از آن کم کنید، سن کنونی پسر بدست می‌آید. سن این پسر برابر است با:

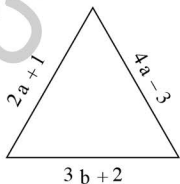
- ۱) ۷ ۲) ۸ ۳) ۹ ۴) ۱۰

۶. پاسخ معادله $\frac{5x-3}{6} - \frac{2x+2}{4} + 3 = 0$ کدام گزینه است؟

- ۱) -۶ ۲) ۶ ۳) ۴ ۴) -۴

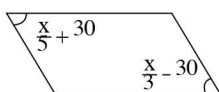
۷. اگر $(\square + 2)x - 4(2x + y) = -4y$ باشد که در آن \square عددی صحیح می‌باشد، در این صورت حاصل $\square \times (1 - \square)$ برابر چه عددی است؟

- ۱) -۱۲ ۲) -۴۲ ۳) -۳۰ ۴) -۲۰



۸. شکل روبه‌رو، یک مثلث متساوی الاضلاع می‌باشد، حاصل $a + 2b$ کدام است؟

- ۱) ۳ ۲) ۴ ۳) ۵ ۴) ۶



۹. مقدار x در شکل مقابل برابر است با: (چهارضلعی متوازی الاضلاع است)

- ۱) 150° ۲) 350° ۳) 250° ۴) 450°

ریاضی هفتم فصل سوم معادله

۱۰. محمد ۱۴۷ تومان و علیرضا ۵۷ تومان پول دارد. محمد چند تومان باید به علیرضا بدهد تا دقیقاً ۲ برابر او پول داشته باشد؟

- ۱۱ (۱) ۱۹ (۲) ۳۰ (۳) ۴۵ (۴)

۱۱. به ازای چه مقدار از x ، عبارت‌های $\frac{x+10}{4}$ و $\frac{2x+3}{2}$ ، ساق‌های یک مثلث متساوی‌الساقین هستند؟

- ۱ (۱) $\frac{1}{3}$ (۲) $\frac{2}{3}$ (۳) $\frac{4}{3}$ (۴) ۲

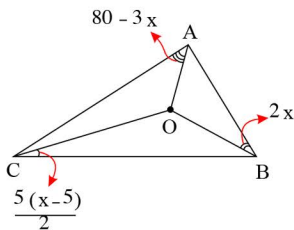
۱۲. سه عدد صحیح متوالی را طوری بدست آورید که پنج برابر مجموع عددهای دوم و سوم، ۳۶ واحد بیشتر از سه برابر عدد اول باشد؟

- ۱ (۱) ۳ و ۲ و ۱ (۲) ۴ و ۳ و ۲ (۳) ۵ و ۴ و ۳ (۴) ۶ و ۵ و ۴

۱۳. به عددهای -1 ، -8 ، 24 ، -11 چه عددی اضافه کنیم تا میانگین تغییر نکند؟

- ۱ (۱) صفر (۲) $+1$ (۳) ۴ (۴) این امکان وجود ندارد

۱۴. اگر نقطه‌ی O محل برخورد نیم‌سازهای مثلث زیر باشد، باتوجه به اندازه‌ی زاویه‌های داده شده، مقدار عددی x برابر است با:



- ۱ (۱) ۱۰ (۲) ۱۵ (۳) ۲۰ (۴) ۳۰

۱۵. زاویه‌های مثلثی $2x + 40^\circ$ ، $40^\circ - x$ ، $3x + 20^\circ$ درجه هستند. این مثلث چه نوع مثلثی است؟

- ۱ (۱) قائم‌الزاویه (۲) متساوی‌الساقین (۳) غیرمشخص (۴) گزینه‌ی ۱ و ۲

آکادمی آموزشی تیزلاین >

ریاضی هفتم فصل سوم
معادله

پاسخنامه کلیدی

۱ . ۴	۴ . ۳	۷ . ۳	۱۰ . ۱	۱۳ . ۴
۲ . ۱	۵ . ۴	۸ . ۲	۱۱ . ۳	۱۴ . ۲
۳ . ۴	۶ . ۱	۹ . ۴	۱۲ . ۳	۱۵ . ۴

مجری همایش کلاس و آزمون در سراسر کشور

با حضور اساتید برگزیده ی کشوری تیزهوشان و کنکور

@mathmovie6

@Tizline.ir

www.Tizline.ir

@Bigbest23

۰۹۳۳ ۳۸۴ ۰۲۰۲

۵۰۰۰۲۶۹۱۳۲۴

۰۲۱ ۴۴۱۳ ۶۹۷۵

آکادمی آموزشی تیزلاین

مجری همایش کلاس و آزمون در سراسر کشور

با حضور اساتید برگزیده ی کشوری تیزهوشان و کنکور



ششم

استاد مسعود بیگدلی
ترم دو دوره سالانه
ریاضی تیزهوشان
از ۲۹ دی، دوشنبه ها
۱۶:۳۰ تا ۱۷:۴۵ | ۱۲ جلسه
۳۵۰.۰۰۰



استاد مسعود بیگدلی
ترم دو دوره سالانه
هوش و خلاقیت
از ۲۹ دی، دوشنبه ها
۲۱:۱۵ - ۲۰:۰۰ | ۱۲ جلسه
۳۵۰.۰۰۰



ششم

دکتر قربانی
ترم دو دوره سالانه
علوم تیزهوشان
از ۱ بهمن، چهارشنبه ها
۱۸:۱۵ - ۱۹:۳۰ | ۱۲ جلسه
۳۵۰.۰۰۰



ششم

استاد حسن ربانی
دوره سالانه
فارسی تیزهوشان
از ۱ آذر، شنبه ها
۲۱:۱۵ - ۲۰:۰۰ | ۱۵ جلسه
۴۵۰.۰۰۰

برنامه کلاس های دوره ابتدایی آکادمی تیزلاین



پنجم

استاد وحید گوران
ترم دو دوره سالانه
ریاضی پیشرفت
از ۲۸ دی، یکشنبه ها
۱۸:۱۵ - ۱۹:۳۰ | ۱۲ جلسه
۳۵۰.۰۰۰



استاد پیمان لایق
ترم دو دوره سالانه
ساینس (علوم به لاتین)
از ۲۹ دی، دوشنبه ها
۲۱:۱۵ - ۲۰:۰۰ | ۱۲ جلسه
۳۵۰.۰۰۰ نفر



استاد سعید موساوند
زبان انگلیسی، ترم زمستان
سه شنبه ها از ۳۰ دی
۲۱:۱۵ - ۲۰:۰۰
جمعه ها از ۳ بهمن
۱۷:۴۵ - ۱۶:۳۰
۲۱:۱۵ - ۲۰:۰۰ | ۱۰ جلسه
۴۰۰.۰۰۰ نفر
طرفیت هر گروه: ۱۰ نفر



چهارم

استاد وحید گوران
ترم دو دوره سالانه
ریاضی پیشرفت
از ۲۸ دی، یکشنبه ها
۱۶:۳۰ - ۱۷:۴۵ | ۱۲ جلسه
۳۵۰.۰۰۰

تیزلاینی - شو

آزمون های آکادمی تیزلاین

شبیه سازترین
آزمون تیزهوشان

هشتم
۶+۱
مرحله

هفتم
۶+۱
مرحله

ششم
۱۰+۱
مرحله

پنجم
۸+۱
مرحله

چهارم
۱+۵
مرحله

نهم
۱۰+۱
مرحله

دهم
۷+۱
مرحله

چهارم تا دهم

با طراحی اساتید برجسته تیزهوشان کشور
استاد مسعود بیگدلی، استاد فرزاد تندرو، استاد میثم بهرامی
دکتر میثم کوهگرد، استاد مهدی مهدی زاده، دکتر قربانی و ...



تیزلاینی - شو

ثبت نام در سایت رسمی آکادمی تیزلاین

www.Tizline.ir | ۰۲۱ ۴۴۱۳ ۶۹۷۵ | ۰۹۳۳۳ ۳۸۴ ۰۲۰۲

آنلاین و حضوری
در نمایندگی ها



www.Tizline.ir



@Bigbest23



۰۹۳۳۳ ۳۸۴ ۰۲۰۲



۵۰۰۰۲۶۹۱۳۲۴



۰۲۱ ۴۴۱۳ ۶۹۷۵

برنامه کلاس های آکادمی تیزلاین: پایه هفتم



دکتر قربانی
ترم دو دوره سالانه
علوم تیز هوشان هفتم
از ۱ بهمن، چهارشنبه ها
۱۲ جلسه ۲۱:۱۵ - ۲۰:۰۰
۳۵۰.۰۰۰



استاد مسعود بیگدلی
ترم دو دوره سالانه
هوش و استعداد تحلیلی
از ۲ بهمن، پنج شنبه ها
۱۲ جلسه ۲۱:۱۵ - ۲۰:۰۰
۳۵۰.۰۰۰



استاد مسعود بیگدلی
ترم دو دوره سالانه
ریاضی تیز هوشان هفتم
از ۲۹ دی، دوشنبه ها
۱۲ جلسه ۱۹:۳۰ - ۱۸:۱۵
۳۵۰.۰۰۰



استاد مجید غلامی
دوره سالانه
از ۲۹ دی، دوشنبه ها
۱۰ جلسه ۲۱:۱۵ - ۲۰:۰۰
۳۰۰.۰۰۰



استاد پیمان لایق
از ۲۹ دی
ساینس (علوم به لاتین)
دوشنبه ها
۱۲ جلسه ۲۱:۱۵ - ۲۰:۰۰
۳۵۰.۰۰۰



استاد سعید موسی وند
زبان انگلیسی
سه شنبه ها از ۳۰ دی
جمعه ها از ۳ بهمن
۱۷:۴۵ - ۱۶:۳۰
۲۱:۱۵ - ۲۰:۰۰
۱۰ جلسه ۴۰۰.۰۰۰



دکتر کاظم غریبی
دوره سالانه
فارسی تیز هوشان هفتم
از ۱ آذر، شنبه ها
۱۵ جلسه ۲۱:۱۵ - ۲۰:۰۰
۴۵۰.۰۰۰



دکتر میثم کوهگرد
المپیاد فیزیک
از ۶ آذر
پنج شنبه ها
۱۵ جلسه ۲۱:۱۵ - ۲۰:۰۰
۴۵۰.۰۰۰



استاد بهزاد اسداله
استاد حسین حسین زاده
المپیاد ریاضی
از ۲ آذر، یکشنبه ها
۱۵ جلسه ۲۱:۱۵ - ۲۰:۰۰
۴۵۰.۰۰۰



دکتر قربانی
المپیاد زیست شناسی
از ۴ آذر
سه شنبه ها
۱۵ جلسه ۱۹:۳۰ - ۱۸:۱۵
۴۵۰.۰۰۰

تیزلاینی - شو

ثبت نام در سایت رسمی آکادمی تیزلاین

www.Tizline.ir

دوره سالانه شامل دو ترم ۱۲ جلسه ای با ویدیو قابل دانلود و جزوه قابل پرینت است.
دوره زبان فارسی تیز هوشان به صورت سالانه ۱۵ جلسه است.

آنلاین

☎ ۰۲۱ ۴۴۱۳ ۶۹۷۵

📍 ۰۹۳۳ ۳۸۴ ۰۲۰۲

✉ ۵۰۰۰۲۶۹۱۳۲۴

برنامه کلاس های آکادمی تیزلاین: پایه هشتم



دکتر قربانی
ترم دو دوره سالانه
علوم تیز هوشان هشتم
از ۲۸ دی، یکشنبه ها

۱۲ جلسه
۱۹:۳۰ - ۱۸:۱۵
۳۵۰.۰۰۰



استاد مسعود بیگدلی
ترم دو دوره سالانه
هوش و استعداد تحلیلی
از ۲ بهمن، پنجشنبه ها

۱۲ جلسه
۲۱:۱۵ - ۲۰:۰۰
۳۵۰.۰۰۰



استاد میثم بهرامی جویا
ترم دو دوره سالانه
ریاضی تیز هوشان هشتم
از ۱ بهمن، چهارشنبه ها

۱۲ جلسه
۲۱:۱۵ - ۲۰:۰۰
۳۵۰.۰۰۰



استاد مهدی مهدی زاده
دوره سالانه
فارسی تیز هوشان هشتم
از ۱ آذر، شنبه ها

۱۵ جلسه
۱۹:۳۰ - ۱۸:۱۵
۴۵۰.۰۰۰



استاد پیمان لایق
از ۲۹ دی
ساینس (علوم به لاتین)
دو شنبه ها

۱۲ جلسه
۲۱:۱۵ - ۲۰:۰۰
۳۵۰.۰۰۰



استاد سعید موساوند
زبان انگلیسی
سه شنبه ها از ۳۰ دی
جمعه ها از ۳ بهمن

۱۰ جلسه
۲۱:۱۵ - ۲۰:۰۰
۴۰۰.۰۰۰



استاد بهراد اسداله
استاد حسین حسین زاده
المپیاد ریاضی
از ۲ آذر، یکشنبه ها

۱۵ جلسه
۲۱:۱۵ - ۲۰:۰۰
۴۵۰.۰۰۰



دکتر میثم کوهگرد
المپیاد فیزیک
از ۶ آذر
پنجشنبه ها

۱۵ جلسه
۲۱:۱۵ - ۲۰:۰۰
۴۵۰.۰۰۰



دکتر قربانی
المپیاد زیست شناسی
از ۴ آذر
سه شنبه ها

۱۵ جلسه
۱۹:۳۰ - ۱۸:۱۵
۴۵۰.۰۰۰

ثبت نام در سایت رسمی آکادمی تیزلاین
#تیزلاینی_شو www.Tizline.ir

دوره سالانه شامل دو ترم ۱۲ جلسه ای با ویدیو قابل دانلود و جزوه قابل پرینت است.
دوره زبان فارسی تیز هوشان به صورت سالانه ۱۵ جلسه است.

آنلاین

☎ ۰۲۱ ۴۴۱۳ ۶۹۷۵

📍 ۰۹۳۳ ۳۸۴ ۰۲۰۲

✉ ۵۰۰۰۲۶۹۱۳۲۴

📷 mathmovie6

📷 Tizline.ir

برنامه کلاس های آکادمی تیزلاین: پایه نهم



استاد فرزاد تندرو
ترم دو دوره سالانه
ریاضی تیزهوشان نهم
از ۱ بهمن، چهارشنبه ها

۲۰:۱۵ - ۲۱:۱۵
۱۲ جلسه
۳۵۰.۰۰۰



استاد مسعود بیگدلی
ترم دو دوره سالانه
هوش و استعداد تحلیلی
از ۲ بهمن، پنجشنبه ها

۲۰:۱۵ - ۲۱:۱۵
۱۲ جلسه
۳۵۰.۰۰۰



دکتر قربانی
ترم دو دوره سالانه
علوم تیزهوشان نهم
از ۲۸ دی، یکشنبه ها

۲۰:۱۵ - ۲۱:۱۵
۱۲ جلسه
۳۵۰.۰۰۰



استاد مجید غلامی
دوره سالانه
از ۲۹ دی، دوشنبه ها

۲۰:۱۵ - ۲۱:۱۵
۱۰ جلسه
۳۰۰.۰۰۰



استاد پیمان لایق
از ۲۹ دی
ساینس (علوم به لاتین)
دوشنبه ها

۲۰:۱۵ - ۲۱:۱۵
۱۲ جلسه
۳۵۰.۰۰۰



استاد سعید موساوند
زبان انگلیسی
جمعه ها از ۳ بهمن
سه شنبه ها از ۳۰ دی

۱۶:۳۰ - ۱۷:۴۵
۲۰:۱۵ - ۲۱:۱۵
۱۰ جلسه
۴۰۰.۰۰۰



استاد مهدی مهدی زاده
دوره سالانه
فارسی تیزهوشان نهم
از ۱ آذر، شنبه ها

۲۰:۱۵ - ۲۱:۱۵
۱۵ جلسه
۴۵۰.۰۰۰



استاد بهزاد اسداله
استاد حسین حسین زاده
المپیاد ریاضی

از ۲ آذر، یکشنبه ها

۲۰:۱۵ - ۲۱:۱۵
۱۵ جلسه
۴۵۰.۰۰۰



دکتر میثم کوهگرد
المپیاد فیزیک
از ۶ آذر

۲۰:۱۵ - ۲۱:۱۵
۱۵ جلسه
۴۵۰.۰۰۰



دکتر قربانی
المپیاد زیست شناسی
از ۴ آذر

۱۸:۱۵ - ۱۹:۳۰
۱۵ جلسه
۴۵۰.۰۰۰

ثبت نام در سایت رسمی آکادمی تیزلاین

#تیزلاینی - شو www.Tizline.ir

دوره سالانه شامل دو ترم ۱۲ جلسه ای با ویدیو قابل دانلود و جزوه قابل پرینت است.

دوره زبان فارسی تیزهوشان به صورت سالانه ۱۵ جلسه است.

آنلاین

☎ ۰۲۱ ۴۴۱۳ ۶۹۷۵

📍 ۰۹۳۳ ۳۸۴ ۰۲۰۲

✉ ۵۰۰۰۲۶۹۱۳۲۴

برنامه کلاس های آکادمی تیزلاین:

پایه دهم



دکتر میثم کوهگرد
ترم دو دوره سالانه
فیزیک پیشرفته دهم
از ۲۹ دی ، دوشنبه ها

۱۲ جلسه
۳۵۰.۰۰۰ ۲۱:۱۵ - ۲۰:۰۰



دکتر قربانی
ترم دو دوره سالانه
شیمی پیشرفته دهم
از ۲۷ دی، شنبه ها

۱۲ جلسه
۳۵۰.۰۰۰ ۲۱:۱۵ - ۲۰:۰۰

تیزلاینی - شو



استاد فرزاد تندرو
ترم دو دوره سالانه
ریاضی پیشرفته دهم
از ۱ بهمن، چهار شنبه ها

۱۲ جلسه
۳۵۰.۰۰۰ ۱۹:۳۰ - ۱۸:۱۵



دکتر قربانی
ترم دو دوره سالانه
زیست شناسی پیشرفته دهم
از ۳۰ دی، سه شنبه ها

۱۲ جلسه
۳۵۰.۰۰۰ ۲۱:۱۵ - ۲۰:۰۰

ثبت نام در سایت رسمی آکادمی تیزلاین

 www.Tizline.ir

دوره سالانه شامل دو ترم ۱۲ جلسه ای با ویدیو قابل دانلود و جزوه قابل پرینت است .

☎ ۰۲۱ ۴۴۱۳ ۶۹۷۵

📍 ۰۹۳۳ ۳۸۴ ۰۲۰۲

✉ ۵۰۰۰۲۶۹۱۳۲۴

📷 @mathmovie6

📷 Tizline.ir