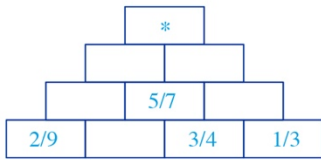


ریاضی پنجم فصل ۵ جمع اعداد اعشاری

۱. در شکل زیر عدد هر خانه، حاصل جمع دو خانه‌ی پایینی است. عددی که در خانه‌ی (*) قرار می‌گیرد، کدام است؟



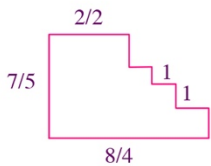
۲۱٫۳ (۲)

۱۸٫۹ (۱)

۲۰٫۶ (۴)

۲۲٫۷ (۳)

۲. محیط شکل زیر کدام است؟



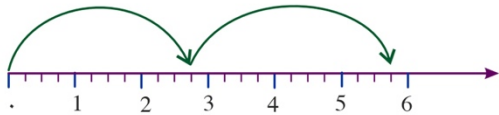
۲۸٫۲ (۲)

۲۵٫۱ (۱)

۳۰٫۹ (۴)

۳۱٫۸ (۳)

۳. کدام یک از جمع‌های زیر، متناسب با شکل زیر است؟



۲٫۷۵ + ۳ (۴)

۲٫۷۵ + ۵٫۳ (۳)

۲٫۵ + ۵٫۳ (۲)

۲٫۵ + ۳ (۱)

۴. مقدار تقریبی حاصل عبارت مقابل (با تقریب نزدیک‌ترین یکی)، کدام است؟

$$۰٫۸۹۳ + ۴٫۰۹۸ + ۱۳٫۰۵ - (۰٫۸۹۳ + ۱۳٫۹۵) =$$

۱۷٫۰۹۸ (۴)

۱۷ (۳)

۳ (۲)

۴٫۰۹۸ (۱)

۵. اگر ساعت سه و پانزده دقیقه را به صورت عدد اعشاری بنویسیم، کدام گزینه زیر می‌شود؟

۳٫۲۸ (۴)

۳٫۳۵ (۳)

۳٫۲۵ (۲)

۳٫۴۵ (۱)

۶. حاصل عبارت زیر در کدام گزینه آمده است؟

$$۱۴ + \frac{۲}{۵} + \frac{۱۳}{۲۵} + \frac{۷}{۱۲۵} + \frac{۱۰}{۶۲۵} =$$

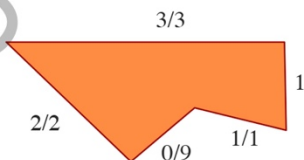
۱٫۴۹۹۲ (۴)

۱۴۹٫۹۲ (۳)

۱۴۰۹٫۹۹ (۲)

۱۴٫۹۹۲ (۱)

۷. محیط شکل زیر در کدام گزینه آمده است؟



۸٫۵ (۲)

۷٫۸ (۱)

۱۶٫۵ (۴)

۱۶٫۶ (۳)

ریاضی پنجم فصل ۵ جمع اعداد اعشاری

۸. در جدول ارزش مکانی زیر، جای خالی چه عددی را نشان می‌دهد؟

	دهگان	یکان	دهم	صدم	هزارم
	۳	۰	۲	۹	۲
+	۰	۰	۹	۳	۸
	۳		۲	۳	۰

۳ (۴)

۲ (۳)

۱ (۲)

صفر (۱)

۹. حاصل عبارت زیر در کدام گزینه آمده است؟

$$۵ + ۰٫۵ + ۰٫۰۰۵ + ۰٫۰۵ + ۵۵ + ۵٫۵۵ =$$

۷۰٫۵۵ (۴)

۷۰٫۱۰۵ (۳)

۸۰٫۵۵ (۲)

۶۶٫۱۰۵ (۱)

۱۰. حاصل کدام گزینه از بقیه بزرگتر است؟

$$\begin{array}{r} ۰٫۱۳۹۷ \\ + ۱۳۹٫۷ \\ \hline \end{array}$$

(۴)

$$\begin{array}{r} ۱۳۹٫۷ \\ + ۱٫۳۹۷ \\ \hline \end{array}$$

(۳)

$$\begin{array}{r} ۱۳٫۹۷ \\ + ۱۳۹٫۷ \\ \hline \end{array}$$

(۲)

$$\begin{array}{r} ۱٫۳۹۷ \\ + ۱۳٫۹۷ \\ \hline \end{array}$$

(۱)

۱۱. حاصل عبارت زیر کدام است؟

$$۱ + ۰٫۱ + ۱٫۱ + ۰٫۰۱ + ۱٫۰۱ + ۰٫۰۰۱ + ۱٫۰۰۱ =$$

۴٫۲۲۲ (۴)

۴٫۰۲۲ (۳)

۴٫۶ (۲)

۵٫۰۰۵ (۱)

۱۲. یک شیمی‌دان ۳٫۷۵ میلی‌لیتر از محلول (الف) را با ۵٫۶۲۵ میلی‌لیتر از محلول (ب) مخلوط کرد. محلول جدید چند میلی‌لیتر حجم دارد؟

۸٫۳۷۵ (۴)

۱٫۸۷۵ (۳)

۹٫۳۷۵ (۲)

۹٫۱۳۷۵ (۱)

۱۳. می‌خواهیم دور استخر مستطیل شکلی به طول ۸ متر و ۲۰ سانتی‌متر و عرض ۳ متر و ۴۰ سانتی‌متر را به فاصله‌ی ۳۰ سانتی‌متر کاشی کاری کنیم. چند متر کاشی نیاز داریم؟

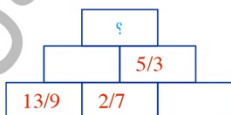
۲۷٫۳ (۴)

۲۵٫۶ (۳)

۵۸٫۷ (۲)

۵۲٫۲ (۱)

۱۴. در شکل زیر اگر هر عدد حاصل جمع دو عدد زیر خود باشد، به جای علامت سوال کدام عدد قرار خواهد گرفت؟



۲۰٫۹ (۲)

۱۸٫۷۳ (۱)

۲۱٫۹ (۴)

۱۶٫۶ (۳)

۱۵. حاصل عبارت زیر در کدام گزینه آمده است؟

$$۱۲۰ + ۱۲ + ۱٫۲ + ۰٫۱۲ + ۰٫۰۱۲ + ۱۲۰٫۰۱۲ =$$

۲۸۸٫۳۴۴ (۴)

۲۵۳٫۳۴۴ (۳)

۲۸۸٫۰۱۲ (۲)

۲۶۴٫۱۴۴ (۱)

ریاضی پنجم فصل ۵ جمع اعداد اعشاری

پاسخنامه کلیدی

۱ . ۲	۴ . ۲	۷ . ۲	۱۰ . ۲	۱۳ . ۳
۲ . ۳	۵ . ۲	۸ . ۲	۱۱ . ۴	۱۴ . ۴
۳ . ۳	۶ . ۱	۹ . ۱	۱۲ . ۲	۱۵ . ۳

آکادمی آموزشی تیزلین <

مجری همایش کلاس و آزمون در سراسر کشور

با حضور اساتید برگزیده ی کشوری تیزهوشان و کنکور



ششم

استاد مسعود بیگدلی
ترم دو دوره سالانه
ریاضی تیزهوشان
از ۲۹ دی ، دوشنبه ها
۱۲ جلسه
۱۶:۳۰ تا ۱۷:۴۵
۳۵۰.۰۰۰



استاد مسعود بیگدلی

ترم دو دوره سالانه
هوش و خلاقیت
از ۲۹ دی ، دوشنبه ها
۱۲ جلسه
۲۱:۱۵ - ۲۰:۰۰
۳۵۰.۰۰۰



ششم

دکتر قربانی
ترم دو دوره سالانه
علوم تیزهوشان
از ۱ بهمن ، چهارشنبه ها
۱۲ جلسه
۱۸:۱۵ - ۱۹:۳۰
۳۵۰.۰۰۰



ششم

استاد حسن ربانی
دوره سالانه
فارسی تیزهوشان
از ۱ آذر ، شنبه ها
۱۵ جلسه
۲۱:۱۵ - ۲۰:۰۰
۴۵۰.۰۰۰

برنامه کلاس های دوره ابتدایی آکادمی تیزلین



پنجم

استاد وحید گوران
ترم دو دوره سالانه
ریاضی پیشرفت
از ۲۸ دی ، یکشنبه ها
۱۲ جلسه
۱۸:۱۵ - ۱۹:۳۰
۳۵۰.۰۰۰



استاد پیمان لایق
ترم دو دوره سالانه
ساینس (علوم به لاتین)
از ۲۹ دی ، دوشنبه ها
۱۲ جلسه: ۳۵۰.۰۰۰
ظرفیت: ۱۵ نفر



استاد سعید موساوند

زبان انگلیسی، ترم زمستان
سه شنبه ها از ۳۰ دی
۲۱:۱۵ - ۲۰:۰۰
جمعه ها از ۳ بهمن
۱۷:۴۵ - ۱۶:۳۰
۱۰ جلسه: ۴۰۰.۰۰۰
ظرفیت هر گروه: ۱۰ نفر



چهارم

استاد وحید گوران
ترم دو دوره سالانه
ریاضی پیشرفت
از ۲۸ دی ، یکشنبه ها
۱۲ جلسه
۱۶:۳۰ - ۱۷:۴۵
۳۵۰.۰۰۰

تیزلینسی - شو

آزمون های آکادمی تیزلین

شبیه سازترین
آزمون تیزهوشان

هشتم
۶ + ۱
مرحله

هفتم
۶ + ۱
مرحله

ششم
۱۰ + ۱
مرحله

پنجم
۸ + ۱
مرحله

چهارم
۱ + ۵
مرحله

نهم
۱۰ + ۱
مرحله

دهم
۷ + ۱
مرحله

چهارم تا دهم

با طراحی اساتید برجسته تیزهوشان کشور

استاد مسعود بیگدلی، استاد فرزاد تندرو، استاد میثم بهرامی
دکتر میثم کوهگرد، استاد مهدی مهدی زاده، دکتر قربانی و...

آنلاین و حضوری
در نمایندگی ها

ثبت نام در سایت رسمی آکادمی تیزلین

www.Tizline.ir ۰۲۱ ۴۴۱۳ ۶۹۷۵ ۰۹۳۳ ۳۸۴ ۰۲۰۲

برنامه کلاس های آکادمی تیزلاین: پایه هفتم



دکتر قربانی
ترم دو دوره سالانه
علوم تیز هوشان هفتم
از ۱ بهمن، چهارشنبه ها
۲۱:۱۵ - ۲۰:۰۰
۱۲ جلسه
۳۵۰.۰۰۰



استاد مسعود بیگدلی
ترم دو دوره سالانه
هوش و استعداد تحلیلی
از ۲ بهمن، پنجشنبه ها
۲۱:۱۵ - ۲۰:۰۰
۱۲ جلسه
۳۵۰.۰۰۰



استاد مسعود بیگدلی
ترم دو دوره سالانه
ریاضی تیز هوشان هفتم
از ۲۹ دی، دوشنبه ها
۱۹:۳۰ - ۱۸:۱۵
۱۲ جلسه
۳۵۰.۰۰۰



استاد مجید غلامی
دوره سالانه
از ۲۹ دی، دوشنبه ها
۲۱:۱۵ - ۲۰:۰۰
۱۰ جلسه
۳۰۰.۰۰۰



استاد بهمان لایق
از ۲۹ دی
ساینس (علوم به لاتین)
دوشنبه ها
۲۱:۱۵ - ۲۰:۰۰
۱۲ جلسه
۳۵۰.۰۰۰



دکتر کاظم غریبی
دوره سالانه
فارسی تیز هوشان هفتم
از ۱ آذر، شنبه ها
۲۱:۱۵ - ۲۰:۰۰
۱۵ جلسه
۴۵۰.۰۰۰



استاد سعید موسی وند
زبان انگلیسی
سه شنبه ها از ۳۰ دی
جمعه ها از ۳ بهمن
۱۷:۴۵ - ۱۶:۳۰
۲۱:۱۵ - ۲۰:۰۰
۱۰ جلسه
۴۰۰.۰۰۰



دکتر قربانی
المپیاد زیست شناسی
از ۴ آذر
سه شنبه ها
۱۹:۳۰ - ۱۸:۱۵
۱۵ جلسه
۴۵۰.۰۰۰



دکتر میثم کوهگرد
المپیاد فیزیک
از ۶ آذر
پنجشنبه ها
۲۱:۱۵ - ۲۰:۰۰
۱۵ جلسه
۴۵۰.۰۰۰



استاد بهزاد اسداله
استاد حسین حسین زاده
المپیاد ریاضی
از ۲ آذر، یکشنبه ها
۲۱:۱۵ - ۲۰:۰۰
۱۵ جلسه
۴۵۰.۰۰۰

#تیزلاینی_شو www.Tizline.ir ثبت نام در سایت رسمی آکادمی تیزلاین

دوره سالانه شامل دو ترم ۱۲ جلسه ای با ویدیو قابل دانلود و جزوه قابل پرینت است.
دوره زبان فارسی تیز هوشان به صورت سالانه ۱۵ جلسه است.

آنلاین

☎ ۰۲۱ ۴۴۱۳ ۶۹۷۵

📍 ۰۹۳۳ ۳۸۴ ۰۲۰۲

✉ ۵۰۰۰۲۶۹۱۳۲۴

برنامه کلاس های آکادمی تیزلاین: پایه هشتم



دکتر قربانی
ترم دو دوره سالانه
علوم تیزهوشان هشتم
از ۲۸ دی، یکشنبه ها
۱۲ جلسه
۱۹:۳۰ - ۱۸:۱۵
۳۵۰.۰۰۰



استاد مسعود بیگدلی
ترم دو دوره سالانه
هوش و استعداد تحلیلی
از ۲ بهمن، پنجشنبه ها
۱۲ جلسه
۲۱:۱۵ - ۲۰:۰۰
۳۵۰.۰۰۰



استاد میثم بهرامی جویا
ترم دو دوره سالانه
ریاضی تیزهوشان هشتم
از ۱ بهمن، چهارشنبه ها
۱۲ جلسه
۲۱:۱۵ - ۲۰:۰۰
۳۵۰.۰۰۰



استاد سعید موساوند
زبان انگلیسی
سه شنبه ها از ۳۰ دی
۲۱:۱۵ - ۲۰:۰۰
۱۰ جلسه
۴۰۰.۰۰۰



استاد پیمان لایق
از ۲۹ دی
ساینس (علوم به لاتین)
دو شنبه ها
۱۲ جلسه
۲۱:۱۵ - ۲۰:۰۰
۳۵۰.۰۰۰



استاد مهدی مهدی زاده
دوره سالانه
فارسی تیزهوشان هشتم
از ۱ آذر، شنبه ها
۱۵ جلسه
۱۹:۳۰ - ۱۸:۱۵
۴۵۰.۰۰۰



استاد بهزاد اسداله
استاد حسین حسین زاده
المپیاد ریاضی
از ۲ آذر، یکشنبه ها
۱۵ جلسه
۲۱:۱۵ - ۲۰:۰۰
۴۵۰.۰۰۰



دکتر قربانی
المپیاد زیست شناسی
از ۴ آذر
سه شنبه ها
۱۵ جلسه
۱۹:۳۰ - ۱۸:۱۵
۴۵۰.۰۰۰



دکتر میثم کوهگرد
المپیاد فیزیک
از ۶ آذر
پنجشنبه ها
۱۵ جلسه
۲۱:۱۵ - ۲۰:۰۰
۴۵۰.۰۰۰

ثبت نام در سایت رسمی آکادمی تیزلاین
#تیزلاینی_شو www.Tizline.ir

دوره سالانه شامل دو ترم ۱۲ جلسه ای با ویدیو قابل دانلود و جزوه قابل پرینت است.
دوره زبان فارسی تیزهوشان به صورت سالانه ۱۵ جلسه است.

آنلاین

☎ ۰۲۱ ۴۴۱۳ ۶۹۷۵

📍 ۰۹۳۳ ۳۸۴ ۰۲۰۲

✉ ۵۰۰۰۲۶۹۱۳۲۴

برنامه کلاس های آکادمی تیزلاین: پایه نهم



استاد فرزاد تندرو
ترم دو دوره سالانه
ریاضی تیزهوشان نهم
از ۱ بهمن، چهارشنبه ها
۲۱:۱۵ - ۲۰:۰۰
۱۲ جلسه
۳۵۰.۰۰۰



استاد مسعود بیگدلی
ترم دو دوره سالانه
هوش و استعداد تحلیلی
از ۲ بهمن، پنجشنبه ها
۲۱:۱۵ - ۲۰:۰۰
۱۲ جلسه
۳۵۰.۰۰۰



دکتر قربانی
ترم دو دوره سالانه
علوم تیزهوشان نهم
از ۲۸ دی، یکشنبه ها
۲۱:۱۵ - ۲۰:۰۰
۱۲ جلسه
۳۵۰.۰۰۰



استاد مجید غلامی
دوره سالانه
از ۲۹ دی، دوشنبه ها
۲۱:۱۵ - ۲۰:۰۰
۱۰ جلسه
۳۰۰.۰۰۰



استاد پیمان لایق
از ۲۹ دی
ساینس (علوم به لاتین)
دوشنبه ها
۲۱:۱۵ - ۲۰:۰۰
۱۲ جلسه
۳۵۰.۰۰۰



استاد مهدی مهدی زاده
دوره سالانه
فارسی تیزهوشان نهم
از ۱ آذر، شنبه ها
۲۱:۱۵ - ۲۰:۰۰
۱۵ جلسه
۴۵۰.۰۰۰



استاد سعید موساوند
زبان انگلیسی
جمعه ها از ۳ بهمن
سه شنبه ها از ۳۰ دی
۱۷:۴۵ - ۱۶:۳۰
۲۱:۱۵ - ۲۰:۰۰
۱۰ جلسه
۴۰۰.۰۰۰



استاد بهزاد اسداله
استاد حسین حسین زاده
المپیاد ریاضی
از ۲ آذر، یکشنبه ها
۲۱:۱۵ - ۲۰:۰۰
۱۵ جلسه
۴۵۰.۰۰۰



دکتر میثم کوهگرد
المپیاد فیزیک
از ۶ آذر
پنجشنبه ها
۲۱:۱۵ - ۲۰:۰۰
۱۵ جلسه
۴۵۰.۰۰۰



دکتر قربانی
المپیاد زیست شناسی
از ۴ آذر
سه شنبه ها
۱۹:۳۰ - ۱۸:۱۵
۱۵ جلسه
۴۵۰.۰۰۰

ثبت نام در سایت رسمی آکادمی تیزلاین

#تیزلاینی - شو

www.Tizline.ir

دوره سالانه شامل دو ترم ۱۲ جلسه ای با ویدیو قابل دانلود و جزوه قابل پرینت است.
دوره زبان فارسی تیزهوشان به صورت سالانه ۱۵ جلسه است.

آنلاین

☎ ۰۲۱ ۴۴۱۳ ۶۹۷۵

📍 ۰۹۳۳ ۳۸۴ ۰۲۰۲

✉ ۵۰۰۰۲۶۹۱۳۲۴

@mathmovie6

@Tizline.ir

برنامه کلاس های آکادمی تیزلاین:

پایه دهم



دکتر میثم کوهگرد
ترم دو دوره سالانه
فیزیک پیشرفته دهم
از ۲۹ دی، دوشنبه ها

۲۱:۱۵ - ۲۰:۰۰
۱۲ جلسه
۳۵۰.۰۰۰



دکتر قربانی
ترم دو دوره سالانه
شیمی پیشرفته دهم
از ۲۷ دی، شنبه ها

۲۱:۱۵ - ۲۰:۰۰
۱۲ جلسه
۳۵۰.۰۰۰

تیزلاینی - شو



استاد فرزاد تندرو
ترم دو دوره سالانه
ریاضی پیشرفته دهم
از ۱ بهمن، چهارشنبه ها

۱۹:۳۰ - ۱۸:۱۵
۱۲ جلسه
۳۵۰.۰۰۰



دکتر قربانی
ترم دو دوره سالانه
زیست شناسی پیشرفته دهم
از ۳۰ دی، سه شنبه ها

۲۱:۱۵ - ۲۰:۰۰
۱۲ جلسه
۳۵۰.۰۰۰

ثبت نام در سایت رسمی آکادمی تیزلاین

 www.Tizline.ir

دوره سالانه شامل دو ترم ۱۲ جلسه ای با ویدیو قابل دانلود و جزوه قابل پرینت است.

☎ ۰۲۱ ۴۴۱۳ ۶۹۷۵

📍 ۰۹۳۳ ۳۸۴ ۰۲۰۲

✉ ۵۰۰۰۲۶۹۱۳۲۴

@mathmovie6

@Tizline.ir