

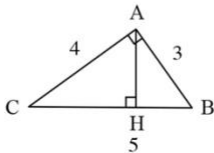
ریاضی نهم فصل ۳

حل مسئله در هندسه



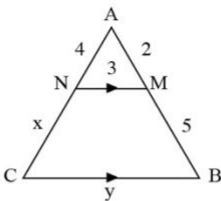
۱. در شکل زیر محیط شش ضلعی منتظم ۳۶ است. هر رأس مرکز یک دایره و شعاع هر یک از دایره‌ها نصف طول شش ضلعی است. محیط شکل هاشورخورده کدام است؟

- ۱) 15π ۲) 12π ۳) 13π ۴) 6π



۲. AH برابر با کدام گزینه است؟

- ۱) ۲٫۴ ۲) ۴٫۸ ۳) ۱٫۲ ۴) ۳٫۶



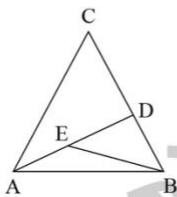
۳. در مثلث مقابل، $x + y$ برابر است با:

- ۱) ۱۸ ۲) ۱۷٫۵ ۳) ۲۱ ۴) ۲۰٫۵

۴. در مربعی به ضلع ۴ واحد، فاصله‌ی وسط یک ضلع از قطر مربع کدام است؟

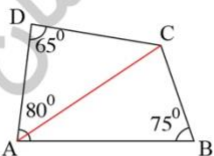
- ۱) ۱ ۲) $\frac{2}{3}$ ۳) $\sqrt{2}$ ۴) $\sqrt{3}$

۵. مثلث ABC متساوی الساقین است، $|AC| = |BC|$ و $\angle ACB = 36^\circ$. مثلث‌های BDA و EBD هم مثلث‌های متساوی الساقین اند و $|AB| = |AD|$ و $|DE| = |DB|$. اندازه‌ی $\angle DEB$ چند است؟



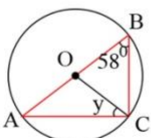
- ۱) 90° ۲) 36° ۳) 54° ۴) 72°

۶. در چهارضلعی محدب ABCD، $AB = AC$ ، $\angle BAD = 80^\circ$ ، $\angle ABC = 75^\circ$ و $\angle ADC = 65^\circ$ اندازه‌ی زاویه‌ی SBDC کدام است؟



- ۱) ۱۰ ۲) ۱۵ ۳) ۲۰ ۴) ۳۰

۷. مثلث‌های AOC و COB در داخل دایره‌ای به مرکز O رسم شده‌اند. خط AOB هم خطی مستقیم است. در صورتیکه $\widehat{OBC} = 58^\circ$ باشد، اندازه‌ی \widehat{OCA} برابر است با:



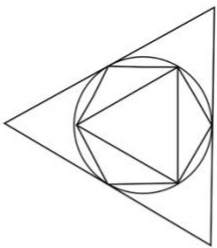
- ۱) 58° ۲) 60° ۳) 64° ۴) 32°

ریاضی نهم فصل ۳ حل مسئله در هندسه

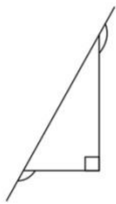
۸. دو زاویه A و B مکمل هستند و زاویه A از سه برابر زاویه B ، 20° درجه کمتر است. زاویه B چند درجه است؟

- ۱) 40° ۲) 45° ۳) 50° ۴) 55°

۹. در شکل زیر، یک مثلث متساوی الاضلاع و یک شش ضلعی منتظم در دایره‌ای محاط شده و خود دایره در یک مثلث متساوی الاضلاع محاط شده است. مساحت مثلث بزرگ S_1 است. مساحت مثلث کوچک S_2 است و مساحت شش ضلعی S_3 است. کدام رابطه درست است؟



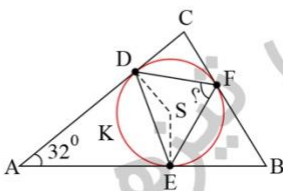
- ۱) $S_3 = \sqrt{S_1 \cdot S_2}$ ۲) $S_3 = \frac{S_1 + S_2}{2}$
۳) $S_1 = S_2 + S_3$ ۴) $S_3 = \sqrt{S_1^2 + S_2^2}$



۱۰. حاصل جمع دو زاویه‌ی علامت خورده چه قدر است؟

- ۱) 150° ۲) 118°
۳) 270° ۴) 32°

۱۱. در شکل زیر مثلث ABC را با دایره‌ی محاطی‌اش (که مرکز آن S است) نشان داده‌ایم. نقطه‌های D ، E و F نقاط تماس دایره با اضلاع مثلث‌اند. اگر اندازه‌ی زاویه‌ی DAE برابر 32° باشد، اندازه‌ی زاویه‌ی DFE چه قدر است؟

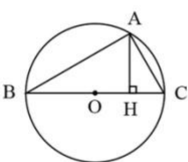


- ۱) 46° ۲) 58°
۳) 64° ۴) 74°

۱۲. مستطیلی به مساحت ۱۲ با مستطیلی به ضلع ۶ و قطر ۱۰ متشابه است. قطر مستطیل دیگر چقدر است؟

- ۱) $\frac{5}{2}$ ۲) ۵ ۳) ۲۰ ۴) $\frac{5}{8}$

۱۳. باتوجه به شکل زیر اندازه AH کدام است؟ ($OB = 5$ و $AC = 2\sqrt{5}$ و O مرکز دایره است.)



- ۱) ۲ ۲) ۳ ۳) ۴ ۴) ۵

ریاضی نهم فصل ۳ حل مسئله در هندسه

۱۴. در یک مثلث متساوی الساقین به اضلاع $\sqrt{3}$ و $\sqrt{3}$ و $\sqrt{2}$ ، نسبت ارتفاع وارد بر قاعده به ساق مثلث کدام است؟

$\frac{\sqrt{30}}{5}$ (۴)

$\sqrt{3}$ (۳)

$\frac{\sqrt{30}}{6}$ (۲)

$\frac{\sqrt{3}}{3}$ (۱)

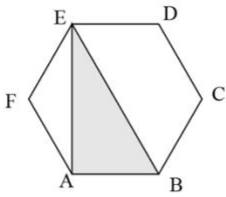
۱۵. شش ضلعی $ABCDEF$ منتظم و مساحت AEB برابر $32\sqrt{3}$ می‌باشد. اندازه \overline{AE} برابر با چند است؟

$4\sqrt{3}$ (۲)

$2\sqrt{3}$ (۱)

۸ (۴)

$8\sqrt{3}$ (۳)



ریاضی نهم فصل ۳
حل مسئله در هندسه

پاسخنامه کلیدی

- | | | | | | | | | | |
|---|---|---|---|---|---|----|---|----|---|
| ۱ | ۳ | ۴ | ۴ | ۷ | ۴ | ۱۰ | ۳ | ۱۳ | ۳ |
| ۲ | ۱ | ۵ | ۴ | ۸ | ۳ | ۱۱ | ۴ | ۱۴ | ۴ |
| ۳ | ۴ | ۶ | ۴ | ۹ | ۱ | ۱۲ | ۴ | ۱۵ | ۴ |

آکادمی آموزشی تیزلاین

مجری همایش کلاس و آزمون در سراسر کشور

با حضور اساتید برگزیده ی کشوری تیزهوشان و کنکور



ششم

استاد مسعود بیگدلی
ترم دو دوره سالانه
ریاضی تیزهوشان
از ۲۹ دی ، دوشنبه ها
۱۲ جلسه ۱۷:۴۵ تا ۱۶:۳۰
۳۵۰.۰۰۰



استاد مسعود بیگدلی
ترم دو دوره سالانه
هوش و خلاقیت
از ۲۹ دی ، دوشنبه ها
۱۲ جلسه ۲۱:۱۵ - ۲۰:۰۰
۳۵۰.۰۰۰



ششم

دکتر قربانی
ترم دو دوره سالانه
علوم تیزهوشان
از ۱ بهمن ، چهارشنبه ها
۱۲ جلسه ۱۹:۳۰ - ۱۸:۱۵
۳۵۰.۰۰۰



ششم

استاد حسن ربانی
دوره سالانه
فارسی تیزهوشان
از ۱ آذر ، شنبه ها
۱۵ جلسه ۲۱:۱۵ - ۲۰:۰۰
۴۵۰.۰۰۰

برنامه کلاس های دوره ابتدایی آکادمی تیزلاین



پنجم

استاد وحید گوران
ترم دو دوره سالانه
ریاضی پیشرفت
از ۲۸ دی ، یکشنبه ها
۱۲ جلسه ۱۹:۳۰ - ۱۸:۱۵
۳۵۰.۰۰۰



استاد پیمان لایق
ترم دو دوره سالانه
ساینس (علوم به لاتین)
از ۲۹ دی ، دوشنبه ها
۱۲ جلسه: ۳۵۰.۰۰۰
ظرفیت: ۱۵ نفر



استاد سعید موساوند
زبان انگلیسی، ترم زمستان
سه شنبه ها از ۳۰ دی
۲۱:۱۵ - ۲۰:۰۰
جمعه ها از ۳ بهمن
۱۷:۴۵ - ۱۶:۳۰
۱۰ جلسه: ۴۰۰.۰۰۰
ظرفیت هر گروه: ۱۰ نفر



چهارم

استاد وحید گوران
ترم دو دوره سالانه
ریاضی پیشرفت
از ۲۸ دی ، یکشنبه ها
۱۲ جلسه ۱۷:۴۵ - ۱۶:۳۰
۳۵۰.۰۰۰

تیزلاینی - شو

آزمون های آکادمی تیزلاین شبیه سازترین آزمون تیزهوشان

هشتم
۶ + ۱
مرحله

هفتم
۶ + ۱
مرحله

ششم
۱۰ + ۱
مرحله

پنجم
۸ + ۱
مرحله

چهارم
۱ + ۵
مرحله

نهم
۱۰ + ۱
مرحله

دهم
۷ + ۱
مرحله

چهارم تا دهم

با طراحی اساتید برجسته تیزهوشان کشور
استاد مسعود بیگدلی، استاد فرزاد تندرو، استاد میثم بهرامی
دکتر میثم کوهگرد، استاد مهدی مهدی زاده، دکتر قربانی و...



تیزلاینی - شو

آنلاین و حضوری
در نمایندگی ها

ثبت نام در سایت رسمی آکادمی تیزلاین

www.Tizline.ir ۰۲۱ ۴۴۱۳ ۶۹۷۵ ۰۹۳۳ ۳۸۴ ۰۲۰۲

برنامه کلاس های آکادمی تیزلاین: پایه هفتم



دکتر قربانی
ترم دو دوره سالانه
علوم تیز هوشان هفتم
از ۱ بهمن، چهارشنبه ها
۲۱:۱۵ - ۲۰:۰۰
۱۲ جلسه
۳۵۰.۰۰۰



استاد مسعود بیگدلی
ترم دو دوره سالانه
هوش و استعداد تحلیلی
از ۲ بهمن، پنجشنبه ها
۲۱:۱۵ - ۲۰:۰۰
۱۲ جلسه
۳۵۰.۰۰۰



استاد مسعود بیگدلی
ترم دو دوره سالانه
ریاضی تیز هوشان هفتم
از ۲۹ دی، دوشنبه ها
۱۹:۳۰ - ۱۸:۱۵
۱۲ جلسه
۳۵۰.۰۰۰



استاد مجید غلامی
دوره سالانه
از ۲۹ دی، دوشنبه ها
۲۱:۱۵ - ۲۰:۰۰
۱۰ جلسه
۳۰۰.۰۰۰



استاد پیمان لایق
از ۲۹ دی
ساینس (علوم به لاتین)
دوشنبه ها
۲۱:۱۵ - ۲۰:۰۰
۱۲ جلسه
۳۵۰.۰۰۰



دکتر کاظم غریبی
دوره سالانه
فارسی تیز هوشان هفتم
از ۱ آذر، شنبه ها
۲۱:۱۵ - ۲۰:۰۰
۱۵ جلسه
۴۵۰.۰۰۰



استاد سعید موسی وند
زبان انگلیسی
سه شنبه ها از ۳۰ دی
جمعه ها از ۳ بهمن
۱۷:۴۵ - ۱۶:۳۰
۲۱:۱۵ - ۲۰:۰۰
۱۰ جلسه
۴۰۰.۰۰۰



دکتر قربانی
المپیاد زیست شناسی
از ۴ آذر
سه شنبه ها
۱۹:۳۰ - ۱۸:۱۵
۱۵ جلسه
۴۵۰.۰۰۰



دکتر میثم کوهگرد
المپیاد فیزیک
از ۶ آذر
پنجشنبه ها
۲۱:۱۵ - ۲۰:۰۰
۱۵ جلسه
۴۵۰.۰۰۰



استاد بهزاد اسداله
استاد حسین حسین زاده
المپیاد ریاضی
از ۲ آذر، یکشنبه ها
۲۱:۱۵ - ۲۰:۰۰
۱۵ جلسه
۴۵۰.۰۰۰

ثبت نام در سایت رسمی آکادمی تیزلاین
#تیزلاینی_شو www.Tizline.ir

دوره سالانه شامل دو ترم ۱۲ جلسه ای با ویدیو قابل دانلود و جزوه قابل پرینت است.
دوره زبان فارسی تیز هوشان به صورت سالانه ۱۵ جلسه است.

آنلاین

☎ ۰۲۱ ۴۴۱۳ ۶۹۷۵

📍 ۰۹۳۳ ۳۸۴ ۰۲۰۲

✉ ۵۰۰۰۲۶۹۱۳۲۴

برنامه کلاس های آکادمی تیزلاین: پایه هشتم



دکتر قربانی
ترم دو دوره سالانه
علوم تیزهوشان هشتم
از ۲۸ دی، یکشنبه ها
۱۲ جلسه ۱۹:۳۰ - ۱۸:۱۵
۳۵۰.۰۰۰



استاد مسعود بیگدلی
ترم دو دوره سالانه
هوش و استعداد تحلیلی
از ۲ بهمن، پنجشنبه ها
۱۲ جلسه ۲۱:۱۵ - ۲۰:۰۰
۳۵۰.۰۰۰



استاد میثم بهرامی جویا
ترم دو دوره سالانه
ریاضی تیزهوشان هشتم
از ۱ بهمن، چهارشنبه ها
۱۲ جلسه ۲۱:۱۵ - ۲۰:۰۰
۳۵۰.۰۰۰



استاد مهدی مهدی زاده
دوره سالانه
فارسی تیزهوشان هشتم
از ۱ آذر، شنبه ها
۱۵ جلسه ۱۹:۳۰ - ۱۸:۱۵
۴۵۰.۰۰۰



استاد پیمان لایق
از ۲۹ دی
ساینس (علوم به لاتین)
دو شنبه ها
۱۲ جلسه ۲۱:۱۵ - ۲۰:۰۰
۳۵۰.۰۰۰



استاد سعید موساوند
زبان انگلیسی
سه شنبه ها از ۳۰ دی
جمعه ها از ۳ بهمن
۱۷:۴۵ - ۱۶:۳۰
۲۱:۱۵ - ۲۰:۰۰
۱۰ جلسه ۴۰۰.۰۰۰



استاد بهزاد اسداله
استاد حسین حسین زاده
المپیاد ریاضی
از ۲ آذر، یکشنبه ها
۱۵ جلسه ۲۱:۱۵ - ۲۰:۰۰
۴۵۰.۰۰۰



دکتر میثم کوهگرد
المپیاد فیزیک
از ۶ آذر
پنجشنبه ها
۱۵ جلسه ۲۱:۱۵ - ۲۰:۰۰
۴۵۰.۰۰۰



دکتر قربانی
المپیاد زیست شناسی
از ۴ آذر
سه شنبه ها
۱۵ جلسه ۱۹:۳۰ - ۱۸:۱۵
۴۵۰.۰۰۰

ثبت نام در سایت رسمی آکادمی تیزلاین
#تیزلاینی_شو www.Tizline.ir

دوره سالانه شامل دو ترم ۱۲ جلسه ای با ویدیو قابل دانلود و جزوه قابل پرینت است.
دوره زبان فارسی تیزهوشان به صورت سالانه ۱۵ جلسه است.

آنلاین

☎ ۰۲۱ ۴۴۱۳ ۶۹۷۵

📍 ۰۹۳۳ ۳۸۴ ۰۲۰۲

✉ ۵۰۰۰۲۶۹۱۳۲۴

@mathmovie6

@Tizline.ir

برنامه کلاس های آکادمی تیزلاین: پایه نهم



استاد فرزاد تندرو
ترم دو دوره سالانه
ریاضی تیزهوشان نهم
از ۱ بهمن، چهارشنبه ها
۲۱:۱۵ - ۲۰:۰۰
۱۲ جلسه
۳۵۰.۰۰۰



استاد مسعود بیگدلی
ترم دو دوره سالانه
هوش و استعداد تحلیلی
از ۲ بهمن، پنجشنبه ها
۲۱:۱۵ - ۲۰:۰۰
۱۲ جلسه
۳۵۰.۰۰۰



دکتر قربانی
ترم دو دوره سالانه
علوم تیزهوشان نهم
از ۲۸ دی، یکشنبه ها
۲۱:۱۵ - ۲۰:۰۰
۱۲ جلسه
۳۵۰.۰۰۰



استاد مجید غلامی
دوره سالانه
از ۲۹ دی، دوشنبه ها
۲۱:۱۵ - ۲۰:۰۰
۱۰ جلسه
۳۰۰.۰۰۰



استاد پیمان لایق
از ۲۹ دی
ساینس (علوم به لاتین)
دوشنبه ها
۲۱:۱۵ - ۲۰:۰۰
۱۲ جلسه
۳۵۰.۰۰۰



استاد مهدی مهدی زاده
دوره سالانه
فارسی تیزهوشان نهم
از ۱ آذر، شنبه ها
۲۱:۱۵ - ۲۰:۰۰
۱۵ جلسه
۴۵۰.۰۰۰



استاد سعید موساوند
زبان انگلیسی
جمعه ها از ۳ بهمن
سه شنبه ها از ۳۰ دی
۱۷:۴۵ - ۱۶:۳۰
۲۱:۱۵ - ۲۰:۰۰
۱۰ جلسه
۴۰۰.۰۰۰



استاد بهزاد اسداله
استاد حسین حسین زاده
المپیاد ریاضی
از ۲ آذر، یکشنبه ها
۲۱:۱۵ - ۲۰:۰۰
۱۵ جلسه
۴۵۰.۰۰۰



دکتر میثم کوهگرد
المپیاد فیزیک
از ۶ آذر
پنجشنبه ها
۲۱:۱۵ - ۲۰:۰۰
۱۵ جلسه
۴۵۰.۰۰۰



دکتر قربانی
المپیاد زیست شناسی
از ۴ آذر
سه شنبه ها
۱۹:۳۰ - ۱۸:۱۵
۱۵ جلسه
۴۵۰.۰۰۰

ثبت نام در سایت رسمی آکادمی تیزلاین

#تیزلاینی - شو

www.Tizline.ir

دوره سالانه شامل دو ترم ۱۲ جلسه ای با ویدیو قابل دانلود و جزوه قابل پرینت است.
دوره زبان فارسی تیزهوشان به صورت سالانه ۱۵ جلسه است.

آنلاین

☎ ۰۲۱ ۴۴۱۳ ۶۹۷۵

📍 ۰۹۳۳ ۳۸۴ ۰۲۰۲

✉ ۵۰۰۰۲۶۹۱۳۲۴

@mathmovie6

Tizline.ir

برنامه کلاس های آکادمی تیزلاین:

پایه دهم



دکتر میثم کوهگرد
ترم دو دوره سالانه
فیزیک پیشرفته دهم
از ۲۹ دی، دوشنبه ها

۲۱:۱۵ - ۲۰:۰۰
۱۲ جلسه
۳۵۰.۰۰۰



دکتر قربانی
ترم دو دوره سالانه
شیمی پیشرفته دهم
از ۲۷ دی، شنبه ها

۲۱:۱۵ - ۲۰:۰۰
۱۲ جلسه
۳۵۰.۰۰۰

تیزلاینی - شو



استاد فرزاد تندرو
ترم دو دوره سالانه
ریاضی پیشرفته دهم
از ۱ بهمن، چهارشنبه ها

۱۹:۳۰ - ۱۸:۱۵
۱۲ جلسه
۳۵۰.۰۰۰



دکتر قربانی
ترم دو دوره سالانه
زیست شناسی پیشرفته دهم
از ۳۰ دی، سه شنبه ها

۲۱:۱۵ - ۲۰:۰۰
۱۲ جلسه
۳۵۰.۰۰۰

ثبت نام در سایت رسمی آکادمی تیزلاین

www.Tizline.ir

دوره سالانه شامل دو ترم ۱۲ جلسه ای با ویدیو قابل دانلود و جزوه قابل پرینت است.

☎ ۰۲۱ ۴۴۱۳ ۶۹۷۵

📍 ۰۹۳۳ ۳۸۴ ۰۲۰۲

✉ ۵۰۰۰۲۶۹۱۳۲۴

@mathmovie6

Tizline.ir