



آکادمی آنلاین تیزلاین قوی ترین پلتفرم آموزشی تیز هوشان

برگزار کننده کلاس های آنلاین و حضوری تیز هوشان ✓

و المپیاد از پایه چهارم تا دوازدهم

آزمون های آنلاین و حضوری ✓

مشاوره تخصصی ✓

با اسکن QR کد روبرو
وارد صفحه اینستاگرام
آکادمی تیزلاین شو و از
محتوای آموزشی
رایگان لذت ببر







برای ورود به صفحه اصلی سایت آکادمی تیزلاین کلیک کنید

برای دانلود دفترچه آزمون های مختلف برای هر پایه کلیک کنید

برای مطالعه مقالات بروز آکادمی تیزلاین کلیک کنید

<p>۱- درست یا نادرست بودن جمله های زیر را مشخص کنید.</p> <p>الف- اگر یک عدد را در عددهای ...۱،۲،۳ ضرب کنیم، حاصل را مضرب های آن عدد می گوئیم. درست <input type="radio"/> نادرست <input type="radio"/></p> <p>ب- برای تشخیص زوج بودن یک عدد، علاوه بر یکان به دهگان هم نیاز داریم. درست <input type="radio"/> نادرست <input type="radio"/></p> <p>ج- بین دو عدد زوج، حداقل یک عدد فرد وجود دارد. درست <input type="radio"/> نادرست <input type="radio"/></p> <p>د- سیزدهمین مضرب ۵، عدد ۶۰ است. درست <input type="radio"/> نادرست <input type="radio"/></p>
<p>۲- جاهای خالی را پر کنید.</p> <p>الف- کوچکترین عدد طبیعی دو رقمی است.</p> <p>ب- حاصل جمع هر دو عدد فرد، عددی است.</p> <p>ج- حاصل جمع دو عدد زوج، عددی است.</p> <p>د- قرینه ی قرینه عدد ۷-، عدد است.</p>
<p>۳- با توجه به الگوی زیر، عدد بعدی، کدام است.</p> <p>۳۶، ۴۳، ۵۲، ۶۳، ...</p> <p>الف- ۷۲ ب- ۷۳ ج- ۷۴ د- ۷۶</p>
<p>۴- عدد نهم در الگوی مقابل کدام است.</p> <p>۳، ۸، ۱۳، ۱۸، ...</p> <p>الف- ۵۷ ب- ۴۷ ج- ۳۷ د- ۴۳</p>
<p>۵- بزرگترین عدد صحیح منفی دو رقمی کدام است.</p> <p>الف- ۱۰۰- ب- ۹۹- ج- ۱۰- د- ۹۰-</p>
<p>۶- کدام عدد از بقیه کمتر است.</p> <p>الف- ۹ ب- ۰ ج- ۹- د- ۹۹-</p>
<p>۷- با توجه به اعداد زیر به سوالات پاسخ دهید.</p> <p>۲۷۹۰ - ۲۰۱۰ - ۱۰۰۵ - ۷۸۶ - ۳۲۱ - ۱۴۸ - ۶۵۰ - ۲۴۳</p> <p>الف- اعدادی که بر ۲ بخش پذیرند کدامند؟</p> <p>ب- اعدادی که بر ۳ بخش پذیرند کدامند؟</p> <p>ج- اعدادی که بر ۵ بخش پذیرند کدامند؟</p> <p>د- اعدادی که بر ۲ و ۵ بخش پذیرند کدامند؟</p> <p>ن- اعدادی که بر ۱۰ بخش پذیرند کدامند؟</p> <p>و- اعدادی که بر ۶ بخش پذیرند کدامند؟</p> <p>ی- اعدادی که بر ۹ بخش پذیرند کدامند؟</p>
<p>۸- اعداد فرد بین دو عدد ۱ و ۳۱ را بنویسید.</p>

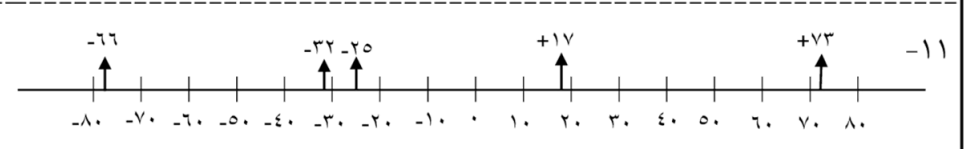


	<p>۹- چهار عدد بنویسید که هم بر ۲ و هم بر ۹ بخش پذیر باشد.</p>
	<p>۱۰- اعداد زیر را مقایسه کنید و علامت $< = >$ قرار دهید.</p> <p style="text-align: center;"> $۸۹۶ \times ۱۷۳ \bigcirc ۱۹۷۰۰۰$ </p> <p style="text-align: center;"> $۱۳۱/۸ \bigcirc -۳۲۹$ </p> <p style="text-align: center;"> $\frac{۲۵}{۵۵} \bigcirc \frac{۳۵}{۵۵}$ </p> <p style="text-align: center;"> $\frac{۵۵}{۲۵} \bigcirc \frac{۵۵}{۳۵}$ </p>
	<p>۱۱- اعداد زیر را روی محور به صورت تقریبی نشان دهید.</p> <p style="text-align: center;"> $-۶۶, +۷۳, -۳۲, +۱۷, -۲۵$ </p>
	<p>۱۲- با توجه به الگوی مربع های زیر به سوال ها پاسخ دهید.</p> <div style="display: flex; justify-content: space-around; align-items: center;"> <div style="text-align: center;">  <p>(1)</p> </div> <div style="text-align: center;">  <p>(2)</p> </div> <div style="text-align: center;">  <p>(3)</p> </div> <div style="text-align: center;">  <p>(4)</p> </div> </div> <p>الف- شکل صدم از چند مربع تشکیل شده است.</p> <p>ب- چندمین شکل از ۲۸ مربع ساخته شده است.</p>



پاسخنامه آزمون دی ماه ریاضی	
۱-الف- درست	ب- نادرست
ج- درست	د- نادرست
۲-الف- ۱۰	ب- زوج
ج- زوج	د- ۷-
۳-د	
۴-د	
۵-ج	
۶-د	
۷-الف -	۶۵۰،۱۴۸،۷۸۶،۲۰۱۰،۲۷۹۰
ب-	۳۲۱،۷۸۶،۱۰۰۵،۲۰۱۰،۲۷۹۰،۲۴۳
ج-	۶۰۵،۱۰۰۵،۲۰۱۰،۲۷۹۰
د-	۶۵۰،۲۰۱۰،۲۷۹
ن-	۶۵۰،۲۰۱۰،۲۷۹۰
و-	۷۸۶،۲۰۱۰،۲۷۹۰
ی-	۲۷۹۰،۲۴۳
۸-	۳،۵،۷،۹،۱۱،۱۳،۱۵،۱۷،۱۹،۲۱،۲۳،۲۵،۲۷،۲۹
۹-	۱۸،۳۶،۵۴،۷۲
۱۰-	$۱۳۱/۸ > -۳۲۹$
	$۸۹۶ \times ۱۷۳ < ۱۹۷۰۰۰$
	$\frac{۲۵}{۵۵} < \frac{۳۵}{۵۵}$
	$\frac{۵۵}{۲۵} > \frac{۵۵}{۳۵}$





۲× شماره شکل = رابطه

تعداد مربع‌ها = $100 \times 2 = 200$

$28 \div 2 = 14$

(الف) ۱۲- الف

(ب)

