



آکادمی آنلاین تیزلاین قوی ترین پلتفرم آموزشی تیز هوشان

برگزار کننده کلاس های آنلاین و حضوری تیز هوشان ✓

و المپیاد از پایه چهارم تا دوازدهم

آزمون های آنلاین و حضوری ✓

مشاوره تخصصی ✓

با اسکن QR کد روبرو
وارد صفحه اینستاگرام
آکادمی تیزلاین شو و از
محتوای آموزشی
رایگان لذت ببر



برای ورود به صفحه اصلی سایت آکادمی تیزلاین کلیک کنید

برای دانلود دفترچه آزمون های مختلف برای هر پایه کلیک کنید

برای مطالعه مقالات بروز آکادمی تیزلاین کلیک کنید

آکادمی آموزشی تیزلاین <

با حضور اساتید برگزیده ی کشوری تیزهوشان و کنکور

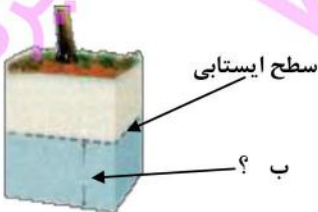



مجری همایش کلاس و آزمون در سراسر کشور

بارم	شرح سؤال ها (صفحه ۱)	ردیف
<p>بسمه تعالی امتحان ارزشیابی نوبت اول (دی ماه) وزارت آموزش و پرورش اداره کل آموزش و پرورش استان مازندران درس: علوم تجربی پایه: هفتم نام و نام خانوادگی: دبیرستان زنده یاد مرحوم نوربخش شماره کلاس: (متوسطه اول)</p> <p>تعداد سؤال ها: ۲۶ تعداد صفحه: ۲ مدت امتحان: ۶۰ دقیقه</p>		
۱/۵	<p>الف جمله های صحیح یا غلط را مشخص کنید. (هر سؤال ۰/۵ نمره)</p> <p>۱- برای اندازه گیری وزن یک جسم از ترازو استفاده می شود.</p> <p>۲- گازها شکل و حجم معینی ندارند و در اثر نیرو و فشار به راحتی متراکم می شوند.</p> <p>۳- در سفره آب زیرزمینی آزاد یک لایه نفوذپذیر بر روی یک لایه نفوذناپذیر قرار دارد.</p> <p>○ ص ○ غ</p> <p>○ ص ○ غ</p> <p>○ ص ○ غ</p>	۱/۵
۱/۵	<p>ب کلمه درست را از داخل پرانتز انتخاب کنید و زیر آن خط بکشید. (هر سؤال ۰/۵ نمره)</p> <p>۴- این ذره تشکیل دهنده اتم در داخل هسته اتم قرار ندارد. (الکترون - نوترون)</p> <p>۵- برای افزایش سختی مغز مداد این ماده را به کربن اضافه می کنند. (آهک - خاک رس)</p> <p>۶- نگهداری حبوبات در ظروف شیشه ای سس و مربا این روش حفاظت از منابع طبیعی است. (کاهش مصرف - مصرف دوباره)</p>	۱/۵
۱/۵	<p>پ در سؤال های زیر گزینه درست و مناسب را انتخاب کنید و علامت بزنید. (هر سؤال ۰/۵ نمره)</p> <p>۷- کدام اندازه گیری برای خط کشی که درجه بندی سانتی متر و میلی متر دارد، نادرست است؟</p> <p>الف- ۳/۴ سانتی متر ○ ب- ۹/۷ میلی متر ○ ج- ۱۵ میلی متر ○ د- ۰/۸ سانتی متر ○</p> <p>۸- وقتی حجم ماده ای زیاد می شود، مولکول ها یا اتم های آن می شود.</p> <p>الف- تعداد - بیشتر ○ ب- اندازه - بزرگتر ○ ج- فاصله بین - بیشتر ○ د- نیروی بین - بیشتر ○</p> <p>۹- میزان فضای خالی و نفوذپذیری در آبرفت ها است، بنابراین برای ذخیره آب های زیر زمینی است.</p> <p>الف- زیاد - مناسب ○ ب- زیاد - نامناسب ○ ج- کم - مناسب ○ د- کم - نامناسب ○</p>	۱/۵
۱/۵	<p>ت جاهای خالی در جمله های زیر را با نوشتن کلمه های درست کامل کنید. (هر سؤال ۰/۵ نمره)</p> <p>۱۰- شکل خالصی از یک ماده که از دو یا چند نوع اتم مختلف ساخته می شود، نام دارد.</p> <p>۱۱- فولاد زنگ نزن آلیاژی است که از ذوب و مخلوط کردن اتم های آهن، نیکل و ساخته می شود.</p> <p>۱۲- اگر قطره های باران در مسیر پایین آمدن به سطح زمین از توده هوای سرد عبور کنند، به تبدیل می شوند.</p>	۱/۵
۱/۵	<p>ث کلمه های سمت راست را به جمله های سمت چپ که به آن مربوط می شود، وصل کنید. (یک جمله سمت چپ اضافی است).</p> <p>(هر سؤال ۰/۵ نمره)</p> <p>۱۳- ماسه ● الف- از مخلوط کردن آن با آهک، سیمان تولید می شود.</p> <p>۱۴- کربن ● ب- به دلیل استحکام زیاد، در ساخت تونل و سد استفاده می شود.</p> <p>۱۵- بتن ● ج- برای جدا کردن اتم های اکسیژن، به سنگ معدن آهن اضافه می کنند.</p> <p>● د- برای تهیه شیشه، این ماده را با افزودن مواد شیمیایی مختلف، گرما می دهند</p>	۱/۵
۲/۵	<p>«ادامه سؤال ها در صفحه دوم»</p> <p>جمع نمرات این صفحه</p>	۲/۵

آکادمی آموزشی تیزلاین <

با حضور اساتید برگزیده ی کشوری تیزهوشان و کنکور

مجری همایش کلاس و آزمون در سراسر کشور

ردی	شرح سؤال ها (صفحة ۲)	بارم
ج	کلمه درست و مناسب را انتخاب کنید و در جلوی هر جمله ، داخل پرانتز بنویسید . (دو کلمه اضافی است) (هر سؤال ۰/۵ نمره) (آبشار - جزر و مد - یخچال ها - اقیانوس - سونامی) ۱۶- نیروی گرانشی ماه و خورشید باعث ایجاد آن می شود . (.....) ۱۷- بر اثر زلزله و آتشفشان های زیر دریایی به وجود می آید . (.....) ۱۸- بیشترین مقدار آب های شیرین کره زمین را تشکیل می دهند . (.....)	۱/۵
چ	به سؤال های زیر پاسخ کوتاه و مناسب دهید . (هر سؤال ۰/۵ نمره) ۱۹- اگر به مقداری یخ گرم دهیم ، جنبش مولکول های آن چه تغییری می کند؟ ۲۰- فشرده شدن یک فنر بر اثر نیرو و برگشت به حالت اول بعد از حذف نیرو ، کدام ویژگی آن را نشان می دهد ؟	۱
ح	در هر یک از جمله های زیر یک کلمه به صورت غلط علمی وجود دارد. آن ها را پیدا کنید و زیر آن خط بکشید و درست آن را داخل پرانتز بنویسید . (هر سؤال ۰/۵ نمره) ۲۱- مولکول آب از یک اتم اکسیژن و دو اتم نیتروژن تشکیل می شود . (.....) ۲۲- بهترین راه مطالعه درستی یا نادرستی پیش بینی ، طراحی و انجام تحقیق و بررسی نتایج آن است . (.....)	۱
خ	سؤال های تشریحی : (هر سؤال ۱ نمره) ۲۳- خاک منطقه الف دارای ماسه بیشتر و منطقه ب دارای رس بیشتر است : نفوذپذیری آب در کدام منطقه بیشتر است ؟ چرا ؟ (دو دلیل بیان کنید) ۲۴- در هر مورد علت استفاده از مواد زیر بنویسید : الف - فلز مس در سیم برق (.....) ب- آلومینیوم در صنعت هواپیما سازی (.....)	۲
د	۲۵- چگالی یک قطعه چوب به جرم ۳۵۰ گرم و حجم ۵۰۰ سی سی را به دست آورید . (فرمول و راه حل و واحد نمره دارد)	۱
ذ	۲۶- نام مواردی که در شکل های زیر با علامت ؟ مشخص شده است را بنویسید . (هر مورد ۰/۵ نمره)  	۱
مجموع نمرات		۱۵
(موفق و سلامت باشید)		
	نجوید سر تو همی سروری را	" اگر تو ز آموختن سر بتابی
	به زیر آوری چرخ نیلوفری را "	درخت تو گر بار دانش بگیرد
نمره با عدد:	نمره با حروف:	تاریخ و امضاء:
نام و نام خانوادگی دبیر: م . هدایتی		

تخفیف ویژه تیزلاین ها در فارسی، عربی و المپیاد ها

آکادمی تیزلاین در پایه هفتم

برگزاری می کند:



ظرفیت ۲۰ نفر
وی آی پی



استاد فرزاد تندرو

کلاس آنلاین ریاضیات
تیز هوشان هفتم

سه شنبه ها ۲۰ تا ۲۱:۱۵

شروع از ۱۳ مهر

ترم یک دوره سالانه

۱۵ جلسه
۹۰۰ هزار تومان

تخفیف



استاد حسن ربانی

کلاس آنلاین فارسی
تیز هوشان هفتم

شنبه ها ۱۸:۱۵ تا ۱۹:۳۰

شروع از ۱۵ آبان

دوره سالانه

۲۰ جلسه
۸۰۰ هزار تومان

تخفیف



استاد مجید غلامی

کلاس آنلاین عربی
تیز هوشان هفتم

یکشنبه ها ۱۸:۱۵ تا ۱۹:۳۰

شروع از ۲۳ آبان

دوره سالانه

۱۵ جلسه
۶۰۰ هزار تومان



استاد مسعود بیگدلی

کلاس آنلاین ریاضیات
تیز هوشان هفتم

دوشنبه ها ۱۸:۱۵ تا ۱۹:۳۰

شروع از ۱۲ مهر

ترم یک دوره سالانه

۱۵ جلسه
۶۰۰ هزار تومان



دکتر قربانی

کلاس آنلاین علوم
تیز هوشان هفتم

چهارشنبه ها ۲۰ تا ۲۱:۱۵

شروع از ۱۴ مهر

ترم یک دوره سالانه

۱۵ جلسه
۶۰۰ هزار تومان



ریاضی، فیزیک، شیمی و زیست شناسی

شروع از هفته پایانی آبان | هر دوره ۶۰۰ هزار تومان

المپیاد های

سطح یک



۰۲۱-۹۱۳۰۲۲۰۲

ثبت نام در سایت رسمی



tizline.ir
www.tizline.ir



۰۲۰۲ ۳۸۴-۰۹۳۳

دوره سالانه

بازگشایی ویژه
برای تیزلاین ها

آکادمی تیزلاین



برگزاری می کند:



دکتر میثم کوهگرد

کلاس آنلاین المپیاد
فیزیک (سطح یک)

پنجشنبه‌ها ۱۸:۱۵ تا ۱۹:۳۰

شروع از ۲۷ آبان

۱۵ جلسه
۶۰۰ هزار تومان



دکتر امیرحسین بهرام

کلاس آنلاین المپیاد
ریاضی (سطح یک)

یکشنبه‌ها ۲۰ تا ۲۱:۱۵

شروع از ۲۳ آبان

۱۵ جلسه
۶۰۰ هزار تومان



دکتر رضاحمت الهزاده

کلاس آنلاین المپیاد
شیمی (سطح یک)

شنبه‌ها ۲۰ تا ۲۱:۱۵

شروع از ۲۲ آبان

۱۵ جلسه
۶۰۰ هزار تومان



دکتر قربانی

کلاس آنلاین المپیاد
زیست‌شناسی (سطح دو)

سه‌شنبه‌ها ۲۰ تا ۲۱:۱۵

شروع از ۲۵ آبان

۲۰ جلسه
۸۰۰ هزار تومان



دکتر میثم کوهگرد

کلاس آنلاین المپیاد
فیزیک (سطح دو)

پنجشنبه‌ها ۲۰ تا ۲۱:۱۵

شروع از ۲۷ آبان

۲۰ جلسه
۸۰۰ هزار تومان



دکتر قربانی

کلاس آنلاین المپیاد
زیست‌شناسی (سطح یک)

سه‌شنبه‌ها ۱۸:۱۵ تا ۱۹:۳۰

شروع از ۲۵ آبان

۱۵ جلسه
۶۰۰ هزار تومان

#تیزلاینی_شو



ثبت نام در سایت رسمی



tizline.ir



www.tizline.ir



۰۲۱-۹۱۳۰۲۲۰۲



۰۹۳۳-۳۸۴ ۰۲۰۲

تقویم آموزشی آکادمی تیزلاین

سال ۱۴۰۱-۱۴۰۰

#تیزلاینی_شو

ترم دو دوره سالانه

آغاز ثبت نام: ۱ دی

شروع دوره: ۱ بهمن

پایان دوره: ۲۵ اردیبهشت

۱۵ جلسه

ترم یک دوره سالانه

آغاز ثبت نام: ۱ شهریور

شروع دوره: ۱۰ مهر

پایان دوره: ۱۸ دی

۱۵ جلسه

ترم تابستان

آغاز ثبت نام: ۱۰ خرداد

شروع دوره: ۱۲ تیر

پایان دوره: ۲۰ شهریور

۱۰ جلسه

آنلاین تخصص ماست

کلاس ، آزمون ، مشاوره ، تکلیف

ثبت نام در سایت رسمی آکادمی تیزلاین www.Tizline.ir

آزمون های هماهنگ از ۲۵ مهر تا ۱۱ اردیبهشت