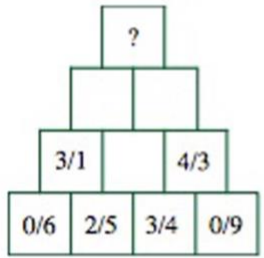


۱. حاصل عبارت $۲۰۱۷ - ۲۰۱۷$ کدام است؟

- ۱) $۱۹۹,۶۳۸$ ۲) $۱۹۹۶,۳$ ۳) $۱۹۹۶,۸۳$ ۴) $۱۹۹۶,۳۸$

۲. در شکل زیر باتوجه به الگوی بکار رفته به جای علامت سوال چه عددی قرار می‌گیرد؟



- ۱) $۱۲,۹$ ۲) $۱۰,۲$ ۳) $۱۳,۴$ ۴) $۱۹,۲$

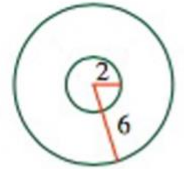
۳. حاصل عبارت $۰,۱ - ۰,۱(۱,۱ - ۱,۱(۰,۲ - ۰,۰۲))$ چقدر از حاصل عبارت $۱ - (۱ - (۱ - (۱ - ۰,۳)))$ کمتر است؟

- ۱) $۰,۳$ ۲) $۰,۰۰۹۸$ ۳) $۰,۲۹۰۲$ ۴) $۰,۱۷۳$

۴. محیط مثلث متساوی‌الساقینی $۶۳,۷۲$ سانتی‌متر شده است. اگر قاعده مثلث $۲۶,۵۲$ سانتی‌متر باشد، طول هر ساق مثلث چند سانتی‌متر می‌شود؟

- ۱) $۳۷,۲۰$ ۲) $۱۸,۶$ ۳) $۱۰,۶۸$ ۴) $۲۱,۲۴$

۵. شکل مقابل تصویر از بالای یک دستمال کاغذی لایه‌ای است. ضخامت این دستمال کاغذی ۱ میلی‌متر، شعاع لوله‌ی داخلی ۲ سانتی‌متر و شعاع کل ۶ سانتی‌متر است. اگر کل دستمال کاغذی را باز کنیم، طول آن چقدر است؟

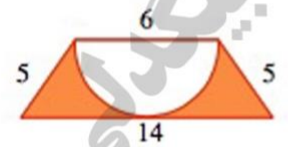


- ۱) حدود ۵ متر ۲) حدود ۱۰۰ متر ۳) حدود ۱۲۵ متر ۴) حدود ۱۵۰ متر

۶. حاصل عبارت $۷,۰۷۷ \times ۱۰۰$ را پیدا کنید.

- ۱) $۷۰۷,۷$ ۲) $۷۰,۷۷$ ۳) ۷۰۷۷ ۴) $۰,۷۰۷۷$

۷. در شکل روبه‌رو محیط قسمت رنگی چقدر می‌باشد؟



- ۱) $۳۵,۴۲$ ۲) $۳۳,۴۲$ ۳) $۳۴,۴۲$ ۴) $۳۶,۴۲$

۸. حاصل عبارت $۳,۲۳ \div ۱۰۰$ کدام است؟

- ۱) ۳۲۳ ۲) $۰,۳۲۳$ ۳) $۰,۰۳۲۳$ ۴) $۳۲,۳$



۹. در تساوی $\bigcirc \div 18 = 0,1 \times 0,2$ به جای \bigcirc کدام عدد قرار می‌گیرد؟

- ۱) ۹۰۰۰ ۲) ۹۰ ۳) ۰,۰۳۶ ۴) ۰,۳۶

۱۰. چهار و نیم برابر $\frac{3,67}{367}$ کدام است؟

- ۱) ۴,۵ ۲) ۰,۴۵ ۳) ۰,۰۴۵ ۴) ۰,۰۰۴۵

۱۱. چه عددی از $8,3$ برابر $17\frac{2}{5}$ ، $11,13$ بیشتر است؟

- ۱) ۱۴۳,۲۹ ۲) ۱۴۴,۴۲ ۳) ۱۵۵,۵۵ ۴) ۲۳۶,۹۶

۱۲. حاصل عبارت مقابل را بدست آورده‌ایم و رقم‌های مرتبه‌ی دهم و صدم را در هم ضرب کرده‌ایم. کدام گزینه بدست می‌آید؟

$$\left(\frac{2}{0,25} + \frac{3}{0,125}\right) + \left(\frac{1,4}{2} + \frac{0,35}{5}\right)$$

- ۱) ۱۴ ۲) ۴۹ ۳) ۶ ۴) ۴۸

۱۳. مساحت مربعی $1,96$ متر مربع است. هر ضلع آن چند متر است؟

- ۱) ۰,۰۱۴ ۲) ۰,۱۴ ۳) ۱,۴ ۴) ۰,۲۸

۱۴. در جای خالی چه عددی باید قرار داد تا تساوی زیر برقرار باشد؟

$$4,2 + (3,8 - \square) - (3,7 - 2,1) = 6$$

- ۱) ۱,۲ ۲) ۰,۴ ۳) ۰,۸ ۴) ۰,۶

۱۵. مجموع دو عدد $45,12$ یکی از اعداد $11,3$ واحد از دیگری بزرگتر است. عدد بزرگتر چیست؟

- ۱) ۵۶,۴۲ ۲) ۳۳,۱۸ ۳) ۲۸,۲۱ ۴) ۱۷,۳۶



پاسخنامه کلیدی

- (۱) گزینه ۳
- (۲) گزینه ۴
- (۳) گزینه ۳
- (۴) گزینه ۲
- (۵) گزینه ۲
- (۶) گزینه ۱
- (۷) گزینه ۲
- (۸) گزینه ۳
- (۹) گزینه ۱
- (۱۰) گزینه ۳
- (۱۱) گزینه ۳
- (۱۲) گزینه ۲
- (۱۳) گزینه ۳
- (۱۴) گزینه ۲
- (۱۵) گزینه ۳



MASOUD BIGDELI

آزمون های آکادمی تیز لاین
شبه سازترین
آزمون تیز هوشان

هشتم
۶ + ۱
مرحله

چهارم
۱ + ۵
مرحله

پنجم
۸ + ۱
مرحله

ششم
۱۰ + ۱
مرحله

نهم
۱۰ + ۱
مرحله

دهم
۷ + ۱
مرحله

چهارم تا دهم

با طراحی اساتید برجسته تیز هوشان کشور
استاد مسعود بیگدلی، استاد فرزاد تندرو، استاد میثم بهرامی
دکتر میثم گوهرگرد، استاد مهدی مهدی زاده، دکتر قربانی و ...

آنلاین و حضوری
در نمایندگی ها

ثبت نام در سایت رسمی آکادمی تیز لاین
www.Tizline.ir ☎ ۰۲۱ ۴۴۱۳ ۶۹۷۵ 📠 ۰۹۳۳ ۳۸۴ ۰۲۰۲

برنامه دوره سالانه آکادمی تیز لاین

چهارم تا ششم دوره ابتدایی

تیز لاینی - شو

<p>استاد مسعود بیگدلی</p> <p>ریاضیات تیز هوشان ششم</p> <p>دوشنبه: ۱۷:۴۵ تا ۱۶:۳۰</p>	<p>استاد حسن ربانی</p> <p>فارسی تیز هوشان ششم</p> <p>شنبه: ۲۱:۱۵ تا ۲۰:۰۰</p>	<p>استاد وحید گوران</p> <p>ریاضیات پیشرفت پنجم</p> <p>یکشنبه: ۱۹:۳۰ تا ۱۸:۱۵</p>	<p>استاد وحید گوران</p> <p>ریاضیات پیشرفت چهارم</p> <p>یکشنبه: ۱۷:۴۵ تا ۱۶:۳۰</p>
<p>استاد سعید موسی وند</p> <p>زبان انگلیسی</p> <p>سه شنبه: ۱۹:۳۰ تا ۱۸:۱۵ جمعه: ۲۱:۱۵ تا ۲۰:۰۰ دوشنبه: ۱۹:۳۰ تا ۱۸:۱۵ یکشنبه: ۱۷:۴۵ تا ۱۶:۳۰</p>	<p>استاد پیمان لایق</p> <p>ساینس (علوم به لاتین)</p> <p>یکشنبه: ۲۱:۱۵ تا ۲۰:۰۰</p>	<p>استاد مسعود بیگدلی</p> <p>هوش و خلاقیت</p> <p>دوشنبه: ۲۱:۱۵ تا ۲۰:۰۰</p>	<p>دکتر قربانی</p> <p>علوم تیز هوشان ششم</p> <p>چهارشنبه: ۱۹:۳۰ تا ۱۸:۱۵</p>

www.Tizline.ir
☎ ۰۲۱ ۴۴۱۳ ۶۹۷۵ 📠 ۰۹۳۳ ۳۸۴ ۰۲۰۲ ✉ ۵۰۰۰۲۶۹۱۳۲۴

کلاس آنلاین



MASOUD BIGDELI

برنامه دوره سالانه

آکادمی تیزلاین

دوره متوسطه

تیزلاینی - شو

 دکتر قربانی علوم تیز هوشان هشتم یکشنبه: ۱۸:۱۵ تا ۱۹:۳۰	 استاد مهدی مهدی زاده فارسی تیز هوشان هشتم شنبه: ۱۸:۱۵ تا ۱۹:۳۰	 استاد میثم بهرامی ریاضیات تیز هوشان هشتم چهارشنبه: ۲۱:۱۵ تا ۲۲:۰۰	 دکتر قربانی علوم تیز هوشان هفتم چهارشنبه: ۲۱:۱۵ تا ۲۲:۰۰	 استاد کاظم غریبی فارسی تیز هوشان هفتم شنبه: ۲۱:۱۵ تا ۲۲:۰۰	 استاد مسعود بیگدلی ریاضیات تیز هوشان هفتم دو شنبه: ۱۸:۱۵ تا ۱۹:۳۰
 استاد سعید موساوند زبان انگلیسی سه شنبه: ۱۸:۱۵ تا ۱۹:۳۰ جمعه: ۱۶:۳۰ تا ۱۷:۴۵ ۱۸:۱۵ تا ۱۹:۳۰	 استاد پیمان لایق سایتس (علوم به لاتین) یکشنبه: ۲۱:۱۵ تا ۲۲:۰۰	 استاد مسعود بیگدلی هوش و خلاقیت دو شنبه: ۲۱:۱۵ تا ۲۲:۰۰	 دکتر قربانی علوم تیز هوشان نهم یکشنبه: ۲۱:۱۵ تا ۲۲:۰۰	 استاد مهدی مهدی زاده فارسی تیز هوشان نهم شنبه: ۲۱:۱۵ تا ۲۲:۰۰	 استاد فرزاد تندرو ریاضیات تیز هوشان نهم چهارشنبه: ۲۱:۱۵ تا ۲۲:۰۰
 دکتر قربانی المپیاد زیست شناسی سه شنبه: ۱۸:۱۵ تا ۱۹:۳۰	 دکتر میثم کوهگرد المپیاد فیزیک پنجشنبه: ۲۱:۱۵ تا ۲۲:۰۰	 استاد بهراد اسدالله استاد حسین حسین زاده المپیاد ریاضی یکشنبه: ۲۱:۱۵ تا ۲۲:۰۰			
 دکتر قربانی زیست شناسی پیشرفته دهم سه شنبه: ۲۱:۱۵ تا ۲۲:۰۰	 استاد فرزاد تندرو ریاضیات پیشرفته دهم چهارشنبه: ۱۸:۱۵ تا ۱۹:۳۰	 دکتر میثم کوهگرد فیزیک پیشرفته دهم دو شنبه: ۲۱:۱۵ تا ۲۲:۰۰	 دکتر قربانی شیمی پیشرفته دهم شنبه: ۲۱:۱۵ تا ۲۲:۰۰		

برنامه اجتماعی، عربی و دینی قرآن نهم متعاقبا اعلام می شود.

www.Tizline.ir

☎ ۰۲۱ ۴۴۱۳ ۶۹۷۵ 📍 ۰۹۳۳ ۳۸۴ ۰۲۰۲ ✉ ۵۰۰۰۲۶۹۱۳۲۴

کلاس آنلاین



MASOUD BIGDELI