



برنام او

آکادمی آموزشی تیزلاین

مجری کلاس ، همایش و آزمون های تخصصی تیز هوشان
دفترچه سوال در سراسر کشور

تاریخ برگزاری آزمون: ۱۳۹۹/۷/۲۴-۲۶

تعداد پرسش های دفترچه: ۳۰ مدت پاسخ گویی به پرسش ها: ۴۰ تعداد صفحات دفترچه: ۷

نام درس	طراح آزمون	تعداد سوال	شماره سوال	زمان پیشنهادی
هوش و خلاقیت	گروه مولفین	۲۰	۱-۲۰	۳۰ دقیقه
دقت و تمرکز	گروه مولفین	۱۰	۲۱-۳۰	۱۰ دقیقه

این آزمون نمره منفی دارد.

پایه: عمومی

مرحله: تعیین سطح

به ازای هر پاسخ صحیح ۳ نمره مثبت و به ازای هر پاسخ غلط، ۱ نمره منفی لحاظ می شود.
برای پرسش های بدون پاسخ نمره ای در نظر گرفته نمی شود.

تذکر مهم:

مدیر اجرایی آزمون: دکتر قربانی



www.Tizline.ir
سامانه پیامکی تیزلاین: ۵۰۰۰۲۶۹۱۳۲۴

۰۲۱ - ۴۴۱۳ ۶۹۷۵
آزمون های هماهنگ کشوری تیزلاین

توجه: چاپ، تکثیر و هر گونه کپی برداری از محتویات این دفترچه فقط با اخذ مجوز رسمی از آکادمی تیزلاین مجاز است.



بخش اول: هوش و خلاقیت تعداد سوال: ۲۰ زمان: ۳۰ دقیقه

پاسخ صحیح پرسش های زیر را از میان جواب های پیشنهاد شده انتخاب و شماره آن را در پاسخ برگ ارایه شده در سمت چپ صفحه وارد کنید.

* در سوالات ۱ تا ۵، کدام گزینه متفاوت است؟

1- (۱) (۲) (۳) (۴)

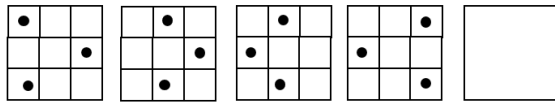
2- (۱) (۲) (۳) (۴)

3- (۱) (۲) (۳) (۴)

4- (۱) (۲) (۳) (۴)

5- (۱) (۲) (۳) (۴)

* در سوالات ۶ تا ۱۰، شکل بعدی کدام است؟



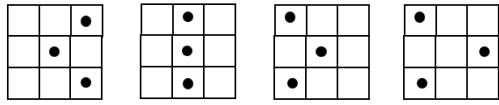
۶-

(۱) الف

(۲) ب

(۳) ج

(۴) د



الف

ب

ج

د

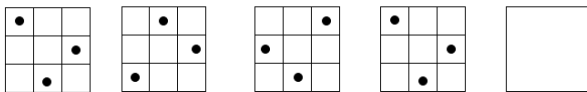
۷-

(۱) الف

(۲) ب

(۳) ج

(۴) د



الف



ب



ج



د

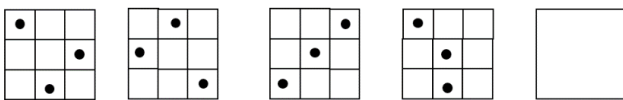
۸-

(۱) الف

(۲) ب

(۳) ج

(۴) د



الف



ب



ج



د

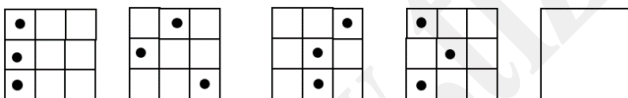
۹-

(۱) الف

(۲) ب

(۳) ج

(۴) د



الف



ب



ج



د

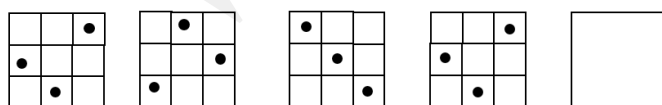
۱۰-

(۱) الف

(۲) ب

(۳) ج

(۴) د



الف



ب



ج



د

* در سوالات ۱۱ تا ۱۳، کدام گزینه برای پرکردن جای خالی مناسب است؟

۱۱- «در روز قیامت، هر کس با..... و اعمال خود روبرو خواهد شد.»

(۱) صواب، عقاب (۲) صواب، اغاب (۳) ثواب، عقاب (۴) ثواب، اغاب

۱۲- «اجتماع..... بیرون مسجد و گوش دادن به سخنان حاج آقا که درباره ی و مزد نماز اول وقت صحبت می کرد، برایم جالب بود.»

(۱) نماز گذاران، عجز (۲) نماز گزاران، عجز (۳) نماز گذاران، اجر (۴) نماز گزاران، اجر

۱۳- «یکی از دنیای تکنولوژی دوری شخص از اجتماعات واقعی و فضای گرم خانواده است.»

(۱) محاسن (۲) معایب (۳) منابع (۴) عواقب

۱۴- کدام گزینه حروف به هم ریخته ی «نوعی بیماری غیر واگیر» است؟

(۱) ز ک از (۲) س ی ف ت و (۳) ت ی ا ب د (۴) ی ا ه ر ب

۱۵- اگر حروف مقابل را مرتب کنیم، یک واژه ی ۵ حرفی ساخته خواهد شد. حرف وسط آن کدام است؟

(۱) ا

(۲) ت

(۳) ف

(۴) ر



۱۶- کدام گزینه ی زیر صحیح نیست؟

(۱) «به دست آوردن دوباره مواد قابل مصرف از مواد استفاده شده» واژه ای است که حرف وسط دارد.

(۲) «تغییر حالت جسم مایع به بخار در اثر حرارت» واژه ای است که حرف تکراری ندارد.

(۳) واژه ی معادل «شتاب کردن در کاری» که با حرف (ت) آغاز می شود، حرف تکراری ندارد.

(۴) واژه ای معادل «آیینی که خداوند برای بندگان روشن و آشکار ساخته» که از شروع کردن می آید، چهار حرفی است و حرف وسط ندارد.

۱۷- اگر بخش های زیر را مرتب کنیم تا جمله ای معنی دار بسازیم، بخش وسط کدام است؟

«این شهر را، بازارهای صادراتی، کماکان، بازار، کشور، حتی، گوجه، تولید، می پسندند، سراسر»

(۱) کماکان (۲) بازارهای صادراتی (۳) کشور (۴) گوجه

۱۸- مرتب شده ی پاراگراف های زیر کدام است؟

الف) دانه‌های قهوه ی خشک شده به درجات مختلف برشته می‌شوند، بسته به عطر و طعم مورد نظر، درجه‌بندی‌های مختلفی برای این محصول در نظر گرفته شده‌است.

ب) این گیاه از آفریقا به سایر نقاط جهان پراکنده شد و در حال حاضر در بیش از ۷۰ کشور کشت می‌شود که در درجه اول مناطق استوایی آمریکا، جنوب شرقی آسیا، هند و آفریقا است.

ج) هنگام رسیدن میوهی گیاه قهوه، دانه‌های قهوه را برداشت و فرآوری می‌کنند.

د) گیاه قهوه بومی مناطق نیمه‌گرمسیری آمریکا و برخی از جزایر جنوب و جنوب شرق آسیا است.

۱) ب ج د الف ۲) ج ب الف د ۳) د ب ج الف ۴) ب د ج الف

۱۹- ایران بیش از ۶۰۰۰ کیلومتر با کشورهای افغانستان، پاکستان، ترکمنستان، ترکیه، ارمنستان، جمهوری آذربایجان و عراق (مرز مشترک خشکی) دارد. ایران همچنین دارای ۲۷۰۰ کیلومتر مرز آبی در دریای خزر، خلیج فارس و دریای عمان می‌باشد. ایران طولانی‌ترین مرز را با عراق و کوتاه‌ترین مرز را با ارمنستان دارد. موضوع اصلی متن چیست؟

۱) تعریف مرز ۲) مرزهای ایران ۳) تفاوت مرز آبی و خاکی ۴) بیشترین و کمترین مرز ایران

۲۰- داستان از این قرار است. ۸ نفر متهم به سرقت از بانک هستند. بعضی از آنها یا راست گو هستند و همیشه راست می‌گویند، یا دروغ‌گو هستند و همیشه دروغ می‌گویند. از هر یک از آنها می‌پرسیم، چند نفر دروغ‌گو در بین شماست؟ پاسخ‌ها به ترتیب زیر ثبت شده است.

۱ و ۲ و ۳ و ۴ و ۵ و ۶ و ۷ و ۸

حال چند نفر دروغ گو اند؟


۱) یک نفر ۲) سه نفر ۳) هفت نفر ۴) پنج نفر



بخش دوم: دقت و تمرکز تعداد سوال: ۱۰ زمان: ۱۰ دقیقه

پاسخ صحیح پرسش های زیر را از میان جواب های پیشنهاد شده انتخاب و شماره آن را در پاسخ برگ ارایه شده در سمت چپ صفحه وارد کنید.

* با توجه به مجموعه ی زیر، به سوالات ۲۱ تا ۲۷- پاسخ دهید.



۲۱- مجموعه ی بالا، چند دارد؟

۱۳(۴) تا

۱۹(۳) تا

۱۷(۲) تا

۱۶(۱) تا

۲۲- مجموعه ی بالا، چند دارد؟

۱۲(۴) تا

۱۱(۳) تا

۱۰(۲) تا

۹(۱) تا

۲۳- در مجموعه ی بالا، چند دایره ی سفید داریم؟

۵۵(۴) تا

۵۷(۳) تا

۵۲(۲) تا

۶۴(۱) تا

۲۴- در چند ستون، دایره ی سیاه نداریم؟

۷(۴) تا

۴(۳) تا

۶(۲) تا

۵(۱) تا

۲۵- در چند سطر، دایره ی سیاه نداریم؟


۳(۴)

۲(۳)


۱(۲)

صفر (۱)

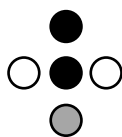
۲۶- چند مورد از اشکال زیر در مجموعه بالا دیده نمی شود؟



(۴) چهار مورد



(۳) سه مورد

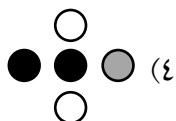


(۲) دو مورد

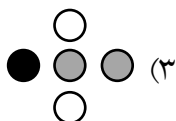


(۱) یک مورد

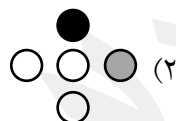
۲۷- کدام مورد در مجموعه ی بالا، مشاهده می شود؟



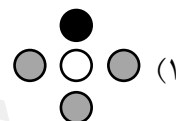
(۴)



(۳)



(۲)



(۱)

* باتوجه به مجموعه ی زیر، به سوالات ۷۸ تا ۸۰ پاسخ دهید.

«۵۷۸۴۶۳۲۵۴۶۹۸۷۵۴۲۱۳۶۵۰۲۱۳۶۵۴۷۸۵۱۲۳۶۵۴۷۸۲۰۲۱۳۶۵۸۷۹۵»

۲۸- مجموعه ی بالا، چندرقمی است؟

۴۷(۴)

۵۰(۳)

۴۹(۲)

۴۸(۱)

۲۹- در مجموعه ی بالا، چندتا از ارقام، کمتر از ۵ هستند؟

۲۳(۴)

۲۲(۳)

۲۱(۲)

۲۰(۱)

۳۰- در مجموعه ی بالا، چند تا از ارقام، بیشتر از ۶ هستند؟

۱۳(۴)

۱۲(۳)

۱۱(۲)

۱۰(۱)

﴿ پرواز کن تا آرزو زنجیر را باور نکن ﴾

یا حق!

آزمون های هماهنگ کشوری آکادمی آنلاین تیزلاین "چهارم تا دهم"

برنامه آزمون های تیزلاین (آکادمی آنلاین آموزش)

چهارم تا دهم ۱۳۹۹-۱۴۰۰

پایه دهم (۷ مرحله)	پایه نهم (۱۰ مرحله)	پایه هشتم (۶ مرحله)	پایه هفتم (۶ مرحله)	پایه ششم (۱۰ مرحله)	پایه پنجم (۸ مرحله)	پایه چهارم (۵ مرحله)	تاریخ
تعیین سطح	تعیین سطح	تعیین سطح	تعیین سطح	تعیین سطح	تعیین سطح	تعیین سطح	۱۳۹۹/۷/۲۴-۲۶
مرحله اول	مرحله اول	مرحله اول	مرحله اول	مرحله اول	مرحله اول	مرحله اول	۱۳۹۹/۸/۸-۱۰
	مرحله دوم			مرحله دوم	مرحله دوم		۱۳۹۹/۸/۲۲-۲۴
مرحله دوم	مرحله سوم	مرحله دوم	مرحله دوم	مرحله سوم	مرحله سوم	مرحله دوم	۱۳۹۹/۹/۲۰-۲۲
	مرحله چهارم			مرحله چهارم			۱۳۹۹/۱۰/۴-۶
مرحله سوم	مرحله پنجم	مرحله سوم	مرحله سوم	مرحله پنجم	مرحله چهارم	مرحله سوم	۱۳۹۹/۱۱/۲-۴
مرحله چهارم	مرحله ششم			مرحله ششم			۱۳۹۹/۱۱/۱۶-۱۸
مرحله پنجم	مرحله هفتم	مرحله چهارم	مرحله چهارم	مرحله هفتم	مرحله پنجم	مرحله چهارم	۱۳۹۹/۱۲/۱۴-۱۶
مرحله ششم	مرحله هشتم			مرحله هشتم	مرحله ششم		۱۴۰۰/۱/۱۲-۱۴
	مرحله نهم	مرحله پنجم	مرحله پنجم	مرحله نهم	مرحله هفتم		۱۴۰۰/۱/۲۶-۲۸
مرحله هفتم	مرحله دهم	مرحله ششم	مرحله ششم	مرحله دهم	مرحله هشتم	مرحله پنجم	۱۴۰۰/۲/۹-۱۱

((پرواز کن تا آرزو زنجیر را باور نکن))

یا حق!

شبیه ترین سوالات با آزمون های ورودی

بودجه بندی دقیق و علمی

در تیزلاین آموزش حرف اول را می زند

www.Tizline.ir

#تیزلاینی_شو

۰۲۱ ۴۴۱۳ ۶۹۷۵

۰۹۳۳ ۳۸۴ ۰۲۰۲

tizline.ir

۵۰۰۰۲۶۹۱۳۲۴

تخصصی ترین آزمون های کشوری

با طراحی اساتید برجسته تیز هوشان