

۱- در کدام گزینه املای واژه با توجه به معنی آن در زبان فارسی درست است؟

- (۱) آیت(نشانه) - سحاب(ابر) - عذر(عاقبت) - صفا(پاکی) - قضا(تقدیر)  
 (۲) فاخر(ارزشمند) - قرعه(نوبت) - سیف(تابستان) - سائل(گدا) - فسوس(مسخره کردن)  
 (۳) قَدَر(تقدیر) - وداع(خداحافظی) - سهم( ترس، بیم) - رخصت(اجازه) - ساطع(تابان)  
 (۴) تَلألُو(درخشش) - تفکیک(جداسازی) - مکث(درنگ کردن) - رمق(دسته ی حیوانات) - ثقل(سنگینی)

۲- در بین واژگان زیر چند واژه درست نوشته نشده است؟

« خواستن خروش صدا - دخل و تسرف - مسرور و مشعوف - سله ی ارحام - بهبوحه - قحطی زده - ساتور - اسباب و اثاثیه - متوحش و حراسان - اصابت گلوله - التهاب »

- (۱) سه (۲) چهار (۳) پنج (۴) شش

۳- در کدام گزینه « متضاد » واژه ای که زیر آن خط کشیده شده، درست نیست؟

- (۱) حق این نعمت تندرستی که باز یافتیم، لختی گزارده باشیم. (بسیاری)  
 (۲) فراخ تر بتوانند زیست و زندگی را بهتر تجربه کنند. ( کم)  
 (۳) آنگاه لاف زدی که فلان را من فرو گرفتم. (راست گویی)  
 (۴) مُستی رند که آن ها را سیم دادند که سنگ زنند. (طلا)

۴- در کدام گزینه علامت نگارشی که به کار می بریم با بقیه تفاوت دارد؟

- (۱) وقتی سخنی را از کسی نقل می کنیم.  
 (۲) برای ذکر عنوان رساله ها، نامه ها و مقالات علمی.  
 (۳) بعد از لغتی که قرار است معنی آن جلوی لغت نوشته شود.  
 (۴) در ابتدا و انتهای کلمات و اصطلاحات.

۵- مفهوم جمله ی زیر کدام است؟ (نقصان به ملک رسید و کار لشکری و کشوری روی به فساد آورد.)

(۱) پادشاه دیگر توانایی نداشت، لذا تمام لشکریانش را به نابودی کشاند.

(۲) عیب و کاستی به سرزمین رسید و کار مربوط به لشکر و کشور به تباهی نزدیک شد.

(۳) سرزمین پادشاه دیگر آن سرزمین قدیمی نبوده و به دست لشکریان افتاد.

(۴) شورش داخلی به دست لشکریان و سپاهیان رخ داد و کشور را به نابودی کشاند.

۶- مترادف کدام واژه درست نیست؟

(۱) باتلاق = لجنزار (۲) التفات = تلفظ (۳) باره = اسب (۴) بزهکار = گناهکار

۷- کدام گزینه درباره ی بیت مقابل درست نیست؟

« نمی دهند اجازت مرا به سیرِ سفر / نسیم باد مصلی و آب رکن آباد»

(۱) می توان جای مصراع ها را عوض کرد و معنی بیت عوض نشود.

(۲) نسیم باد مصلی و آب رکن آباد دو ترکیب اضافی هستند که در بیت مشاهده می شود.

(۳) من در مصراع اول مفعول و نمی دهند فعل جمله ی اول است.

(۴) هر دو نوع ( واو) که در مصراع ها مشاهده می شود از نوع « واو عطف» هستند.

۸- در جاهای خالی به ترتیب کدام علائم نگارشی قرار می گیرند؟

« گفت ( — ) ( — ) ای پدر ( — ) فرمان تو راست ولیکن می خواهم که بدانم در این چه مصلحت است ( — )

( — )

(۱) « ؟ ! » : (۲) ( ؟ ، ) : (۳) « ! » ؟ : (۴) « ، » ؟ :

۹- کدام گروه از کلمات هم خانواده نیستند؟

(۱) عطف - عاطفه - عطوفت (۲) تعجیل - عجول - عاجل

(۳) دانا - دانش - دانشمند (۴) تحصیل - حاصل - مصلحت

۱۰- کدام گزینه درست نیست؟

- (۱) خوار : کم ارزش  
(۲) عرض : پهنا  
(۳) خاست : بلند شد  
(۴) ثواب : پاداش  
خواست : میل و آرزو طلب  
صواب : درست

۱۱- یک موتور سیکلت ، فاصله ی ۴۰۰ کیلومتری دو شهر ( الف ) و ( ب ) را در ۴۸۰ دقیقه می پیماید. اگر این موتور سوار پس از طی نصف راه،  $1\frac{1}{3}$  ساعت توقف کند، بقیه ی راه را با چه سرعتی بپیماید تا مسافت ( الف ) تا ( ب ) را در همان ۴۸۰ دقیقه طی کند؟

- (۱) ۷۵ (۲) ۴۵ (۳) ۶۰ (۴) ۳۰

۱۲- در فروشگاهی دو توپ که قیمت خریدشان ۴۵۰۰ تومان بود یکی با ۱۲٪ ضرر و دیگری با ۲۴٪ سود معامله شد. تفاوت قیمت فروش این دو توپ در این معامله چقدر است؟

- (۱) ۱۶۲۰ (۲) ۵۰۴۰ (۳) ۵۴۰ (۴) ۱۸۸۰

۱۳-  $\frac{3}{4}$  کیلومتر مربع، برابر است با .....

- (۱) ۳۴۰۰ هکتار  
(۲) ۳۴۰۰۰ سانتی متر مربع  
(۳) ۳۴۰۰۰۰۰ متر مربع  
(۴) ۳۴۰۰۰ میلی متر مربع

۱۴- مساحت یک مستطیل به طول ۱۸ با مثلثی به ارتفاع ۹ و قاعده ی ۱۲ برابر است. محیط مستطیل کدام است؟

- (۱) ۵۴ (۲) ۴۸ (۳) ۴۲ (۴) ۳۸

۱۵- عدد  $۰۰۳۷۵۴۶۳۰۰۰۲۶۲$  به ترتیب شامل چند طبقه، چند رقم و چند عدد است؟(راست به چپ)

- (۱) ۱-۱۲-۴ (۲) ۳-۹-۳  
(۳) ۱۲-۱۲-۴ (۴) ۱-۹-۳

۱۶- اختلاف بزرگ ترین عدد ۵ رقمی غیر تکراری و کوچک ترین عدد ۵ رقمی غیر تکراری که می توان با ارقام ۰ تا ۹ ساخت کدام است؟

- (۱) ۸۶۴۲۵ (۲) ۸۸۵۳۱ (۳) ۹۰۱۰۱ (۴) ۹۷۵۳۱

۱۷- نسبت زوایای داخلی یک مثلث به ترتیب  $\frac{1}{3}$ ،  $\frac{1}{4}$  و ۱ است. این مثلث یک مثلث ..... است.

- (۱) مختلف الاضلاع (۲) متساوی الاضلاع (۳) قائم الزویه (۴) قائم الزویه ی متساوی الساقین

۱۸- کتابی در شبانه روز فقط ۸ ساعت بیدار است. او رأس ساعت ۲۴ به رختخواب رفته و ساعت ۱۶ از خواب بیدار می شود. پس از بیدار شدن  $\frac{3}{4}$  زمان خود را صرف بازی و تفریح کرده و بقیه ی ساعت را تا زمان خواب، درس می خواند. او چه ساعتی شروع به درس خواندن می کند؟

- (۱) ۱۰:۳۰ شب (۲) ۱۰ شب (۳) ۱۱ شب (۴) ۱۱:۳۰ شب

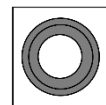

۱۹- یک تانکر آب رسانی ۸۰٪ حجمش خالی است و ۱۱۰ لیتر آب دارد. شیری را از دریچه ی آن به داخل قرار دادیم تا تانکر را پر کنیم. اگر این شیر در هر دقیقه ۲۰ لیتر آب را داخل تانکر بریزد، تانکر پس از چند ساعت پر خواهد شد؟

- (۱)  $\frac{7}{12}$  ساعت (۲)  $\frac{25}{3}$  ساعت (۳)  $\frac{11}{3}$  ساعت (۴)  $\frac{8}{10}$  ساعت


۲۰- بین ۷ شهریور و ۲۹ اسفند چند جمعه وجود دارد؟ ( امروز جمعه هفتم شهریور است.)

- (۱) ۳۰ (۲) ۲۸ (۳) ۲۹ (۴) ۲۷

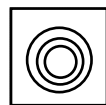
۲۱- با توجه به الگوی موجود در شکل ها، (؟) کدام است؟



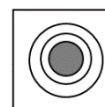
(۲)



(۱)

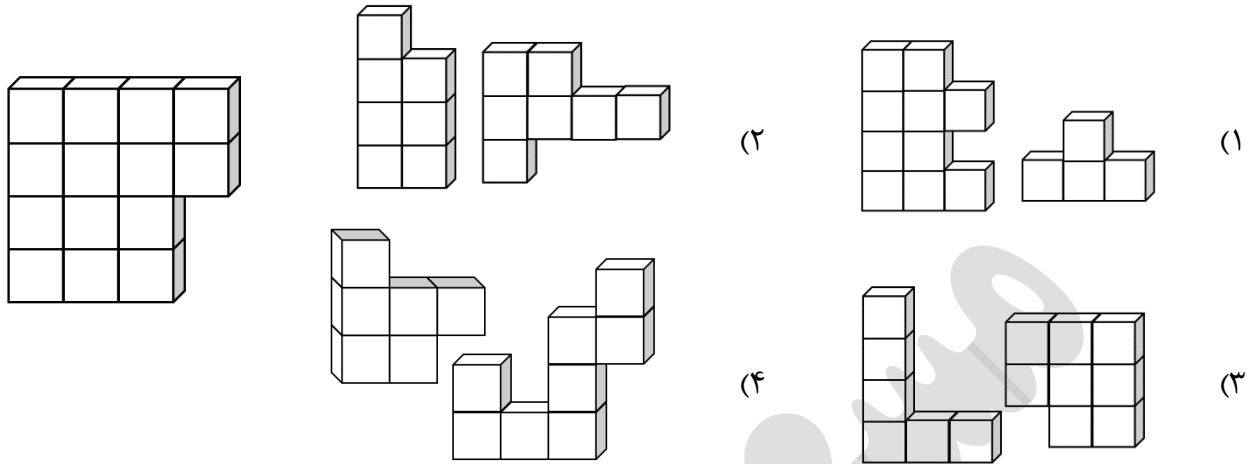


(۴)



(۳)

۲۲- با چندتا از قطعات می توان شکل زیر را ساخت؟



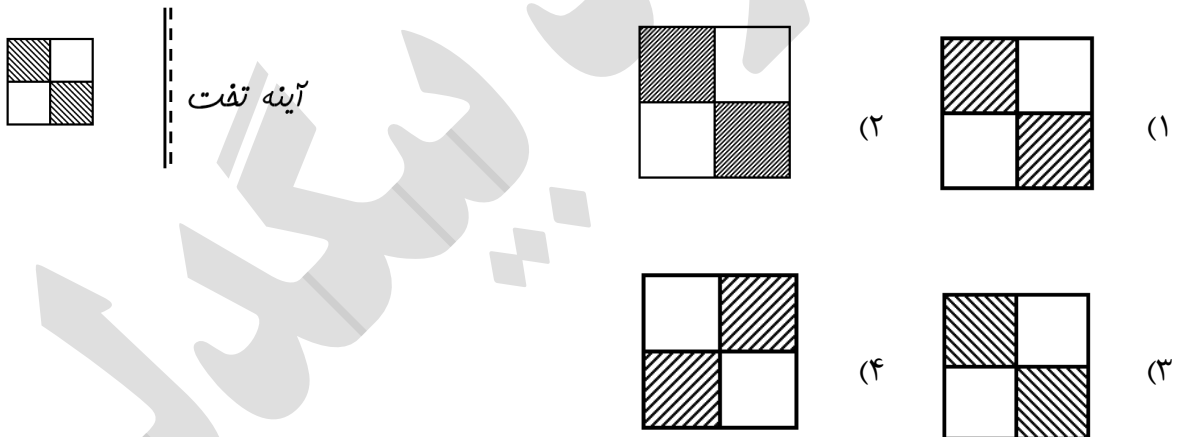
(۴) چهارتا

(۳) سه تا

(۲) دوتا

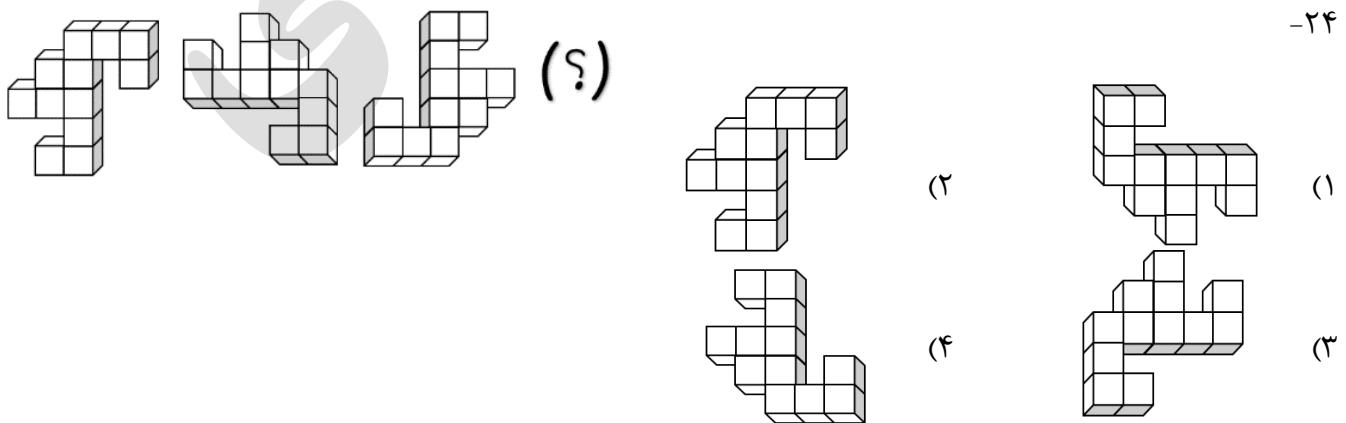
(۱) یکی

۲۳- تصویر شکل در آینه ی تخت کدام است؟



آینه تخت

-۲۴





۰۲۴-۳۳۴۵۴۱۴۹  
۰۹۳۷-۸۷۷۰۰۹۳

آموزش بالابان

به نام خداوند جان آفرین

آزمون هوش و خلاقیت ششم

نام و نام خانوادگی:

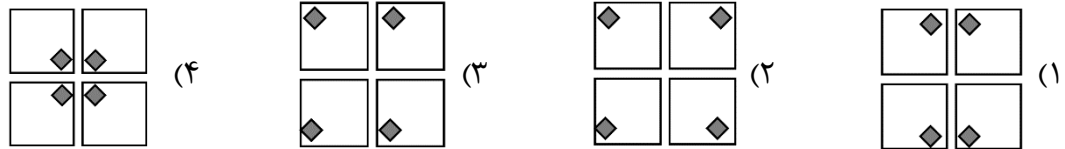
طراح آزمون: استاد مسعود بیگدلی

تاریخ آزمون: ۱۳۹۹ / ۵ / ۴

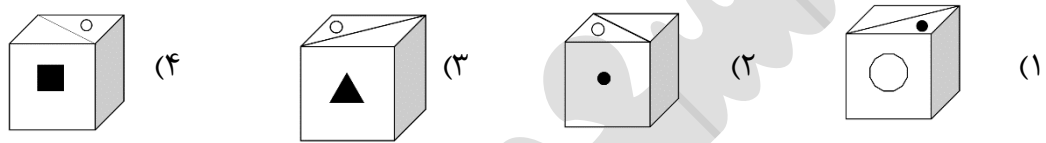
آموزش

شهره بک

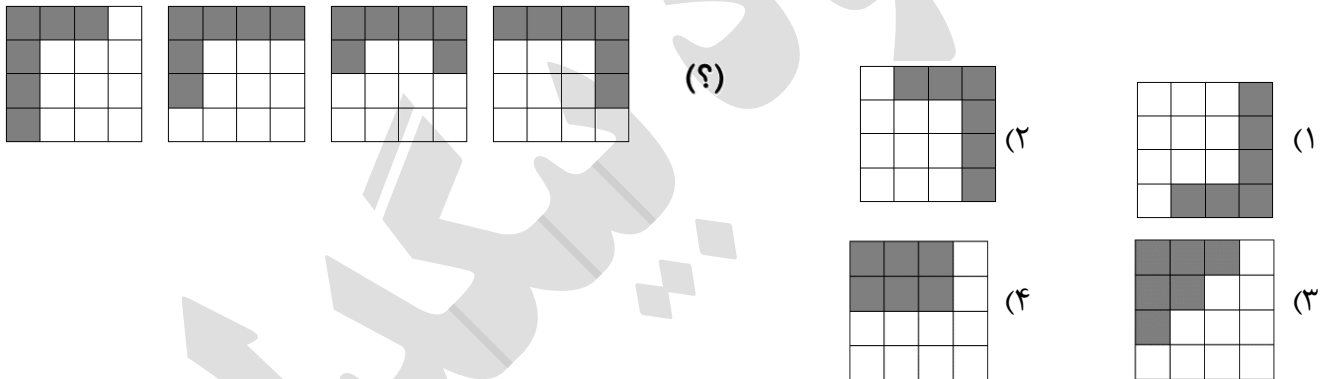
۲۵- کدام گزینه متفاوت است؟



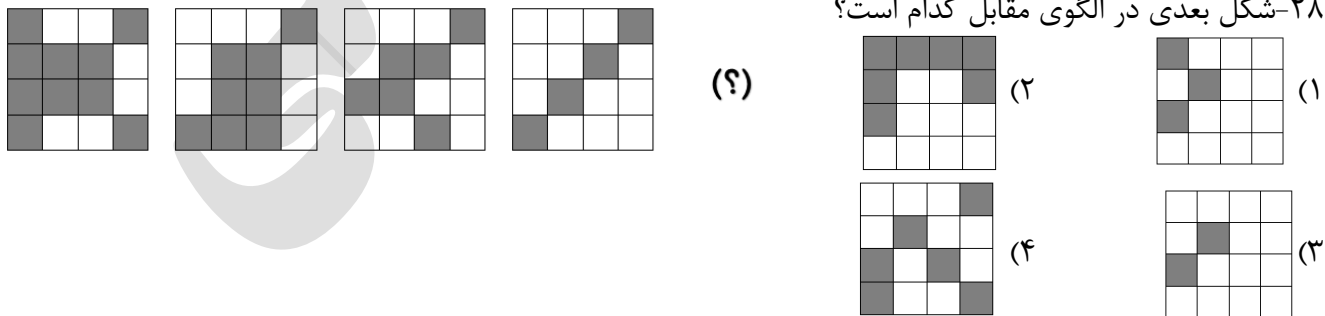
۲۶- کدام تصویر زیر متفاوت است؟



۲۷- شکل بعدی در الگوی مقابل، کدام است؟



۲۸- شکل بعدی در الگوی مقابل کدام است؟

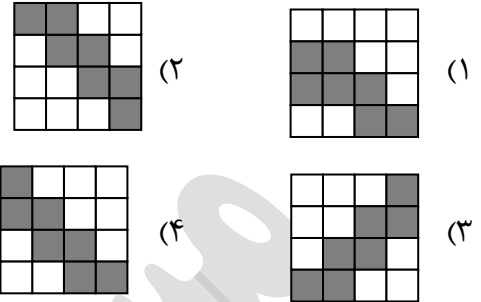
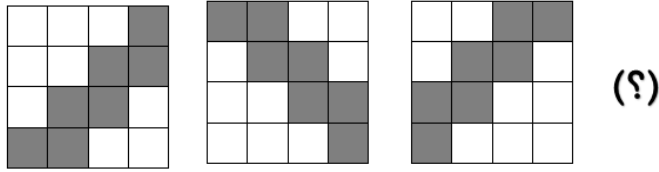


۰۹۳۷-۸۷۷۰۰۹۳

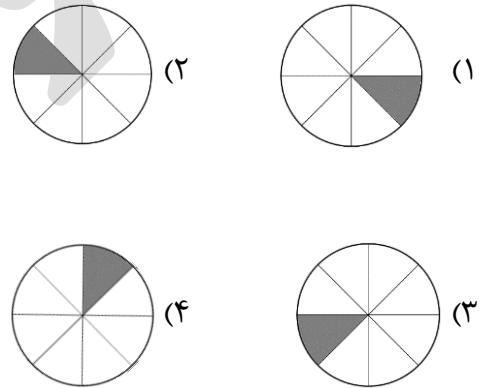
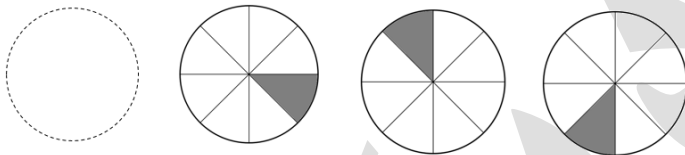
زنجان، انتهای بلوار کوی قائم، نرسیده به تقاطع پلیس، لاین کندرو، جنب دفتر بیمه آسیا



۲۹- شکل بعدی در الگوی مقابل کدام است؟



۳۰- شکل بعدی در الگوی مقابل کدام است؟



## معرفی کتاب



انتشارات پویش

منتشر کرد

فروش در:

کلیه ی کتابفروشی های

سراسر کشور

توضیحات: آزمون تیزهوشان شامل ۲ دفترچه می باشد.

دفترچه شماره (۱): سوالات از انواع هوش

دفترچه شماره (۲): سوالات دقت و تمرکز و سرعت عمل (۴۰ سوال: ۲۰ دقیقه)

\* کتاب ۳۳ آزمون دقت و تمرکز، تنها مرجع آمادگی دفترچه دوم آزمون تیزهوشان

در کشور است.

تلفن مرکز پخش: ۰۲۱-۶۶۹۶۰۰۰۰

مؤلف: مسعود بیگدلی

<https://b2n.ir/489986>

خرید اینترنتی از وبسایت دیجی کالا:

