



آزمون شبیه ساز شماره تیزهوشان ورودی ششم به هفتم: ۳ (سه)

| شماره سوال | تعداد سوال | نوع سوال |
|------------|------------|-----------------|
| ۱-۱۰ | ۱۰ | هوش تصویری |
| ۱۱-۲۰ | ۱۰ | هوش محاسباتی |
| ۲۱-۳۰ | ۱۰ | هوش کلامی منطقی |
| ۱-۳۰ | ۳۰ | مجموع |



تاریخ: ۱۳۹۹ / ۰۴ /
ساعت شروع آزمون: ۱۰ صبح
پشتیان،
زمان آزمون: ۴۰ دقیقه

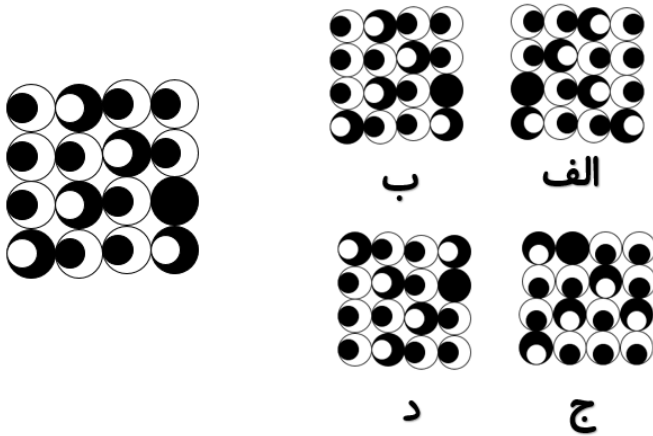
طراح آزمون

سعد بیگلر

۰۷۴ - ۳۳۲۴۲۱۳۰



۱- کدام گزینه تصویر در آینه ی تصویر مقابل است؟



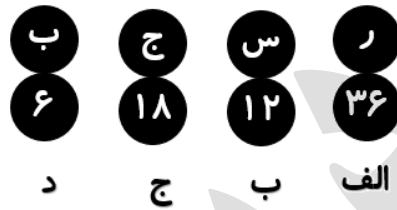
الف (۱)

ب (۲)

ج (۳)

د (۴)

۲- کدام گزینه متفاوت است؟



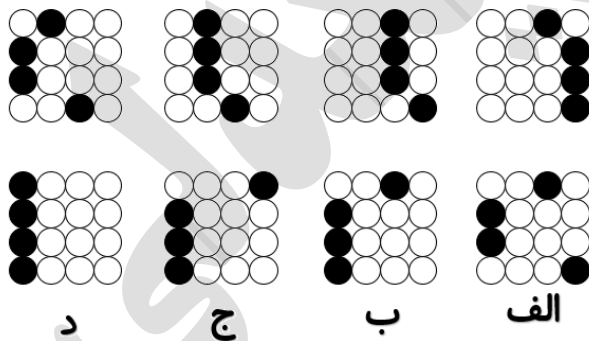
الف (۱)

ب (۲)

ج (۳)

د (۴)

۳- کدام گزینه ادامه ی الگوی مقابل است؟



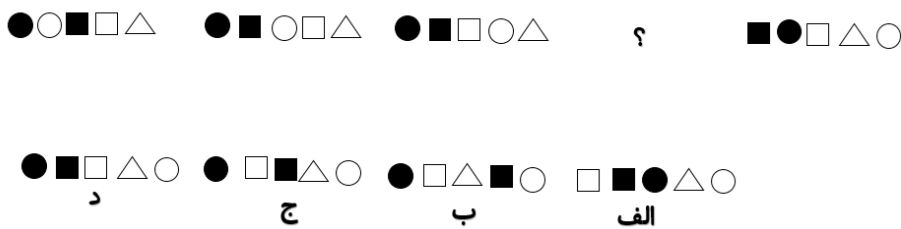
الف (۱)

ب (۲)

ج (۳)

د (۴)

۴- کدام گزینه مکمل الگو است؟



الف (۱)

ب (۲)

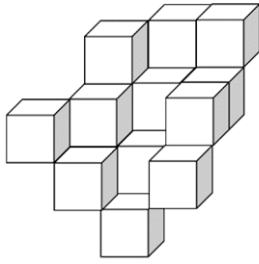
ج (۳)

د (۴)





۵- حجم مقابل حداقل از چند مکعب واحد تشکیل شده است؟



۱۲ (۱)

۱۵ (۲)

۱۷ (۳)

۲۰ (۴)

۶- با استفاده از ۲۰ مکعب واحد، بزرگترین مکعب ممکن را ساختیم. مساحت سطح این مکعب کدام است؟

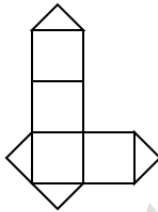
۱۲۰ (۲)

۱۲ (۱)

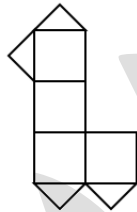
۶۴ (۴)

۷۲ (۳)

۷- کدام گزینه گسترده ی یک مکعب است؟



ب



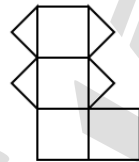
الف

الف (۱)

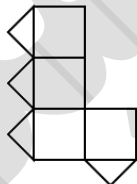
ب، ج، د (۲)

ج، ب، الف، د (۳)

هیچکدام (۴)

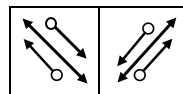
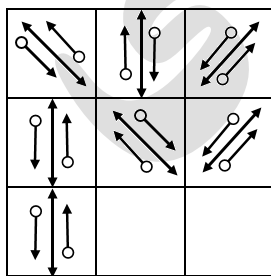


د

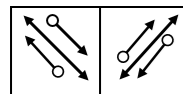


ج

۸- کدام گزینه مکمل ماتریس داده شده است؟



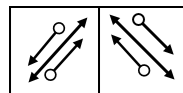
ب



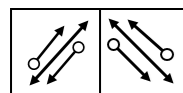
الف

الف (۱)

ب (۲)



د



ج

ج (۳)

د (۴)





۹- کدام گزینه مکمل ماتریس داده شده است؟

| | |
|---|---|
| U | U |
| U | U |
| E | E |
| E | E |

| | |
|---|---|
| E | E |
| E | E |

ب

| | |
|---|---|
| E | E |
| E | E |

الف

| | |
|---|---|
| E | E |
| E | E |

د

| | |
|---|---|
| E | E |
| E | E |

ج

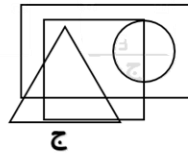
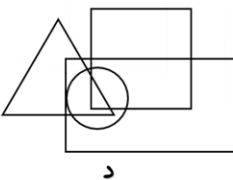
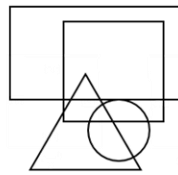
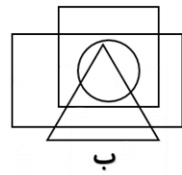
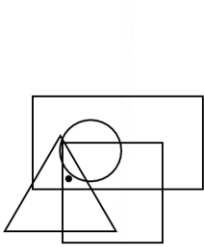
الف(۱)

ب(۲)

ج(۳)

د(۴)

۱۰- کدام گزینه ناحیه ی موجود در تصویر را ندا ۹۰



الف(۱)

ب(۲)

ج(۳)

د(۴)

$$2\frac{1}{3} + \frac{1}{2} \times \frac{1}{3} =$$

۱۱- حاصل عبارت مقابل کدام است؟

۱۲/۱۸ (۴)

۱ ۱/۳ (۳)

۲ ۱/۲ (۲)

۱ ۵/۱۲ (۱)

۱۲- از عدد ۱۹/۲۵ تا ۱۹۴/۱۹ چند عدد صحیح داریم که بر ۷ بخش پذیر است؟

۲۶ (۴)

۲۵ (۳)

۲۴ (۲)

۲۳ (۱)

۱- در یک جمع دوستانه، ۴۵٪ افراد بالای ۳۰ سال سن دارند. ۵۵٪ آنها بالای ۲۰ سال سن دارند. ۱۰٪ بقیه نیز بین ۱۰ تا ۲۰ سال سن دارند و بقیه زیر ۱۰ سال سن دارند. در این جمع حداقل چند نفر ۲۱ تا ۳۰ سال سن دارند؟

۲۵ نفر (۴)

۵۵ نفر (۳)

۱۰ نفر (۲)

۲۰ نفر (۱)

۱۴- میانگین ۱۲۱ عدد متوالی برابر با ۱۶۸ است. یکان حاصل ضرب بزرگ ترین و کوچکترین عدد، چند است؟

۴ (۴)

۷ (۳)

۱ (۲)

صفر (۱)





۱۵- میزان سود شرکتی از فروش محصولاتش ۶۰٪ اعلام شده است. این مقدار سود، ۵۰٪ سود سال قبل است. برآورد سود سال بعد نیز ۲۰٪ سود امسال است. سود سال بعد، چند درصد سود سال قبل است؟

- (۱) ۱۰٪ (۲) ۲۰٪ (۳) ۳۰٪ (۴) ۴۰٪

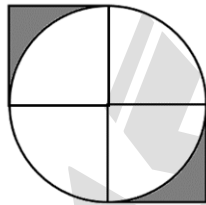
۱۶- محمد هر بار در مدت ۲۰ دقیقه ۳۰ متر به شرق و ۸۰ متر به شمال می‌رود، یکبار ساعتش را ۲ دقیقه عقب می‌کشد.

او قبل حرکت ساعتش را نگاه کرد و ساعت ۱۲:۲۶ را ثبت کرد. سپس در مجموع ۷۷۰ متر طبق همان الگوی حرکتی و بدون اتلاف وقت، حرکت کرد. هنگامی که بار آخر، ساعتش را ثبت کرد، ساعت ثبت شده برابر کدام عدد خواهد بود؟

- (۱) ۱۴:۴۶ (۲) ۱۴:۳۲ (۳) ۱۴:۵۸ (۴) ۱۴:۲۰

۱۷- اگر از نصف عددی ۲۵ واحد کم کنیم، ربع عدد ۴۸ حاصل می‌شود. اگر ۵ واحد از عدد کم کنیم، کدام عدد حاصل خواهد شد؟

- (۱) ۶۹ (۲) ۳۲ (۳) ۳۷ (۴) ۷۴



۱۸- تقریباً چند درصد شکل مقابل رنگی است؟

- (۱) ۴۳٪ (۲) ۱۳٪ (۳) ۴۵٪ (۴) ۱۲٪

۱۹- در الگوی مقابل، کدام عدد نظم الگو را به هم زده است؟

| | | | | | | |
|----|-----|-----|-----|-----|-----|-----|
| ۹۵ | ۱۰۸ | ۱۱۹ | ۱۳۰ | ۱۳۴ | ۱۴۲ | ۱۴۹ |
| د | ج | ب | الف | | | |

- (۱) الف (۲) ب (۳) ج (۴) د

۲۰- پدری اکنون دو برابر پسرش سن دارد. ۱۰ سال پیش سن پدر سه برابر پسر بود. ۱۶ سال دیگر مجموع سن پدر و پسر چند سال خواهد بود؟

- (۱) ۷۶ (۲) ۹۲ (۳) ۶۶ (۴) ۸۲

۲۱- در صورتی که کلمات زیر را مرتب کنیم تا جمله ای معنی دار بسازیم، بخش وسط با کدام حرف آغاز خواهد شد؟

«کرد، سخنان، را، تمامی، فراموش، ابو محمد، پدرش»

- (۱) ر (۲) س (۳) ت (۴) پ



۲۲- در صورتی که بندهای پاراگراف زیر را مرتب کنیم تا متنی معنی دار بسازیم، کدام گزینه ساخته خواهد شد؟

الف: آیا بین شهرت و موفقیت ارتباطی وجود دارد؟

ب: مشهور شدن آرزوی بسیاری از افراد است

ج: آیا بیشتر احساس خوشبختی می کنند؟

د: اما آیا این افراد بعد از دستیابی به شهرت، از زندگی خود لذت می برند؟

(۱) الف، ب، د، ج (۲) الف، ج، د، ب

(۳) ب، الف، ج، د (۴) ب، د، ج، الف

۲۳- با توجه به رابطه ی علت و معلولی، کدام گزینه صحیح است؟

الف: میزان مرگ و میر ناشی از بیماری کرونا هر روز نسبت به قبل، کاهش می یابد.

ب: مردم شهر تهران طرح فاصله گذاری اجتماعی را به خوبی رعایت نمی کنند.

(۱) الف) علت و (ب) معلول آن است.

(۲) ب) علت و (الف) معلول آن است.

(۳) الف) معلول علتی مستقل و (ب) علت معلولی مستقل است.

(۴) الف) و (ب) هر دو معلول علتی مستقل هستند.

۲۴- کدام گزینه ی زیر صحیح نیست؟

(۱) کلمات (۲) جملات (۳) سبزیجات (۴) گزارشات

۲۵- کدام گزینه متفاوت است؟

(۱) بیمار (۲) گفتار (۳) خواستار (۴) رفتار

۲۶- در فرهنگ کشوری بیگانه «بانیتا بونکا» یعنی «سیب ترش» و «آرانیکا باتی» یعنی «طعم خوشمزه».

از طرفی «بونکا یاتیش» یعنی «سیب زمینی» و «آرانیکا بامبو» یعنی «لواشک خوشمزه»

حال کدام گزینه صحیح نیست؟

(۱) بونکا: سیب (۲) یاتیش: زمینی (۳) بامبو: لواشک (۴) آرانیکا: طعم



۲۷- در صورتی که حروف واژه های زیر را مرتب کرده و واژه ای معنی دار بسازیم، کدام گزینه متفاوت خواهد بود؟

(۱) نیهمگس (۲) رهدسفا (۳) لقییرجث (۴) حبموب

۲۸- کدام گزینه متفاوت است؟

(۱) کاشی (۲) فرش (۳) موکت (۴) تخت خواب

۲۹- در صورتی که حروف مربوط به «لقوراق» را مرتب کنیم، کدام گزینه ساخته خواهد شد؟

(۱) نام یک شهر (۲) نام یک کشور

(۳) نام یک ابزار (۴) نام یک حیوان

۳۰- منظور از «شرق غرب» کدام است؟

(۱) شمال (۲) جنوب (۳) شرق (۴) غرب



معرفی کتاب



انتشارات پویش

منتشر کرد

فروش در:

کلیه ی کتابفروشی های

سراسر کشور

توضیحات: آزمون تیزهوشان شامل ۲ دفترچه می باشد.

دفترچه شماره (۱): سوالات از انواع هوش

دفترچه شماره (۲): سوالات دقت و تمرکز و سرعت عمل (۴۰ سوال: ۲۰ دقیقه)

* کتاب ۳۳ آزمون دقت و تمرکز، تنها مرجع آمادگی دفترچه دوم آزمون تیزهوشان

در کشور است.

تلفن مرکز پخش: ۰۲۱-۶۶۹۶۰۰۰۰

مؤلف: مسعود بیگدلی

<https://b2n.ir/489986>

خرید اینترنتی از وبسایت دیجی کالا:

