



به نام او

آکادمی آموزشی تیزلاین

مجری کلاس، همایش و آزمون های تخصصی تیزهوشان

در سراسر کشور

آخر هفته های تیزلاین

هفته سوم فروردین

دفترچه سوال

تعداد پرسش های دفترچه: ۴۰ سوال مدت پاسخ گویی به پرسش ها: ۳۰ دقیقه تعداد صفحات دفترچه: ۸ صفحه

نام درس	طراح آزمون	تعداد سوال	شماره سوال	زمان پیشنهادی
هوش دقت و تمرکز	استاد مسعود بیگدلی	۲۵	۴۰-۱	۳۰

مدیر اجرایی آزمون: دکتر قربانی

تذکر مهم: به ازای هر پاسخ صحیح ۳ نمره مثبت و به ازای هر پاسخ غلط، ۱ نمره منفی لحاظ می شود. برای پرسش های بدون پاسخ نمره ای در نظر گرفته نمی شود.

توجه: چاپ، تکثیر و هر گونه بهره برداری از محتویات این دفترچه فقط با اخذ مجوز رسمی از آکادمی تیزلاین مجاز است.



۱- تعداد اعداد موجود در مجموعه ی زیر چندتا است؟

«۵۴۱۵۸۷۹۶۳۲۱۴۵۶۹۸۵۴۷۱۲۳۵۴۶۸۹۱۱۲۵۴۸۵۱۶۵۵۶۲۵۵۷۵۵۶۳۲۵۸۸۱۲»

۵۵(۱) ۵۳(۲)

۵۴(۳) ۵۲(۴)

۲- در کدام گزینه تعداد ارقام فرد بیشتر است؟

۷۸۵۲۱۴۶۲۳۱۵۷۸۹۲۳(۱) ۸۵۴۴۵۶۲۱۳۲۵۴۷۸۹۵۲۰(۲)

۸۵۴۷۱۲۳۱۴۵۶۸۴۷۱۲(۳) ۷۴۱۲۰۳۲۱۴۵۹۸۷۵۲۱۴۱(۴)

۳- در کدام گزینه تعداد ارقام زوج کمتر است؟

۷۴۵۲۱۳۶۵۸۷۴۶۹۸۱(۱) ۷۵۴۶۲۳۲۱۵۸۹۶۴۵۲۱۳۲(۲)

۸۷۵۴۱۲۳۲۵۰۱۲۵۴۳(۳) ۸۷۵۴۲۱۳۶۲۰۱۵۹۷۵۳۱۱(۴)

۴- در کدام گزینه عدد (۸۵۶۴) مشاهده می شود؟

۷۴۱۲۳۲۱۴۸۵۴۶۸۷۹۵۲(۱) ۲۰۱۳۴۵۸۵۶۴۸۵۶۴۹۵۲(۲)

۸۵۴۶۸۵۴۶۸۵۱۲۱۲۸۵۴(۳) ۹۵۱۴۵۶۳۸۵۷۴۶۸۵۰۶۴(۴)

با توجه به متن زیر به سوالات ۵ تا ۸ پاسخ دهید.

«می توان فضای مجازی را مترادف با اینترنت دانست، اما اینترنت ابزار ورود به فضای مجازی است.

اینترنت سامانه ای جهانی از شبکه های رایانه ای به هم پیوسته است که از مجموع « پروتکل اینترنت» برای ارتباط با یکدیگر استفاده میکنند. به عبارت دیگر اینترنت شبکه شبکه ها است که از میلیون ها شبکه خصوصی، عمومی، دانشگاهی، تجاری و دولتی در اندازه های محلی و کوچک تا جهانی و بسیار بزرگ تشکیل شده است. که با آرایه های وسیعی از فناوری های الکترونیکی و نوری به هم متصل شده اند.»

۵- در سطر اول این متن، چند حرف یک نقطه وجود دارد؟

۱۷(۱) ۱۸(۲)

۱۹(۳) ۲۰(۴)

۶- در کل متن، چند بار از حرف "ش" استفاده شده است؟

۸(۱) ۹(۲)

۱۰(۳) ۱۱(۴)



۷- در کل متن، چند بار از حرف (د) استفاده شده است؟

۱۳(۱) ۱۴(۲)


۱۵(۳) ۱۶(۴)

۸- در کل متن، چند بار از واژه ی «ایترنت» استفاده شده است؟

۵(۱) ۴(۲)

۳(۳) ۶(۴)

۹- در بین دو تصویر زیر، چند تفاوت مشاهده می شود؟





۵(۱)

۶(۲)

۷(۳)

۸(۴)

۱۰- در بین دو تصویر زیر، چند تفاوت مشاهده می شود؟



۷(۱)

۸(۲)

۹(۳)

۱۰(۴)

۱۱- در بین دو تصویر زیر، چند تفاوت مشاهده می شود؟



۵(۱)



۶(۲)

۷(۳)

۸(۴)



۱۲- در بین دو تصویر زیر، چند تفاوت مشاهده می شود؟



۹(۱)

۱۰(۲)


۱۱(۳)

۱۲(۴)

با توجه به تصویر زیر، به سوالات ۱۳ تا ۲۰ پاسخ دهید.

ستون ۱

سطر ۱



۱۳- در تصویر بالا، چندتا از شکل را می توان دید؟

۱۲(۱) ۱۳(۲)

۱۴(۳) ۱۵(۴)

۱۴- در تصویر داده شده، چندستون، تماماً از شکل ساخته شده اند؟

۱(۱) ۲(۲)

۳(۳) ۴(۴)

۱۵- در تصویر داده شده، چند تا از شکل را می توان دید؟

۴(۱) ۵(۲)

۶(۳) ۷(۴)



را می توان دید؟



۱۶- در تصویر داده شده، چندتا از شکل

۴(۱) ۵(۲)

۶(۳) ۷(۴)

را می توان دید؟



۱۷- در تصویر داده شده، چندتا از شکل

۱۰۰(۱) ۱۰۱(۲)

۱۰۲(۳) ۱۰۳(۴)

۱۸- چند سطر دارای شروع و پایان یکسان هستند؟

۱(۱) ۲(۲)

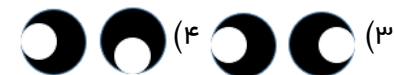
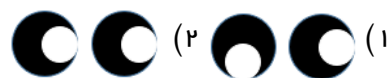
۳(۳) ۴(۴)

۱۹- چند ستون دارای ابتدا و انتهای یکسان هستند؟

۱۳(۱) ۱۲(۲)

۱۱(۳) ۱۴(۴)

۲۰- سطر سوم با شکل و ستون پنجم با شکل به پایان می رسند.




۲۱- در مجموعه ی مقابل، چند شکل متفاوت وجود دارد؟

۲(۱)


۳(۲)

۴(۳)

۵(۴)



۲۲- در مجموعه ی مقابل، چند شکل متفاوت وجود دارد؟




۲(۱)

۳(۲)

۴(۳)

۵(۴)

۲۳- در مجموعه ی مقابل، چند شکل متفاوت وجود دارد؟



۴(۱)

۳(۲)

۲(۳)

۱(۴)

۲۴- در مجموعه ی مقابل، چند شکل متفاوت وجود دارد؟



۴(۱)

۳(۲)

۲(۳)

۱(۴)

۲۵- تعداد نقطه های کدام گزینه صحیح نیست؟

(۱) مرز ایران و عراق (۶) (۲) سازمان پرورش استعدادهای درخشان (۱۴)

(۳) آکادمی آنلاین تیزلاین (۱۱) (۴) بادقت، نقطه ها را بشمار (۱۲)

۲۶- تعداد نقطه های کدام گزینه صحیح است؟

(۱) دوستان و آشنایان (۹) (۲) مرز بین عقل و جنون (۱۰)

(۳) تمایل شدید من به پیشرفت (۲۰) (۴) کرونا را شکست می دهیم (۷)

۲۷- در کدام گزینه تعداد نقطه ها فرد است؟

(۱) آتش شلم شوربا (۲) میزبان قدیمی نادر خان

(۳) سایه ی سنگین خانه (۴) چیپس و پفک بد است



۲۸- در کدام گزینه تعداد نقطه ها زوج است؟

- ۱) آتش دوزخ
 ۲) میراث بزرگان من
 ۳) صاحبخانه ی پردردسر
 ۴) بیماری سخت

۲۹- در مجموعه ی زیر، چند کلمه ی داریم که تعداد حروف آن فرد است؟

«منگنه ، صابون، میزکار ، بارانی ، شادمان ، باغبان ، ادکلن ، شمشیر ، ویروس ، قرنطینه ، بازیگری ، آسمان»

- ۱) ۵
 ۲) ۶
 ۳) ۸
 ۴) ۷

۳۰- در مجموعه ی زیر نام چند کشور ، دارای تعداد حروف زوج هستند؟

«آلبانی ، کاستاریکا ، مجارستان ، پرتغال ، فرانسه ، هنگ کنگ ، انگلستان ، آفریقای جنوبی ، کلمبیا»

- ۱) ۸
 ۲) ۷
 ۳) ۶
 ۴) ۹

۳۱- در کدام گزینه تعداد حرف (س) برابر با عدد (۷) است؟

- ۱) رشته تسبیح اگر بگسست معذورم بدار / دستم اندر ساعد ساقی سیمین ساق بود
 ۲) ای هست کن اساس هستی کوتاه ز درت دراز دستی
 ۳) سرّ سودای سرّ زلف تو در سرّ ماست / همچو زلفت دل سودایی ما بی سرّ و پاست
 ۴) صبحی که چون سحر است، اسیر مستی و سیاهی خسته و وصل نا پیوسته نمی شود

۳۲- در کدام گزینه حرف (ل) بیشتر دیده می شود؟

- ۱) لام تا کام، لوله و لباس
 ۲) لاجرم، لابد ، لیوان چینی
 ۳) دلنازک ، دلدار ، دالان
 ۴) لامپ ، گلدان ، گلوله

۳۳- کدام شکل زیر متفاوت است؟


- ۱) ○●●●●○●
 ۲) ○●●●●○●
 ۳) ○●●●●○●
 ۴) ●○●●●○●

۳۴- کدام شکل زیر متفاوت است؟

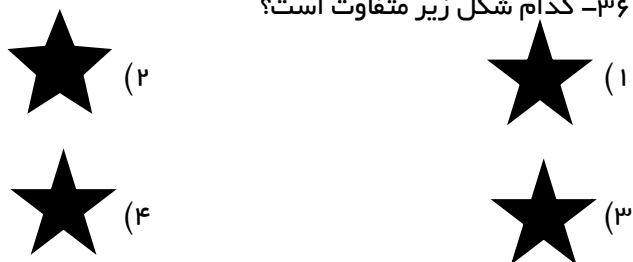
- ۱)
 ۲)
 ۳)
 ۴)



۳۵- کدام شکل زیر متفاوت است؟



۳۶- کدام شکل زیر متفاوت است؟



➤ در سوالات ۳۷ تا ۴۰، گزینه ای را که دو سوی آن یکسان است، انتخاب نمایید.

۳۷-

- | | | |
|----------------------------|-----|----------------------------|
| مادر بزرگ و پدر بزرگ آدرین | (۱) | مادر بزرگ و پدر بزرگ آدرین |
| مادر بزرگ و پدر بزرگ آدرین | (۲) | مادر بزرگ و پدر بزرگ آدرین |
| مادر بزرگ و پدر بزرگ آدرین | (۳) | مادر بزرگ و پدر بزرگ آدرین |
| مادر بزرگ و پدر بزرگ آدرین | (۴) | مادر بزرگ و پدر بزرگ آدرین |

۳۸-

- | | | |
|----------------------------------|-----|----------------------------------|
| قرنطینه در زمان پیک بیماری کرونا | (۱) | قرنطینه در زمان پیک بیماری کرونا |
| قرنطینه در زمان پیک بیماری کرونا | (۲) | قرنطینه در زمان پیک بیماری کرونا |
| قرنطینه در زمان پیک بیماری کرونا | (۳) | قرنطینه در زمان پیک بیماری کرونا |
| قرنطینه در زمان پیک بیماری کرونا | (۴) | قرنطینه در زمان پیک بیماری کرونا |

۳۹-

- | | | |
|--|-----|--|
| باشگاه دانش پژوهان جوان و سازمان سمپاد | (۱) | باشگاه دانش پژوهان جوان و سازمان سمپاد |
| باشگاه دانش پژوهان جوان و سازمان سمپاد | (۲) | باشگاه دانش پژوهان جوان و سازمان سمپاد |
| باشگاه دانش پژوهان جوان و سازمان سمپاد | (۳) | باشگاه دانش پژوهان جوان و سازمان سمپاد |
| باشگاه دانش پژوهان جوان و سازمان سمپاد | (۴) | باشگاه دانش پژوهان جوان و سازمان سمپاد |



-۴۰

امیدواریم از شرکت در این آزمون لذت برده باشید (۱) امیدواریم از شرکت در این آزمون لذت برده باشید
امیدواریم از شرکت در این آزمون لذت برده باشید (۲) امیدواریم از شرکت در این آزمون لذت برده باشید
امیدواریم از شرکت در این آزمون لذت برده باشید (۳) امیدواریم از شرکت در این آزمون لذت برده باشید
امیدواریم از شرکت در این آزمون لذت برده باشید (۴) امیدواریم از شرکت در این آزمون لذت برده باشید





۲-گزینه ۴	۳-گزینه ۴	۲-گزینه ۴	۱-گزینه ۲
۱-گزینه ۸	۷-گزینه ۲	۶-گزینه ۱	۵-گزینه ۳
۲-گزینه ۱۲	۱۱-گزینه ۱	۱۰-گزینه ۴	۹-گزینه ۳
۱۶-گزینه ۳	۱۵-گزینه ۲	۱۴-گزینه ۴	۱۳-گزینه ۴
۲۰-گزینه ۴	۱۹-گزینه ۲	۱۸-گزینه ۳	۱۷-گزینه ۳
۲۴-گزینه ۳	۲۳-گزینه ۲	۲۲-گزینه ۱	۲۱-گزینه ۲
۲۸-گزینه ۳	۲۷-گزینه ۴	۲۶-گزینه ۲	۲۵-گزینه ۳
۳۲-گزینه ۱	۳۱-گزینه ۴	۳۰-گزینه ۱	۲۹-گزینه ۴
۳۶-گزینه ۲	۳۵-گزینه ۳	۳۴-گزینه ۱	۳۳-گزینه ۴
۴۰-گزینه ۴	۳۹-گزینه ۲	۳۸-گزینه ۳	۳۷-گزینه ۴

آکادمی آنلاین تیزلاین

