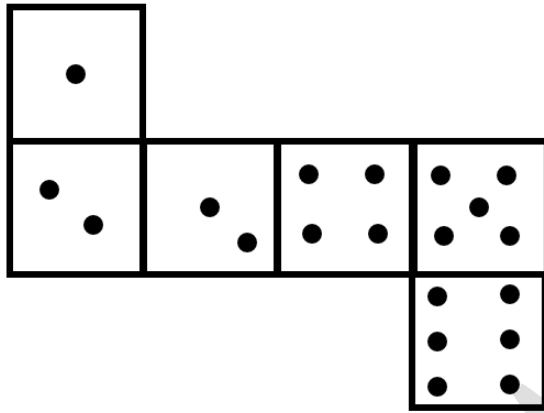


➤ باتوجه به گسترده ی تاس زیر، به سوالات ۱ و ۲ پاسخ دهید.



۱- حداکثر جمع اعداد روبروی هم، کدام است؟

۸(۴)

۱۰(۳)

۱۱(۲)

۷(۱)


۲- وجه مجهول تاس مقابل، کدام است؟

۴(۲)

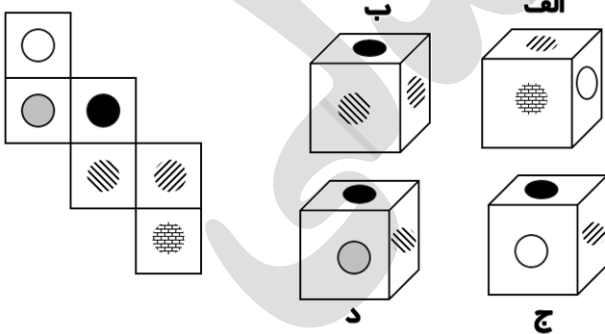
۱(۱)

۶(۴)

۵(۳)



۳- در صورتی که مکعب مقابل را ببندیم، کدام شکل ایجاد خواهد شد؟



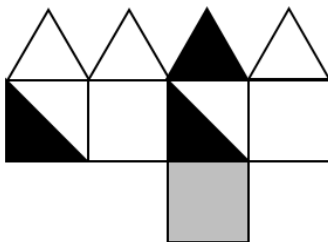
۱(ب)

۲(الف)

۳(د)

۴(ج)

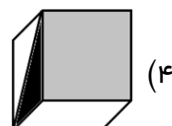
۴- کدام شکل مربوط به گسترده ی مقابل است؟



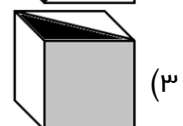
(۲)



(۱)

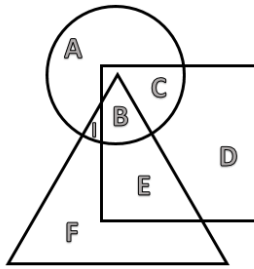


(۴)



(۳)

۵- باتوجه به نمودار مقابل، کدام گزینه صحیح است؟



مربع: قوم تارجوس
دایره: قوم مارچوس
مثلث: قوم کالجوس

(۱) هیچ تارجوسی مارچوس نیست.

(۲) بعضی مارچوس ها هم تارجوس هستند و هم کالجوس

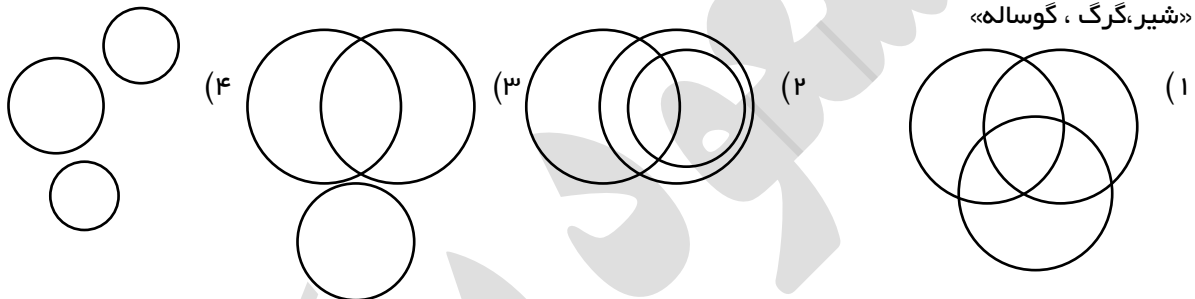
(۳) بعضی کالجوس ها مارچوس هستند ولی تارجوس نیستند.

(۳) هر تارجوسی که مارچوس باشد، کالجوس نیز هست.

(۱) ۲ تا از جملات بالا صحیح است. (۲) ۳ تا از جملات بالا درست است.

(۳) هر ۴ تا درست است. (۴) فقط یکی درست است.

۶- کدام نمودار زیر، رابطه ی منطقی موارد زیر را به درستی نشان می دهد؟



«شیر، گریگ، گوساله»

۷- رویا روزهای شنبه و سه شنبه دروغ می گوید و بقیه ی روزها را راستگو است. اگر از او بپرسیم آیا تو دیروز راست گفته ای؟ در چند روز پاسخ (بله) را خواهیم شنید؟

(۱) ۲ روز (۲) ۳ روز (۳) چهار روز (۴) پنج روز

۸- چندتا از جملات زیر صحیح است؟

*من اگر پیر نباشم، جوان هستم. *اگر رنگی سیاه نباشد، سفید است.

*اگر میزبان نباشیم، مهمان هستیم.

(۱) فقط یکی (۲) فقط دوتا (۳) هر ۳ تا (۴) هیچ کدام صحیح نیست.

۹- می دانیم:

رابیما باتریچ یعنی بیماری واگیر دار و رایما گراتریچ یعنی بیکاری غیر واگیر. از طرفی بوریما باتریچ یعنی واگیر ویروس. حال ویروس کرونا کدام مورد می تواند باشد؟

(۱) باتریچ رابیما (۲) گراتریچ بوریما (۳) بوریما سوریچ (۴) باریما سریچ



۱۰- داتیس سوتریدیس بوکتوریس در زبان آلابامی یعنی سرو و سبز زیبا و سوتریدیس ساریزماچی یعنی زیبای باوقار. پس:

- (۱) داتیس، یعنی سرو
(۲) بوکتوریس یعنی زیبا
(۳) ساریزماچی یعنی با وقار
(۴) سوتریدیس یعنی سرو
- باتوجه به متن زیر، به سوالات ۱۱ تا ۱۵ پاسخ دهید.

«منطقه گرمسیری، منطقه حاره یا مدارگان آن بخش از زمین است که در میان مدارهای رأس السرطان و رأس الجدی واقع شده است، این منطقه معمولاً آب و هوا یا اقلیم گرم و مرطوب دارد .

منطقه گرمسیری هم‌جوار خط استوا است و هر روز خورشید بر روی یکی از مدارهای این ناحیه به طور مستقیم می‌تابد و بالای سر ناظر زمینی قرار می‌گیرد. این مناطق در میان مناطق معتدل قرار دارند. مناطق گرمسیری شمالی میان خط استوا و مدار رأس السرطان و مناطق گرمسیری جنوبی میان خط استوا و مدار رأس الجدی واقع شده‌اند .

منطقه گرمسیری از جانب شمال و جنوب بطور مساوی با خط استوا فاصله دارد، مرز مداری این منطقه در سال ۲۰۰۰ موازی از دو سو $23^{\circ} 26' 21.5''$ در فاصله استوا بوده و طی نوساناتی تا سال ۲۰۱۹ این فاصله $23^{\circ} 26' 14.9''$ و تا سال ۲۰۲۰ به میزان $23^{\circ} 26' 12.1''$ رانده خواهد شد. این مرز دوسویه نوسانات پیچیده‌ای دارد؛ طبق اطلاعات در دست در سال ۴۷۱۳ قبل از میلاد این فاصله $24^{\circ} 08' 58.6''$ بوده (و بنظر می‌رسد پیش از آن چنان در میل زیادی داشته که موجب دوران یخبندان شده است) (تا سال ۱۲۰۳۱ میلادی به نزدیکترین حد خود به استوا یعنی $41.307' 36'' 22^{\circ}$ می‌رسد و سپس مجدداً بتدریج میل بیشتر پیدا می‌کند و در سال ۱۸۷۳۹ به جایگاه کنونی می‌رسد، آنگاه همچنان میل بیشتر را ادامه می‌دهد و در سال ۲۰۰۰ اندکی از ۲۴ درجه می‌گذرد. در سال ۲۵۰۰۰ آنسوتر از مدار ۳۳ قرار دارد) (بنظر می‌رسد که در دوره دیگری از یخبندان باشد) (و در سال ۳۰۰۰۰ در ۸۳ درجه نزدیک قطبین می‌رسد و در سال ۳۰۷۳۵ گویی بر فراز دو قطب متمرکز می‌شود در دهه‌های اخیر این مدار سالانه $0.47''$ (۰،۴۷ ثانیه قوسی) یعنی حدود ۱۵ متر به جنوب عقب می‌کشد.»

۱۱- منطقه ی گرمسیری

(۱) هم‌جوار خط استوا است و هر روز خورشید بر روی یکی از مدارهای این ناحیه به طور مستقیم می‌تابد

(۲) مرز مداری این منطقه در سال ۲۰۰۰ موازی از دو سو $23^{\circ} 26' 21.5''$ در فاصله استوا قرار دارد.

(۳) از جانب شمال و جنوب بطور مساوی با خط استوا فاصله دارد

(۱) همه ی موارد

۱۲- اکنون (۲۰۲۰) است. چند سال دیگر منطقه ی گرمسیری به جایگاه کنونی خود خواهد رسید؟



۱) ۱۶۷۱۹ سال دیگر (۲) ۱۶۸۱۲ سال دیگر (۳) ۱۰۰۱۱ سال دیگر (۴) ۱۰۱۰۱ سال دیگر

۱۳- اکنون (۲۰۲۰) است. چند سال دیگر، منطقه گرمسیری به نزدیکترین حد ممکن به استوا خواهد رسید؟

۱) ۱۶۷۱۹ سال دیگر (۲) ۱۶۸۱۲ سال دیگر (۳) ۱۰۰۱۱ سال دیگر (۴) ۱۰۱۰۱ سال دیگر

۱۴- مناطق گرمسیری میان خط استوا و مدار و مناطق گرمسیری میان خط استوا و مدار واقع شده اند .

۱) شمالی، رأس السرطان، جنوبی، الرأس الجدی (۲) جنوبی، رأس السرطان، شمالی، الرأس الجدی

۳) شمالی، رأس الرئوس، جنوبی، الرأس الجدی (۴) جنوبی، رأس الرئوس، شمالی، الرأس الجدی

۱۵- در سالهای اخیر، مدار مناطق گرمسیری، سالانه چند متر جابجا می شود؟

۱) ۱۶ (۲) ۱۵ (۳) ۱۴ (۴) ۲۵

در هر یک از سوالات ۱۶ تا ۱۸، بامرتب کردن جمله، پاسخ سوال مرتبط را از بین گزینه های پیشنهادی انتخاب نمایید.

۱۶- «است، مناطق، این، گرم، اغلب، و خشک، هوا، آب و»

بخش سوم مرتب شده ی جمله ی بالا کدام است؟

۱) هوای (۲) این (۳) منطق (۴) اغلب

۱۷- «مزایای، افزایش، یکی از، حق اولاد، است، حقوق، جانبی»

بخش پنجم مرتب شده ی جمله ی بالا، چند حرف نقطه دار دارد؟

۱) یک (۲) دو (۳) سه (۴) چهار

۱۸- «شهرهای، می باشد، یکی از، شهرستان، خاتون آباد، شهربابک»

دومین بخش مرتب شده ی جمله ی بالا، چند حرفی است؟

۱) ۴ حرفی (۲) ۶ حرفی

۳) ۵ حرفی (۴) ۷ حرفی

۱۹- رابطه ی (صبح به ورزش) مثل رابطه ی است.

(۱) تخم مرغ به تابه

(۲) گرسنگی به غذا خوردن

(۳) آسمان به هواپیما

(۴) ریگ به بیابان

۲۰- رابطه ی (سر با سرباز) مثل رابطه ی است.

(۱) بار با غمبار

(۲) شیک با شیشلیگ

(۳) دل با دلدار

(۴) من با خرمن

۲۱- رابطه ی (سیاه و) مثل رابطه ی (..... و) است.






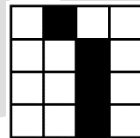

(۱) تیره ، آسمان ، هوا

(۲) سفید، تیره، روشن

(۳) تیره ، هوا ، آسمان

(۴) سفید، روشن، تیره

۲۲- رابطه ی به مثل به است.



تیزین	بین تیز
؟	خطرناک

۲۳- کدام گزینه به جای (؟) کدام است؟

(۱) ناک خطر

(۲) رخط ناک

(۳) کانخطر

(۴) خطر اکن

۵۱۲۸	۱۲۵۸
۵۸۷۶	؟

۲۴- کدام گزینه به جای (؟) کدام است؟

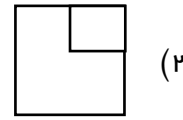
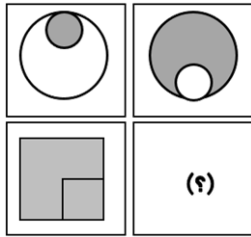
(۱) ۵۶۷۸

(۲) ۵۸۷۶

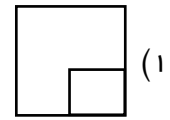
(۳) ۷۵۸۶

(۴) ۸۷۵۶

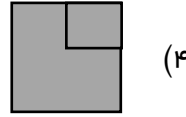
۲۵- کدام گزینه به جای (؟) کدام است؟



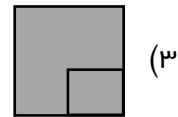
(۲)



(۱)

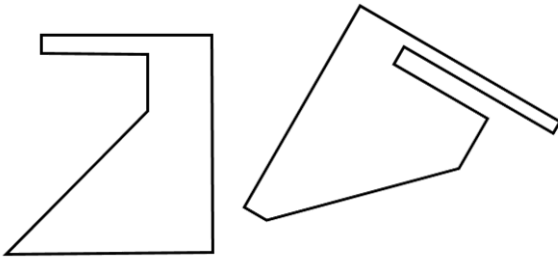


(۴)



(۳)

۲۶- با استفاده از اشکال مقابل، کدام شکل را می توان ساخت؟



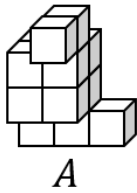
(۲) مستطیل

(۱) لوزی


(۴) مربع

(۳) ذوزنقه ی قائم الزاویه

۲۷- شکل A از کدام یک از ورودی های الف تا د به راحتی عبور میکند؟



A



ب



الف



د



ج

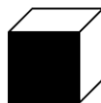
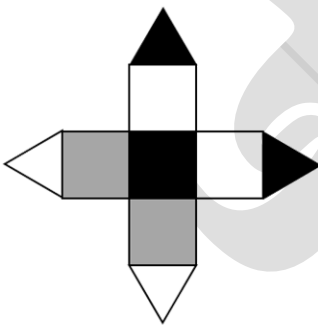
(۱) الف

(۲) ب

(۳) ج

(۴) د

۲۸- در صورت بستن مکعب مقابل، کدام گزینه تشکیل نخواهد شد؟



ب



الف



د



ج

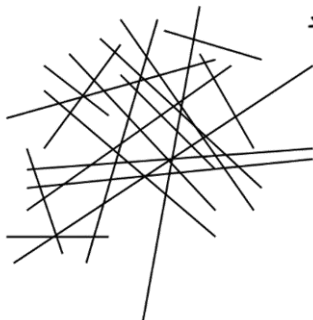
(۱) الف

(۲) ب

(۳) ج

(۴) د

۲۹- در شکل مقابل، چند خط وجود دارد؟



(۲) ۱۹

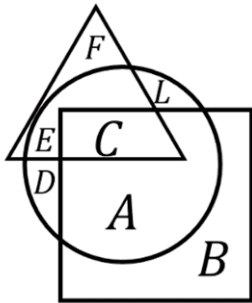
(۱) ۱۸

(۴) ۲۱

(۳) ۲۰

۳۰- کدام مورد درباره ی نواحی مشخص شده در شکل

مقابل صحیح است؟



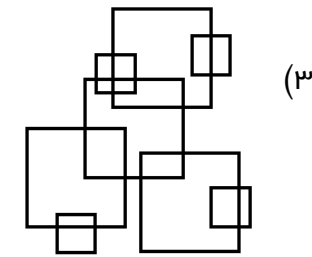
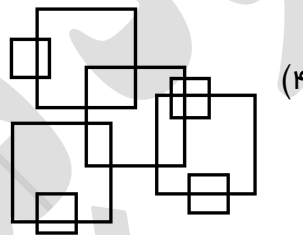
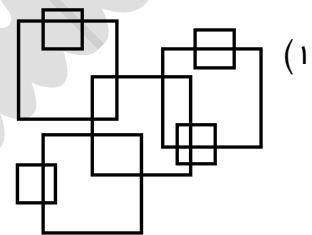
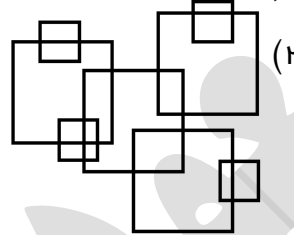
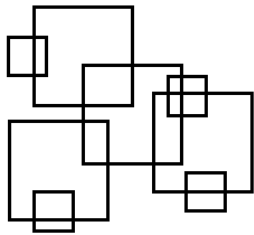
۱) بخش A با بخش C دو اشتراک دارد.

۲) بخش E با بخش F دو اشتراک دارد.

۳) بخش B با بخش C اشتراکی ندارد.

۴) بخش F با بخش B اشتراکی ندارد.

۳۱- تصویر در آینه ی تصویر در آب تصویر مقابل، کدام است؟



در سوالات ۳۲ تا ۳۵، شکل متفاوت را مشخص نمایید.

۳۲-



د

ج

ب

الف

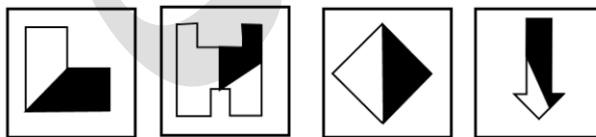
ب(۲)

الف(۱)

د(۴)

ج(۳)

۳۳-



د

ج

ب

الف

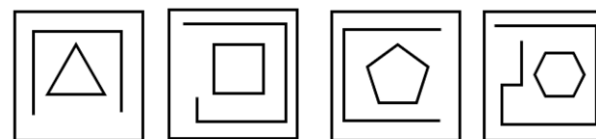
ب(۲)

الف(۱)

د(۴)

ج(۳)

۳۴-



د

ج

ب

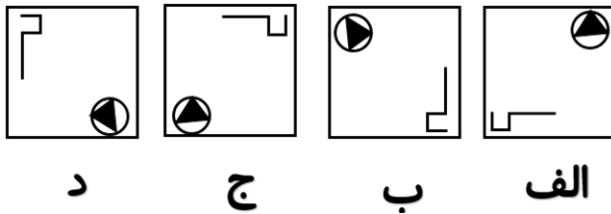
الف

ب(۲)

الف(۱)

د(۴)

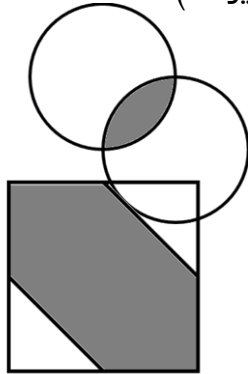
ج(۳)



- الف (۱)
ب (۲)
ج (۳)
د (۴)

۳۵-

۳۶- محیط بخش رنگ شده در شکل مقابل، کدام است؟ (شعاع هر دایره: ۲)



- الف (۱) $\frac{3}{14}$
ب (۲) $\frac{6}{28}$
ج (۳) $\frac{3}{42}$
د (۴) $\frac{6}{23}$

۳۷- چه کسری از شکل مقابل رنگی است؟

- الف (۱) $\frac{1}{2}$
ب (۲) $\frac{2}{3}$
ج (۳) $\frac{3}{4}$
د (۴) $\frac{4}{5}$

۳۸- طول خط (الف ب) کدام است؟



- الف (۱) ۵
ب (۲) ۴
ج (۳) ۶
د (۴) ۳

۳۹- ۴۰ درصد از نصف پولی، ۱۰ درصد از ۱۲۰۰ تومان است. ۲۰ درصد آن پول، چند تومان است؟

- الف (۱) ۱۲۰ تومان
ب (۲) ۶۰ تومان
ج (۳) ۱۸۰ تومان
د (۴) ۲۴۰ تومان

۴۰- میزان سود سالانه ی یک شرکت تبلیغاتی بین المللی، ۴۰۰ میلیون دلار است. هر دلار، امروزه برابر ۱۲۰۰۰ تومان می باشد. ۱۰ درصد از سود این شرکت بین المللی، چند تومان است؟

- الف (۱) چهار میلیارد و هشتصد میلیون تومان
ب (۲) چهار و هشت میلیارد تومان
ج (۳) چهارصد و هشتاد میلیارد تومان
د (۴) چهارصد و هشتاد میلیون تومان

باتوجه به متن زیر، به سوالات ۱ تا ۴ پاسخ دهید.

«مجموعه اهرام جیزه نام مجموعه اهرام تاریخی ساخته شده در دوران مصر باستان است که در حاشیه شمالی شهر قاهره کنونی واقع شده است. هرم بزرگ جیزه یکی از اهرام در مجموعه اهرام جیزه و تنها بازمانده عجایب هفتگانه جهان به شمار می‌آید. قدمت اهرام جیزه به دودمان چهارم مصر می‌رسد که نام‌های این اهرام عبارتند از خوفو، خفرع و منقرع. که خوفو بزرگترین‌شان و یکی از عجایب هفتگانه است. مساحت جیزه در حدود ۸ کیلومتر است. علاوه بر سه هرم اصلی، چندین هرم کوچکتر، مجسمه‌ی اسفینکس و کشتی بزرگ مصری متعلق به ۲۵۰۰ سال پیش از میلاد مسیح نیز در منطقه جیزه واقع شده است. برخی از پژوهشگران، تاریخ ساخت اهرام را به بیش از ۱۲ هزار سال پیش نسبت می‌دهند که هنوز منبع موثقی در این مورد یافت نشده است. اهرام جیزه که از حدود سال ۲۵۵۰ پیش از میلاد ساخته شده‌اند، با رمز و علم پنهانی ارتباط پیدا کرده‌اند و نمادهای حکمت ازلی، سرزمین مصر، پایداری ابدی و فنون جادوگری بودند. اهرام جیزه نقطه اوجی در تکامل شیوه معماری مقابر مصر در دوره پادشاهی کهن است که با ساختن مصطبه‌ها، گورهای اولیه مصریان که غالباً آجری یا سنگی بودند، آغاز و با هرم پلکانی زوسر پیشرفت کرد. از سال ۲۶۵۰ تا ۲۳۰۰ قبل از میلاد، ۸۰ هرم در مصر ساخته شد. اولین هرم بزرگ را دومین پادشاه از دودمان سوم فرعون بنام جوزر بر پا کرد و این سنت تا دودمان هجدهم ادامه یافت. بعد از آن تا بیست و پنجمین فرعون دیگر هرمی ساخته نشد.»

۴۱- محوریت متن، کدام است؟

۱) تاریخچه‌ی مصر باستان (۲) اهرام ثلاثه (۳) عجایب هفت گانه (۴) امپراطوری فرعون

۴۲- کدام گزینه صحیح نمی باشد؟

۱) قدمت اهرام جیزه، به دودمان چهارم مصر برمی‌گردد.

۲) مساحت اهرام جیزه، ۸ کیلومتر مربع است.

۳) مجسمه‌های دورتادور اهرام، متعلق به ۲۵۰۰ سال قبل از میلاد مسیح است.

۴) گورهای اولیه‌ی مصریان، غالباً سنگی یا آجری بودند.

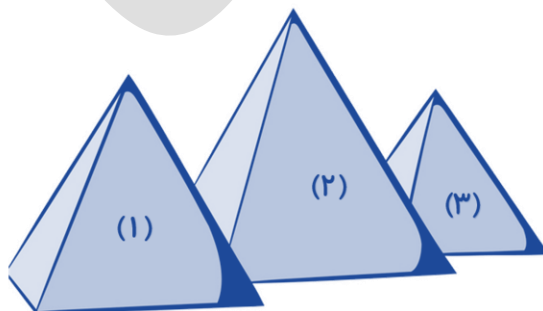
۴۳- باتوجه به تصویر مقابل:

۱) هرم شماره (۲) هرم «خوفو» است.

۲) هرم شماره (۲) هرم «خفرع» است.

۳) هرم شماره (۲) هرم «منقرع» است.

۴) اطلاعات مربوط به این سوال در متن موجود نیست.



۴۴- کدام گزینه صحیح است؟

۱) در طول ۳۵۰ سال، ۱۶ هرم در مصر ساخته شد.

۲) در طول ۳۵۰ سال، ۸۰ هرم در مصر ساخته شد.

۳) در طول ۴۵۰ سال، ۱۶ هرم در مصر ساخته شد.

۴) در طول ۴۵۰ سال، ۸۰ هرم در مصر ساخته شد.

۴۵- جاهای خالی متن زیر با کدام گزینه تکمیل می گردد.

« اولین هرم بزرگ را پادشاه از دودمان فراغنه بنام جوزر بر پا کرد و این سنت تا دودمان ادامه یافت »

۱) سومین، دوم، هجدهم

۲) دومین، سوم، شانزدهم

۳) سومین، دوم، شانزدهم

۴) دومین، سوم، هجدهم

۴۶- اگر ساتال بزرگتر از ماتال و ماتال کوچکتر از شاتال و شاتال بزرگتر از ساتال باشد، ترتیب قد این سه نفر از بزرگ به کوچک و راست به چپ کدام است؟

۲) شاتال، ساتال، ماتال

۱) ساتال، ماتال، شاتال

۴) ماتال، شاتال، ساتال

۳) شاتال، ماتال، ساتال

۴۷- رباتی به سمت شمال ایستاده است. این ربات، ۱۴ واحد به جلو حرکت کرد و سپس به سمت راست پیچیده و ۲۰ واحد به جلو رفت. پس از آن به سمت راست پیچیده و ۴۰ واحد به راست حرکت کرد. اکنون دبات در کدام جهت نسبت به مکان اولیه ی خود ایستاده است؟

۲) شمال شرقی

۱) شمال غربی

۴) جنوب شرقی

۳) جنوب غربی

۴۸- باتوجه به گزاره های (الف) و (ب) گزینه ی صحیح را انتخاب نمایید.

الف: مهمان های زیادی داشتیم.

ب: تمامی ظرف های آشپزخانه ی ما، کثیف شده بودند.

(۱) الف معلول و ب علت آن است. (۲) ب معلول و الف علت آن است.

(۳) الف و ب هر دو معلول علتی مستقل هستند. (۴) الف و ب هر دو علت معلولی مستقل هستند.

۴۹- کدام برداشت از جمله ی موجود در گزینه یمربوطه، صحیح نیست؟

(۱) امروز سه شنبه نیست. پس: فردا چهارشنبه نیست.

(۲) دیروز روز قبل از چهارشنبه بود. پس: فردا چهارشنبه است.

(۳) فردا روز قبل از سه شنبه خواهد بود. پس: دیروز دوشنبه بود.

(۴) امروز روز قبل از جمعه نیست. پس: فردا جمعه است.

۵۰- کدام گزینه متفاوت است؟

(۱) آب ، روغن (۲) میز، صندلی (۳) شیر، پلنگ (۴) باران، ابر

۵۱- ۲۰٪ از ۳۰٪ برابر با چند درصد است؟

(۱) ۶۰٪ (۲) ۶٪ (۳) ۱۶٪ (۴) ۲۴٪

۵۲- آریا تعدادی تپله دارد. ۴۵٪ آنها آبی رنگ هستند و بقیه که ۱۱ تا می باشند، قرمز هستند. آریا چند تپله دارد؟

(۱) ۲۰ (۲) ۲۵ (۳) ۳۵ (۴) ۴۵

۵۳- چند درصد شکل مقابل رنگی است؟



(۱) ۲۰٪ (۲) ۳۰٪

(۳) ۲۵٪ (۴) ۴۰٪

۵۴- ۴۰ درصد مسافران یک کشتی، ۲۹۲ نفرند. کشتی چند مسافر دارد؟

(۱) ۷۳۰ نفر (۲) ۴۳۸ نفر

(۳) ۵۱۲ نفر (۴) ۸۴۰ نفر

۵۵- عدد ۱۳۶ برابر با چند درصد عدد ۶۸۰ است؟

- (۱) ۳۰% (۲) ۴۰% (۳) ۲۰% (۴) ۳۵%

۵۶- عدد ۶۴ چند درصد ربع عدد ۱۶ است؟

- (۱) ۱۶% (۲) ۱۶۰% (۳) ۱۶۰۰% (۴) ۱۶۰۰۰%

۵۷- ۳۶ درصد مبلغی برابر با ۱۴۴ تومان است. کل آن مبلغ چند تومان است؟

- (۱) ۱۰۰ (۲) ۲۰۰ (۳) ۳۰۰ (۴) ۴۰۰

۵۸- ۲۹ درصد عددی برابر ۱۷۴ است. ۳۶ درصد آن عدد کدام است؟

- (۱) ۲۱۶ (۲) ۳۱۲ (۳) ۳۶۰ (۴) ۲۱۸

۵۹- محمد ۳۶ جلد کتاب دارد. او تعدادی کتاب را خوانده و تمام کرده است. او چند درصد کتابهایش را خوانده و تمام کرده است؟

- (۱) ۱۰ درصد (۲) ۲۰ درصد (۳) ۴۰ درصد (۴) ۵۰ درصد

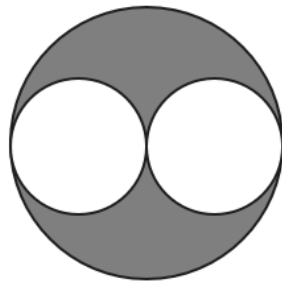
۶۰- چند درصد از شکل مقابل را رنگ کنیم تا ۷۶ درصد شکل رنگ شود؟



- (۱) ۵۱% (۲) ۲۶%

- (۳) ۳۲% (۴) ۳۸%

۶۱- چند درصد شکل مقابل رنگی است؟



- (۱) ۶۰%

- (۲) ۵۰%

- (۳) ۲۵%

- (۴) ۷۵%

۶۲- چند درصد اعداد ۱ تا ۱۰۰ بر ۷ بخش پذیرند؟

- (۱) ۱۵% (۲) ۱۳% (۳) ۱۶% (۴) ۱۴%

۶۳- سی درصد از ۲۵ درصد اعداد ۱ تا ۱۰۰۰، شامل چند عدد صحیح می شود؟

- (۱) ۷۰ تا (۲) ۷۳ تا (۳) ۷۴ تا (۴) ۷۵ تا

۶۴- ۱۰% از ۲۰% از ۳۰% یعنی چند درصد؟

- (۱) ۶% (۲) ۶۰%

- (۳) ۰/۶% (۴) ۰/۰۶%

$$2\frac{1}{4} + 1\frac{1}{2} \times \frac{1}{3}$$

۶۵- حاصل عبارت مقابل، برابر با چند درصد است؟

۲۰۰۰٪(۴)


۲۰۰٪(۳)

۶۲۵٪(۲)

۶۲/۵٪(۱)

دقت و تمرکز

➤ با توجه به مجموعه ی زیر، به سوالات ۶۶ تا ۷۰ پاسخ دهید.



۶۶- مجموعه ی بالا شامل چند دایره ی سفید است؟

۲۲(۴)

۲۱(۳)

۲۰(۲)

۱۹(۱)

۶۷- مجموعه ی بالا شامل چند مربع است؟

۲۱(۴)

۲۰(۳)

۱۹(۲)

۱۸(۱)

۶۸- مجموعه ی بالا شامل چند مثلث سفید است؟

۱۸(۴)

۱۷(۳)

۱۶(۲)

۱۵(۱)

۶۹- مجموعه ی بالا شامل چند دایره سیاه است؟

۲۳(۴)

۲۴(۳)

۲۶(۲)

۲۵(۱)

۷۰- مجموعه ی بالا شامل چند مثلث خاکستری است؟

۲۲(۴)

۲۱(۳)

۲۰(۲)

۱۹(۱)

➤ در سوالات ۷۱ تا ۷۵، گزینه ای را که هر دو سوی آن یکسان است انتخاب نمایید.

-۷۱

۳۵۴۶۵۸۴۱۲ (۱) ۳۵۴۵۶۸۴۱۲

۸۵۶۴۲۳۱۵۱ (۲) ۸۵۶۴۲۳۱۵۱

۳۵۸۴۹۶۵۴۱ (۳) ۳۵۸۹۴۶۵۴۱

۵۸۴۶۹۸۱۵۲ (۴) ۵۸۴۶۹۸۱۵۲

-۷۲

۸۵۴۱۲۳۶۵۶ (۱) ۸۵۴۲۱۳۶۵۶

۵۸۷۹۶۵۳۲۱ (۲) ۵۸۷۶۹۵۳۲۱

۸۹۷۶۵۲۳۱۴ (۳) ۸۹۷۶۵۳۲۱۴

۹۸۷۴۵۶۳۲۱ (۴) ۹۸۷۴۵۶۳۲۱

-۷۳

۸۷۵۴۲۱۳۶ (۱) ۸۵۷۴۲۱۳۶

۸۷۵۴۲۱۳۶ (۲) ۸۷۵۴۲۱۶۳

۸۷۵۴۲۱۳۶ (۳) ۸۷۵۴۲۱۳۶

۸۷۵۴۲۱۳۶ (۴) ۸۷۴۵۲۱۳۶

-۷۴

آسمان دودی پایتخت (۱) آسمان دودی پایتخت

مهمانان خانه ی مادری (۲) مهمانان خانه ی مادری

زیر وبم زندگی ما بزرگا (۳) زیر وبم زندگی ما بزرگا

آشنای خیلی دور بابابزرگ (۴) آشنای خیلی دور بابابزرگ

-۷۵

آشپانه ی پرند ی مادر (۱) آشپانه ی پرند ی مادر

سرویس آشپزخانه (۲) سرویس آشپزخانه

میزان درآمد هنگفت (۳) میزان درآمد هنگفت

آدرین و آراد و آیدین (۴) آدرین و آراد و آیدین