



آکادمی آنلاین تیزلاین قوی ترین پلتفرم آموزشی تیز هوشان

برگزار کننده کلاس های آنلاین و حضوری تیز هوشان ✓

و المپیاد از پایه چهارم تا دوازدهم

آزمون های آنلاین و حضوری ✓

مشاوره تخصصی ✓

با اسکن QR کد روبرو
وارد صفحه اینستاگرام
آکادمی تیزلاین شو و از
محتوای آموزشی
رایگان لذت ببر



برای ورود به صفحه اصلی سایت آکادمی تیزلاین کلیک کنید

برای دانلود دفترچه آزمون های مختلف برای هر پایه کلیک کنید

برای مطالعه مقالات بروز آکادمی تیزلاین کلیک کنید



سؤالات امتحان نهایی درس: فیزیک ۳ رشته: علوم تجربی	پایه دوازدهم دوره دوم متوسطه	ساعت شروع: ۸ صبح
تاریخ امتحان: ۱۴۰۰/۰۳/۰۱	تعداد صفحه: ۳	نام و نام خانوادگی:
مدت امتحان: ۱۲۰ دقیقه	نام و نام خانوادگی:	مرکز سنجش و پایش کیفیت آموزشی
دانش آموزان روزانه، بزرگسال و داوطلبان آزاد سراسر کشور در نوبت خرداد ماه سال ۱۴۰۰		


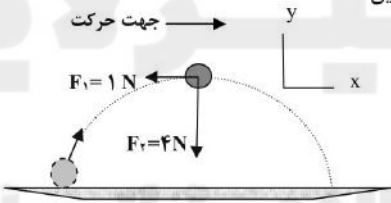
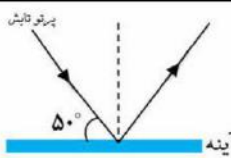
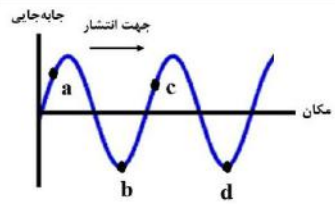
توجه: استفاده از ماشین حساب ساده (دارای چهار عمل اصلی، جذر و درصد) مجاز می باشد.

ردیف	سؤالات	نمره
۱	واژه مناسب برای هر یک گزاره های زیر را انتخاب کنید. (یک واژه اضافه است) <div style="border: 1px solid black; padding: 5px; display: inline-block;"> مکانیکی - الکترومغناطیسی - آونگ - جرم - بسامد </div> الف) تندی انتشار موج در یک ریسمان تحت کشش، به ریسمان بستگی دارد. ب) توان متوسط در یک موج سینوسی برای همه انواع امواج مکانیکی، با مربع دامنه و مربع موج متناسب است. پ) از اثر متقابل میدان های الکتریکی و مغناطیسی، امواج به وجود می آیند. ت) امواج برای انتشار به محیط مادی نیاز دارند.	۱
۲	شکل روبه رو نمودار مکان - زمان حرکت یک متحرک که در راستای محور x حرکت می کند را نشان می دهد. الف) در کدام لحظه متحرک بیشترین فاصله از مبدأ مختصات را دارد؟ ب) جابه جایی کل متحرک در جهت محور x است یا خلاف جهت محور x ؟ پ) جهت حرکت متحرک چند بار تغییر کرده است؟ ت) در کدام بازه زمانی متحرک در حال نزدیک شدن به مبدا است؟ ث) در کدام لحظه متحرک از مبدا عبور می کند؟	۱/۲۵
۳	متحرکی در مدت زمان ۸s از مکان $\vec{d}_1 = (-4m)\vec{i}$ به مکان $\vec{d}_2 = (4m)\vec{i}$ می رسد. الف) جهت حرکت این متحرک را تعیین کنید. ب) بزرگی سرعت متوسط متحرک در مدت زمان ۸s چند متر بر ثانیه است؟ پ) مسافت طی شده متحرک چند متر است؟	۰/۲۵ ۰/۷۵ ۰/۲۵
۴	شکل روبه رو نمودار سرعت - زمان حرکت یک متحرک که در راستای محور x حرکت می کند را نشان می دهد. الف) بزرگی شتاب متوسط متحرک در بازه زمانی $t_1=4s$ تا $t_2=12s$ را به دست آورید. ب) اگر این متحرک در لحظه $t=0s$ در مکان $x=2m$ باشد، در لحظه $t=2s$ در چند متری مبدا است؟	۰/۷۵ ۰/۷۵
۵	همانند شکل روبه رو، نیروی $F=20N$ به جعبه ای به جرم $5kg$ که روی میز افقی قرار دارد وارد می شود. الف) نیروی عمودی سطح چند نیوتون است؟ ب) واکنش نیروی عمودی سطح در چه جهتی است؟ ($g=10 N/kg$)	۰/۷۵ ۰/۲۵
ادامه سوالات در صفحه دوم		



سؤالات امتحان نهایی درس: فیزیک ۳	رشته: علوم تجربی	پایه دوازدهم دوره دوم متوسطه	ساعت شروع: ۸ صبح
تاریخ امتحان: ۱۴۰۰/۰۳/۰۱	تعداد صفحه: ۳	نام و نام خانوادگی:	مدت امتحان: ۱۲۰ دقیقه
دانش آموزان روزانه، بزرگسال و داوطلبان آزاد سراسر کشور در نوبت خرداد ماه سال ۱۴۰۰ مرکز سنجش و پایش کیفیت آموزشی			

توجه: استفاده از ماشین حساب ساده (دارای چهار عمل اصلی، جذر و درصد) مجاز می باشد.

ردیف	سؤالات	نمره
۶	در شکل روبه رو وقتی وزنه 20N را به فنری با طول اولیه 12cm آویزان می کنیم، طول فنر 16cm می شود. ثابت فنر چند نیوتون بر متر است؟ 	۱
۷	الف) در فیلمی علمی - تخیلی، موتور یک کشتی فضایی در حال حرکت، در فضای تهی و خارج از جو زمین و دور از هر سیاره و خورشید از کار می افتد. آیا ممکن است حرکت کشتی کند شود و کشتی متوقف شود؟ چرا؟ ب) چتربازی در هوای آرام در حال سقوط است. در چه شرایطی چترباز با تندی حدى به طرف پایین حرکت می کند؟ پ) یک مکعب چوبی روی یک میز افقی با نیروی ثابت و افقی F کشیده می شود. اگر مکعب روی سطح بلغزد، نیروی اصطکاک بین مکعب چوبی و سطح میز به کدام عامل یا عوامل زیر وابسته است؟ (۱) میزان زبری سطح میز (۲) مساحت سطح تماس مکعب با میز (۳) جرم مکعب چوبی	۰/۵ ۰/۵ ۰/۵
۸	شکل روبه رو نیروهای وارد بر توبی به جرم 4kg را در بالاترین نقطه مسیرش نشان می دهد. بردار شتاب این توپ را در نقطه نشان داده شده بر حسب بردارهای یکه بنویسید. 	۰/۷۵
۹	معادله حرکت هماهنگ ساده یک نوسانگر در SI به صورت $x = \left(\frac{2}{\pi}\right) \cos 2\pi t$ است. الف) دوره تناوب این نوسانگر چند ثانیه است؟ ب) تندی بیشینه این نوسانگر چند متر بر ثانیه است؟	۰/۷۵ ۰/۷۵
۱۰	در آینه تخت شکل روبه رو، مقدار زاویه تابش و زاویه بازتابش آینه، چند درجه است؟ 	۰/۵
۱۱	تراز شدت صوت یک مخلوط کن 80dB است. شدت این صوت چقدر است؟ ($I_0 = 10^{-12} \text{W/m}^2$)	۰/۷۵
۱۲	شکل رو به رو یک موج سینوسی را در لحظه ای از زمان نشان می دهد که در جهت محور x در طول ریسمان کشیده شده ای، حرکت می کند. با توجه به شکل، تعیین کنید هر یک از اجزای (یا نقاط) مشخص شده به طرف بالا می روند یا پایین؟ الف) نقطه a ب) نقطه b پ) نقطه c ت) نقطه d 	۱

ادامه سؤالات در صفحه سوم

سؤالات امتحان نهایی درس: فیزیک ۳ رشته: علوم تجربی پایه دوازدهم دوره دوم متوسطه	ساعت شروع: ۸ صبح
تاریخ امتحان: ۱۴۰۰/۰۳/۰۱ تعداد صفحه: ۳ نام و نام خانوادگی:	مدت امتحان: ۱۲۰ دقیقه
دانش آموزان روزانه، بزرگسال و داوطلبان آزاد سراسر کشور در نوبت خرداد ماه سال ۱۴۰۰	مرکز سنجش و پایش کیفیت آموزشی

توجه: استفاده از ماشین حساب ساده (دارای چهار عمل اصلی، جذر و درصد) مجاز می باشد.

ردیف	سؤالات	نمره
۱۳	<p>شکل روبه‌رو جبهه‌های موج تخت نوری را نشان می‌دهد که به طور مایل به مرز دو محیط می‌رسند و سپس شکست پیدا می‌کنند.</p> <p>الف) با استفاده از قانون شکست عمومی، توضیح دهید تندی انتشار نور در کدام محیط، بیشتر است؟ (θ_1, θ_2)</p> <p>ب) ضریب شکست کدام محیط کمتر است؟</p> <p>پ) با ذکر دلیل، بسامد نور فرودی و نور شکست یافته را مقایسه کنید.</p>	<p>۰/۷۵</p> <p>۰/۲۵</p> <p>۰/۵</p>
۱۴	<p>تعریف کنید؛</p> <p>الف) دامنه حرکت</p> <p>ب) نیمه عمر</p>	<p>۰/۵</p> <p>۰/۵</p>
۱۵	<p>درستی یا نادرستی هر گزاره را با واژه ((درست)) یا ((نادرست)) مشخص کنید و در پاسخ نامه بنویسید.</p> <p>الف) بر اساس نتایج تجربی، اگر شدت نور فرودی به سطح فلز به قدر کافی بزرگ باشد پدیده فوتوالکترونیک در هر بسامدی رخ می‌دهد.</p> <p>ب) طیف گسیلی حاصل از گازهای کم‌فشار و رقیق، طیف خطی است.</p> <p>پ) مدل اتمی تامسون را مدل اتم هسته‌ای یا مدل هسته‌ای اتم می‌نامند.</p> <p>ت) خواص شیمیایی هر اتم را تعداد نوترون‌های هسته تعیین می‌کند.</p> <p>ث) در مدل بور، نیروی الکتریکی که یک الکترون بر الکترون دیگر وارد می‌کند به حساب آمده است.</p> <p>ج) نیروی هسته‌ای کوتاه برد است و تنها در فاصله‌ای کوچک‌تر از ابعاد هسته اتم اثر می‌کند.</p> <p>چ) به اختلاف جرم هسته اتم با مجموع جرم نوکلئون‌های تشکیل دهنده اتم، کاستی جرم هسته گفته می‌شود.</p>	<p>۱/۷۵</p>
۱۶	<p>بلندترین طول موج طیفی اتم هیدروژن در رشته لیمان ($n=1$) چند متر است؟ $(R \approx 0.01 \text{ nm}^{-1})$</p>	<p>۱</p>
۱۷	<p>برای ${}_{82}^{208}\text{Pb}$ مطلوب است:</p> <p>(۱) تعداد نوکلئون‌ها</p> <p>(۲) تعداد نوترون‌ها</p> <p>(۳) تعداد پروتون</p>	<p>۰/۷۵</p>
۱۸	<p>یک لامپ با توان ۵W تابش مرئی با طول موج ۵۵۰ nm گسیل می‌کند. در هر ثانیه چه تعداد فوتون از این لامپ گسیل می‌شود؟ $(hc = 2 \times 10^{-25} \text{ J.m})$</p>	<p>۱</p>
	شاد و سلامت باشید	<p>۲۰</p>





راهنمای تصحیح امتحان نهایی درس: فیزیک ۳	رشته: علوم تجربی	ساعت شروع: ۸ صبح	مدت امتحان: ۱۲۰ دقیقه
پایه دوازدهم دوره دوم متوسطه	تعداد صفحه: ۲	تاریخ امتحان: ۱۴۰۰/۰۳/۰۱	
دانش آموزان روزانه، بزرگسال و داوطلبان آزاد سراسر کشور خرداد ماه سال ۱۴۰۰		مرکز سنجش و پایش کیفیت آموزشی	

ردیف	راهنمای تصحیح	نمره
۱	الف) جرم ص. ۶۵ (ب) بسامد ص. ۶۶ (پ) الکترومغناطیسی ص. ۶۶ (ت) مکانیکی ص. ۶۸ هر مورد (۰/۲۵)	۱
۲	الف) t_1 (ب) خلاف محور x (پ) یک بار (ت) t_1 تا t_2 (ث) t_2 پرسش ۱-۳ ص. ۸ هر مورد (۰/۲۵)	۱/۲۵
۳	الف) در جهت مثبت محور x (۰/۲۵) (ب) $v_{av} = 1 \text{ m/s}$ (۰/۲۵) $v_{av} = \frac{4 - (-4)}{8}$ (۰/۲۵) $v_{av} = \frac{\Delta x}{\Delta t}$ (۰/۲۵) (پ) اگر متحرک روی خط راست حرکت کند مسافت، ۸ متر است. (پاسخ صحیح دیگر: اگر حرکت متحرک روی خط راست نباشد، نمی توان مسافت را تعیین کرد) (۰/۲۵) ص. ۵	۱/۲۵
۴	الف ص. ۱۲ (ب) ص. ۱۴ $a_{av} = -0.5 \text{ m/s}^2$ (۰/۲۵) $a_{av} = \frac{2-6}{12-4}$ (۰/۲۵) $a_{av} = \frac{\Delta v}{\Delta t}$ (۰/۲۵) $x = 6 \times 2 + 2 = 14 \text{ m}$ (۰/۵) $x = vt + x_0 \Rightarrow x = 6t + 2$ (۰/۲۵)	۱/۵
۵	الف) $F_{net} = 0 \Rightarrow F_N = mg + F$ (۰/۲۵) $F_N = 5 \times 10 + 20 = 70 \text{ N}$ (۰/۵) (ب) عمود بر سطح به طرف پایین (خلاف جهت محور y) (۰/۲۵) تمرین ص. ۲۶	۱
۶	الف) $F_e = W$ (۰/۲۵) $k \Delta x = W \Rightarrow k (0.16 - 0.12) = (20)$ (۰/۲۵) $k = 500 \text{ N/m}$ (۰/۲۵) ص. ۴۲	۱
۷	الف) خیر (۰/۲۵) اگر نیروی خالصی به متحرک وارد نشود، متحرک با سرعت ثابت به حرکتش ادامه می دهد (قانون اول نیوتون) (۰/۲۵) پرسش ص. ۲۹ (ب) هنگامی که نیروی مقاومت هوا و وزن هم اندازه شده و نیروهای وارد بر چتر باز متوازن شوند. (۰/۵) مثال ص. ۳۴ (پ) میزان زبری سطح میز (۰/۲۵) جرم مکعب چوبی (۰/۲۵) ص. ۴۰	۱/۵
ادامه در صفحه دوم		



راهنمای تصحیح امتحان نهایی درس: فیزیک ۳	رشته: علوم تجربی	ساعت شروع: ۸ صبح	مدت امتحان: ۱۲۰ دقیقه
پایه دوازدهم دوره دوم متوسطه	تعداد صفحه: ۲	تاریخ امتحان: ۱۴۰۰/۰۳/۰۱	مرکز سنجش و پایش کیفیت آموزشی
دانش آموزان روزانه، بزرگسال و داوطلبان آزاد سراسر کشور خرداد ماه سال ۱۴۰۰			
۸	مثال ص. ۲۲	$\vec{a} = \frac{(-1)\vec{i} + (-4)\vec{j}}{0.4}$ (۰/۲۵)	$\vec{a} = \frac{\vec{F}_{net}}{m}$ (۰/۲۵) $\vec{a} = (-2/5)\vec{i} + (-1.0)\vec{j}$ (۰/۲۵)
۹	الف) ص. ۵۵ ب) مثال ص. ۵۹	$T = 0.08 s$ (۰/۲۵) $T = \frac{2\pi}{25\pi}$ (۰/۲۵)	$w = \frac{2\pi}{T}$ (۰/۲۵) $v_{max} = Aw$ (۰/۲۵)
۱۰	ص. ۷۷	$\theta_i = \theta_r = 40^\circ$ (۰/۵)	
۱۱	مثال ص. ۲۳	$I = 10^{-4} W/m^2$ (۰/۲۵) $80 = 10 \log \frac{I}{10^{-12}}$ (۰/۲۵)	$\beta = 10 \log \frac{I}{I_0}$ (۰/۲۵)
۱۲	الف) پایین ب) بالا پ) پایین ت) بالا	هر مورد (۰/۲۵) ص. ۹۰	
۱۳	الف) طبق رابطه $\frac{\sin \theta_1}{v_1} = \frac{\sin \theta_2}{v_2}$ چون سینوس زاویه تابش از سینوس زاویه شکست بزرگتر است، (۰/۲۵) تندی انتشار نور در محیط اول بیشتر است. (۰/۲۵) ص. ۸۳ ب) محیط اول (۰/۲۵) ص. ۸۳ پ) بسامد موج در محیط های اول و دوم برابر است. (۰/۲۵) بسامد موج به محیط انتشار موج بستگی ندارد. (۰/۲۵)		
۱۴	الف) بیشینه فاصله جسم (نوسانگر) از نقطه تعادل است. (۰/۵) ص. ۵۵ ب) مدت زمانی است که طول می کشد تا تعداد هسته های مادر موجود در یک نمونه، به نصف برسد. (۰/۵) ص. ۱۲۰		
۱۵	الف) نادرست ص. ۹۷ ب) درست ص. ۹۹ ج) درست ص. ۱۱۴ د) نادرست ص. ۱۰۹	پ) نادرست ص. ۱۰۴ چ) درست ص. ۱۱۵	ت) نادرست ص. ۱۱۳ هر مورد (۰/۲۵)
۱۶	ص. ۱۰۲	$\lambda = 1.03 \times 10^{-7} m$ (۰/۲۵) $\lambda = 10.3 / 3 nm$ (۰/۲۵)	$\frac{1}{\lambda} = R \left(\frac{1}{n_1^2} - \frac{1}{n_2^2} \right)$ (۰/۲۵) $\frac{1}{\lambda} = \frac{1}{100} \left(\frac{1}{1} - \frac{1}{4} \right)$ (۰/۲۵)
۱۷	تمرین ۱۶-۱ ص. ۱۲۴	هر مورد (۰/۲۵) (۱) ۲۰۸ (۲) ۱۲۶ (۳) ۸۲	
۱۸	تمرین ۱-۴ ص. ۹۹	$n = \frac{5 \times 10^{25} \times 10^{-9}}{2 \times 10^{-25}}$ (۰/۲۵)	$p = \frac{E}{t}$ (۰/۲۵) $n = 1 / 375 \times 10^{19}$ (۰/۲۵) $\frac{nhc}{\lambda} = pt$ (۰/۲۵)
۲۰	همکاران محترم، ضمن عرض خسته نباشید لطفاً برای پاسخ های صحیح دیگر، نمره لازم را در نظر بگیرید.		