



آکادمی آنلاین تیزلاین

قوی ترین پلتفرم آموزشی تیز هوشان

برگزار کننده کلاس های آنلاین و حضوری تیز هوشان ✓

و المپیاد از پایه چهارم تا دوازدهم

آزمون های آنلاین و حضوری ✓

مشاوره تخصصی ✓

با اسکن QR کد روبرو
وارد صفحه اینستاگرام
آکادمی تیزلاین شو و از
محتواهای آموزشی
رایگان لذت ببر



برای ورود به صفحه اصلی سایت آکادمی تیزلاین کلیک کنید

برای دانلود دفترچه آزمون های مختلف برای هر پایه کلیک کنید

برای مطالعه مقالات بروز آکادمی تیزلاین کلیک کنید



قرآن و پیام‌های آسمان



- ۱- ترجمه لغات «عدن - تبار - قدر - أنهار» به ترتیب کدام است؟
 - (۱) جاودان - خاندان - قیمت - روز
 - (۲) جاودان - نابودی - اندازه - رودها
 - (۳) بهشت - نابودی - توانا - روزها
 - (۴) بهشت - هلاکت - اندازه - رود
- ۲- معنای کدام کلمه غلط است؟
 - (۱) اذکر: یاد کن
 - (۲) مخرج: راه نجات
- ۳- کدام دو کلمه از نظر معنا و مفهوم با هم تفاوت دارند؟
 - (۱) محروم / سائل
 - (۲) معاش / سبب
- ۴- ترجمه عبارت «إِتَّبِعُوا الْحَقَّ» در کدام گزینه آمده است؟
 - (۱) از حق پیروی کنید
 - (۲) از حق پیروی کردند
 - (۳) از حق پیروی کردیم
 - (۴) از حق پیروی می‌کنند
- ۵- ترجمه کدام عبارت صحیح است؟
 - (۱) جَزَاءٌ بِمَا كَانُوا يَعْمَلُونَ: پاداشی به‌خاطر آنچه انجام می‌دادند.
 - (۲) قَلِيلًا تَشْكُرُونَ: پس چرا شکر می‌کنید؟
 - (۳) أَضَلَّ أَعْمَالَهُمْ: کارشان نابود شد.
 - (۴) عَلَّمَهُ الْبَيَانَ: سخن گفتن را یاد گرفت.
- ۶- همه عبارت‌های قرآنی زیر به ویژگی‌های مؤمنان اشاره دارد، به جز
 - (۱) تَجَاهِدُونَ فِي سَبِيلِ اللَّهِ
 - (۲) وَ فِي أَمْوَالِهِمْ حَقٌّ لِّلسَّائِلِ وَ الْمَحْرُومِ
 - (۳) صَدُّوا عَنِ سَبِيلِ اللَّهِ
 - (۴) وَ بِالْأَسْحَارِ هُمْ يَسْتَغْفِرُونَ
- ۷- با توجه به آیات زیر ترجمه کلماتی که زیر آنها خط کشیده شده است به ترتیب کدام است؟

﴿ وَ إِلَى الْجِبَالِ كَيْفَ نُصِبَتْ وَ إِلَى الْأَرْضِ كَيْفَ سُطِحَتْ ﴾

 - (۱) برپا شد - گسترده شد
 - (۲) آفریده شد - گسترده شد
 - (۳) هموار شد - برپا شد
 - (۴) نابود شد - هموار شد
- ۸- امیرالمؤمنین علی (ع) کدام موارد را دو برادر و همراه و دو دوست جدایی‌ناپذیر معرفی می‌کنند؟
 - (۱) شناخت و ایمان
 - (۲) ایمان و عمل
 - (۳) ایمان و انگیزه
 - (۴) شناخت و عمل
- ۹- کدام گزینه درباره اثرپذیری در دوستی دوران نوجوانی صحیح نیست؟
 - (۱) اثرپذیری بسیار بالا است.
 - (۲) اثرپذیری آرام و تدریجی است.
 - (۳) اثرپذیری ناخودآگاه است.
 - (۴) اثرپذیری زودگذر است.
- ۱۰- در آیه ﴿ وَ لَا تَهِنُوا وَ لَا تَحْزَنُوا وَ أَنْتُمْ الْأَعْلَوْنَ إِنْ كُنْتُمْ مُؤْمِنِينَ ﴾ خداوند کسب کدام ویژگی را از جامعه اسلامی می‌خواهد؟
 - (۱) استقامت و پایداری
 - (۲) خودباوری
 - (۳) تعاون و همکاری
 - (۴) مسئولیت‌پذیری
- ۱۱- در بیت «نَبَدَ این خلق و تو بودی، نَبُودَ خلق و تو باشی / نه بجنبی نه بگردی، نه بکاهی نه فزایی» چند حمد و چند تسبیح وجود دارد؟
 - (۱) ۳ حمد - ۳ تسبیح
 - (۲) ۴ حمد - ۲ تسبیح
 - (۳) ۲ حمد - ۴ تسبیح
 - (۴) ۴ حمد - ۴ تسبیح
- ۱۲- «دوستی که کارهای زشت خود را زیبا جلوه می‌دهد و دوستی که می‌خواهد به نفع ما قدم بردارد؛ ولی مایه ضرر ما می‌شود» به ترتیب فاقد کدام ویژگی یک دوست مناسب است؟
 - (۱) خیرخواهی - اهل گناه نبودن
 - (۲) اهل فکر و اندیشه بودن - خیرخواهی
 - (۳) وفای به عهد - اهل فکر و اندیشه بودن
 - (۴) اهل گناه نبودن - اهل فکر و اندیشه بودن

 ۰۲۱-۹۱۳۰۲۲۰۲ * ۰۲۱-۴۴۱۳۶۹۷۵
 Tizline.ir
 ۰۹۳۳۳۸۴۰۲۰۲

۱۳- جنگ امام علی (ع) با خوارج نهروان و نبرد سپاه اسلام با حکومت روم در صدر اسلام به ترتیب نمونه‌ای از جهاد و است.
 (۱) دفاعی - ابتدایی (۲) ابتدایی - ابتدایی (پیام‌های آسمان - درس ۱۶)
 (۳) ابتدایی - دفاعی (۴) دفاعی - دفاعی

۱۴- کدام گزینه درباره امر به معروف و نهی از منکر صحیح نیست؟
 (۱) اگر امر به معروف و نهی از منکر به نتیجه نرسد به وظیفه خود عمل کرده‌ایم.
 (۲) ترک امر به معروف و نهی از منکر سبب تسلط انسان‌های فاسد بر مردم می‌شود.
 (۳) هدف در نهی از منکر این است که انسان خطاکار به اشتباهش ادامه ندهد.
 (۴) امر به معروف و نهی از منکر در مقایسه با همه کارهای نیک مانند قطره در برابر دریایی پهناور و عمیق است.

۱۵- کدام عبارت قرآنی با مفهوم آن ارتباط کمتری دارد؟
 (۱) إِذْ قَالَ لِأَبِيهِ يَا أَبَتِ لِمَ تَعْبُدُ مَا لَا يَسْمَعُ وَلَا يُبْصِرُ وَلَا يُغْنِي عَنْكَ شَيْئًا / تسلیم بودن انبیا در برابر امر خداوند
 (۲) وَ أَعَدُّوا لَهُمْ مَا اسْتَطَعْتُمْ مِنْ قُوَّةٍ / کسب آمادگی برای دفاع
 (۳) يَا وَيْلَتَى لَيْتَنِي لَمْ أَتَّخِذْ خَلِيلًا / نقش دوست بد در سرنوشت اخروی انسان
 (۴) إِنَّمَا الْمُؤْمِنُونَ الَّذِينَ إِذَا ذُكِرَ اللَّهُ وَ جِلَّتْ قُلُوبُهُمْ وَإِذَا تُلِيَتْ عَلَيْهِمْ آيَاتُ زَاذَاتِهِمْ إِيمَانًا / نقش یاد خدا در تقویت ایمان

فارسی



۱۶- معنی واژه‌های مشخص شده در ابیات زیر در کدام گزینه به ترتیب و به درستی آمده است؟
 «ناگهان تکبیر پر وا کرد / در میان آتش و باروت غوغا کرد / کودکی از جنس نارنجک / در دهان تانک‌ها افتاد / تلی از خاکستر خاموش / ماند روی دست‌های دشت»

(۱) برخاستن - فریاد - بلندی (۲) الله اکبر گفتن - سرو صدا - تپه (۳) الله اکبر گفتن - شیون - قلّه (۴) قیام - دادوبیداد - کوه
 (دانش زبانی - درس ۱۶)

۱۷- گروه واژه‌ها در کدام گزینه هم خانواده نیستند؟
 (۱) موفق - اتفاق - موافقت (۲) وحدت - اتحاد - واحد (۳) توجیه - مواجهه - ترجیح (۴) حزن - محزون - احزان
 (املا - درس ۲)

۱۸- کدام گزینه غلط املائی دارد؟
 (۱) چراغ وی ماه است و شعله وی آفتاب و قندیل‌های وی ستارگان.
 (۲) از جمال صورت قصر و بسیاری غلامان و سریر ملک وی هیچ خبر ندارد.
 (۳) و آنچه میان آسمان و زمین است چون میغ و باران و قوس قزح و علاماتی که در هوا پدید آید.
 (۴) اگر خواهی به درجه مورچه قناعت کنی، می‌باش و اگر نه، راحت داده‌اند تا در بستان معرفت حق تعالی، تماشا کنی و بیرون آیی.

۱۹- «شمع وجودش به خاموشی گرایید» یعنی:
 (۱) ناامید شد (۲) خاموش گشت (۳) بی نور شد (۴) درگذشت
 (دانش ادبی - درس ۹)

۲۰- نام پدیدآورندگان آثار زیر به ترتیب در کدام گزینه به درستی آمده است؟
 «اسرارالتوحید - کیمیای سعادت - مرزبان نامه - چهارمقاله»
 (۱) امام محمد غزالی - نظامی عروضی - خواجه نصیر طوسی - سعدالدین وراوینی
 (۲) ابوسعید ابی‌الخیر - نظامی گنجه‌ای - خواجه نصیر طوسی - محمدبن منور
 (۳) محمدبن منور - ابوسعید ابی‌الخیر - سعدالدین وراوینی - نظامی گنجه‌ای
 (۴) محمدبن منور - امام محمد غزالی - سعدالدین وراوینی - نظامی عروضی

۲۱- نقش دستوری واژه‌های مشخص شده در کدام گزینه به ترتیب و به درستی آمده است؟
 «درختی که تو امروز نشانی، میوه آن کجا توانی خورد»
 (۱) نهاد - قید - مضاف‌الیه - قید (۲) متمم - قید - صفت - مفعول
 (۳) نهاد - مسند - صفت - قید (۴) متمم - مسند - مضاف‌الیه - مفعول
 (دانش زبانی - درس ۳)



پایه‌های چهارم تا دوازدهم



(دانش زبان - درس‌های ۶ و ۱۲)

۲۲- زمان فعل‌های مشخص شده در عبارات زیر به ترتیب در کدام گزینه آمده است؟

«ایران به گلستانی می‌ماند که در دل و دامان خود عزیزانی را می‌پروراند. در طول تاریخ بارها دیده‌ایم که هرگاه دشمنان و بدخواهان دست ستم به سوی این مهر آشیان وطن دراز کرده‌اند که به آب و خاک آن تعدی بکنند همه فرزندان این مرز و بوم هم‌صدا فریاد برآورده‌اند و بر بیگانه تاخته‌اند.»

- ۱) مضارع اخباری - مضارع اخباری - ماضی نقلی - ماضی نقلی - مضارع التزامی
- ۲) مضارع اخباری - مضارع التزامی - ماضی بعید - ماضی بعید - ماضی ساده
- ۳) ماضی استمراری - مضارع اخباری - ماضی نقلی - ماضی التزامی - مضارع اخباری
- ۴) مضارع التزامی - مضارع اخباری - ماضی بعید - ماضی التزامی - ماضی ساده

(دانش زبان - درس‌های ۱۴ و ۱۶)

۲۳- در کدام گزینه هسته اسمی به درستی مشخص نشده است؟

- ۱) همان بلندترین شب سال
- ۲) این چهار درخت سرو
- ۳) این‌گونه ارتباطات علمی
- ۴) سنگین‌ترین مصائب نوجوانی

(دانش زبان - درس ۱۶)

۲۴- تمام واژه‌های موجود در کدام گزینه «ساده» محسوب می‌شوند؟

- ۱) عروسک - دبیرستان - جشنواره - گفت‌مان - خوب
- ۲) زیرک - فراموش - صدف - زنبور - دریا
- ۳) دلبر - دیوار - دور - دایره - دارو
- ۴) فراخوان - فریب - فرزانه - زرگر - هنر

(دانش ادبی - درس ۱۳)

۲۵- در کدام گزینه پرسش انکاری دیده نمی‌شود؟

- ۱) عشق عین آب ماهی یا هوای آدم است
- ۲) دیدار یار غایب دانی چه ذوق دارد؟
- ۳) کدام دوست بتابد رخ از محبت دوست؟
- ۴) که تواند که دهد میوه‌الوان از چوب؟

(دانش ادبی - درس ۱)

۲۶- در کدام گزینه تشبیه دیده می‌شود؟

- ۱) چون که گل رفت و گلستان شد خراب
- ۲) چون مرا دل خستگی از آرزوی روی توست
- ۳) چون تو جانان منی جان بی تو خرم کی شود؟
- ۴) چون قلم در پنجه تقدیر رب

(دانش ادبی - درس ۱)

۲۷- در کدام گزینه تشخیص و جناس هر دو دیده می‌شود؟

- ۱) بنفشه بسوی سحرگاه خردسالی را
- ۲) شب تنهایی‌ام در قصد جان بود
- ۳) مهتاب می‌نویسد بر ماسه‌های سرد
- ۴) آسمان حسود بود و بخت من

(دانش ادبی - درس ۷)

۲۸- آرایه‌های موجود در کدام گزینه به‌طور کامل در بیت زیر یافت می‌شود؟

- چون تو را نوح است کشتیبان ز توفان غم مخور»
- ۱) تضمین - تلمیح - جناس - واج‌آرایی - تشخیص
 - ۲) تشبیه - تلمیح - تضاد - تلمیح - کنایه - مراعات‌نظیر
 - ۳) تضاد - جناس - واج‌آرایی - تضمین - تشبیه
 - ۴) تشخیص - تکرار - تضاد - تلمیح - کنایه

(دانش ادبی - نیاپیش)

۲۹- «چراغ یقینم فرا راه دار» یعنی:

- ۱) دانشم را بیفزای
- ۲) صبوری‌ام ببخش
- ۳) بینشم را بیفزای
- ۴) مرا ببخشای

(دانش ادبی - درس ۷)

۳۰- در کدام گزینه علت و دلیل «غم نخوردن» از نظر شاعر به درستی نوشته نشده است؟

- ۱) در بیابان گر به شوق کعبه خواهی زد قدم
 - ۲) حافظا در کنج فقر و خلوت شب‌های تار
 - ۳) ای دل از سیل فنا بنیاد هستی بر کنند
 - ۴) گرچه منزل بس خطرناک است و مقصد بس بعید
- سرنش‌هاگر کند خار مغیلان غم مخور (اشتیاق به دیدار یار)
تا بود وردت دعا و درس قرآن غم مخور (تکیه بر قرآن و دعا)
چون تو را نوح است کشتیبان ز توفان غم مخور (اعتماد به ناخدایی نوح پیامبر)
هیچ راهی نیست کان را نیست پایان غم مخور (کوتاهی و زودگذری راه)



۰۲۱-۹۱۳۰۲۲۰۲ * ۰۲۱-۴۴۱۳۶۹۷۵

Tizline.ir

۰۹۳۳۳۸۴۰۲۰۲

تیزلاین منبع معتبر تیزهوشان

سامانه پیامکی: ۹۰۰۰۱۶۲۰

عربی



- ۳۱- معنای کلمات «چسر - ریاح» به ترتیب در کدام گزینه آمده است؟
 (۱) پل - بادها (۲) پل - باران (۳) کشتی - بادها (۴) پل‌ها - بادها
 (ترجمه - درس‌های ۳ و ۴)
- ۳۲- معنای کدام کلمه صحیح است؟
 (۱) حاسوب: ماشین حساب (۲) مُذَجِم: مزاحمت (۳) نَشِيْط: سرگرمی (۴) مُعَطَّل: خراب
 (ترجمه - درس‌های ۳، ۴ و ۱۰)
- ۳۳- در کدام گزینه دو کلمه با هم مترادف هستند؟
 (۱) جُلوس، قیام (۲) طَوِيل، قَصِيْر (۳) فَرَح، سُرور (۴) صِدْق، کِذْب
 (ترجمه - ترکیبی)
- ۳۴- در عبارت «حَسَنُ الْأَدَبِ يَسْتُرُ قَبِيْحَ النَّسَبِ». فعل «يَسْتُرُ» به چه معناست؟
 (۱) پنهان شد (۲) می‌پوشاند (۳) پنهان کرد (۴) پوشاند
 (ترجمه - درس ۲)
- ۳۵- توضیح داده‌شده مربوط به کدام کلمه می‌باشد؟ «الَّذِي لَا يَسْمَعُ جَيْدًا»
 (۱) مُحَاوَلَة (۲) نَاجِح (۳) ثَقِيْلُ السَّمْع (۴) قَاطِعُ الرُّجْم
 (ترجمه - درس ۵)
- ۳۶- کدام گزینه از نظر معنا با سایر گزینه‌ها ناهماهنگ است؟
 (۱) طَبَّاح (۲) خَلَوَانِي (۳) سُرْطِي (۴) مُحَافِظَة
 (ترجمه - پایه هفتم)
- ۳۷- ترجمه عبارت «لَقَدْ اسْتَخَرْنَا بِالْقُرْآنِ الْكَرِيمِ نِيَابَةَ عَنكُم». کدام گزینه است؟
 (۱) به نیابت از شما به قرآن استخاره کردیم. (۲) به نیابت از شما قرآن را استخراج کردیم.
 (۳) به نیابت از شما در قرآن اندیشه کردیم. (۴) به نیابت از شما قرآن را به‌کار بردیم.
 (ترجمه - درس ۱۰)
- ۳۸- فعل مناسب برای جای خالی انتخاب کنید. «يا طَالِبَتَانِ! الماءَ بارِدًا»
 (۱) لا تَشْرَبُوا (۲) تَشْرَبُونَ (۳) لا تَشْرَبَا (۴) اِشْرَبُوا
 (قواعد - درس ۶)
- ۳۹- وزن و حروف اصلی کدام کلمه صحیح است؟
 (۱) مُواصِلَة: مُفَاعَلَة، ا ص ل (۲) اِشْتِغَالَ: اِفْتِعَالَ، ش غ ل
 (۳) اِسْتَلَمَ: اِفْتَعَلَ، س ل م (۴) تَعَامَل: تَفَاعَلَ، ع ل م
 (قواعد - درس‌های ۳، ۷، ۸ و ۹)
- ۴۰- جمع کدام کلمه صحیح است؟
 (۱) اِمثال: امثال (۲) عُدُو: عُدوان (۳) عَاجِل: عَلماء (۴) خَطَا: اخطاء
 (قواعد - درس ۲)
- ۴۱- نوع ترکیب‌های مشخص‌شده در کدام گزینه آمده است؟
 «الضَّيَادُونَ حَفَرُوا حُفْرَةً عَمِيْقَةً؛ ثُمَّ سَتَرُوها لِضَيْدِ الْحَيَوَانَاتِ وَ بَيَعُها لِحَدِيْقَةِ الْحَيَوَانَاتِ»
 (۱) اضافی - وصفی - وصفی (۲) وصفی - اضافی - اضافی (۳) وصفی - وصفی - اضافی (۴) اضافی - اضافی - وصفی
 (ترجمه - ترکیبی)
- ۴۲- ترجمه کدام کلمه صحیح است؟
 (۱) اَلشَّارِع: اِجْتِمَاعُ النَّاسِ لِفَرَجٍ. (۲) اَلكَهْرَباء: اَخْشَابٌ مُنَاسِبَةٌ لِإِحْتِراقِ. (۳) اَلبِكاء: جَرِيانُ الدَّموعِ مِنَ الحَزَنِ. (۴) الرِّصيف: مَكَانٌ لِحَفِظِ الأَثارِ التَّارِيخِيَّةِ.
 (ترجمه - درس‌های ۳ و ۴)
- ۴۳- امر فعل‌های «تَرَجَعانَ - تَجَلِسِينَ - تَسْجُدنَ» به ترتیب در کدام گزینه آمده است؟
 (۱) اِرْجعا - اِجْلِسي - اَسْجُدنَ (۲) اِرْجعا - اِجْلِسي - اَسْجُد (۳) اِرْجعا - اِجْلِسنَ - اَسْجُدنَ (۴) اِرْجعا - اِجْلِس - اَسْجُد
 (ترجمه - درس‌های ۱، ۴ و ۷)
- ۴۴- ترجمه کدام عبارت صحیح است؟
 (۱) لِأَنِّي أَشْتَفِي: قطعاً من کار می‌کردم. (۲) أَنْتَ عَظِيْرَتِ حَيَاتِي: تو زندگی‌ات را تغییر دادی.
 (۳) يَتَخَرَّجُ مِنْهُ العُلَماءُ: دانشمندان از آن خارج شدند. (۴) شَجَعْنَا فَرِيقَنَا الفائِزَ في نِهايَةِ المُسابَقَةِ: تیم پیروزمان را در آخر مسابقه تشویق کردیم.
 (ترجمه - درس‌های ۱، ۴ و ۷)



۰۲۱-۹۱۳۰۲۲۰۲ * ۰۲۱-۴۴۱۳۶۹۷۵



Tizline.ir



۰۹۳۳۳۸۴۰۲۰۲

تیزلاین منبع معتبر تیزهوشان

سامانه پیامکی: ۹۰۰۰۱۶۲۰

(قواعد - درس ۹)



۴۵- با توجه به تصویر، گزینه صحیح را انتخاب کنید. (کَمِ السَّاعَةِ؟)

- ۱) التَّاسِعَةَ
- ۲) تِسْعَةَ
- ۳) السَّادِسَةَ
- ۴) سِتَّةَ

مطالعات اجتماعی



(درس ۷ - صفحه ۱۴۴)

۴۶- کدام یک از موارد زیر جزء عوامل انسانی دفع جمعیت در یک ناحیه به شمار می‌رود؟

- ۱) مکان‌های گردشگری
- ۲) نواحی گرم و خشک یا مرتفع و سرد
- ۳) دشت‌ها و جلگه‌های آبرفتی
- ۴) مکان‌های فاقد امکانات و تسهیلات

(درس ۱ - صفحه ۳)

۴۷- دومین سیاره از مجموع سیارات درونی منظومه شمسی کدام مورد زیر است؟

- ۱) تیر
- ۲) زمین
- ۳) ناهید
- ۴) بهرام (مریخ)

(درس ۵ - صفحه‌های ۳۲ تا ۳۵)

۴۸- کدام یک از عبارات زیر در مورد زیست‌بوم‌ها صحیح نیست؟

- ۱) توندرا، ناحیه‌ای در نزدیکی قطب شمال و حاشیه اقیانوس منجمد شمالی است.
- ۲) بیشتر وسعت تایگا در قاره‌های آسیا، اروپا و آمریکای شمالی گسترش یافته است.
- ۳) بیابان گبی که اطراف آن را کوه فرا گرفته است جزء بیابان‌های گرم جهان است.
- ۴) میزان رطوبت جنگل‌های بارانی استوایی حدود ۸۰ درصد و میزان بارش سالیانه آن ۲۵۰۰ میلی‌متر است.

(درس ۴ - صفحه ۶۵)

۴۹- کدام یک از مناطق زیر اشعه خورشید را به صورت عمودی دریافت می‌کنند؟

- ۱) مناطق اطراف استوا تا مدارهای رأس‌السرطان و رأس‌الجدی
- ۲) منطقه معتدل شمالی و جنوبی
- ۳) منطقه سرد در مجاورت قطب شمال
- ۴) مناطق مجاور قطب جنوب

۵۰- شهر A در نصف‌النهار ۱۶۵ درجه غربی و شهر B روی نصف‌النهار ۴۵ درجه غربی واقع شده است. اگر در شهر A ساعت ۱۰ صبح باشد، در شهر B ساعت چند است؟

(درس ۲ - صفحه‌های ۹، ۱۰ و ۱۱)

- ۱) ساعت ۱۷ عصر
- ۲) ساعت ۱۸ عصر
- ۳) ساعت ۲ صبح
- ۴) ساعت ۸ صبح

(درس ۱۱ - صفحه‌های ۷۰، ۷۱ و ۷۲)

۵۱- هر یک از موارد زیر به ترتیب مربوط به کدام سلسله می‌باشد؟

- «آرامش و آسایش گذرا - گسترش نفوذ و دخالت کشورهای استعمارگر - حکومت ناپیدار»
- ۱) قاجاریه - زندیه - افشاریه
 - ۲) زندیه - قاجاریه - افشاریه
 - ۳) صفویه - زندیه - قاجاریه
 - ۴) افشاریه - قاجاریه - صفویه

۵۲- دوره حکومت کدام یک از پادشاهان زیر همزمان با آغاز نفوذ و دخالت گسترده کشورهای روسیه، انگلستان و فرانسه در ایران بود؟

(درس ۱۱ - صفحه ۷۳)

- ۱) آقا محمدخان قاجار
- ۲) ناصرالدین شاه قاجار
- ۳) فتحعلی شاه قاجار
- ۴) محمدعلی شاه قاجار

(درس ۱۴ - صفحه ۹۰)

۵۳- کدام یک از گزینه‌های زیر پس از ناکامی انگلستان در اجرای قرارداد ۱۹۱۹ رخ داد؟

- ۱) کودتای ۲۸ مرداد ۱۳۳۲
- ۲) انقلاب سفید
- ۳) اشغال ایران در شهریور ۱۳۲۰
- ۴) کودتای ۱۲۹۹

(درس ۱۶ - صفحه ۱۰۸)

۵۴- ماجرای گروگان‌های آمریکایی در واقعه تسخیر سفارت آمریکا، با میانجی‌گری کدام دولت به پایان رسید؟

- ۱) الجزایر
- ۲) فرانسه
- ۳) مراکش
- ۴) ترکیه

(درس ۱۵ - صفحه ۱۰۱)

۵۵- کدام یک از موارد زیر از دلایل فرهنگی نارضایتی مردم ایران از شاه و سیاست‌های او به شمار می‌رود؟

- ۱) وابستگی حکومت پهلوی به بیگانگان
- ۲) استفاده از رادیو و تلویزیون در جهت تخریب ارزش‌های اسلامی
- ۳) حیف و میل و غارت ثروت و سرمایه‌های ملی کشور
- ۴) نادیده گرفتن حقوق ملت و اصول قانون اساسی مشروطه

(درس ۱۷ - صفحه ۱۱۵)

۵۶- به آگاهی و اندیشه مشترک اعضای یک جامعه گفته می‌شود.

- ۱) هنجار
- ۲) نماد
- ۳) هویت
- ۴) فرهنگ



۰۲۱-۹۱۳۰۲۲۰۲ * ۰۲۱-۴۴۱۳۶۹۷۵



Tizline.ir



۰۹۳۳۳۸۴۰۲۰۲

تیزلاین منبع معتبر تیزهوشان

سامانه پیامکی: ۹۰۰۰۱۶۲۰

- ۵۷- «جنسیت - داشتن پشتکار و اراده - صبور بودن - رنگ چشم» به ترتیب کدام یک از ابعاد هویت فردی را شامل می‌شود؟
 (درس ۱۸ - صفحه ۱۲۱)
- ۱) جسمانی - اخلاقی و روانی - اخلاقی و روانی - جسمانی
 ۲) جسمانی - اخلاقی و روانی - جسمانی - اخلاقی و روانی
 ۳) اخلاقی و روانی - روانی - جسمانی - اخلاقی و روانی
 ۴) اخلاقی و روانی - اخلاقی و روانی - جسمانی - جسمانی
- ۵۸- «تجاوز نکردن به منافع عمومی و حقوق دیگران» در کدام اصل قانون اساسی آمده است؟
 (درس ۲۲ - صفحه ۱۴۸)
- ۱) اصل ۱۱۰ ۲) اصل چهارم ۳) اصل هشتم ۴) اصل سی‌ام
- ۵۹- دیدگاه اسلام در زمینه اقتصاد و تولید چیست؟
 (درس ۲۴ - صفحه ۱۶۲)
- ۱) اقتصاد و تولید هدف‌اند نه وسیله
 ۲) اقتصاد و تولید هم هدف‌اند و هم وسیله
 ۳) اقتصاد و تولید وسیله‌اند نه هدف
 ۴) اقتصاد و تولید نه وسیله‌اند و نه هدف
- ۶۰- کدام یک از گزینه‌های زیر جزء مزیت‌های خانواده‌های چندفرزندی نیست؟
 (درس ۲۰ - صفحه ۱۳۳)
- ۱) برخورداری از ارتباطات وسیع خانوادگی
 ۲) داشتن هم‌بازی و رقابت‌های کودکانه
 ۳) الگوبرداری از رفتارهای خواهر و برادر
 ۴) کاهش تجربه و رشد اجتماعی کودکان

زبان انگلیسی

- 61- Do people 22 Bahman in Iran?
 (واژگان - درس ۳)
- 1) hold 2) sing 3) celebrate 4) set
- 62- He is a generous man. He always each year.
 (واژگان - درس ۴)
- 1) donates blood 2) asks information desk
 3) calls the emergency 4) sends a letter
- 63- A: Is it possible to it online?
 B: Yes, of course.
 (واژگان - درس ۲)
- 1) pack 2) book 3) land 4) stay
- 64- A:
 B: She is patient and kind.
 (واژگان و گرامر - ترکیبی)
- 1) What personality is your mom have?
 2) What does your mother look like?
 3) What does your mother like?
 4) What is your mom like?
- 65- That student Physics class yesterday morning.
 (واژگان و گرامر - درس ۵)
- 1) participated on 2) participate in 3) participated in 4) participate on
- 66- My sisters are very hard working. I like
 (گرامر - درس ۶)
- 1) her 2) them 3) him 4) us
- 67- A: What are those?
 B:
 (گرامر - درس ۲)
- 1) They're teachers' rooms.
 2) They are the room of the teacher.
 3) They're room's teachers.
 4) They are teacher's room.
- 68- A: Does his father go to work late?
 B:
 (گرامر - درس ۴)
- 1) No, he doesn't never goes late.
 2) No, he doesn't usually go late.
 3) Yes, he goes often early.
 4) No, he sometimes go early.

• Reading: Read the text and answer question 69 and 70. متن را بخوانید و به سؤالات ۶۹ و ۷۰ پاسخ دهید.
 My friend is not careless, but he had a car accident last week. He broke his leg and knee. He went to the ER. He had his leg in a cast. He also had some bruises with no bleeding. He is OK now. (درک مطلب - ترکیبی)

69- Which one is TRUE?

- 1) My friend had a car crash last night.
- 2) My friend is careless.
- 3) My friend was in the ER.
- 4) He had his knee in a cast.

70- Which one is NOT his problem?

- 1) Bruises
- 2) Broken leg
- 3) Broken knee
- 4) Bleeding



(فصل ۳ - صفحه ۳۱)

۷۱- کدام یک از هیدروکربن‌های زیر به سختی جاری می‌شود؟

- $C_{10}H_{22}$ (۴)
- $C_{12}H_{26}$ (۳)
- $C_{16}H_{34}$ (۲)
- $C_{19}H_{40}$ (۱)

(فصل ۲ - صفحه‌های ۱۳، ۱۴ و ۱۹)

۷۲- در عبارت‌های زیر، چند جمله درست است؟

- (الف) واکنش‌پذیری فلز (Mg) درون محلول مس سولفات از فلز (Fe) بیشتر است.
- (ب) همه درشت‌مولکول‌ها، بسیار (پلیمر) هستند.
- (ج) از ترکیب شیمیایی H_2SO_4 در تولید پلاستیک استفاده می‌شود.
- (د) عنصر فرضی A و با گاز کلر (Cl_2) خواص شیمیایی شبیه به هم دارند.

- (۱) یک جمله
- (۲) دو جمله
- (۳) سه جمله
- (۴) چهار جمله

(فصل ۲ - صفحه‌های ۱۸، ۲۳ و ۲۴)

۷۳- کدام یک از عناصر فرضی زیر، هم می‌تواند پیوند یونی و هم پیوند اشتراکی تشکیل دهد؟

- A (۱)
- B (۲)
- C (۳)
- D (۴)

(فصل ۳ - صفحه‌های ۲۳ و ۲۴)

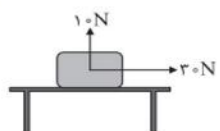
۷۴- نسبت تعداد پیوندهای بین دو اتم کربن در C_2H_4 به C_2H_2 چقدر می‌باشد؟

- (۱) ۱
- (۲) $\frac{3}{2}$
- (۳) ۲
- (۴) $\frac{2}{3}$

۷۵- خودرویی از حالت سکون شروع به حرکت کرده و پس از مدت 5s، سرعت آن به 36 km/h می‌رسد، اگر این خودرو با همین شتاب،

بقیه مسیر مستقیم را در مدت 10s طی کند، سرعت آن در انتهای مسیر چند متر بر ثانیه خواهد شد؟

- (۱) ۲۰
- (۲) ۲۵
- (۳) ۳۰
- (۴) ۴۵



۷۶- در شکل روبه‌رو جسمی به جرم ۸ کیلوگرم روی سطح میزی قرار دارد. با توجه به نیروهای واردشده به جسم، مقدار نیروی اصطکاک و نیروی عمودی سطح (تکیه‌گاه) به ترتیب از راست به چپ چند نیوتون است؟ (جسم ساکن است. $g=10 \text{ N/kg}$)

- (۱) $80 \text{ N} - 30 \text{ N}$
- (۲) $70 \text{ N} - 25 \text{ N}$
- (۳) $10 \text{ N} - 15 \text{ N}$
- (۴) $70 \text{ N} - 30 \text{ N}$

۷۷- درون یک قوطی حلبی نازک، مقدار کمی آب می‌ریزیم و درب آن را محکم می‌بندیم. سپس آن را روی منبع گرما قرار می‌دهیم. در این حالت، قوطی می‌شود زیرا می‌باشد.

(فصل ۸ - صفحه ۹۰)

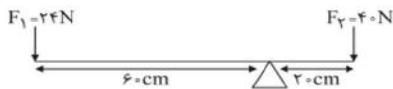
- (۱) مجاله - فشار داخل آن بیشتر از فشار بیرون
- (۲) متورم - فشار داخل آن بیشتر از فشار بیرون
- (۳) متورم - فشار داخل آن کمتر از فشار بیرون
- (۴) مجاله - فشار داخل آن کمتر از فشار بیرون

۷۸- قطر قرقره متحرکی ۵ برابر قطر قرقره ثابت می‌باشد. در این حالت مزیت مکانیکی قرقره متحرک چند برابر مزیت مکانیکی قرقره ثابت است؟ (در حالت ایده‌آل یا بدون اصطکاک)

(فصل ۹ - صفحه ۱۰۲)

- (۱) ۲
- (۲) $\frac{1}{2}$
- (۳) $\frac{1}{5}$
- (۴) ۵

۷۹- با توجه به شکل زیر، در کدام گزینه ماشین در حالت تعادل خواهد بود؟ (در حالت ایده‌آل یا بدون اصطکاک) (فصل ۶ - صفحه‌های ۱۰۰ و ۱۰۱)



- (۱) تکیه‌گاه ۱۰ cm به سمت راست جابه‌جا شود.
- (۲) تکیه‌گاه ۱۵ cm به سمت چپ جابه‌جا شود.
- (۳) تکیه‌گاه ۱۵ cm به سمت راست جابه‌جا شود.
- (۴) تکیه‌گاه ۱۰ cm به سمت چپ جابه‌جا شود.

۸۰- کدام یک از صفحات زیر در بیش از ۸۰ میلیون سال قبل، در قاره قدیمی گندوانا قرار داشته است؟ (فصل ۶ - صفحه‌های ۶۴ و ۶۵)

- (۱) اوراسیا (۲) هند (۳) عربستان (۴) آمریکای شمالی

۸۱- کدام یک از گزینه‌های زیر درست می‌باشد؟ (فصل ۱۰ - صفحه‌های ۱۱۰ و ۱۱۵)

- (۱) دمای سیاره تیر (عطارد)، از سایر سیارات منظومه شمسی بیشتر است.
- (۲) نسبت واحد اندازه‌گیری «سال نوری» به «واحد نجومی» بیشتر از یک است.
- (۳) زاویه میل قبله در شهر گرگان کمتر از شهر تهران می‌باشد.
- (۴) منشأ انرژی خورشید، تبدیل مداوم هلیوم به هیدروژن است.

۸۲- کدام یک از موارد زیر، یکی از کاربردهای شناخته‌شده‌ترین گروه آغازیان می‌باشد؟ (فصل ۱۱ - صفحه‌های ۱۲۷ و ۱۲۸)

- (۱) تولید سوخت‌های پاک (۲) تولید گیاهان مقاوم به آفت (۳) تولید نخ بخیه (۴) تخریب لاشه جانوران مرده

۸۳- در عبارت‌های زیر، چند جمله درست است؟ (ترکیبی - فصل‌های ۱۱، ۱۲، ۱۳ و ۱۵)

- (الف) ویروس کرونا، در گروه جانداران پیش‌هسته‌ای (پروکاریوت) قرار می‌گیرد.
 (ب) تنوع جانوران در گروه «رده» بیشتر از گروه «راسته» می‌باشد.
 (ج) همه گیاهان آونددار، از طریق دانه تولیدمثل می‌کنند.
 (د) از همبازی قارچ و جلبک، گلسنگ تشکیل می‌شود.
 (ه) در کرم پلاناریا، همانند اسفنج‌ها، خروج مواد از سطح بدن انجام می‌شود.
- (۱) چهار جمله (۲) سه جمله (۳) دو جمله (۴) یک جمله

۸۴- چه تعداد از جانوران روبه‌رو، دستگاه گردش آب دارند؟ (ستاره دریایی - اسفنج - زالو - سکه شنی - میگو) (فصل ۱۳ - صفحه‌های ۱۴۳، ۱۴۶ و ۱۵۰)

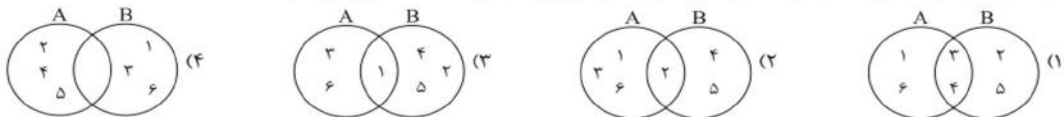
- (۱) ۵ (۲) ۴ (۳) ۳ (۴) ۲

۸۵- در کدام گزینه به ترتیب جانوران از ساده به پیشرفته مرتب شده‌اند؟ (از راست به چپ) (فصل ۱۳ - صفحه‌های ۱۴۶ تا ۱۴۷)


- (۱) اسفنج - هزارپا - عروس دریایی (۲) مرجان - کرم خاکی - حلزون
 (۳) اسفنج - توتیا - ملخ (۴) مرجان - خرچنگ - کرمک

ریاضی

۸۶- دو مجموعه $A \cup B = \{1, 2, 3, 4, 5, 6\}$ و $A - B = \{1, 3, 6\}$ را در نظر بگیرید. از دانش‌آموزان یک کلاس خواسته شده است که با توجه به این دو مجموعه، مجموعه‌های A و B را با نمودار ون نمایش دهند، کدام پاسخ درست است؟ (مجموعه‌ها - درس ۱۳)



۸۷- می‌خواهیم ثابت کنیم که در هر متوازی‌الاضلاع، مانند شکل زیر، ضلع‌های مقابل، همواره با هم برابرند. در اثبات هم‌نهستی دو مثلث ABC و ACD از کدام حالت هم‌نهستی مثلث‌ها استفاده می‌کنیم؟ (استدلال و اثبات در هندسه - درس ۱۳)



(مجموعه‌ها - درس ۲)

۵ (۴)

۸۸- در مجموعه $A = \{k^2 + 1 | k \in \mathbb{Z}, -2 \leq k \leq 4\}$ مقدار $n(A)$ برابر کدام گزینه است؟

۴ (۳)

۸ (۲)

۷ (۱)

(عبارت‌های مجزی - درس ۱)

۸۹- عبارت $a^2 + b^2$ همواره با کدام یک از عبارت‌های زیر برابر است؟

$(a+b)^2 + 2ab$ (۲)

$(a+b)^2$ (۱)

$(a-b)^2 + 2ab$ (۴)

$(a+b)(a-b)$ (۳)

(عددهای حقیقی - درس ۲)

۱۱ (۴)

۹۰- بین دو عدد $-2 + \sqrt{22}$ و $-2 - \sqrt{22}$ چند عدد صحیح وجود دارد؟

۱۰ (۳)

۹ (۲)

۸ (۱)

(عبارت‌های گویا - درس ۱)

$x^2 - 3x$ (۴)

$x^2 + 3x$ (۳)

$x^2 - 2x$ (۲)

$x^2 + 2x$ (۱)

(توان و ریشه - درس ۲)

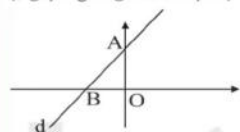
$2/3$ (۴)

۶ (۳)

۰ (۲)

$-1/7$ (۱)

(خط و معادله‌های خطی - درس ۲)



(عبارت‌های مجزی - درس ۳)

$\frac{a}{bc} > 0$ (۴)

$a^2 b < 0$ (۳)

$\frac{ac}{b^2} < 0$ (۲)

$\frac{a^2}{bc} > 0$ (۱)

(عبارت‌های مجزی - درس ۱)

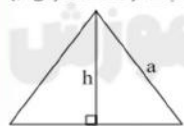
۱ (۴)

۷ (۳)

۸ (۲)

۱۱ (۱)

(استدلال و اثبات در هندسه - درس ۴)



(توان و ریشه - درس ۳)

$x > 0$ (۴)

$x < 0$ (۳)

$x \geq 0$ (۲)

$x \leq 0$ (۱)

۹۸- اگر سه خط به معادلات $x + y = 3$ و $x - y = 1$ و $ax + 3y = 11$ در یک نقطه یکدیگر را قطع کنند، مقدار a برابر است با:

(خط و معادله‌های خطی - درس ۳)

۵ (۲)

۱ (۱)

۴ (۴)

۳ (۳)

$(ax^3 - bx^2 + cx + d) \div (ax - b)$

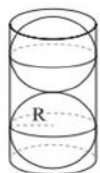
(عبارت‌های گویا - درس ۳)

$x + m$ (۴)

mx^2 (۳)

m (۲)

mx (۱)



۱۰۰- دو کره یکسان در استوانه‌ای محاط شده‌اند. رابطه حجم فضای بین استوانه و کره‌ها کدام یک از گزینه‌های زیر است؟

(مجموع و مساحت - درس ۱)

$\frac{2}{3}\pi R^3$ (۲)

$\frac{4}{3}\pi R^3$ (۱)

$\frac{2}{3}\pi R^2$ (۴)

$\frac{1}{3}\pi R^3$ (۳)



۰۲۱-۹۱۳۰۲۲۰۲ * ۰۲۱-۴۴۱۳۶۹۷۵



Tizline.ir



۰۹۳۳۳۸۴۰۲۰۲

تیزلاین منبع معتبر تیزهوشان

سامانه پیامکی: ۹۰۰۰۱۶۲۰

پاسخنامه کلیدی آزمون نمونه دولتی استان گلستان ۱۴۰۱-۱۴۰۲

۱	<input type="checkbox"/>	<input checked="" type="checkbox"/>	<input type="checkbox"/>	<input type="checkbox"/>	۱۱	<input type="checkbox"/>	<input type="checkbox"/>	<input checked="" type="checkbox"/>	<input type="checkbox"/>	۲۱	<input checked="" type="checkbox"/>	<input type="checkbox"/>	<input type="checkbox"/>	<input type="checkbox"/>	۳۱	<input checked="" type="checkbox"/>	<input type="checkbox"/>	<input type="checkbox"/>	<input type="checkbox"/>
۲	<input type="checkbox"/>	<input type="checkbox"/>	<input type="checkbox"/>	<input checked="" type="checkbox"/>	۱۲	<input type="checkbox"/>	<input type="checkbox"/>	<input type="checkbox"/>	<input checked="" type="checkbox"/>	۲۲	<input checked="" type="checkbox"/>	<input type="checkbox"/>	<input type="checkbox"/>	<input type="checkbox"/>	۳۲	<input type="checkbox"/>	<input type="checkbox"/>	<input type="checkbox"/>	<input checked="" type="checkbox"/>
۳	<input type="checkbox"/>	<input type="checkbox"/>	<input checked="" type="checkbox"/>	<input type="checkbox"/>	۱۳	<input checked="" type="checkbox"/>	<input type="checkbox"/>	<input type="checkbox"/>	<input type="checkbox"/>	۲۳	<input checked="" type="checkbox"/>	<input type="checkbox"/>	<input type="checkbox"/>	<input type="checkbox"/>	۳۳	<input type="checkbox"/>	<input type="checkbox"/>	<input checked="" type="checkbox"/>	<input type="checkbox"/>
۴	<input type="checkbox"/>	<input checked="" type="checkbox"/>	<input type="checkbox"/>	<input type="checkbox"/>	۱۴	<input type="checkbox"/>	<input type="checkbox"/>	<input type="checkbox"/>	<input checked="" type="checkbox"/>	۲۴	<input type="checkbox"/>	<input checked="" type="checkbox"/>	<input type="checkbox"/>	<input type="checkbox"/>	۳۴	<input type="checkbox"/>	<input checked="" type="checkbox"/>	<input type="checkbox"/>	<input type="checkbox"/>
۵	<input checked="" type="checkbox"/>	<input type="checkbox"/>	<input type="checkbox"/>	<input type="checkbox"/>	۱۵	<input checked="" type="checkbox"/>	<input type="checkbox"/>	<input type="checkbox"/>	<input type="checkbox"/>	۲۵	<input type="checkbox"/>	<input checked="" type="checkbox"/>	<input type="checkbox"/>	<input type="checkbox"/>	۳۵	<input type="checkbox"/>	<input type="checkbox"/>	<input checked="" type="checkbox"/>	<input type="checkbox"/>
۶	<input type="checkbox"/>	<input type="checkbox"/>	<input checked="" type="checkbox"/>	<input type="checkbox"/>	۱۶	<input type="checkbox"/>	<input checked="" type="checkbox"/>	<input type="checkbox"/>	<input type="checkbox"/>	۲۶	<input type="checkbox"/>	<input type="checkbox"/>	<input type="checkbox"/>	<input checked="" type="checkbox"/>	۳۶	<input type="checkbox"/>	<input type="checkbox"/>	<input type="checkbox"/>	<input checked="" type="checkbox"/>
۷	<input checked="" type="checkbox"/>	<input type="checkbox"/>	<input type="checkbox"/>	<input type="checkbox"/>	۱۷	<input type="checkbox"/>	<input type="checkbox"/>	<input checked="" type="checkbox"/>	<input type="checkbox"/>	۲۷	<input type="checkbox"/>	<input type="checkbox"/>	<input type="checkbox"/>	<input checked="" type="checkbox"/>	۳۷	<input checked="" type="checkbox"/>	<input type="checkbox"/>	<input type="checkbox"/>	<input type="checkbox"/>
۸	<input type="checkbox"/>	<input checked="" type="checkbox"/>	<input type="checkbox"/>	<input type="checkbox"/>	۱۸	<input type="checkbox"/>	<input type="checkbox"/>	<input type="checkbox"/>	<input checked="" type="checkbox"/>	۲۸	<input type="checkbox"/>	<input checked="" type="checkbox"/>	<input type="checkbox"/>	<input type="checkbox"/>	۳۸	<input type="checkbox"/>	<input type="checkbox"/>	<input checked="" type="checkbox"/>	<input type="checkbox"/>
۹	<input type="checkbox"/>	<input type="checkbox"/>	<input type="checkbox"/>	<input checked="" type="checkbox"/>	۱۹	<input type="checkbox"/>	<input type="checkbox"/>	<input type="checkbox"/>	<input checked="" type="checkbox"/>	۲۹	<input type="checkbox"/>	<input type="checkbox"/>	<input checked="" type="checkbox"/>	<input type="checkbox"/>	۳۹	<input type="checkbox"/>	<input checked="" type="checkbox"/>	<input type="checkbox"/>	<input type="checkbox"/>
۱۰	<input type="checkbox"/>	<input checked="" type="checkbox"/>	<input type="checkbox"/>	<input type="checkbox"/>	۲۰	<input type="checkbox"/>	<input type="checkbox"/>	<input type="checkbox"/>	<input checked="" type="checkbox"/>	۳۰	<input type="checkbox"/>	<input type="checkbox"/>	<input type="checkbox"/>	<input checked="" type="checkbox"/>	۴۰	<input type="checkbox"/>	<input type="checkbox"/>	<input type="checkbox"/>	<input checked="" type="checkbox"/>

۴۱	<input type="checkbox"/>	<input checked="" type="checkbox"/>	<input type="checkbox"/>	<input type="checkbox"/>	۵۱	<input type="checkbox"/>	<input checked="" type="checkbox"/>	<input type="checkbox"/>	<input type="checkbox"/>	۶۱	<input type="checkbox"/>	<input type="checkbox"/>	<input checked="" type="checkbox"/>	<input type="checkbox"/>	۷۱	<input checked="" type="checkbox"/>	<input type="checkbox"/>	<input type="checkbox"/>	<input type="checkbox"/>
۴۲	<input type="checkbox"/>	<input type="checkbox"/>	<input checked="" type="checkbox"/>	<input type="checkbox"/>	۵۲	<input type="checkbox"/>	<input type="checkbox"/>	<input checked="" type="checkbox"/>	<input type="checkbox"/>	۶۲	<input checked="" type="checkbox"/>	<input type="checkbox"/>	<input type="checkbox"/>	<input type="checkbox"/>	۷۲	<input type="checkbox"/>	<input type="checkbox"/>	<input checked="" type="checkbox"/>	<input type="checkbox"/>
۴۳	<input checked="" type="checkbox"/>	<input type="checkbox"/>	<input type="checkbox"/>	<input type="checkbox"/>	۵۳	<input type="checkbox"/>	<input type="checkbox"/>	<input type="checkbox"/>	<input checked="" type="checkbox"/>	۶۳	<input type="checkbox"/>	<input checked="" type="checkbox"/>	<input type="checkbox"/>	<input type="checkbox"/>	۷۳	<input type="checkbox"/>	<input checked="" type="checkbox"/>	<input type="checkbox"/>	<input type="checkbox"/>
۴۴	<input type="checkbox"/>	<input type="checkbox"/>	<input type="checkbox"/>	<input checked="" type="checkbox"/>	۵۴	<input checked="" type="checkbox"/>	<input type="checkbox"/>	<input type="checkbox"/>	<input type="checkbox"/>	۶۴	<input type="checkbox"/>	<input type="checkbox"/>	<input type="checkbox"/>	<input checked="" type="checkbox"/>	۷۴	<input type="checkbox"/>	<input type="checkbox"/>	<input type="checkbox"/>	<input checked="" type="checkbox"/>
۴۵	<input checked="" type="checkbox"/>	<input type="checkbox"/>	<input type="checkbox"/>	<input type="checkbox"/>	۵۵	<input type="checkbox"/>	<input checked="" type="checkbox"/>	<input type="checkbox"/>	<input type="checkbox"/>	۶۵	<input type="checkbox"/>	<input type="checkbox"/>	<input checked="" type="checkbox"/>	<input type="checkbox"/>	۷۵	<input type="checkbox"/>	<input type="checkbox"/>	<input checked="" type="checkbox"/>	<input type="checkbox"/>
۴۶	<input type="checkbox"/>	<input type="checkbox"/>	<input type="checkbox"/>	<input checked="" type="checkbox"/>	۵۶	<input type="checkbox"/>	<input type="checkbox"/>	<input type="checkbox"/>	<input checked="" type="checkbox"/>	۶۶	<input type="checkbox"/>	<input checked="" type="checkbox"/>	<input type="checkbox"/>	<input type="checkbox"/>	۷۶	<input type="checkbox"/>	<input type="checkbox"/>	<input type="checkbox"/>	<input checked="" type="checkbox"/>
۴۷	<input type="checkbox"/>	<input type="checkbox"/>	<input checked="" type="checkbox"/>	<input type="checkbox"/>	۵۷	<input checked="" type="checkbox"/>	<input type="checkbox"/>	<input type="checkbox"/>	<input type="checkbox"/>	۶۷	<input checked="" type="checkbox"/>	<input type="checkbox"/>	<input type="checkbox"/>	<input type="checkbox"/>	۷۷	<input type="checkbox"/>	<input type="checkbox"/>	<input checked="" type="checkbox"/>	<input type="checkbox"/>
۴۸	<input type="checkbox"/>	<input type="checkbox"/>	<input checked="" type="checkbox"/>	<input type="checkbox"/>	۵۸	<input type="checkbox"/>	<input checked="" type="checkbox"/>	<input type="checkbox"/>	<input type="checkbox"/>	۶۸	<input type="checkbox"/>	<input checked="" type="checkbox"/>	<input type="checkbox"/>	<input type="checkbox"/>	۷۸	<input checked="" type="checkbox"/>	<input type="checkbox"/>	<input type="checkbox"/>	<input type="checkbox"/>
۴۹	<input checked="" type="checkbox"/>	<input type="checkbox"/>	<input type="checkbox"/>	<input type="checkbox"/>	۵۹	<input type="checkbox"/>	<input type="checkbox"/>	<input checked="" type="checkbox"/>	<input type="checkbox"/>	۶۹	<input type="checkbox"/>	<input type="checkbox"/>	<input checked="" type="checkbox"/>	<input type="checkbox"/>	۷۹	<input type="checkbox"/>	<input type="checkbox"/>	<input type="checkbox"/>	<input checked="" type="checkbox"/>
۵۰	<input type="checkbox"/>	<input checked="" type="checkbox"/>	<input type="checkbox"/>	<input type="checkbox"/>	۶۰	<input type="checkbox"/>	<input type="checkbox"/>	<input type="checkbox"/>	<input checked="" type="checkbox"/>	۷۰	<input type="checkbox"/>	<input type="checkbox"/>	<input type="checkbox"/>	<input checked="" type="checkbox"/>	۸۰	<input type="checkbox"/>	<input checked="" type="checkbox"/>	<input type="checkbox"/>	<input type="checkbox"/>

۸۱	<input type="checkbox"/>	<input checked="" type="checkbox"/>	<input type="checkbox"/>	<input type="checkbox"/>	۹۱	<input type="checkbox"/>	<input checked="" type="checkbox"/>	<input type="checkbox"/>	<input type="checkbox"/>
۸۲	<input checked="" type="checkbox"/>	<input type="checkbox"/>	<input type="checkbox"/>	<input type="checkbox"/>	۹۲	<input type="checkbox"/>	<input type="checkbox"/>	<input checked="" type="checkbox"/>	<input type="checkbox"/>
۸۳	<input type="checkbox"/>	<input type="checkbox"/>	<input checked="" type="checkbox"/>	<input type="checkbox"/>	۹۳	<input checked="" type="checkbox"/>	<input type="checkbox"/>	<input type="checkbox"/>	<input type="checkbox"/>
۸۴	<input type="checkbox"/>	<input type="checkbox"/>	<input type="checkbox"/>	<input checked="" type="checkbox"/>	۹۴	<input type="checkbox"/>	<input checked="" type="checkbox"/>	<input type="checkbox"/>	<input type="checkbox"/>
۸۵	<input type="checkbox"/>	<input checked="" type="checkbox"/>	<input type="checkbox"/>	<input type="checkbox"/>	۹۵	<input type="checkbox"/>	<input type="checkbox"/>	<input checked="" type="checkbox"/>	<input type="checkbox"/>
۸۶	<input type="checkbox"/>	<input checked="" type="checkbox"/>	<input type="checkbox"/>	<input type="checkbox"/>	۹۶	<input type="checkbox"/>	<input type="checkbox"/>	<input type="checkbox"/>	<input checked="" type="checkbox"/>
۸۷	<input type="checkbox"/>	<input type="checkbox"/>	<input checked="" type="checkbox"/>	<input type="checkbox"/>	۹۷	<input type="checkbox"/>	<input type="checkbox"/>	<input checked="" type="checkbox"/>	<input type="checkbox"/>
۸۸	<input type="checkbox"/>	<input type="checkbox"/>	<input type="checkbox"/>	<input checked="" type="checkbox"/>	۹۸	<input type="checkbox"/>	<input type="checkbox"/>	<input type="checkbox"/>	<input checked="" type="checkbox"/>
۸۹	<input type="checkbox"/>	<input type="checkbox"/>	<input type="checkbox"/>	<input checked="" type="checkbox"/>	۹۹	<input type="checkbox"/>	<input checked="" type="checkbox"/>	<input type="checkbox"/>	<input type="checkbox"/>
۹۰	<input type="checkbox"/>	<input checked="" type="checkbox"/>	<input type="checkbox"/>	<input type="checkbox"/>	۱۰۰	<input checked="" type="checkbox"/>	<input type="checkbox"/>	<input type="checkbox"/>	<input type="checkbox"/>

تیزلاین، آکادمی به وسعت ایران

