



آکادمی آنلاین تیزلاین قوی ترین پلتفرم آموزشی تیز هوشان

برگزار کننده کلاس های آنلاین و حضوری تیز هوشان ✓

و المپیاد از پایه چهارم تا دوازدهم

آزمون های آنلاین و حضوری ✓

مشاوره تخصصی ✓

با اسکن QR کد روبرو
وارد صفحه اینستاگرام
آکادمی تیزلاین شو و از
محتوای آموزشی
رایگان لذت ببر



برای ورود به صفحه اصلی سایت آکادمی تیزلاین کلیک کنید

برای دانلود دفترچه آزمون های مختلف برای هر پایه کلیک کنید

برای مطالعه مقالات بروز آکادمی تیزلاین کلیک کنید



قرآن و پیام‌های آسمان



- ۱- مشوق و محرک ما برای رفتن به سمت عمل است.
 - (۱) اعتماد
 - (۲) شناخت
 - (۳) آرامش
 - (۴) ایمان
- ۲- در روایات، دوستی که از گناه و اشتباه دوست خود ناراحت نشود یا او را تشویق به آن گناه کند به تشبیه شده است.
 - (۱) دوستان شیطان
 - (۲) همنشین بد
 - (۳) شمشیری زهرآلود
 - (۴) بیابان بی آب و علف
- ۳- کدام یک از شک‌ها، نماز را باطل نمی‌کند؟
 - (۱) شک در رکعت ۳ و ۴ نماز ۴ رکعتی
 - (۲) شک در رکعت نماز ۳ رکعتی
 - (۳) شک در رکعت اول نماز ۴ رکعتی
 - (۴) شک در رکعت نماز ۲ رکعتی
- ۴- آب چاه‌ها، آب لوله‌کشی، آب‌میوه به ترتیب جزء کدام گروه آب‌ها هستند؟
 - (۱) مطلق، مطلق، مطلق
 - (۲) مضاف، مطلق، مطلق
 - (۳) مطلق، مطلق، مضاف
 - (۴) مضاف، مضاف، مطلق
- ۵- حضرت ابراهیم (ع) همسر و فرزند کوچک خود را در سرزمین بدون آب و آبادانی مکه رها کرد. این مورد بیانگر کدام ویژگی پیامبران می‌باشد؟
 - (۱) استقامت و پایداری در راه خدا
 - (۲) تسلیم در برابر امر خداوند
 - (۳) مبارزه با عقاید باطل
 - (۴) مقاومت در برابر مشکلات زندگی
- ۶- امامان معصوم (ع) در اجرای دستورات الهی و هدایت مردم به دین راستین با دو مشکل بزرگ مواجه بودند. آن دو مشکل کدام گزینه است؟
 - (۱) حاکمان زورگو - مردم ترسو
 - (۲) مردم نادان - اعتقادات ضعیف مردم
 - (۳) اختلافات دینی اقوام - پادشاهان بی‌خرد
 - (۴) خرافات مردم - جاه‌طلبی حاکمان
- ۷- کدام آیه اشاره دارد به این مفهوم که «هدف اصلی دشمن از تحریم و جنگ، نابودی باورهای دینی مردم و دور کردن آنان از اسلام است»؟
 - (۱) الَّذِينَ يَتَّبِعُونَ أَمْوَالَهُمْ بِاللَّيْلِ وَالنَّهَارِ سِرًّا وَعَلَانِيَةً.
 - (۲) إِنَّ اللَّهَ اشْتَرَى مِنَ الْمُؤْمِنِينَ أَنْفُسَهُمْ وَأَمْوَالَهُمْ.
 - (۳) وَلَا تَهِنُوا وَلَا تَحْزِنُوا وَأَنْتُمْ الْأَعْلَوْنَ إِنْ كُنْتُمْ مُؤْمِنِينَ.
 - (۴) وَلَا يَزَالُونَ يَقَاتِلُونَكُمْ حَتَّى يَزِدَّوَكُمْ عَنْ دِينِكُمْ إِنْ اِسْتَعَاوَا.
- ۸- گزینه نادرست را از بین گزینه‌ها مشخص کنید.
 - (۱) هیچ‌کس نمی‌تواند زمان دقیق قیام حضرت مهدی (عج) را مشخص کند.
 - (۲) از نظر علمی، داشتن عمر طولانی ناممکن نیست.
 - (۳) اعتقاد به ظهور منجی تنها به شیعیان اختصاص دارد.
 - (۴) یاران امام زمان (عج) فقط کسانی نیستند که ظهور امام را می‌بینند.
- ۹- کدام یک از اقدامات زیر جنگ نرم علیه ملت و فرهنگ ما می‌باشد؟
 - (۱) ساخت بازی‌های رایانه‌ای مخرب
 - (۲) تفرقه‌افکنی
 - (۳) تلاش برای کودتا
 - (۴) ترور
- ۱۰- معنای صحیح آیه «لَقَدْ أَرْسَلْنَا رُسُلَنَا بِالْبَيِّنَاتِ» کدام گزینه است؟
 - (۱) همانا پیامبر را با سخنانی آشکار فرستادیم.
 - (۲) قطعاً پیامبرانمان را با دلایل روشن فرستادیم.
 - (۳) قطعاً پیامبرانمان را با دلایل روشن فرستادم.
 - (۴) یقیناً فرستادیم امامان را با آیه‌های واضح.
- ۱۱- معنای کلمات «مُنْذِرٌ، عَسَى» به ترتیب کدام گزینه است؟
 - (۱) بیم‌دهنده - سحرها
 - (۲) جاودان - مانع شد
 - (۳) هشداردهنده - شاید
 - (۴) بیننده - می‌خواهیم
- ۱۲- ترجمه صحیح «إِنْ كُنْتُمْ مُوقِنِينَ» کدام گزینه است؟
 - (۱) اگر اهل ایمان هستید
 - (۲) اگر اهل یقین هستید
 - (۳) اگر اهل ایمان باشید
 - (۴) اگر اهل یقین بودند





پایه‌های چهارم تا دوازدهم



- ۱۳- معنی کدام کلمه غلط است؟
 (۱) نَصَبَت: هموار شد (۲) زَفَعَت: برافراشته شد (۳) سَطِیْحَت: گسترده شد (۴) یَحْتَسِبُ: گمان می‌کند (قرآن - درس ۱۱)
- ۱۴- معنی صحیح عبارت قرآنی «كَلَّا سَيَعْلَمُونَ» کدام گزینه است؟
 (۱) هرگز چنین نیست می‌دانند. (۲) چنین نیست به‌زودی تلاش می‌کنند. (۳) هرگز چنین نیست آنها فکر نمی‌کنند. (۴) هرگز چنین نیست به‌زودی خواهند دانست. (قرآن - درس ۱۱)
- ۱۵- معنای کدام عبارت قرآنی صحیح می‌باشد؟
 (۱) يَرْزُقُه: به او روزی می‌دهد (۲) كُنَّا نَعْمَلُ: اندیشه و درک کردم (۳) لَتَعْلَمُونَ: تا بدانند (۴) قَاصِلِحُوا: پس اصلاح کردند (قرآن - درس‌های ۱۴ و ۹)

فارسی



- ۱۶- کدام گزینه می‌تواند معانی مناسب برای تعداد بیشتری از واژه‌های زیر باشد؟
 «جاه، مایه‌ور، شکبیا، آستان، دیربگی»
 (۱) مقام، سرشار، آرام، درگاه، کهنه (۲) شکوه، ارجمندی، صبر، حضور، قدیم (۳) درجه، ارجمند، تحمل، جناب، قدمت (۴) نعمت، پرمایه، بردباری، درگاه، پیشینه (واژگان - ترکیبی)

- ۱۷- معنی «درآمد» در همهٔ گزینه‌ها یکسان آمده است. به‌جز گزینهٔ
 (۱) چون درآمد در میان، غیر خدا (۲) درآمد مسرد را بخش‌شده دارد (۳) چو در کشتی نوحی مست خفته (۴) رجب بیرون شد و شعبان درآمد (تشیخ را دیدیم نهان کردن سزا زمیسن تسا درنیسارد بسر نیسارد چه غم داری اگر طوفان درآمد؟ بیرون شد جان ز تن جانان درآمد (واژگان - درس‌های ۸ و ۱۱)

- ۱۸- تعداد غلط‌های املائی در کدام گزینه درست تعیین شده است؟ (تشدید جزء غلط املائی محسوب نمی‌شود).
 (۱) جنگ برپا شده بود تا «محمد جهان‌آرا» به آن غافله‌ای ملحق شود که به سوی عاشورا می‌رفت. (۲ غلط)
 (۲) نمی‌بینی کسی را که به دردی دوچار شد، خضوع می‌کند و به درگاه خدا روی می‌آورد و طلب عافیت می‌کند؟ (۱ غلط)
 (۳) سلمان گفت به سه وجه این کار را از برای خود کردم نه از بحر تو تا از عهدهٔ حفظ رعیت بیرون آمده باشم. (۱ غلط)
 (۴) حافظ برای آنکه انتقادش به طعن و لئن و حجو شباهت نیابد، انتقادها را با طنز می‌آمیزد. (۳ غلط) (املا - ترکیبی)

- ۱۹- نوع رابطهٔ واژگان در کدام گزینه متفاوت با دیگر گزینه‌ها است؟
 (۱) مساعی و مسعی (۲) معارج و معراج (۳) رعایا و رعیت (۴) وصایا و وصی (دانش زبانی - درس‌های ۷ و ۱۱)

- ۲۰- همهٔ آثار گزینهٔ به نثر نگارش یافته‌اند.
 (۱) مصیبت‌نامه - قابوس‌نامه - هفت اورنگ (۲) تذکرة الاولیا - اخلاق ناصری - مخزن الاسرار (۳) منطق الطیر - کیمیای سعادت - الهی‌نامه (۴) اخلاق ناصری - تذکرة الاولیا - قابوس‌نامه (تاریخ ادبیات - ترکیبی)

- ۲۱- نقش دستوری (تخلص) در همهٔ گزینه‌ها به‌جز گزینهٔ یکسان آمده است.
 (۱) این سخن پروین نه از روی هواست (۲) سعدی غم نیستی ندارد (۳) حافظ به خود نیوشید این خرقة می‌آلود (۴) سعدی از آنجا که فهم اوست سخن گفت (هر کجا نور است ز انوار خداست جان دادن عاشقان نجات است ای شیخ پاکدامن معذور دار ما را ورنه کمال تو، وهم کی رسد آنجا؟ (دانش زبانی - درس‌های ۲ و ۷)

- ۲۲- کدام فعل در عبارت زیر نیامده است؟
 «اکنون شش سال از آن زمان می‌گذرد. من هرگز این داستان را برای کسی تعریف نکرده بودم. دوستانی که دوباره مرا می‌دیدند، خوشحال بودند از اینکه مرا زنده باز یافتند.»
 (۱) ماضی استمراری (۲) مضارع اخباری (۳) ماضی نقلی (۴) ماضی مطلق (دانش زبانی - درس‌های ۶ و ۱۱)

☎ ۰۲۱-۴۴۱۳۶۹۷۵ * ۰۲۱-۹۱۳۰۲۲۰۲
 📷 Tizline.ir
 📞 ۰۹۳۳۳۸۴۰۲۰۲

(دانش زبانی - درس‌های ۱۴ و ۱۶)

۲۳- در کدام گزینه نوع قید از نظر ساختمان واژه (ساده یا غیرساده بودن) متفاوت با دیگر گزینه‌ها است؟

- ۱) آینه چون نقش تو بنمود راست
- ۲) به قبرستان گذر کردم کم و بیش
- ۳) همه سر به سر تن به کشتن دهیم
- ۴) شهر یک‌باره به هوش آمد

(دانش زبانی - درس‌های ۷ و ۱۴)

۲۴- الگوی «هسته + اسم + صفت + اسم» در کدام گروه اسمی دیده می‌شود؟

- ۱) کارگاه آفرینش خدای مهربان
- ۲) دوران هشت‌ساله دفاع مقدس
- ۳) خانواده‌ی شهدای اقلیت‌های مذهبی
- ۴) بلندای اراده‌ی پولادین ایرانیان

(تذکیه - نیایش)

۲۵- در توضیح ابیات، کدام گزینه نادرست است؟
«چراغ یقینم فرا راه دار
خدایا به ذلت مران از درم

- ۱) نقش ضمیرهای پیوسته در بیت اول «مضاف‌الیه» است.
- ۲) همه آرایه‌های «تشبیه، واج‌آرایی، کنایه، جناس» در ابیات دیده می‌شوند.
- ۳) دو بیت در قالب مثنوی سروده شده است.
- ۴) زمان فعل آخرین جمله «مضارع اخباری» است.

(دانش ادبی - ترکیب)

۲۶- آرایه‌های «تشبیه، کنایه، جناس، تضاد، تشخیص» به ترتیب در کدام گزینه آمده است؟

- الف) بیات تا برآرم دست‌ی ز دل
 - ب) میبچ از ره راست بر راه کج
 - ج) نعمتت بار خدایا ز عدد بیرون است
 - د) چون چراغ لاله سوزم در خیابان شما
 - ه) در بیابان گر به شوق کعبه خواهی زد قدم
- ۱) الف، ج، ه، د ۲) ج، د، ه، الف، ب ۳) د، ج، الف، ب، ه ۴) الف، ه، د، ب، ج

(دانش ادبی - درس ۱۳)

۲۷- کدام بیت، آهنگ و موسیقی و ظرفیت معنایی بیشتری نسبت به سایر ابیات دارد؟

- ۱) دیده‌ای نیست نیند رخ زیبای تو را
- ۲) در حبس و خلوت‌م تا وارهم به مرگ
- ۳) غواص اگر اندیشه کند کام نهنگ
- ۴) به چشم بصیرت به خود در نگر

(دانش ادبی - درس ۱۴)

۲۸- مفهوم بیت زیر از همه گزینه‌ها دریافت می‌شود، به جز گزینه

- «نه درویش بی کفن در خاک رفته
همه مرگ راییم پیر و جوان
ز دست مرگ نتواند امان یافت
اگر زرین‌کلاهی، عاقبت هیچ
چون تو را مرگ است و آتش پیش‌تر

(دانش ادبی - درس ۶)

۲۹- کدام گزینه با عبارت زیر تناسب معنایی ندارد؟

- «آدمی باید که بسیار نگوید و سخن دیگری به سخن خود قطع نکند و سخن ناپرسیده نگوید و از گفتار خیره بهره‌یزد.»
- ۱) کم گوی و گزیده گوی چون ذر
 - ۲) سخن را سر است ای خردمند و بن
 - ۳) سخن گفتن آن که بود سودمند
 - ۴) نپرسیده هر کو سخن یاد کرد



۰۲۱-۹۱۳۰۲۲۰۲ * ۰۲۱-۴۴۱۳۶۹۷۵

Tizline.ir

۰۹۳۳۳۸۴۰۲۰۲

تیزلاین منبع معتبر تیزهوشان

سامانه پیامکی: ۹۰۰۰۱۶۲۰

(دانش ادبی - درس ۸)

ز دانشش دل پیسر، برنسا بود
خردمند و بیسدار و دانسا بود
بر همه چیزیش توانایی است
همیشه بزرگ و توانا بود

۳۰- مفهوم کدام گزینه با سایر گزینه‌ها متفاوت است؟

- ۱) توانا بود هر که دانا بود
- ۲) کسی کوبه بخشش توانا بود
- ۳) هر که در او جوهر دانایی است
- ۴) فرستاده گفت آن که دانا بود

عربی



(قواعد، ترجمه - درس ۴)

۳۱- کدام فعل برای جمله «یا تلامیذُ عملاً صالحاً» صحیح و مناسب است؟

- ۱) لا تَعْمَلُوا
- ۲) اِعْمَلُوا
- ۳) اِعْمَلْ
- ۴) لا تَعْمَلَنَّ

(قواعد - پایه هفتم)

۳۲- کدام گزینه صحیح است؟

- ۱) اصوات: جمع مؤنث سالم
- ۲) ایمان: مثنی مذکر
- ۳) میادین: جمع مکسر
- ۴) مساکین: جمع مذکر سالم

(ترجمه - درس ۳)

۳۳- کدام گزینه مربوط به عبارت «المبِیغُ الَّذِي يَأْخُذُ السَّائِقَ مِنَ الرُّؤَاةِ» می‌باشد؟

- ۱) غالیة
- ۲) ریالاً
- ۳) الأجرة
- ۴) ثلاثون

(قواعد - ترکیبی)

۳۴- کدام گزینه از نظر رعایت اصول نگارش درست است؟

- ۱) یا صَدِيقَاتِ، أَنْظِرْنَ إِلَى نَزُولِ الْمَطَرِ.
- ۲) أَنْتَ تَعْمَلُ مَلَابِسَكَ أَمْسِي؟
- ۳) أَيُّهَا الْإِخْوَةُ، لَا تَرْقُدِي تَحْتَ الشَّجَرَةِ فِي اللَّيْلِ.
- ۴) أَنَا وَ صَدِيقِي مَا كَتَبْتُ وَأَجَبَاتُنَا.

(قواعد - درس ۵)

۳۵- ترجمه فعل‌های «لا تَصْرُخِي - لا تَحْرَنَ» به ترتیب در کدام گزینه آمده است؟

- ۱) فریاد نمی‌زنی - غمگین نمی‌شوی
- ۲) فریاد نمی‌زنی - غمگین نباش
- ۳) فریاد نزن - غمگین نباش
- ۴) فریاد نزن - غمگین نمی‌شوی

(قواعد - درس‌های ۵ و ۶)

۳۶- در کدام گزینه فعل نهی وجود دارد؟

- ۱) لِمَ تُحَاوِلُ؟ لَا فَايْذَةَ لِلْمُحَاوَلَةِ.
- ۲) رَبَّنَا لَا تَجْعَلْنَا مَعَ الْقَوْمِ الظَّالِمِينَ.
- ۳) لَقَدْ جَرَّحْتَ بَدَنَكَ أَنْتَ لَا تَقْدِرُ.
- ۴) أَنْتَنَ لَا تَرْجِعَنَّ فِي الْوَقْتِ الْمُعْتَمِينَ.

(ترجمه - ترکیبی)

۳۷- ترجمه «انصروا أصدقاءكم و لا تتزكروهم في المشاكيل» کدام گزینه است؟

- ۱) دوستان شما کسانی هستند که شما را یاری می‌کنند و شما را در مشکلات ترک نمی‌کنند.
- ۲) شما باید دوستانتان را یاری کنید و آنها را در مشکلات رها نکنید.
- ۳) دوستان خود را یاری کنید و آنها را در سختی‌ها رها نکنید.
- ۴) شما دوستان خود را یاری کردید و آنها را در سختی رها نکردید.

(ترجمه - ترکیبی)

۳۸- در کدام گزینه تمامی واژه‌ها با یکدیگر ارتباط مفهومی ندارند؟

- ۱) حُبُوب - صُدَاع - وَصْفَةٌ
- ۲) جامِعة - التَّعْلِيم - العالی
- ۳) سُوق - سُوراء - بَضَاع
- ۴) مُتَخَف - عَرَبِيَّة - دَلِيل

(قواعد - درس ۹)

۳۹- کدام زمان بین ساعت '۸:۳۰' و '۱۰:۰۰' قرار می‌گیرد؟

- ۱) التَّامِيْنَةُ وَ الرَّبِيع
- ۲) التَّامِيْنَةُ إِلَّا رَبِيعاً
- ۳) العَاشِرَةُ وَ النِّصْف
- ۴) العَاشِرَةُ إِلَّا رَبِيعاً

(ترجمه - درس‌های ۳ و ۵)

۴۰- ترجمه واژه‌های «مَصْبِر - شَجَّع - رَجَاء - حَاوَلْ» به ترتیب در کدام گزینه آمده است؟

- ۱) راه - شجاع شد - آمد - تلاش کرد
- ۲) سرنوشت - تشویق کرد - امید - حمل کرد
- ۳) سرنوشت - تشویق کرد - امید - تلاش کرد
- ۴) روش - تشویق کرد - لطفاً - تلاش کرد

(قواعد - درس ۷)

۴۱- ترکیب‌های مشخص شده در جمله «مرقَدُ العالِمِ الإِیرَانِيّ فِي مَدِينَةِ همدان.» به ترتیب چه ترکیب‌هایی هستند؟

- ۱) اضافی - وصفی
- ۲) وصفی - اضافی
- ۳) وصفی - وصفی
- ۴) اضافی - اضافی



۰۲۱-۹۱۳۰۲۲۰۲ * ۰۲۱-۴۴۱۳۶۹۷۵



Tizline.ir



۰۹۳۳۳۸۴۰۲۰۲

تیزلاین منبع معتبر تیزهوشان

سامانه پیامکی: ۹۰۰۰۱۶۲۰



(ترجمه - ترکیبی)

۴۲- در کدام گزینه متضاد یا مترادف واژه‌های «الرَّجوع - تَطَلُّبُونَ» وجود دارد؟

- (۱) التلمیذتان بَدَأَا مَرَاجَعَةَ الدَّرُوسِ.
(۲) إِلَى أَيْنَ مَدَّنِ ثَرِيدُونَ الذَّهَابَ؟
(۳) الْأَوْلَادُ يَذْهَبُونَ إِلَى الْمَدْرَسَةِ.
(۴) مَتَى تَرْجِعُونَ أَيُّهَا الطَّلَابُ؟

(ترجمه - ترکیبی)

۴۳- «یا صدیقاتی، رجاءُ إجلبن الأشياءَ الضروریةَ من السفینة.» کدام ترجمه درست است؟ ای دوستانم

- (۱) لطفاً چیزهای ضروری کشتی را جمع کنید.
(۲) لطفاً چیزهای لازم را از کشتی بیاورید.
(۳) لطفاً چیزهای ضروری کشتی را ببرید.
(۴) لطفاً چیزهای لازم را از کشتی‌ها بیرون بیاورید.

(قواعد، ترجمه - ترکیبی)

۴۴- کاربرد فعل در کدام جمله از نظر قواعد و معنا صحیح است؟

- (۱) یا أخی، لا تَنْزِلُوا مِنَ الْحَافِلَةِ.
(۲) یا طَالِبَاتُ! اَكْتُبُوا وَاجِبَاتِكُنَّ.
(۳) قال لِلتَّنَاتِ: لا تَلْعَبْنَ هُنَا.
(۴) أَيُّهَا الزَّمَلَاءُ إِشْرَبُوا السَّمَكَ وَ الرَّزَّ.

(ترجمه - درس ۲)

۴۵- ترجمه صحیح «أ تُعْطِنِي مَكَانًا حَتَّى أَجْلِسَ هُنَا؟» کدام گزینه است؟

- (۱) آیا برای نشستن به من جایی می‌دهی؟
(۲) آیا جایی در اینجا هست که من بنشینم؟
(۳) آیا جایی به من می‌دهی که اینجا بنشینم؟
(۴) آیا جای نشستن برای من اینجا هست؟

مطالعات اجتماعی



۴۶- کدام کشور های زیر، علاوه بر اینکه بخش‌هایی از خاک ایران را از سرزمینمان جدا کردند، سال‌های زیادی برای نفوذ اقتصادی در کشور ما به رقابت پرداختند؟

- (۱) فرانسه و انگلستان (۲) آمریکا و انگلستان (۳) روسیه و انگلستان (۴) روسیه و فرانسه

۴۷- انتشار مقاله توهین‌آمیز نسبت به امام خمینی (ره) در روزنامه اطلاعات، زمینه‌ساز کدام قیام در تاریخ انقلاب اسلامی ایران گردید؟

- (۱) ۲۹ بهمن تبریز (۲) ۱۹ دی قم (۳) ۱۷ شهریور تهران (۴) ۱۵ خرداد ورامین

(درس ۱۴ - صفحه ۹۱)

۴۸- مهم‌ترین کارکرد مجلس مؤسسان چه بود؟

- (۱) برکناری احمدشاه از قدرت
(۲) سپردن موقت حکومت به رضاخان
(۳) منصوب کردن رضاخان به فرماندهی کل قوا
(۴) واگذاری رسمی حکومت به رضاخان

(درس ۱۱ - صفحه‌های ۷۴ و ۷۵)

۴۹- کدام رویداد تاریخی عصر قاجاریه، قبل از بقیه رخ داده است؟

- (۱) عهدنامه گلستان (۲) عهدنامه پاریس (۳) قرارداد رویتر (۴) عهدنامه ترکمان‌چای

(درس ۹ - صفحه‌های ۵۸ و ۶۰)

۵۰- محتوای کدام متن زیر کاملاً صحیح می‌باشد؟

- (۱) شاه‌عباس برای تقویت حکومت مرکزی، حکومت ولایت‌ها را به قزلباش‌ها سپرد.
(۲) فرانسوی‌ها در زمان شاه‌عباس اول، با اخراج پرتغالی‌ها، زمینه نفوذ خود را در ایران مستحکم‌تر کردند.
(۳) شاه‌تیماسب با انتقال پایتخت به اصفهان روابط مسالمت‌آمیزی با کشورهای همسایه و مسلمان خود برقرار کرد.
(۴) هم‌زمان با به قدرت رسیدن صفویان، اروپاییان، قرون وسطا را پشت سر گذاشته و وارد قرون جدید شدند.

(درس ۱ - صفحه ۶)

۵۱- مختصات جغرافیایی (۰، ۰) در کجای جهان قرار دارد؟

- (۱) جنوب آسیا - اقیانوس هند (۲) غرب آفریقا - اقیانوس اطلس (۳) غرب آمریکا - اقیانوس آرام (۴) غرب اروپا - اقیانوس اطلس

۵۲- ویهان در شب یلدا از سال کبیسسه متولد شده است. مریم، خاله ویهان، در شانزدهم مرداد هر سال جشن تولد برپا می‌کند. اگر روز تولد مریم را هم در نظر بگیرید، از تولد ویهان تا جشن تولد خاله‌اش، چند روز انتظار و فاصله وجود دارد؟

- (۱) ۲۳۰ (۲) ۲۹۹ (۳) ۲۹۶ (۴) ۲۹۵

(درس ۱۴ - صفحه‌های ۳۱ و ۳۲)

۵۳- کدام ناهموازی کف اقیانوس‌ها به ساحل نزدیک‌تر است؟

- (۱) گودال اقیانوسی (۲) شیب‌قاره (۳) دشت اقیانوسی (۴) فلات قاره

(درس ۳ - صفحه ۱۶)

۵۴- بخش خارجی کره زمین که حالت جامد دارد، چه نامیده می‌شود؟

- (۱) هیدروسفر (۲) اتمسفر (۳) لیتوسفر (۴) بیوسفر



۰۲۱-۹۱۳۰۲۲۰۲ * ۰۲۱-۴۴۱۳۶۹۷۵

Tizline.ir

۰۹۳۳۳۸۴۰۲۰۲

تیزلاین منبع معتبر تیزهوشان

سامانه پیامکی: ۹۰۰۰۱۶۲۰

- ۵۵- «وجود جنگل‌های چندطبقه و داشتن بیشترین تنوع زیستی جهان» مربوط به کدام زیست‌بوم جهان است؟ (درس ۵ - صفحه ۳۳)
- ۱) توندرا ۲) جنگل‌های بارانی استوایی ۳) ساوان ۴) تایگا
- ۵۶- بیشترین ساکنان کشورهای با درآمد بالا در چه مناطقی از جهان زندگی می‌کنند که از رفاه و سطح زندگی بالایی برخوردارند؟ (درس ۸ - صفحه ۵۰)
- ۱) آمریکای جنوبی - اروپای شرقی ۲) آسیای جنوب شرقی - اروپای غربی
۳) آمریکای شمالی - اروپای غربی ۴) آمریکای شمالی - اروپای مرکزی
- ۵۷- براساس کدام اصل قانون اساسی، شهروندان مجاز نیستند برای استفاده از حقوق خود به منافع عمومی زیان برسانند و حقوق دیگران را ضایع کنند؟ (درس ۲۲ - صفحه ۱۴۸)
- ۱) چهارم ۲) هشتم ۳) سی و پنجم ۴) هشتاد و پنجم
- ۵۸- همه موارد به جز مورد گزینۀ توسط رهبر جمهوری اسلامی ایران انتخاب می‌شوند. (درس ۲۱ - صفحه ۱۴۴)
- ۱) رئیس قوه قضائیه ۲) فرماندهان نیروهای نظامی و انتظامی
۳) رئیس سازمان صداوسیما کشورمان ۴) نصب و عزل و قبول استعفای حقوق‌دانان شورای نگهبان
- ۵۹- محتوای کدام گزینۀ کاملاً درست است؟ (درس ۱۸ - صفحه‌های ۱۲۰، ۱۲۴ و ۱۲۵)
- ۱) امت، جمعیتی است که در قلمرو یک سرزمین مشخص مستقر شده است.
۲) زبان فارسی همواره عامل وحدت اقوام ایرانی بوده و نیز میراث فرهنگی هم با آن آموخته و انتقال می‌یابد.
۳) ملت، جمعیتی است که میان آنها با مرزهای جغرافیایی و سیاسی، فاصله نمی‌افتد.
۴) موضوع هویت در واقع همان پاسخ به پرسش چیستی است.
- ۶۰- همه موارد به جز محتوای گزینۀ در ارتباط با فرهنگ درست است. (درس ۱۷ - صفحه‌های ۱۱۴، ۱۱۵ و ۱۱۶)
- ۱) فرهنگ پدیده‌ای آموختنی است. ۲) جامعه بدون فرهنگ وجود ندارد.
۳) همهٔ هنجارها مفید و خوب نیستند. ۴) نمادها و هنجارها، لایه‌های عمیق‌تر فرهنگ هستند.

زبان انگلیسی



- 61- A: Do you know him? (واژگان - درس ۱)
- B: Yes, he is Jack. He is not a / an boy. He always speaks rudely to others.
- 1) rude 2) polite 3) impolite 4) quiet
- 62- A: How did you your leg? (واژگان - ترکیبی)
- B: Well, it happened while I was the bus.
- 1) hurt / getting off 2) break / getting in 3) burn / getting off 4) cut / getting in
- 63- A: My dictionary stopped working after getting updated. (واژگان - درس ۵)
- B: I think you have to uninstall it and the latest version from the internet.
- 1) update 2) search 3) connect 4) download
- 64- They at home on holidays. (گرامر - درس ۴)
- 1) are usually stay 2) stay never 3) usually stay 4) stay usually
- 65- A: Are you staying here for four nights? (گرامر - درس ۲)
- B: Yes, we Mashhad for five days.
- 1) visit 2) are visiting 3) visiting 4) visited
- 66- He to his hometown every summer. (گرامر - درس ۳)
- 1) are traveling 2) travel 3) travels 4) is traveling



67- A: This cake is so delicious.

(گرامر - درس ۵)

B: Yeah, it?

- 1) who did bake 2) who baked 3) who bakes 4) who is baking

(درک مطلب - ترکیبی)

* براساس متن به سوالات ۶۸، ۶۹ و ۷۰ پاسخ دهید.

Last summer we went to Shiraz. My brother had to book a hotel before the trip but he forgot to do that so when we arrived in Shiraz, we had no place to stay. My father asked many hotels around the station and all of them were full. It was 8 p.m. and we were all so hungry and the luggage was too heavy to carry around. My father called one of his old friends, Mr. Shakiba, who lived in Shiraz. He was a very generous man. He invited us to his house. We helped Mrs. Shakiba with setting and clearing the table. After dinner, my father and Mr. Shakiba talked about their old memories and we watched a quiz show on TV. It was a brilliant night.

68- What does "he" in line four refer to?

ضمیر «he» در خط چهارم به کدام اسم اشاره می‌کند؟

- 1) her father 2) her brother 3) Mr. Shakiba 4) the receptionist

69- Which sentence is correct?

کدام جمله صحیح است؟

- 1) Their hotel was far from the station. 2) Her father forgot to book a hotel before the trip.
3) There weren't any hotels around the station. 4) They stayed with a friend because all the hotels were full.

70- Which is not a synonym for "brilliant" in the last sentence? کدام گزینه مترادف برای «brilliant» در جمله آخر نمی‌باشد؟

- 1) fantastic 2) wonderful 3) important 4) amazing

علوم تجربی



(فصل ۱ - صفحه ۳)

۷۱- با توجه به واکنش‌پذیری فلزات، کدام‌یک از واکنش‌های زیر انجام‌پذیر نیست؟

- (۱) مس + آهن سولفات → آهن + مس سولفات
(۲) منیزیم + مس سولفات → مس + منیزیم سولفات
(۳) مس + روی سولفات → روی + مس سولفات
(۴) آهن + منیزیم سولفات → منیزیم + آهن سولفات

۷۲- دو عنصر با نشانه شیمیایی فرضی $\frac{1}{2}A$ و $\frac{1}{4}B$ را در نظر بگیرید. این دو عنصر با الکترون‌ها می‌توانند در پیوند شرکت کنند و ترکیب شیمیایی با فرمول را بسازند.

(فصل ۲ - صفحه‌های ۱۳ و ۱۴)

- (۱) انتقال - یونی - BA_3 (۲) اشتراک - کووالانسی - B_3A (۳) انتقال - یونی - B_3A (۴) اشتراک - کووالانسی - BA_3

۷۳- در یون X^{3+} تعداد نوترون‌ها، یک واحد از پروتون‌ها بیشتر است و در حال حاضر دارای ۱۰ ذره زیراتمی منفی می‌باشد. با توجه به این اطلاعات چند جمله زیر درباره آن صحیح است؟

(ترکیبی - فصل‌های ۱ و ۲)

(الف) این عنصر در حالت خنثی به گروه ۱۲ جدول تناوبی عنصرها تعلق دارد.

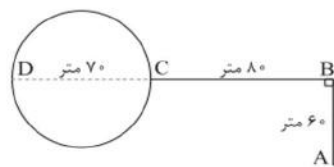
(ب) این عنصر در حالت خنثی سه مدار الکترونی دارد.

(ج) این عنصر در حالت خنثی با عنصر B در یک گروه قرار می‌گیرد.

(د) این یون در حال حاضر آرایش الکترونی یک گاز نجیب را ندارد.

(ه) این عنصر در حالت خنثی می‌تواند با عنصر F و واکنش داده و ترکیب یونی با فرمول XF_2 می‌سازد.

- (۱) یک جمله (۲) دو جمله (۳) سه جمله (۴) چهار جمله



۷۴- متحرکی طبق شکل مقابل در مدت زمان ۵۰ ثانیه از نقطه A به B و سپس به C می‌رود و بعد دور میدان به نقطه D رفته و در انتها در ادامه میدان از نقطه D به C برمی‌گردد و در آنجا متوقف می‌شود. با توجه به حرکت آن، تندی متوسط و سرعت متوسط این متحرک به ترتیب از راست چند متر بر ثانیه است؟ (عدد π را ۳ در نظر بگیرید.) (فصل ۴ - صفحه‌های ۱۴۶، ۱۴۴ و ۱۴۵)

- (۱) $2-7$ (۲) $7-2$
(۳) $2-5/6$ (۴) $5/6-2$



۰۲۱-۹۱۳۰۲۲۰۲ * ۰۲۱-۴۴۱۳۶۹۷۵

Tizline.ir

۰۹۳۳۳۸۴۰۲۰۲

تیزلاین منبع معتبر تیزهوشان

سامانه پیامکی: ۹۰۰۰۱۶۲۰



۷۵- موتورسواری به جرم ۸۰ کیلوگرم روی موتوری به جرم ۳۲۰ کیلوگرم در حال حرکت است. نیروی پیشران موتورسیکلت معادل ۱۲۰۰ نیوتون و مجموع نیروهای اصطکاک وارد بر موتورسوار و موتورسیکلت معادل ۲۰۰ نیوتون است. موتورسوار با همین شتاب و در مدت ۱۰ ثانیه سرعت خود را به ۲۵ متر بر ثانیه می‌رساند. سرعت اولیه موتورسیکلت چند متر بر ثانیه بوده است؟

- (تذکیبی - فصل‌های ۴ و ۵)
- (۱) صفر (۲) ۵ (۳) ۱۰ (۴) ۲۵

۷۶- با توجه به شکل مقابل از حرکت ورقه‌های سازنده سنگ‌کره به ترتیب از راست پاسخ دهید:

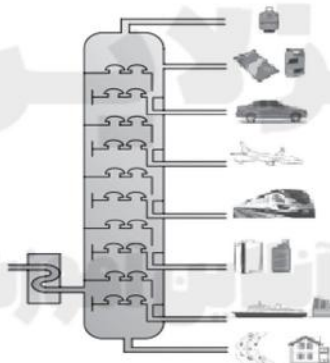


- (الف) نام این نوع از حرکت چیست؟
 (ب) چرا ورقه «الف» به زیر ورقه «ب» فرو رفته است؟
 (ج) این نوع حرکت در کجا رخ داده است؟

۷۷- در مورد نرم‌تنان چند مورد از عبارات زیر درست نیست؟

- (الف) بعضی از آنها دارای صدف‌اند.
 (ب) امتدادلغز - به دلیل چگالی بیشتر - اطراف اقیانوس آرام
 (ج) نزدیک‌شونده - به دلیل چگالی بیشتر - اطراف اقیانوس آرام
 (د) اغلب خشکی‌زی‌اند.
 (ه) برخی واسطه انتقال بعضی از گرم‌های انگلی به انسان‌اند.

۷۸- با توجه به دو شکل زیر. پاسخ سؤالات «الف» تا «د». به ترتیب از راست کدام گزینه است؟



(الف)



(ب)

- (برش‌های نفتی معمولاً از بالا شماره‌گذاری می‌شوند).
 (الف) اصل مشترک کار این دو دستگاه چیست؟
 (ب) در شکل «الف» هیدروکربن‌های کدام برش تعداد پیوند اشتراکی کمتری دارند؟
 (ج) در شکل «ب» درون کندانسور چه فرایندی رخ می‌دهد؟
 (د) در شکل «الف» میان برش‌های مربوط به خودرو، هواپیما و قطار، هیدروکربن‌های کدام برش قابلیت اشتعال کمتری دارند؟
- (۱) اختلاف در چگالی - برش ۸ - تصعید - خودرو
 (۲) اختلاف در چگالی - برش ۱ - میعان - قطار
 (۳) اختلاف در نقطه جوش - برش ۸ - تصعید - خودرو
 (۴) اختلاف در نقطه جوش - برش ۱ - میعان - قطار



۷۹- در شکل مقابل لایه‌های رسوبی زمین را مشاهده می‌کنید. با توجه به آموخته‌های شما از ترتیب پیدایش جانداران در فصل‌های ۱۱ تا ۱۴، اگر در هر لایه یک فسیل از جانداران زیر پیدا کنیم، فسیل کانگورو در کدام لایه کشف خواهد شد؟ (ماهی - عنکبوت - صدف - کانگورو)

(تذکیبی - فصل‌های ۷ و ۱۳)

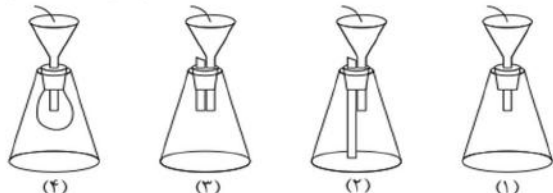
- (۱) A (۲) B (۳) C (۴) D

(فصل ۱۴ - صفحه‌های ۱۵۶، ۱۵۷ و ۱۵۹)

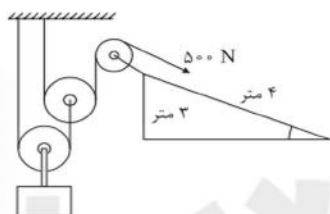
- (۱) برخی از خزندگان تنفس پوستی دارند.
 (۲) تمساح‌ها نمونه‌ای از سوسمارها هستند.
 (۳) شکل منقار در پرندگان نشان می‌دهد آنها چه می‌خورند.
 (۴) خرس‌ها نوعی از پستانداران گوشت‌خوار هستند.

۸۱- با توجه به مفاهیم فشار مایعات و گازها پاسخ دهید با ریختن آب درون کدام گزینه، ظرف مورد نظر سریع‌تر پر می‌شود؟ (اندازه ظرف‌ها برابر است).

(فصل ۸ - صفحه ۹۱)



- (۱) ۱
 (۲) ۲
 (۳) ۳
 (۴) ۴



۸۲- در ماشین مرکب داده‌شده با اعمال نیروی محرک ۵۰۰ نیوتونی به چه نیروی مقاومی می‌توان غلبه کرد؟ (از وزن قرقره‌ها و وجود نیروی اصطکاک صرف‌نظر شود).

(فصل ۹ - صفحه ۱۰۲)

- (۱) ۴۰۰۰N
 (۲) ۳۰۰۰N
 (۳) ۲۰۰۰N
 (۴) ۱۰۰۰N

۸۳- سیاره‌های فرضی A، B، C، D به دور ستاره فرضی X می‌چرخند. جدول زیر زمان گردش این سیاره‌ها به دور ستاره X را نشان می‌دهد. نزدیک‌ترین سیاره به سیاره B کدام گزینه است؟

(فصل ۱۰ - صفحه ۱۱۵)

نام سیاره	A	B	C	D
زمان گردش به دور ستاره X براساس روزهای زمین	۲۷۵۶ روز	۲۸۵۶۲ روز	۶۲۷ روز	۳۲۸۹۴ روز

- (۱) A (۲) B (۳) C (۴) D

(فصل ۱۲ - صفحه‌های ۱۳۵ و ۱۳۷)

۸۴- سرخس همانند دارای و برخلاف فاقد است.

- (۱) کاج - آوند - گندم - دانه
 (۲) خزه - آوند - ذرت - دانه
 (۳) نخود - دانه - خزه - آوند
 (۴) لوبیا - دانه - سرو - آوند

(فصل ۱۱ - صفحه ۱۲۴)

۸۵- تفاوت میان قورباغه و گنجشک برای نخستین بار در کدام سطح رده‌بندی مشاهده می‌شود؟

- (۱) شاخه (۲) رده (۳) راسته (۴) خانواده

ریاضی



(ترکیبی - فصل‌های ۱ و ۴)

۸۶- بزرگ‌ترین عضو مجموعه $\{x \in \mathbb{Z}, 3^x < \sqrt{13}\}$ کدام است؟

- (۱) ۱ (۲) -3 (۳) -2 (۴) ۷

(ترکیبی - فصل‌های ۱، ۲، ۴، ۵ و ۸)

۸۷- چندتا از جمله‌های زیر، صحیح می‌باشد؟

- اگر ارتفاع مخروطی را دو برابر کنیم، حجم آن دو برابر می‌شود.
 - اگر $a > 0$ و $b < 0$ آنگاه $ab < ab^2$ است.
 $\sqrt{\pi a^2}$ - یک جمله‌ای است.
 - دو مجموعه A و B برابرند هرگاه هر عضو A عضوی از B باشد.
 - نصف عدد $(-2)^{-3}$ برابر عدد $(-2)^{-4}$ است.

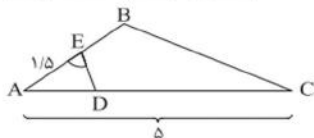
- (۱) ۲ (۲) ۳ (۳) ۴ (۴) ۵

(عددهای منطقی - درس ۳)

۸۸- با شرط $x < -3$ حاصل $|3-x| - \sqrt{x^2}$ کدام است؟

- ۳ (۱) $3x-3$ (۲) $3-3x$ (۳) -3 (۴)

۸۹- در شکل زیر E وسط ضلع AB و $\hat{E} = \hat{C}$ است. اگر دو مثلث ABC و AED متشابه باشند، با توجه به اندازه‌های روی شکل، اندازه DC کدام است؟ ($AE=1/5, AC=5$) (استدلال و اثبات در هندسه - درس ۵)



- ۴/۱ (۱)
۴/۵ (۲)
۰/۹ (۳)
۳ (۴)

۹۰- دو عدد $a = \frac{0.000...0169}{10^n}$ و $b = \frac{13.000...000}{10^n}$ را داریم. اگر حاصل $\frac{a}{b}$ را به شکل نماد علمی بنویسیم، آنگاه توان ۱۰ در این نمایش چند است؟ (توان و ریشه - درس ۲)

- $-2n$ (۱) $-2n-1$ (۲) $-2n-2$ (۳) $2n+1$ (۴)

۹۱- اگر حاصل عبارت $\sqrt{2^6} + \sqrt{2^7} - \sqrt{2^7} + 3 - \sqrt{2^7} + a+b$ مقدار ۵ برابر باشد، مقدار $a+b$ کدام گزینه می‌باشد؟ (توان و ریشه - درس‌های ۳ و ۴)

- ۱ (۱) ۵ (۲) -6 (۳) -1 (۴)

۹۲- اگر $x+y=3$ باشد، حاصل $\frac{x^2-3x}{3y-y^2}$ کدام است؟ (عبارت‌های جبری - درس ۲)

- ۲ (۱) -3 (۲) ۱ (۳) -1 (۴)

۹۳- اگر $x^2 - 3x - 12 = 0$ باشد، حاصل $(x-7)(x+4)$ کدام گزینه است؟ (عبارت‌های جبری - درس ۱)

- ۳۰ (۱) -16 (۲) -10 (۳) ۱۶ (۴)

۹۴- اگر مجموعه جواب نامعادله $\frac{3x-4}{5} > 2x+a$ به صورت $D = \{x \in \mathbb{R} | x < 3\}$ باشد، مقدار a کدام گزینه است؟ (عبارت‌های جبری - درس ۳)

- -5 (۱) -1 (۲) ۵ (۳) ۷ (۴)

۹۵- خطی داریم که از نقاط $\begin{bmatrix} 3 \\ m \end{bmatrix}$ و $\begin{bmatrix} 6 \\ -5 \end{bmatrix}$ می‌گذرد و با خط $3y+6x=7$ موازی است. مقدار m کدام است؟ (خط و معادله‌های قطبی - درس ۲)

- -1 (۱) -2 (۲) ۱ (۳) -11 (۴)

۹۶- اگر عبارت گویای $\frac{x+4}{x^2+ax+b}$ به ازای x مساوی -3 و 5 ، تعریف نشده باشد، حاصل ab کدام گزینه است؟ (تجزیه - فصل‌های ۴ و ۷)

- ۱۷ (۱) ۳۰ (۲) -30 (۳) -17 (۴)

۹۷- اگر خارج قسمت تقسیم $3x^2 - 2x^2 - 6x + a$ بر $x^2 + b$ برابر $3x - 2$ و باقی‌مانده برابر ۳ باشد، مقدار $a+b$ کدام است؟ (عبارت‌های گویا - درس ۳)

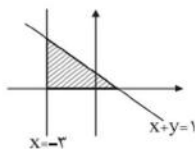
- ۵ (۱) -5 (۲) -1 (۳) ۹ (۴)

۹۸- اگر $(a, b \in \mathbb{Z})$ و $\frac{2^{a+b}}{3^{a-b}} = 9$ باشد، مقدار a کدام است؟ (توان و ریشه - درس ۱)

- ۱ (۱) -2 (۲) -1 (۳) ۲ (۴)

(خط و معادله‌های قطبی - درس ۳)

۹۹- در نمودار زیر مساحت قسمت هاشورزده کدام است؟



- ۲ (۱)
۴ (۲)
۶ (۳)
۸ (۴)

۱۰۰- شعاع قاعده یک مخروط با شعاع یک نیمکره مساوی و ارتفاع مخروط دو برابر شعاع قاعده‌اش است. نسبت حجم مخروط به حجم نیمکره برابر کدام گزینه است؟ (مجموع و مساحت - درس‌های ۱ و ۲)

- $\frac{1}{4}$ (۱) $\frac{1}{2}$ (۲) ۱ (۳) ۳ (۴)

پاسخنامه کلیدی آزمون نمونه دولتی استان مازندران ۱۴۰۱-۱۴۰۲

۱	<input type="checkbox"/>	<input type="checkbox"/>	<input type="checkbox"/>	<input checked="" type="checkbox"/>	۱۱	<input type="checkbox"/>	<input type="checkbox"/>	<input checked="" type="checkbox"/>	<input type="checkbox"/>	۲۱	<input checked="" type="checkbox"/>	<input type="checkbox"/>	<input type="checkbox"/>	<input type="checkbox"/>	۳۱	<input type="checkbox"/>	<input checked="" type="checkbox"/>	<input type="checkbox"/>	<input type="checkbox"/>
۲	<input type="checkbox"/>	<input type="checkbox"/>	<input checked="" type="checkbox"/>	<input type="checkbox"/>	۱۲	<input type="checkbox"/>	<input checked="" type="checkbox"/>	<input type="checkbox"/>	<input type="checkbox"/>	۲۲	<input type="checkbox"/>	<input type="checkbox"/>	<input checked="" type="checkbox"/>	<input type="checkbox"/>	۳۲	<input type="checkbox"/>	<input type="checkbox"/>	<input checked="" type="checkbox"/>	<input type="checkbox"/>
۳	<input checked="" type="checkbox"/>	<input type="checkbox"/>	<input type="checkbox"/>	<input type="checkbox"/>	۱۳	<input checked="" type="checkbox"/>	<input type="checkbox"/>	<input type="checkbox"/>	<input type="checkbox"/>	۲۳	<input checked="" type="checkbox"/>	<input type="checkbox"/>	<input type="checkbox"/>	<input type="checkbox"/>	۳۳	<input type="checkbox"/>	<input type="checkbox"/>	<input checked="" type="checkbox"/>	<input type="checkbox"/>
۴	<input type="checkbox"/>	<input type="checkbox"/>	<input checked="" type="checkbox"/>	<input type="checkbox"/>	۱۴	<input type="checkbox"/>	<input type="checkbox"/>	<input checked="" type="checkbox"/>	<input type="checkbox"/>	۲۴	<input type="checkbox"/>	<input type="checkbox"/>	<input checked="" type="checkbox"/>	<input type="checkbox"/>	۳۴	<input checked="" type="checkbox"/>	<input type="checkbox"/>	<input type="checkbox"/>	<input type="checkbox"/>
۵	<input type="checkbox"/>	<input checked="" type="checkbox"/>	<input type="checkbox"/>	<input type="checkbox"/>	۱۵	<input checked="" type="checkbox"/>	<input type="checkbox"/>	<input type="checkbox"/>	<input type="checkbox"/>	۲۵	<input type="checkbox"/>	<input checked="" type="checkbox"/>	<input type="checkbox"/>	<input type="checkbox"/>	۳۵	<input type="checkbox"/>	<input type="checkbox"/>	<input type="checkbox"/>	<input checked="" type="checkbox"/>
۶	<input checked="" type="checkbox"/>	<input type="checkbox"/>	<input type="checkbox"/>	<input type="checkbox"/>	۱۶	<input type="checkbox"/>	<input type="checkbox"/>	<input checked="" type="checkbox"/>	<input type="checkbox"/>	۲۶	<input type="checkbox"/>	<input type="checkbox"/>	<input checked="" type="checkbox"/>	<input type="checkbox"/>	۳۶	<input type="checkbox"/>	<input checked="" type="checkbox"/>	<input type="checkbox"/>	<input type="checkbox"/>
۷	<input type="checkbox"/>	<input type="checkbox"/>	<input type="checkbox"/>	<input checked="" type="checkbox"/>	۱۷	<input type="checkbox"/>	<input checked="" type="checkbox"/>	<input type="checkbox"/>	<input type="checkbox"/>	۲۷	<input checked="" type="checkbox"/>	<input type="checkbox"/>	<input type="checkbox"/>	<input type="checkbox"/>	۳۷	<input type="checkbox"/>	<input type="checkbox"/>	<input checked="" type="checkbox"/>	<input type="checkbox"/>
۸	<input type="checkbox"/>	<input type="checkbox"/>	<input checked="" type="checkbox"/>	<input type="checkbox"/>	۱۸	<input type="checkbox"/>	<input checked="" type="checkbox"/>	<input type="checkbox"/>	<input type="checkbox"/>	۲۸	<input type="checkbox"/>	<input type="checkbox"/>	<input type="checkbox"/>	<input checked="" type="checkbox"/>	۳۸	<input type="checkbox"/>	<input type="checkbox"/>	<input type="checkbox"/>	<input checked="" type="checkbox"/>
۹	<input checked="" type="checkbox"/>	<input checked="" type="checkbox"/>	<input type="checkbox"/>	<input type="checkbox"/>	۱۹	<input type="checkbox"/>	<input type="checkbox"/>	<input type="checkbox"/>	<input checked="" type="checkbox"/>	۲۹	<input type="checkbox"/>	<input type="checkbox"/>	<input checked="" type="checkbox"/>	<input type="checkbox"/>	۳۹	<input type="checkbox"/>	<input type="checkbox"/>	<input type="checkbox"/>	<input checked="" type="checkbox"/>
۱۰	<input type="checkbox"/>	<input checked="" type="checkbox"/>	<input type="checkbox"/>	<input type="checkbox"/>	۲۰	<input type="checkbox"/>	<input type="checkbox"/>	<input type="checkbox"/>	<input checked="" type="checkbox"/>	۳۰	<input type="checkbox"/>	<input checked="" type="checkbox"/>	<input type="checkbox"/>	<input type="checkbox"/>	۴۰	<input type="checkbox"/>	<input type="checkbox"/>	<input checked="" type="checkbox"/>	<input type="checkbox"/>

۴۱	<input type="checkbox"/>	<input checked="" type="checkbox"/>	<input type="checkbox"/>	<input type="checkbox"/>	۵۱	<input type="checkbox"/>	<input checked="" type="checkbox"/>	<input type="checkbox"/>	<input type="checkbox"/>	۶۱	<input type="checkbox"/>	<input checked="" type="checkbox"/>	<input type="checkbox"/>	<input type="checkbox"/>	۷۱	<input type="checkbox"/>	<input checked="" type="checkbox"/>	<input type="checkbox"/>	<input type="checkbox"/>
۴۲	<input type="checkbox"/>	<input checked="" type="checkbox"/>	<input type="checkbox"/>	<input type="checkbox"/>	۵۲	<input checked="" type="checkbox"/>	<input type="checkbox"/>	<input type="checkbox"/>	<input type="checkbox"/>	۶۲	<input checked="" type="checkbox"/>	<input type="checkbox"/>	<input type="checkbox"/>	<input type="checkbox"/>	۷۲	<input type="checkbox"/>	<input type="checkbox"/>	<input type="checkbox"/>	<input checked="" type="checkbox"/>
۴۳	<input type="checkbox"/>	<input checked="" type="checkbox"/>	<input type="checkbox"/>	<input type="checkbox"/>	۵۳	<input type="checkbox"/>	<input type="checkbox"/>	<input type="checkbox"/>	<input checked="" type="checkbox"/>	۶۳	<input type="checkbox"/>	<input type="checkbox"/>	<input type="checkbox"/>	<input checked="" type="checkbox"/>	۷۳	<input type="checkbox"/>	<input checked="" type="checkbox"/>	<input type="checkbox"/>	<input type="checkbox"/>
۴۴	<input type="checkbox"/>	<input type="checkbox"/>	<input checked="" type="checkbox"/>	<input type="checkbox"/>	۵۴	<input type="checkbox"/>	<input type="checkbox"/>	<input checked="" type="checkbox"/>	<input type="checkbox"/>	۶۴	<input type="checkbox"/>	<input type="checkbox"/>	<input checked="" type="checkbox"/>	<input type="checkbox"/>	۷۴	<input checked="" type="checkbox"/>	<input type="checkbox"/>	<input type="checkbox"/>	<input type="checkbox"/>
۴۵	<input type="checkbox"/>	<input type="checkbox"/>	<input checked="" type="checkbox"/>	<input type="checkbox"/>	۵۵	<input type="checkbox"/>	<input checked="" type="checkbox"/>	<input type="checkbox"/>	<input type="checkbox"/>	۶۵	<input type="checkbox"/>	<input checked="" type="checkbox"/>	<input type="checkbox"/>	<input type="checkbox"/>	۷۵	<input checked="" type="checkbox"/>	<input type="checkbox"/>	<input type="checkbox"/>	<input type="checkbox"/>
۴۶	<input type="checkbox"/>	<input type="checkbox"/>	<input checked="" type="checkbox"/>	<input type="checkbox"/>	۵۶	<input type="checkbox"/>	<input type="checkbox"/>	<input checked="" type="checkbox"/>	<input type="checkbox"/>	۶۶	<input type="checkbox"/>	<input type="checkbox"/>	<input checked="" type="checkbox"/>	<input type="checkbox"/>	۷۶	<input type="checkbox"/>	<input type="checkbox"/>	<input checked="" type="checkbox"/>	<input type="checkbox"/>
۴۷	<input type="checkbox"/>	<input checked="" type="checkbox"/>	<input type="checkbox"/>	<input type="checkbox"/>	۵۷	<input checked="" type="checkbox"/>	<input type="checkbox"/>	<input type="checkbox"/>	<input type="checkbox"/>	۶۷	<input type="checkbox"/>	<input checked="" type="checkbox"/>	<input type="checkbox"/>	<input type="checkbox"/>	۷۷	<input type="checkbox"/>	<input checked="" type="checkbox"/>	<input type="checkbox"/>	<input type="checkbox"/>
۴۸	<input type="checkbox"/>	<input type="checkbox"/>	<input type="checkbox"/>	<input checked="" type="checkbox"/>	۵۸	<input type="checkbox"/>	<input type="checkbox"/>	<input type="checkbox"/>	<input checked="" type="checkbox"/>	۶۸	<input type="checkbox"/>	<input type="checkbox"/>	<input checked="" type="checkbox"/>	<input type="checkbox"/>	۷۸	<input type="checkbox"/>	<input type="checkbox"/>	<input type="checkbox"/>	<input checked="" type="checkbox"/>
۴۹	<input checked="" type="checkbox"/>	<input type="checkbox"/>	<input type="checkbox"/>	<input type="checkbox"/>	۵۹	<input type="checkbox"/>	<input checked="" type="checkbox"/>	<input type="checkbox"/>	<input type="checkbox"/>	۶۹	<input type="checkbox"/>	<input type="checkbox"/>	<input type="checkbox"/>	<input checked="" type="checkbox"/>	۷۹	<input type="checkbox"/>	<input type="checkbox"/>	<input type="checkbox"/>	<input checked="" type="checkbox"/>
۵۰	<input type="checkbox"/>	<input type="checkbox"/>	<input type="checkbox"/>	<input checked="" type="checkbox"/>	۶۰	<input type="checkbox"/>	<input type="checkbox"/>	<input type="checkbox"/>	<input checked="" type="checkbox"/>	۷۰	<input type="checkbox"/>	<input type="checkbox"/>	<input checked="" type="checkbox"/>	<input type="checkbox"/>	۸۰	<input type="checkbox"/>	<input type="checkbox"/>	<input checked="" type="checkbox"/>	<input type="checkbox"/>

۸۱	<input type="checkbox"/>	<input type="checkbox"/>	<input checked="" type="checkbox"/>	<input type="checkbox"/>	۹۱	<input checked="" type="checkbox"/>	<input type="checkbox"/>	<input type="checkbox"/>	<input type="checkbox"/>
۸۲	<input type="checkbox"/>	<input type="checkbox"/>	<input checked="" type="checkbox"/>	<input type="checkbox"/>	۹۲	<input type="checkbox"/>	<input type="checkbox"/>	<input type="checkbox"/>	<input checked="" type="checkbox"/>
۸۳	<input type="checkbox"/>	<input type="checkbox"/>	<input checked="" type="checkbox"/>	<input type="checkbox"/>	۹۳	<input type="checkbox"/>	<input checked="" type="checkbox"/>	<input type="checkbox"/>	<input type="checkbox"/>
۸۴	<input checked="" type="checkbox"/>	<input type="checkbox"/>	<input type="checkbox"/>	<input type="checkbox"/>	۹۴	<input checked="" type="checkbox"/>	<input type="checkbox"/>	<input type="checkbox"/>	<input type="checkbox"/>
۸۵	<input type="checkbox"/>	<input checked="" type="checkbox"/>	<input type="checkbox"/>	<input type="checkbox"/>	۹۵	<input type="checkbox"/>	<input checked="" type="checkbox"/>	<input type="checkbox"/>	<input type="checkbox"/>
۸۶	<input type="checkbox"/>	<input checked="" type="checkbox"/>	<input type="checkbox"/>	<input type="checkbox"/>	۹۶	<input type="checkbox"/>	<input checked="" type="checkbox"/>	<input type="checkbox"/>	<input type="checkbox"/>
۸۷	<input type="checkbox"/>	<input checked="" type="checkbox"/>	<input type="checkbox"/>	<input type="checkbox"/>	۹۷	<input checked="" type="checkbox"/>	<input type="checkbox"/>	<input type="checkbox"/>	<input type="checkbox"/>
۸۸	<input type="checkbox"/>	<input type="checkbox"/>	<input type="checkbox"/>	<input checked="" type="checkbox"/>	۹۸	<input type="checkbox"/>	<input type="checkbox"/>	<input checked="" type="checkbox"/>	<input type="checkbox"/>
۸۹	<input checked="" type="checkbox"/>	<input type="checkbox"/>	<input type="checkbox"/>	<input type="checkbox"/>	۹۹	<input type="checkbox"/>	<input type="checkbox"/>	<input type="checkbox"/>	<input checked="" type="checkbox"/>
۹۰	<input type="checkbox"/>	<input type="checkbox"/>	<input checked="" type="checkbox"/>	<input type="checkbox"/>	۱۰۰	<input type="checkbox"/>	<input type="checkbox"/>	<input checked="" type="checkbox"/>	<input type="checkbox"/>

تیزلاین، آکادمی به وسعت ایران