



# آکادمی آنلاین تیزلاین قوی ترین پلتفرم آموزشی تیز هوشان

برگزار کننده کلاس های آنلاین و حضوری تیز هوشان ✓

و المپیاد از پایه چهارم تا دوازدهم

آزمون های آنلاین و حضوری ✓

مشاوره تخصصی ✓

با اسکن QR کد روبرو  
وارد صفحه اینستاگرام  
آکادمی تیزلاین شو و از  
محتوای آموزشی  
رایگان لذت ببر



برای ورود به صفحه اصلی سایت آکادمی تیزلاین کلیک کنید

برای دانلود دفترچه آزمون های مختلف برای هر پایه کلیک کنید

برای مطالعه مقالات بروز آکادمی تیزلاین کلیک کنید

قرآن و پیام‌های آسمان



- ۱- در کدام گزینه هر دو کلمه صحیح ترجمه شده است؟
  - (۱) یَأْتِي، شَرَعَ: می‌آید/ شریعت
  - (۲) فَانزِلْ، بَيَان: رستگار/ روشن
  - (۳) قَدْر، أَحْذَنَّا: اندازه، مجازات کردیم
  - (۴) نَجْم، ذِكْر: علف/ پنددهنده
- ۲- با توجه به کلمه مقابل هر عبارت، کدام عبارت قرآنی درست تکمیل می‌شود؟
  - (۱) وَلَا تَرِدِ الظَّالِمِينَ إِلَّا ..... (مُسْمَى)
  - (۲) تَبَارَكَ الَّذِي بَدَّه ..... (سَبْحًا)
  - (۳) مَنْ يَتَّقِ اللَّهَ يَجْعَلْ لَهُ ..... (مَحْرَجًا)
  - (۴) وَ إِلَى الجِبَالِ كَيْفَ ..... (سَطِخَتْ)
- ۳- در گزینه‌های زیر کدام رابطه درست نیست؟
  - (۱) سَاءَ مَا يَحْكُمُونَ ← ویژگی مهم فقیهان
  - (۲) أَنْزَلَ السَّكِينَةَ فِي قُلُوبِ الْمُؤْمِنِينَ ← از آثار عمل انفاق
  - (۳) لَا يَسْخَرُونَ قَوْمًا مِنْ قَوْمٍ ← نهی از منکر
  - (۴) لَقَدْ أَرْسَلْنَا رُسُلَنَا بِالْبَيِّنَاتِ ← الگو قرار دادن مؤمنان
- ۴- کدام عبارت بهتر ترجمه شده است؟
  - (۱) إِنْ شَاءَ اللَّهُ: اگر خدا خواست
  - (۲) أَمْ نَحْنُ الزَّالِمُونَ: یا ما می‌روانیم
  - (۳) بِأَمْوَالِكُمْ وَأَنْفُسِكُمْ: به مال‌ها و جان‌های شما
  - (۴) لِيَعْلَمَ اللَّهُ مَنْ يَنْصُرُهُ: تا بداند خدا کسی که او را یاری می‌کند
- ۵- مفهوم آیات زیر به ترتیب در کدام گزینه آمده است؟
 

﴿لَقَدْ يَسَّرْنَا الْقُرْآنَ لِلذِّكْرِ﴾ - ﴿أَنْزَلْنَا مَعَهُمُ الْكِتَابَ وَ الْمِيزَانَ﴾ - ﴿وَ زَلَّلْنَا الْقُرْآنَ تَرْتِيلًا﴾

  - (۱) گفتار روان و آسان خداوند - فرستادن رسولان با کتاب و معیار - صوت آهنگین و زیبایی آیات
  - (۲) گفتار روان و آسان کتاب خدا - آرام و با دقت خواندن قرآن - نزول قرآن و معیار عدالت
  - (۳) آسانی تمام کارها با خواندن قرآن - نزول ابزار برپاداشتن عدالت - زیبایی تلاوت آیات قرآن
  - (۴) گفتار روان و آسان کتاب خدا - فرستادن رسولان با کتاب و معیار - آرام و با دقت خواندن قرآن
- ۶- در کدام یک از عبارات قرآنی فقط یک کلمه نادرست ترجمه شده است؟
  - (۱) أَنْ عِبَدُوا اللَّهَ وَ اتَّقَوْهُ وَ اطِيعُوا: قطعاً خدا را عبادت کنید و تقوی او را داشته باشید و اطاعت کنید.
  - (۲) يَرْزُقُهُ مِنْ حَيْثُ لَا يَحْتَسِبُ: او روزی‌دهنده است، از جایی که حساب نمی‌کند.
  - (۳) سَيَجْعَلُ اللَّهُ بَعْدَ عَشْرٍ يُشْرًا: خداوند بعد از هر آسانی، سختی را قرار خواهد داد.
  - (۴) فَإِذَا قُضِيَتِ الصَّلَاةُ فَانْتَشِرُوا فِي الْأَرْضِ: پس زمانی که نماز را برپا داشتند پس در زمین پراکنده شوید.
- ۷- کدام گزینه به بهترین راه شناخت صفات خداوند اشاره دارد؟
  - (۱) إِنَّا أَنْزَلْنَاهُ فِي لَيْلَةِ مُبَرَّكَةٍ
  - (۲) أَلَمْ نَجْعَلِ الْأَرْضَ مِهَادًا
  - (۳) وَ النَّجْمُ وَ الشَّجَرُ يَسْجُدَانِ
  - (۴) وَ فِي أَنْفُسِكُمْ أَفَلَا تُبْصِرُونَ
- ۸- کدام گزینه صحیح است؟
  - (۱) هر زمان آگاهی کامل به موضوعی پیدا کردیم، می‌توانیم آن را انجام دهیم.
  - (۲) خواندن و عمل به قرآن، راهی است که شوق انجام صالحات را ایجاد می‌کند.
  - (۳) ایمان، شناخت و آگاهی از یک مطلب است که برای عمل به آن کافی است.
  - (۴) برای ورزش کردن برنامه‌ریزی نمی‌کنیم زیرا فواید آن را نمی‌دانیم.
- ۹- کدام گزینه صحیح نیست؟
  - (۱) رابطه بین شناخت امام (ع) و انتظار ظهور یک رابطه دوسویه است.
  - (۲) وظیفه اصلی یاران امام زمان (ع)، دعا برای دیدار امام زمان (ع) است.
  - (۳) فهم و ایمان انسان‌ها، پس از ظهور به مرحله رشد خود می‌رسد.
  - (۴) برای رهایی جهان از وضعیت نامطلوب، ظهور منجی ضروری است.



- ۱۰- کدام مورد در انتخاب دوست از اهمیت بیشتری برخوردار است؟  
 (۱) معیار انتخاب دوست (۲) زمان انتخاب دوست (۳) حدود و وظایف دوستی (۴) نیاز داشتن یا نداشتن به دوست  
 (پیام‌های آسمان - درس ۸)
- ۱۱- کدام عبارت قرآنی با مهم‌ترین ثمره انقلاب اسلامی ارتباط دارد؟  
 (۱) وَ لَا تَهْتُوا وَ لَا تَحْزِنُوا وَ أَنْتُمْ الْأَعْلَوْنَ إِنْ كُنْتُمْ مُؤْمِنِينَ  
 (۲) وَ لَا يَزَالُونَ يُقَاتِلُونَكُمْ حَتَّى تَرُدُّوكُمْ عَنْ دِينِكُمْ  
 (۳) فَلَهُمْ أَجْرُهُمْ عِنْدَ رَبِّهِمْ وَ لَا خَوْفٌ عَلَيْهِمْ وَ لَا هُمْ يَحْزَنُونَ  
 (۴) وَ الْمُؤْمِنُونَ وَ الْمُؤْمِنَاتُ بَعْضُهُمْ أَوْلِيَاءُ بَعْضٍ  
 (پیام‌های آسمان - درس‌های ۹، ۱۰ و ۱۱)
- ۱۲- «فوز عظیم» بیانگر کدام عبادت ارزشمند است که در قرآن از آن به دادوستد پرسود یاد شده است؟  
 (۱) امر به معروف و نهی از منکر (۲) انفاق (۳) نماز (۴) جهاد فی سبیل‌الله  
 (پیام‌های آسمان - درس ۱۱)
- ۱۳- «جامعه مانند کشتی و مردم همچون سرنشینان کشتی‌اند» تشبیه پیامبر در این سخن بیانگر کدام یک از مسئولیت‌های الهی می‌باشد؟  
 (۱) رهبری و هدایت جامعه (۲) امر به معروف و نهی از منکر (۳) دفع خطرات احتمالی (۴) رعایت عدالت اجتماعی  
 (پیام‌های آسمان - درس ۱۰)
- ۱۴- علی در هفته کتاب و کتابخوانی تعدادی از کتاب‌های کمک آموزشی خود را برای استفاده دانش‌آموزان به کتابخانه مدرسه اهدا کرد. او موفق به انجام کدام یک از انفاق‌های واجب یا مستحب شده است؟  
 (۱) صدقه (۲) وقف (۳) زکات (۴) قرض  
 (پیام‌های آسمان - درس ۱۱)
- ۱۵- انجام کدام یک از کارهای زیر در صورتی که سهوی باشد، نماز را باطل نمی‌کند؟  
 (۱) روی برگرداندن از قبله (۲) به هم زدن صورت نماز (۳) کم یا زیاد کردن ارکان نماز (۴) حرف زدن بین نماز  
 (پیام‌های آسمان - درس ۷)
- عیب**
- ۱۶- برای سؤال «مَنْ أَنْتَ؟» کدام پاسخ صحیح نیست؟  
 (۱) أنا طالبٌ. (۲) أنا حمیدٌ.  
 (۳) أنا صدیقٌ. (۴) أنا فی الضَّفِّ.  
 (قواعد - پایه هفتم)
- ۱۷- در کدام گزینه همه کلمات با هم ارتباط معنایی دارند؟  
 (۱) عام، شهر، أسبوع، أسرة  
 (۲) زمیل، تلمیذ، طالب، شارع  
 (۳) غمّال، معمول، اعمال، معامله  
 (۴) شایع، مشهود، مشهد، شهادة  
 (تذکره - ترکیبی)
- ۱۸- در کدام گزینه همه کلمات هم‌ریشه نیستند؟  
 (۱) غمّال، معمول، اعمال، معامله  
 (۲) ترحیم، محرم، محروم، حرام  
 (۳) شایع، مشهود، مشهد، شهادة  
 (۴) مُشاة، ماشی، یمشون، أمشی  
 (قواعد - درس ۲)
- ۱۹- کدام گروه از کلمات هم‌وزن هستند؟  
 (۱) مصنوع، مخلوق، غفور (۲) انکسار، اشتغال، انفجار  
 (۳) خاتم، عالم، هاجر (۴) سعادة، عبادة، شقاوة  
 (تذکره - ترکیبی)
- ۲۰- کدام یک از جملات داده‌شده درست ترجمه شده است؟  
 (۱) أنا أذهب إلى السوق و أرجع مساءً: من به بازار می‌روم و عصر برخواهم گشت.  
 (۲) حَزَنَ الطَّلَابُ وَ قَالُوا: «فَقَدْ نَا سَفِينَتَنَا»: دانشجویان اندوهگین شدند و گفتند: «کشتی‌مان از دست رفت.»  
 (۳) أَلْحَيَاءُ حَسَنٌ وَلَكِنْ فِي الشَّبَابِ أَحْسَنُ: شرم و حیا خوب، ولی در جوانان بهتر است.  
 (۴) كان أخي الأصغر يكتب واجباته: برادر کوچکم تکالیفش را می‌نویسد.  
 (تذکره - ترکیبی)
- ۲۱- در کدام گزینه همه واژه‌ها درست ترجمه شده است؟  
 (۱) تَمَن: بهاء، التزام، پابندی، انبیا: توجه  
 (۲) عندما: نزد، یلوم: سرزنش می‌کند، رائحة: بو  
 (۳) طَرَدَ: راند، اِسْتَلَمَ: سلام داد، ما كَانَتْ عِنْدِي: نداشتم  
 (۴) پتر: گودال، تحرير: نوشتن، رائد: جلودار  
 (تذکره - ترکیبی)
- ۲۲- در کدام گزینه همه کلمات با فعل داده‌شده ارتباط معنایی ندارد؟  
 (۱) مُسْتَوْصَف، طیب، مریض (فَحَص)  
 (۲) سِتارة الأجرة، نقود، زُوار (اركبوا)  
 (۳) مطبوعة، طبّاخ، غداء (يَطْبَخ)  
 (۴) حاوّل، نَشِيط، طالبٌ مُجِدّدٌ (سَيُجَجِّح)  
 (تذکره - ترکیبی)



۰۲۱-۹۱۳۰۲۲۰۲ \* ۰۲۱-۴۴۱۳۶۹۷۵

Tizline.ir

۰۹۳۳۳۸۴۰۲۰۲

تیزلاین منبع معتبر تیزهوشان

سامانه پیامکی: ۹۰۰۰۱۶۲۰



- ۲۳- افعال موجود در جمله زیر به ترتیب چه نوع فعلی هستند؟  
«قَالَتِ الْمُدْرَسَةُ لِلْبَنَاتِ لَا تَضْحَكْنَ، لِمَاذَا لَا تَسْمَعْنَ؟ اِسْمَعْنَ.»  
(۱) ماضی - نفی - امر (۲) ماضی - نهی - نفی - امر  
(۳) ماضی - مضارع - نهی - امر (۴) ماضی - نهی - نهی - امر  
(قواعد - ترکیبی)
- ۲۴- در کدام گزینه فعل امر وجود ندارد؟  
(۱) إِذَا قَدَّرْتَ عَلَى عَدْوَلِكَ، فَاجْعَلِ الْعَفْوُ عَنْهُ شُكْرًا لِلْقُدْرَةِ ...  
(۲) لَقَدْ عَرَفْتُ أَنَّكُمْ مُتَدَبِّرُونَ، لِهَذَا أَطْلُبُ مِنْكُمْ سَبِيحِينَ.  
(۳) زَجَاءَ أَطْلُبُوا مِنِّي ثَمَّنِ الْأَضْرَارِ.  
(۴) يَا بِنْتِي إِضْحَكِي لِلْحَيَاةِ لَا تَحْزَنِي أَنْتِ فَائِزَةٌ.  
(قواعد - درس‌های ۳ و ۱۴)
- ۲۵- با توجه به جمله داده شده در کدام گزینه، موصوف و صفت و مضاف و مضاف‌الیه درست بیان شده است؟  
«إِخْتَرَعَ إِدِيسُونُ أَكْثَرَ مِنْ أَلْفِ إِخْتِرَاعٍ مِنْهَا الْمِصْبَاحُ الْكَهْرِبَاتِيّ وَ مَسَجَلُ الْمَوْسِيقَى وَ الصُّوْرُ الْمَتَحَرِّكَةُ وَ بَطَارِيَّةُ السِّيَارَةِ.»  
(۱) الصُّوْرُ: موصوف / السِّيَارَةِ: مضاف‌الیه (۲) أَلْفٍ: مضاف‌الیه / مِنْهَا: صفت  
(۳) إِخْتِرَاعٍ: مضاف / المِصْبَاحُ: موصوف (۴) مَسَجَلُ: موصوف / الْمَتَحَرِّكَةُ: صفت  
(قواعد - درس ۷)
- ۲۶- در کدام گزینه به ترتیب، جمع سالم مؤنث، جمع سالم مذکر و جمع مکسر آمده است؟  
(۱) أَيْبَات، عَيْون، أَوْراق (۲) حَسَنَات، بَسَاتين، أَنْوار  
(۳) سَيِّدَات، مُتَدَبِّرِينَ، صِعَاب (۴) نَبَات، قَوَانين، خَوَانِج  
(قواعد - پایه هفتم)
- ۲۷- يوماً قَبْلَ الْإِثْنَيْنِ وَ بَعْدَ السَّبْتِ؟  
(۱) الأَحَد (۲) الخَمِيس  
(۳) الثَّلَاثاء (۴) الأَرْبَعاء  
(ترجمه - پایه هفتم)
- ۲۸- کدام یک از توضیحات زیر صحیح نیست؟  
(۱) مَحَلٌّ: مکان للبيع و الشَّرَاءِ.  
(۲) عَجَزَتْ: أَسْرَتْهُ عَنْ دَفْعِ نَفَقَاتِ دِرَاسَتِهِ.  
(۳) الحَطَبُ: نَتِيجَةُ إِحْتِرَاقِ الخَشَبِ وَ غَيْرِهِ.  
(۴) سَاعَدَتْ: أَخِي الكَبِيرَةَ جَدَّتْنَا.  
(ترجمه - ترکیبی)
- ۲۹- کدام ترجمه صحیح است؟  
(۱) سَجَعْنَا قَرِيبًا الْفَائِزِ فِي نِهَائَةِ الْمُسَابَقَةِ.  
(۲) عَجَزَتْ أَسْرَتْهُ عَنْ دَفْعِ نَفَقَاتِ دِرَاسَتِهِ.  
(۳) بَلَكَ سَفِينَةً حَرَبِيَّةً تَقَرَّبَ مِنَّا.  
(۴) سَاعَدَتْ أَخِي الكَبِيرَةَ جَدَّتْنَا.  
(ترجمه - ترکیبی)
- ۳۰- جملات در کدام گزینه درست ترجمه شده است؟  
(۱) وَ مَا ظَلَمَهُمُ اللهُ وَ لَكِنْ كَانُوا أَنْفُسَهُمْ يَظْلِمُونَ؛ وَ خِدا به آنها ستم نکرد، ولی خود به خویشان ستم کردند.  
(۲) كَانَ قَرِيبٌ مِنْهُمْ يَسْمَعُونَ كَلَامَ اللهِ ... : گروهی از آنها سخن خداوند را می‌شنوند ...  
(۳) كَانَ التَّلَامِيذُ يَرْكَبُونَ حَافِلَةَ الْمُدْرَسَةِ؛ دانش‌آموزان سوار اتوبوس مدرسه شده بودند.  
(۴) كَانَ الطَّيَارُونَ فِي الخَرْبِ الْعَالَمِيَّةِ الثَّانِيَةِ يَتَنَاوَلُونَ فِيتَامِينَ «A»؛ خلبانان در جنگ جهانی دوم ویتامین «A» می‌خوردند.  
(ترجمه - ترکیبی)
- ۳۱- در واژه‌های زیر، چند غلط املایی وجود دارد؟  
«مات و مبهوت، استراق سمع، قوس قزح، لعن و هجو، سنگین ترین مصائب، قهطی عظیم، فراست و زیرکی، خوشحالی و خورسندی»  
(۱) یک (۲) دو (۳) سه (۴) چهار  
(املا - ترکیبی)
- ۳۲- معنی واژه مشخص شده در کدام گزینه به درستی بیان شده است؟  
(۱) گلزار ز عیش لاله‌باران شد (شادی)  
(۲) آب زیند راه را هین که نگار می‌رسد (نقاشی)  
(۳) به عقیبی همین چشم داریم نیز (دنیا)  
(۴) جهان، جمله فروغ روی حق دان (سخن)  
(واژگان - ترکیبی)
- ۳۳- رابطه واژه‌ها، در کدام گزینه با بقیه متفاوت است؟  
(۱) فروزان، بی‌فروغ (۲) تواضع، تکبر  
(۳) سرور، شادمانی (۴) دولت‌مند، درویش  
(واژگان - درس ۸)



۰۲۱-۹۱۳۰۲۲۰۲ \* ۰۲۱-۴۴۱۳۶۹۷۵

Tizline.ir

۰۹۳۳۳۸۴۰۲۰۲



(دانش زبانی - درس ۱۶)

۳۴- واژه‌های کدام گزینه از نظر ساختمان به ترتیب، ساده، وندی و مرکب هستند؟

- ۱) اشکبار، نقره‌فام، دیدار
- ۲) غمناک، سیمگون، گلبرگ
- ۳) جهالت، آرزومند، نامدار
- ۴) شاهکار، سحرگاه، پیرمرد

(دانش ادبی - درس ۹)

۳۵- مفهوم صحیح عبارت «تو می‌خواهی بخوانی و من می‌خواهم بدانم» در کدام گزینه آمده است؟

- ۱) خواستن بهتر از خواندن است.
- ۲) خواندن بهتر از خواستن است.
- ۳) دانستن بهتر از خواستن است.
- ۴) دانستن بهتر از خواندن است.

(دانش زبانی - درس‌های ۲ و ۴)

۳۶- در کدام گزینه، هم وابستهٔ پسین و هم وابستهٔ پیشین دیده می‌شود؟

- ۱) تو از عجایب این، غافل که خانه بس بزرگ است و چشم تو بس مختصر.
- ۲) امتحانات، بزرگ‌ترین دیوهای وحشتناک زندگی دانشگاهی من بودند.
- ۳) سال‌های عمر پیرمرد به هفتادوهفت رسیده بود و تن رنجورش رمقی نداشت.
- ۴) اگر دربارهٔ چیزی که به آن علم نداری از تو پرسیده شود بگو نمی‌دانم.

(دانش ادبی - ترکیبی)

۳۷- مفهوم همهٔ گزینه‌ها به درستی بیان شده به جز گزینهٔ .....

- ۱) رابعه همه شب نماز کردی و تا روز برپای بودی. (رابعه شب و روز عبادت می‌کرد).
- ۲) داعیه‌ای در باطن من پدید آمد. (انگیزه‌ای در درون من به وجود آمد).
- ۳) گوهر تن از گوهر اصل بهتر بود. (بزرگی خرد و دانش راست نه گوهر را).
- ۴) کشتی‌ها به گیل نشستند. (تمامی کارها یکجا متوقف گردید).

(دانش ادبی - درس ۶)

۳۸- با توجه به رباعی زیر، همهٔ گزینه‌ها صحیح است به جز گزینهٔ .....

- «کم گوی و به جز مصلحت خویش مگوی  
دادند دو گوش و یک زبانت ز آغاز  
۱) آدمی باید که بسیار نگوید.  
۲) چیزی را که از غیر او پرسند جواب نگوید.  
۳) چیزی که نپرسند تو از پیش مگوی  
یعنی که دو بشنو و یکی پیش مگوی»  
۴) در محاورات دیگران خوض ننماید.  
۵) استماع باید از نطق زیادت باشد. (نطق: کلام)

(تاریخ ادبیات - ترکیبی)

۳۹- نام نویسندگان کتاب‌های «حقیقة الحقیقه، تذکرة الاولیا، چهار مقاله و کیمیای سعادت» به ترتیب عبارت‌اند از:

- ۱) سنایی، عطار، نظامی گنجوی، محمد غزالی
- ۲) سنایی، عطار، نظامی عروضی، محمد غزالی
- ۳) عطار، سنایی، نظامی عروضی، محمد غزالی
- ۴) سنایی، عطار، عنصرالمعالی، احمد غزالی

(دانش ادبی - ترکیبی)

۴۰- آرایه‌های ادبی مقابل کدام گزینه نادرست است؟

- ۱) کودکی از دامن این موج بیرون جست
  - ۲) مکن کاری که بر پا سنگت آید
  - ۳) عزیز مصر به رغم برادران غیور
  - ۴) ندانسی که ایران نشست من است
- از کمنند آرزوها رسست (جناس - تشبیه)  
جهان با این فراخی تنگت آید (جناس - کنایه)  
ز قعر چاه برآمد به اوج ماه رسید (تلمیح - تضاد)  
جهان سر به سر زیر دست من است (تشبیه - کنایه)

(دانش زبانی - درس ۱۴)

۴۱- واژهٔ «امروز» در کدام گزینه نقش قیدی دارد؟

- ۱) بی‌گمان امروز/ فصلی از تکرار تاریخ است
- ۲) خواسته‌های امروزت را جامعهٔ عمل بیوشان.
- ۳) امروز را غنیمت بدان و رایگان از دست مده.
- ۴) آن نوجوانان، امروز به سرچشمهٔ جاودانگی رسیده‌اند.

(دانش ادبی - درس ۸)

۴۲- کدام گزینه با بقیه، ارتباط معنایی کمتری دارد؟

- ۱) به نزد مهان و به نزد کهان
  - ۲) به جان زنده‌دلان سعدیا که ملک وجود
  - ۳) اقوام روزگار به اخلاق زنده‌اند
  - ۴) تا توانی دلی به دست آور
- به آزار موری نیرزد جهان  
نیرزد آن‌کس دلی را ز خود بیسازاری  
قومی که گشت فاقد اخلاق مردنی است  
دل شکستن هنر نمی‌باشد



۰۲۱-۹۱۳۰۲۲۰۲ \* ۰۲۱-۴۴۱۳۶۹۷۵



Tizline.ir



۰۹۳۳۳۸۴۰۲۰۲



(دانش زبانی - درس ۶)

۴۳- زمان فعل‌های مشخص شده در عبارت زیر به ترتیب در کدام گزینه آمده است؟

«اگر در خانه‌ای شوی که به نقش و گچ کنده کرده باشند، روزگاری دراز صفت آن گویی.»

- (۱) مضارع التزامی - مضارع اخباری  
 (۲) مضارع التزامی - مضارع التزامی  
 (۳) مضارع اخباری - مضارع اخباری  
 (۴) مضارع اخباری - مضارع التزامی

(دانش زبانی - نیاپیش)

۴۴- نقش دستوری ضمیرهای شخصی به کاررفته در بیت زیر، به ترتیب در کدام گزینه به درستی بیان شده است؟

- «بسه لطفم بخوان و مهران از درم»  
 (۱) مفعول، مفعول، مضاف‌الیه، مضاف‌الیه  
 (۲) مضاف‌الیه، مفعول، مفعول، مضاف‌الیه، مفعول  
 (۳) متمم، مضاف‌الیه، مضاف‌الیه، مضاف‌الیه  
 (۴) متمم، متمم، مضاف‌الیه، مضاف‌الیه

(دانش ادبی - درس ۱۶)

۴۵- عبارت «هم‌نشین نیک بهتر از تنهایی است و تنهایی بهتر از هم‌نشین بد است.» با کدام گزینه ارتباط معنایی کمتری دارد؟ (دانش ادبی - درس ۱۶)

- (۱) تا توانی می‌گریز از یار بد  
 (۲) دشمن دانا که غم جان بود  
 (۳) دشمن دانا بلندت می‌کند  
 (۴) دوست آن باشد که گیرد دست دوست  
 یار بد بدتر بود از مار بد  
 بهتر از آن دوست که نادان بود  
 بر زمینت می‌زند نادان دوست  
 در پریشان‌حالی و درماندگی

مطالعات اجتماعی



۴۶- بخشی از آیه ۲۲ سوره بقره که می‌فرماید «زمین را بستر شما قرار داد و آسمان را همچون سقفی بر بالای سر شما بفراشت و از آسمان آبی فرو فرستاد...» به ترتیب به کدام یک از محیط‌های کره زمین اشاره می‌نماید؟

(درس ۳۰ - صفحه ۱۶)

- (۱) هیدروسفر - لیتوسفر - اتمسفر  
 (۲) اتمسفر - هیدروسفر - لیتوسفر  
 (۳) بیوسفر - اتمسفر - هیدروسفر  
 (۴) لیتوسفر - اتمسفر - هیدروسفر

۴۷- فدراسیون فوتبال ایران، برای آماده‌سازی تیم ملی در بازی‌های جام جهانی قطر، برنامه‌ریزی نموده است که در شهر بوئنوس آیرس با تیم ملی آرژانتین یک بازی تدارکاتی برگزار نماید. اگر از شهر ارومیه (شهر مبدأ) که در مختصات حدود  $37^{\circ} N$  و  $45^{\circ} E$  قرار دارد، ساعت ۸ صبح روز دوشنبه اول تابستان به طرف بوئنوس آیرس که دارای مختصات حدود  $35^{\circ} S$  و  $6^{\circ} W$  می‌باشد، حرکت کنند، در زمان حرکت بازیکنان تیم ایران باید ساعت و تقویم خود را به چه صورت تنظیم نمایند؟

(درس ۷ - صفحه‌های ۱۰ و ۱۱)

- (۱) ساعت ۱۵ دوشنبه اول تیرماه  
 (۲) ساعت یک پامداد دوشنبه اول دی‌ماه  
 (۳) ساعت ۱۵ دوشنبه اول دی‌ماه  
 (۴) ساعت یک پامداد دوشنبه اول تیرماه

(درس ۴ - صفحه ۷۵)

۴۸- در دی‌ماه میانگین دمای استکهلم  $(-6)$  و رم  $(+6)$  است. علت اختلاف دمای این دو شهر چیست؟

- (۱) زاویه تابش خورشید و عرض جغرافیایی  
 (۲) ارتفاع از سطح زمین و فشار هوا  
 (۳) دوری و نزدیکی به اقیانوس‌ها و دریاها  
 (۴) قرار گرفتن در مسیر جریان‌های دریایی



(درس ۵ - صفحه‌های ۳۳ و ۳۴)

- (۲) درختان کاج و بائوباب از جمله گونه‌های این منطقه‌اند.  
 (۴) خاستگاه اولیه بسیاری از درختان میوه جهان بوده است.

۴۹- کدام گزینه درباره زیست‌بوم تایگا درست است؟

- (۱) در قاره‌های آسیا، اروپا، آمریکا و آفریقا گسترش یافته است.  
 (۳) بخش عمده‌ای از چوب نرم برای کاغذ را تأمین می‌کند.



۰۲۱-۹۱۳۰۲۲۰۲ \* ۰۲۱-۴۴۱۳۶۹۷۵



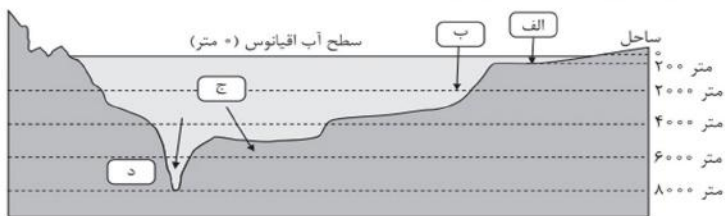
Tizline.ir



۰۹۳۳۳۸۴۰۲۰۲



(درس ۴ - صفحه‌های ۲۱ و ۲۲)



- الف (۱)
- ب (۲)
- ج (۳)
- د (۴)

(ترکیبی - درس‌های ۹ و ۱۰ و ۱۱)

۵۱- کدام گزینه صحیح می‌باشد؟

- ۱) با به قدرت رسیدن خاندان زند نفوذ تجاری و نظامی انگلستان در ایران بیشتر شد.
- ۲) نادر با تأسیس نیروی دریایی پرتغالی‌ها را از سواحل و جزایر ایران بیرون راند.
- ۳) در نتیجه موفقیت‌های سیاسی شاه عباس، قلمرو ایران به قلمرو دوره ساسانیان رسید.
- ۴) دوره صفویه یکی از دوره‌های قابل توجه در تاریخ ادبیات و شعر فارسی است.

(درس ۱۵ - صفحه‌های ۹۹ و ۱۰۰)

۵۲- امام خمینی پس از مخالفت با کدام یک از اقدامات زیر به ترکیه تبعید شدند؟

- ۱) تصویب‌نامه انجمن‌های ایالتی و ولایتی
- ۲) اصول شش‌گانه (انقلاب سفید)
- ۳) تصویب لایحه کاپیتولاسیون (قضاوت‌سیاری)
- ۴) سرکوب مردم در ۱۵ خرداد ۱۳۴۲

(ترکیبی - درس‌های ۱۳ و ۱۴)

۵۳- کدام یک از جمله‌های زیر صحیح می‌باشد؟

- الف) در جنگ جهانی اول، ایتالیا و ژاپن با پیوستن به آلمان، دولت‌های متحدین را تشکیل دادند.
- ب) در جریان تحصن مردم در سفارت انگلیس، بسیاری برای اولین بار با واژه مشروطه آشنا شدند.
- ج) براساس قرارداد ۱۹۰۷ اداره امور مالی و نظامی ایران در اختیار کارشناسان انگلیس قرار می‌گرفت.
- د) امتیاز بهره‌برداری از منابع نفت ایران در زمان حکومت مظفرالدین شاه به انگلیسی‌ها واگذار شد.

- الف - ج (۱)
- ب - د (۲)
- الف - ب (۳)
- ب - ج (۴)

(درس ۱۶ - صفحه‌های ۷۶، ۷۷ و ۷۹)

۵۴- کدام یک از اقدامات زیر مربوط به عباس میرزا است؟

- ۱) قطع نفوذ روسیه و انگلستان و حفظ استقلال کشور ایران
- ۲) مبارزه با مفاسد اداری و اقتصادی و نوسازی تشکیلات حکومتی
- ۳) ترجمه کتاب‌هایی درباره موضوع تاریخ کشورهای اروپایی
- ۴) تأسیس مدارس براساس روش‌های جدید تعلیم و تربیت عمومی

(درس ۱۶ - صفحه ۱۰۵)

۵۵- پس از همه‌پرسی نظام سیاسی، روند تأسیس نظام جمهوری اسلامی به ترتیب چگونه بوده است؟

- ۱) تدوین و تصویب قانون اساسی - انتخابات ریاست جمهوری - انتخابات مجلس شورای اسلامی - تعیین هیئت دولت
- ۲) انتخابات ریاست جمهوری - تعیین هیئت دولت - تدوین و تصویب قانون اساسی - انتخابات مجلس شورای اسلامی
- ۳) انتخابات مجلس شورای اسلامی - انتخابات ریاست جمهوری - تعیین هیئت دولت - تدوین و تصویب قانون اساسی
- ۴) تدوین و تصویب قانون اساسی - انتخابات مجلس شورای اسلامی - انتخابات ریاست جمهوری - تعیین هیئت دولت

۵۶- در جامعه ما، فردی که در ماه مبارک رمضان تظاهر به روزه‌خواری نماید با او برخورد می‌شود. تعجب در چهره مردم از این عمل نشانه اهمیت روزه در عرف اجتماعی و بین مردم است. ضمناً اتفاق در این ماه امری مثبت تلقی می‌شود.

(درس ۱۷ - صفحه‌های ۱۱۶، ۱۱۷ و ۱۱۸)

جملات اول، دوم و سوم متن بالا، به ترتیب مربوط به کدام لایه‌های فرهنگ می‌باشند؟

- ۱) هنجار - عقاید - ارزش
- ۲) عقاید - نماد - ارزش
- ۳) ارزش - عقاید - هنجار
- ۴) هنجار - نماد - ارزش

(درس ۲۲ - صفحه ۱۴۸)

۵۷- «حمایت از تشکیل خانواده و پاسداری از روابط خانوادگی» جزء کدام یک از حقوق شهروندی است؟

- ۱) حقوق فرهنگی
- ۲) عدالت قضایی
- ۳) رفاه و تأمین اجتماعی
- ۴) عدالت قانونی

۵۸- با توجه به نظر دانشمندان، غده هیپوفیز نقش مهمی در اندام‌های فرد دارد که به سهم خود در رفتار و منش افراد مؤثر می‌باشد. متن حاضر به ترتیب تأثیر کدام ابعاد هویتی را بر دیگری نشان می‌دهد؟

(درس ۱۸ - صفحه ۱۲۱)

- ۱) روانی بر جسمانی
- ۲) جسمانی بر روانی
- ۳) اجتماعی بر جسمانی
- ۴) اخلاقی بر اجتماعی



۰۲۱-۹۱۳۰۲۲۰۲ \* ۰۲۱-۴۴۱۳۶۹۷۵



Tizline.ir



۰۹۳۳۳۸۴۰۲۰۲

۵۹- متن زیر را با دقت بخوانید و مشخص نمایید که این مثال به محتوای کدام یک از راهکارهای مهم برای افزایش بهره‌وری در زندگی اشاره دارد؟ «حامد از درجه ۶۰ ماشین لباس شویی برای شستن لباس‌هایش استفاده کرده است، ولی بعد از خارج کردن لباس‌ها از ماشین لباس شویی، آنها بسیار چروکیده و به هم چسبیده بودند.»  
(درس ۳۳ - صفحه ۱۵۹)

- (۱) استفاده مناسب از زمان در کارها  
(۲) تنظیم جدول بودجه اقتصادی  
(۳) اصلاح عادت‌های غلط مصرفی  
(۴) انجام دادن کارها از روی آگاهی

۶۰- در مبحث بهره‌وری، نقش «تحقیقات فناوری هسته‌ای» در افزایش تولید محصولات، به ترتیب به کدام یک از مراحل فعالیت‌های اقتصادی مربوط می‌شوند؟  
(درس ۳۴ - صفحه ۱۶۱)

- (۱) فرایند - ستانده  
(۲) نهاد - توزیع  
(۳) خروجی - ورودی  
(۴) نهاد - ستانده

ریاضی



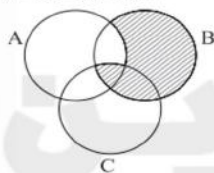
(مجموعه‌ها - درس ۱۴)

۶۱- تاسی را دو بار پرتاب می‌کنیم، احتمال اینکه مجموع اعداد رو شده ۵ یا هر دو فرد بیاید؟

- (۱)  $\frac{12}{36}$  (۲)  $\frac{13}{36}$  (۳)  $\frac{11}{36}$  (۴)  $\frac{4}{36}$

(مجموعه‌ها - درس ۱۳)

۶۲- کدام گزینه قسمت رنگی را نشان می‌دهد؟



- (۱)  $(B \cap C) \cup (B - A)$   
(۲)  $C - (A \cap B)$   
(۳)  $(A \cup B) - (B \cap C)$   
(۴)  $A \cap (B \cup C)$

(عددهای مقیسی - درس ۱۳)

۶۳- اگر  $2 < x < 3$  باشد، حاصل عبارت  $\sqrt{(2-x)^2} + |4-x| - |3x-2|$  برابر است با:  
(۱)  $-x-2$  (۲)  $-3x+4$  (۳)  $-5x+8$  (۴)  $x+2$

(عددهای مقیسی - درس ۲)

۶۴- اگر  $x$  و  $y$  اعدادی گنگ باشند، کدام گزینه همواره درست است؟

- (۱)  $x+y \in \mathbb{Q}'$  (۲)  $xy \in \mathbb{R}$  (۳)  $x-y \in \mathbb{Q}'$  (۴)  $xy^2 \in \mathbb{Q}'$

(توان و ریشه - درس‌های ۲ و ۳)

۶۵- حاصل عبارت  $\frac{\sqrt{\frac{2}{3}} - \sqrt{\frac{3}{2}}}{\sqrt{24}} \times \frac{\sqrt{27}}{3-2}$  کدام است؟  
(۱)  $-2$  (۲)  $2$

(توان و ریشه - درس ۲)

۶۶- نماد علمی حاصل عبارت  $27 \times 10^{-7} + 36 \times 10^{-5}$  کدام است؟

- (۱)  $6/3 \times 10^{-5}$  (۲)  $6/3 \times 10^{-6}$  (۳)  $6/3 \times 10^{-7}$  (۴)  $6/3 \times 10^{-4}$

(استدلال و اثبات در هندسه - درس ۲)

۶۷- کدام یک از عبارات زیر نادرست است؟

- (۱) در مثلث متساوی‌الساقین  $ABC$  ( $AB=AC$ )، نیمساز زاویه خارجی رأس  $A$  موازی ضلع  $BC$  است.  
(۲) در دوزنقه متساوی‌الساقین قطرها، با هم مساوی‌اند.  
(۳) دو مثلث دارای مساحت‌های برابر هم‌نهشت‌اند.  
(۴) در یک مثلث ضلع روبه‌رو به زاویه بزرگ‌تر، بزرگ‌تر از ضلع روبه‌رو به زاویه کوچک‌تر است.

۶۸- هزینه ماهانه اشتراک خط اینترنت  $A$ : ۴۰۰۰ تومان مبلغ ثابت و ۳۰۰۰ تومان برای هر ساعت و هزینه ماهانه اشتراک خط اینترنت  $B$ : بدون مبلغ ثابت و ۴۰۰۰ تومان برای هر ساعت، کدام گزینه بهترین تفسیر را برای خرید باصرفه از این دو خط دارد؟ (فنا و معادله‌های خطی - درس ۳)

- (۱) همیشه خط  $A$  باصرفه است.  
(۲) همیشه خط  $B$  باصرفه است.  
(۳) کمتر از ۳ ساعت، خط  $B$  باصرفه و بیشتر از ۳ ساعت، خط  $A$  باصرفه است.  
(۴) کمتر از ۴ ساعت، خط  $B$  باصرفه و بیشتر از ۴ ساعت، خط  $A$  باصرفه است.



۰۲۱-۹۱۳۰۲۲۰۲ \* ۰۲۱-۴۴۱۳۶۹۷۵

Tizline.ir

۰۹۳۳۳۸۴۰۲۰۲

تیزلاین منبع معتبر تیزهوشان

سامانه پیامکی: ۹۰۰۰۱۶۲۰

(عبارت‌های گویا - درس ۲)

$\frac{2x-1}{x}$  (۴)

(عبارت‌های میزری - درس ۲)

$0/16$  (۴)

(عبارت‌های میزری - درس ۳)



(مجموعه و مسامت - درس ۳)

$4\sqrt{3}$  (۴)

(از محل برخورد دو خط - درس ۳)

$y=x$  (۴)

(معادله خطی که با خط موازی و از محل برخورد دو خط - درس ۳)

$\frac{x}{4} - \frac{y}{2} = 3$  (۴)

(عبارت‌های گویا - درس ۱)

$\frac{x(x+1)}{(x+1)(x^2+6x+9)(x^2+1)}$

۶۹- ساده شده عبارت روبه‌رو کدام گزینه است؟  $\frac{2x^2-x}{4x^2-8x+3} + \frac{x^2}{3-2x} = ?$

$1 - \frac{1}{x}$  (۳)

$\frac{1}{x}$  (۲)

$-\frac{1}{x}$  (۱)

۷۰- حاصل  $(39/9999)^2 - (40/0001)^2$  برابر است با:

$0/016$  (۳)

$0/0016$  (۲)

$0/000016$  (۱)

۷۱- مجموعه جواب نامعادله روبه‌رو کدام گزینه است؟  $3x-1 \leq 2 - \frac{x-1}{2}$



۷۲- مساحت کل یک هرم با چهار وجه منتظم که اندازه همه یال‌های آن ۴ باشد، برابر است با:

$8\sqrt{3}$  (۳)

$16\sqrt{3}$  (۲)

$12\sqrt{3}$  (۱)

۷۵- عبارت زیر به‌ازای چند عدد حقیقی تعریف نشده است؟

۲ (۲)

۱ (۱)

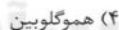
۴ (۴)

۳ (۳)

علوم تجربی

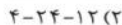
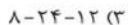


(فصل ۱ - صفحه‌های ۹ و ۱۰)



۷۷- در تشکیل ۳ مولکول کربن دی‌اکسید، تعداد ..... پیوند اشتراکی (کووالانسی) تشکیل و تعداد ..... الکترون اشتراکی وجود دارد و در پایان در لایه آخر هر اتم کربن ..... الکترون دیده می‌شود.

(فصل ۲ - صفحه‌های ۲۳ و ۲۴)



(فصل ۲ - صفحه‌های ۲۳ و ۲۴)



۷۸- کدام دسته از مواد زیر دارای پیوندهای دوگانه اشتراکی هستند؟

(فصل ۱ - صفحه ۷)



۸۰- پسرچه‌ای می‌خواهد از خط عابر پیاده‌ای به طول ۲۰ متر عبور کند و به مدرسه خود در طرف دیگر خیابان برود. سرعت حرکت پسرچه چند متر بر ثانیه باشد تا ماشینی که با سرعت ثابت ۷۲ کیلومتر بر ساعت در حرکت است و ۱۰۰ متر از خط عابر پیاده فاصله دارد با او برخورد نکند و پسرچه کامل از خیابان عبور کرده باشد؟

(فصل ۴ - صفحه‌های ۱۳ و ۱۴)



$1/5$  (۱)

۴ (۲)

$2/5$  (۳)

۵ (۴)



۰۲۱-۹۱۳۰۲۲۰۲ \* ۰۲۱-۴۴۱۳۶۹۷۵



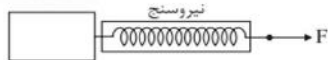
Tizline.ir



۰۹۳۳۳۸۴۰۲۰۲

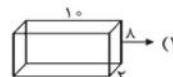
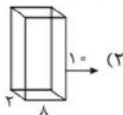
تیزلاین منبع معتبر تیزهوشان

سامانه پیامکی: ۹۰۰۰۱۶۲۰

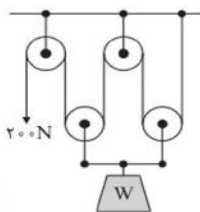


۸۱- نیروسنجی را به جعبه ۲۰ کیلوگرمی روبه‌رو، در حالت‌های مختلف می‌بندیم. اگر جعبه روی میز در حال حرکت باشد، در کدام حالت نیروسنج عدد بیشتری را نشان می‌دهد؟ (ابعاد جعبه  $10 \times 8 \times 2$  سانتی‌متر)

(فصل ۵ - صفحه ۶۲)



(۴) عدد نیروسنج در همه حالت‌ها تقریباً یکسان است.



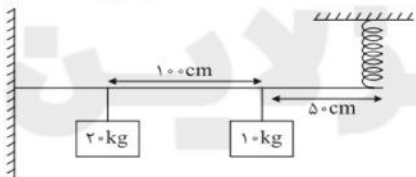
۸۲- با توجه به شکل ماشین مقابل، جرم جعبه W و نیرویی که به سقف وارد می‌شود به ترتیب چقدر است؟ (جرم هر قرقره ثابت ۱ کیلوگرم است و از جرم قرقره متحرک صرف‌نظر می‌شود.)

(فصل ۹ - صفحه ۱۰۲)

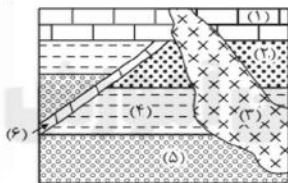
- (۱)  $1000 \text{ N}, 80 \text{ kg}$
- (۲)  $1020 \text{ N}, 80 \text{ kg}$
- (۳)  $1000 \text{ N}, 78 \text{ kg}$
- (۴)  $1020 \text{ N}, 78 \text{ kg}$

۸۳- در شکل زیر میله‌ای به طول ۲ متر از یک طرف به دیوار لولا شده است و میله در حالت تعادل می‌باشد. نیروی وارد بر فنر چند نیوتون است؟ (جرم میله ناچیز است.)

(فصل ۹ - صفحه ۱۰۰)



- (۱) ۱۲۵
- (۲) ۱۰۰
- (۳) ۷۵
- (۴) ۱۵۰



۸۴- با توجه به شکل مشخص کنید لایه‌ها از قدیم به جدید به چه شکلی هستند و شماره ۶ چه پدیده‌ای را نشان می‌دهد؟

(فصل ۶ - صفحه ۷۲، فصل ۷ - صفحه ۸)

- (۱) ۱-۲-۳-۴-۵-۶ و گسل
- (۲) ۱-۲-۳-۴-۵-۶ و گسل
- (۳) ۱-۲-۳-۴-۵-۶ و گسل
- (۴) ۱-۲-۳-۴-۵-۶ و درزه

(فصل ۱۵ - صفحه‌های ۱۶۷ و ۱۶۸)

۸۵- ارتباط غذایی دو موجود زنده در کدام گزینه به‌درستی بیان شده است؟

- (۱) شقایق دریایی و نوعی خرچنگ (همیاری)
- (۲) کفشدوزک و شته (شکار و شکارچی)
- (۳) زنبورعسل و گل شقایق (رقابت)
- (۴) قارچ و جلبک در گلسنگ (همسفرگی)

(فصل ۱۳ - صفحه ۱۴۴)

۸۶- چه تعداد از عبارات‌های زیر در مورد کرم‌های پهن صحیح می‌باشد؟

- \* ساده‌ترین گروه کرم‌ها هستند.
  - \* از نظر خروج مواد از سطح بدن شبیه کیسه‌تنان هستند.
  - \* بیشتر آنها انگل هستند.
  - \* می‌توانند عامل کیست هیداتیک در بدن انسان یا دام‌ها شوند.
  - \* دارای دستگاه‌های عصبی و گوارش ساده‌ای هستند.
- (۱) ۵ (۲) ۴ (۳) ۳ (۴) ۲

(فصل ۱۱ - صفحه ۱۲۶)

۸۷- کدام گزینه مربوط به موجود زنده‌ای با ویژگی‌های زیر می‌باشد؟

- جانداري هوهسته‌ای (یوکاریوت)، پریاخته و بدون سبزینه: .....
- (۱) قارچ چتری (۲) مخمر (۳) جلبک (۴) آکار



۰۲۱-۹۱۳۰۲۲۰۲ \* ۰۲۱-۴۴۱۳۶۹۷۵

Tizline.ir

۰۹۳۳۳۸۴۰۲۰۲

(فصل ۱۴ - صفحه‌های ۱۵۸ و ۱۵۹)

(۴) پنگون

(۳) شترمرغ

(۲) خفاش

(۱) اردک

۸۸- کدام جانور از نظر طبقه‌بندی با بقیه متفاوت است؟

(فصل ۱۱ - صفحه‌های ۱۲۹ و ۱۳۰)

۸۹- کدام مورد، ویژگی‌های ویروس کرونا را کامل تر بیان کرده است؟

(۱) تغذیه - خاصیت تغییرپذیری - حاوی ژن

(۲) خاصیت تغییرپذیری - رشد - انگل درون‌یاخته‌ای

(۳) انگل درون‌یاخته‌ای - حاوی ژن - خاصیت تغییرپذیری

(۴) قابل تحریک - تنفس - تکثیر

(فصل ۱۲ - صفحه‌های ۱۳۶ و ۱۳۷)

۹۰- در کدام گزینه ویژگی مشترک بین گیاهان ذکرشده، صحیح بیان شده است؟

(کاج، سرخس، برنج، لوبیا، درخت موز) داشتن .....

(۴) آوند و دیواره یاخته‌ای

(۳) برگ و دانه

(۲) هاگ و دیواره یاخته‌ای

(۱) آوند و دانه

زبان انگلیسی



91- Mina's hand is bleeding. .... anyone ..... a plaster?

(گرامر - درس ۳)

1) Do / have

2) Does / have

3) Does / has

4) Did / had

92- My mom ..... some cookies and put them on the plate.

(گرامر - درس ۶)

1) make

2) makes

3) made

4) is making

93- My sister ..... in an online course.

(گرامر - ترکیبی)

1) attends never

2) never participates

3) participates never

4) never attends

94- A: Where do you usually go at Yalda Night?

(گرامر - درس ۲)

B: We go to our grandparent ..... houses.

1) 's

2) '

3) of

4) s'

95- She has a brother. .... name is Milad. I saw ..... in the school yard yesterday.

(گرامر - ترکیبی)

1) his / him

2) her / him

3) him / his

4) his / her

96- A: Why are you here in the bank?

(واژگان - درس ۴)

B: Because I'm .....

1) sending an e-mail

2) updating a blog

3) doing voluntary work

4) opening an account

97- A: What's the meaning of "voyage"?

(واژگان - درس ۱)

B: I don't know. .... me ..... it in the dictionary.

1) search / let

2) Let / check

3) Help / let

4) Check / let

98- I'm booking a hotel online, but I can't find the .....

(واژگان و گرامر - درس ۲)

1) reservation section

2) news stand

3) emergency call

4) information desk

99- A: What did you do last night?

(واژگان و گرامر - درس ۵)

B: I ..... some famous football players.

1) attended

2) interviewed

3) texted

4) received

100- A: .....

(واژگان و گرامر - درس ۳)

B: Sure! They usually get money.

1) Do children color the eggs?

2) Do children get new year gifts?

3) Do children have new year meals in Iran?

4) Do children have new clothes in Iran?



۰۲۱-۴۴۱۳۶۹۷۵ \* ۰۲۱-۹۱۳۰۲۲۰۲



Tizline.ir



۰۹۳۳۳۸۴۰۲۰۲

# پاسخنامه کلیدی آزمون نمونه دولتی استان اصفهان ۱۴۰۱-۱۴۰۲

۱	<input type="checkbox"/>	<input type="checkbox"/>	<input checked="" type="checkbox"/>	<input type="checkbox"/>	۱۱	<input checked="" type="checkbox"/>	<input type="checkbox"/>	<input type="checkbox"/>	<input type="checkbox"/>	۲۱	<input checked="" type="checkbox"/>	<input type="checkbox"/>	<input type="checkbox"/>	<input type="checkbox"/>	۳۱	<input type="checkbox"/>	<input checked="" type="checkbox"/>	<input type="checkbox"/>	<input type="checkbox"/>
۲	<input type="checkbox"/>	<input type="checkbox"/>	<input checked="" type="checkbox"/>	<input type="checkbox"/>	۱۲	<input type="checkbox"/>	<input type="checkbox"/>	<input type="checkbox"/>	<input checked="" type="checkbox"/>	۲۲	<input type="checkbox"/>	<input type="checkbox"/>	<input checked="" type="checkbox"/>	<input type="checkbox"/>	۳۲	<input checked="" type="checkbox"/>	<input type="checkbox"/>	<input type="checkbox"/>	<input type="checkbox"/>
۳	<input checked="" type="checkbox"/>	<input type="checkbox"/>	<input type="checkbox"/>	<input type="checkbox"/>	۱۳	<input type="checkbox"/>	<input checked="" type="checkbox"/>	<input type="checkbox"/>	<input type="checkbox"/>	۲۳	<input type="checkbox"/>	<input checked="" type="checkbox"/>	<input type="checkbox"/>	<input type="checkbox"/>	۳۳	<input type="checkbox"/>	<input type="checkbox"/>	<input checked="" type="checkbox"/>	<input type="checkbox"/>
۴	<input type="checkbox"/>	<input checked="" type="checkbox"/>	<input type="checkbox"/>	<input type="checkbox"/>	۱۴	<input type="checkbox"/>	<input checked="" type="checkbox"/>	<input type="checkbox"/>	<input type="checkbox"/>	۲۴	<input type="checkbox"/>	<input checked="" type="checkbox"/>	<input type="checkbox"/>	<input type="checkbox"/>	۳۴	<input type="checkbox"/>	<input type="checkbox"/>	<input checked="" type="checkbox"/>	<input type="checkbox"/>
۵	<input type="checkbox"/>	<input type="checkbox"/>	<input type="checkbox"/>	<input checked="" type="checkbox"/>	۱۵	<input type="checkbox"/>	<input type="checkbox"/>	<input type="checkbox"/>	<input checked="" type="checkbox"/>	۲۵	<input checked="" type="checkbox"/>	<input type="checkbox"/>	<input type="checkbox"/>	<input type="checkbox"/>	۳۵	<input type="checkbox"/>	<input type="checkbox"/>	<input type="checkbox"/>	<input checked="" type="checkbox"/>
۶	<input type="checkbox"/>	<input type="checkbox"/>	<input type="checkbox"/>	<input checked="" type="checkbox"/>	۱۶	<input type="checkbox"/>	<input type="checkbox"/>	<input type="checkbox"/>	<input checked="" type="checkbox"/>	۲۶	<input type="checkbox"/>	<input type="checkbox"/>	<input checked="" type="checkbox"/>	<input type="checkbox"/>	۳۶	<input type="checkbox"/>	<input checked="" type="checkbox"/>	<input type="checkbox"/>	<input type="checkbox"/>
۷	<input checked="" type="checkbox"/>	<input type="checkbox"/>	<input type="checkbox"/>	<input type="checkbox"/>	۱۷	<input type="checkbox"/>	<input type="checkbox"/>	<input type="checkbox"/>	<input checked="" type="checkbox"/>	۲۷	<input checked="" type="checkbox"/>	<input type="checkbox"/>	<input type="checkbox"/>	<input type="checkbox"/>	۳۷	<input checked="" type="checkbox"/>	<input type="checkbox"/>	<input type="checkbox"/>	<input type="checkbox"/>
۸	<input type="checkbox"/>	<input type="checkbox"/>	<input checked="" type="checkbox"/>	<input type="checkbox"/>	۱۸	<input type="checkbox"/>	<input checked="" type="checkbox"/>	<input type="checkbox"/>	<input type="checkbox"/>	۲۸	<input type="checkbox"/>	<input type="checkbox"/>	<input checked="" type="checkbox"/>	<input type="checkbox"/>	۳۸	<input type="checkbox"/>	<input checked="" type="checkbox"/>	<input type="checkbox"/>	<input type="checkbox"/>
۹	<input type="checkbox"/>	<input checked="" type="checkbox"/>	<input type="checkbox"/>	<input type="checkbox"/>	۱۹	<input type="checkbox"/>	<input type="checkbox"/>	<input checked="" type="checkbox"/>	<input type="checkbox"/>	۲۹	<input type="checkbox"/>	<input type="checkbox"/>	<input type="checkbox"/>	<input checked="" type="checkbox"/>	۳۹	<input type="checkbox"/>	<input checked="" type="checkbox"/>	<input type="checkbox"/>	<input type="checkbox"/>
۱۰	<input checked="" type="checkbox"/>	<input type="checkbox"/>	<input type="checkbox"/>	<input type="checkbox"/>	۲۰	<input type="checkbox"/>	<input type="checkbox"/>	<input checked="" type="checkbox"/>	<input type="checkbox"/>	۳۰	<input type="checkbox"/>	<input type="checkbox"/>	<input type="checkbox"/>	<input checked="" type="checkbox"/>	۴۰	<input type="checkbox"/>	<input type="checkbox"/>	<input type="checkbox"/>	<input checked="" type="checkbox"/>

۴۱	<input type="checkbox"/>	<input type="checkbox"/>	<input type="checkbox"/>	<input checked="" type="checkbox"/>	۵۱	<input type="checkbox"/>	<input type="checkbox"/>	<input type="checkbox"/>	<input checked="" type="checkbox"/>	۶۱	<input type="checkbox"/>	<input checked="" type="checkbox"/>	<input type="checkbox"/>	<input type="checkbox"/>	۷۱	<input type="checkbox"/>	<input checked="" type="checkbox"/>	<input type="checkbox"/>	<input type="checkbox"/>
۴۲	<input type="checkbox"/>	<input type="checkbox"/>	<input checked="" type="checkbox"/>	<input type="checkbox"/>	۵۲	<input type="checkbox"/>	<input type="checkbox"/>	<input checked="" type="checkbox"/>	<input type="checkbox"/>	۶۲	<input checked="" type="checkbox"/>	<input type="checkbox"/>	<input type="checkbox"/>	<input type="checkbox"/>	۷۲	<input type="checkbox"/>	<input checked="" type="checkbox"/>	<input type="checkbox"/>	<input type="checkbox"/>
۴۳	<input checked="" type="checkbox"/>	<input type="checkbox"/>	<input type="checkbox"/>	<input type="checkbox"/>	۵۳	<input type="checkbox"/>	<input checked="" type="checkbox"/>	<input type="checkbox"/>	<input type="checkbox"/>	۶۳	<input type="checkbox"/>	<input checked="" type="checkbox"/>	<input type="checkbox"/>	<input type="checkbox"/>	۷۳	<input checked="" type="checkbox"/>	<input type="checkbox"/>	<input type="checkbox"/>	<input type="checkbox"/>
۴۴	<input checked="" type="checkbox"/>	<input type="checkbox"/>	<input type="checkbox"/>	<input type="checkbox"/>	۵۴	<input type="checkbox"/>	<input type="checkbox"/>	<input checked="" type="checkbox"/>	<input type="checkbox"/>	۶۴	<input type="checkbox"/>	<input checked="" type="checkbox"/>	<input type="checkbox"/>	<input type="checkbox"/>	۷۴	<input type="checkbox"/>	<input checked="" type="checkbox"/>	<input type="checkbox"/>	<input type="checkbox"/>
۴۵	<input type="checkbox"/>	<input type="checkbox"/>	<input type="checkbox"/>	<input checked="" type="checkbox"/>	۵۵	<input checked="" type="checkbox"/>	<input type="checkbox"/>	<input type="checkbox"/>	<input type="checkbox"/>	۶۵	<input checked="" type="checkbox"/>	<input type="checkbox"/>	<input type="checkbox"/>	<input type="checkbox"/>	۷۵	<input type="checkbox"/>	<input checked="" type="checkbox"/>	<input type="checkbox"/>	<input type="checkbox"/>
۴۶	<input type="checkbox"/>	<input type="checkbox"/>	<input checked="" type="checkbox"/>	<input type="checkbox"/>	۵۶	<input type="checkbox"/>	<input type="checkbox"/>	<input type="checkbox"/>	<input checked="" type="checkbox"/>	۶۶	<input type="checkbox"/>	<input checked="" type="checkbox"/>	<input type="checkbox"/>	<input type="checkbox"/>	۷۶	<input type="checkbox"/>	<input type="checkbox"/>	<input checked="" type="checkbox"/>	<input type="checkbox"/>
۴۷	<input type="checkbox"/>	<input checked="" type="checkbox"/>	<input type="checkbox"/>	<input type="checkbox"/>	۵۷	<input checked="" type="checkbox"/>	<input type="checkbox"/>	<input type="checkbox"/>	<input type="checkbox"/>	۶۷	<input type="checkbox"/>	<input type="checkbox"/>	<input checked="" type="checkbox"/>	<input type="checkbox"/>	۷۷	<input type="checkbox"/>	<input checked="" type="checkbox"/>	<input type="checkbox"/>	<input type="checkbox"/>
۴۸	<input checked="" type="checkbox"/>	<input type="checkbox"/>	<input type="checkbox"/>	<input type="checkbox"/>	۵۸	<input type="checkbox"/>	<input checked="" type="checkbox"/>	<input type="checkbox"/>	<input type="checkbox"/>	۶۸	<input type="checkbox"/>	<input type="checkbox"/>	<input type="checkbox"/>	<input checked="" type="checkbox"/>	۷۸	<input type="checkbox"/>	<input type="checkbox"/>	<input checked="" type="checkbox"/>	<input type="checkbox"/>
۴۹	<input type="checkbox"/>	<input checked="" type="checkbox"/>	<input type="checkbox"/>	<input type="checkbox"/>	۵۹	<input type="checkbox"/>	<input type="checkbox"/>	<input type="checkbox"/>	<input checked="" type="checkbox"/>	۶۹	<input checked="" type="checkbox"/>	<input type="checkbox"/>	<input type="checkbox"/>	<input type="checkbox"/>	۷۹	<input checked="" type="checkbox"/>	<input type="checkbox"/>	<input type="checkbox"/>	<input type="checkbox"/>
۵۰	<input checked="" type="checkbox"/>	<input type="checkbox"/>	<input type="checkbox"/>	<input type="checkbox"/>	۶۰	<input type="checkbox"/>	<input type="checkbox"/>	<input type="checkbox"/>	<input checked="" type="checkbox"/>	۷۰	<input type="checkbox"/>	<input type="checkbox"/>	<input checked="" type="checkbox"/>	<input type="checkbox"/>	۸۰	<input type="checkbox"/>	<input checked="" type="checkbox"/>	<input type="checkbox"/>	<input type="checkbox"/>

۸۱	<input type="checkbox"/>	<input type="checkbox"/>	<input type="checkbox"/>	<input checked="" type="checkbox"/>	۹۱	<input type="checkbox"/>	<input checked="" type="checkbox"/>	<input type="checkbox"/>	<input type="checkbox"/>
۸۲	<input type="checkbox"/>	<input checked="" type="checkbox"/>	<input type="checkbox"/>	<input type="checkbox"/>	۹۲	<input type="checkbox"/>	<input type="checkbox"/>	<input checked="" type="checkbox"/>	<input type="checkbox"/>
۸۳	<input checked="" type="checkbox"/>	<input type="checkbox"/>	<input type="checkbox"/>	<input type="checkbox"/>	۹۳	<input type="checkbox"/>	<input checked="" type="checkbox"/>	<input type="checkbox"/>	<input type="checkbox"/>
۸۴	<input type="checkbox"/>	<input type="checkbox"/>	<input checked="" type="checkbox"/>	<input type="checkbox"/>	۹۴	<input type="checkbox"/>	<input type="checkbox"/>	<input checked="" type="checkbox"/>	<input type="checkbox"/>
۸۵	<input type="checkbox"/>	<input checked="" type="checkbox"/>	<input type="checkbox"/>	<input type="checkbox"/>	۹۵	<input checked="" type="checkbox"/>	<input type="checkbox"/>	<input type="checkbox"/>	<input type="checkbox"/>
۸۶	<input type="checkbox"/>	<input checked="" type="checkbox"/>	<input type="checkbox"/>	<input type="checkbox"/>	۹۶	<input type="checkbox"/>	<input type="checkbox"/>	<input checked="" type="checkbox"/>	<input type="checkbox"/>
۸۷	<input checked="" type="checkbox"/>	<input type="checkbox"/>	<input type="checkbox"/>	<input type="checkbox"/>	۹۷	<input type="checkbox"/>	<input checked="" type="checkbox"/>	<input type="checkbox"/>	<input type="checkbox"/>
۸۸	<input type="checkbox"/>	<input checked="" type="checkbox"/>	<input type="checkbox"/>	<input type="checkbox"/>	۹۸	<input checked="" type="checkbox"/>	<input type="checkbox"/>	<input type="checkbox"/>	<input type="checkbox"/>
۸۹	<input type="checkbox"/>	<input type="checkbox"/>	<input checked="" type="checkbox"/>	<input type="checkbox"/>	۹۹	<input type="checkbox"/>	<input checked="" type="checkbox"/>	<input type="checkbox"/>	<input type="checkbox"/>
۹۰	<input type="checkbox"/>	<input type="checkbox"/>	<input type="checkbox"/>	<input checked="" type="checkbox"/>	۱۰۰	<input type="checkbox"/>	<input checked="" type="checkbox"/>	<input type="checkbox"/>	<input type="checkbox"/>

تیزلاین، آکادمی به وسعت ایران

