



آکادمی آنلاین تیزلاین قوی ترین پلتفرم آموزشی تیز هوشان

برگزار کننده کلاس های آنلاین و حضوری تیز هوشان ✓

و المپیاد از پایه چهارم تا دوازدهم

آزمون های آنلاین و حضوری ✓

مشاوره تخصصی ✓

با اسکن QR کد روبرو
وارد صفحه اینستاگرام
آکادمی تیزلاین شو و از
محتواهای آموزشی
رایگان لذت ببر



برای ورود به صفحه اصلی سایت آکادمی تیزلاین کلیک کنید

برای دانلود دفترچه آزمون های مختلف برای هر پایه کلیک کنید

برای مطالعه مقالات بروز آکادمی تیزلاین کلیک کنید



وزارت آموزش و پرورش
اداره کل آموزش و پرورش استان بوشهر
معاونت آموزش متوسطه

تولید دانش بنیان اشتغال آفرین

آزمون ورودی پایه دهم

مدارس نمونه دولتی دوره دوم متوسطه

سال تحصیلی ۱۴۰۱-۱۴۰۲

شماره سؤالات	تعداد سؤالات	نام درس
۱-۱۵	۱۵	آموزش قرآن و پیام‌های آسمان
۱۶-۳۰	۱۵	فارسی
۳۱-۴۵	۱۵	عربی
۴۶-۶۰	۱۵	مطالعات اجتماعی (تاریخ، جغرافیا، تاریخ، فلسفه)
۶۱-۷۰	۱۰	زبان انگلیسی
۷۱-۸۵	۱۵	علوم تجربی
۸۶-۱۰۰	۱۵	ریاضی

نام و نام خانوادگی: شماره داوطلبی:

تعداد صفحه: ۱۵ تعداد سؤالات: ۱۰۰
مدت پاسخگویی به سؤالات: ۱۲۰ دقیقه

تاریخ برگزاری آزمون: ۱۴۰۱/۰۴/۰۳
ساعت برگزاری آزمون: ۹ صبح

تذکر مهم: آزمون نمره منفی دارد.

به ازای هر پاسخ صحیح، سه نمره مثبت و به ازای هر پاسخ غلط، یک نمره منفی برای داوطلب در نظر گرفته می‌شود. چنانچه داوطلب در هر سؤال پیش از یک گزینه را علامت زده باشد، یک نمره منفی برای او منظور خواهد شد. برای سؤالات بدون پاسخ، نمره‌ای در نظر گرفته نخواهد شد.

آموزش قرآن و پیام‌های آسمان

- ۱- با توجه به ترکیب (أَصْلُ أَعْمَالُهُمْ) ترجمه لغت (أَصْلُ) کدام گزینه می باشد؟
 (۱) نازل کرد (۲) مانع شد (۳) محو و نابود کرد (۴) دو چندان کرد
- ۲- در همه گزینه ها، فعل به صورت مضارع التزامی ترجمه می شود به جز گزینه
 (۱) لِيُدْخِلَ الْمُؤْمِنِينَ (۲) مَا كَانُوا يَعْمَلُونَ (۳) لَئِنْ سَأَلْتَهُمْ (۴) لَوْنِشَاءُ
- ۳- ترجمه‌ی کدام عبارت، صحیح می باشد؟
 (۱) أَلَا تَتَّعَبُونَ: آیا تخلف نمی کنید؟
 (۲) كَيْفَ نُصِبَتْ: چگونه برافراشته شد؟
 (۳) سَبْحًا طَوِيلًا: تلاش طولانی
 (۴) بَأْسٌ شَدِيدٌ: فایده‌ی بسیار
- ۴- کدام مفهوم با عبارت قرآنی داده شده، تناسب دارد؟
 (۱) لَا يَسْخَرُ قَوْمٌ مِنْ قَوْمٍ: غیبت نکردن
 (۲) لِيَقُومَ النَّاسُ بِالْقِسْطِ: پیروی کردن مردم از پیامبران
 (۳) أَلَمْ نَجْعَلِ الْأَرْضَ مِهَادًا: گسترده شدن زمین
 (۴) وَلَتَنْتَظِرُنَّ نَفْسٌ مَّا قَدَّمَتْ لِغَدٍ: فراهم کردن توشه برای آخرت
- ۵- ترجمه‌ی صحیح عبارت «فَاتَّخِذْهُ وَكِيلًا» در کدام گزینه آمده است؟
 (۱) پس، او را مدافع قرار بده
 (۲) و برای او، پشتیبان بگیرد
 (۳) پس، وکیل برای او انتخاب کن
 (۴) پس، او را به عنوان مدافع، بگیرد
- ۶- معنی کلمات (اتَّبِعُوا-اتَّبِعُوا-سَاءَ-حَسْبُ) به ترتیب در کدام گزینه، آمده است؟
 (۱) بگیرد-پیروی کنید-چه بد است-حساب
 (۲) پیروی کردند-تبعیت کنید-مساوی است-کافی است
 (۳) تبعیت کردند-پیروی کنید-چه بد است-کافی است
 (۴) پیروی کنید-تبعیت کردند-یکسان-حساب کرد
- ۷- عبارت (لَوْ كُنْتُمْ تَعْلَمُونَ) به چه معنا است؟
 (۱) قطعاً شما می دانستید
 (۲) ای کاش می دانستید
 (۳) اگر عمل می کردند
 (۴) ای کاش عمل می کردید
- ۸- کدام عبارت، نادرست ترجمه شده است؟
 (۱) أَطِيعُونَ: پیروی کنید از من
 (۲) لَوْ كُنَّا نَسْمَعُ: ای کاش می شنیدیم
 (۳) لِيَعْلَمَ اللَّهُ: تا مشخص کند خدا
 (۴) لِاتَّزِدَ الظَّالِمِينَ إِيْتَابًا: نمی افزاید بر ستمکاران مگر هلاکت
- ۹- پیامبر اکرم (ص) نتیجه‌ی مدارا کردن با مردم را در دریافت قرض، چه می داند؟
 (۱) هم وزن کوه آخذ، حسنات خواهد داشت.
 (۲) خداوند تمامی گناهان گذشته اش را می آمرزد
 (۳) بهشت و نعمت های بهشتی بر او واجب می شود
 (۴) از پل صراط، همچون برق جهنده بدون حساب و عذاب می گذرد
- ۱۰- بر اساس آیهی (وَلَا يَزَالُونَ يُقَاتِلُونَكُمْ حَتَّى يَرِدُوكُمْ عَنْ دِينِكُمْ إِنْ اسْتَطَاعُوا) هدف دشمنان از جنگ با مسلمانان چیست؟
 (۱) دور کردن مسلمانان از اسلام
 (۲) برتر بودن مسلمانان
 (۳) منصرف ساختن مسلمانان از جنگ با آنان
 (۴) تفرقه اندازی بین مسلمانان

۱۱- کدام گزینه، این فرمایش حضرت علی(ع) را تکمیل می کند؟

«محبّت خود را نثار دوست کن و در عین حال همان گونه که می خواهی با تو رفتار نماید، با او رفتار کن، اما.....»

- ۱) همه اسرار را با او در میان مگذار - از او توقع بی جا نداشته باش
- ۲) از او توقع بی جا نداشته باش - به او اعتماد نکن
- ۳) به او اعتماد نکن - همه اسرار را با او در میان مگذار
- ۴) همه اسرار را با او در میان مگذار - از او انتظار فداکاری نداشته باش

۱۲- کدام گزینه درباره امر به معروف و نهی از منکر، صحیح نمی باشد؟

- ۱) ترک امر به معروف و نهی از منکر، زمینه ساز گسترش گناه در جامعه است.
- ۲) دلیل عذاب بی خردان اقوام گذشته از نظر امام علی(ع)، نهی نکردن از زشتی ها، بوده است.
- ۳) هدف نهی از منکر، تکرار نکردن اشتباه می باشد.
- ۴) امر به معروف و نهی از منکر، قطعاً یک موفقیت است هر چند به نتیجه نرسد.

۱۳- با توجه به آیهی (إِنَّمَا الْمُؤْمِنُونَ الَّذِينَ إِذَا ذُكِرَ اللَّهُ وَجِلَّتْ قُلُوبُهُمْ وَإِذَا تُلِيَتْ عَلَيْهِمْ آيَاتُهُ زَادَتْهُمْ إِيمَانًا) به کدامیک از عوامل افزایش ایمان اشاره شده است؟

- ۱) گوش سپردن به آیات قرآن
- ۲) عمل به آیات قرآن
- ۳) تفکر در آیات و نشانه های الهی
- ۴) دوری از گناهان و انجام کارهای نیک

۱۴- هدف از اجرای احکام و قوانین الهی چیست؟

- ۱) هدایت انسان به سوی بهشت پر نعمت
- ۲) سوق دادن انسان به سوی سعادت و جلوگیری از گمراهی
- ۳) آگاه ساختن انسان به توانایی های محدود خویش
- ۴) بی بردن انسان ها به وجود خداوند و راهنمایی پیامبران

۱۵- "دعوت قوم حضرت نوح(ع) به مدت ۹۵۰ سال به یکتاپرستی" و "دستور خداوند به سکونت زن و فرزند حضرت ابراهیم(ع) در بیابان بدون آبادانی" به ترتیب به کدامیک از ویژگی های مهم پیامبران اشاره می کند؟

- ۱) تسلیم در برابر امر خداوند-مبارزه با عقاید باطل
- ۲) استقامت و پایداری در راه خداوند-تسلیم در برابر امر خداوند
- ۳) مبارزه با عقاید باطل-استقامت و پایداری در راه خداوند
- ۴) استقامت و پایداری در راه خداوند-مبارزه با عقاید باطل

فارسی

۱۶- معنای کلمات « مساعی، معاصی، مصائب و پندار » به ترتیب در کدام گزینه آمده است؟ (یک مورد اضافی است).

- | | |
|--|-------------------------------------|
| الف) شبی خیال تو ببینم اندر خواب | ولی ز فکر تو خواب آیدم خیال است این |
| ب) نیکنامی خواهی ای دل با بدان صحبت مدار | خودپسندی جان من برهان نادانی بود |
| ج) به وادی که تعلق دلیل کوشش هاست | ز بار دل به زمین خفته گیر قافله را |
| د) گناهان را ز خردی سهل مشمار | که خرمن های عالم دانه دانه است |
| ه) عافیت می طلبی پای خم از دست مده | که بلاها همه در زیر سر هوشیاری است |

دانش آموز گرامی، غزل حافظ را بخوانید و به پرسش‌های ۱۷ تا ۲۱ پاسخ دهید.

آمد به گوش ناگه‌م آواز بلبل‌ی	۱) رفتم به باغ صبحدمی تا چنم گلی
و اندر چمن فکنده ز فریاد غلغلی	۲) مسکین چو من به عشق گلی گشته مبتلا
می‌کردم اندر آن گل و بلبل تاقلی	۳) می‌گشتم اندر آن چمن و باغ دم‌به‌دم
آن را تفضلی نه و این را تبدلی (تبدل: دگرگون شدن)	۴) گل یار حسن گشته و بلبل قرین عشق
گشتم چنان که هیچ نماندم تحق‌لی	۵) چون کرد در دلم اثر آواز عندلیب
کس بی‌بلای خار نچیده‌ست از او گلی	۶) بس گل شکفته می‌شود این باغ را ولی

۱۷- با توجه به ابیات بالا کدام گزینه صحیح است؟

- ۱) در ابیات بالا، ۶ وابسته پیشین و ۲ تشبیه وجود دارد.
- ۲) فعل «نماندم» در بیت پنجم ماضی ساده و اول شخص مفرد است.
- ۳) تعداد جابه‌جایی‌های ارکان جمله در بیت سوم کمتر از بیت اول است.
- ۴) در ابیات اول و پنجم، نقش «م» در «ناگه‌م» و «دلم» به ترتیب مضاف الیه و متمم است.

۱۸- همهٔ ابیات با بیت ششم غزل ارتباط معنایی دارد به جز... .

- ۱) ای بادیه هجران تا عشق حرم باشد عشاق نیندیشند از خار مغیلات
- ۲) ای دوست دل منه که در این تنگنای خاک ناممکن است عافیتی بی‌تزلزلی
- ۳) در صحبت تو پاک مرا تار و پود سوخت شاد آن گلی که خار و خشخاش نیست در جوار
- ۴) کس عسل بی‌نیش از این دکان نخورد کس رطب بی‌خار از این بستان نچید

۱۹- در غزل بالا همهٔ زمان‌های فعل دیده می‌شود به جز... .

- ۱) ماضی نقلی
- ۲) ماضی استمراری
- ۳) ماضی ساده
- ۴) ماضی التزامی

۲۰- ساختمان واژگان ((شکفته، صبحدم، مسکین و دم‌به‌دم)) برابر است با گزینه... .

- ۱) ویرایش-آهن‌ریا-مویرگ-کهنسالی
- ۲) گرمسیر-بزرگراه-بردبار-خودارزیایی
- ۳) آرایه-هوشیار-بنیاد-نوجوانی
- ۴) بیانیه-اسفندیار-استوار-پویانمایی

۲۱- «این» و «آن» به ترتیب در بیت سوم به چه اشاره دارد؟

- ۱) بلبل - گل
- ۲) گل - بلبل
- ۳) گل - عشق
- ۴) بلبل - عشق

۲۲- کدام یک لحن متفاوت دارد؟

- ۱) بیا تا برآیم دستی ز دل
 - ۲) بنی آدم اعضای یکدیگرند
 - ۳) چو بینی یتیمی سر افکنده پیش
 - ۴) مَلِکَا ذَکَرِ تُو گویم که تو پاکی و خدایی
- که نتوان برآورد فردا ز گل
که در آفرینش ز یک گوهرند
مزن بوسه بر روی فرزند خویش
نروم جز به همان ره که توام راه‌نمایی

دانش آموز گرامی، حکایت‌هایی که از گذشتگان در کتب فارسی آمده است، می‌تواند «زنگ درس عبرت» باشد و راه درست زندگی کردن را به انسان بیاموزد. حکایت زیر را با دقت بخوانید و به پرسش‌های ۲۳ تا ۲۶ پاسخ دهید.

«بدان که هر کسی صحبت دوستی را نشاید؛ بلکه باید که صحبت با کسی دارند که در وی سه خصلت بُود: اول آنکه عاقل بُود، که در صحبت نادان هیچ فایده نبود و به آخر به وحشت کشد، که نادان آن وقت که خواهد که با تو نیکویی کند باشد که کاری کند به نادانی که زیان تو در آن بُود. دوم آنکه نیکو خُلق بُود، که از بدخو سلامت نَبُود، چون آن خوی بد وی بجنبد حق تو را فرو نهد و باک ندارد. سوم آنکه به صلاح بُود، که هر که بر معصیت مُصَرّ بُود از خدای نترسد، و هر کس از خدای نترسد بر وی اعتماد نَبُود.»

کیمیای سعادت، با اندکی اختصار و تلخیص

۲۳- همه گزینه‌های زیر به سه خصلت دوست از حکایت بالا اشاره دارد به جز...

- | | |
|------------------------------------|-----------------------------------|
| (۱) سعدیا راستروان گوی سعادت بردند | راستی کن که به منزل نرسد کج رفتار |
| (۲) هم نشین تو از تو به باید | تا تو را عقل و دین بیفزاید |
| (۳) اقوام روزگار به اخلاق زنده‌اند | فومی که گشت فاقد اخلاق مردنی است |
| (۴) دشمن دانا که غم جان بود | بهتر از آن دوست که نادان بود |

۲۴- نقش واژه «بد» در «چون آن خوی بد وی بجنبد حق تو را فرو نهد» با کدام گزینه یکسان است؟

- (۱) ای دل غمدیده، حالت به شود، دل بد مکن / وین سر شوریده بازاید به سامان غم مخور
- (۲) مار بد تنها تو را بر جان زند / یار بد بر جان و بر ایمان زند
- (۳) با بدان کم نشین که صحت بد / گرچه باگی تو را بلید کند
- (۴) همه یکدلانند بزدان شناسی / به نیکی ندارند از بد هراس

۲۵- تلفظ و معنای «آخر» در «در صحبت نادان هیچ فایده نبود و به آخر به وحشت کشد» برابر با کدام گزینه نیست؟

- | | |
|--|--------------------------------------|
| (۱) تا کی آخر جو بنفشه سر غفلت در پیش | حیف باشد که تو در خوابی و نرگس بیدار |
| (۲) خیرت هست که مرغان سحر می گویند | آخر ای خفته سر از خواب جهالت بردار؟ |
| (۳) ور به سنگ از صحبت خویشم برانی عاقبت | خود دلت بر من ببخاشد که آخر سنگ نیست |
| (۴) یاری اندر کس نمی بینیم یاران را چه شد؟ | دوستی کی آخر آمد دوستاران را چه شد؟ |

۲۶- معنای «که» در «و به آخر به وحشت کشد که نادان آن وقت که خواهد» با همه گزینه‌ها هم‌معنا است به جز...

- | | |
|---|--|
| (۱) دوم آنکه نیکو خُلق بود، که از بدخو سلامت نبود. | (۲) سوم آنکه به صلاح بود که هر که بر معصیت مُصَرّ بود از خدای نترسد. |
| (۳) اول آنکه عاقل بود، که در صحبت نادان هیچ فایده نبود. | (۴) باید صحبت با کسی دارند که در وی سه خصلت بود. |

۲۷- ترتیب ابیات به لحاظ داشتن آرایه‌های (تلمیح، تشبیه، جناس، تشخیص و کنایه) کدام است؟

- (الف) کمند زلف تو سر حلقه نجات من است
 (ب) صبح امید خنده شادی نمی کند
 (ج) احتمال نیش کردن واجبست از بهر نوش
 (د) گفت بر من تیغ تیز افراشتی
 (ه) و گر شمشیر برگیری سپر پیشت بیندازم
- که رستم از همه تا صید این کمند شدم
 تا ناامید از همه دنیا نمی شوی
 حمل کوه بیستون بر یاد شیرین بار نیست
 از چه افکندی، مرا بگذاشتی؟
 که بی شمشیر خود گشتی به ساعدهای سیمینم
- (۱) ج، ب، الف، د، ه (۲) ب، ج، الف، ه، د (۳) الف، ب، ه، د، ج (۴) ج، الف، د، ب، ه

۲۸- با تشخیص شاعر هر بیت به ترتیب آثارشان در کدام گزینه درست آمده است؟

- (الف) علم دین بام گلشن جان است
 (ب) لاله دیدم روی زیبای توام آمد به یاد
 (ج) اقوام روزگار به اخلاق زنده اند
 (د) جهان چون زلف و خال و خط و ابروست
- نردبان عقل و حس انسان است
 شعله دیدم سرکشی‌های توام آمد به یاد
 قومی که گشت فاقد اخلاق مردنی است
 که هر چیزی به جای خویش نیکوست
- (۱) الهی نامه، سایه، تاریخ احزاب سیاسی، گلشن راز
 (۲) حدیقه الحقیقه، سایه، سبک شناسی، شاهد نامه
 (۳) کارنامه بلخ، بهارستان، سبک شناسی، حق الیقین
 (۴) حق الیقین، هفت اورنگ، تاریخ احزاب سیاسی، گلشن راز

۲۹- تعداد غلط‌های املائی با توجه به معنا به ترتیب از کمترین به بیشترین در کدام گزینه‌ها برابر است؟

- (الف) محاورات و گفت‌وگوها، قائل و گوینده، قریب و ناآشنا، سریر و اورنگ
 (ب) ترجیح و برتری، فروغ و روشنایی، فراغت و آسودگی، هجو و نکوهش
 (ج) مایه‌ور و ارجمند، عظیمت و سفر کردن، صلاح و درست‌ی، تدانی و به یاد آوردن
 (د) مباحث و متحیر، مواجه شدن و روبه‌رو شدن، باشنده‌گان و حاضران، تانی و سرزنش
- (۱) ب، الف، د، ج (۲) الف، ب، د، ج (۳) ب، الف، ج، د (۴) الف، ب، ج، د

۳۰- در کدام گزینه زمان همه فعل‌ها با زمان جمله مطابقت دارد؟

- (۱) دیگران نشانند ما خوردیم، اکنون ما بنشانیم تا دیگران خورند.
 (۲) گاهی اوقات فکر می‌کنم چه خوب است هر روز به گونه‌ای زندگی کنیم که گویی فردا نیستیم.
 (۳) هنرمندان می‌گویند: «برای درک درست و عمیق هنر، شخص باید چشم‌هایش را تربیت کند».
 (۴) امروز اگر می‌توانستم درسی اجباری با نام «چطور از بینایی‌تان استفاده کنید؟» ایجاد می‌کردم.

عربی

۳۱- ترجمه کدام جمله درست است؟

- ۱) كانت سَعِيدَةً تَشْعُرُ بِالصُّدَاعِ : سعيده احساس سردرد می‌کند
- ۲) هولاء السيداتُ يَشْتَغِلْنَ في المطبعة: این زنان در آزمایشگاه کار می‌کنند.
- ۳) إركبوا تلك سيارة الأجرة: سوار آن اتوبوس شوید.
- ۴) أ يُمكن أن تَأْتينَ إلى المتحفِ؟ آیا امکان دارد به موزه بیایی؟

۳۲- ترجمه افعال مشخص شده به ترتیب در کدام گزینه صحیح است؟

المُعَلِّمَةُ تَكَلَّمَتْ مَعَهَا وَقَالَتْ لِمَ لَا تُحَاوِلِينَ؟ إِيْحَتِي عَنْ بَحْثًا عِلْمِيًّا فِي الْإِنْتَرْنِتِ وَ لِاتِّبَاسِي.

- ۱) صحبت می‌کند - تلاش کرد - جستجو کن - ناامید نباش
- ۲) صحبت کرد - تلاش نمی‌کنی - جستجو کن - ناامید نباش
- ۳) صحبت کرد - تلاش نمی‌کنند - بحث کرد - مایوس نمی‌شود
- ۴) صحبت می‌کند - تلاش نمی‌کنی - بحث کن - مایوس نشد

۳۳- در کدام گزینه رابطه میان دو کلمه نادرست است.

- ۱) بَعْتَهُ = فَجَاءَهُ
- ۲) تَعَالَى # إِذْهَبَ
- ۳) عَدَاءٌ = عَدَا
- ۴) إِعْطَاءٌ # أَخَذَ

۳۴- در کدام مجموعه همی کلمات هم خانواده هستند؟

- ۱) معارفه - تعریف - عارف
- ۲) معروف - مرفوع - عارف
- ۳) عرفان - رافع - رفیع
- ۴) معروف - رفیع - تعریف

۳۵- کدام گزینه نادرست است؟

- ۱) يَا أَحِبَّائِي، لَا تَفْعَلُوا.
- ۲) يَا حَبِيبَاتِي، لَا تَفْعَلْنَ.
- ۳) يَا حَبِيبَانِي، لَا تَفْعَلَا.
- ۴) يَا حَبِيبَاتِي، لَا تَفْعَلِي.

۳۶- در کدام جمله فعل از نظر زمان (ماضی، مضارع) با بقیه ناهماهنگ است؟

- ۱) أَنَا وَ زَمِيلَتِي تَدَبَّرْنَا فِيهَا
- ۲) هِيَ تَرَكَتِ الدَّرَاسَةَ
- ۳) الْأَطْفَالُ تَنَاوَلُوا طَعَامًا لَذِيذًا
- ۴) أَنْتُمْ تَمْشُونَ عَلَى الرُّصِيفِ

۳۷- ترجمه صحیح عبارت (كَانَ أَخِي الْأَصْغَرَ يَعْمَلُ فِي مَزْرَعَتِهِ الْكَبِيرَةِ سَاعَتَيْنِ) کدام گزینه است؟

- ۱) برادر کوچک‌ترم در مزرعه بزرگش دو ساعت کار می‌کرد.
- ۲) برادر بزرگ‌ترم دو ساعت در مزرعه بزرگی کار می‌کند.
- ۳) برادرم دو ساعت در مزرعه بزرگش بود.
- ۴) برادر کوچک‌ترم ساعت‌ها در مزرعه بزرگی کار می‌کرد.

۳۸- در کدام جمله اسم جمع مکسر و جمع مذکر سالم وجود دارد؟

- ۱) الطَّلَابُ يَدْرُسُونَ فِي الْجَامِعَاتِ
- ۲) هُنَّ سَمِعْنَ مِنْ بَعِيدٍ أَصْوَاتَ الصَّيَادِينِ
- ۳) فِي أَكْثَرِ الْأَوْقَاتِ يَحْدُثُ لَهُمْ صَعْفٌ فِي السَّاقِينِ
- ۴) الْمُهَنْدِسُونَ صَنَعُوا جِسْرًا لِعُبُورِ السِّيَارَاتِ

۳۹- در کدام گزینه، نقش درست کلمات مشخص شده است؟ (هُوَ أَوَّلُ مَنْ صَنَعَ مُخْتَبَرًا لِلأَبْحَاثِ الصَّنَاعِيَّةِ.)

- (۱) مضاف الیه - صفت
(۲) مضاف - مضاف الیه
(۳) موصوف - صفت
(۴) صفت - مضاف الیه

۴۰- برای ساعت «۸:۴۵» کدام گزینه درست است؟

- (۱) النَّاسِعَةُ إِلَّا زُبْعًا
(۲) الثَّامِنَةُ إِلَّا زُبْعًا
(۳) النَّاسِعَةُ وَ زُبْعًا
(۴) الثَّامِنَةُ وَ زُبْعًا

۴۱- کدام گزینه برای تکمیل جاهای خالی در جمله زیر مناسب است؟

- (یا أَيُّهَا الزَّمِيلَتَانِ و إلى المَدْرَسَةِ، وَ لَكِن أَيُّهَا الطَّلَابُ مِنَ المَكْتَبَةِ.)
(۱) لَا تَلْعَبِي، أَدْخُلِي، أَخْرُجِي
(۲) لَا تَلْعَبِي، أَدْخُلَا، أَخْرُجَا
(۳) لَا تَلْعَبَا، أَدْخُلْنَ، أَخْرُجُوا
(۴) لَا تَلْعَبَا، أَدْخُلَا، أَخْرُجُوا

۴۲- مفهوم کدام جمله درست است؟

- (۱) شَرَفُ المَرْءِ بِالأَصْلِ وَ النِّسْبِ
(۲) العِلْمُ وَ المَالُ يَكْشِفَانِ كُلَّ عَيْبٍ
(۳) مَنْ كَثُرَ كَلَامُهُ قَلَّ خَطْوُهُ
(۴) العَاقِلُ مَنْ يَعْرِفُ خَيْرَ الشَّرِّينِ

۴۳- کدام عبارت از جهت مفهوم با کلمه مورد نظر درست است؟

- (۱) السُّوقُ : فِي هَذَا المَكَانِ بَضَائِعٌ لِلبَيْعِ وَ الشَّرَاءِ.
(۲) الرِّزَابُ: الشَّخْصُ الَّذِي يُحِبُّ العَمَلَ وَ يُحَاوِلُ كَثِيرًا.
(۳) المَطَرُ: مَكَانٌ فِي جَانِبِ الشَّارِعِ يَعْبُرُ النَّاسُ عَلَيْهِ.
(۴) الرَّائِدُ: هُوَ الَّذِي لَا يَطْلُبُ لَكَ الخَيْرَ بَلْ يَطْلُبُ الشَّرَّ.

۴۴- در کدام گزینه ضرب المثل های عربی با مفهوم فارسی مقابل آن ناهمگون است؟

- (۱) عَصْفُورٌ فِي اليَدِ خَيْرٌ مِنْ عَشْرَةِ عَلَيَّ الشَّجَرَةِ. (سرکه نقد به از، حلواى نسيه)
(۲) مَا تَزْرَعُ فِي الدُّنْيَا تَخْضُدُ فِي الآخِرَةِ. (هر چه کنی به خود کنی، گر همه نیک و بد کنی)
(۳) مَنْ طَلَبَ أَخًا يَلَا عَيْبَ بَقِيَّ بِلَا أَخٍ. (کل بی خار فقط خداست)
(۴) هَذَا الفَرَسُ وَ هَذَا المَيْدَانُ. (عاقبت جوینده یابنده است)

۴۵- پاسخ درست سوال (یا أَيُّهَا المُجَاهِدُونَ: أتعرفونَ الشَّهيدَ الحَاجَّ قاسمَ سَليمانِي؟)

- (۱) نَعَمْ نَعْرِفُهُ
(۲) نَعَمْ عَرَفْتُكَ
(۳) لَا نَعْرِفُكَ
(۴) نَعَمْ أَعْرِفُهُ

مطالعات اجتماعی

۴۶- عرض جغرافیایی نقطه قطب شمال چند درجه است؟

- (۱) ۱۸۰ درجه (۲) صفر درجه (۳) ۹۰ درجه (۴) ۳۶۰ درجه

۴۷- اگر نقطه ای در فاصله ۷۵ درجه از نصف النهار مبدأ باشد، چند ساعت از آن فاصله دارد؟
 (۱) ۴ ساعت (۲) ۶ ساعت (۳) ۲ ساعت (۴) ۵ ساعت

۴۸- در متن زیر به چند زیست بوم مهم جهان اشاره شده است؟
 «از نظر تنوع جانوری بسیار غنی است و علف خواران تنومند و گوشت خواران درنده در آن دیده می شود و نیز عقاب کاکل سفید، گرگ خاکستری و مارمولک خاردار از نمونه های مهم جانوری زیست بوم های جهان هستند.»

(۱) ۳ مورد (۲) ۲ مورد
 (۳) ۴ مورد (۴) ۵ مورد

۴۹- مشکلات زیر به دلیل رشد سریع شهرنشینی در بیشتر کشورها بدون برنامه ریزی برای سکونت جمعیت زیاد رخ می دهد بجز؟

(۱) افزایش اختلاف طبقاتی (۲) کاهش زاغه نشینی در حومه شهرها
 (۳) ترافیک سنگین و آلودگی هوا (۴) افزایش افراد بی خانمان

۵۰- کدامیک از پیامدهای ناخوشایند گرم شدن کره زمین نیست؟

(۱) وقوع خشکسالی در مناطق گرم (۲) زیر آب رفتن نواحی ساحلی
 (۳) پایین رفتن آب دریاها (۴) ذوب شدن یخ های قطبی

۵۱- کدامیک از حکومت های زیر به ترتیب به حکومت «آرامش و آسایش گذرا» و «حکومت ناپایدار» معروف بود؟

(۱) قاجاریه-زندیه (۲) افشاریه-صفویه (۳) صفویه-قاجاریه (۴) زندیه-افشاریه

۵۲- همزمان با به قدرت رسیدن کدام سلسله، کشورهای اروپایی وارد قرون جدید شده بودند؟

(۱) صفویه (۲) قاجاریه (۳) افشاریه (۴) زندیه

۵۳- چه کسی برای آگاهی از اوضاع کشورهای اروپایی دستور داد کتاب هایی را در موضوع تاریخ آن کشورها به فارسی ترجمه کنند؟

(۱) امیر کبیر (۲) عباس میرزا (۳) میرزا حسن رشديه (۴) وثوق الدوله

۵۴- کدام کشور جزو متحدین در جنگ جهانی اول نیست؟

(۱) آلمان (۲) روسیه (۳) اتریش (۴) ایتالیا

۵۵- انگلیسی ها چه کسی را به عنوان مهره سیاسی کودتای ۱۲۹۹ برگزیدند؟

(۱) سید ضیاء الدین طباطبایی (۲) رضاخان (۳) سرلشکر فضل الله زاهدی (۴) دکتر محمد مصدق

۵۶- کدامیک از موارد زیر هنجار محسوب می شود؟

(۱) داشتن لباس گران قیمت (۲) سرود ملی کشور (۳) اول شدن در مسابقه (۴) هدیه دادن به کسی

۵۷- نسبت جامعه و فرهنگ با کدامیک از موارد زیر تشابه دارد؟

(۱) قطعات تلفن همراه به نرم افزار آن (۲) قوانین مدرسه به دانش آموزان
 (۳) موتور خودرو به بدنه آن (۴) محتوای درس به کتاب

۵۸- زهرا دانش آموز خوش بین و پرتلاشی است. به همین دلیل در رشته های ورزشی همیشه نقش رهبر گروه را بر عهده دارد. مشخص کنید کدامیک از ابعاد هویتی او بر دیگری تأثیر داشته باشد؟

- (۱) اجتماعی بر فردی
(۲) جسمانی بر اخلاقی
(۳) اجتماعی بر جسمانی
(۴) فردی بر اجتماعی

۵۹- مدیر یک کارگاه تولید شکلات قصد دارد با یک اقدام به «بهره وری سبز» کمک کند شما کدامیک از فعالیت های زیر را برای این موضوع پیشنهاد می کنید؟

- (۱) میزان تبلیغات و بازاریابی خود را افزایش دهد.
(۲) پاداش کارگران را زیاد کند تا تولید افزایش یابد.
(۳) در بسته بندی محصولات تغییر دهد تا پلاستیک و کاغذ کمتر مصرف شود.
(۴) دستگاهی بخرد که تعداد بیشتری بیسکوئیت را در یک ساعت بسته بندی کند.

۶۰- در تعریف مهم ترین ویژگی مشترک جامعه ایرانی کدامیک نادرست بیان شده است؟

- (۱) سرزمین از مهم ترین عناصر تشکیل دهنده هویت ملی است و از آن تا پای جان دفاع می کنند.
(۲) تکلم به زبان فارسی در دوران پس از اسلام رواج یافت و به عنوان زبان آموزشی و اداری به کار رفت.
(۳) فرهنگ مردم ما بر اساس دین اسلام است و بیشتر مردم ایران مسلمان هستند.
(۴) پس از ورود اسلام به ایران، عقاید و ارزش های اسلامی سبب دگر گونی بزرگی در فرهنگ ایرانیان شد.

زبان انگلیسی

۶۱. Which sentence is grammatically correct?

- ۱) She often is at school before his friends.
۲) The police help lost children.
۳) He do his homework on the weekend.
۴) What days you and your friend play sports?

۶۲. Let me see! It`s bleeding anyone a plaster?

- ۱) Does-have ۲) Do-has ۳) Does-has ۴) Do-have

۶۳. A: "What happened to him?"

B: "He..... see the ball and he.....down."

- ۱) doesn`t-fall ۲) didn`t -fall ۳) didn`t-fell ۴) doesn`t -fell

۶۴. The little boy burned his hand and started.....

- ۱) singing ۲) thinking ۳) crying ۴) climbing

۶۵. I have a funny cat. I bought.....last week.name is "Kitten".

- ۱) it-Its ۲) it-It`s ۳) it`s-It ۴) it -It is

۶۶. Whatwhen you saw him?

- ۱) do you do ۲) did you do ۳) are you doing ۴) were you do

۶۷. A: "Did she participate in the online course?"

B: "No, her laptop didn`t work and she could not"

- ۱) install an antivirus program ۲) change the TV channel
۳) connect to the internet ۴) update her blog

۶۸. A: "Did your classmate go to the post office this morning?"

B: "No, not yet. Shethere right now."

- ۱) goes ۲) went ۳) go ۴) is going

۶۹. A: "What.....the older people give to the children?"

B: "They gave them lucky money in red envelopes."

- ۱) are ۲) did ۳) does ۴) do

۷۰. A: "Is your cousin a.....person?"

B: "Yes, he usually donates blood to save people`s lives."

- ۱) upset ۲) nervous ۳) selfish ۴) helpful

علوم تجربی

۷۱- با توجه به اطلاعات جدول کدام گزینه درست است؟

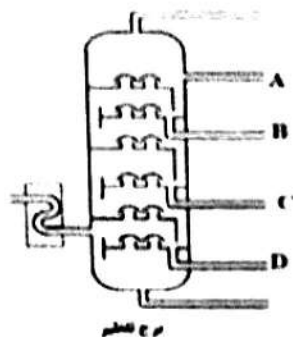
دارای عدد اتمی ۱۱ است.	اتم A
۳ الکترون در مدار آخر دارد	اتم B
مجموع الکترون های مدار دوم و سوم آن ۱۴ تا است.	اتم C

(۲) عدد اتمی B نمی تواند ۵ باشد.

(۱) اتم C می تواند به C^{2+} تبدیل شود.

(۴) A و B با هم ترکیب یونی می سازند.

(۳) از واکنش A و C ترکیبی با فرمول A_2C ایجاد می شود.



۷۲- با توجه به شکل روبرو کدام گزینه درست است؟

- (۱) C سست به B مقاومت کمتری در برابر جاری شدن دارد.
- (۲) نیروی رانش مولکولی و نقطه جوش D از بقیه کمتر است.
- (۳) تعداد مولکول های یک کیلوگرم D بیشتر از تعداد مولکول های یک کیلوگرم A است.
- (۴) بخار B زودتر از بخار A به مایع تبدیل می شود.

۷۳- تعداد پیوندهای اشتراکی در کدامیک بیشتر است؟ (C, O, N, H)

- (۱) کربن دی اکسید (۲) آمونیاک (۳) گاز اکسیژن (۴) آب

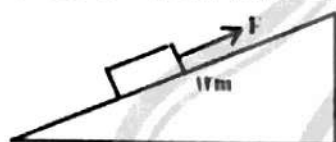
۷۴- هواپیمایی فاصله دو شهر را با تندی ثابت 900 km/h در مدت یک ساعت و سی دقیقه طی می کند اگر این

هواپیما، همان مسیر را با تندی ثابت 600 km/h برگردد، نسبت به مسیر رفت، چند دقیقه دیرتر می رسد؟

- (۱) ۴۵ دقیقه (۲) ۶۵ دقیقه (۳) ۲ ساعت و ۱۵ دقیقه (۴) ۲ ساعت و ۲۵ دقیقه

۷۵- در شکل مقابل وزن جعبه 300 N است اگر نیروی اصطکاک 25 N باشد، حداقل نیروی F برای بالا بردن جعبه

چند نیوتن است؟




- (۱) ۱۰۰ (۲) ۷۵ (۳) ۵۰ (۴) ۲۵

۷۶- در هر یک از دو طرف زیر، دو لیتر آب می ریزیم. فشار ناشی از آب بر کف، ...؟



- (۱) در طرف A بیشتر است (۲) در طرف B بیشتر است
(۳) در هر دو طرف برابر است (۴) نمی توان با هم مقایسه کرد

۷۷- کدامیک از ماشین های زیر موجب صرفه جویی در زمان می شود؟



۷۸- اگر لایه های رسوبی شکل زیر وارونه نشده باشند، فسیل هایی با ساختمان بدنی پیچیده تر را در کدام لایه

باید جستجو کرد؟



- (۱) A (۲) B
(۳) C (۴) D

۷۹- چگالی ورقه اقیانوسی از ورقه قاره ای و ضخامت آن است.

- (۱) بیشتر - بیشتر (۲) بیشتر - کمتر
(۳) کمتر - بیشتر (۴) کمتر - کمتر

۸۰- سن شما در سیاره A بیشتر از زمین است. بنابراین سیاره A حتماً ...؟

- (۱) حالت گازی دارد.
 (۲) نزدیکترین سیاره به خورشید است.
 (۳) بیشتر از یک واحد نجومی از خورشید فاصله دارد.
 (۴) گرمتر از زمین است.

۸۱- عامل بیماری کووید ۱۹..... جلیبک، ماده وراثتی

- (۱) همانند- دارد
 (۲) همانند- ندارد
 (۳) برخلاف- دارد
 (۴) برخلاف- ندارد

۸۲- چه تعداد از موارد زیر در گیاهان بی دانه ای که آوند دارند دیده می شود؟

گل- هاگدان- مخروط- آوند چوبی- ساقه زیر زمینی- تار کشنده

- (۱) ۳ مورد
 (۲) ۴ مورد
 (۳) ۵ مورد
 (۴) ۶ مورد

۸۳- در الف و ب به ترتیب از راست به چپ چه جانوری قرار دهیم تا تساوی زیر از نظر تعداد پاها برقرار شود؟

{ خرخاکی + الف = ملخ + مگس + ب }

- (۱) عنکبوت، میگو
 (۲) پروانه، پشه
 (۳) کنه، خرچنگ
 (۴) عقرب، زنبور

۸۴- کدامیک از موارد زیر در مورد قورباغه صحیح است؟

- (۱) به محض خروج از رحم مادر، با آبخش تنفس می کند.
 (۲) پس از بلوغ، فقط با شش اکسیژن مورد نیاز خود را تأمین می کند.
 (۳) بیشتر غذای قورباغه بالغ را، فراوان ترین بندپایان تشکیل می دهند.
 (۴) از گروه دوزیستان دم دار است.

۸۵- با توجه به زنجیره غذایی مقابل، کدام گزینه به درستی بیان نشده است؟

- (۱) رابطه بین روباه قرمز و جغد از نوع رقابت می باشد.
 (۲) رابطه بین زنبور عسل و راسو، شکار و شکارچی محسوب می شود.
 (۳) با کاهش تعداد راسوها، تعداد روباه های قرمز افزایش می یابد.
 (۴) با کاهش علف ها، تعداد راسوها کاهش می یابد.



ریاضی

۸۶- فاصله بین بزرگترین و کوچکترین عضو مجموعه $\{2x + 1 \mid x \in \mathbb{Z}, -3 \leq x < 4\}$ چند واحد است؟

- (۱) ۲
 (۲) ۱۰
 (۳) ۱۲
 (۴) ۱۴

۸۷- مجموعه $\{3, 6, 9, \dots, 24\}$ چند زیر مجموعه ۳ عضوی دارد که بزرگترین عضو آن ۱۵ باشد؟

- (۱) ۶
 (۲) ۱۶
 (۳) ۲۱
 (۴) ۳۵

۸۸- ظرفی حاوی پنج مهره آبی و چهار مهره قرمز است. دو مهره به تصادف و بدون برگشت، از ظرف خارج می‌کنیم، احتمال اینکه مهره اول قرمز و مهره دوم آبی باشد، برابر کدام گزینه است؟

$$\frac{5}{18} \quad (4)$$

$$\frac{20}{81} \quad (3)$$

$$\frac{1}{20} \quad (2)$$

$$\frac{2}{9} \quad (1)$$

۸۹- چند عدد طبیعی کمتر از ۶۰ وجود دارد که اگر به جای a قرارگیرد، کسر $\frac{a}{6}$ مختوم می‌شود.

$$6 \quad (4)$$

$$9 \quad (3)$$

$$19 \quad (2)$$

$$40 \quad (1)$$

۹۰- اگر $3 < a < 4$ باشد حاصل عبارت زیر را محاسبه کنید.

$$\sqrt{a^2 - 8a + 16} - |a - 5| - |2a - 1| =$$

$$2(a + 1) \quad (4)$$

$$10 \quad (3)$$

$$-2a \quad (2)$$

$$-4a + 10 \quad (1)$$

۹۱- دو مثلث متشابه‌اند، اندازه اضلاع مثلث اول ۱۲، ۲۰ و ۱۶ سانتی متر است. اگر محیط مثلث دوم ۳۶ سانتی متر باشد. مساحت مثلث دوم چند سانتی متر مربع است؟

$$54 \quad (4)$$

$$\frac{512}{3} \quad (3)$$

$$148 \quad (2)$$

$$72 \quad (1)$$

www.tizline.ir

۹۲- حاصل عبارت زیر کدام گزینه است؟

$$\frac{3\sqrt{12} - \sqrt{147} + \sqrt{48}}{3\sqrt{6}} =$$

$$-\frac{2\sqrt{2}}{3} \quad (4)$$

$$-\frac{\sqrt{2}}{2} \quad (3)$$

$$\frac{2\sqrt{2}}{3} \quad (2)$$

$$\frac{\sqrt{2}}{2} \quad (1)$$

۹۳- حاصل چه تعداد از عبارت های زیر منفی است؟

$$(-7)^{-4}, \quad -3^{-4}, \quad -3^{25}, \quad \left[-\left(-\frac{2}{3}\right)^{-2} \right]^{-1}$$

$$4 \quad (4)$$

$$3 \quad (3)$$

$$2 \quad (2)$$

$$1 \quad (1)$$

۹۴- به ازای چند عدد طبیعی n حاصل عبارت $|n^2 - 6n + 5|$ عددی اول خواهد شد؟

۲ (۴)

۳ (۳)

۴ (۲)

۱ (بینهایت)

۹۵- کدامیک از چند جمله‌ای‌های زیر بر $x + 2$ بخش پذیر نیست؟

$2x^2 - 3x^2 - 2x$ (۲)

$x^2 + x^2 - 2x$ (۱)

$x^2 - 4x^2$ (۴)

$x^2 + 4x + 4$ (۳)

۹۶- از نقطه $\begin{bmatrix} 2 \\ -1 \end{bmatrix}$ خطی موازی با خط $4x + 2y = 6$ رسم کرده‌ایم، این خط از کدام نقطه عبور می‌کند؟


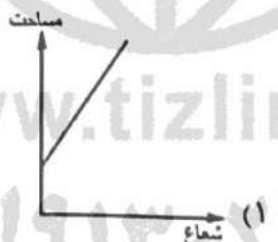
$\begin{bmatrix} 3 \\ 9 \end{bmatrix}$ (۴)

$\begin{bmatrix} -3 \\ -3 \end{bmatrix}$ (۳)

$\begin{bmatrix} 1 \\ -1 \end{bmatrix}$ (۲)

$\begin{bmatrix} -1 \\ 5 \end{bmatrix}$ (۱)

۹۷- کدامیک از نمودارهای زیر رابطه بین مساحت جانبی کره و شعاع آن را نمایش می‌دهد؟



۹۸- ساده شده عبارت مقابل در کدام گزینه آمده است؟

$$\frac{\frac{1-x}{1+x} - \frac{1+x}{1-x}}{\left(\frac{1}{1+x} - 1\right)\left(\frac{1+x}{1-x} - 1\right)}$$

$\frac{x}{2}$ (۴)

$\frac{2}{x}$ (۳)

$2x$ (۲)

1 (۱)

۹۹- عبارت گویای زیر به ازای چند مقدار حقیقی a تعریف نمی شود؟

$$\frac{\frac{1}{2+a}}{2+\frac{2}{1-a}}$$

۴ (۴)

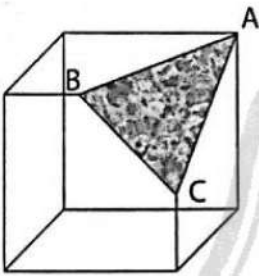
۳ (۳)

۲ (۲)

۱ (۱)

۱۰۰- از مکعبی به حجم ۶۴ واحد، مطابق شکل زیر یک هرم برش زده ایم، به طوریکه دو رأس B و C وسط اضلاع

مکعب هستند. حجم هرم جدا شده را بدست آورید؟



$7\sqrt{5}$ (۴)

$4\sqrt{5}$ (۳)

$\frac{16}{3}$ (۲)

$\frac{8}{3}$ (۱)

www.tizline.ir

۰۲۱۹۱۳۰۲۲۰۲

پاسخنامه کلیدی آزمون نمونه دولتی

استان‌های کرمان، سیستان و بلوچستان، کرمانشاه، هرمزگان، بوشهر،

خراسان شمالی، خراسان جنوبی و کهگیلویه و بویراحمد ۱۴۰۲-۱۴۰۱

۱	<input type="checkbox"/>	<input type="checkbox"/>	<input checked="" type="checkbox"/>	<input type="checkbox"/>	۱۱	<input type="checkbox"/>	<input type="checkbox"/>	<input checked="" type="checkbox"/>	<input type="checkbox"/>	۲۱	<input checked="" type="checkbox"/>	<input type="checkbox"/>	<input type="checkbox"/>	<input type="checkbox"/>	۳۱	<input type="checkbox"/>	<input type="checkbox"/>	<input type="checkbox"/>	<input checked="" type="checkbox"/>
۲	<input type="checkbox"/>	<input checked="" type="checkbox"/>	<input type="checkbox"/>	<input type="checkbox"/>	۱۲	<input type="checkbox"/>	<input checked="" type="checkbox"/>	<input type="checkbox"/>	<input type="checkbox"/>	۲۲	<input type="checkbox"/>	<input type="checkbox"/>	<input type="checkbox"/>	<input checked="" type="checkbox"/>	۳۲	<input type="checkbox"/>	<input checked="" type="checkbox"/>	<input type="checkbox"/>	<input type="checkbox"/>
۳	<input type="checkbox"/>	<input type="checkbox"/>	<input checked="" type="checkbox"/>	<input type="checkbox"/>	۱۳	<input checked="" type="checkbox"/>	<input type="checkbox"/>	<input type="checkbox"/>	<input type="checkbox"/>	۲۳	<input type="checkbox"/>	<input checked="" type="checkbox"/>	<input type="checkbox"/>	<input type="checkbox"/>	۳۳	<input type="checkbox"/>	<input type="checkbox"/>	<input checked="" type="checkbox"/>	<input type="checkbox"/>
۴	<input type="checkbox"/>	<input type="checkbox"/>	<input type="checkbox"/>	<input checked="" type="checkbox"/>	۱۴	<input type="checkbox"/>	<input checked="" type="checkbox"/>	<input type="checkbox"/>	<input type="checkbox"/>	۲۴	<input type="checkbox"/>	<input checked="" type="checkbox"/>	<input type="checkbox"/>	<input type="checkbox"/>	۳۴	<input checked="" type="checkbox"/>	<input type="checkbox"/>	<input type="checkbox"/>	<input type="checkbox"/>
۵	<input checked="" type="checkbox"/>	<input type="checkbox"/>	<input type="checkbox"/>	<input type="checkbox"/>	۱۵	<input type="checkbox"/>	<input checked="" type="checkbox"/>	<input type="checkbox"/>	<input type="checkbox"/>	۲۵	<input type="checkbox"/>	<input checked="" type="checkbox"/>	<input type="checkbox"/>	<input type="checkbox"/>	۳۵	<input type="checkbox"/>	<input type="checkbox"/>	<input type="checkbox"/>	<input checked="" type="checkbox"/>
۶	<input type="checkbox"/>	<input type="checkbox"/>	<input checked="" type="checkbox"/>	<input type="checkbox"/>	۱۶	<input type="checkbox"/>	<input type="checkbox"/>	<input type="checkbox"/>	<input checked="" type="checkbox"/>	۲۶	<input type="checkbox"/>	<input type="checkbox"/>	<input type="checkbox"/>	<input checked="" type="checkbox"/>	۳۶	<input type="checkbox"/>	<input type="checkbox"/>	<input type="checkbox"/>	<input checked="" type="checkbox"/>
۷	<input type="checkbox"/>	<input checked="" type="checkbox"/>	<input type="checkbox"/>	<input type="checkbox"/>	۱۷	<input type="checkbox"/>	<input type="checkbox"/>	<input checked="" type="checkbox"/>	<input type="checkbox"/>	۲۷	<input type="checkbox"/>	<input type="checkbox"/>	<input type="checkbox"/>	<input checked="" type="checkbox"/>	۳۷	<input checked="" type="checkbox"/>	<input type="checkbox"/>	<input type="checkbox"/>	<input type="checkbox"/>
۸	<input type="checkbox"/>	<input checked="" type="checkbox"/>	<input type="checkbox"/>	<input checked="" type="checkbox"/>	۱۸	<input type="checkbox"/>	<input type="checkbox"/>	<input checked="" type="checkbox"/>	<input type="checkbox"/>	۲۸	<input type="checkbox"/>	<input checked="" type="checkbox"/>	<input type="checkbox"/>	<input type="checkbox"/>	۳۸	<input type="checkbox"/>	<input checked="" type="checkbox"/>	<input type="checkbox"/>	<input type="checkbox"/>
۹	<input type="checkbox"/>	<input type="checkbox"/>	<input checked="" type="checkbox"/>	<input checked="" type="checkbox"/>	۱۹	<input type="checkbox"/>	<input type="checkbox"/>	<input type="checkbox"/>	<input checked="" type="checkbox"/>	۲۹	<input checked="" type="checkbox"/>	<input type="checkbox"/>	<input checked="" type="checkbox"/>	<input type="checkbox"/>	۳۹	<input type="checkbox"/>	<input type="checkbox"/>	<input checked="" type="checkbox"/>	<input type="checkbox"/>
۱۰	<input checked="" type="checkbox"/>	<input type="checkbox"/>	<input type="checkbox"/>	<input type="checkbox"/>	۲۰	<input type="checkbox"/>	<input checked="" type="checkbox"/>	<input type="checkbox"/>	<input type="checkbox"/>	۳۰	<input type="checkbox"/>	<input type="checkbox"/>	<input checked="" type="checkbox"/>	<input type="checkbox"/>	۴۰	<input checked="" type="checkbox"/>	<input type="checkbox"/>	<input type="checkbox"/>	<input type="checkbox"/>

۴۱	<input type="checkbox"/>	<input type="checkbox"/>	<input type="checkbox"/>	<input checked="" type="checkbox"/>	۵۱	<input type="checkbox"/>	<input type="checkbox"/>	<input type="checkbox"/>	<input checked="" type="checkbox"/>	۶۱	<input type="checkbox"/>	<input checked="" type="checkbox"/>	<input type="checkbox"/>	<input type="checkbox"/>	۷۱	<input type="checkbox"/>	<input type="checkbox"/>	<input checked="" type="checkbox"/>	<input type="checkbox"/>
۴۲	<input type="checkbox"/>	<input type="checkbox"/>	<input type="checkbox"/>	<input checked="" type="checkbox"/>	۵۲	<input checked="" type="checkbox"/>	<input type="checkbox"/>	<input type="checkbox"/>	<input type="checkbox"/>	۶۲	<input checked="" type="checkbox"/>	<input type="checkbox"/>	<input type="checkbox"/>	<input type="checkbox"/>	۷۲	<input type="checkbox"/>	<input type="checkbox"/>	<input type="checkbox"/>	<input checked="" type="checkbox"/>
۴۳	<input checked="" type="checkbox"/>	<input type="checkbox"/>	<input type="checkbox"/>	<input type="checkbox"/>	۵۳	<input type="checkbox"/>	<input checked="" type="checkbox"/>	<input type="checkbox"/>	<input type="checkbox"/>	۶۳	<input type="checkbox"/>	<input type="checkbox"/>	<input checked="" type="checkbox"/>	<input type="checkbox"/>	۷۳	<input checked="" type="checkbox"/>	<input type="checkbox"/>	<input type="checkbox"/>	<input type="checkbox"/>
۴۴	<input type="checkbox"/>	<input type="checkbox"/>	<input type="checkbox"/>	<input checked="" type="checkbox"/>	۵۴	<input type="checkbox"/>	<input checked="" type="checkbox"/>	<input type="checkbox"/>	<input type="checkbox"/>	۶۴	<input type="checkbox"/>	<input type="checkbox"/>	<input checked="" type="checkbox"/>	<input type="checkbox"/>	۷۴	<input checked="" type="checkbox"/>	<input type="checkbox"/>	<input type="checkbox"/>	<input type="checkbox"/>
۴۵	<input checked="" type="checkbox"/>	<input type="checkbox"/>	<input type="checkbox"/>	<input type="checkbox"/>	۵۵	<input checked="" type="checkbox"/>	<input type="checkbox"/>	<input type="checkbox"/>	<input type="checkbox"/>	۶۵	<input checked="" type="checkbox"/>	<input type="checkbox"/>	<input type="checkbox"/>	<input type="checkbox"/>	۷۵	<input checked="" type="checkbox"/>	<input type="checkbox"/>	<input type="checkbox"/>	<input type="checkbox"/>
۴۶	<input type="checkbox"/>	<input type="checkbox"/>	<input checked="" type="checkbox"/>	<input type="checkbox"/>	۵۶	<input type="checkbox"/>	<input type="checkbox"/>	<input type="checkbox"/>	<input checked="" type="checkbox"/>	۶۶	<input type="checkbox"/>	<input checked="" type="checkbox"/>	<input type="checkbox"/>	<input type="checkbox"/>	۷۶	<input type="checkbox"/>	<input type="checkbox"/>	<input checked="" type="checkbox"/>	<input type="checkbox"/>
۴۷	<input type="checkbox"/>	<input type="checkbox"/>	<input type="checkbox"/>	<input checked="" type="checkbox"/>	۵۷	<input type="checkbox"/>	<input type="checkbox"/>	<input type="checkbox"/>	<input type="checkbox"/>	۶۷	<input type="checkbox"/>	<input type="checkbox"/>	<input checked="" type="checkbox"/>	<input type="checkbox"/>	۷۷	<input type="checkbox"/>	<input checked="" type="checkbox"/>	<input type="checkbox"/>	<input type="checkbox"/>
۴۸	<input checked="" type="checkbox"/>	<input type="checkbox"/>	<input type="checkbox"/>	<input type="checkbox"/>	۵۸	<input type="checkbox"/>	<input type="checkbox"/>	<input checked="" type="checkbox"/>	<input type="checkbox"/>	۶۸	<input type="checkbox"/>	<input type="checkbox"/>	<input type="checkbox"/>	<input checked="" type="checkbox"/>	۷۸	<input type="checkbox"/>	<input type="checkbox"/>	<input checked="" type="checkbox"/>	<input type="checkbox"/>
۴۹	<input type="checkbox"/>	<input checked="" type="checkbox"/>	<input type="checkbox"/>	<input type="checkbox"/>	۵۹	<input type="checkbox"/>	<input type="checkbox"/>	<input checked="" type="checkbox"/>	<input type="checkbox"/>	۶۹	<input type="checkbox"/>	<input checked="" type="checkbox"/>	<input type="checkbox"/>	<input type="checkbox"/>	۷۹	<input type="checkbox"/>	<input checked="" type="checkbox"/>	<input type="checkbox"/>	<input type="checkbox"/>
۵۰	<input type="checkbox"/>	<input type="checkbox"/>	<input checked="" type="checkbox"/>	<input type="checkbox"/>	۶۰	<input type="checkbox"/>	<input checked="" type="checkbox"/>	<input type="checkbox"/>	<input type="checkbox"/>	۷۰	<input type="checkbox"/>	<input type="checkbox"/>	<input type="checkbox"/>	<input checked="" type="checkbox"/>	۸۰	<input type="checkbox"/>	<input type="checkbox"/>	<input type="checkbox"/>	<input checked="" type="checkbox"/>

۸۱	<input checked="" type="checkbox"/>	<input type="checkbox"/>	<input type="checkbox"/>	<input type="checkbox"/>	۹۱	<input type="checkbox"/>	<input type="checkbox"/>	<input type="checkbox"/>	<input checked="" type="checkbox"/>
۸۲	<input type="checkbox"/>	<input checked="" type="checkbox"/>	<input type="checkbox"/>	<input type="checkbox"/>	۹۲	<input checked="" type="checkbox"/>	<input type="checkbox"/>	<input type="checkbox"/>	<input type="checkbox"/>
۸۳	<input type="checkbox"/>	<input type="checkbox"/>	<input checked="" type="checkbox"/>	<input type="checkbox"/>	۹۳	<input type="checkbox"/>	<input checked="" type="checkbox"/>	<input type="checkbox"/>	<input type="checkbox"/>
۸۴	<input type="checkbox"/>	<input type="checkbox"/>	<input checked="" type="checkbox"/>	<input type="checkbox"/>	۹۴	<input type="checkbox"/>	<input type="checkbox"/>	<input checked="" type="checkbox"/>	<input type="checkbox"/>
۸۵	<input type="checkbox"/>	<input type="checkbox"/>	<input checked="" type="checkbox"/>	<input type="checkbox"/>	۹۵	<input type="checkbox"/>	<input checked="" type="checkbox"/>	<input type="checkbox"/>	<input type="checkbox"/>
۸۶	<input type="checkbox"/>	<input type="checkbox"/>	<input checked="" type="checkbox"/>	<input type="checkbox"/>	۹۶	<input checked="" type="checkbox"/>	<input type="checkbox"/>	<input type="checkbox"/>	<input type="checkbox"/>
۸۷	<input checked="" type="checkbox"/>	<input type="checkbox"/>	<input type="checkbox"/>	<input type="checkbox"/>	۹۷	<input type="checkbox"/>	<input type="checkbox"/>	<input type="checkbox"/>	<input checked="" type="checkbox"/>
۸۸	<input type="checkbox"/>	<input type="checkbox"/>	<input checked="" type="checkbox"/>	<input type="checkbox"/>	۹۸	<input type="checkbox"/>	<input type="checkbox"/>	<input checked="" type="checkbox"/>	<input type="checkbox"/>
۸۹	<input type="checkbox"/>	<input checked="" type="checkbox"/>	<input type="checkbox"/>	<input type="checkbox"/>	۹۹	<input type="checkbox"/>	<input type="checkbox"/>	<input checked="" type="checkbox"/>	<input type="checkbox"/>
۹۰	<input type="checkbox"/>	<input checked="" type="checkbox"/>	<input type="checkbox"/>	<input type="checkbox"/>	۱۰۰	<input checked="" type="checkbox"/>	<input type="checkbox"/>	<input type="checkbox"/>	<input type="checkbox"/>

تیزلاین، آکادمی به وسعت ایران

