



آکادمی آنلاین تیزلاین قوی ترین پلتفرم آموزشی تیز هوشان

برگزار کننده کلاس های آنلاین و حضوری تیز هوشان ✓

و المپیاد از پایه چهارم تا دوازدهم

آزمون های آنلاین و حضوری ✓

مشاوره تخصصی ✓

با اسکن QR کد روبرو
وارد صفحه اینستاگرام
آکادمی تیزلاین شو و از
محتواهای آموزشی
رایگان لذت ببر



برای ورود به صفحه اصلی سایت آکادمی تیزلاین کلیک کنید

برای دانلود دفترچه آزمون های مختلف برای هر پایه کلیک کنید

برای مطالعه مقالات بروز آکادمی تیزلاین کلیک کنید



آزمون ورودی پایه دهم

دبیرستان‌ها و هنرستان‌های نمونه دولتی دوره دوم متوسطه

سال تحصیلی ۱۴۰۱-۱۴۰۲

زمان آزمون: ساعت ۹ صبح روز جمعه ۱۴۰۱/۰۴/۰۳

ذکرات مهم:

- ۱- پاسخ صحیح را فقط با مداد سیاه نرم در پاسخنامه به صورت (■) علامت بزنید.
- ۲- به ازای هر پاسخ صحیح ۳ امتیاز مثبت و به ازای هر پاسخ غلط یک امتیاز منفی به داوطلب تعلق می‌گیرد.
- ۳- برای سوالات بدون پاسخ امتیازی در نظر گرفته نمی‌شود.
- ۴- چنانچه داوطلب در هر سوال بیش از یک گزینه را علامت زده باشد، یک امتیاز منفی برای او منظور خواهد شد.
- ۵- این آزمون دارای ۱۰۰ سوال و مدت پاسخگویی به آن‌ها ۱۲۰ دقیقه می‌باشد.

شماره صندلی:

نام و نام خانوادگی:

نام حوزه:

ناحیه / منطقه:

تا شماره	از شماره	تعداد سوال	ماده درسی
۱۵	۱	۱۵	آموزش قرآن و پیام‌های آسمان
۳۰	۱۶	۱۵	فارسی
۴۵	۳۱	۱۵	عربی
۶۰	۴۶	۱۵	مطالعات اجتماعی (جغرافیا، تاریخ، مدنی)
۷۰	۶۱	۱۰	زبان انگلیسی
۸۵	۷۱	۱۵	علوم تجربی
۱۰۰	۸۶	۱۵	ریاضی

بسمه تعالی

سوالات دروس «آموزش قرآن و پیام های آسمان»

- ۱- ترجمه‌ی درست مفاهیم داده شده در کدام گزینه به ترتیب آورده شده است؟ رینظرونَ - تبار - عدن -
- (۱) نگاه می‌کنند - نابودی - دشمنی
 - (۲) دقت می‌کنند - هلاکت - جاودان
 - (۳) نگاه می‌کنند - طایفه - عداوت
 - (۴) چشم‌داشت - نابودی - جاودان

۲- با توجه به مفهوم، برای جای خالی کلمه‌ی مناسب انتخاب کنید.

« رَبُّ الْمَشْرِقِ وَالْمَغْرِبِ لَا إِلَهَ إِلَّا هُوَ هُ وَكَيْلًا »

- (۱) اِتَّخَذَ
- (۲) اِذْهَبَ
- (۳) اِغْفِرْ
- (۴) اَنْذِرْ

۳- کدام یک از عبارات قرآنی داده شده درست ترجمه شده است؟

- (۱) اَنَا الْمُتْرَمُونَ: واقعا ما سود برده‌ایم
- (۲) فَهَلْ مِنْ مُدْكِرٍ: پس آیا هیچ پند گیرنده‌ای است
- (۳) سَاءَ مَا يَحْكُمُونَ: چه خوب حکم می‌کنند
- (۴) اَنْ اَنْذِرْ قَوْمَكَ: وقتی هشدار دادی قومت را

۴- ترجمه‌ی آیه‌ی شریفه‌ی « اِنَّمَا الْمُؤْمِنُونَ اِخْوَةٌ » کدامیک از گزینه‌های زیر می‌باشد؟

- (۱) قطعا مومنان با هم برادرند
- (۲) قطعا فقط مومنان با هم برادرند
- (۳) مومنان با هم برابرند
- (۴) مومنان، فقط با هم برادرند

۵- کدامیک از آیات زیر با بیت « هر چه کنی به خود کنی » ارتباط معنایی دارد؟

- (۱) لِيَبْلُوَكُمْ اَيْكُمُ اَحْسَنُ عَمَلًا
- (۲) لَا يَسْتَوِي اَصْحَابُ النَّارِ وَاَصْحَابُ الْجَنَّةِ
- (۳) وَالَّذِينَ اٰمَنُوا وَاَعْمَلُوا الصَّالِحَاتِ
- (۴) مَنْ عَمِلَ صَالِحًا فَلْيَنفُسِ بِهِ وَاَمِنْ اَسَاءَ فَعَلِهَا

۶- حدیث معروف رسول خدا (ص) « مَا عَرَفْنَاكَ حَقَّ مَعْرِفَتِكَ » به چه مطلبی اشاره دارد؟

- (۱) منابع محدود برای شناخت خداوند
- (۲) امکان شناخت نامحدود خداوند برای انسان
- (۳) توانایی زیاد و نامحدود انسان برای شناخت خداوند
- (۴) توانایی محدود انسان برای شناخت کامل خداوند

۷- مشوق و محرک برای رفتن به سمت عمل است.

- (۱) ایمان
- (۲) تفکر
- (۳) آگاهی
- (۴) برنامه‌ریزی

۸- مردم زمان پیامبر اکرم (ص) در برابر بُت‌های ساخته شده از سجده می‌کردند و اعتقاد داشتند که آنها مایه‌ی است.

- (۱) طلا و جواهرات - خیر و برکت در زندگیشان
- (۲) سنگ و چوب - خیر و برکت در زندگیشان
- (۳) طلا و جواهرات - پیروی از آباء و اجدادشان
- (۴) سنگ و چوب - پیروی از آباء و اجدادشان

۹- کدامیک از گزینه‌های زیر درباره‌ی عقیده‌ی ظهور امام زمان (عج) صحیح نمی‌باشد؟

- ۱) یاری امام زمان (عج) یعنی یاری دین خدا و فقط مختص دوران ظهور است
- ۲) بهترین کار امت رسول الله انتظار فرج است
- ۳) یکی از شرایط ظهور امام زمان آمادگی مردم جهان برای همراهی با قیام است
- ۴) هدف از قیام امام زمان گسترش عدالت و مهربانی در جهان است

۱۰- به چه دلیل فقیهان نایبان و جانشینان امام زمان (عج) به شمار می‌آیند؟

- ۱) چون فتوای آنان برگرفته از آیات و عقل است
- ۲) چون فتوای آنان برگرفته از سخنان پیامبران است
- ۳) چون فتوای آنان برگرفته از احادیث و عقل است
- ۴) چون فتوای آنان برگرفته از احادیث معصومین و قرآن است

۱۱- وضو گرفتن با د آب نمک غلیظ - آب باران - گلاب ، به ترتیب چه حکمی دارد؟

- ۱) باطل - صحیح - باطل
- ۲) باطل - باطل - صحیح
- ۳) صحیح - صحیح - باطل
- ۴) صحیح - باطل - صحیح

۱۲- کدامیک از بیت‌های زیر به یکی از ویژگی‌های دوستان خوب یعنی داهل گناه نباشد ، اشاره می‌کند؟

- ۱) دوستی با مردم دانا نکوست
- ۲) دوست آن دانم که گیرد دست دوست
- ۳) چون بسی ابلیس آدم روی هست
- ۴) دشمن دانا که غم جان بود

۱۳- کدام آیه با مفهوم داده شده تناسب ندارد؟

- ۱) أَلَا بِذِكْرِ اللَّهِ تَطْمَئِنُّ الْقُلُوبُ: آرامش از آثار ایمان است
- ۲) إِنَّهُ يَعْلَمُ الْجَهْرَ وَمَا يَنْخَفِي: علم خداوند بر همه چیز
- ۳) وَلَا تَهِنُوا وَلَا تَحْزَنُوا وَأَنْتُمُ الْأَعْلَوْنَ: داشتن روحیه‌ی خودباوری و عزت نفس
- ۴) وَأَعِدُّوا لَهُمْ مَا اسْتَطَعْتُمْ مِنْ قُوَّةٍ وَمِنْ رِبَاطِ الْخَيْلِ: آمادگی و اعطای مال به نیازمندان

۱۴- کدامیک از موارد زیر از مبطلات نماز محسوب نمی‌شود؟

- ۱) شکستن نماز برای جلوگیری از ضرر مالی
- ۲) شک در نماز مغرب
- ۳) باطل شدن وضو
- ۴) خوردن و آشامیدن

۱۵- صدقه جاریه به کدام یک از موارد اشاره دارد؟

- ۱) زکات
- ۲) خمس
- ۳) وقف
- ۴) قرض

سوالات درس «فارسی»

۱۶- در کدام گزینه معنی تمامی واژه‌ها صحیح نمی‌باشد؟

- ۱) فراست: هوشمندی ، عزیمت: کوچیدن ، میخ: ابر
- ۲) مقرب: نزدیک شده ، رنجه: غمگین ، جاه: شکوه
- ۳) منزوی: گوشه‌گیر ، صومعه: دیر ، طرآر: دزدی
- ۴) زهره: جرئت ، محاوره: گفتار ، صنع: احسان

۱۷- کدام دو گزینه دارای نادرستی املايي یکسان هستند؟ (تشدید جزء نادرستی املايي محسوب نمی‌گردد)

الف) خوش نماید - صریر ملک - صلهی رهم و احسان - روحیهی خیرخواهی

ب) ثنایی غزنوی - نیکو خصال - قوس قوزح - مهلت و فرست

ج) استاد همزه - عزل کردن - ملازم پدر - حیات معمول

د) غافلۀ عشاق - طعن و هجو - قهظی عظیم - استراق سمع

(۴) ب و د

(۳) ب و ج

(۲) الف و د

(۱) الف و ب

۱۸- کدامیک از گزینه‌های زیر نیاز به ویرایش ندارد؟

۱) دانش آموزان شرکت کننده در آزمون مدرسه حضور به هم رسانیدند

۲) خودخواهی و منیت، بزرگترین مانع رشد و کمال انسان است

۳) حتی یک لامپ اضافی هم باید خاموش گردد

۴) کتاب کیمیای سعادت توسط محمد غزالی نوشته شده است

۱۹- آرایه‌های نوشته شده در مقابل همه گزینه‌ها به جز گزینه درست است.

۱) پایش از آن پویه درآمد زدست مهر دل و مهره‌ی پشتش شکست (مراعات نظیر - کنایه - جناس)

۲) ستودن نداند کس او را چو هست میان بندگی را بیایدت بست (واج آرایی - کنایه - جناس)

۳) تا کی آخر، چو بنفشه سر غفلت در پیش حیف باشد که تو در خوابی و نرگس بیدار (تشخیص - تشبیه - تضاد)

۴) یوسف گم گشته باز آید به کنعان غم مخور کلبه احزان شود روزی گلستان غم مخور (تلمیح - کنایه - مراعات نظیر)

۲۰- نقش کلمه قافیه در کدامیک از گزینه‌های زیر متفاوت است؟

۱) میلاد گل و بهار جان آمد بر خیز که عید می کشان آمد

۲) خاموش مباش زیر این خرقة بر جان جهان دوباره جان آمد

۳) گلزار زعیش لاله باران شد سلطان زمین و آسمان آمد

۴) آماده امر و نهی و فرمان باش هشدار که منجی جهان آمد

۲۱- در کدام گزینه نوع پرسش مانند بیت زیر نمی‌باشد؟

دلا غافل ز سبحانی چه حاصل؟ مطیع نفس شیطانی چه حاصل؟

۱) شب تاریک و بیم موج و گردابی چنین هایل کجا دانند حال ما سبکباران ساحل‌ها؟

۲) ندانی که ایران نشست من است؟ جهان سر به سر زیر دست من است؟

۳) صحنه‌ی جانبازی است اینجا؟! یا زمین بازی است اینجا؟!

۴) چه جای این حرص و هوس باطل است؟ درختی که تو امروز نشانی، میوه‌ی آن کجا توانی خورد؟

۲۲- در کدامیک از بیت‌های زیر ردیف دیده نمی‌شود؟

- (۱) گلاب است گویی به جویش روان
 - (۲) عشق بازی چیست؟ سر در پای جانان باختن
 - (۳) جهان چون زلف و خال و خط و ابروست
 - (۴) هی بیا با من بران این خرس را
- همی شاد گردد زبویش روان
با سر اندر کوی دلبر عشق نتوان باختن
که هر چیزی به جای خویش نیکوست
خرس را مگزین مهل همجنس را

۲۳- ساختمان کدام گروه از واژگان زیر، همگی یکسان است؟

- (۱) جانباز - کاردان - سرکش - خندان
- (۲) باربری - دلدادگی - رستاخیز - سپاهیان
- (۳) برنا - سرما - سپاهان - دره
- (۴) روش - ورزش - جوش - غرش

۲۴- در گزینه‌های زیر وابسته پیشین دیده نمی‌شود، به جز.....

- (۱) آرزو دارم دوستانی داشته باشی، برخی نادوست و برخی دوست دار
 - (۲) همه سر به سر تن به کشتن دهیم
 - (۳) آرزومندم اگر به پول و ثروتی رسیدی، آن را پیش رویت بگذاری و بگویی: این دارایی من است
 - (۴) ملکا ذکر تو گویم که تو پاکی و خدایی
- از آن به که کشور به دشمن دهیم
نروم جز به همان ره که تو ام راهنمایی

۲۵- آثار تمام گزینه‌های زیر به نثر است، به جز.....

- (۱) تذکرة الاولیا - توحید مفضل - مردی که می‌خندد
- (۲) بینوایان - بهارستان - قابوس‌نامه
- (۳) اخلاق ناصری - مجمع النوادر - پرواز شبانه
- (۴) اسرار التوحید - سبک‌شناسی - کارنامه‌ی بلخ

۲۶- در کدام گزینه توضیح نوشته شده درباره‌ی فعل‌های جمله درست است؟

- (۱) پس رابعه به خانه رفت و دایم روزه داشتی
 - (۲) زین گفته سعادت تو جویم
 - (۳) چو خواهی که یابی زهر بد رها
 - (۴) ساعت‌ها در بیابانی خشک و زیر نور خورشید فروزان مانده‌است و سپس به آب می‌رسد
- پس یاد بگیر هرچه گویم
سر اندر نیاری به دام بلا
- (ماضی ساده - ماضی ساده)
(مضارع اخباری - مضارع التزامی)
(مضارع التزامی - مضارع التزامی)
(ماضی نقلی - ماضی استمراری)

۲۷- نوع در، در کدامیک از گزینه‌های زیر مانند مصراع اول بیت زیر است:

- «پرسش تشنگی را تو آبی، جوابی»
- (۱) به چشم بصرت به خود در نگر
 - (۲) ای دل ار سیل فنا بنیاد هستی برکند
 - (۳) کمان را به زه کرد و تیر خدنگ
 - (۴) خوبان پارسی گو، بخشندگان عمرند
- ریگ‌های بیابان تو را می‌شناسند
تو را تا در آینه زنگار نیست
چون تو را نوح است کشتیبان زطوفان غم مخور
بزد بر بر اژدها بی درنگ
ساقی بده بشارت رندان پارسا را

۲۸- پیام کدام بیت با دیگر ابیات متفاوت است:

- کعبه دیدار دوست، صبر بیابان اوست
 تو خود را به گفتار، ناقص مکن
 سرز لش‌ها گر کند خار مگیلان غم مخور
 کس رُطب بی خار از این بُستان نچید

- (۱) سعدی اگر طالبی راه رو و رنج بر
 (۲) کمال است در نفس انسان سَخُن
 (۳) در بیابان گر به شوق کعبه خواهی زد قدم
 (۴) کس غسل بی نیش از این دُکان نخورد

۲۹- معنی و مفهوم کدام گزینه نادرست است؟

- (به گونه ای رفتار نکن که گرفتار شوی و سختی ببینی)
 (خداوند به هر موجودی آنچه نیاز داشته بخشیده است)
 (خوب است مانند خلیل شعله‌ای از آتش برداری)
 (برتری علم و عقل بر اصالت نژادی)

- (۱) مکن کاری که بر پا سنگت آید
 (۲) هر کسی را آنچه به کار باید، داد
 (۳) چون خلیل از شعله گل چیدن خوش است
 (۴) بزرگی خرد و دانش راست نه گوهر را

۳۰- در کدامیک از بیت‌های زیر تخلص دیده نمی‌شود؟

- که رحمت بر آن تربت پاک باد
 هر کجا نور است زانوار خداست
 به میدان وحدت دو گویی مکن
 توان رفت جز بر پی مصطفی

- (۱) چه خوش گفت فردوسی پاکزاد
 (۲) این سخن پروین نه از روی هواست
 (۳) یکی جوی جامی، دو جویی مکن
 (۴) محال است سعدی که راه صفا

سؤالات درس «عربی»

۳۱- معنی صحیح عبارت «کانوا يُحاولون» ، کدام است؟

- (۱) تلاش می‌کردند (۲) تلاش کردند
 (۳) تلاش می‌کردید (۴) تلاش کردید

۳۲- کدام گزینه نسبت به سایر گزینه‌ها هماهنگ است؟

- (۱) حَدَادٌ - مِصْبَاحٌ - شُرْطُطٌ
 (۲) تَحْتٌ - فَوْقٌ - رِيحٌ
 (۳) صَلَّى - سَجَدَ - عَبَدَ
 (۴) شُهُورٌ - غَابَةٌ - أَيَّامٌ

۳۳- وزن کلمه‌های «إِحْضَارٌ - اسْتِخْدَمَ» ، کدام است؟

- (۱) اِفْتَعَلَ - اِفْتِعال
 (۲) اِنْفَعَلَ - اِسْتَفْعَلَ
 (۳) اِنْعَالَ - اِسْتَفْعَلَ
 (۴) اِنْفَعَالَ - اِسْتَفْعَالَ

۳۴- کدام گزینه برای جای خالی مناسب می‌باشد؟

يَجْلِبُ التَّاجِرُ جَدِيدَةً إِلَى دُكَّانِهِ لِلْبَيْعِ.

- (۱) کَهْرْبَائِي (۲) رَيْسِي (۳) صِنَاعَةِ (۴) بَضَائِعِ

۳۵- ترجمه‌ی کدام عبارت صحیح است؟

- (۱) اِقْبَلْ كَلَامَ الْحَقِّ : سخن حق را قبول کردم.
 (۲) اِغْسِلَا اَيْدِيَكُمَا : دستان خود را شستم.
 (۳) اُسْجُدُوا لِلَّهِ : برای خدا سجده کردم.
 (۴) اُرْسِمِي صُورَةَ الشَّهِيدِ : تصویر شهید را نقاشی کن.

۳۶- در کدام گزینه فعل نهمی به کار رفته است؟

(۱) لَا فَقْرَ كَالْجَهْلِ وَلَا مِيرَاثَ كَالْأَدَبِ

(۲) هِيَ تَرَكَّتْ الدَّرَاسَةَ وَ لِأَثْحَبِ المَدْرَسَةَ

(۳) إِزْرَعُ صَدَاقَةً وَ لِاتَّزَرَّعَ عَدَاوَةً

(۴) هُنَّ لَا يَجْلِسْنَ هُنَاكَ

۳۷- پاسخ صحیح برای عبارت «مَتَى تَلْعَيْنَ كُرَّةَ المِنْصَدَةِ» کدام گزینه است؟

(۱) تَلْعَبْنَ ظَهْرًا

(۲) تَلْعَبْنَ مَسَاءً

(۳) تَلْعَبْنَ قَبْلَ غُرُوبِ الشَّمْسِ

(۴) يَلْعَبْنَ صَبَاحًا

۳۸- کدام گزینه در جاهای خالی عبارت‌های «فَإِنَّ الصَّبْرَ مِنَ الإِيمَانِ كَ..... مِنْ.....» است؟

(۱) الرُّأْسِ / الجَسَدِ (۲) الجَسَدِ / الرُّأْسِ (۳) نُورُ / القَلْبِ (۴) مَطَرُ / السَّحَابِ

۳۹- عبارت‌های «فَرَاثَاتُ الحَدِيقَةِ - الأَشْمَاكُ الجَمِيلَةِ» به ترتیب چه نوع ترکیبی هستند؟

(۱) ترکیب وصفی - ترکیب اضافی

(۲) ترکیب وصفی - ترکیب وصفی

(۳) ترکیب اضافی - ترکیب وصفی

(۴) ترکیب اضافی - ترکیب اضافی

۴۰- کدام گزینه به ترتیب جمع مکسر و جمع مونث سالم و جمع مذکر سالم می‌باشد؟

(۱) أَوْرَاقٌ - سَيِّدَاتٌ - رِيَاضِيُونَ

(۲) ذُنُوبٌ - صِعَابٌ - مُسْلِمُونَ

(۳) بَنُونَ - فَاطِمَاتٌ - مُجَاهِدُونَ

(۴) أَمْنَالٌ - زَمِيلَاتٌ - أُمُورٌ

۴۱- ترجمه‌ی «أُخْتِي الكَبِيرَةُ» کدام گزینه است؟

(۱) خواهران بزرگ (۲) خواهرم بزرگ است (۳) بزرگترین خواهرم (۴) خواهر بزرگم

۴۲- ساعت ۸:۴۵ و ۱۰:۱۵ مربوط به کدام گزینه است؟

(۱) الثَّامِنُ وَ الرَّبِيعُ / العَاشِرُ إِلا رُبْعًا

(۲) التَّاسِعَةُ إِلا رُبْعًا / العَاشِرَةُ وَ الرَّبِيعُ

(۳) التَّاسِعَةُ وَ الرَّبِيعُ / العَاشِرَةُ إِلا رُبْعًا

(۴) التَّاسِعَةُ وَ الرَّبِيعُ / العَاشِرُ إِلا رُبْعًا

۴۳- معنی عبارت «وَ أَنَا مُسْتَعِدٌّ لِأَيِّ شَيْءٍ تُرِيدُونَ» کدام گزینه است؟

(۱) من آمادهم از کشورم دفاع کنم

(۲) من تن به ذلت نمی‌دهم

(۳) من آماده هستم برای هر چیزی که از من بخواهید

(۴) من منتظر تماس شما هستم

۴۴- معنی عبارت «أَنْظُرُ إِلَى مَا قَالَ وَ لَا تَنْظُرُ إِلَى مَنْ قَالَ» کدام گزینه است؟

(۱) هر چه کنی به خود کنی گر همه نیک و بد کنی

(۲) نگاه کن به آنچه گفت و نگاه نکن به کسی که گفت

(۳) هنگام عبور از خیابان به هر دو طرف نگاه کن

(۴) بزرگی سراسر به گفتار نیست

۴۵- گزینه‌ی مناسب برای جای خالی عبارت « جازُنَا يَعْمَلُ فِي الْكِرَاسِيَّ ، کدام است؟
(۱) مَلْعَبٌ (۲) مَصْنَعٌ (۳) مَكْتَبٌ (۴) مَزْرِعَةٌ

سوالات درس « مطالعات اجتماعی »

۴۶- بزرگترین سیاره از چهار سیاره‌ی درونی چه نام دارد؟

(۱) مشتری (۲) مریخ (۳) زحل (۴) زمین

۴۷- طول شب و روز در چه زمانی برابر می‌شود؟

(۱) اول دی و اول تیرماه (۲) اول تیر و اول بهار (۳) اول پاییز و اول دی‌ماه (۴) اول بهار و اول پاییز

۴۸- روی نقشه‌ی ناهمواری‌های جهان، رنگ زرد و قهوه‌ای نشانگر چیست؟

(۱) جلگه‌ها و دشت‌ها (۲) فلات‌ها و کوه‌های بلند (۳) خشکی‌ها (۴) دریاها و اقیانوس‌ها

۴۹- تشکیل ابرها و بسیاری از تغییرات آب و هوایی در کلام لایه صورت می‌گیرد؟

(۱) تروپوسفر (۲) استراتوسفر (۳) آگزوسفر (۴) ترموسفر

۵۰- تنوع زیستی جهان مربوط به این جنگل‌هاست.

(۱) جنگل‌های پهن‌برگ گرمسیری (۲) جنگل‌های بارانی استوایی (۳) جنگل‌های همیشه سبز مدیترانه‌ای (۴) جنگل‌های سوزنی‌برگ نیمه‌استوایی

۵۱- یکی از عواملی که همواره در سنجش نابرابری کشورها با یکدیگر مورد توجه قرار گرفته چیست؟

(۱) انسانی (۲) سیاسی (۳) فرهنگی (۴) اقتصادی

۵۲- یکی از صنایع پررونق ایران در دوره‌ی صفویه که با اروپا رقابت می‌کرد، چه نام دارد؟

(۱) فلزکاری (۲) کاشی‌کاری (۳) بافندگی (۴) چرم‌سازی

۵۳- جدایی قسمت شرق سیستان و بلوچستان از ایران در زمان کدام پادشاه قاجار اتفاق افتاد؟

(۱) ناصرالدین‌شاه (۲) فتحعلی‌شاه (۳) محمدشاه (۴) آقامحمدخان

۵۴- طبق کدام عهدنامه ایالت‌های گرجستان و داغستان و شهرهای باکو و گنجه از حاکمیت ایران خارج شدند؟

(۱) مفصل (۲) ترکمانچای (۳) گلستان (۴) پاریس

۵۵- کدام یک از تغییرات حکومت پهلوی با هدف تضعیف هویت اسلامی انجام شد؟

(۱) اصول ششگانه (۲) انجمن‌های ایالتی و ولایتی (۳) انقلاب سفید (۴) لایحه‌ی کاپیتولاسیون

۵۶- در نمودار بهره‌وری ، روش‌های تولید ، با کدام بخش از فعالیت اقتصادی ارتباط دارد؟

(۱) نهاد (۲) ورودی (۳) ستانده (۴) فرایند

۵۷- تعیین سیاست‌های کلی نظام و نظارت بر حسن اجرای آن‌ها بر عهده‌ی چه کسی است؟

- (۱) رهبری (۲) رئیس‌جمهور (۳) نمایندگان مجلس (۴) خبرگان

۵۸- اثر انگشت کدام بُعد از هویت ما را نشان می‌دهد؟

- (۱) ملی (۲) جسمانی (۳) روانی (۴) اجتماعی

۵۹- نقش کلمه‌ی الله در پرچم ایران و استفاده از گنبد در معماری مساجد به ترتیب بیانگر کدام لایه‌های فرهنگی است؟

(۱) نماد - ارزش‌های اجتماعی

(۲) نماد - نماد

(۳) هنجار - عقاید

(۴) ارزش‌ها - عقاید

۶۰- در دین اسلام اصالت خانواده به چه معناست؟

(۱) خانواده با تحصیلات علمی بالا

(۲) خانواده‌ی معروف و مشهور

(۳) خانواده‌ی صالح و اهل ایمان

(۴) خانواده غنی از نظر مالی

سؤالات درسی «زبان انگلیسی»

61- با توجه به متن گزینه‌ی صحیح را انتخاب کنید.

Last Friday, Ali stayed at home and participated in an online course. After the class he downloaded a war game from the Internet and played it for 2 hours.

1) Ali participated in an online course for 2 hours.

2) Ali downloaded a war game for 2 hours.

3) He played a war game for 2 hours.

4) Ali bought a war game from the Internet.

62- A: does your brother play with his mobile?

B: He plays with his mobile

1) When - at the post office

2) Where - at 8

3) When - many

4) Where - at home

63- A: What happened to Pouya last weekend?

B: He a car crash and some bruises. Now his leg in a cast.

1) had - had - is

2) has - had - is

3) had - has - was

4) have - had - was

64- Muslims don't on Fitr Eid. They say prayers in the mosque and..... a special ceremony in this day.

- 1) fast - them - keep
- 2) fast - their - hold
- 3) celebrate - they - hold
- 4) celebrate - their - keep

65- Maryam to get enough information of the great match, because she didn't connect to the Internet and also didn't watch it on TV.

- 1) recharged the E-ticket
- 2) looked at the newsstand
- 3) installed an antivirus program
- 4) commemorated martyrs

66- A: Where does a work?

B: Actually he/she works in a hotel.

A: What does he/she do?

B: He/She the tourists' passports androoms for them.

- 1) receptionist - exchanges - fills out
- 2) librarian - buys - books
- 3) receptionist - checks - books
- 4) secretary - checks - talks to

67- The football player is wearing a white T-shirt.

He is standing the shop over there and he is some gifts for his family.

- 1) with - buy
- 2) buy - buying
- 3) by - buy
- 4) by - buying

68- This is Ali friend new bicycle. The wheels his bicycle are blue.

- 1) 's - of - 's
- 2) 's - 's - of
- 3) s' - 's - of
- 4) 's - 's - off

با توجه به متن زیر، گزینه‌های صحیح دو سوال بعدی را انتخاب نمایید.

Sana's family is planning to travel around Iran for 3 weeks. Her father is searching for some suitable and cheap hotels and her mother is packing for the travel. Sana suggests to start their travel from north to south, then to west but her father says: "The weather of the south is too hot in summer so we can't go there". Actually they are going to visit some amazing places and enjoy their travel.

69- What's her father's suggestion? They

- 1) shouldn't go to east
- 2) can't go to the hotel
- 3) shouldn't go to south
- 4) can't stay for 3 weeks

70- What do you get from this passage?

- 1) Traveling around the world is amazing.
- 2) Going out to the nature is fun.
- 3) Traveling with family members is enjoyable.
- 4) Visiting great palace is fantastic.



سوالات درس «علوم تجربی»

۷۱- نوع یون حاصل از کدام عنصر زیر با بقیه متفاوت است؟

- ۱) Na (۱) ۲) Ca (۲) ۳) O (۳) ۴) K (۴)

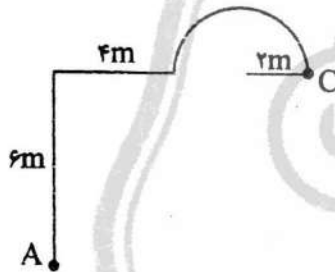
۷۲- نوع پیوند و فرمول شیمیایی ترکیب حاصل از پیوند عنصر X که در لایه آخر خود ۶ الکترون دارد با عنصر Y که در لایه آخر خود ۲ الکترون دارد کدام است؟

- ۱) یونی - XY ۲) یونی - X_۲Y ۳) اشتراکی - XY_۲ ۴) اشتراکی - XY

۷۳- در فرایند تولید بسیار پلی اتن، کدام مورد اتفاق می افتد؟

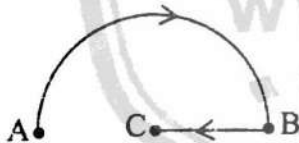
- ۱) شکسته شدن پیوندهای دوگانه بین هیدروژن و کربن
 ۲) شکسته شدن پیوندهای دوگانه بین کربن‌ها
 ۳) شکسته شدن پیوندهای دوگانه بین هیدروژن‌ها
 ۴) شکسته شدن پیوند یگانه بین کربن‌ها

۷۴- اگر زمان رسیدن دنده‌ای از نقطه A تا نقطه C، $\frac{1}{6}$ دقیقه باشد، سرعت متوسط دنده چقدر خواهد بود؟



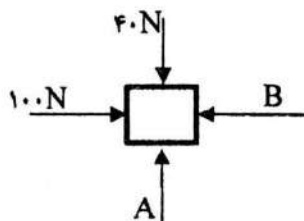
- ۱) $\frac{m}{s} \cdot 0.5$ ۲) $\frac{m}{s} \cdot 1$
 ۳) $\frac{m}{s} \cdot 1.4$ ۴) $\frac{m}{s} \cdot 2$

۷۵- یک متحرک مسیر ۱۰۰ متری ABC را مطابق شکل با تندی متوسط ۱۰ متر بر ثانیه طی کرده است. اگر مسیر برگشت متحرک از C به A به صورت مستقیم و با همان تندی باشد، نسبت زمان رفت به زمان برگشت چقدر خواهد بود؟ ($\pi=3$)



- ۱) ۲ ۲) ۳
 ۳) ۴ ۴) ۵

۷۶- جسمی مطابق شکل، روی سطح افقی بدون اصطکاکی توسط نیروی خالص به سمت راست در حال حرکت است. اگر جرم این جسم ۲۰ kg و شتاب حرکتش $2 \frac{N}{kg}$ باشد، مقادیر نیروهای A و B به ترتیب از راست به چپ کدام است؟



- ۱) ۲۰ N، ۶۰ N
 ۲) ۸۰ N، ۶۰ N
 ۳) ۴۰ N، ۴۰ N
 ۴) ۶۰ N، ۴۰ N

۷۷- در کدام یک از محیط‌های زیر، فسیل بدن جاندار به طور کامل تشکیل می شود؟

- ۱) دریاها ۲) ضلع گیاهان ۳) معادن نمک ۴) مرداب‌ها

۷۸- دو صفحه یکی به شکل مربع و به طول ضلع ۳ متر و دیگری به شکل دایره و به قطر ۳ متر در عمق ۱۰ متری آب به طور افقی قرار

دارند. کدام گزینه صحیح است؟

- (۱) فشار وارد بر مربع بیشتر است
- (۲) فشار وارد بر دایره بیشتر است
- (۳) نیروی وارد بر مربع بیشتر است
- (۴) نیروی وارد بر دایره بیشتر است

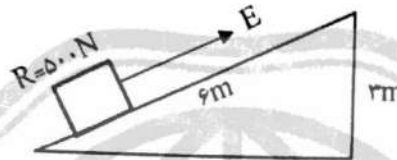
۷۹- مطابق شکل، نیروی محرک لازم برای جابجا کردن جسم چقدر است؟

(۱) ۷۵۰ N

(۲) ۲۵۰ N

(۳) ۵۰۰ N

(۴) ۱۰۰۰ N



۸۰- حرکت انتقالی کدام سیاره از همه کمتر است؟

- (۱) مشتری
- (۲) زمین
- (۳) مریخ
- (۴) ناهید

۸۱- باکتری‌ها فاقد کدام یک از بخش‌های زیر در یاخته (سلول) خود هستند؟

- (۱) پروتئین
- (۲) غشای هسته
- (۳) DNA
- (۴) ریبوزوم

۸۲- در کدام سطح طبقه‌بندی، موجودات کمتری قرار می‌گیرند؟

- (۱) خانواده
- (۲) راسته
- (۳) جنس
- (۴) شاخه

۸۳- سرخس و کاج در کدام ویژگی مشترک هستند؟

- (۱) آوند
- (۲) دانه
- (۳) گل
- (۴) هیچکدام

۸۴- کدام یک از گروه‌های زیر همگی از بی‌مهره‌ها هستند؟

- (۱) قورباغه - خرچنگ - عقرب - حلزون
- (۲) زنبور - مرجان - شقایق دریایی - ماهی
- (۳) اسفنج - هشت پا - حلزون - خرخاکی
- (۴) خرچنگ - دو کفه‌ای - وزغ - زالو

۸۵- رابطه غذایی میان کرم کدو و انسان همانند رابطه کدام دو جانور زیر است؟

- (۱) شته و مورچه
- (۲) کنه و گوسفند
- (۳) کرکس و شیر
- (۴) قارچ و جلبک در گل‌سنگ

۸۶- چندتا از عبارتهای زیر همواره درست است؟

(الف) مجموع هر دو عدد گنگ، عددی گنگ است.

(ب) حاصل جذر یک عدد گنگ مثبت، گنگ است.

(ج) توان دوم یک عدد گنگ، گویا است.

(د) نسبت قطر هر مربع به ضلع آن همواره عددی گنگ است.

۴ (۴)

۳ (۳)

۲ (۲)

۱ (۱)

۸۷- اختلاف تعداد زیر مجموعههای مجموعه $k+2$ عضوی با مجموعه $k-2$ عضوی 480 است.

تعداد عضوهای مجموعه بزرگتر کدام است؟

۱۲ (۴)

۹ (۳)

۶ (۲)

۳ (۱)

۸۸- دو تاس را باهم پرتاب کرده ایم. می دانیم مجموع اعداد رو شده اول است. چقدر احتمال دارد

حاصل ضرب دو عدد رو شده، شمارنده ۶ باشد؟

$\frac{7}{15}$ (۴)

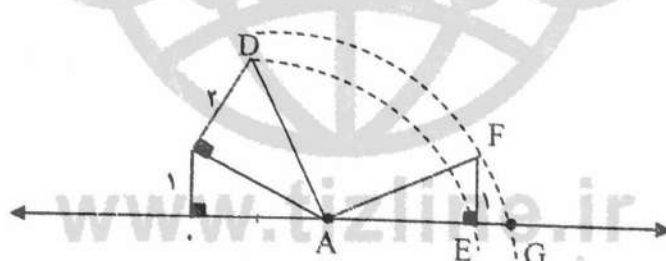
$\frac{2}{5}$ (۳)

$\frac{15}{36}$ (۲)

$\frac{9}{36}$ (۱)

۸۹- در شکل مقابل به مرکز A و به شعاع AD کمانی زده ایم تا محور را در E قطع کند. سپس به

مرکز A و به شعاع AF کمانی می زنیم تا محور را در G قطع کند. طول پاره خط EG چقدر است؟



(۱) $-3 + \sqrt{10}$

(۲) $2 - \sqrt{10}$

(۳) $3 - \sqrt{10}$

(۴) $-2 + \sqrt{10}$

۹۰- اگر $-3 < x < -1$ باشد، حاصل $\sqrt{x^2} + (\sqrt{(5-x)^2}) (\sqrt{(x-7)^2}) + |2x-8|$

برابر است با:

(۱) $x^2 - 15x + 43$

(۲) $-x^2 + 13x - 43$

(۳) $-x^2 + 9x - 27$

(۴) $x^2 - 11x + 27$

۹۱- معکوس کسر $\frac{3\sqrt{2}+2\sqrt{3}}{\sqrt{6}}$ برابر است با:

(۴) $\sqrt{3} - \sqrt{2}$

(۳) ۵

(۲) $\sqrt{3} + \sqrt{2}$

(۱) ۶

محل انجام محاسبات

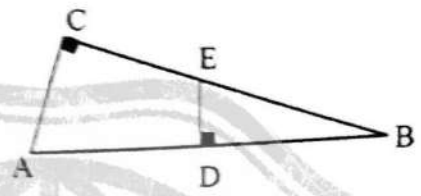
۱۴

۹۲- حاصل عبارت $\sqrt{\frac{3 \times 3^2 \times 3^2 \times \dots \times 3^{20}}{3^{20} - 1}}$ کدام است؟

- ۱ (۱)
- ۲ (۲)
- ۳ (۳)
- ۴ (۴)

۹۳- در مثلث های قائم الزویه ABC و BDE اثر $AD=BD$ و $AC=12$ و $AB=20$ باشد. مساحت چهارضلعی $ADEC$ برابر است با:

- ۱) ۳۷/۵
- ۲) ۷۵
- ۳) ۵۸/۵
- ۴) ۴۸



۹۴- اگر $x + \frac{1}{x} = 4$ باشد حاصل $\left(\frac{3x^4 - 3}{2x^2 + 2x}\right)^2$ کدام است؟

- ۱) صفر
- ۲) ۹
- ۳) -۹
- ۴) ۲۷

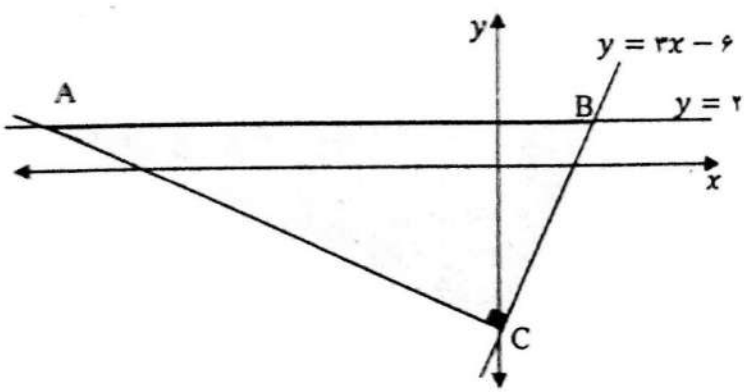
۹۵- عبارت $(x^2 - 3) \div \frac{2x^2 - 2\sqrt{3}x - 3}{2x^2 + 2\sqrt{3}x + 1}$ به ازای چه مقدارهایی از x تعریف نشده است؟

- ۱) $\pm\sqrt{3}$ و $\frac{\sqrt{3}}{2}$
- ۲) $-\sqrt{3}$ و $\pm\frac{\sqrt{3}}{2}$
- ۳) $\pm\sqrt{3}$ و $\pm\frac{\sqrt{3}}{2}$
- ۴) $\pm\sqrt{3}$ و $-\frac{\sqrt{3}}{2}$

۹۶- مقدار m را طوری بیابید که دستگاه معادلات خطی $\begin{cases} 4x + 3y = m + 1 \\ (m - 1)y - 8x = 8 \end{cases}$ بی شمار جواب داشته باشد.

- ۱) $m = \pm 5$
- ۲) $m = +5$
- ۳) $m = -5$
- ۴) $m = 0$

۹۷- در شکل روبرو مساحت مثلث قائم الزویه ABC کدام است؟



- ۱) $\frac{1.6}{3}$
- ۲) $1.6 \frac{2}{3}$
- ۳) $\frac{9.6}{3}$
- ۴) $9.6 \frac{2}{3}$

محل انجام محاسبات



۹۸- مجموعه‌ی جواب نامعادله‌ی $\frac{x+1}{5} - 2 \leq \frac{x-1}{2} + \frac{3}{4} \leq \frac{2x-3}{6}$ کدام است؟

(۱) $\{x \in R \mid -\frac{31}{6} \leq x \leq -\frac{27}{6}\}$ (۲) $\{x \in R \mid -\frac{27}{6} \leq x \leq \frac{3}{6}\}$

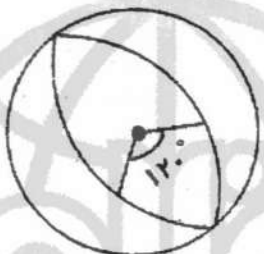
(۳) $\{x \in R \mid -\frac{3}{6} \leq x \leq \frac{27}{6}\}$ (۴) $\{x \in R \mid -\frac{27}{6} \leq x \leq \frac{31}{6}\}$

۹۹- باقیمانده تقسیم x^3 بر $x^2 - 2x + a$ برابر b شده است، مقدار $a+b$ کدام است؟

- (۱) -۲ (۲) -۴ (۳) -۸ (۴) +۱۲

۱۰۰- از یک کره به شعاع ۳ سانتی‌متر، قسمتی به زاویه مرکزی 120° جدا کرده ایم، نسبت حجم

قسمت جدا شده به مساحت رویه آن چقدر است؟



(۱) ۱ (۲) $\frac{1}{9}$

(۳) $\frac{1}{3}$ (۴) ۳

سرپلند و پیروز باشید

www.tizline.ir

۰۲۱۹۱۳۰۲۲۰۲

پاسخنامه کلیدی آزمون نمونه دولتی

استان زنجان ۱۴۰۱-۱۴۰۲

۱	<input type="checkbox"/>	<input checked="" type="checkbox"/>	<input type="checkbox"/>	<input type="checkbox"/>	۱۱	<input checked="" type="checkbox"/>	<input type="checkbox"/>	<input type="checkbox"/>	<input type="checkbox"/>	۲۱	<input type="checkbox"/>	<input checked="" type="checkbox"/>	<input type="checkbox"/>	<input type="checkbox"/>	۳۱	<input checked="" type="checkbox"/>	<input type="checkbox"/>	<input type="checkbox"/>	<input type="checkbox"/>
۲	<input checked="" type="checkbox"/>	<input type="checkbox"/>	<input type="checkbox"/>	<input type="checkbox"/>	۱۲	<input type="checkbox"/>	<input type="checkbox"/>	<input checked="" type="checkbox"/>	<input type="checkbox"/>	۲۲	<input checked="" type="checkbox"/>	<input type="checkbox"/>	<input type="checkbox"/>	<input type="checkbox"/>	۳۲	<input type="checkbox"/>	<input type="checkbox"/>	<input checked="" type="checkbox"/>	<input type="checkbox"/>
۳	<input type="checkbox"/>	<input checked="" type="checkbox"/>	<input type="checkbox"/>	<input type="checkbox"/>	۱۳	<input type="checkbox"/>	<input type="checkbox"/>	<input type="checkbox"/>	<input checked="" type="checkbox"/>	۲۳	<input type="checkbox"/>	<input type="checkbox"/>	<input checked="" type="checkbox"/>	<input type="checkbox"/>	۳۳	<input type="checkbox"/>	<input type="checkbox"/>	<input checked="" type="checkbox"/>	<input type="checkbox"/>
۴	<input type="checkbox"/>	<input type="checkbox"/>	<input type="checkbox"/>	<input checked="" type="checkbox"/>	۱۴	<input checked="" type="checkbox"/>	<input type="checkbox"/>	<input type="checkbox"/>	<input type="checkbox"/>	۲۴	<input type="checkbox"/>	<input type="checkbox"/>	<input checked="" type="checkbox"/>	<input type="checkbox"/>	۳۴	<input type="checkbox"/>	<input type="checkbox"/>	<input type="checkbox"/>	<input checked="" type="checkbox"/>
۵	<input type="checkbox"/>	<input type="checkbox"/>	<input type="checkbox"/>	<input checked="" type="checkbox"/>	۱۵	<input type="checkbox"/>	<input type="checkbox"/>	<input checked="" type="checkbox"/>	<input type="checkbox"/>	۲۵	<input type="checkbox"/>	<input checked="" type="checkbox"/>	<input type="checkbox"/>	<input type="checkbox"/>	۳۵	<input type="checkbox"/>	<input type="checkbox"/>	<input type="checkbox"/>	<input checked="" type="checkbox"/>
۶	<input type="checkbox"/>	<input type="checkbox"/>	<input type="checkbox"/>	<input checked="" type="checkbox"/>	۱۶	<input type="checkbox"/>	<input type="checkbox"/>	<input checked="" type="checkbox"/>	<input type="checkbox"/>	۲۶	<input type="checkbox"/>	<input type="checkbox"/>	<input type="checkbox"/>	<input type="checkbox"/>	۳۶	<input type="checkbox"/>	<input type="checkbox"/>	<input checked="" type="checkbox"/>	<input type="checkbox"/>
۷	<input checked="" type="checkbox"/>	<input type="checkbox"/>	<input type="checkbox"/>	<input type="checkbox"/>	۱۷	<input type="checkbox"/>	<input checked="" type="checkbox"/>	<input type="checkbox"/>	<input type="checkbox"/>	۲۷	<input type="checkbox"/>	<input type="checkbox"/>	<input checked="" type="checkbox"/>	<input type="checkbox"/>	۳۷	<input type="checkbox"/>	<input type="checkbox"/>	<input type="checkbox"/>	<input type="checkbox"/>
۸	<input type="checkbox"/>	<input checked="" type="checkbox"/>	<input type="checkbox"/>	<input type="checkbox"/>	۱۸	<input type="checkbox"/>	<input type="checkbox"/>	<input checked="" type="checkbox"/>	<input type="checkbox"/>	۲۸	<input type="checkbox"/>	<input checked="" type="checkbox"/>	<input type="checkbox"/>	<input type="checkbox"/>	۳۸	<input checked="" type="checkbox"/>	<input type="checkbox"/>	<input type="checkbox"/>	<input type="checkbox"/>
۹	<input checked="" type="checkbox"/>	<input type="checkbox"/>	<input type="checkbox"/>	<input type="checkbox"/>	۱۹	<input checked="" type="checkbox"/>	<input type="checkbox"/>	<input type="checkbox"/>	<input type="checkbox"/>	۲۹	<input type="checkbox"/>	<input type="checkbox"/>	<input checked="" type="checkbox"/>	<input type="checkbox"/>	۳۹	<input type="checkbox"/>	<input type="checkbox"/>	<input checked="" type="checkbox"/>	<input type="checkbox"/>
۱۰	<input type="checkbox"/>	<input type="checkbox"/>	<input type="checkbox"/>	<input checked="" type="checkbox"/>	۲۰	<input type="checkbox"/>	<input checked="" type="checkbox"/>	<input type="checkbox"/>	<input type="checkbox"/>	۳۰	<input checked="" type="checkbox"/>	<input type="checkbox"/>	<input type="checkbox"/>	<input type="checkbox"/>	۴۰	<input checked="" type="checkbox"/>	<input type="checkbox"/>	<input type="checkbox"/>	<input type="checkbox"/>
۴۱	<input type="checkbox"/>	<input type="checkbox"/>	<input type="checkbox"/>	<input checked="" type="checkbox"/>	۵۱	<input type="checkbox"/>	<input type="checkbox"/>	<input type="checkbox"/>	<input checked="" type="checkbox"/>	۶۱	<input type="checkbox"/>	<input type="checkbox"/>	<input checked="" type="checkbox"/>	<input type="checkbox"/>	۷۱	<input type="checkbox"/>	<input type="checkbox"/>	<input checked="" type="checkbox"/>	<input type="checkbox"/>
۴۲	<input type="checkbox"/>	<input checked="" type="checkbox"/>	<input type="checkbox"/>	<input type="checkbox"/>	۵۲	<input type="checkbox"/>	<input type="checkbox"/>	<input checked="" type="checkbox"/>	<input type="checkbox"/>	۶۲	<input type="checkbox"/>	<input type="checkbox"/>	<input checked="" type="checkbox"/>	<input type="checkbox"/>	۷۲	<input checked="" type="checkbox"/>	<input type="checkbox"/>	<input type="checkbox"/>	<input type="checkbox"/>
۴۳	<input type="checkbox"/>	<input type="checkbox"/>	<input checked="" type="checkbox"/>	<input type="checkbox"/>	۵۳	<input checked="" type="checkbox"/>	<input type="checkbox"/>	<input type="checkbox"/>	<input type="checkbox"/>	۶۳	<input checked="" type="checkbox"/>	<input type="checkbox"/>	<input type="checkbox"/>	<input type="checkbox"/>	۷۳	<input type="checkbox"/>	<input checked="" type="checkbox"/>	<input type="checkbox"/>	<input type="checkbox"/>
۴۴	<input type="checkbox"/>	<input checked="" type="checkbox"/>	<input type="checkbox"/>	<input type="checkbox"/>	۵۴	<input type="checkbox"/>	<input type="checkbox"/>	<input checked="" type="checkbox"/>	<input type="checkbox"/>	۶۴	<input type="checkbox"/>	<input checked="" type="checkbox"/>	<input type="checkbox"/>	<input type="checkbox"/>	۷۴	<input type="checkbox"/>	<input checked="" type="checkbox"/>	<input type="checkbox"/>	<input type="checkbox"/>
۴۵	<input type="checkbox"/>	<input checked="" type="checkbox"/>	<input type="checkbox"/>	<input type="checkbox"/>	۵۵	<input type="checkbox"/>	<input checked="" type="checkbox"/>	<input type="checkbox"/>	<input type="checkbox"/>	۶۵	<input type="checkbox"/>	<input checked="" type="checkbox"/>	<input type="checkbox"/>	<input type="checkbox"/>	۷۵	<input type="checkbox"/>	<input type="checkbox"/>	<input checked="" type="checkbox"/>	<input type="checkbox"/>
۴۶	<input type="checkbox"/>	<input type="checkbox"/>	<input type="checkbox"/>	<input checked="" type="checkbox"/>	۵۶	<input type="checkbox"/>	<input type="checkbox"/>	<input checked="" type="checkbox"/>	<input type="checkbox"/>	۶۶	<input type="checkbox"/>	<input type="checkbox"/>	<input checked="" type="checkbox"/>	<input type="checkbox"/>	۷۶	<input type="checkbox"/>	<input type="checkbox"/>	<input type="checkbox"/>	<input checked="" type="checkbox"/>
۴۷	<input type="checkbox"/>	<input type="checkbox"/>	<input type="checkbox"/>	<input checked="" type="checkbox"/>	۵۷	<input checked="" type="checkbox"/>	<input type="checkbox"/>	<input type="checkbox"/>	<input type="checkbox"/>	۶۷	<input type="checkbox"/>	<input type="checkbox"/>	<input checked="" type="checkbox"/>	<input type="checkbox"/>	۷۷	<input type="checkbox"/>	<input checked="" type="checkbox"/>	<input type="checkbox"/>	<input type="checkbox"/>
۴۸	<input type="checkbox"/>	<input checked="" type="checkbox"/>	<input type="checkbox"/>	<input type="checkbox"/>	۵۸	<input type="checkbox"/>	<input checked="" type="checkbox"/>	<input type="checkbox"/>	<input type="checkbox"/>	۶۸	<input type="checkbox"/>	<input checked="" type="checkbox"/>	<input type="checkbox"/>	<input type="checkbox"/>	۷۸	<input type="checkbox"/>	<input type="checkbox"/>	<input checked="" type="checkbox"/>	<input type="checkbox"/>
۴۹	<input checked="" type="checkbox"/>	<input type="checkbox"/>	<input type="checkbox"/>	<input type="checkbox"/>	۵۹	<input type="checkbox"/>	<input checked="" type="checkbox"/>	<input type="checkbox"/>	<input type="checkbox"/>	۶۹	<input type="checkbox"/>	<input type="checkbox"/>	<input checked="" type="checkbox"/>	<input type="checkbox"/>	۷۹	<input type="checkbox"/>	<input checked="" type="checkbox"/>	<input type="checkbox"/>	<input type="checkbox"/>
۵۰	<input type="checkbox"/>	<input checked="" type="checkbox"/>	<input type="checkbox"/>	<input type="checkbox"/>	۶۰	<input type="checkbox"/>	<input type="checkbox"/>	<input checked="" type="checkbox"/>	<input type="checkbox"/>	۷۰	<input type="checkbox"/>	<input type="checkbox"/>	<input checked="" type="checkbox"/>	<input type="checkbox"/>	۸۰	<input type="checkbox"/>	<input type="checkbox"/>	<input type="checkbox"/>	<input checked="" type="checkbox"/>
۸۱	<input type="checkbox"/>	<input checked="" type="checkbox"/>	<input type="checkbox"/>	<input type="checkbox"/>	۹۱	<input type="checkbox"/>	<input type="checkbox"/>	<input type="checkbox"/>	<input checked="" type="checkbox"/>										
۸۲	<input type="checkbox"/>	<input type="checkbox"/>	<input checked="" type="checkbox"/>	<input type="checkbox"/>	۹۲	<input type="checkbox"/>	<input type="checkbox"/>	<input checked="" type="checkbox"/>	<input type="checkbox"/>										
۸۳	<input checked="" type="checkbox"/>	<input type="checkbox"/>	<input type="checkbox"/>	<input type="checkbox"/>	۹۳	<input type="checkbox"/>	<input type="checkbox"/>	<input checked="" type="checkbox"/>	<input type="checkbox"/>										
۸۴	<input type="checkbox"/>	<input type="checkbox"/>	<input checked="" type="checkbox"/>	<input type="checkbox"/>	۹۴	<input type="checkbox"/>	<input type="checkbox"/>	<input checked="" type="checkbox"/>	<input type="checkbox"/>										
۸۵	<input type="checkbox"/>	<input checked="" type="checkbox"/>	<input type="checkbox"/>	<input type="checkbox"/>	۹۵	<input type="checkbox"/>	<input type="checkbox"/>	<input checked="" type="checkbox"/>	<input type="checkbox"/>										
۸۶	<input type="checkbox"/>	<input checked="" type="checkbox"/>	<input type="checkbox"/>	<input type="checkbox"/>	۹۶	<input type="checkbox"/>	<input type="checkbox"/>	<input checked="" type="checkbox"/>	<input type="checkbox"/>										
۸۷	<input type="checkbox"/>	<input type="checkbox"/>	<input checked="" type="checkbox"/>	<input type="checkbox"/>	۹۷	<input type="checkbox"/>	<input checked="" type="checkbox"/>	<input type="checkbox"/>	<input type="checkbox"/>										
۸۸	<input type="checkbox"/>	<input type="checkbox"/>	<input type="checkbox"/>	<input checked="" type="checkbox"/>	۹۸	<input checked="" type="checkbox"/>	<input type="checkbox"/>	<input type="checkbox"/>	<input type="checkbox"/>										
۸۹	<input type="checkbox"/>	<input type="checkbox"/>	<input type="checkbox"/>	<input type="checkbox"/>	۹۹	<input type="checkbox"/>	<input checked="" type="checkbox"/>	<input type="checkbox"/>	<input type="checkbox"/>										
۹۰	<input checked="" type="checkbox"/>	<input type="checkbox"/>	<input type="checkbox"/>	<input type="checkbox"/>	۱۰۰	<input checked="" type="checkbox"/>	<input type="checkbox"/>	<input type="checkbox"/>	<input type="checkbox"/>										

تیزلاین، آکادمی به وسعت ایران

