



آکادمی آنلاین تیزلاین قوی ترین پلتفرم آموزشی تیز هوشان

برگزار کننده کلاس های آنلاین و حضوری تیز هوشان ✓

و المپیاد از پایه چهارم تا دوازدهم

آزمون های آنلاین و حضوری ✓

مشاوره تخصصی ✓

با اسکن QR کد روبرو
وارد صفحه اینستاگرام
آکادمی تیزلاین شو و از
محتواهای آموزشی
رایگان لذت ببر



برای ورود به صفحه اصلی سایت آکادمی تیزلاین کلیک کنید

برای دانلود دفترچه آزمون های مختلف برای هر پایه کلیک کنید

برای مطالعه مقالات بروز آکادمی تیزلاین کلیک کنید





جمهوری اسلامی ایران
وزارت آموزش و پرورش
اداره کل آموزش و پرورش استان خوزستان

دفترچه سؤالات

آزمون ورودی پایه دهم دبیرستانهای

نمونه دولتی دوره دوم متوسطه

سال تحصیلی: ۱۴۰۱-۱۴۰۲

زمان برگزاری آزمون: ساعت ۹ صبح

تاریخ آزمون: جمعه مورخ ۱۴۰۱/۰۴/۰۳

مدت زمان پاسخگویی: ۱۲۰ دقیقه

تعداد سؤالات: ۱۰۰ سؤال

ماده امتحانی	تعداد سوال	از شماره	تا شماره	ضوابط دروس به تفکیک رشته های شاخه نظری/هنرستان های فنی و حرفه ای			
				ریاضی فیزیک	علوم تجربی	ادبیات و علوم انسانی	علوم و معارف اسلامی
آموزش قرآن و پیام های آسمان	۱۵	۱	۱۵	۱	۱	۳	۱
فارسی	۱۵	۱۶	۳۰	۲	۲	۴	۲
عربی	۱۵	۳۱	۴۵	۱	۱	۳	۲
مطالعات اجتماعی (جغرافیا، تاریخ، مدنی)	۱۵	۴۶	۶۰	۱	۱	۲	۲
زبان انگلیسی	۱۰	۶۱	۷۰	۱	۱	۱	۱
علوم تجربی	۱۵	۷۱	۸۵	۲	۴	۱	۱
ریاضی	۱۵	۸۶	۱۰۰	۴	۲	۱	۱

نام خانوادگی: _____ شماره داوطلب: _____ امضاء: _____ نام: _____

تذکر: به ازای هر پاسخ صحیح، ۳ نمره مثبت و به ازای هر پاسخ غلط، یک نمره منفی برای داوطلب در نظر گرفته میشود. برای سؤالات بدون پاسخ، نمره ای در نظر گرفته نخواهد شد.

تبصره: چنانچه داوطلب در هر سؤال بیش از یک گزینه را علامت زده باشد، یک نمره منفی برای او منظور خواهد شد

۱- کدام گزینه ترجمه صحیح عبارات قرآنی (لَتَعْلَمُونَ - لَعَلَّكُمْ تَفْلِحُونَ) را در بردارد؟

- الف) تا بدانید - شاید شما را موفق کنند
 ب) تا بدانید - تا شما رستگار شوید
 ج) همانا می دانید - برای اینکه شما موفق شوید
 د) زیرا می دانید - شاید شما رستگار شوید

۲- کدام گزینه نادرست است .

- الف) أَلَّا تَطْغَوْا = از حد نگذرید
 ب) أم نحن الزّارعون = یا ما می رویانیم
 ج) إن كنتم تعلمون = اگر دانستید
 د) وَ أَطِيعُونَ = و اطاعت کنید مرا

۳- در کدام گزینه تمام کلمات قرآنی درست ترجمه شده است.

- الف) سَطِطَتْ (هموار شد) / سَوَاءٌ (یکسان) / رَحْمَةٌ (لطف)
 ب) مِثْلُهُ (آیین) / حَيْثُ (گمان) / عِقَابُ (مجازات)
 ج) صَدَّوْا (مانع شد) / يَحْكُمُونَ (حکم می کنید) / نصير (یاور)
 د) سَبَاتُ (استراحت) / رُسُلٌ (پیامبر) / ثَقِيلٌ (گران)

۴- ترجمه‌ی دقیق آیه «وَقَالُوا لَوْ كُنَّا نَسْمَعُ أَوْ نَعْقِلُ مَا كُنَّا فِي أَصْحَابِ السَّعِيرِ» کدام است؟

- الف) و گفتند: اگر بشنویم یا تعقل و اندیشه کنیم، در میان دوزخیان قرار نمی گیریم.
 ب) و گفتند: اگر گوش شنوا داشتیم یا اندیشه و درک می کردیم، در میان دوزخیان نبودیم.
 ج) و گفتند: اگر شنیده بودیم یا تعقل و درک کرده بودیم در میان دوزخیان نبودیم.
 د) و گفتند: ای کاش میشنیدیم یا تعقل می کردیم تا در میان اهل آتش فروزان نبودیم.

۵- گزینه نادرست را مشخص کنید.

- الف) شَرَعَ: مقرر کرد ب) مَسْمَى: معین ج) جَنُودٌ: لشکریان د) لَا يَسْخَرُ: مسخره نمی کرد

۶- کدام عبارت صحیح نیست ؟

الف) لازمه دوستی پایدار، رعایت میانه روی است.

ب) در گفتن اسرار و علاقه به دوست باید میانه روی کنیم .

ج) انتخاب دوست در دوران جوانی ، اهمیت و حساسیت بالایی دارد.

د) دوری کردن از گناهان ، یکی از ویژگی های مهم دوست خوب است .

۷- نبرد سپاه اسلام با حکومت های ایران و روم ، جنگ احد و احزاب ، جنگ حضرت علی (ع) با خوارج نهروان به

ترتیب چه نوع جهادهایی بوده است ؟

- الف) دفاعی ، ابتدایی ، جهاد با سرکشان
 ب) ابتدایی ، جنگ با سرکشان ، دفاعی
 ج) جنگ با سرکشان ، دفاعی ، ابتدایی
 د) ابتدایی ، دفاعی ، جنگ با سرکشان

۸- با توجه به آیه ی «وَلَا تَهِنُوا وَلَا تَحْزَنُوا وَأَنْتُمْ الْأَعْلَوْنَ إِنْ كُنْتُمْ مُؤْمِنِينَ» مهمترین پیشرفت انقلاب اسلامی چیست؟

الف) زنده شدن روحیه خودباوری و احساس عزت و بزرگی در سایه ایمان به خدا

ب) رهایی از سستی و تنبلی و بیداری انگیزه برتری جویی

ج) رهایی از وابستگی و کسب استقلال با توکل بر خدا

د) پیشرفت علم و فناوری و از جان گذشتگی های پدران و مادران

۹- خطرناکترین سلاح دشمن علیه انقلاب اسلامی ایران چیست؟

الف) جنگ نظامی ب) تحریم اقتصادی ج) ترور شخصیت ها د) جنگ نرم

۱۰- برای تأثیر بیشتر امر به معروف و نهی از منکر چه کاری باید انجام داد؟

الف) در میان جمع فرد را امر به معروف کنیم ب) خودمان به آنچه میگوییم عمل کنیم

ج) از احادیث مربوط به امر به معروف استفاده کنیم د) فقط امر به معروف زبانی انجام دهیم

۱۱- باوری که اشتیاق عمل به حقیقت را در انسان ایجاد می کند چیست؟

الف) ایمان ب) احساسات عمیق ج) شناخت د) تعقل

۱۲- در چه صورتی پس از نماز باید دوسجده سهو به جا آورد.

الف) ذکر های نماز با عجله گفته شود بطوریکه تلفظ آنها صحیح نباشد. ب) از روی فراموشی بین نماز چیزی بگوید.

ج) ارکان نماز را کم و زیاد کند د) در تعداد رکعت های نماز دو یا سه رکعتی شک کند.

۱۳- بهترین راه برای شناخت صفات خداوند، چیست؟

الف) توجه به سخنان بزرگان ب) شناخت

ج) مراجعه به سخن خدا د) مطالعه کتابهای مذهبی

۱۴- کدام یک از موارد زیر موجب حفظ آبروی مسلمانان می شود؟

الف) وقف ب) قرض ج) زکات د) خمس

۱۵- از نظر امام صادق (ع) چه چیزی باعث پایداری ایمان در دل می شود؟

الف) شناخت خدا ب) دوستان خوب ج) عمل نیک د) دوری از گناهان

فارسی

۱۶- نوع رابطه واژگان در کدام گزینه با دیگر گزینه ها متفاوت است؟

الف) مجذوب و جاذبه- حیا و شرمساری- قعر و اوج- اوقات و وقت

ب) احتیاج و محتاج- مفتون و شیفته- دانا و جاهل- جوانب و جانب

ج) استقرار و مستقر- تانی و شتابان- واپسین و آخرین- نصایح و نصیحت

د) معابر و عبور- سریر و اورنگ- عقبی و دنیا- وصایا و وصیت

۱۷- تعداد غلط های املائی در ترکیب های درون کمانک زیر با کدام گزینه برابر است؟
 (صله رحم- تضرع و ذاری- شادی و نشاط- همدم نیکو خصال- حرص و هوس- قهطی عظیم-
 مایه ور و سیراب)

الف) منع کرده است از آدمی، دانستن امری چند را که در شأن و تاقوت او نیست دانستن آنها.
 ب) اسکندر یکی از کاردanan را از عملی شریف عدل کرد و عملی خسیس به وی داد.
 ج) مرد فقیه مسئله را باز گفت و سپس از جای برخاست و دوست بیمار را ترک کرد.
 د) چهاردیواری محظر استاد حاصب جایگاهی بود که طنین پرشش های او هر روز در آن می پیچید.

۱۸- نقش دستوری ضمیر پیوسته در کدام گزینه با دیگر گزینه ها تفاوت دارند؟
 الف) در بن چاهیش بباید نهفت.
 ب) برایت آرزومندم دشمن نیز داشته باشی.
 ج) تا بود وردت دعا و درس قرآن غم مخور
 د) ندارد به جز آستانت سرم.

۱۹- در همه گزینه ها سه آرایه (مراعات نظیر، جناس و کنایه) به کار رفته است به جز گزینه...؟
 الف) مپیچ از ره راست بر راه چپ / چو در هست حاجت به دیوار نیست
 ب) شب است و چشم به راه ستاره / سحرم / که تا سپیده دم امشب، ستاره می شمرم
 ج) پای چو در راه نهاد آن پسر / پویه همی کرد و در آمد به سر
 د) بیا تا برآریم دستی ز دل / که نتوان برآورد فردا ز گل

۲۰- در کدام گزینه واژه «زود» قید نیست؟
 الف) علم دوست و دنیا دشمن و بردبار و زودخواب و زودخیز باش.

ب) فرصت ها زود از دست می روند و دیر به دست می آیند.

ج) وقت رفتن می گفت: زود برمی گردم.

د) هر طالب علمی که از این سیرت بود، زود یگانه روزگار گردد.

۲۱- در کدام گزینه آرایه ای مقابل نادرست نوشته شده است؟

الف) خبرت هست که مرغان سحر می گویند / آخر ای خفته سر از خواب جهالت بردار (جناس- تشبیه)

ب) تا کی آخر چو بنفشه سر غفلت در پیش؟ / حیف باشد که تو در خوابی و نرگس بیدار (پرشش انکاری- تضاد)

ج) ای دل غمدیده حالت به شود دل بد مکن / وین سر شوریده باز آید به سامان غم مخور؟ (کنایه- مراعات نظیر)

د) به تمنای تو در آتش محنت چو خلیل / گویا در چمن لاله و ریحان بودم (مراعات نظیر- تلمیح)

۲۲- در کدام گزینه معنی مقابل واژه ها درست نوشته شده است؟

الف) (جاه: مقام) - (آزادشدن: وارهدن) - (صنع: آفرینش) - (مظهر: مناظره)

ب) (فرتوت: پیری) - (انعام: بخشش) - (بعید: قریب) - (حقّه: جعبه)

ج) (عزیمت: کوچیدن) - (فروغ: پرتو) - (فراخنا: گستردگی) - (کیهان: کوچک)

د) (محبس: زندان) - (آوردگاه: موسم) - (بیکره: تندیس) - (پیامد: سرانجام)

۲۳- در کدام گزینه همهٔ مصدرها در صرف کردن دو زمان گذشته (ماضی) و زمان حال (مضارع) با دو شخص متفاوت، ساختار ظاهری یکسان و مشترک دارند؟

- الف) کاشتن - نوشتن - رسیدن
ب) دویدن - ساختن - پوشیدن
ج) بریدن - خواستن - گفتن
د) کوشیدن - نوشیدن - خریدن

۲۴- در کدام گزینه اثر، نام نویسنده و موضوع اثر درست است؟

- الف) کتاب: کیمیای سعادت / نویسنده: احمد غزالی / موضوع: اخلاقی و دینی
ب) کتاب: تذکره الاولیا / نویسنده: عطار نیشابوری / موضوع: شرح حال پادشاهان و حاکمان
ج) کتاب: اخلاق ناصری / نویسنده: خواجه نصیرالدین طوسی / موضوع: بررسی سخنان افلاطون و ارسطو در حکمت عملی
د) کتاب: قابوس نامه / نویسنده: کیکاوس بن اسکندر / موضوع: اخلاقی و تربیتی

۲۵- عبارت زیر با کدام بیت ارتباط معنایی کمتری دارد؟

«ای ابوذر و سخنان بیهوده بر زبان میاور و به اندازهٔ نیاز سخن بگویی»

- الف) سخن تا نگوئی بر او دست هست / چو گفته شود، یابد او بر تو دست
ب) کم گوی و گزیده گوی چون در / تا ز اندک تو جهان شود پر
ج) زیاده سخن گفتن آفت بود / به کوتاه گفتن لطافت بود
د) کم گوی و به جز مصلحت خویش مگوی / چیزی که نپرسند تو از پیش مگوی

۲۶- واژگان جمع در کدام گزینه بیشتر مشاهده می‌شود؟

- الف) آزادگان - مغیلان - پادگان - پاییزان
ب) احزان - درختان - یاران - الوان
ج) عقدکنان - دودمان - گریان - دوستان
د) فرشتگان - گلستان - کشتیبان - پیروان

۲۷- در ساختار واژگان زیر، به ترتیب چند واژهٔ مشتق، مرکب و ساده به کار رفته است؟

- شیرین - کارگاه - مدادتراش - گلزار - دوست - خوش نویس - دانشمند - راه آهن - پرنده - قفس - گریان - آبراه
الف) شش - چهار - دو
ب) چهار - پنج - سه
ج) چهار - شش - دو
د) پنج - چهار - سه

۲۸- در نمونهٔ شعر مقابل: «آی! ای مردان نام آور / ای همیشه نامتان پیروز / بی گمان امروز / فصلی از تکرار تاریخ است» کدام لحن خوانشی به چشم می‌خورد؟

- الف) عاطفی - روایی
ب) غنایی - حماسی
ج) روایی - حماسی
د) تعلیمی - عاطفی

۲۹- مفهوم مقابل کدام عبارت نادرست است؟

الف) دیگران نشاندهند، ما خوردیم، اکنون ما بنشانیم تا دیگران خورند. (رنج کنونی ما ثمره راحت طلبی گذشتگان است)
ب) کس را نصیحت مگوی و پند مده، خاصه کسی را که پند نشنود که خود اوفتد. (گرفتار شود)
ج) معرفت این است که من در آنم گرد خویش می گردم و پیوسته در خود سفر می کنم. (شناختن خود و زدودن زنگارهای وجود)

د) تو فرد فقیر و بی چیز بودی و شغلی پست داشتی. (درآمد مناسبی نداشتی)

۳۰- در کدام یک از گزینه های زیر نقش دستوری کلمات مشخص شده در کمانک نادرست است؟

الف) خاموش مباش زیر این خرقة بر جان جهان دوباره جان آمد (مسند- مضاف الیه)

ب) در پيله تا به کی بر خویشتن تنی؟ پرسید کرم را مرغ از فروتنی (فعل مضارع اخباری- متمم)

ج) گرچه منزل بس خطرناک است و مقصد بس بعید هیچ راهی نیست، کان را نیست پایان، غم مخور (نهاد- مسند)

د) جهان، جمله فروغ روی حق دان حق اندر وی ز پیدایی ست پنهان (مفعول- مضاف الیه)

عربی

۳۱- ترجمه فعل های به کار رفته در جمله مقابل کدام است؟ "اعملوا صالحاً اِنّی یمّا تعملون علیکم." المؤمنون ۵۱

الف) انجام دهید - انجام می دهید

ب) انجام دهید - انجام دهید

ج) انجام می دهید - انجام می دهید

د) انجام می دهید - انجام دهید

۳۲- وزن کدام کلمه درست نوشته شده است؟

الف) انصراف (إنفعال)

ب) انفجار (إففعال)

ج) استیکبار (إففعال)

د) اکتساب (إنفعال)

۳۳- در کدام گزینه تمامی واژه ها با هم ارتباط مفهومی ندارند؟

الف) کَوکَب - شَمْس - سَمَآوَات

ب) جَامِئَة - التَّمْلِیْمُ العَالِی - أَبْحَاث

ج) حَبُوب - صَدَاع - وَصْفَة

د) مَائِدَة - ذِئْب - ضِیَاقَة

۳۴- ترجمه درست جمله داده شده کدام است؟

"صَارَتْ أختی الکبیرة تلمیذة مِثَالِیة فی المَسَابَقَة العِلْمِیة فَاسْتَلَمَتْ الجَائِزَة الذّهَبِیة"

الف) خواهر بزرگم در مسابقه علمی دانش آموز نمونه ای است و جایزه طلایی می گیرد.

ب) خواهر بزرگم در مسابقه علمی دانش آموز نمونه ای شد، پس جایزه طلایی را دریافت کرد.

ج) خواهر بزرگم در مسابقه علمی دانش آموز نمونه ای است، جایزه طلایی اش را دریافت کرد.

د) خواهر بزرگترم در مسابقه علمی دانش آموز نمونه ای می شود، پس جایزه طلایی را دریافت می کند.

۳۵- بیت " ای که پنجاه رفت و در خوابی / مگر این چند روزه دریابی " با کدام ضرب المثل عربی تناسب دارد؟

الف) یَوْمَ لَکَ و یَوْمَ عَلِیکَ

ب) مَن طَلَبَ شَیْئاً وَ جَدَّ وَ جَدَّ

ج) أَلْوَقْتُ مِنَ الذّهَبِ

د) أَلْوَحْدَةُ خَیْرٌ مِنَ جَلِیسِ السَّوِّءِ

۳۶- در کدام گزینه فعل نهی به کار نرفته است؟

الف) لَا تَصْعَدِي أَنْتِ لَا تَقْدِرِينَ (ب) لَا تَكْتَبِينَ شَيْئاً عَلَى الشَّجَرِ

ج) لَا تَحْزَنِي إِنْ اللَّهُ مَعَنَا (د) إِمَّاذَا لَا تَرْجِعِينَ إِلَى الْبَيْتِ

۳۷- ترجمه دقیق جمله ی "طَلَبَ الْمُدْرَسُ مِنْهُمْ كِتَابَةَ قَوَانِينِ الْمُرُورِ فِي صَحِيفَتِهِمُ الْجِدَارِيَّةِ" کدام است؟

الف) معلم از آنان خواست قوانین راهنمایی و رانندگی را در روزنامه دیواری بنویسند.

ب) معلم از آنان خواست قوانین راهنمایی و رانندگی را در روزنامه بنویسند.

ج) معلم از شما خواست که قوانین راهنمایی و رانندگی را در روزنامه دیواری بنویسید.

د) معلم از آنان خواست قوانین راهنمایی و رانندگی را در روزنامه دیواری شان بنویسند.

۳۸- در کدام گزینه همه کلمات دو به دو با هم مترادفند؟

الف) تَنَاوَلَ، أَكَلَ / اِسْتَلَمَ، دَفَعَ / حَارَ، بَارِدَ (ب) فَرِحَ، حَزِنَ / اَجَاءَ، أَتَى / رَاسِبٌ، نَاجِحٌ

ج) عِنْدَمَا، لَمَّا / نَامَ، رَقَدَ / بَغْتَةً، فَجْأَةً (د) سَتَرَ، كَتَمَ / وَضَعَ، جَعَلَ / قُبِحَ، جَمَالَ

۳۹- کدام بیت معادل جمله "إِزْرَعْ صَدَاقَةَ وَلَا تَزْرَعْ عِدَاوَةَ" است؟

الف) درخت دوستی بنشان که کام دل به بار آرد / نهران دشمنی برکن که رنج بی شمار آرد

ب) دوست آن باشد که گیرد دست دوست / در پریشان حالی و درماندگی

ج) دوستی با مردم دانا نکوست / دشمن دانا به از نادان دوست

د) دشمن دانا که غم جان بود / بهتر از آن دوست که نادان بود

۴۰- معنای کدام واژه درست است؟

الف) اُسْوَةٌ : خانواده (ب) ذَهَابٌ : رفته (ج) شَابٌ : جوان (د) مَطْبَعَةٌ : آشپزخانه

۴۱- متضاد واژه های "قَلٌّ، جُلُوسٌ، جَمَالَ، صِغَرٌ" در کدام گزینه آمده است؟

الف) كَثُرَ، قِيَامٌ، قُبِحَ، كَبُرَ (ب) كَثِيرٌ، قِيَامٌ، قُبِيحٌ، كَبِيرٌ

ج) كَثُرَ، قَائِمٌ، قُبِحَ، كَبِيرٌ (د) كَثِيرٌ، قِيَامٌ، قُبِحَ، كَبِيرٌ

۴۲- فعل کدام گزینه معادل ماضی استمراری در فارسی است؟

الف) الْفَلَّاحُونَ يَسْتَخْرِجُونَ مَاءً مِنَ الْبَيْتْرِ. (ب) كَانَتْ سَفَرَتُنَا الْعِلْمِيَّةَ مُفِيدَةً.

ج) كَانَ التَّلَامِيذُ يَرْكَبُونَ حَافِلَةَ الْمَدْرَسَةِ. (د) كَانَ اللَّاعِبُونَ نَاجِحِينَ فِي الْمَسَابَقَةِ.

۴۳- پاسخ مربوط به کدام سؤال درست است؟

الف) كَمْ السَّاعَةُ الْآنَ ؟ الثَّلَاثَاءُ (ب) بِمَ ذَهَبْتَ إِلَى هُنَاكَ ؟ لِاشْكُرَ عَلَى الْوَاجِبِ

ج) لِمَ بَقِيتَ فِي الْبَيْتِ وَحِيداً ؟ لِثَلَاثَةِ أَيَّامٍ (د) مَاذَا تَجَلِبُّ إِلَى دُكَّانِكَ ؟ الْبِضَاعِ

۴۴- ترجمه درست کلمات (بویسنده) و (یاری شده) کدام است؟

الف) كِتَابٌ / نَصِيرٌ (ب) كَاتِبٌ / مَنْصُورٌ (ج) مَكْتُوبٌ / نَاصِرٌ (د) كَاتِبٌ / أَنْصَرٌ

۴۵- با توجه به جمله داده شده، نقش کلمات مشخص شده در کدام گزینه درست است؟

شَاهِدَ الْمُعَلِّمُ فِي مَلَفِ الطَّالِبِ: "هُوَ تَلْمِيذٌ نَشِيطٌ وَ ذَكِيٌّ"

الف) مضاف الیه - صفت (ب) صفت - صفت (ج) مضاف - صفت (د) موصوف - صفت

..... مطالعات اجتماعی (جغرافیا، تاریخ، مدنی)

۴۶- اگر در نقطه الف به مختصات ۶۰ درجه شرقی و ۶۰ درجه شمالی، ساعت ۱۴ بعد الظهر باشد، در نقطه ب

به مختصات ۹۰ درجه غربی و ۲۰ درجه جنوبی، ساعت چند است؟

الف) ۴ بعد الظهر (ب) ۱۲ شب (ج) ۴ صبح (د) ۱۲ ظهر

۴۷- زیست کره برای حیات خود، به کدام یک از بخش های زیر نیاز دارد؟

الف) لیتوسفر-اتمسفر-هیدروسفر (ب) لیتوسفر-بیوسفر-اتمسفر

ج) بیوسفر-اتمسفر-هیدروسفر (د) بیوسفر-هیدروسفر-مزوسفر

۴۸- کدام یک از عوامل زیر، جهت وزش بادهای را تغییر می دهد.

الف) فشار هوا (ب) ارتفاعات (ج) عرض جغرافیایی (د) دوری از دریا

۴۹- جنگل های طبقاتی مربوط به کدام زیست بوم است.

الف) توندرا (ب) نواحی مداری (ج) بیابان (د) جنگل های بارانی

۵۰- کدام یک از موارد زیر از عوامل داخلی نابرابری ها در جهان نمی باشد.

الف) حکومت های ستمگر (ب) استعمار کشورها (ج) فرهنگ و باورهای غلط (د) بی سوادگی و نا آگاهی مردم

۵۱- علت قیام مردم قم در ۱۹ دی ماه ۱۳۵۶ چه بود.

الف) مخالفت با کاپیتولاسیون (ب) حمایت از قیام ۲۹ تبریز

ج) اعتراض به انتشار مقاله توهین آمیز روزنامه اطلاعات به امام (د) مخالفت با اصول ششگانه

۵۲- کدام اتفاق تاریخی مقدمه ای برای انتقال حکومت از قاجار به پهلوی بود.

الف) کودتای ۲۸ مرداد (ب) قرار داد ۱۹۰۷ (ج) کودتای ۱۲۹۹ (د) قرار داد ۱۹۱۹

۵۳- کدام کشور در جنگ جهانی اول جز کشورهای متحدین نیست.

الف) ایتالیا (ب) آلمان (ج) فرانسه (د) عثمانی

۵۴- برای اولین بار به فرمان چه کسی، افرادی از ایران برای فراگیری علوم و فنون جدید به اروپا فرستاده شدند.

الف) فتحعلیشاه (ب) میرزا تقی خان فراهانی (ج) عباس میرزا (د) ناصر الدین شاه

۵۵- شاه عباس از رقابت کدام دولت های استعماری برای بیرون راندن پرتغالی ها استفاده کرد.

الف) پرتغال و فرانسه (ب) روسیه و انگلستان (ج) انگلستان و آلمان (د) پرتغال و انگلستان

۵۶- به قواعد و شیوه های مورد قبول یک جامعه برای انجام دادن کارهای مختلف چه می گویند.

الف) ارزش (ب) نماد (ج) هنجار (د) عقاید

۵۷- کدام گزینه عمده ترین عناصر هویت ملی را نشان می دهد.

الف) فرهنگ- زبان- دین (ب) تاریخ- فرهنگ- دین

(ج) فرهنگ- تاریخ- سرزمین (د) تاریخ- مذهب- زبان

۵۸- اولین شرط بقای هر جامعه ای کدام عامل است.

الف) سرمایه (ب) جمعیت (ج) منابع زیر زمینی (د) تکنولوژی

۵۹- نصب و عزل و قبول استعفای چه کسانی با رهبر جمهوری اسلامی نیست.

الف) رئیس مجلس شورای اسلامی (ب) رئیس صدا و سیما (ج) فرماندهان نیروهای انتظامی (د) رئیس قوه قضاییه

۶۰- مدیر کارخانه ی تولید شکلات ، قصد دارد با یک اقدام به بهره وری سبز کمک کند ؛ کدام فعالیت برای این موضوع مناسب است.

الف) در بسته بندی شکلات تغییری به وجود آورد که کاغذ کمتری مصرف شود.

ب) پاداش کارگران را زیاد کند تا تولید بیشتر شود.

ج) میزان کاکائوی موجود در شکلات را افزایش دهد.

د) دستگاهی بخرد که تعداد بیشتری شکلات در یک ساعت بسته بندی شود.

زبان انگلیسی

۶۱- با توجه به مفهوم ، واژه مناسب را انتخاب کنید.

۱- The waiter is very She clears the table very well.

الف) selfish (ب) lazy (ج) careless (د) neat

۶۲- با توجه به مفهوم ، جمله مناسب را انتخاب کنید.

۲- Before New Year, Iranian people usually.....

الف) watch fireworks. (ب) read poems of Hafez.

ب) clean their houses. (د) visit their relatives

۶۳- با توجه به مفهوم ، گزینه درست را انتخاب کنید.

۳- I often use an E- Ticket tothe bus.

الف) get off (ب) put on (ج) get on (د) take off

۴- My uncle is gener__s and patient. He always gives some money to the poor people.
با توجه به مفهوم ، گزینه درست را انتخاب کنید.

الف) u,o

ب) o,o

ج) o,a

د) o,u

۵- This Mehr my sister and I attend International Children Film Festival in Tehran. This is a festival for children of movies. We watched many interesting movies there. One movie is about an African family.
با توجه به گرامر در متن زیر چند غلط وجود دارد؟

الف) ۲ غلط

ب) ۴ غلط

ج) ۵ غلط

د) ۳ غلط

الف) Is he clever? ↘

۶۶- بخش لحن: کدام گزینه درست است.

ب) How fantastic! ↘

ج) It's open at ۸ ↗

د) Do you like summer? ↗

۷- Did your mom call Ali Reza? Yes, she called

۶۷- با توجه به گرامر، گزینه درست را انتخاب کنید.

الف) them

ب) him

ج) her

د) you

۸- When does a firefighter work?.....

۶۸- با توجه به مفهوم ، گزینه درست را انتخاب کنید.

الف) He works at the fire station.

ج) Because he works very hard.

ب) I think he goes to work by car.

د) He works from Saturday to Wednesday.

۹- My brother and I have a car.car is new.

۶۹- با توجه به گرامر، گزینه درست را انتخاب کنید.

الف) Her

ب) Their

ج) Our

د) His

۱۰- Whohis lessons in the afternoons? Jack

۷۰- با توجه به گرامر، گزینه درست را انتخاب کنید.

الف) study

ب) studied

ج) studies

د) is studying

.....علوم تجربی.....

۷۱- ((با توجه به فلزات (منیزیم Mg_{12} ، آهن Fe_{26} ، مس Cu_{29}) و میزان واکنش پذیری آن ها ؛ ترکیب یکی از این فلزات با سولفات، با عنوان (X سولفات) ، رامی توان در ظرفی از جنس روی، نگه داری کرد.))
با توجه به این عبارت، کدام گزینه، عنصری را نشان می دهد که با عنصر X ، در یک ستون از جدول تناوبی عناصر قرار می گیرد؟

- (الف) Be_4 (ب) B (ج) Na_{11} (د) Cl_{17}

۷۲- در کدام گزینه، نوع پیوند بین ذرات تشکیل دهنده ماده، با بقیه متفاوت است ؟

- (الف) کربن دی اکسید (ب) اتن (ج) سدیم فلئورید (د) اتیلن گلیکول

مولکول	حالت فیزیکی
CH_4	متان
C_2H_6	پنتان
C_8H_{18}	اوکتان
$C_{12}H_{22}$	ایکوزان

۷۳- با توجه به جدول داده شده، کدام گزینه، درست است ؟

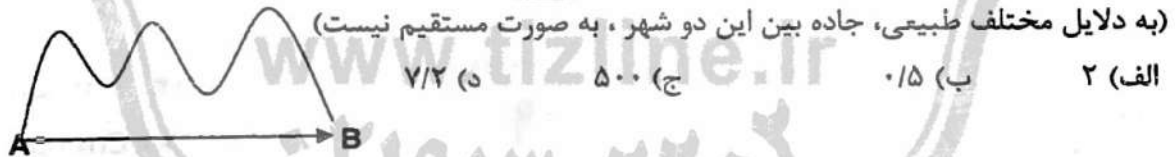
(الف) مولکول ایکوزان از مولکول اوکتان، سبک تر است.

(ب) ایکوزان ، آسان تر از اوکتان ، جاری می شود.

(ج) نقطه جوش متان از نقطه جوش پنتان، کمتر است.

(د) نیروی ربایش بین ذره های سازنده مولکول اوکتان از نیروی ربایش بین ذره های سازنده ایکوزان، بیشتر است.

۷۴- طول جاده بین شهر کوهستانی A از شهر B ، حدود ۱۲۰ کیلومتر و فاصله مستقیم آنها ۶۰۰۰۰ متر است. اگر خودرویی فاصله بین دو شهر را در یک مدت زمان مشخص طی کند، نسبت سرعت متوسط به تندی متوسط این اتومبیل ، کدام گزینه است؟



۷۵- سه نیروی $F_1 = 8N$ ، $F_2 = 4N$ و $F_3 = 12N$ ، بر جسمی به جرم 4 Kg ، چنان وارد می شوند که

جسم ساکن می ماند؛

حال اگر بدون تغییر جهت نیروها، اندازه هریک از نیروهای F_1 و F_2 را ، ۳ برابر کنیم، جسم با چه شتابی حرکت می کند؟

(الف) 3 N/Kg

(ب) 6 N/Kg

(ج) 9 N/Kg

(د) 12 N/Kg



۷۶- کدام گزینه ، متن علمی داده شده در مورد علت حرکت ورقه های سنگ کره را به درستی، کامل می کند؟
 ((سست گره به دلیل شرایط دما و معین، حالت خمیری دارد. در قسمت پایین آن ، دما زیادتر است ؛
 بنابراین چگالی مواد نسبت به قسمت های بالایی است. به دلیل اختلاف دما و چگالی بین قسمت های بالا
 و پایین سست کره، پدیده ایجاد می شود.


الف) فشار- کمتر- همرفت
 ب) فشار- بیشتر- همرفت

ج) حجم- کمتر- گسل
 د) حجم- بیشتر- گسل

۷۷- وجود کدام ذخایر در یک منطقه، بیانگر وجود آب و هوای گرم و مرطوب، در گذشته آن منطقه است؟

الف) زغال سنگ ب) سنگ نمک ج) سنگ گچ د) سنگ نمک و سنگ گچ

۷۸- ظرف مکعبی شکلی پُر از آب است؛ اگر ابعاد مکعب را ۲ برابر کرده و دوباره ظرف را با آب ، پُر کنیم؛ فشار
 وارد از طرف آب بر کف ظرف ، در کدام گزینه به درستی مقایسه و بیان شده است؟



الف) فشار آب بر کف ظرف در حالت اول ، دو برابر فشار آب بر کف ظرف در حالت دوم است.

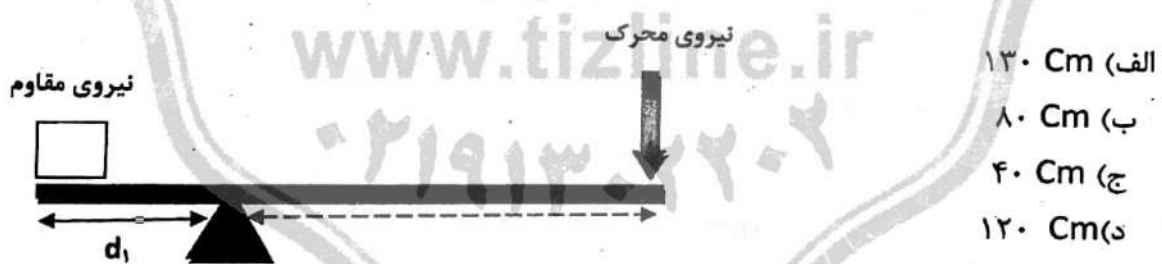
ب) فشار آب بر کف ظرف در حالت دوم ، نصف فشار آب بر کف ظرف در حالت اول است.

ج) فشار آب بر کف ظرف در حالت دوم ، دو برابر فشار آب بر کف ظرف در حالت اول است.

د) فشار آب بر کف ظرف ، در هر دو حالت، یکسان است.

۷۹- در شکل داده شده، طول میله اهرم ۱۶۰ Cm است. اگر فاصله جسم تا تکیه گاه d_1 و مزیت مکانیکی این
 اهرم برابر ۳ باشد،

طول بازوی محرک چند سانتی متر است؟ (از اصطکاک و وزن میله، صرف نظر می شود)



۸۰- کدام گزینه، سیاره مریخ را در بین سیارات منظومه شمسی، به درستی ، معرفی کرده است؟

الف) نزدیک ترین سیاره گازی نسبت به خورشید

ب) دورترین سیاره بیرونی نسبت به خورشید

ج) نزدیک ترین سیاره سنگی نسبت به خورشید

د) دورترین سیاره درونی نسبت به خورشید

۸۱- در یاخته کدام جاندار، پوششی در اطراف ماده وراثتی وجود ندارد؟

الف) باکتری ب) جلبک ج) مخمر د) ویروس

۸۲- با توجه به ویژگی های داده شده، کدام گزینه به ترتیب گیاهان مورد نظر را به درستی، معرفی می کند؟

گیاه اول: دارای آوند- دارای ساقه زبرزمینی- تکثیر به وسیله هاگ
گیاه دوم: بدون آوند- ریشه، ساقه و برگ حقیقی ندارد- تکثیر به وسیله هاگ
گیاه سوم: دارای آوند- آوندهای چوب و آبکش در ساقه در یک حلقه- تکثیر به وسیله دانه

الف) سرخس- خزه- ذرت ب) سرخس- خزه- نخود ج) کاج- خزه- ذرت د) کاج- خزه- نخود

۸۳- براساس ساختمان بدنی، کدام کرم نمی تواند با بقیه کرم های داده شده، در یک گروه، قرار بگیرد؟

الف) کپک ب) کدو ج) کرمک د) پلاتاریا

۸۴- کدام ویژگی مشترک در ماهی ها و پرندگان، به شنا کردن ماهی و پرواز پرنده، کمک می کند؟

الف) مثانه ب) خط جانبی ج) کیسه هوادار د) بدن دوکی شکل

۸۵- رابطه بین قارچ و جلبک در گلنگ، با رابطه دو جاندار در کدام گزینه، شباهت دارد؟

الف) کنه و انسان ب) میگوی تمیز کننده و مار ماهی

ج) ماهی های کوچک همراه کوسه د) شیر و گاو وحشی

ریاضی

۸۶- در پرتاب همزمان دو تاس به رنگ های آبی و قرمز، احتمال آن که نسبت عدد روی تاس آبی به عدد روی تاس قرمز، نمایش اعشاری متناوب داشته باشد، کدام است؟

الف) $\frac{1}{2}$ ب) $\frac{2}{9}$ ج) $\frac{1}{3}$ د) $\frac{5}{18}$

۸۷- اگر $A = \{x \in \mathbb{Z} \mid 5x - 5 \leq 6x - 4\}$ و $B = \{x \in \mathbb{Z} \mid 1 + 4x \leq 7 - x\}$ دو مجموعه باشند، $n(A \cap B)$ کدام گزینه است؟

الف) ۵ ب) ۴ ج) ۳ د) ۲

۸۸- چند تا از جملات زیر نادرست است؟

- عدد $\frac{3}{\sqrt{12}}$ عددی گنگ است.

- اگر $a \in \mathbb{Q}$ و $b \in \mathbb{Q}'$ آن گاه ab همواره عددی گنگ است.

- اگر $a = -b$ آن گاه $|a| + |b| = 0$.

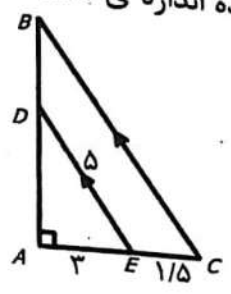
- کسر $\frac{17}{30}$ بین $\frac{1}{3}$ و $\frac{2}{5}$ قرار دارد.

الف) ۴ ب) ۳ ج) ۲ د) ۱

۸۹- در چهارضلعی ABCD قطر AC نیمساز زاویه ی C است و $CB=CD$. کدام گزینه همواره درست است ؟

- (الف) $CB=AD$ (ب) ABCD لوزی است (ج) $AB=AD$ (د) هر سه مورد

۹۰- دو مثلث ABC و ADE متشابهند و $DE \parallel BC$. با توجه به اندازه های داده شده اندازه ی AB کدام گزینه است ؟



- (الف) ۶ (ب) ۴ (ج) ۲ (د) ۸

۹۱- اگر $A = \frac{\sqrt{7} + \sqrt{5} - \sqrt{2}}{5\sqrt{2} - 2 + \sqrt{14}}$ ، حاصل عبارت $A + 3\sqrt{2}$ کدام گزینه است ؟

- (الف) $7\sqrt{2}$ (ب) $2\sqrt{7}$ (ج) $\frac{2\sqrt{7}}{7}$ (د) $\frac{7\sqrt{2}}{2}$

۹۲- اگر $\frac{1}{2m-n} = 2^{-1}$ ، حاصل عبارت $27^m \times (\frac{1}{2})^{n-2}$ کدام گزینه است ؟

- (الف) ۲۷ (ب) ۸۱ (ج) ۹ (د) ۳

۹۳- عبارت جبری $4x^2 - 4x^2y - 15xy^2$ بر کدام گزینه بخش پذیر نیست ؟

- (الف) x (ب) $2x^2 - 5xy$ (ج) $2x + 3y$ (د) $2x + 5y$

۹۴- اگر $x > 0$ ، حاصل عبارت $\sqrt{4x + 4 + x^2}$ برابر است با :

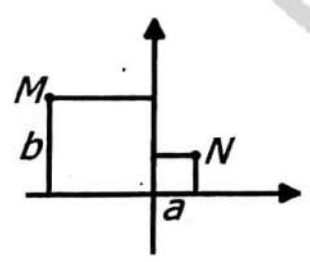
- (الف) $x - 2$ (ب) $2 - x$ (ج) $x + 2$ (د) $4 - x$

۹۵- معادله ی چهار خط به صورت زیر است. کدام خط، سه خط دیگر را قطع می کند؟

- a: $6x + 2y = 0$ b: $y - \frac{2}{5} = -3x$ c: $3x - y = 2$ d: $y + 3x = 5$

- (الف) خط a (ب) خط b (ج) خط c (د) خط d

۹۶- در شکل مقابل دو مربع به ضلع a و b داریم. شیب خط گذرنده از دو نقطه ی M و N کدام است ؟




- (الف) $\frac{a-b}{a+b}$ (ب) $\frac{b-a}{a+b}$ (ج) $\frac{a+b}{a-b}$ (د) $\frac{a+b}{b-a}$

۹۷- باقیمانده ی تقسیم $4x^4 + 8x^3 + 10$ بر $x^2 + 1$ برابر است با :

- (الف) $8x - 14$ (ب) $14 - 8x$ (ج) $-8x + 6$ (د) $-6 + 8x$

۹۸- اگر عبارت $\frac{x^2+5}{3x^2+ax+b}$ به ازای $x = -1$ و $x = -4$ تعریف نشده باشد، حاصل $a - b$ کدام است؟
 الف) ۴۲ (ب) ۱۲ (ج) ۳ (د) ۱۸

۹۹- مطابق شکل زیر $\frac{1}{8}$ کره ی چوبی تو پر به شعاع R را جدا کرده ایم. مساحت کل شکل باقی مانده کدام است؟



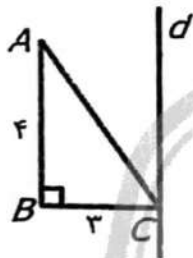
(ب) $\frac{7}{8}\pi R^2$

الف) $\frac{17}{4}\pi R^2$

(د) $4\pi R^2$

(ج) $17\pi R^2$

۱۰۰- در شکل زیر خط d بر ضلع BC عمود است. حجم حاصل از دوران مثلث ABC حول محور d کدام گزینه است؟



(ب) 12π

الف) 48π

(د) 24π

(ج) 25π

www.tizline.ir

۰۲۱۹۱۳۰۲۲۰۲

موفق باشید

پاسخنامه کلیدی آزمون نمونه دولتی استان خوزستان ۱۴۰۱-۱۴۰۲

۱	<input type="checkbox"/>	<input checked="" type="checkbox"/>	<input type="checkbox"/>	<input type="checkbox"/>	۱۱	<input checked="" type="checkbox"/>	<input type="checkbox"/>	<input type="checkbox"/>	<input type="checkbox"/>	۲۱	<input type="checkbox"/>	<input checked="" type="checkbox"/>	<input type="checkbox"/>	<input type="checkbox"/>	۳۱	<input checked="" type="checkbox"/>	<input type="checkbox"/>	<input type="checkbox"/>	<input type="checkbox"/>
۲	<input type="checkbox"/>	<input type="checkbox"/>	<input checked="" type="checkbox"/>	<input type="checkbox"/>	۱۲	<input type="checkbox"/>	<input checked="" type="checkbox"/>	<input type="checkbox"/>	<input type="checkbox"/>	۲۲	<input type="checkbox"/>	<input type="checkbox"/>	<input type="checkbox"/>	<input type="checkbox"/>	۳۲	<input checked="" type="checkbox"/>	<input type="checkbox"/>	<input type="checkbox"/>	<input type="checkbox"/>
۳	<input checked="" type="checkbox"/>	<input type="checkbox"/>	<input type="checkbox"/>	<input type="checkbox"/>	۱۳	<input type="checkbox"/>	<input type="checkbox"/>	<input checked="" type="checkbox"/>	<input type="checkbox"/>	۲۳	<input type="checkbox"/>	<input type="checkbox"/>	<input type="checkbox"/>	<input checked="" type="checkbox"/>	۳۳	<input type="checkbox"/>	<input type="checkbox"/>	<input type="checkbox"/>	<input checked="" type="checkbox"/>
۴	<input type="checkbox"/>	<input checked="" type="checkbox"/>	<input type="checkbox"/>	<input type="checkbox"/>	۱۴	<input type="checkbox"/>	<input checked="" type="checkbox"/>	<input type="checkbox"/>	<input type="checkbox"/>	۲۴	<input type="checkbox"/>	<input type="checkbox"/>	<input checked="" type="checkbox"/>	<input type="checkbox"/>	۳۴	<input type="checkbox"/>	<input checked="" type="checkbox"/>	<input type="checkbox"/>	<input type="checkbox"/>
۵	<input type="checkbox"/>	<input type="checkbox"/>	<input type="checkbox"/>	<input checked="" type="checkbox"/>	۱۵	<input type="checkbox"/>	<input type="checkbox"/>	<input type="checkbox"/>	<input checked="" type="checkbox"/>	۲۵	<input checked="" type="checkbox"/>	<input type="checkbox"/>	<input type="checkbox"/>	<input type="checkbox"/>	۳۵	<input type="checkbox"/>	<input type="checkbox"/>	<input checked="" type="checkbox"/>	<input type="checkbox"/>
۶	<input type="checkbox"/>	<input type="checkbox"/>	<input checked="" type="checkbox"/>	<input type="checkbox"/>	۱۶	<input type="checkbox"/>	<input type="checkbox"/>	<input checked="" type="checkbox"/>	<input type="checkbox"/>	۲۶	<input type="checkbox"/>	<input checked="" type="checkbox"/>	<input type="checkbox"/>	<input type="checkbox"/>	۳۶	<input type="checkbox"/>	<input type="checkbox"/>	<input type="checkbox"/>	<input checked="" type="checkbox"/>
۷	<input type="checkbox"/>	<input type="checkbox"/>	<input type="checkbox"/>	<input checked="" type="checkbox"/>	۱۷	<input type="checkbox"/>	<input type="checkbox"/>	<input type="checkbox"/>	<input checked="" type="checkbox"/>	۲۷	<input type="checkbox"/>	<input type="checkbox"/>	<input checked="" type="checkbox"/>	<input type="checkbox"/>	۳۷	<input type="checkbox"/>	<input type="checkbox"/>	<input type="checkbox"/>	<input checked="" type="checkbox"/>
۸	<input checked="" type="checkbox"/>	<input type="checkbox"/>	<input type="checkbox"/>	<input type="checkbox"/>	۱۸	<input type="checkbox"/>	<input type="checkbox"/>	<input type="checkbox"/>	<input type="checkbox"/>	۲۸	<input type="checkbox"/>	<input type="checkbox"/>	<input checked="" type="checkbox"/>	<input type="checkbox"/>	۳۸	<input type="checkbox"/>	<input type="checkbox"/>	<input checked="" type="checkbox"/>	<input type="checkbox"/>
۹	<input type="checkbox"/>	<input type="checkbox"/>	<input type="checkbox"/>	<input checked="" type="checkbox"/>	۱۹	<input type="checkbox"/>	<input checked="" type="checkbox"/>	<input type="checkbox"/>	<input type="checkbox"/>	۲۹	<input checked="" type="checkbox"/>	<input type="checkbox"/>	<input type="checkbox"/>	<input type="checkbox"/>	۳۹	<input checked="" type="checkbox"/>	<input type="checkbox"/>	<input type="checkbox"/>	<input type="checkbox"/>
۱۰	<input type="checkbox"/>	<input checked="" type="checkbox"/>	<input type="checkbox"/>	<input type="checkbox"/>	۲۰	<input checked="" type="checkbox"/>	<input type="checkbox"/>	<input type="checkbox"/>	<input type="checkbox"/>	۳۰	<input type="checkbox"/>	<input type="checkbox"/>	<input checked="" type="checkbox"/>	<input type="checkbox"/>	۴۰	<input type="checkbox"/>	<input type="checkbox"/>	<input checked="" type="checkbox"/>	<input type="checkbox"/>
۴۱	<input checked="" type="checkbox"/>	<input type="checkbox"/>	<input type="checkbox"/>	<input type="checkbox"/>	۵۱	<input type="checkbox"/>	<input type="checkbox"/>	<input type="checkbox"/>	<input checked="" type="checkbox"/>	۶۱	<input type="checkbox"/>	<input type="checkbox"/>	<input type="checkbox"/>	<input checked="" type="checkbox"/>	۷۱	<input checked="" type="checkbox"/>	<input type="checkbox"/>	<input type="checkbox"/>	<input type="checkbox"/>
۴۲	<input type="checkbox"/>	<input type="checkbox"/>	<input checked="" type="checkbox"/>	<input type="checkbox"/>	۵۲	<input type="checkbox"/>	<input type="checkbox"/>	<input checked="" type="checkbox"/>	<input type="checkbox"/>	۶۲	<input type="checkbox"/>	<input checked="" type="checkbox"/>	<input type="checkbox"/>	<input type="checkbox"/>	۷۲	<input type="checkbox"/>	<input type="checkbox"/>	<input checked="" type="checkbox"/>	<input type="checkbox"/>
۴۳	<input type="checkbox"/>	<input type="checkbox"/>	<input type="checkbox"/>	<input checked="" type="checkbox"/>	۵۳	<input type="checkbox"/>	<input type="checkbox"/>	<input checked="" type="checkbox"/>	<input type="checkbox"/>	۶۳	<input type="checkbox"/>	<input type="checkbox"/>	<input checked="" type="checkbox"/>	<input type="checkbox"/>	۷۳	<input type="checkbox"/>	<input type="checkbox"/>	<input checked="" type="checkbox"/>	<input type="checkbox"/>
۴۴	<input type="checkbox"/>	<input checked="" type="checkbox"/>	<input type="checkbox"/>	<input type="checkbox"/>	۵۴	<input type="checkbox"/>	<input type="checkbox"/>	<input checked="" type="checkbox"/>	<input type="checkbox"/>	۶۴	<input type="checkbox"/>	<input type="checkbox"/>	<input checked="" type="checkbox"/>	<input type="checkbox"/>	۷۴	<input type="checkbox"/>	<input checked="" type="checkbox"/>	<input type="checkbox"/>	<input type="checkbox"/>
۴۵	<input checked="" type="checkbox"/>	<input type="checkbox"/>	<input type="checkbox"/>	<input type="checkbox"/>	۵۵	<input type="checkbox"/>	<input type="checkbox"/>	<input type="checkbox"/>	<input checked="" type="checkbox"/>	۶۵	<input type="checkbox"/>	<input type="checkbox"/>	<input type="checkbox"/>	<input checked="" type="checkbox"/>	۷۵	<input type="checkbox"/>	<input checked="" type="checkbox"/>	<input type="checkbox"/>	<input type="checkbox"/>
۴۶	<input type="checkbox"/>	<input type="checkbox"/>	<input checked="" type="checkbox"/>	<input type="checkbox"/>	۵۶	<input type="checkbox"/>	<input type="checkbox"/>	<input checked="" type="checkbox"/>	<input type="checkbox"/>	۶۶	<input type="checkbox"/>	<input type="checkbox"/>	<input type="checkbox"/>	<input checked="" type="checkbox"/>	۷۶	<input checked="" type="checkbox"/>	<input type="checkbox"/>	<input type="checkbox"/>	<input type="checkbox"/>
۴۷	<input checked="" type="checkbox"/>	<input type="checkbox"/>	<input type="checkbox"/>	<input type="checkbox"/>	۵۷	<input type="checkbox"/>	<input type="checkbox"/>	<input checked="" type="checkbox"/>	<input type="checkbox"/>	۶۷	<input type="checkbox"/>	<input checked="" type="checkbox"/>	<input type="checkbox"/>	<input type="checkbox"/>	۷۷	<input checked="" type="checkbox"/>	<input type="checkbox"/>	<input type="checkbox"/>	<input type="checkbox"/>
۴۸	<input type="checkbox"/>	<input checked="" type="checkbox"/>	<input type="checkbox"/>	<input type="checkbox"/>	۵۸	<input type="checkbox"/>	<input checked="" type="checkbox"/>	<input type="checkbox"/>	<input type="checkbox"/>	۶۸	<input type="checkbox"/>	<input type="checkbox"/>	<input type="checkbox"/>	<input checked="" type="checkbox"/>	۷۸	<input type="checkbox"/>	<input type="checkbox"/>	<input checked="" type="checkbox"/>	<input type="checkbox"/>
۴۹	<input type="checkbox"/>	<input type="checkbox"/>	<input type="checkbox"/>	<input checked="" type="checkbox"/>	۵۹	<input checked="" type="checkbox"/>	<input type="checkbox"/>	<input type="checkbox"/>	<input type="checkbox"/>	۶۹	<input type="checkbox"/>	<input type="checkbox"/>	<input checked="" type="checkbox"/>	<input type="checkbox"/>	۷۹	<input type="checkbox"/>	<input type="checkbox"/>	<input checked="" type="checkbox"/>	<input type="checkbox"/>
۵۰	<input type="checkbox"/>	<input checked="" type="checkbox"/>	<input type="checkbox"/>	<input type="checkbox"/>	۶۰	<input checked="" type="checkbox"/>	<input type="checkbox"/>	<input type="checkbox"/>	<input type="checkbox"/>	۷۰	<input type="checkbox"/>	<input type="checkbox"/>	<input checked="" type="checkbox"/>	<input type="checkbox"/>	۸۰	<input type="checkbox"/>	<input type="checkbox"/>	<input type="checkbox"/>	<input checked="" type="checkbox"/>
۸۱	<input checked="" type="checkbox"/>	<input type="checkbox"/>	<input type="checkbox"/>	<input type="checkbox"/>	۹۱	<input type="checkbox"/>	<input type="checkbox"/>	<input type="checkbox"/>	<input checked="" type="checkbox"/>										
۸۲	<input type="checkbox"/>	<input checked="" type="checkbox"/>	<input type="checkbox"/>	<input type="checkbox"/>	۹۲	<input type="checkbox"/>	<input checked="" type="checkbox"/>	<input type="checkbox"/>	<input type="checkbox"/>										
۸۳	<input type="checkbox"/>	<input type="checkbox"/>	<input checked="" type="checkbox"/>	<input type="checkbox"/>	۹۳	<input type="checkbox"/>	<input type="checkbox"/>	<input checked="" type="checkbox"/>	<input type="checkbox"/>										
۸۴	<input type="checkbox"/>	<input type="checkbox"/>	<input type="checkbox"/>	<input checked="" type="checkbox"/>	۹۴	<input type="checkbox"/>	<input type="checkbox"/>	<input checked="" type="checkbox"/>	<input type="checkbox"/>										
۸۵	<input type="checkbox"/>	<input checked="" type="checkbox"/>	<input type="checkbox"/>	<input type="checkbox"/>	۹۵	<input type="checkbox"/>	<input type="checkbox"/>	<input checked="" type="checkbox"/>	<input type="checkbox"/>										
۸۶	<input type="checkbox"/>	<input checked="" type="checkbox"/>	<input type="checkbox"/>	<input type="checkbox"/>	۹۶	<input checked="" type="checkbox"/>	<input type="checkbox"/>	<input type="checkbox"/>	<input type="checkbox"/>										
۸۷	<input type="checkbox"/>	<input type="checkbox"/>	<input checked="" type="checkbox"/>	<input type="checkbox"/>	۹۷	<input type="checkbox"/>	<input checked="" type="checkbox"/>	<input type="checkbox"/>	<input type="checkbox"/>										
۸۸	<input type="checkbox"/>	<input checked="" type="checkbox"/>	<input type="checkbox"/>	<input type="checkbox"/>	۹۸	<input type="checkbox"/>	<input type="checkbox"/>	<input type="checkbox"/>	<input checked="" type="checkbox"/>										
۸۹	<input type="checkbox"/>	<input type="checkbox"/>	<input checked="" type="checkbox"/>	<input type="checkbox"/>	۹۹	<input checked="" type="checkbox"/>	<input type="checkbox"/>	<input type="checkbox"/>	<input type="checkbox"/>										
۹۰	<input checked="" type="checkbox"/>	<input type="checkbox"/>	<input type="checkbox"/>	<input type="checkbox"/>	۱۰۰	<input type="checkbox"/>	<input type="checkbox"/>	<input type="checkbox"/>	<input checked="" type="checkbox"/>										

تیزلاین، آکادمی به وسعت ایران

