



آکادمی آنلاین تیزلاین قوی ترین پلتفرم آموزشی تیز هوشان

برگزار کننده کلاس های آنلاین و حضوری تیز هوشان ✓

و المپیاد از پایه چهارم تا دوازدهم

آزمون های آنلاین و حضوری ✓

مشاوره تخصصی ✓

با اسکن QR کد روبرو
وارد صفحه اینستاگرام
آکادمی تیزلاین شو و از
محتواهای آموزشی
رایگان لذت ببر



برای ورود به صفحه اصلی سایت آکادمی تیزلاین کلیک کنید

برای دانلود دفترچه آزمون های مختلف برای هر پایه کلیک کنید

برای مطالعه مقالات بروز آکادمی تیزلاین کلیک کنید



سوالات آزمون ورودی مدارس نمونه دولتی

دوره دوم متوسطه - پایه دهم

زمان برگزاری ۱۴۰۱/۰۴/۰۳

ساعت ۹ صبح

تعداد سوال ۱۰۰ مدت پاسخ گویی ۱۲۰ دقیقه

شماره داوطلب:

نام و نام خانوادگی:

تعداد سوال	نام درس
۱۵	آموزش قرآن و پیام های آسمان
۱۵	فارسی
۱۵	عربی
۱۵	مطالعات اجتماعی (جغرافیا، تاریخ، مدنی)
۱۰	زبان انگلیسی
۱۵	علوم تجربی
۱۵	ریاضی

این آزمون نمره منفی دارد.

۱- در کدام گزینه تمام کلمات قرآنی درست ترجمه شده است ؟

- ۱) شعیر (آتش فروزان) شبات (آسایش و آرامش) معاش (کسب و کار) ۲) نُصِبتَ (برافراشته شد) زُئِلَ (پیامبر) طَوِيلَ (بسیار)
 ۳) اُنْقِیلَ (گمران بار) شَبِیحَ (تسبیح گوی) اَجَلَ (معین)
 ۴) خَالِدِینَ (جاودان) مُسْمِعَ (مشخص) ثَبَارَ (قبیله)

۲- ترجمه عبارت های قرآنی روبه رو در کدام گزینه آمده است ؟

- ۱) انجام می دهید - تا شما امتحان شوید - مانع کارهای آن ها شد .
 ۲) انجام می دادند - تا ببازماید شما را - کارهایشان را محو و نابود کرد .
 ۳) انجام می دهید - تا شما را امتحان کند - کارهایشان را محو و نابود کرد .
 ۴) انجام می دادند - تا شما امتحان کنید - مانع کارهای آن ها شد .

۳- کدام عبارت قرآنی به صورت صحیح ترجمه شده است ؟

- ۱) عَلَقَةُ الْبَيَانِ : به او سخن گفتن را می آموزد
 ۲) التَّجْمُ وَالشَّجَرُ یَسْجُدَانِ : گیاهان و درختان سجده کردند .
 ۳) وَ أَقْبَمُوا الْوِزْنَ بِالْقِسْطِ : و ترازو را به عدل به پا خواهند داشت . ۴) فَانظُرُوا فِي الْأَرْضِ : پس در زمین پراکنده شوید .

۴- ترجمه همه عبارت های قرآنی درست است به جز _____

- ۱) وَ لَقَدْ نَسَرْنَا الْقُرْآنَ لِلذِّكْرِ : و قطعاً آسان کردیم قرآن را برای پند
 ۲) وَ عَرَفَهُ مِنْ حَيْثُ لَا یُحْتَسَبُ : روزی می دهد او را از جایی که گمان نمی کند .
 ۳) وَ اتَّقُوا وَ أَطِيعُوا : تقوای او را پیشه کنید و از او اطاعت کنید . ۴) تَجَارَؤُا تُنَجِّیْكُمْ : تجارتی که شما را نجات می دهد .

۵- عبارت قرآنی « فَوَ الْأَیُّ أَنْزَلَ الشُّكُوبَ فِي قُلُوبِ الْمُؤْمِنِینَ » به کدام یک از آثار ایمان اشاره دارد ؟

- ۱) آرامش ۲) زهایی از سردرگمی ۳) رحمت و فضل خدا ۴) رستگاری بزرگ

۶- با توجه به مفهوم حدیث روبه رو کدام گزینه صحیح است ؟

- ۱) انسان هرگز نباید به دنبال شناخت خداوند و صفات او باشد .
 ۲) انسان هیچ منبعی برای شناخت خداوند و یافتن پرسش های خود پیرامون او ندارد .
 ۳) انسان به دلیل توانایی های محدود خود امکان شناخت کامل خدای نامحدود را ندارد .
 ۴) انسان با مراجعه به منابع و توانایی های خود می تواند به شناخت کاملی از پروردگار برسد .

۷- حضرت ابراهیم (ع) « بارها عموی خود را به یکتا پرستی دعوت می کرد و او را به ترک پرستش بت ها فرا می خواند » و همچنین

« به دستور خداوند زن و فرزند کوچک خود را به سرزمین بدون آب و آبادانی مکه سکونت داد . »

مطلب فوق به ترتیب به کدام یک از ویژگی های پیامبران اشاره دارد ؟

- ۱) تسلیم در برابر امر خدا - استقامت و پایداری در راه خدا
 ۲) استقامت و پایداری در راه خدا - تسلیم در برابر امر خدا
 ۳) مبارزه با عقاید باطل و خرافات - تسلیم در برابر امر خدا
 ۴) مبارزه با عقاید باطل و خرافات - استقامت و پایداری در راه خدا

۸- مهمترین دلیل خلوت شدن زندان ها و دادگاه ها پس از ظهور چیست ؟

- ۱) از بین رفتن همه ظالمان ۲) ترس از مجازات ۳) رشد فهم و ایمان ۴) فراوان شدن نعمت

۹- از میان موارد زیر نماز چه کسی باطل نیست ؟

- ۱) صادقی بعد از حمد و سوره مستقیم به سجده می رود .
 ۲) زهرا بعد از نماز صبح شک می کند که آیا رکوع رکعت دوم انجام داده یا نه
 ۳) مصطفی در حین نماز به برادر کوچکش می گوید: تلویزیون را خاموش کن .
 ۴) مریم هنگام خواندن نماز ظهر شک می کند که آیا الآن رکعت اول است یا دوم

۱۰- در شعر زیر دوست شاعر به دلیل نداشتن کدام ویژگی موجب رنجش او شده است ؟

« از صحبت دوستی برنجم / کاخلاق بدم حسن نماید / عیبم هنر و کمال بیند / خارم گل و یاسمن نماید »

(۱) رابطه زیاد صمیمانه (۲) آراستگی به زیبایی خرد (۳) اهل فکر و اندیشه (۴) خیرخواه دوست بودن

۱۱- نقشه مشرکان مکه با مسلمانان « در شعب ابی طالب » با کدام یک از نقشه های شیطنانی آمریکا علیه ایران برابری می کند؟

(۱) جنگ ایران و عراق (۲) تفرقه افکنی و ایجاد جنگ داخلی (۳) تحریم اقتصادی (۴) بمب گذاری و ترور

۱۲- کدام گزینه با پیام آیه قرآنی «الْمُؤْمِنُونَ وَالْمُؤْمِنَاتُ بَعْضُهُمْ أَوْلِيَاءُ بَعْضُهُمْ يَأْمُرُونَ بِالْمَعْرُوفِ وَيَنْهَوْنَ عَنِ الْمُنْكَرِ» ارتباط بیشتری دارد؟

(۱) شناخت مؤمنان از یکدیگر (۲) نظارت همگانی و مسئول رفتار یکدیگر
(۳) روحیه خودباوری زنان و مردان مؤمن (۴) پایدار ماندن در راه خدا و غمگین نشدن

۱۳- پیامبر اکرم (ص) عاقبت مدارا کردن در دریافت قرض را چه می داند ؟

(۱) هم وزن کوه احد حسناات خواهد داشت .
(۲) بهشت بر او واجب می شود .
(۳) از پل صراط همچون برق عبور خواهد کرد .
(۴) خداوند پاداش بزرگی به او می دهد .

۱۴- در کدام گزینه همه جهادها از یک نوع می باشد ؟

(۱) جنگ مردم فلسطین با اشغالگران صهیونیست - جنگ احزاب - نبرد سپاه صدر اسلام با حکومت ایران
(۲) جنگ هشت ساله ایران در برابر ارتش صدام - جنگ سپاه صدر اسلام با حکومت روم - جهاد مأموران نیروی انتظامی
(۳) مبارزه مردم یمن با سعودی ها - جنگ احد در صدر اسلام - جنگ هشت ساله ایران در برابر ارتش صدام
(۴) درگیری نیروی امنیتی با منافقین - جنگ نهروان - جنگ سپاه صدر اسلام با حکومت روم

۱۵- پیامبر گرامی (ص) می فرماید : هنگامی که مؤمن از دنیا می رود تمام اعمال او قطع می شود به جز سه عمل :

(۱) فرزندی که از خود به جا گذاشته است ، نماز ، علمی که از خود به یادگار گذاشته است .
(۲) چاه های آبی که حفر کرده است ، نمازهای واجبی که خوانده است ، نخلستانی که وقف کرده است .
(۳) باغ هایی که در راه یتیمان وقف کرده است ، صدقات جاریه ، روزه گرفتن
(۴) صدقه جاریه ، علمی که از خود به یادگار گذاشته است ، فرزند صالحی که برایش دعا می کند .

www.tizline.ir

فارسی

۱۶- معنای چند واژه نادرست است ؟

سریر : اورنگ / قرتوت : پیر / هجو : نکوهش / مفتون : شیفته / خیره : بیهوده / داعیه : انگیزه /

آوردگاه : نبرد / باشندگان : حاضران / جوهر : اصل / تعرض : زاری کردن / سلاله : برگزیده

(۱) یک غلط (۲) دو غلط (۳) سه غلط (۴) چهار غلط

۱۷- در همه گزینه ها نادرستی املائی وجود دارد جز گزینه ی _____

(۱) اگر دوستی، با وی همراهی و همدلی کند ، باعث خورسندی او می شود .
(۲) یکی از فنونی که آموخته ، فن بردباری بود. تحصیل باید با فراغ بال و تعنی انجام گیرد .
(۳) رودخانه ماند و نظاره کرد که چگونه حیات حقیقی مردان خدا از میان اتوموبیل های آتش گرفته سر برآورد .
(۴) خداوند علیم به آدمی آنچه صلاح دین و دنیای او در آن غاست داده است .

۱۸ - داده ها در کدام گزینه درست است ؟

- ۱) علی اسفندیاری (نیما یوشیج) با بیانی رمز گونه به ترسیم عناصر طبیعت پرداخته است . از او به عنوان پدر شعر فارسی یاد می کنند .
- ۲) مجدخوافی ، ادیب و شاعر قرن هشتم است که روضه خلد را به پیروی از گلستان سعدی و به نظم نگاشته است .
- ۳) نظامی عروضی ، مجمع النوادر را درباره چهارگروه از مردم یعنی : دبیر ، شاعر ، منجم و طبیب تألیف کرده است .
- ۴) ویکتور هوگو ، مشهورترین شاعر رمانتیک قرن هجدهم انگلیس است و در ردیف بزرگترین گویندگان و ادبای اجتماعی جهان است .

۱۹ - کدام یک از گزینه های زیر از نظر معنایی با بقیه متفاوت است ؟

- ۱) جو بلبل روی گل ببیند ، زبانش در حدیث آید / مرا در رویت از حیرت، فروبسته است گویایی
- ۲) عقل حیران شود از خوشه ی زرین عنب / فهم عاجز شود از خفه ی یاقوت انار
- ۳) آفرینش همه تنبیه خداوند دل است / دل ندارد که ندارد به خداوند اقرار
- ۴) بر جمال تو چنان صورت چین حیران شد / که حدیثش همه جا بر در و دیوار بماند

۲۰ - همه گزینه های زیر به جز _____ با بیت زیر قرابت معنایی دارد .

« در بیابان گر به شوق کعبه خواهی زد قدم / سرزنش ها گر کند خار مگیلان غم مخور »

- ۱) گوهر قیمتی از کام نهنگان آرند / هر که او را غم جان است به دریا تروند
- ۲) شب نارپک و بیم موج و گردابی چنین هایل / کجا دانند حال ما سبک باران ساحل ها
- ۳) به دریا مرو گفتمت زینهار / و گر می روی تن به توفان سپار
- ۴) مهتری گر به کام شیر در است / شو خطر کن ز کام شیر بجوی

۲۱ - کدام گزینه با سایر گزینه ها ارتباط معنایی کمتری دارد ؟

- ۱) یارب به گرم دری به رویم بگشا / راهی که در او نجات باشد بنما
- ۲) دلم در آتش غفلت مسوزان / به معنی شمع جاتم برفروزان
- ۳) به مردان راحت که راهی بده / وزین دشمنانم پناهی بده
- ۴) به لطفم بخوان و مران از درم / ندارد به جز آستانت سرم

۲۲ - مفهوم کنایی کدام گزینه نادرست است ؟

- ۱) جهان سر به سر زیر دست من است (مطیع بودن)
- ۲) ناممان در دفتر تاریخ، کوچک و کم رنگ خواهد شد (بی اعتبار شدن)
- ۳) ای دل از سیل فنا بنیاد هستی برکنند (نابود کردن)
- ۴) اگر قصابم از تن واکره پوست (زخمی کردن)

۲۳ - در کدام گزینه وابسته ی پیشین وجود دارد ؟

- ۱) این دارایی من است .
- ۲) ناچار شب نخست، روی شن ها خوابیدم
- ۳) پدر راعمه عهد کرده بود که از مخلوق، هیچ نخواهد
- ۴) او را به چند درم بفروخت

۲۴ - در کدام گزینه واژه ی « تنها » قید نیست ؟

- ۱) این طرف تنها سلاح جنگ ایمان بود / خانه های خاک و خون خورده مهد شیران و دلبران بود
- ۲) آن طرف نصف جهان با تانک های آتشین در راه / این طرف ایرانیان، تنها
- ۳) از تمام تانک ها ، تنها / تلی از خاکستر خاموش ماند روی دست های دشت
- ۴) تنها نصیرالدین بود که پاسخ همه ی پرسش های اسنادان را می دانست .

۲۵- در همه ی گزینه های زیر جز _____ پرستش انکاری وجود دارد .

- ۱) چوکاری برآید به لطف و خوشی / چه حاجت به تندى و گردن كشى ؟
- ۲) كنون باید ای خفته ، بيدار بود / چو مرگ اندر آرد ز خوابت، چه سود ؟
- ۳) گفتم كه روى خوبت از من چرا نهان است ؟ / گفتا تو خود حجابه ورنه رخم عیان است
- ۴) به جز از علی كه گوید به پسر كه قاتل من / چو اسیرتوسته اكنون به اسیر كن مدارا ؟

۲۶- در کدام گزینه ارتباط واژگان به ترتیب « هم خانواده ، مترادف و متضاد » است ؟

- ۱) (مساحت - نجات) ، (تنسه - هوشيار كردن) ، (فراخنا - تنگنا)
- ۲) (انهام - وهم) ، (محبس - زندانى) ، (دولتمند - درويش)
- ۳) (احتياج - حوائج) ، (موهبت - دهش) ، (حرص - هوس)
- ۴) (دوام - ادامه) ، (صومعه - دير) و (ميهان - كيهان)

۲۷- در کدام گزینه ها ، آرایه های « جناس ، تشخیص ، کنایه و تناسب » وجود دارد ؟

- الف) تا کی آخر چو بنفشه سر غفلت در پیش / حیث باشد که تو در خوابی و نرگس بيدار
- ب) سعدیا راست روان گوی سعادت بردند / راستی کن که به منزل نرسد کج رفتار
- ج) ای دل غمعدیده حالت به شود دل بد مکن / وین سر شوریده باز آید به سامان غم مخور
- د) چو بفروختی از که خواهی خرید / متاع جوانی به بازار نیست
- هـ) خاموش مباش زیر این خرقله / بر جان جهان دوباره جان آمد

- ۱) الف و ج ۲) ب و ه ۳) د و ه ۴) الف و د

۲۸- در کدام گزینه ساختمان همه واژه ها وندی است ؟

- ۱) سخندان - گلدان - قلمدان - نمکدان
- ۲) سنگین - سه‌مگین - غمگین - رنگین
- ۳) بوزش - جنبش - آموزش - کوشش
- ۴) نزار - گلزار - خدمتگزار - کشتزار

۲۹- خوانش واژه ی « نفس » در بیت زیر با کدام یک از گزینه های داده شده متفاوت است ؟

« دلا غافل ز سبحانی چه حاصل / مطیع نفس شیطانی چه حاصل »

- ۱) با بدان کم لشین که درمانی / خو پذیر است نفس انسانی
- ۲) تا کی در چشم عقل ، خار میلان زدن / تا کی در راه نفس ، باغ لرم ساختن
- ۳) گر تو بر نفس خود شکست آری / دولت جاودان به دست آری
- ۴) نفس باد صبا مشک فشان خواهد شد / عالم بپر دگر باره جوان خواهد شد

۳۰- زمان فعل در جمله آخر کدام گزینه به درستی مشخص شده است ؟

- ۱) در باغ آفل شاخ عبادت بنشانید / اوز بحر عمل ، دَر مَكَافات برآرید (مضارع التزامی)
- ۲) گفتی که حافظ این همه رنگ و خیال چیست / نقش غلط مبین که همان لوح ساده ایم (ماضی نقلی)
- ۳) همای اوج سعادت به نام ما اقتد / اگر تو را گذری بر مقام ما اقتد (مضارع اخباری)
- ۴) منشین با بدان که صحبت بد / گرچه پاکی، تو را پلید کند . (مضارع اخباری)

۳۱ - کدام فعل از نظر زمان با بقیه فعل ها ناهماهنگ است ؟

- (۱) أَخَذْتُمْ (۲) أَسْتَع (۳) أَمَرُوا (۴) أَكَلْنَا

۳۲ - کدام گزینه با بقیه ناهماهنگ است ؟

- (۱) إِيثَان (۲) الْإِثْنَيْن (۳) الْأَخَذ (۴) الْفُلَانِ

۳۳ - در کدام گزینه مترادف و متضاد به صورت درست آمده است ؟

- (۱) راسب = ناجح (۲) تُبِيخٌ ≠ حَسَن (۳) عِنْدَمَا ≠ لَمَّا (۴) زَكِيَّةٌ = بَرٌّ

۳۴ - در کدام گزینه ترجمه نادرست است ؟

- (۱) إِعْلَمُ أَنَّ الضَّرْفَ مَعَ الضَّمِيرِ : بدان که بیروزی همراه با صبر است .
 (۲) أَدَبُ الصَّرَفِ خَيْرٌ مِنْ ذَهَبِهِ : ادب انسان بهتر از طلایش است .
 (۳) زَمِنَ شِعَاوَةَ ابْنِ آدَمَ شَوْءَ الْخَلْقِ : و از بدبختی آدمیزاد بداخلاقی است .
 (۴) يَا أَيُّهَا الَّذِينَ آمَنُوا لِمَ تَقُولُونَ مَا لَا تَعْلَمُونَ : ای کسانی که ایمان آوردید چرا نمی گوید آن چه را که انجام می دهید .

۳۵ - گزینه مناسب را انتخاب کنید . « يَا أَهْرَاقَ تَحْتَ الشَّجَرَةِ فِي اللَّيْلِ »

- (۱) لَا تَرُقُوا (۲) لَا تَرُقُوا (۳) لَا تَرُقُونَ (۴) لَا تَرُقِي

۳۶ - در جای خالی گزینه مناسب بنویسید .

- (۱) أَشْكُرِي (۲) أَشْكُرُ (۳) أَشْكُرْنَ (۴) أَشْكُرْ

۳۷ - در عبارت روبه رو پاسخ تمامی کلمات پرسشی درست است به جز

يَذْهَبُ التَّلَامِيذُ إِلَى الْمَدْرَسَةِ يَفْرَحُ . فَمَ يَحْمِلُونَ حَقَائِبَهُمْ .

- (۱) أَيْنَ (۲) كَيْفَ (۳) مَاذَا (۴) لِمَاذَا

۳۸ - کدام گزینه با توجه به ترکیب های وصفی و اضافی با بقیه متفاوت است ؟

- (۱) طُلَّابٌ مُجْتَهِدُونَ (۲) حَقِيئَةٌ (۳) صِنَاعَةُ الْوَرَقِ (۴) بَطَارِيَةُ السِّيَارَةِ

۳۹ - ترجمه درست را انتخاب کنید .

- (۱) أَنَا مُسَلِّمٌ لِأَيِّ شَيْءٍ تُرِيدُونَ : ما آماده پرداخت بهای همه چیز هستیم .
 (۲) رَأَيْنَا دُخَانًا مِنْ نَعِيمٍ فَلَأَنَّا : دودی را از دور دیدیم، پس آمدم .
 (۳) زَجَاءَ سَجَلِ الْمَكِيْفِ : لطفاً کولر را خاموش کنید .
 (۴) مَنْ طَلَبَ شَيْئًا وَ جَدَّ وَ جَدَّ : هرکس چیزی را بخواهد و تلاش کند، می یابد .

۴۰ - ترجمه کلمه مشخص شده در کدام گزینه نادرست است ؟

- (۱) لِمَ تُحَاوِلُ ؟ اِقْبَلْ مَصْرُوكَ : سرنوشت
 (۲) ذَهَبْتُ لِشَاهِدَةٍ مَلْفِيَا : برونده
 (۳) كَتَبْتُ صَحِيفَةً أُسْبُوغِيَّةً وَ طَبَعَهَا فِي الْمَطْبَعَةِ : آشپزخانه
 (۴) يَا شَيْبَابُ عَلَيْكُمْ بِالْحَاوِلَةِ : جوانان

۴۱ - کدام گزینه در ترجمه عبارت روبه رو نمی باشد ؟

- (۱) پژوهش ها (۲) کامل کرد (۳) صد (۴) آزمایشگاه

۴۲ - مسابقه فوتبال بین تیم فوتبال فجر شهید سیاسی شیراز و تیم فولاد خوزستان رأس ساعت ۶ بعد از ظهر در ورزشگاه حافظیه شیراز شروع می شود. نیمه اول این مسابقه پس از ۴۵ دقیقه بدون وقت اضافه در چه ساعتی به پایان می رسد ؟
 (۱) السَّابِقَةُ وَالرَّابِعُ (۲) السَّابِقَةُ إِلَّا زَيْعًا (۳) السَّابِقُ إِلَّا زَيْعًا (۴) سَبَقَةٌ وَ الرَّابِعُ

۴۳ - ترجمه مناسب را برای جمله روبه رو انتخاب کنید.
 وَكَانَ الْعُتْرُوقُ فِي الْحَرْبِ يَتَنَازَلُونَ قَبْلَ لَيْتَاءِ الْغَارَاتِ الْبَلْبَةِ.
 (۱) خلبانان در جنگ قبل از شروع حملات شبانه آن را می خوردند. (۲) خلبانان در جنگ شبانه ویتامین می خوردند.
 (۳) هواپیماها در جنگ شبانه حمله می کردند. (۴) خلبانان جنگی در شب قبل از حمله ویتامین می خوردند.

۴۴ - در کدام گزینه همه کلمات هم وزن هستند ؟
 (۱) فَانِجٌ - رَافِعٌ - زَلِيعٌ (۲) مَعْرُوفٌ - مَرْفُوعٌ - مَفْتُوحٌ (۳) قُدِيرٌ - ظَلِيمٌ - عَابِدٌ (۴) إِخْرَاجٌ - إِحْسَانٌ - اِقْتِدَارٌ

۴۵ - کدام گزینه پاسخ مناسبی برای عبارت روبه رو می باشد ؟
 «مَكَانٌ لِلتَّعْلِيمِ الْعَالِيِ بَعْدَ الْمَدْرَسَةِ»
 (۱) الْجَانِئَةُ (۲) الْمَكْتَبَةُ (۳) الْمُنْتَفِخُ (۴) الْمَلْمَبُ

مطالعات اجتماعی

۴۶ - اگر شما بخواهید از مدار استوا، به سمت نواحی مجاور قطب ها سفر کنید، کدام یک از عوامل مؤثر بر آب و هوا را مورد توجه قرار می دهید ؟
 (۱) ارتفاع (۲) دوری و نزدیکی به دریا (۳) فشار هوا و جریان باد (۴) عرض جغرافیایی

۴۷ - شهر A در مختصات جغرافیایی $32^{\circ}N - 30^{\circ}E$ قرار دارد. کدام نقطه زیر از نظر فصل و ساعت رسمی بیشترین اختلاف را با این شهر دارد ؟

(۱) $N: 60^{\circ} - W: 35^{\circ}$ (۲) $S: 55^{\circ} - E: 95^{\circ}$ (۳) $S: 25^{\circ} - W: 45^{\circ}$ (۴) $N: 45^{\circ} - E: 10^{\circ}$

۴۸ - در کشور ژاپن، کوه های بسیار بلند با قله های نوک تیز و دره هایی به شکل V وجود دارد. ویژگی های فوق جزء کدام دسته از ناهمواری ها می باشد ؟
 (۱) کوه های کم ارتفاع (۲) کوه های جوان (۳) کوه های پیر (۴) فلات ها

۴۹ - مهاجرت گروهی از فلسطینی ها از خانه و وطنشان به کشورهای همسایه به دلیل اشغال نظامی چه نوع مهاجرتی محسوب می شود ؟

(۱) اجباری - خارجی (۲) اختیاری - خارجی (۳) اجباری - داخلی (۴) اختیاری - داخلی

۵۰ - در ابتدای قرن دهم هجری کدام حکومت، توانست بر سراسر ایران حاکم شود و حکومت مقتدری را تأسیس کند ؟
 (۱) حکومت زندیه (۲) حکومت افشاریه (۳) حکومت صفویه (۴) حکومت قاجاریه

۵۱ - دوره حکومت کدام پادشاه، هم زمان با آغاز نفوذ و دخالت گسترده کشورهای روسیه، انگلستان و فرانسه در ایران بود ؟
 (۱) فتحعلی شاه (۲) لطفعلی شاه (۳) ناصرالدین شاه (۴) مظفرالدین شاه

۵۲ - کدام رویداد مقدمه ای برای تغییر حکومت از قاجاریه به پهلوی در ایران شد ؟

(۱) کودتای ۱۲۹۹ (۲) قرارداد ۱۹۱۹ (۳) قرارداد ۱۹۰۷ (۴) کودتای ۱۳۳۲

(۲) ایجاد فضای رعب و وحشت

(۱) تغییر ذهن و اراده مردم

(۴) ایجاد شورش و ناامنی

(۳) غارت ثروت و سرمایه های ملی کشور

۵۵- این جمله که « حفظ مرزها و محدوده جغرافیایی برای مردم ایران همواره اهمیت داشته است » به کدام یک از ویژگی های مشترک جامعه ایرانی اشاره دارد؟

(۱) دین اسلام (۲) انقلاب اسلامی (۳) تاریخ کهن و میراث فرهنگی (۴) سرزمین

۵۶- این سخن پیامبر (ص) « ... امت های پیشین گرفتار و نابود شدند زیرا وقتی اشراف آنها جرمی مرتکب می شدند آنها را از مجازات معاف می کردند اما وقتی زیردستان آنها همان جرم را مرتکب می شدند، آنها را به شدت مجازات می کردند. » اشاره به کدام یک از انواع حقوق شهروندی دارد؟

(۱) حق برخورداری از عدالت قضایی (۲) حق برخورداری از رفاه و تأمین اجتماعی (۳) حق برخورداری از عدالت قانونی (۴) حق برخورداری از حقوق فرهنگی

۵۷- در بین گزینه های زیر هنجار را مشخص کنید.

(۱) شهادت در راه دفاع از وطن (۲) احوالپرسی کردن با یکدیگر (۳) عضویت در یک انجمن علمی (۴) حفظ محیط زیست

۵۸- اولین اعتراض به انتشار مقاله توهین آمیز به امام خمینی (ره) در روزنامه اطلاعات در چه تاریخی و از کدام شهر آغاز شد؟

(۱) ۱۹ دی ماه ۱۳۵۶ - شهر تبریز (۲) ۲۹ بهمن ۱۳۵۶ - شهر تهران

(۳) ۱۹ دی ماه ۱۳۵۶ - شهر قم (۴) ۲۹ بهمن ۱۳۵۶ - شهر ورامین

۵۹- یک گروه از گردشگران در سفر به یکی از زیست بوم ها، جنگل هایی را مشاهده نمودند که این جنگل ها بخش های عمده ای از چوب نرم را برای تولید کاغذ تأمین می کنند. به عقیده شما این گروه به کدام زیست بوم سفر کرده اند؟

(۱) ساوان (۲) تایگا (۳) توندرا (۴) جنگل های استوایی

۶۰- امروزه با توجه به مشکل جدی کمبود آب در کشورمان باید مصرف درست آب را تمرین کنیم. این موضوع به کدام یک از عوامل مؤثر در بهره وری ارتباط دارد؟

(۱) اصلاح عادت های غلط مصرفی (۲) انجام دادن کارها از روی آگاهی

(۳) استفاده مناسب از زمان (۴) تنظیم جدول بودجه اقتصادی

زبان انگلیسی

61. Ali : many students in the classroom yesterday ?

Reza : yes, thirty students there .

1) Is there - there is 2) Are there - there are 3) Were there - there were 4) Was there - there was

62. The door the old man room not open .

1) 's - of - were 2) of - 's - was 3) 's - 's - was 4) of - of - were

63. Which sentence is grammatically correct ?

- 1) Why do you late now ?
 2) Where does she go two days ago ?
 3) Where do his brother do his homework?
 4) Who works in the ER?

64. My father tells a story for and little sister every night .

- 1) he - her 2) she - his 3) me - my 4) his - me

65. My brother doesn't tell jokes. He's a bit

- 1) serious 2) kind 3) funny 4) quiet

66. Ali and Mahdi in the river ? Yes, they

- 1) Does - swim - do 2) Do - swimming - do 3) Do - swim - do 4) Does - swims - does

67. have an important ceremony name is Yalda.

- 1) We - Its 2) We - Our 3) She - It's 4) Mr. Javadi - It

68. Their father is a doctor . He's talking to the shopkeeper to find some s _ _ table gifts for his d _ _ ghters.

- 1) ui - au 2) uc - ou 3) iu - uo 4) ui - ua

69. He in Helal-e-Ahmar first aid classes and learned how to voluntary work.

- 1) brought - make 2) joined - take 3) commemorate - get 4) participated - do

70. The boy had a car last week and now he has a on his face .

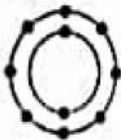
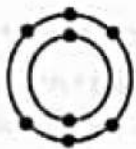
- 1) attack - scar 2) crash - scar 3) accident - cast 4) stick - wound

علوم تجربی

۷۱ - با توجه به واکنش پذیری فلزات ، کدام واکنش زیر انجام نمی شود ؟

- (۱) → محلول مس سولفات + آهن
 (۲) → محلول آهن سولفات + مس
 (۳) → محلول آهن سولفات + منیزیم
 (۴) → محلول آهن سولفات + روی

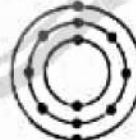
۷۲ - کدام یک از عناصر زیر با عنصر روبه رو ترکیب یونی تشکیل می دهد ؟



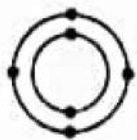
(۴)



(۳)

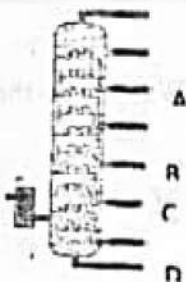


(۲)



(۱)

۷۳ - شکل روبه رو برج تقطیر را نشان می دهد . هیدروکربن های جدا شده از کدام برش ، آسانتر جاری می شوند ؟

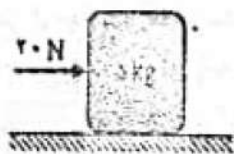


- (۱) برش D
 (۲) برش B
 (۳) برش C
 (۴) برش A

۷۴- متحرکی در مدت ۵ ثانیه، ۱۰۰ متر در جهت شرق و سپس در مدت ۲ ثانیه، ۴۰ متر در جهت غرب و در نهایت در مدت ۳ ثانیه، ۸۰ متر در جهت شمال حرکت می کند. سرعت متوسط این متحرک چند متر بر ثانیه است؟

- (۱) $10 \frac{m}{s}$ در جهت شمال شرق (۲) $10 \frac{m}{s}$ (۳) $22 \frac{m}{s}$ در جهت شمال شرق (۴) $22 \frac{m}{s}$

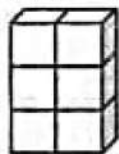
۷۵- مطابق شکل به جسی به جرم ۵ کیلوگرم، نیروی افقی ۲۰ نیوتن وارد می شود. اگر شتاب حرکت جسم $3 \frac{m}{s^2}$ باشد،



مقدار نیروی اصطکاک چه قدر است؟

- (۱) $15 N$ (۲) $35 N$
(۳) $4 N$ (۴) $5 N$

۷۶- در شکل زیر فشاری که مکعب A بر سطح زیرین خود وارد می کند، چند برابر فشاری است که مکعب B بر سطح وارد می کند؟



A



B


(۲) ۳ برابر

(۱) ۶ برابر

(۴) $\frac{1}{6}$ برابر

(۳) $\frac{1}{3}$ برابر

۷۷- در حالت تعادل مزیت مکانیکی کدام ماشین بیشتر است؟ (از اصطکاک صرف نظر شود.)



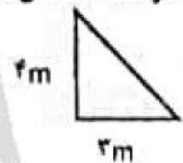
(۴)



(۳)



(۲)



(۱)

۷۸- کدام گزینه درست است؟

- (۱) هر چه از محور میان اقیانوسی به سمت قاره ها پیش می رویم، سن سنگ های بستر اقیانوس کم تر می شود.
(۲) حرکت امتداد لغز بیشتر در بستر اقیانوس ها رخ می دهد و باعث ایجاد زمین لرزه های زیاد می شود.
(۳) دریای سرخ در نتیجه برخورد ورقه آفریقا و ورقه عربستان ایجاد شده است.
(۴) هنگام برخورد ورقه اقیانوسی با ورقه قاره ای، ورقه قاره ای به علت چگالی بیشتر به زیر ورقه اقیانوسی فرو می رود.

۷۹- با توجه به شکل فسیل جاننداری با ساختمان بدنی پیچیده تر را در کدام لایه می توان یافت؟ (لایه های رسوبی وارونه نشده اند.)



A (۱)

F (۲)

E (۳)

C (۴)

۸۰- سیاره عطارد کدام یک از ویژگی های زیر را دارد؟

A- داغ ترین سیاره منظومه شمسی است.

B- طول سال این سیاره از زمین کم تر است.

C- این سیاره قمر ندارد.

D- قطر این سیاره نسبت به قطر زمین کوچک تر است.

(۴) D, C, B, A

(۳) A, D, C

(۲) A, B, C

(۱) D, C, B

۸۱- از عبارات زیر چند جمله درست است ؟

- باکتری ها پیش هسته ای (پروکاریوت) هستند و مانند گیاهان دیواره یاخته ای دارند.
- جلبک ها شناخته ترین گروه آغازیان هستند و در تولید اکسیژن نقش مهمی دارند.
- قارچ های پرسلولی همانند گیاهان فتوسنتز می کنند.
- ویروس ایدز در گویچه های قرمز تکثیر می شود.

- هرچه از سطوح بالای طبقه بندی به سطح پایین تر نزدیک شویم شباهت بین جانداران کم تر و تعداد آن ها بیشتر می شود.

- ۲ (۱) جمله ۲ (۲) جمله ۴ (۳) جمله ۵ (۴) جمله

۸۲- در گیاه سیب زمینی - هویج و کاکتوس (به ترتیب از راست به چپ) غذاسازی در کدام قسمت گیاه انجام می گیرد ؟

- ۱ (۱) ساقه - ریشه - ساقه ۲ (۲) ساقه - برگ - برگ ۳ (۳) برگ - برگ - ساقه ۴ (۴) برگ - ریشه - ساقه

۸۳- چند مورد، جمله مقابل را به درستی تکمیل می کند ؟ «پندپایان»

- بزرگ ترین گروه جانوران را در روی زمین تشکیل می دهند.

- به علت داشتن اسکلت خارجی سخت برای رشد، پوست اندازی می کنند.

- براساس زائده های بدن در پنج گروه طبقه بندی می شوند.

- همگی دارای نیش زهری هستند.

- تقریباً در همه زیستگاه ها یافت می شوند.

- ۲ (۱) جمله ۲ (۲) جمله ۴ (۳) جمله ۵ (۴) جمله

۸۴- کدام بخش از بدن ماهی نسبت به ارتعاشات محیط حساس است و در شناخت محیط به ماهی کمک می کند ؟

- ۱ (۱) بادکنک شنا ۲ (۲) مثانه ۳ (۳) پاه دمی ۴ (۴) خط جانبی

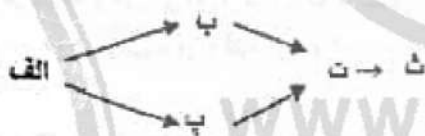
۸۵- با توجه به نمودار گزینه درست را انتخاب کنید.

۱ (۱) موجود (الف) جاندار است که از مواد معدنی، مواد آلی می سازد.

۲ (۲) بیش ترین مقدار ماده و انرژی در این زنجیره به موجود (ت) می رسد.

۳ (۳) موجود (ب) و (پ) اولین گوشتخواران این زنجیره غذایی هستند.

۴ (۴) رابطه بین موجودات (ب) و (ت) از نوع رقابت است.



www.tizline.com
۰۲۱۹۱۳۰۲۲۰۲

ریاضی

۸۶- اگر $n(A) = 7$ ، $n(B) = 4$ ، $n(A \cup B) = 10$ باشد، $n(A \cap B)$ برابر کدام گزینه خواهد بود ؟

- ۱ (۱) ۲ (۲) ۶ (۳) ۳ (۴)

۸۷- درجه عبارت چند جمله ای $3x^5y^4 - 2x^3z^7$ نسبت به متغیرهای x ، y ، z کدام گزینه است ؟

- ۲ (۱) ۹ (۲) ۸ (۳) ۱۰ (۴)

۸۸- اگر $M = \{1, 2, 3, \dots, 7\}$ باشد، چند زیرمجموعه ۳ عضوی از M می توان نوشت که عدد ۵ حتماً عضو آنها باشد.

- ۷ (۱) ۳۰ (۲) ۱۰ (۳) ۱۵ (۴)

۸۹- اگر $2x^2 - 3x + m$ بر $x - 1$ بخش پذیر باشد، مقدار m در کدام گزینه آمده است؟

- (۱) -۱ (۲) +۲ (۳) -۲ (۴) +۱

۹۰- با توجه به تساوی مقابل، مقدار $2A + 2B$ کدام گزینه است؟


$$\frac{A}{x+2} + \frac{B}{x+3} = \frac{2x+5}{x^2+5x+6}$$

- (۱) ۵ (۲) ۱۱ (۳) ۱۴ (۴) ۱۰

۹۱- کدام گزینه از همه کوچک تر است؟ @nohomi9

(۱) $\left[-\left(-\frac{1}{2}\right)^2\right]^2$ (۲) $\left[-\left(\frac{1}{2}\right)^{-2}\right]^2$ (۳) $\left[\left(\frac{1}{2}\right)^2\right]^{-2}$ (۴) $\left[\left(-\frac{1}{2}\right)^{-2}\right]^{-2}$

۹۲- اگر شکل زیر را حول ضلع DC دوران دهیم، حجم شکل حاصل کدام گزینه است؟



- (۱) 54π (۲) 66π (۳) 180π (۴) 90π

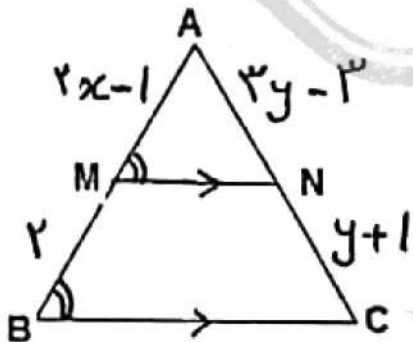
۹۳- چندتا از عبارات های زیر صحیح می باشد؟

- قدرمطلق مجموع دو عدد از مجموع قدر مطلق های آن دو عدد کوچک تر یا مساوی با آن است.
- نمایش اعشاری کسر $\frac{3}{6}$ متناوب می باشد.
- نماد علمی عدد 520003×10^{-14} به صورت $52/0003 \times 10^{-10}$ است.
- مساحت کل هرم منتظم به طول b برابر است با $\sqrt{3}b^2$.
- در پرتاب یک تاس احتمال این که عدد رو شده، عددی مرکب باشد، $\frac{1}{4}$ است.

- (۱) ۱ (۲) ۲ (۳) ۳ (۴) ۴

۹۴- در شکل مقابل دو مثلث AMN و ABC متشابه هستند

و نسبت تشابه برابر $\frac{3}{5}$ می باشد. حاصل $x + y$ کدام گزینه است؟



- (۱) ۳ (۲) ۴ (۳) ۵ (۴) ۶

۹۵- حاصل $3/\sqrt{7} - 1/\sqrt{53}$ برابر کدام گزینه است؟

- (۱) $\frac{74}{90}$ (۲) $\frac{152}{90}$ (۳) $\frac{74}{33}$ (۴) $\frac{152}{33}$

۹۶- محیط مثلث محصور شده بین سه خط $y=2$ ، $y+x=10$ ، $y=x$ در کدام گزینه آمده است؟

- (۱) $2\sqrt{18}$ (۲) $6+6\sqrt{2}$ (۳) 9 (۴) $9+2\sqrt{2}$

۹۷- اگر $2z+7$ ، $2^{2x+1} \times 5^{2y-2} \times 7^{z-2} = 1$ باشد، حاصل $|2x - 3z|$ کدام است؟

- (۱) 3 (۲) 7 (۳) 4 (۴) 12

۹۸- ساده شده عبارت $\frac{(\sqrt{5}-\sqrt{2})(\sqrt{7}+\sqrt{4})}{\sqrt{2}}$ کدام گزینه است؟

- (۱) $2\sqrt{7}$ (۲) $\sqrt{5}$ (۳) $\sqrt{2}$ (۴) $\sqrt{3}$

۹۹- اگر $x - \frac{1}{x} = 5$ باشد، حاصل $2x^2 - \frac{2}{x^2}$ کدام گزینه است؟

- (۱) $1-\sqrt{29}$ (۲) $1+\sqrt{7}$ (۳) $2-\sqrt{3}$ (۴) $5\sqrt{29}$

۱۰۰- اگر $B = \frac{3}{\sqrt{2}+\sqrt{3}} + \frac{3}{\sqrt{3}+\sqrt{4}} + \dots + \frac{3}{\sqrt{31}+\sqrt{32}}$ باشد، مقدار B^2 برابر کدام گزینه خواهد بود؟

- (۱) 26 (۲) 162 (۳) 450 (۴) 60

www.tizline.ir

۰۲۱۹۱۳۰۲۲۰۲

پاسخنامه کلیدی آزمون نمونه دولتی استان فارس ۱۴۰۱-۱۴۰۲

۱	<input checked="" type="checkbox"/>	<input type="checkbox"/>	<input type="checkbox"/>	<input type="checkbox"/>	۱۱	<input type="checkbox"/>	<input type="checkbox"/>	<input checked="" type="checkbox"/>	<input type="checkbox"/>	۲۱	<input type="checkbox"/>	<input type="checkbox"/>	<input type="checkbox"/>	<input checked="" type="checkbox"/>	۳۱	<input type="checkbox"/>	<input checked="" type="checkbox"/>	<input type="checkbox"/>	<input type="checkbox"/>
۲	<input type="checkbox"/>	<input checked="" type="checkbox"/>	<input type="checkbox"/>	<input type="checkbox"/>	۱۲	<input type="checkbox"/>	<input checked="" type="checkbox"/>	<input type="checkbox"/>	<input type="checkbox"/>	۲۲	<input checked="" type="checkbox"/>	<input type="checkbox"/>	<input type="checkbox"/>	<input type="checkbox"/>	۳۲	<input checked="" type="checkbox"/>	<input type="checkbox"/>	<input type="checkbox"/>	<input type="checkbox"/>
۳	<input type="checkbox"/>	<input type="checkbox"/>	<input type="checkbox"/>	<input checked="" type="checkbox"/>	۱۳	<input type="checkbox"/>	<input type="checkbox"/>	<input checked="" type="checkbox"/>	<input type="checkbox"/>	۲۳	<input type="checkbox"/>	<input type="checkbox"/>	<input type="checkbox"/>	<input checked="" type="checkbox"/>	۳۳	<input type="checkbox"/>	<input checked="" type="checkbox"/>	<input type="checkbox"/>	<input type="checkbox"/>
۴	<input type="checkbox"/>	<input type="checkbox"/>	<input checked="" type="checkbox"/>	<input type="checkbox"/>	۱۴	<input type="checkbox"/>	<input type="checkbox"/>	<input checked="" type="checkbox"/>	<input type="checkbox"/>	۲۴	<input type="checkbox"/>	<input checked="" type="checkbox"/>	<input type="checkbox"/>	<input type="checkbox"/>	۳۴	<input type="checkbox"/>	<input type="checkbox"/>	<input type="checkbox"/>	<input checked="" type="checkbox"/>
۵	<input checked="" type="checkbox"/>	<input type="checkbox"/>	<input type="checkbox"/>	<input type="checkbox"/>	۱۵	<input type="checkbox"/>	<input type="checkbox"/>	<input type="checkbox"/>	<input checked="" type="checkbox"/>	۲۵	<input type="checkbox"/>	<input type="checkbox"/>	<input checked="" type="checkbox"/>	<input type="checkbox"/>	۳۵	<input type="checkbox"/>	<input type="checkbox"/>	<input checked="" type="checkbox"/>	<input type="checkbox"/>
۶	<input type="checkbox"/>	<input type="checkbox"/>	<input checked="" type="checkbox"/>	<input type="checkbox"/>	۱۶	<input type="checkbox"/>	<input checked="" type="checkbox"/>	<input type="checkbox"/>	<input type="checkbox"/>	۲۶	<input type="checkbox"/>	<input type="checkbox"/>	<input type="checkbox"/>	<input checked="" type="checkbox"/>	۳۶	<input checked="" type="checkbox"/>	<input type="checkbox"/>	<input type="checkbox"/>	<input type="checkbox"/>
۷	<input type="checkbox"/>	<input type="checkbox"/>	<input checked="" type="checkbox"/>	<input type="checkbox"/>	۱۷	<input type="checkbox"/>	<input type="checkbox"/>	<input type="checkbox"/>	<input checked="" type="checkbox"/>	۲۷	<input checked="" type="checkbox"/>	<input type="checkbox"/>	<input type="checkbox"/>	<input type="checkbox"/>	۳۷	<input type="checkbox"/>	<input type="checkbox"/>	<input type="checkbox"/>	<input checked="" type="checkbox"/>
۸	<input type="checkbox"/>	<input type="checkbox"/>	<input checked="" type="checkbox"/>	<input type="checkbox"/>	۱۸	<input type="checkbox"/>	<input type="checkbox"/>	<input checked="" type="checkbox"/>	<input type="checkbox"/>	۲۸	<input type="checkbox"/>	<input checked="" type="checkbox"/>	<input type="checkbox"/>	<input type="checkbox"/>	۳۸	<input checked="" type="checkbox"/>	<input type="checkbox"/>	<input type="checkbox"/>	<input type="checkbox"/>
۹	<input type="checkbox"/>	<input checked="" type="checkbox"/>	<input type="checkbox"/>	<input type="checkbox"/>	۱۹	<input type="checkbox"/>	<input type="checkbox"/>	<input checked="" type="checkbox"/>	<input type="checkbox"/>	۲۹	<input type="checkbox"/>	<input type="checkbox"/>	<input type="checkbox"/>	<input checked="" type="checkbox"/>	۳۹	<input type="checkbox"/>	<input type="checkbox"/>	<input type="checkbox"/>	<input checked="" type="checkbox"/>
۱۰	<input type="checkbox"/>	<input type="checkbox"/>	<input type="checkbox"/>	<input checked="" type="checkbox"/>	۲۰	<input type="checkbox"/>	<input checked="" type="checkbox"/>	<input type="checkbox"/>	<input type="checkbox"/>	۳۰	<input type="checkbox"/>	<input type="checkbox"/>	<input type="checkbox"/>	<input checked="" type="checkbox"/>	۴۰	<input type="checkbox"/>	<input type="checkbox"/>	<input checked="" type="checkbox"/>	<input type="checkbox"/>
۴۱	<input type="checkbox"/>	<input type="checkbox"/>	<input checked="" type="checkbox"/>	<input type="checkbox"/>	۵۱	<input checked="" type="checkbox"/>	<input type="checkbox"/>	<input type="checkbox"/>	<input type="checkbox"/>	۶۱	<input type="checkbox"/>	<input type="checkbox"/>	<input checked="" type="checkbox"/>	<input type="checkbox"/>	۷۱	<input type="checkbox"/>	<input type="checkbox"/>	<input checked="" type="checkbox"/>	<input type="checkbox"/>
۴۲	<input type="checkbox"/>	<input checked="" type="checkbox"/>	<input type="checkbox"/>	<input type="checkbox"/>	۵۲	<input checked="" type="checkbox"/>	<input type="checkbox"/>	<input type="checkbox"/>	<input type="checkbox"/>	۶۲	<input type="checkbox"/>	<input checked="" type="checkbox"/>	<input type="checkbox"/>	<input type="checkbox"/>	۷۲	<input type="checkbox"/>	<input checked="" type="checkbox"/>	<input type="checkbox"/>	<input type="checkbox"/>
۴۳	<input checked="" type="checkbox"/>	<input type="checkbox"/>	<input type="checkbox"/>	<input type="checkbox"/>	۵۳	<input type="checkbox"/>	<input type="checkbox"/>	<input type="checkbox"/>	<input checked="" type="checkbox"/>	۶۳	<input type="checkbox"/>	<input type="checkbox"/>	<input checked="" type="checkbox"/>	<input type="checkbox"/>	۷۳	<input type="checkbox"/>	<input type="checkbox"/>	<input type="checkbox"/>	<input checked="" type="checkbox"/>
۴۴	<input type="checkbox"/>	<input checked="" type="checkbox"/>	<input type="checkbox"/>	<input type="checkbox"/>	۵۴	<input checked="" type="checkbox"/>	<input type="checkbox"/>	<input type="checkbox"/>	<input type="checkbox"/>	۶۴	<input type="checkbox"/>	<input checked="" type="checkbox"/>	<input type="checkbox"/>	<input type="checkbox"/>	۷۴	<input checked="" type="checkbox"/>	<input type="checkbox"/>	<input type="checkbox"/>	<input type="checkbox"/>
۴۵	<input checked="" type="checkbox"/>	<input type="checkbox"/>	<input type="checkbox"/>	<input type="checkbox"/>	۵۵	<input type="checkbox"/>	<input type="checkbox"/>	<input type="checkbox"/>	<input checked="" type="checkbox"/>	۶۵	<input checked="" type="checkbox"/>	<input type="checkbox"/>	<input type="checkbox"/>	<input type="checkbox"/>	۷۵	<input type="checkbox"/>	<input type="checkbox"/>	<input type="checkbox"/>	<input checked="" type="checkbox"/>
۴۶	<input type="checkbox"/>	<input type="checkbox"/>	<input type="checkbox"/>	<input checked="" type="checkbox"/>	۵۶	<input type="checkbox"/>	<input type="checkbox"/>	<input checked="" type="checkbox"/>	<input type="checkbox"/>	۶۶	<input type="checkbox"/>	<input type="checkbox"/>	<input checked="" type="checkbox"/>	<input type="checkbox"/>	۷۶	<input type="checkbox"/>	<input checked="" type="checkbox"/>	<input type="checkbox"/>	<input type="checkbox"/>
۴۷	<input type="checkbox"/>	<input type="checkbox"/>	<input checked="" type="checkbox"/>	<input type="checkbox"/>	۵۷	<input type="checkbox"/>	<input checked="" type="checkbox"/>	<input type="checkbox"/>	<input type="checkbox"/>	۶۷	<input checked="" type="checkbox"/>	<input type="checkbox"/>	<input type="checkbox"/>	<input type="checkbox"/>	۷۷	<input type="checkbox"/>	<input checked="" type="checkbox"/>	<input type="checkbox"/>	<input type="checkbox"/>
۴۸	<input type="checkbox"/>	<input checked="" type="checkbox"/>	<input type="checkbox"/>	<input type="checkbox"/>	۵۸	<input type="checkbox"/>	<input type="checkbox"/>	<input checked="" type="checkbox"/>	<input type="checkbox"/>	۶۸	<input checked="" type="checkbox"/>	<input type="checkbox"/>	<input type="checkbox"/>	<input type="checkbox"/>	۷۸	<input type="checkbox"/>	<input checked="" type="checkbox"/>	<input type="checkbox"/>	<input type="checkbox"/>
۴۹	<input checked="" type="checkbox"/>	<input type="checkbox"/>	<input type="checkbox"/>	<input type="checkbox"/>	۵۹	<input type="checkbox"/>	<input checked="" type="checkbox"/>	<input type="checkbox"/>	<input type="checkbox"/>	۶۹	<input type="checkbox"/>	<input type="checkbox"/>	<input type="checkbox"/>	<input checked="" type="checkbox"/>	۷۹	<input type="checkbox"/>	<input type="checkbox"/>	<input checked="" type="checkbox"/>	<input type="checkbox"/>
۵۰	<input type="checkbox"/>	<input type="checkbox"/>	<input checked="" type="checkbox"/>	<input type="checkbox"/>	۶۰	<input checked="" type="checkbox"/>	<input type="checkbox"/>	<input type="checkbox"/>	<input type="checkbox"/>	۷۰	<input type="checkbox"/>	<input checked="" type="checkbox"/>	<input type="checkbox"/>	<input type="checkbox"/>	۸۰	<input checked="" type="checkbox"/>	<input type="checkbox"/>	<input type="checkbox"/>	<input type="checkbox"/>
۸۱	<input checked="" type="checkbox"/>	<input type="checkbox"/>	<input type="checkbox"/>	<input type="checkbox"/>	۹۱	<input type="checkbox"/>	<input checked="" type="checkbox"/>	<input type="checkbox"/>	<input type="checkbox"/>										
۸۲	<input type="checkbox"/>	<input type="checkbox"/>	<input checked="" type="checkbox"/>	<input type="checkbox"/>	۹۲	<input type="checkbox"/>	<input checked="" type="checkbox"/>	<input type="checkbox"/>	<input type="checkbox"/>										
۸۳	<input type="checkbox"/>	<input checked="" type="checkbox"/>	<input type="checkbox"/>	<input type="checkbox"/>	۹۳	<input checked="" type="checkbox"/>	<input type="checkbox"/>	<input type="checkbox"/>	<input type="checkbox"/>										
۸۴	<input type="checkbox"/>	<input type="checkbox"/>	<input type="checkbox"/>	<input checked="" type="checkbox"/>	۹۴	<input type="checkbox"/>	<input type="checkbox"/>	<input checked="" type="checkbox"/>	<input type="checkbox"/>										
۸۵	<input checked="" type="checkbox"/>	<input type="checkbox"/>	<input type="checkbox"/>	<input type="checkbox"/>	۹۵	<input type="checkbox"/>	<input type="checkbox"/>	<input checked="" type="checkbox"/>	<input type="checkbox"/>										
۸۶	<input checked="" type="checkbox"/>	<input type="checkbox"/>	<input type="checkbox"/>	<input type="checkbox"/>	۹۶	<input type="checkbox"/>	<input checked="" type="checkbox"/>	<input type="checkbox"/>	<input type="checkbox"/>										
۸۷	<input type="checkbox"/>	<input type="checkbox"/>	<input type="checkbox"/>	<input checked="" type="checkbox"/>	۹۷	<input checked="" type="checkbox"/>	<input type="checkbox"/>	<input type="checkbox"/>	<input type="checkbox"/>										
۸۸	<input type="checkbox"/>	<input type="checkbox"/>	<input type="checkbox"/>	<input checked="" type="checkbox"/>	۹۸	<input type="checkbox"/>	<input type="checkbox"/>	<input type="checkbox"/>	<input checked="" type="checkbox"/>										
۸۹	<input type="checkbox"/>	<input type="checkbox"/>	<input type="checkbox"/>	<input checked="" type="checkbox"/>	۹۹	<input checked="" type="checkbox"/>	<input type="checkbox"/>	<input type="checkbox"/>	<input type="checkbox"/>										
۹۰	<input checked="" type="checkbox"/>	<input type="checkbox"/>	<input type="checkbox"/>	<input type="checkbox"/>	۱۰۰	<input type="checkbox"/>	<input checked="" type="checkbox"/>	<input type="checkbox"/>	<input type="checkbox"/>										

تیزلاین، آکادمی به وسعت ایران