

دفترچه سوالات آزمون

ورودی پایه دهم مدارس نمونه دولتی

سال تحصیلی ۱۴۰۲-۱۴۰۱

تعداد سوال: ۱۰۰

مدت پاسخگویی: ۱۲۰ دقیقه

شماره داوطلبی:

نام و نام خانوادگی داوطلب:

ردیف	مواد امتحانی	تعداد سئوال	از شماره	تا شماره
۱	آموزش قرآن و پیام های آسمان	۱۵	۱	۱۵
۲	فارسی	۱۵	۱۶	۳۰
۳	عربی	۱۵	۳۱	۴۵
۴	مطالعات اجتماعی (جغرافیا، تاریخ، مدنی)	۱۵	۴۶	۶۰
۵	زبان انگلیسی	۱۰	۶۱	۷۰
۶	علوم تجربی	۱۵	۷۱	۸۵
۷	ریاضی	۱۵	۸۶	۱۰۰

ساعت شروع آزمون: ۹ صبح

تاریخ برگزاری آزمون: روز جمعه ۱۴۰۱/۰۴/۰۳

توجه:

- ۱- صحیح ترین گزینه ی هر سوال را انتخاب و محل مورد نظر در پاسخ نامه را با مداد مشکی نرم به صورت کامل سیاه کنید.
- ۲- به ازای هر پاسخ صحیح، (۳) امتیاز مثبت و به ازای هر پاسخ غلط، (۱) امتیاز منفی به داوطلب تعلق می گیرد.
- ۳- برای سوالات بدون پاسخ، امتیازی در نظر گرفته نخواهد شد.
- ۴- اگر داوطلبی در هر سوال بیش از یک گزینه را علامت بزند (۱) امتیاز منفی برای او محاسبه می شود.
- ۵- اگر به اشتباه گزینه ای را در پاسخنامه سیاه نمودید باید به طور کامل آن را پاک کنید.

بسمه تعالی

آموزش قرآن و پیام های آسمان

۱- در کدام گزینه معنای همه کلمات درست بیان شده است؟

- ۱) نَشَاءَ (می خواهیم) / أَنْزَلَ (نازل کرد) / تَزْرَعُونَ (زراعت می کنند) / لَاتَطْعَمُوا (طغیان نکنید) / نَجْم (علف)
- ۲) إِخْوَةٌ (برادران) / سَكِينَةٌ (آرامش) / عَسَى (شاید) / فَوْزٌ (موفقیت) / أَصْلَحُوا (اصلاح کنید)
- ۳) ثَقِيلٌ (با ارزش) / قَلِيلٌ (کم) / اتَّخَذَ (قرار بده) / نِصْفٌ (نیم) / رَتَّلَ (آرام و با دقت خواند)
- ۴) ذُنُوبٌ (گناه) / ذَلِكُمْ (آن) / مَسَاكِنٌ (خانه ها) / ابْتَغُوا (طلب کردند) / إِذَا (وقتی که)

۲- ترجمه کدام ترکیب صحیح می باشد؟

- ۱) وَأَطِيعُونَ : و اطاعت کنید
- ۲) لَوْ كُنْتُمْ تَعْلَمُونَ : اگر انجام می دادید
- ۳) أَوْحَيْنَا إِلَيْكَ : وحی کرد به سوی تو
- ۴) لَعَلَّكُمْ تَفْلَحُونَ : تا موفق شوید

۳- ترجمه کدام عبارت قرآنی صحیح نیست؟

- ۱) أَفَرَأَيْتُمُ الْمَاءَ الَّذِي تَشْرَبُونَ : آیا پس می بینید آبی که از آن می نوشید؟
- ۲) الشَّمْسُ وَالْقَمَرُ بِحَسَابٍ : خورشید و ماه با حساب و اندازه در نظم هستند.
- ۳) عَمَّ يَتَسَاءَلُونَ : از چه از یکدیگر می پرسند؟
- ۴) فَلَا خَوْفَ عَلَيْهِمْ وَلَا هُمْ يَحْزَنُونَ : پس ترسی بر آنها نیست و نه آنها اندوهگین می شوند.

۴- ترجمه کلمه مشخص شده در عبارت (فَإِذَا قُضِيَتِ الصَّلَاةُ فَانْتَشِرُوا فِي الْأَرْضِ) در کدام گزینه آمده است؟

- ۱) برپا شد
- ۲) تمام شد
- ۳) ندا داده شد
- ۴) هموار شد

۵- کدام گزینه در مورد متقین صحیح نیست؟

- ۱) يجعل له مخرجاً و يرزقه من حيث لا يحتسب
- ۲) أنهم كانوا قبل ذلك محسنين
- ۳) وصدوا عن سبيل... أضل أعمالهم
- ۴) أولئك أصحاب الجنة خالدین فيها

۶- عاملی که شوق عمل به یک حقیقت را در انسان ایجاد می کند و آدمی را به سمت آن هدایت می کند عبارت است از :

- ۱) علم و آگاهی
- ۲) ایمان و باور قلبی
- ۳) شناخت به عنوان چراغ راه
- ۴) آرامش روحی

۷- گام دوم مشرکان در صدر اسلام برای جلوگیری از ادامه دعوت مردم به اسلام و تحت سلطه قرار دادن ایشان چه بود؟

- ۱) محاصره شدید اقتصادی
- ۲) پیشنهادهای فریبنده
- ۳) حمله نظامی
- ۴) تفرقه افکنی و شکنجه یاران پیامبر

۸- کدام جمله دارای حکم صحیح است؟

- ۱) اگر نمازگزار بدون توجه و از روی فراموشی در بین نماز چیزی بگوید نمازش باطل است.
- ۲) اگر نمازگزار عمداً یا سهواً رکوع نماز را کم یا زیاد کند نمازش باطل است.
- ۳) اگر نمازگزار بین نماز سهواً کاری انجام دهد که صورت نماز را به هم بزند نمازش صحیح است.
- ۴) اگر نمازگزار در دو رکعت اول نمازهای چهاررکعتی شک کند رکعت چندم است نمازش صحیح است.

- ۹- یکی از ویژگی های مهم پیامبران (استقامت و پایداری در راه خدا) است. کدام گزینه درباره این ویژگی صحیح می باشد؟
- ۱) خداوند به حضرت موسی (ع) دستور داد نزد فرعون برود و از او بخواهد بنی اسرائیل را آزاد کند.
 - ۲) مردم زمان حضرت ابراهیم (ع) ستاره و خورشید را می پرستیدند و معتقد بودند اینها اثر خوبی در زندگی آنها دارند.
 - ۳) رسولان الهی با آوردن دلایل محکم، مشرکان را به اندیشه ورزی و تفکر دعوت می کردند.
 - ۴) حضرت نوح (ع) مردم زمان خود را ۹۵۰ سال به یکتاپرستی دعوت کرد ولی در این مدت تنها تعداد بسیار اندکی ایمان آوردند.

۱۰- کدام جمله درباره یاران امام زمان (عج) درست می باشد؟

- ۱) یاران امام زمان فقط کسانی نیستند که ظهور امام را می بینند و به آن حضرت می پیوندند.
- ۲) فقط با انجام واجبات دینی می توان یار امام محسوب شد.
- ۳) یاری امام زمان یعنی یاری دین خدا که این کار مختص دوران ظهور است.
- ۴) همه انسان ها با انجام هر کاری می توانند باعث خوشحالی امام زمان شوند ولی یاران امام محسوب نمی شوند.

- ۱۱- در ترجمه آیه ۷۵ سوره نساء آمده است (چرا در راه خدا برای نجات مردان و زنان و کودکان مستضعف نمی جنگید؟ این ناتوانان همان کسانی اند که می گویند: پروردگارا ما را از این شهری که مردمش ستم پیشه اند بیرون ببر). به کدام یک از انواع جهادها ارتباط بیشتری دارد؟

- ۱) مبارزه نظام اسلامی با گروهک تروریستی منافقین
- ۲) جهاد مردم فلسطین با اشغالگران صهیونیست
- ۳) نبرد سپاه اسلام با حکومت ایران در صدر اسلام
- ۴) جنگ حضرت علی (ع) با خوارج نهروان

۱۲- کدام عبارت صحیح نمی باشد؟

- ۱) خداوند ما را در مکان و زمان خاصی آفرید، پس او نیز محدود به زمان و مکان خاصی است.
- ۲) کسانی که به مبارزه با حق برمی خیزند خداوند آنها را از رحمت خویش محروم می کند.
- ۳) انسان ها به دلیل توانایی های محدود خود امکان شناخت کامل خدای نامحدود را ندارند.
- ۴) به هر میزان که علم و دانش ما افزایش می یابد بیشتر از گذشته آثار علم و قدرت خداوند را در جهان درمی یابیم.

۱۳- کدام یک از تعاریف زیر صحیح می باشد؟

- ۱) جهاد: در فرهنگ اسلامی به معنای تلاش و کوشش و در زبان عربی به معنای مبارزه مسلحانه با دشمنان اسلام
- ۲) وقف: یکی از انواع انفاق های واجب است که برای حفظ آبروی انسان ها مالکیت آن را از اختیار خود خارج می کند
- ۳) شبیخون فرهنگی: سلاحی که استعمارگران برای به زانو درآوردن ملت ایران به کار می گیرند که شامل محاصره اقتصادی، ترور و... می باشد.
- ۴) ولایت فقیه: رهبری و هدایت مردم جامعه توسط فقیه جامع الشرایط

- ۱۴- حضرت علی (ع) می فرمایند: کسی که از دوست خود جز فداکاری انتظار ندارد، همواره از او خشمگین و ناراحت است. با توجه به این فرمایش برای حفظ دوستی خود کدام ویژگی را باید رعایت کنیم؟

- ۱) پرهیز از علاقه افراطی
- ۲) نداشتن توقع بی جا از دوست
- ۳) خیرخواهی نسبت به دوست به عنوان وظایف دوستی
- ۴) پرهیز از گفتن تمامی اسرار به دوست

۱۵- کدام یک از موارد زیر، حکمت انفاق از نظر خداوند می باشد؟

- ۱) فاصله طبقاتی میان ثروتمند و فقیر کم تر می شود.
- ۲) توزیع ثروت میان فقرا و جلوگیری از انحصار آن در دست ثروتمندان
- ۳) مردم نسبت به یکدیگر مهربان تر می شوند و احساس مسئولیت بیشتری می کنند.
- ۴) انفاق مال آن قدر نزد خداوند ارزشمند است که آن را یکی از نشانه های ایمان می داند.

۱۶- از بین واژگان زیر، معنای چند واژه درست ذکر شده است؟

"آستان : جناب / بصیرت : زیرکی / تضرع : حالتی از اعتراض به خود گرفتن / جاه : درجه / عزیمت : بزرگی و شکوه / قافله : همسفران / مشقت : دلسوزی / حرص : هوس"

(۱) چهار (۲) شش (۳) هفت (۴) هشت

۱۷- تعداد غلط های املایی کدام گزینه برابر با تعداد غلط های املایی متن زیر است؟

"دانشمند گفت: اکنون چه جای این پرسش است. بیمار با تعرض پاسخ داد. فقیح مسئله را باز گفت و از جای برخاست و دوست خود را ترک کرد."

- (۱) برای آنکه انتقادش به طعن و لعن و حجو شباهت نیابد آنها را با طنز می آمیزد و دلپذیر می کند.
 (۲) داعیه ای در باطن من پدید آمد که به هیچ وجه در آن حالت که اندر بودم رازی نتوانستم بود.
 (۳) چهار دیواری محضر استاد حاسب جایگاهی بود که تنین پرسش های او هر روز در آن می پیچید.
 (۴) پس داده است خداوند علیم به آدمی آن چه سلاح دین و دنیای او در آنهاست.

۱۸- از بین آثار زیر، برای کدام شاعر یا نویسنده، اثری ذکر نشده است؟

" حاوی - التفهیم - مصیبت نامه - کنزالحکمه - شاهنامه - نصیحه الملوک - مجمع النوادر"

(۱) شیخ محمود شبستری (۲) سنایی غزنوی (۳) مجد خوافی (۴) نظامی عروضی

۱۹- آرایه های جناس، تشخیص، تلمیح و تشبیه به ترتیب در کدام بیت ها مشهود است؟

الف) نعمتت بار خدایا ز عدد بیرون است
 ب) چو بفروختی از که خواهی خرید
 ج) در نگاهش خشم و آتش را نمی دیدند
 د) ای دل ار سیل فنا بنیاد هستی برکنند

شکر انعام تو هرگز نکند شکرگزار
 متاع جوانی به بازار نیست
 بر کمانش تیر آرش را نمی دیدند
 چون تو را نوح است کشتیبان ز توفان غم مخور

(۱) ب، الف، ج، د (۲) ج، د، ب، الف (۳) ج، د، الف، ب (۴) الف، ج، د، ب

۲۰- در کدام گزینه پرسش انکاری وجود ندارد؟

(۱) به جز از علی که گوید به پسر که قاتل من
 (۲) تا کی به تمنای وصال تو یگانه
 (۳) دلا غافل ز سبحانی چه حاصل؟
 (۴) کی رفته ای ز دل که تمنا کنم تو را؟

چو اسیر توست اکنون به اسیر کن مدارا؟
 اشکم شود از هر مژه چون سیل روانه؟
 مطیع نفس شیطانی چه حاصل؟
 کی بوده ای نهفته که پیدا کنم تو را؟

۲۱- در کدام گزینه ها به ترتیب وابسته ی پیشین و وابسته ی پسین دیده می شود؟

الف) چو ما را به دنیا تو کردی عزیز
 ب) گفتمش باید بوی نامم زیاد
 ج) آن را پیش رویت بگذاری و بگویی
 د) که باشد ز هر بد نگهدارتان

به عقبی همین چشم داریم نیز
 گفت باشد می برم نامت ز یاد
 این دارایی من است
 همه نیک نامی بود یارتان

(۱) الف و ج (۲) ج و د (۳) د و ج (۴) د و الف

۲۲- در کدام ابیات واژه " وندی " وجود دارد؟

(الف) ندیده زحمت رفتار ره نیاموزی

(ب) که باشد ز هر بد نگهدارتان

(ج) کودکی از جمله ی آزادگان

(د) چون کار به عالم جوان نسپاری

(۱) الف و ب

(۲) ج و د

(۳) ب و ج

(۴) الف و ج

خطا نکرده، صواب و خطا چه دانی چیست؟

همه نیک نامی بود یارتان

رفت برون با دو سه همزادگان

پس کار به پیر کاردان باید داد

۲۳- در همه ی گزینه ها هر دو نوع فعل مضارع اخباری و التزامی وجود دارد به جز

(۱) به عدل ار تو یاری کنی خلق را

(۲) همه سر به سر تن به کشتن دهیم

(۳) ما بر خلاف رسم جهان هر که بد کند

(۴) آنان که خاک را به نظر کیمیا کنند

به فضل، ایزدت نیز یاری کند

از آن به که کشور به دشمن دهیم

نیکی کنیم آن قدرش تا خجل شود

آیا بود که گوشه ی چشمی به ما کنند؟

۲۴- نقش ضمیر متصل در بیت زیر با نقش ضمیر متصل در کدام بیت یکسان است؟

" دادند دو گوش و یک زبانت ز آغاز یعنی که دو بشنو و یکی بیش مگوی "

(۱) هر صبح و شام قافله ای از دعای خیر

(۲) حیف است طایری چو تو در خاکدان غم

(۳) لاله دیدم روی زیبای توام آمد به یاد

(۴) گفتم بینمش مگرم درد اشتیاق

در صحبت شمال و صبا می فرستم

زین جا به آشیان وفا می فرستم

شعله دیدم سرکشی های توام آمد به یاد

ساکن شود بدیدم و مشتاق تر شدم

۲۵- از میان واژه های زیر چند جفت واژه ها با هم، هم خانواده هستند؟

" صلّه - اتّصال / متّهم - اوهام / مستغنی - مغتنم / عیش - معاش / منزوی - زاویه / اعتراض - عارضه / خلل - مخل / موافقت - متّفق "

(۱) شش جفت

(۲) هفت جفت

(۳) هشت جفت

(۴) چهار جفت

۲۶- نقش مشخص شده در کدام گزینه درست نوشته شده است؟

(۱) چون تو را نوح است کشتیبان ز توفان غم مخور : مفعول

(۲) روزها می گذشت و هر روز درخت وجود نصیرالدین پربارتر می شد : نهاد

(۳) به لطفم بخوان و مران از درم/که صورت نبندد دری دیگرم : مضاف الیه

(۴) چون نقاشی تو چشم های انسان ها را فریب داده است بنابراین پرنده تویی : نهاد

۲۷- سوم شخص مفرد ماضی استمراری کدام گزینه با دوم شخص جمع مضارع اخباری آن شکل یکسانی دارد؟

(۱) بشنوی

(۲) می ساخت

(۳) برده است

(۴) بجوش

۲۸- کدام یک از بیت های زیر با بیت های دیگر ارتباط معنایی کمتری دارد؟

(۱) الهی جانب من کن نگاهی

(۲) به چشم مرحمت، سویم نظر کن

(۳) خدایا به ذلت مران از درم

(۴) کریمایا به رزق تو پرورده ایم

مرا بنما به سوی خویش راهی

شفیع آخرت خیرالبشر کن

که صورت نبندد دری دیگرم

به انعام و لطف تو خو کرده ایم

۲۹- مفهوم کدام گزینه در عبارت زیر نیامده است؟

" به غم مردمان شادی مکن تا مردمان نیز به غم تو شادی نکنند. داد ده تا دادیابی. خوب گوی تا خوب شنوی "

- (۱) گرچه یاران همه از شادی ما غمگین اند
- (۲) درشتی ز کس نشنود نرم گوی
- (۳) نکردند رغبت هنر پروران
- (۴) این جهان کوه است و فعل ما ندا

۳۰- بیت "غَوَاصٌّ اِذَا سَمِعُوا نَجْدًا كَانُوا يَنْجُوْنَ" با کدام گزینه قرابت معنایی دارد؟

- (۱) هان، مشو نومید چون واقف نه ای از سرّ غیب
- (۲) گرچه منزل بس خطرناک است و مقصد بس بعید
- (۳) عاشقان را چو هوای حرم کعبه بود
- (۴) دور گردون گر دو روزی بر مراد ما نرفت

عربی

۳۱- ترجمه کدام یک از فعل های مشخص شده ، صحیح است؟

- (۱) كَانَ حَامِدٌ يَشْعُرُ بِالنُّومِ فِي الصَّفِّ. (احساس می کند)
- (۲) سَابَحْتُ بَحْثًا عِلْمِيًّا فِي الْإِنْتَرْنِتِ. (گفتگو خواهم کرد)
- (۳) هُمْ يَدْرُسُونَ فِي الْجَامِعَاتِ. (درس می دهند)
- (۴) أَهْدَيْتُ تُوَابِهَا لَكُمْ. (هدیه کردم)

۳۲- ترجمه ی کدام عبارت صحیح است؟

- (۱) لَبَسَتْ أُمِّي خَاتَمَهَا الذَّهَبِيَّ فِي حَفْلَةِ مِيلَادِ أُخِي الْأَكْبَرِ. :مادرم انگشتر طلایش را در جشن تولد برادر بزرگم پوشید. (به دست کرد)
- (۲) أَنَا وَأَصْدِقَائِي ، صَلَّيْنَا هُنَاكَ . : من و دوستانم ، آنجا رسیدیم.
- (۳) أُجْرَةُ كُلِّ نَفْرٍ خَمْسَةٌ وَعِشْرُونَ أَلْفَ دِينَارٍ. : کرایه ی هر نفر پنجاه و دو هزار دینار است.
- (۴) يَا إِخْوَتِي ، لَا تَغْضَبُوا عَلَيَّ أَحَدٍ. : ای برادرانم ، هر کسی (هیچ کس) خشم نگیرید (خشمگین نشوید).

۳۳- رابطه ی بین کلمات کدام گزینه درست نیست؟

- (۱) وَلَجَّ = دَخَلَ
- (۲) يَقْرَعُ = يَطْرُقُ
- (۳) اسْتَلَمَ = دَفَعَ
- (۴) تَمَنَّ = سِعَرَ

۳۴- در کدام گزینه ، کلمه ی مشخص شده ، « صفت » نیست؟

- (۱) طُلَّابٌ مُجْتَهِدُونَ
- (۲) الْمَكِيفُ مُعْطَلٌ.
- (۳) هُوَ يَعْمَلُ بِوَجَائِبِ الْمَدْرَسِيَّةِ .
- (۴) هُوَ أَوَّلُ مَنْ صَنَعَ مُخْتَبِرًا لِلْبَحْثِ الصَّنَاعِيِّ .

۳۵- جواب مقابل کدام گزینه با سوال آن مناسب نیست؟

- (۱) أَتَكْتَبِينَ الْوَجَائِبَ فِي الْمَكْتَبَةِ؟ لَا؛ أَكْتُبُهَا فِي الْبَيْتِ.
- (۲) بِمِ يَسَافِرُ الْحُجَّاجُ إِلَى مَكَّةَ الْمُكْرَمَةِ؟ بِالطَّائِرَةِ.
- (۳) فِي أَيِّ صَفٍّ كَانَتْ سَارَةُ رَاسِيَّةً؟ أَرْبَعَةَ صُفُوفٍ.
- (۴) كَمْ حَافِلَةً فِي الْمَوْقِفِ؟ ثَلَاثُ حَافِلَاتٍ.

۳۶- ضرب المثل (چنین است رسم سرای درشت / گهی پشت بر زین، گهی زین به پشت) با کدام عبارت ارتباط معنایی بیشتری دارد؟

- (۱) مَنْ طَلَّبَ أَخًا بِلا عَيْبٍ بَقِيَ بِلا أَخٍ.
- (۲) يَوْمَ لَنَا وَ يَوْمَ عَلَيْنَا.
- (۳) لِكُلِّ جَدِيدٍ لَذَّةٌ .
- (۴) مَنْ قَرَعَ أَبَا وَ لَجَّ وَ لَجَّ .

۳۷- کدام گزینه از نظر نگارش (کاربرد فعل) صحیح نیست؟

- (۱) شَجَعْنَا فَرِيقَنَا الْفَائِزَ فِي نِهَآئَةِ الْمَسَابَقَةِ.
 (۲) لِهَذَا أَطْلَبُ مِنْكُمْ اِرْكَبُوا تِلْكَ السِّيَّارَاتِ.
 (۳) يَرْجِعَنَّ الطَّالِبَاتُ مِنَ الْمَدْرَسَةِ .
 (۴) يَا أَيُّهَا الْبَنَاتُ ، أَيْنَ تَذْهَبْنَ؟
- ۳۸- گزینه ی غلط را انتخاب کنید.

- (۱) حروف اصلی کلمه (انتباه) عبارتند از « ن ، ب ، ه ، ه »
 (۲) کلمه ی «عَمَلٌ» در عبارت « أَشْكُرُكَ عَلَى عَمَلِكَ الصَّالِحِ » هم مضاف است هم موصوف.
 (۳) در عبارت « وَ إِلَهُ الْخَلْقِ وَ رَازِقُهُ» کلمه ی « رَازِقٌ » به معنای « روزی دهنده» است.
 (۴) کلمه ی « صِنَاعِيَّةٌ » جمع کلمه ی « صِنَاعَةٌ » است.
 ۳۹- فقط عبارت شماره ی درست ترجمه شده است.

- (۱) إِنَّكُمْ تَعْرَفُونَنِي حَقًّا . : همانا من شما را به درستی می شناسم.
 (۲) أَرْجُو مِنْكُمْ الْمَعْذِرَةَ ، لَا تَدْخُلُونَ الْمَسْجِدَ . : از شما معذرت می خواهم، وارد مسجد نشوید.
 (۳) قَرَأَ التَّلَامِيذُ دُرُوسَهُمْ فِي الْبَيْتِ . : دانش آموزان درس هایشان را در خانه خواندند.
 (۴) سُورَةُ النَّمْلِ فِيهَا بَسْمَلَتَانِ . : سوره ی نمل بین دو « بِسْمِ اللّٰهِ الرَّحْمٰنِ الرَّحِیْمِ » قرار دارد.
 ۴۰- اگر بخواهیم در جواب سوال « مَتَى تَذْهَبُونَ إِلَى سَاحَةِ الْحَرْبِ؟ » زمانی بین ساعت « ده و سی و پنج دقیقه و یازده» بنویسیم، کدام

گزینه جواب مناسبی خواهد بود؟

- (۱) الْحَادِيَةَ عَشْرَةَ وَالرُّبْعَ (۲) الْعَاشِرَةَ وَالنِّصْفَ
 (۳) الْحَادِيَةَ عَشْرَةَ إِلَّا رُبْعًا (۴) الْعَاشِرَةَ وَالرُّبْعَ
- ۴۱- ترجمه صحیح عبارت (رَأَيْنَا دُخَانًا مِنْ بَعِيدٍ فَأَتَيْنَا وَ شَاهَدْنَاكُمْ) در کدام گزینه آمده است؟

- (۱) دیدن دود از دور باعث شد که بیاییم و شما را ببینیم.
 (۲) دودی را دیدیم پس به طرف شما آمدیم.
 (۳) از دور دودی را دیدیم پس آمدیم و شما را دیدیم.
 (۴) دودی را از دور دیدیم و پس از مشاهده ی، آن شما را یافتیم.

۴۲- در کدام گزینه ، فعل «امر» یا «نهی» به غلط یکار رفته است؟

- (۱) رَبَّنَا افْتَحْ بَيْنَنَا وَ بَيْنَ قَوْمِنَا .
 (۲) انْكَسَرَتْ إِخْدَى زُجَاجَاتِ الْمَوَادِّ الْكِيمِيَاوِيَّةِ فَاهْرُبَا .
 (۳) لَا تَكْشِفُوا عْيُوبَ أَصْدِقَائِي .
 (۴) وَقَالَتْ لِلْبَنَاتِ: «لَا تَضْحَكَا» .

۴۳- کلمات کدام گزینه ، به ترتیب عبارات « اسْتَخْرَجَ الْفَلَّاحُونَ مَاءً مِنْ لِلزَّرَاعَةِ » و « أَيْنَ أَخُوكَ الْأَكْبَرُ » را کامل می کند؟

- (۱) الْبَيْرُ / تَعَالَ (۲) الْبَيْرُ / يَشْتَقِلُ
 (۳) تَعَالَ / يَشْتَقِلُ (۴) الْبَيْرُ / دَلِيلُ

۴۴- قسمت مشخص شده در عبارت « كُنْتُ أَشْتَقِلُّ فِي الْمَزْرَعَةِ وَ مَا كَانَتْ عِنْدِي فُرْصَةً. » یعنی

- (۱) چه چیز دارم.
 (۲) چه چیز داشتم.
 (۳) ندارم.
 (۴) نداشتم.

۴۵- کدام عبارت با کلمه مقابلش کامل می شود؟

- (۱) هَلْ عِنْدَكَ الْهَاتِفِ الْجُوَالِ؟ (طَاقَةٌ)
 (۲) جَهَّةً بِلَا اِزْدِحَامٍ؟ (مَنْ)
 (۳) إِلَى بَيْتِكَ. (إِرْجَعِي)
 (۴) هَلْ مَرَافِقُ صِحِّيَّةٍ؟ (تَوْجَدُ)

مطالعات اجتماعی

۴۶- هریک از مطالب ذکر شده به ترتیب مربوط به کدام زیست بوم می باشد؟

- در مجاورت جنگل های استوایی واقع شده است.
 - از گسترده ترین زیست بوم های جهان است.
 - بیشترین تنوع زیستی جهان در این زیست بوم است.
 - در این زیست بوم بارندگی بین ۲۵۰ تا ۵۰۰ میلی متر است.
- (۱) جنگل های استوایی - تایگا - جنگل های استوایی - توندرا
 (۲) ساوان - تایگا - جنگل های استوایی - تایگا
 (۳) ساوان - جنگل های استوایی - جنگل های استوایی - توندرا
 (۴) بیابان - تایگا - جنگل های استوایی - تایگا

۴۷- اگر مختصات شهر A ($75^{\circ}E$) و شهر B ($15^{\circ}E$) باشد به ترتیب:

الف: اختلاف ساعت این دو شهر چند ساعت است؟

ب: در صورتی که در لندن ساعت ۱۴ باشد در شهر A ساعت چند است؟

- (۱) ۴ ساعت - ۹ صبح (۲) ۶ ساعت - ۹ صبح (۳) ۴ ساعت - ۱۹ عصر (۴) ۶ ساعت - ۱۹ عصر

۴۸- در بررسی علل و عوامل مختلف نابرابری در جهان کدام گزینه با بقیه متفاوت است؟

- (۱) جلوگیری از استقلال سیاسی و اقتصادی کشورها
 (۲) استبداد
 (۳) وجود برخی فرهنگ ها و عادات غلط اجتماعی
 (۴) نبود مدیریت صحیح و غفلت از استعدادها و ظرفیت ها

۴۹- کدام یک از موارد زیر از نتایج مایل بودن محور قطب ها در گردش انتقالی زمین نمی باشد؟

- (۱) تغییر زاویه تابش آفتاب
 (۲) پیدایش فصل ها
 (۳) نامساوی بودن طول روز و شب
 (۴) پیدایش شب و روز

۵۰- علی ساکن منطقه ای به مختصات جغرافیایی $30^{\circ}N$ | $45^{\circ}E$ می باشد او ساعت ۱۱ صبح با دوستش روی خط استوا تماس می گیرد. دوست علی به او می گوید اینجا ساعت ۷ صبح است. G.P.S دوست علی کدام مختصات جغرافیایی را نشان می دهد؟

- (۱) ۳۰ درجه طول شرقی و صفر درجه استوا
 (۲) ۱۵ درجه طول شرقی و صفر درجه استوا
 (۳) ۳۰ درجه طول غربی و صفر درجه استوا
 (۴) ۱۵ درجه طول غربی و صفر درجه استوا

۵۱- کدام یک از ویژگی های زیر همواره عامل وحدت بخش اقوام ایرانی بوده است؟

- (۱) زبان فارسی
 (۲) تاریخ کهن و میراث فرهنگی غنی
 (۳) سرزمین ایران
 (۴) انقلاب اسلامی

۵۲- این جمله که " افراد خوش بین و امیدوار از سلامت جسمانی بیشتری برخوردارند " نشان دهنده تاثیر کدام ویژگی هویتی برهم است و کدام یک از انواع هویت می باشد؟

- (۱) تاثیر و ویژگی های روانی و اخلاقی بر ویژگی های جسمانی - هویت اجتماعی
 (۲) تاثیر و ویژگی های روانی و اخلاقی بر ویژگی های جسمانی - هویت فردی
 (۳) تاثیر و ویژگی های جسمانی بر ویژگی های روانی و اخلاقی - هویت اجتماعی
 (۴) تاثیر و ویژگی های جسمانی بر ویژگی های روانی و اخلاقی - هویت فردی

۵۳- به قتل رسیدن کدام پادشاه سبب تغییر ساختار کشور نشده است؟

- (۱) آقامحمدخان (۲) شاه سلطان حسین (۳) نادرشاه (۴) لطفعلی خان

۵۴- چند مورد از جملات زیر صحیح است؟

- بعد از مرگ شاه عباس اول چهار پادشاه دیگر روی کار آمدند.
- هدف کشورهای انگلستان و امریکا و هم پیمانان آنان از جنگ نرم با ایران اقدامات نظامی و ایجاد شورش و ناامنی است.
- از دوره افشاریه به عنوان حکومت ناپایدار در تاریخ یاد می شود.
- در دوره صفویه مهمترین مستعمره انگلستان یعنی هندوستان همسایه ایران بود.
- عباس میرزا ولیعهد لطفعلی خان و فرمانده ایران در جنگ با روسیه بود.

- (۱) یک مورد (۲) دو مورد (۳) سه مورد (۴) چهار مورد

۵۵- (زبان گفتاری - قوانین ازدواج - حفظ محیط زیست - مراسم سینه زنی بوشهر) به ترتیب مربوط به کدام لایه های فرهنگ می باشد؟

- (۱) هنجار - ارزش - نماد - ارزش (۲) هنجار - نماد - ارزش - هنجار
(۳) نماد - ارزش - هنجار - نماد (۴) نماد - هنجار - ارزش - هنجار

۵۶- رابطه کدام گزینه نادرست است؟

- (۱) عنصر مهم در تکوین هویت ملی - زبان و خط مشترک
(۲) عنصر مهم آموختن فرهنگ و انتقال آن - تاریخ و زمان
(۳) از مهمترین عناصر شکل دهنده هویت ملی - سرزمین و مکان
(۴) از ارکان مهم هویت ملی - دین

۵۷- با توجه به مفهوم بهره وری چند مورد از گزینه های زیر صحیح است؟

- برای افزایش تولید کالا و خدمات باید در نهاده ها و فرآیند به روش های مناسب و حفظ کیفیت توجه شود.
- یکی از راه های افزایش بهره وری در فعالیت اقتصادی عقلانی کردن الگوی مصرف است.
- باید در فعالیت اقتصادی بهره وری در تولید و توزیع را افزایش دهیم.
- با ابداع یک روش جدید یا اختراع یک وسیله می توان میزان تولید را افزایش داد.
- در همه مراحل تولید، توزیع و مصرف باید به گونه ای عمل شود که کمترین تاثیر مضر و منفی بر محیط زیست داشته باشد.

- (۱) دو مورد (۲) چهار مورد (۳) سه مورد (۴) پنج مورد

۵۸- در جنگ جهانی اول که در سال شروع شد با وجود بی طرفی ایران کشورهای ایران را صحنه نبرد خود کردند.

- (۱) ۱۲۹۳ ش - روسیه - انگلستان - عثمانی
(۲) ۱۳۱۸ ش - آلمان - ایتالیا - روسیه
(۳) ۱۳۰۴ ش - شوروی - آلمان - انگلستان
(۴) ۱۳۲۴ ش - عثمانی - روسیه - انگلستان

۵۹- در کدام گزینه حوادث به ترتیب اتفاق افتاده است؟

- (۱) انقلاب صنعتی - جدایی گرجستان از ایران - قتل امیرکبیر - امتیاز تالبوت
(۲) انقلاب صنعتی - قتل امیرکبیر - جدایی گرجستان از ایران - امتیاز تالبوت
(۳) جدایی گرجستان از ایران - امتیاز تالبوت - قتل امیرکبیر - انقلاب صنعتی
(۴) جدایی گرجستان از ایران - انقلاب صنعتی - امتیاز تالبوت - قتل امیرکبیر

۶۰- (این اتفاق همچون کبریتی بر انبار باروت انقلاب بود) منظور کدام گزینه است؟

- (۱) شهادت حاج آقا مصطفی فرزند امام خمینی
(۲) توهین به امام خمینی در روزنامه اطلاعات
(۳) حادثه ۱۷ شهریور (جمعه سیاه)
(۴) قیام ۱۹ دی مردم قم

۶۱- A: Hey, Ali, Where's your dad?

B: Umm....., he's in the bank. He an account now.

- ۱) to open ۲) is opening ۳) open ۴) opened

۶۲- A: What time the plane ?

B: I guess at 5 P.M.

- ۱) is/board ۲) does/take off ۳) was/took off ۴) did/landed

۶۳- Which is grammatically correct?

کدام گزینه از نظر گرامری صحیح است؟

- ۱) When did your math teacher left her classroom?
 ۲) One of my hobbies are drawing the picture of nature.
 ۳) My friend's mother is connect to the Internet.
 ۴) I'd like to know about your teacher's personality.

۶۴- A: What did you do yesterday, Maryam?

B: Well, I at home and afternoon newspapers.

- ۱) was/read ۲) went/study ۳) arrive/read ۴) left/studied

۶۵- the Holy Quran keeps our hearts calm.

- ۱) Reciting ۲) Studying ۳) Reading ۴) Waiting

۶۶- After a flight, we at airport baggage reclaim.

- ۱) weigh the baggage ۲) check the flight timetable
 ۳) board the plane ۴) take our bags

۶۷- Mahdi is my best friend. He is a boy. He always respects other people. He is, too. He is ready to donate money to the poor people. But he is a bit He often forgets important things.

- ۱) polite, talkative, serious ۲) brave, generous, careful
 ۳) polite, generous, careless ۴) kind, helpful, neat

۶۸- My brother an online computer class last week. He learned how to install a computer dictionary in this class. He wants to use in his English lesson.

- ۱) had, its ۲) had, it ۳) participated, them ۴) attended, its

۶۹- A: Please introduce yourself.

B: This is Ali Alavi. I'm a firefighter. I fire and people's lives.

- ۱) get up/help ۲) check out/donate ۳) put out/save ۴) take out/do

۷۰- A: Where are the keys?

B: Sorry, I them on the way home.

- ۱) put ۲) set ۳) saw ۴) lost

علوم تجربی

۷۱- عنصر A و B به ترتیب ۳ و ۲ لایه دارند و در لایه آخر به ترتیب ۲ و ۳ الکترون دارند. تفاوت عدد اتمی آنها چند است؟

۱) ۹ ۲) ۷ ۳) ۱ ۴) صفر

۷۲- سه عنصر A و B و C در شرایط مناسب در کنار هم و درون یک ظرف دربسته قرار دارند. کدام گزینه درباره این عناصر درست است؟

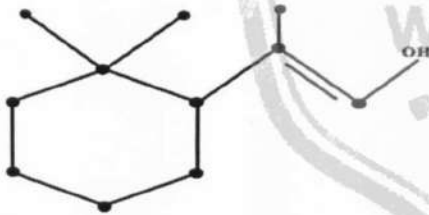
۱) بین عنصر A و B پیوند اشتراکی تشکیل می شود.

۲) احتمال تشکیل ۲ نوع ترکیب یونی وجود دارد.

۳) عنصر A و C به هیچ عنوان نمی توانند با هم ترکیب شوند.

۴) ترکیب حاصل از عنصر B و C در حالت محلول، رسانای الکتریکی ندارد.

۷۳- اگر در ترکیب زیر، که از اتم های کربن و هیدروژن تشکیل شده است، هر نقطه نشان دهنده ی یک اتم کربن باشد، چند اتم هیدروژن در این ترکیب وجود دارد؟



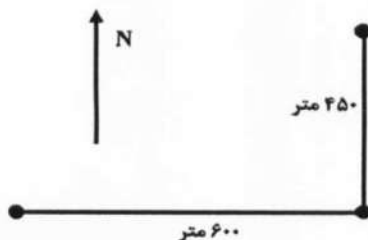
۱) ۲۰

۲) ۱۷

۳) ۱۸

۴) ۱۹

۷۴- نیما دانش آموز سال نهم است و هر روز مسیر خانه تا مدرسه را پیاده طی می کند. او برای رسیدن به مدرسه طبق شکل ابتدا ۶۰۰ متر به سمت شرق و سپس ۴۵۰ متر به سمت شمال پیاده روی می کند. اگر سرعت متوسط او در این مسیر یک متر بر ثانیه به سمت شمال شرق باشد، تندی متوسط او چقدر است؟



۱) ۱/۴ متر بر ثانیه

۲) ۳/۶ کیلومتر بر ساعت

۳) ۵ کیلومتر بر ساعت

۴) ۲/۴ متر بر ثانیه

۷۵- به یک جسم ساکن ۱۵ نیوتنی، نیروی ۸ نیوتن به سمت شرق وارد شده و پس از ۵ ثانیه سرعت آن به ۵۴ کیلومتر بر ساعت می رسد. نیروی اصطکاک جنبشی بین جسم و زمین به سمت غرب چند نیوتن است؟ ($g=10 \frac{N}{kg}$)

- (۱) ۴/۵ (۲) ۸/۲ (۳) ۳/۵ (۴) ۱۵۴

۷۶- از بین گزینه های زیر کدام نادرست است؟

- (۱) از حدود ۸۰ میلیون سال پیش تا به حال حرکت ورقه هند به سمت نیمکره شمالی بوده است.
 (۲) از برخورد ورقه عربستان به ایران، معمولاً زمین لرزه هایی با بزرگی بیشتر از ۵ ریشتر ایجاد می شود.
 (۳) ورقه بزرگ اقیانوس آرام در حال فرورانش به زیر ورقه آمریکای شمالی است.
 (۴) اگر جریان مواد مذاب در خمیرکره (سست کره) رو به بالا باشد ورقه های دورشونده ایجاد می شود.

۷۷- در بررسی فسیل ها به ویژه فسیل های راهنما چند مورد از نتایج به دست آمده زیر درست است؟

- (الف) حیات بر روی زمین با آفرینش جانداران اولیه که ساختمان بدنی پیچیده داشته اند شروع شده است.
 (ب) خشکی های زمین در گذشته های دور به هم متصل بوده اند.
 (پ) سن لایه های تشکیل دهنده پوسته زمین را می توان تشخیص داد.
 (ت) وضعیت آب و هوایی گذشته زمین و عمق حوضه های دریایی را می توان مشخص کرد.
 (ث) هدف از مرحله دوم شناسایی و اکتشاف ذخایر سوخت های فسیلی اطمینان از کیفیت و کمیت منابع مذکور است.
- (۱) الف - پ - ت (۲) ب - پ - ت - ث (۳) الف - ب - ت - ث (۴) ب - پ - ت

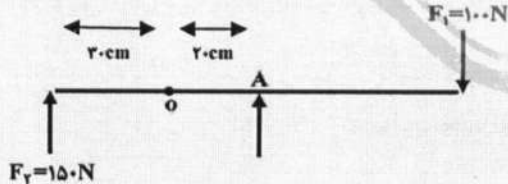
۷۸- دو صفحه با ضخامت و جنس یکسان داریم یکی به شکل مربع به ضلع ۴ متر و دیگری به شکل دایره و به قطر ۴ متر در

عمق مساوی یک استخر به طور افقی قرار دارند. کدام جمله در مورد آنها صحیح است؟ ($\pi=3$)

- (۱) فشار آب وارد بر هر دو برابر ولی نیروی وارد بر مربع بیشتر است.
 (۲) فشار و نیروی وارد بر هر دو صفحه با هم برابر است.
 (۳) فشار آب وارد بر مربع بیشتر ولی نیروی وارد بر آنها با هم برابر است.
 (۴) فشار و نیروی وارد بر صفحه مربع شکل بیشتر از صفحه دایره ای شکل است.

۷۹- میله ای به طول یک متر مطابق شکل در نقطه O لولا شده است و نیروی F_1 و F_2 به دو طرف آن وارد می شود، اما نیرویی در نقطه A از چرخیدن میله جلوگیری می کند و سیستم را در حالت تعادل نگه می دارد، با صرف نظر از وزن میله و

اصطکاک نیرویی که در نقطه A به میله وارد می شود، چند نیوتن و چگونه است؟



- (۱) ۱۰۲ - ساعتگرد
 (۲) ۱۷۰ - پادساعتگرد
 (۳) ۵۷۵ - پادساعتگرد
 (۴) ۳۴۰ - ساعتگرد

۸۰- ستاره خورشید که تنها ستاره منظومه شمسی است، کدام یک از ویژگی های زیر را دارد؟

- A: کاهش جرم خورشید منجر به نابودی آن می شود.
 B: هشت دقیقه و ۳۰ ثانیه طول می کشد تا نور خورشید به زمین برسد.
 C: در ترکیبات اصلی خورشید، ۷۳ درصد هیدروژن وجود دارد.
 D: در خورشید به طور مداوم هلیوم به هیدروژن تبدیل می شود.

A,C,D (۴)

B,C (۳)

A,C (۲)

A,B (۱)

۸۱- در چه تعداد از جملات زیر از کلمه ((هر)) به درستی استفاده نشده است؟

- هر پستانداری، غده شیری دارد
- هر خار پوستی، دریازی است
- هر پستانداری، جفت دار است
- هر قمری، کبوترسان است
- هر تولیدکننده ای، گیاه است
- ویروس در درون سلول هر جاندار وارد می شود

۲ (۴)

۵ (۳)

۴ (۲)

۳ (۱)

۸۲- در جدول زیر شباهت ها و تفاوت های دو گروه از گیاهان مقایسه شده است، کدام ویژگی با گروه خود هم خوانی ندارد؟

تفاوت	شباهت	نام جاندار
داشتن آوند	روش تولید مثل	خزه و سرخس
داشتن میوه	داشتن دانه	بازدانه و نهاندانه
شکل برگ	داشتن میوه	تک لپه و دولپه
داشتن آوند	نداشتن دانه	بازدانه و سرخس

(۴) بازدانه و سرخس

(۳) تک لپه و دولپه

(۲) بازدانه و نهان دانه

(۱) خزه و سرخس

۸۳- در کدام گزینه ترتیب جانداران با ترتیب توضیح متن یکسان است؟

- در دیواره بدن آنها یاخته های رشته داری وجود دارد.
 - تنها یک راه ورود دارند ولی خروج مواد از سطح بدن است.
 - پوشش سخت و محکم دارند بیشتر آنها دریازی اند و غذای جانوران بزرگ مانند ماهی ها را تشکیل می دهند.
 - دستگاه گردش آب دارند که کار دستگاه های گردش خون، تنفس و دفع را انجام می دهند.
- (۱) مرجان - پلاناریا - میگو - سکه شنی
- (۲) شقایق دریایی - کرم کدو - خر خاکی - ستاره دریایی
- (۳) اسفنج - پلاناریا - خرچنگ پهن - توتیا
- (۴) اسفنج - کپلک - صدف دوکفه ای - مرجان

۸۴- در کدام گزینه زیر، جانداران تفاوت های بیشتری با هم دارند؟

- (۱) خفاش - وال آبی - نوک اردکی
- (۲) سمندر - قورباغه - وزغ
- (۳) لاک پشت دریایی - مار کبری - آفتاب پرست
- (۴) سمندر - مار کبری - مارمولک

۸۵- از جملات زیر چند مورد درست است؟

- استتار عملی است که تنها موجودات شکار برای دورماندن از شکارچی از آن استفاده می کنند.
- شکار کردن از راه های تامین غذا در همه انواع جانوران است.
- رابطه بین شقایق دریایی و خرچنگ از نوع همزیستی و همیاری می باشد.
- هر تجزیه کننده ای، مصرف کننده است.
- مرگ گل سنگ و مرجان ها می تواند نشانه آلودگی آب باشد.
- در یک هرم ماده و انرژی حدود $\frac{1}{1000}$ انرژی تولید کننده ها به سومین مصرف کننده می رسد.

۳ (۴)

۱ (۳)

۴ (۲)

۲ (۱)

۹۲- در صورتی که $a < -b$ باشد، حاصل عبارت زیر چیست؟

$$\sqrt{(2a+2b)^2} - \sqrt[3]{(a-b)^2} = ?$$

۳a-b (۴)

-۳a-۳b (۳)

a+۳b (۲)

-۳a-b (۱)

۹۳- حاصل عبارت $\frac{8^{-6} \times 22^2}{25^{-9} \div 5^{-2}}$ با کدام گزینه برابر است؟

$(\frac{25}{2})^8$ (۴)

50^{-8} (۳)

50^8 (۲)

$(\frac{2}{25})^8$ (۱)

۹۴- چند عدد طبیعی در مجموعه جواب نامعادله $\frac{9-3x}{x^2+1} \geq 0$ قرار دارد؟

۶ (۴)

۲ (۳)

۴ (۲)

۳ (۱)

۹۵- کدام گزینه نادرست است؟

(۱) در صورتی که $\frac{a^2}{bc} < 0$ باشد، آنگاه $\frac{b}{c} < 0$ (b و c مخالف صفر هستند).

(۲) اگر $a^2 > b^2$ باشد، آنگاه $a > b$

(۳) اگر x و y دو عدد حقیقی باشند، آنگاه $12xy = (3x+y)^2 - (3x-y)^2$

(۴) دو خط $3y+6x=18$ و $y=ax+x+2$ در صورتی موازی هستند که $a=-3$ باشد.

۹۶- در صورتی که دو خط $ax+by=5$ و $x-by=4$ در نقطه $M = \begin{bmatrix} -2 \\ +3 \end{bmatrix}$ مشترک باشند، حاصل $2a+b$ چیست؟

-۱۱ (۴)

۱۱ (۳)

۱۳ (۲)

-۱۳ (۱)

۹۷- مقدار m چقدر باشد، تا عرض از مبدأ خط $(m+7)x+(2m-1)y=m+49$ برابر ۶ شود؟

۵ (۴)

$\frac{43}{11}$ (۳)

۴ (۲)

$\frac{7}{5}$ (۱)

۹۸- در صورتی که عبارت $12x^2-3ax-63$ بر $2x+3$ بخش پذیر باشد، مقدار a چیست؟

-۸ (۴)

۸ (۳)

-۴ (۲)

۴ (۱)

۹۹- حاصل عبارت $\frac{x^2-4x+3}{x^2+5x+4} \div \frac{x^2-5x+4}{x^2-16}$ کدام است؟

$\frac{x-3}{x+1}$ (۴)

$\frac{x+3}{x+1}$ (۳)

$\frac{x-3}{x-1}$ (۲)

$\frac{x+3}{x-1}$ (۱)

۱۰۰- کره ای را داخل یک استوانه محاط می کنیم. نسبت مساحت جانبی استوانه به مساحت کره برابر است با:

$\frac{1}{2}$ (۴)

۲ (۳)

$\frac{2}{3}$ (۲)

۱ (۱)

جهت انجام محاسبات از صفحه بعد که سفید می باشد استفاده نمایید.

موفق و پیروز باشید.

کلید آزمون ورودی پایه دهم مدارس نمونه دولتی

سال تحصیلی ۱۴۰۲-۱۴۰۱

هر گونه تغییر در این کادر باعث عدم صدور کارنامه خواهد شد

--	--

اصلاح نام

غیبت



	۱ الف	۲ ب	۳ ج	۴ د
۱	<input type="checkbox"/>	<input checked="" type="checkbox"/>	<input type="checkbox"/>	<input type="checkbox"/>
۲	<input type="checkbox"/>	<input type="checkbox"/>	<input type="checkbox"/>	<input checked="" type="checkbox"/>
۳	<input checked="" type="checkbox"/>	<input type="checkbox"/>	<input type="checkbox"/>	<input type="checkbox"/>
۴	<input type="checkbox"/>	<input checked="" type="checkbox"/>	<input type="checkbox"/>	<input type="checkbox"/>
۵	<input type="checkbox"/>	<input type="checkbox"/>	<input checked="" type="checkbox"/>	<input type="checkbox"/>
۶	<input type="checkbox"/>	<input checked="" type="checkbox"/>	<input type="checkbox"/>	<input type="checkbox"/>
۷	<input checked="" type="checkbox"/>	<input type="checkbox"/>	<input type="checkbox"/>	<input type="checkbox"/>
۸	<input type="checkbox"/>	<input checked="" type="checkbox"/>	<input type="checkbox"/>	<input type="checkbox"/>
۹	<input type="checkbox"/>	<input type="checkbox"/>	<input type="checkbox"/>	<input checked="" type="checkbox"/>
۱۰	<input checked="" type="checkbox"/>	<input type="checkbox"/>	<input type="checkbox"/>	<input type="checkbox"/>

	۱ الف	۲ ب	۳ ج	۴ د
۳۱	<input type="checkbox"/>	<input type="checkbox"/>	<input type="checkbox"/>	<input checked="" type="checkbox"/>
۳۲	<input type="checkbox"/>	<input type="checkbox"/>	<input type="checkbox"/>	<input checked="" type="checkbox"/>
۳۳	<input type="checkbox"/>	<input type="checkbox"/>	<input checked="" type="checkbox"/>	<input type="checkbox"/>
۳۴	<input type="checkbox"/>	<input checked="" type="checkbox"/>	<input type="checkbox"/>	<input type="checkbox"/>
۳۵	<input type="checkbox"/>	<input type="checkbox"/>	<input checked="" type="checkbox"/>	<input type="checkbox"/>
۳۶	<input type="checkbox"/>	<input checked="" type="checkbox"/>	<input type="checkbox"/>	<input type="checkbox"/>
۳۷	<input type="checkbox"/>	<input type="checkbox"/>	<input checked="" type="checkbox"/>	<input type="checkbox"/>
۳۸	<input type="checkbox"/>	<input type="checkbox"/>	<input type="checkbox"/>	<input checked="" type="checkbox"/>
۳۹	<input type="checkbox"/>	<input type="checkbox"/>	<input checked="" type="checkbox"/>	<input type="checkbox"/>
۴۰	<input type="checkbox"/>	<input type="checkbox"/>	<input checked="" type="checkbox"/>	<input type="checkbox"/>

	۱ الف	۲ ب	۳ ج	۴ د
۶۱	<input type="checkbox"/>	<input checked="" type="checkbox"/>	<input type="checkbox"/>	<input type="checkbox"/>
۶۲	<input type="checkbox"/>	<input checked="" type="checkbox"/>	<input type="checkbox"/>	<input type="checkbox"/>
۶۳	<input type="checkbox"/>	<input type="checkbox"/>	<input type="checkbox"/>	<input checked="" type="checkbox"/>
۶۴	<input checked="" type="checkbox"/>	<input type="checkbox"/>	<input type="checkbox"/>	<input type="checkbox"/>
۶۵	<input checked="" type="checkbox"/>	<input type="checkbox"/>	<input type="checkbox"/>	<input type="checkbox"/>
۶۶	<input type="checkbox"/>	<input type="checkbox"/>	<input checked="" type="checkbox"/>	<input type="checkbox"/>
۶۷	<input type="checkbox"/>	<input type="checkbox"/>	<input type="checkbox"/>	<input checked="" type="checkbox"/>
۶۸	<input type="checkbox"/>	<input checked="" type="checkbox"/>	<input type="checkbox"/>	<input type="checkbox"/>
۶۹	<input type="checkbox"/>	<input type="checkbox"/>	<input type="checkbox"/>	<input checked="" type="checkbox"/>
۷۰	<input type="checkbox"/>	<input type="checkbox"/>	<input type="checkbox"/>	<input checked="" type="checkbox"/>

	۱ الف	۲ ب	۳ ج	۴ د
۹۱	<input type="checkbox"/>	<input type="checkbox"/>	<input checked="" type="checkbox"/>	<input type="checkbox"/>
۹۲	<input checked="" type="checkbox"/>	<input type="checkbox"/>	<input type="checkbox"/>	<input type="checkbox"/>
۹۳	<input type="checkbox"/>	<input type="checkbox"/>	<input type="checkbox"/>	<input checked="" type="checkbox"/>
۹۴	<input checked="" type="checkbox"/>	<input type="checkbox"/>	<input type="checkbox"/>	<input type="checkbox"/>
۹۵	<input type="checkbox"/>	<input checked="" type="checkbox"/>	<input type="checkbox"/>	<input type="checkbox"/>
۹۶	<input checked="" type="checkbox"/>	<input type="checkbox"/>	<input type="checkbox"/>	<input type="checkbox"/>
۹۷	<input type="checkbox"/>	<input type="checkbox"/>	<input type="checkbox"/>	<input checked="" type="checkbox"/>
۹۸	<input type="checkbox"/>	<input type="checkbox"/>	<input checked="" type="checkbox"/>	<input type="checkbox"/>
۹۹	<input type="checkbox"/>	<input type="checkbox"/>	<input type="checkbox"/>	<input checked="" type="checkbox"/>
۱۰۰	<input checked="" type="checkbox"/>	<input type="checkbox"/>	<input type="checkbox"/>	<input type="checkbox"/>

	۱ الف	۲ ب	۳ ج	۴ د
۱۱	<input type="checkbox"/>	<input type="checkbox"/>	<input checked="" type="checkbox"/>	<input type="checkbox"/>
۱۲	<input checked="" type="checkbox"/>	<input type="checkbox"/>	<input type="checkbox"/>	<input type="checkbox"/>
۱۳	<input type="checkbox"/>	<input type="checkbox"/>	<input type="checkbox"/>	<input checked="" type="checkbox"/>
۱۴	<input type="checkbox"/>	<input checked="" type="checkbox"/>	<input type="checkbox"/>	<input type="checkbox"/>
۱۵	<input type="checkbox"/>	<input type="checkbox"/>	<input checked="" type="checkbox"/>	<input type="checkbox"/>
۱۶	<input checked="" type="checkbox"/>	<input type="checkbox"/>	<input type="checkbox"/>	<input type="checkbox"/>
۱۷	<input checked="" type="checkbox"/>	<input type="checkbox"/>	<input type="checkbox"/>	<input type="checkbox"/>
۱۸	<input type="checkbox"/>	<input checked="" type="checkbox"/>	<input type="checkbox"/>	<input type="checkbox"/>
۱۹	<input type="checkbox"/>	<input type="checkbox"/>	<input checked="" type="checkbox"/>	<input type="checkbox"/>
۲۰	<input type="checkbox"/>	<input checked="" type="checkbox"/>	<input type="checkbox"/>	<input type="checkbox"/>

	۱ الف	۲ ب	۳ ج	۴ د
۴۱	<input type="checkbox"/>	<input type="checkbox"/>	<input checked="" type="checkbox"/>	<input type="checkbox"/>
۴۲	<input type="checkbox"/>	<input type="checkbox"/>	<input type="checkbox"/>	<input checked="" type="checkbox"/>
۴۳	<input type="checkbox"/>	<input checked="" type="checkbox"/>	<input type="checkbox"/>	<input type="checkbox"/>
۴۴	<input type="checkbox"/>	<input type="checkbox"/>	<input checked="" type="checkbox"/>	<input type="checkbox"/>
۴۵	<input type="checkbox"/>	<input type="checkbox"/>	<input checked="" type="checkbox"/>	<input type="checkbox"/>
۴۶	<input type="checkbox"/>	<input checked="" type="checkbox"/>	<input type="checkbox"/>	<input type="checkbox"/>
۴۷	<input type="checkbox"/>	<input type="checkbox"/>	<input checked="" type="checkbox"/>	<input type="checkbox"/>
۴۸	<input checked="" type="checkbox"/>	<input type="checkbox"/>	<input type="checkbox"/>	<input type="checkbox"/>
۴۹	<input type="checkbox"/>	<input type="checkbox"/>	<input type="checkbox"/>	<input checked="" type="checkbox"/>
۵۰	<input type="checkbox"/>	<input type="checkbox"/>	<input type="checkbox"/>	<input checked="" type="checkbox"/>

	۱ الف	۲ ب	۳ ج	۴ د
۷۱	<input type="checkbox"/>	<input checked="" type="checkbox"/>	<input type="checkbox"/>	<input type="checkbox"/>
۷۲	<input type="checkbox"/>	<input checked="" type="checkbox"/>	<input type="checkbox"/>	<input type="checkbox"/>
۷۳	<input type="checkbox"/>	<input type="checkbox"/>	<input type="checkbox"/>	<input checked="" type="checkbox"/>
۷۴	<input checked="" type="checkbox"/>	<input type="checkbox"/>	<input type="checkbox"/>	<input type="checkbox"/>
۷۵	<input type="checkbox"/>	<input type="checkbox"/>	<input checked="" type="checkbox"/>	<input type="checkbox"/>
۷۶	<input type="checkbox"/>	<input checked="" type="checkbox"/>	<input type="checkbox"/>	<input type="checkbox"/>
۷۷	<input type="checkbox"/>	<input type="checkbox"/>	<input type="checkbox"/>	<input checked="" type="checkbox"/>
۷۸	<input checked="" type="checkbox"/>	<input type="checkbox"/>	<input type="checkbox"/>	<input type="checkbox"/>
۷۹	<input type="checkbox"/>	<input type="checkbox"/>	<input checked="" type="checkbox"/>	<input type="checkbox"/>
۸۰	<input type="checkbox"/>	<input checked="" type="checkbox"/>	<input type="checkbox"/>	<input type="checkbox"/>

	۱ الف	۲ ب	۳ ج	۴ د
۱۰۱	<input type="checkbox"/>	<input type="checkbox"/>	<input type="checkbox"/>	<input type="checkbox"/>
۱۰۲	<input type="checkbox"/>	<input type="checkbox"/>	<input type="checkbox"/>	<input type="checkbox"/>
۱۰۳	<input type="checkbox"/>	<input type="checkbox"/>	<input type="checkbox"/>	<input type="checkbox"/>
۱۰۴	<input type="checkbox"/>	<input type="checkbox"/>	<input type="checkbox"/>	<input type="checkbox"/>
۱۰۵	<input type="checkbox"/>	<input type="checkbox"/>	<input type="checkbox"/>	<input type="checkbox"/>
۱۰۶	<input type="checkbox"/>	<input type="checkbox"/>	<input type="checkbox"/>	<input type="checkbox"/>
۱۰۷	<input type="checkbox"/>	<input type="checkbox"/>	<input type="checkbox"/>	<input type="checkbox"/>
۱۰۸	<input type="checkbox"/>	<input type="checkbox"/>	<input type="checkbox"/>	<input type="checkbox"/>
۱۰۹	<input type="checkbox"/>	<input type="checkbox"/>	<input type="checkbox"/>	<input type="checkbox"/>
۱۱۰	<input type="checkbox"/>	<input type="checkbox"/>	<input type="checkbox"/>	<input type="checkbox"/>

	۱ الف	۲ ب	۳ ج	۴ د
۲۱	<input type="checkbox"/>	<input type="checkbox"/>	<input checked="" type="checkbox"/>	<input type="checkbox"/>
۲۲	<input type="checkbox"/>	<input type="checkbox"/>	<input type="checkbox"/>	<input checked="" type="checkbox"/>
۲۳	<input type="checkbox"/>	<input checked="" type="checkbox"/>	<input type="checkbox"/>	<input type="checkbox"/>
۲۴	<input checked="" type="checkbox"/>	<input type="checkbox"/>	<input type="checkbox"/>	<input type="checkbox"/>
۲۵	<input type="checkbox"/>	<input checked="" type="checkbox"/>	<input type="checkbox"/>	<input type="checkbox"/>
۲۶	<input type="checkbox"/>	<input checked="" type="checkbox"/>	<input type="checkbox"/>	<input type="checkbox"/>
۲۷	<input type="checkbox"/>	<input type="checkbox"/>	<input type="checkbox"/>	<input checked="" type="checkbox"/>
۲۸	<input type="checkbox"/>	<input type="checkbox"/>	<input checked="" type="checkbox"/>	<input type="checkbox"/>
۲۹	<input checked="" type="checkbox"/>	<input type="checkbox"/>	<input type="checkbox"/>	<input type="checkbox"/>
۳۰	<input type="checkbox"/>	<input type="checkbox"/>	<input checked="" type="checkbox"/>	<input type="checkbox"/>

	۱ الف	۲ ب	۳ ج	۴ د
۵۱	<input checked="" type="checkbox"/>	<input type="checkbox"/>	<input type="checkbox"/>	<input type="checkbox"/>
۵۲	<input type="checkbox"/>	<input checked="" type="checkbox"/>	<input type="checkbox"/>	<input type="checkbox"/>
۵۳	<input checked="" type="checkbox"/>	<input type="checkbox"/>	<input type="checkbox"/>	<input type="checkbox"/>
۵۴	<input type="checkbox"/>	<input checked="" type="checkbox"/>	<input type="checkbox"/>	<input type="checkbox"/>
۵۵	<input type="checkbox"/>	<input type="checkbox"/>	<input type="checkbox"/>	<input checked="" type="checkbox"/>
۵۶	<input type="checkbox"/>	<input checked="" type="checkbox"/>	<input type="checkbox"/>	<input type="checkbox"/>
۵۷	<input type="checkbox"/>	<input type="checkbox"/>	<input type="checkbox"/>	<input checked="" type="checkbox"/>
۵۸	<input checked="" type="checkbox"/>	<input type="checkbox"/>	<input type="checkbox"/>	<input type="checkbox"/>
۵۹	<input checked="" type="checkbox"/>	<input type="checkbox"/>	<input type="checkbox"/>	<input type="checkbox"/>
۶۰	<input type="checkbox"/>	<input checked="" type="checkbox"/>	<input type="checkbox"/>	<input type="checkbox"/>

	۱ الف	۲ ب	۳ ج	۴ د
۸۱	<input type="checkbox"/>	<input type="checkbox"/>	<input type="checkbox"/>	<input checked="" type="checkbox"/>
۸۲	<input type="checkbox"/>	<input type="checkbox"/>	<input type="checkbox"/>	<input checked="" type="checkbox"/>
۸۳	<input type="checkbox"/>	<input type="checkbox"/>	<input checked="" type="checkbox"/>	<input type="checkbox"/>
۸۴	<input type="checkbox"/>	<input type="checkbox"/>	<input type="checkbox"/>	<input checked="" type="checkbox"/>
۸۵	<input checked="" type="checkbox"/>	<input type="checkbox"/>	<input type="checkbox"/>	<input type="checkbox"/>
۸۶	<input type="checkbox"/>	<input type="checkbox"/>	<input checked="" type="checkbox"/>	<input type="checkbox"/>
۸۷	<input type="checkbox"/>	<input type="checkbox"/>	<input type="checkbox"/>	<input checked="" type="checkbox"/>
۸۸	<input checked="" type="checkbox"/>	<input type="checkbox"/>	<input type="checkbox"/>	<input type="checkbox"/>
۸۹	<input checked="" type="checkbox"/>	<input type="checkbox"/>	<input type="checkbox"/>	<input type="checkbox"/>
۹۰	<input type="checkbox"/>	<input checked="" type="checkbox"/>	<input type="checkbox"/>	<input type="checkbox"/>

	۱ الف	۲ ب	۳ ج	۴ د
۱۱۱	<input type="checkbox"/>	<input type="checkbox"/>	<input type="checkbox"/>	<input type="checkbox"/>
۱۱۲	<input type="checkbox"/>	<input type="checkbox"/>	<input type="checkbox"/>	<input type="checkbox"/>
۱۱۳	<input type="checkbox"/>	<input type="checkbox"/>	<input type="checkbox"/>	<input type="checkbox"/>
۱۱۴	<input type="checkbox"/>	<input type="checkbox"/>	<input type="checkbox"/>	<input type="checkbox"/>
۱۱۵	<input type="checkbox"/>	<input type="checkbox"/>	<input type="checkbox"/>	<input type="checkbox"/>
۱۱۶	<input type="checkbox"/>	<input type="checkbox"/>	<input type="checkbox"/>	<input type="checkbox"/>
۱۱۷	<input type="checkbox"/>	<input type="checkbox"/>	<input type="checkbox"/>	<input type="checkbox"/>
۱۱۸	<input type="checkbox"/>	<input type="checkbox"/>	<input type="checkbox"/>	<input type="checkbox"/>
۱۱۹	<input type="checkbox"/>	<input type="checkbox"/>	<input type="checkbox"/>	<input type="checkbox"/>
۱۲۰	<input type="checkbox"/>	<input type="checkbox"/>	<input type="checkbox"/>	<input type="checkbox"/>